

ВМК МГУ – ШКОЛЕ

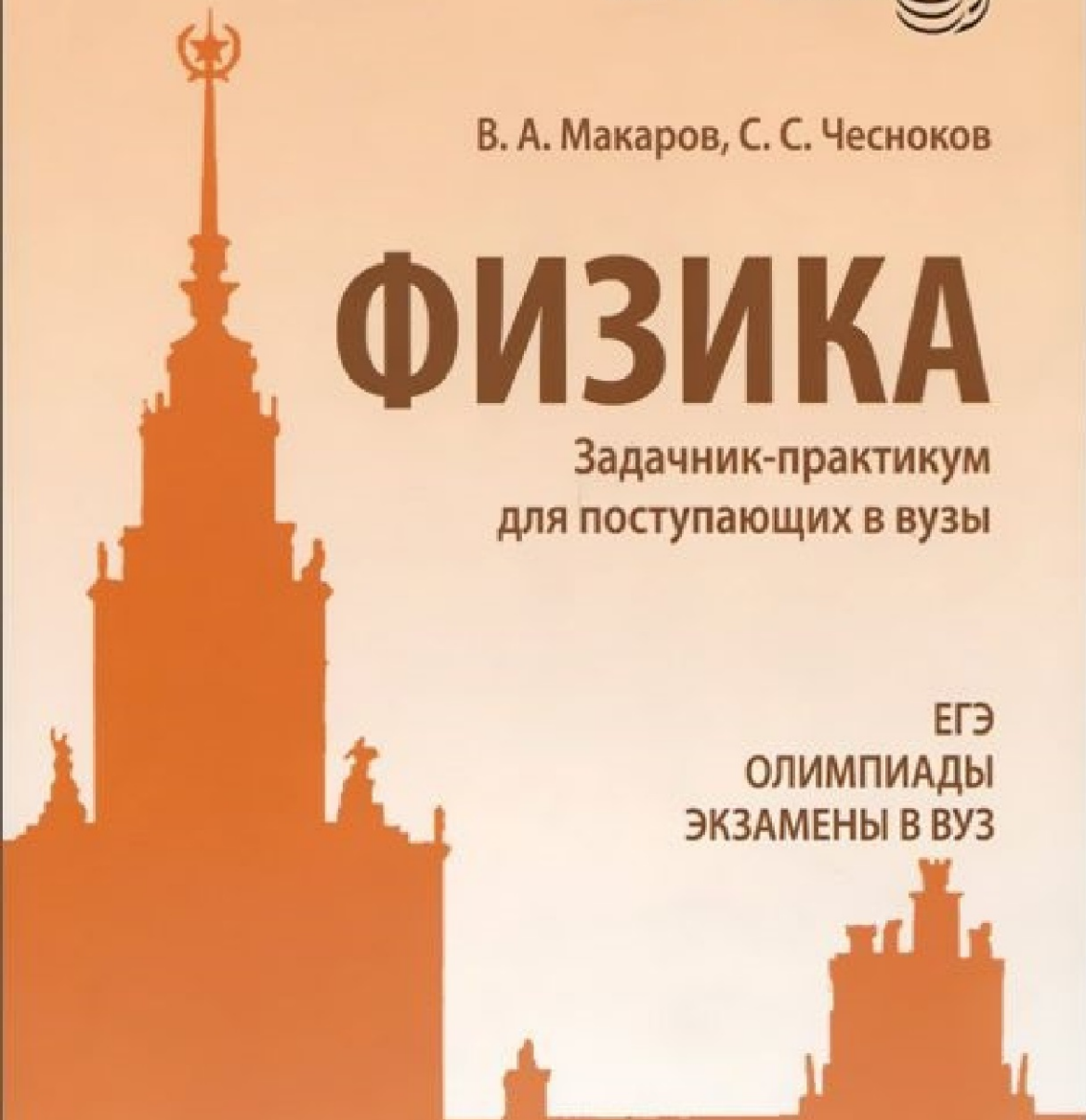


В. А. Макаров, С. С. Чесноков

ФИЗИКА

Задачник-практикум
для поступающих в вузы

ЕГЭ
ОЛИМПИАДЫ
ЭКЗАМЕНЫ В ВУЗ



В. А. Макаров, С. С. Чесноков

ФИЗИКА

**Задачник-практикум
для поступающих в вузы**

Учебно-методическое пособие

Электронное издание

УДК 53(075.3)
ББК 22.3я729
М15

Серия основана в 2011 г.

Макаров В. А.

М15 Физика. Задачник-практикум для поступающих в вузы [Электронный ресурс] : учебно-методическое пособие / В. А. Макаров, С. С. Чесноков. — Эл. изд. — Электрон. текстовые дан. (1 файл pdf : 368 с.). — М. : Лаборатория знаний : Лаборатория Базовых Знаний, 2016. — (ВМК МГУ — школе). — Систем. требования: Adobe Reader XI ; экран 10".

ISBN 978-5-93208-207-2

Сборник содержит около 770 задач по основным разделам школьного курса физики. Все задачи сопровождаются подробными решениями, содержащими обоснования применимости используемых законов, а также анализ полученных ответов. Задачи подобраны так, чтобы наиболее полно ознакомить учащихся со всем арсеналом приемов и способов рассуждения, применяемых при их решении. Само оформление решений соответствует требованиям, предъявляемым жюри олимпиад и экспертами ЕГЭ к работам учащихся. Книга поможет учащимся освоить технику выполнения олимпиадных заданий, заданий профильных испытаний в вузах и заданий ЕГЭ, требующих развернутые решения.

Для школьников, желающих повысить уровень своих знаний по физике в рамках программы за 9–11 классы и готовящихся к поступлению в вузы физико-математического и технического профилей.

УДК 53(075.3)
ББК 22.3я729

Деривативное электронное издание на основе печатного аналога: Физика. Задачник-практикум для поступающих в вузы : учебно-методическое пособие / В. А. Макаров, С. С. Чесноков. — М. : Лаборатория знаний, 2016. — 363 с. : ил. — (ВМК МГУ — школе). — ISBN 978-5-906828-71-2.

Подготовлено при участии
ООО «Лаборатория Базовых Знаний»

В соответствии со ст. 1299 и 1301 ГК РФ при устранении ограничений, установленных техническими средствами защиты авторских прав, правообладатель вправе требовать от нарушителя возмещения убытков или выплаты компенсации

ISBN 978-5-93208-207-2

© В. А. Макаров,
С. С. Чесноков, 2016
© Лаборатория знаний, 2016

Предисловие

В настоящее время, наряду с проведением Единого государственного экзамена (ЕГЭ), развиваются и другие формы отбора талантливой молодежи в вузы. К их числу относятся олимпиады и профильные вступительные испытания по дисциплинам, составляющим основу профессиональной деятельности будущих выпускников. В связи с этим возникает необходимость в издании методических пособий, дающих возможность учащимся выпускных классов школ попробовать свои силы при решении задач различного уровня сложности и успешно подготовиться как к олимпиадам, так и к профильным экзаменам.

В последние годы, когда сдача выпускных экзаменов по физике перестала быть обязательной, в большинстве школ стали уделять меньше внимания этому предмету. Отметим также, что количество учебных часов, отводимых для изучения физики в общеобразовательных школах, явно недостаточно для обучения школьников приемам решения задач повышенной сложности. А между тем хорошее знание физики и умение решать задачи важно как для поступающих в МГУ имени М. В. Ломоносова, так и для абитуриентов многих технических университетов. Кроме того, чтобы стать успешно успевающим студентом престижного вуза, нужно иметь достаточно глубокую подготовку по физике, позволяющую освоить весьма сложную вузовскую программу. Настоящее пособие позволит сделать важный шаг в этом направлении.

Предлагаемая книга включает все основные разделы школьного курса физики, соответствующие «Кодификатору элементов содержания и требований к уровню подготовки выпускников общеобразовательных учреждений для Единого государственного экзамена по физике». Освоение этого курса позволит уверенно выполнять задания части II Единого государственного экзамена и физических олимпиад первого и второго уровней.

Многолетняя практика проведения занятий по физике на подготовительных курсах МГУ показала, что уровень первоначальной подготовки отдельных учащихся не позволяет им приобрести в сжатые сроки навыки решения задач в объеме, необходимом для поступления в вуз. Особенно отчетливо это стало проявляться в последние годы, поскольку вместе с ростом конкурса в МГУ и в другие вузы уровень требований по физике для поступающих постоянно повышается. Поэтому возникла необходимость в издании пособия, специально посвященного приемам решения задач. Приведенные в книге решения могут быть положены в основу приобретения навыков правильного, логически последовательного и физически верного построения решения ключевых задач данного курса, что впоследствии пригодится школьникам для выполнения заданий достаточно высокого, профильного уровня. Именно им посвящена настоящая книга. Задачи подобраны так, чтобы наиболее полно ознакомить учащихся со всем арсеналом приемов и способов рассуждения, применяемых при их решении. Само оформление решений соответствует требованиям, предъявляемым жюри олимпиад и экспертами ЕГЭ к работам учащихся.

В каждом разделе пособия помещен блок под заголовком «Дополнительные задачи». Большинство из них относится к задачам комбинированного типа, решение которых требует одновременного привлечения сведений из различных разделов физики. Поэтому дополнительные задачи рекомендуется использовать для повторения пройденного материала и прорабатывать уже после того, как основной курс полностью усвоен. Всего пособие содержит около 770 задач различного уровня сложности — от тренировочных до олимпиадных. Многие задачи публикуются впервые.

В состав комиссии, работавшей на физическом факультете МГУ над подготовкой экзаменационных заданий по физике для поступающих в Московский университет, на протяжении многих лет входили Б. Б. Буховцев, Л. Н. Капцов, В. Л. Кузнецов, Г. Я. Мякишев, С. Ю. Никитин, И. П. Николаев, Н. Б. Подымова, М. С. Полякова, С. В. Попов, А. В. Приезжев, С. С. Чесноков, Л. А. Шенявский, В. И. Шмальгаузен. В основу настоящей книги лег уникальный учебный материал, накопленный благодаря их усилиям.

Предлагаемое пособие может быть рекомендовано учителям физики средних школ, лицеев и гимназий, преподавателям подготовительных курсов, а также школьникам, готовящимся к поступлению в вузы физико-математического и технического профилей.

В. А. Макаров, С. С. Чесноков

Памяти товарища

Большой вклад в подготовку материалов этой книги, отбор и редактирование задач внес наш коллега, доцент физического факультета МГУ Константин Николаевич Драбович.

Он родился 11 октября 1942 года в деревне Галиново Шарковщинского района Витебской области Белорусской ССР. Вторым ребенком в крестьянской семье, Костя появился на свет по время оккупации Белоруссии немецкими войсками. В его жизнь вмешалась и большая история: в 1945 году семья лишилась отца, и заботы о детях полностью легли на плечи матери. Ликвидация личных хозяйств и вынужденное вступление в колхозы, работа за трудовни и сложные внутрисемейные обстоятельства наложили свой отпечаток на его детство.

Первая его школа находилась в соседней деревне в двух километрах от дома, и преодолевать пешком это расстояние маленький Костя должен был каждодневно, невзирая на погоду и заботясь о том, чтобы сберечь драгоценную обувь. Перейдя для учебы в старших классах в Шарковщинскую среднюю школу, он всерьез заинтересовался радиотехникой, сам собрал ламповый радиоприемник, работающий от аккумуляторных батарей (свет в деревне появился только в 60-х годах). Его способности заметил школьный учитель физики и стал активно помогать ему готовиться к поступлению в вуз.

В 1959 году Константин Николаевич поступил в Белорусский государственный университет им. В. И. Ленина и окончил его с отличием в декабре 1965 года по специальности «радиофизика». По окончании университета работал по распределению в Институте физики АН БССР. В 1968 году был отозван для обучения в аспирантуре физического факультета МГУ. В 1972 году с блеском защитил диссертацию на актуальную в то время тему: «Теория нестационарного вынужденного комбинационного рассеяния». За последующие годы прошел путь от младшего научного сотрудника до доцента физического факультета МГУ.

К. Н. Драбович был признанным специалистом в области нелинейной спектроскопии. Он впервые предложил использовать многофотонные резонансы и когерентные эффекты для существенного увеличения эффективности преобразования оптического излучения в высшие гармоники. Мно-



Константин Николаевич Драбович
(11.10.1942—12.04.2014)

гие годы он читал студентам блестящие лекции по основам нелинейной оптики и спектроскопии. С энтузиазмом и полной отдачей сил вел занятия со школьниками на подготовительных курсах МГУ, уделял большое внимание методике преподавания физики. Редактируя условия и решения задач, он добивался исчерпывающей ясности в формулировках, не допускающей их неоднозначного толкования.

К сожалению, безвременная кончина не позволила Константину Николаевичу завершить работу над этой книгой и увидеть ее выход в свет.

В. А. Макаров, С. С. Чесноков

1. Механика

1.1. Кинематика

1.1.1. Пассажир метрополитена наблюдает отправление поезда. Находясь на платформе у начала первого вагона, он замечает, что с момента отправления поезда этот вагон прошел мимо него за время $\tau_1 = 5$ с. Считая движение поезда равноускоренным, найти, за какое время τ_2 мимо пассажира пройдет второй вагон.

Решение. Пусть a — ускорение поезда, l — длина вагона. Из кинематических уравнений следуют соотношения: $l = \frac{a\tau_1^2}{2}$ (для первого вагона), $2l = \frac{a(\tau_1 + \tau_2)^2}{2}$ (для первого и второго вагонов). Исключая из этих соотношений ускорение поезда, получаем квадратное уравнение относительно τ_2 , а именно $\tau_2^2 + 2\tau_1\tau_2 - \tau_1^2 = 0$, откуда $\tau_2 = \tau_1(-1 \pm \sqrt{2})$. Отбрасывая отрицательный корень, получаем: $\tau_2 = \tau_1(\sqrt{2} - 1) \approx 2,1$ с.

Ответ. $\tau_2 \approx 2,1$ с.

1.1.2. Пуля, летящая со скоростью $v_0 = 400$ м/с, попадает в земляной вал и проникает в него на глубину $l = 20$ см. Какова скорость v_1 пули в момент, когда она находится на глубине $l_1 = 10$ см? Силу сопротивления, действующую на пулю в толще земли, считать постоянной.

Решение. Из кинематического уравнения, связывающего начальную и конечную скорости пули, ее ускорение и перемещение, следует, что:

$l = \frac{v_0^2}{2a}$, $l_1 = \frac{v_0^2 - v_1^2}{2a}$. Исключая из этих соотношений ускорение пули a , получаем: $v_1 = v_0\sqrt{1 - \frac{l_1}{l}} \approx 280$ м/с.

Ответ. $v_1 \approx 280$ м/с.

1.1.3. Пассажир, стоящий на перроне, заметил, что первый вагон электропоезда, приближающегося к станции, прошел мимо него в течение $t_1 = 4$ с, а второй — в течение $t_2 = 5$ с. Определить ускорение поезда a , если передний конец поезда остановился на расстоянии $L = 75$ м от пассажира. Движение поезда считать равнозамедленным.

Решение. Пусть l — длина вагона, v_0 — скорость поезда в момент, когда начало первого вагона поравнялось с пассажиром, a — модуль ускорения поезда. Из кинематических уравнений следуют соотношения: $l = v_0t_1 - \frac{at_1^2}{2}$

(для первого вагона), $l = (v_0 - at_1)t_2 - \frac{at_2^2}{2}$ (для второго вагона). Кроме

того, $v_0 = \sqrt{2aL}$. Объединяя записанные выражения, получаем:

$$a = \frac{8L(t_2 - t_1)^2}{(2t_1t_2 + t_2^2 - t_1^2)^2} \approx 0,25 \text{ м/с}^2.$$

О т в е т. $a \approx 0,25 \text{ м/с}^2$.

1.1.4. В момент, когда опоздавший пассажир вышел на перрон вокзала, с ним поравнялось начало предпоследнего вагона уходящего поезда. Желая определить, на сколько он опоздал, пассажир измерил время t_1 , за которое мимо него прошел предпоследний вагон, и время t_2 , за которое мимо него прошел последний вагон. Оказалось, что $t_1 = 9 \text{ с}$, а $t_2 = 8 \text{ с}$. Считая, что поезд двигался равноускоренно и длина вагонов одинакова, найти, на какое время τ пассажир опоздал к отходу поезда.

Р е ш е н и е. Пусть l — длина вагона, a — ускорение поезда. В момент, когда пассажир вышел на перрон, перемещение поезда составило величину $x_1 = a\tau^2/2$. За время $\tau + t_1$ поезд переместился на расстояние $x_2 = a(\tau + t_1)^2/2$. Следовательно, для предпоследнего вагона можно записать:

$$l = x_2 - x_1 = \frac{a(\tau + t_1)^2}{2} - \frac{a\tau^2}{2}. \text{ Аналогично, для последнего вагона:}$$

$$l = \frac{a(\tau + t_1 + t_2)^2}{2} - \frac{a(\tau + t_1)^2}{2} = \frac{at_2}{2}(2\tau + 2t_1 + t_2). \text{ Из этих соотношений вытека-$$

ет равенство: $(\tau + t_1)^2 - \tau^2 = t_2(2\tau + \tau t_1 + t_2)^2$. Выражая отсюда τ , получаем:

$$\tau = \frac{t_2^2 + 2t_1t_2 - t_1^2}{2(t_1 - t_2)} = 63,5 \text{ с.}$$

О т в е т. $\tau = 63,5 \text{ с}$.

1.1.5. Нарушитель правил дорожного движения промчался на автомобиле мимо поста ГИБДД со скоростью $v_1 = 108 \text{ км/ч}$. Спустя $t_1 = 20 \text{ с}$ вслед за нарушителем отправился на мотоцикле инспектор ГИБДД и, разгоняясь равноускоренно в течение $t_2 = 40 \text{ с}$, набрал скорость $v_2 = 144 \text{ км/ч}$. На каком расстоянии S от поста ГИБДД инспектор догонит нарушителя, двигаясь после разгона со скоростью v_2 ?

Р е ш е н и е. Пусть a — ускорение инспектора во время разгона, t_3 — промежуток времени, в течение которого инспектор двигался с постоянной скоростью. Из кинематических уравнений следуют соотношения: $a = \frac{v_2}{t_2}$, $S =$

$$= v_1(t_1 + t_2 + t_3), S = \frac{at_2^2}{2} + v_2t_3 = \frac{v_2t_2}{2} + v_2t_3. \text{ Исключив отсюда } t_3, \text{ получаем:}$$

$$S = \frac{v_1v_2(2t_1 + t_2)}{2(v_2 - v_1)} = 4800 \text{ м.}$$

О т в е т. $S = 4800 \text{ м}$.

1.1.6. Ракета запущена вертикально вверх с поверхности Земли и на участке разгона имела постоянное ускорение $a = 19,6$ м/с². Какое время t_0 падала ракета с ускорением $g = 9,8$ м/с² после достижения наибольшей в полете высоты, если на участке разгона движение продолжалось в течение времени $\tau = 1$ мин?

Решение. На участке разгона ракета набрала высоту $y_1 = \frac{a\tau^2}{2}$ и приобрела скорость $v_1 = a\tau$. Перемещение ракеты с момента отключения двигателя до момента достижения ею максимальной высоты $\Delta y = \frac{v_1^2}{2g} = \frac{a^2\tau^2}{2g}$. Следовательно, максимальная высота подъема ракеты $h = y_1 + \Delta y = \frac{a\tau^2}{2} \left(1 + \frac{a}{g}\right)$.

Время падения с этой высоты $t_0 = \sqrt{\frac{2h}{g}} = \frac{\tau}{g} \sqrt{a(a+g)} = 2,45$ мин.

Ответ. $t_0 = 2,45$ мин.

1.1.7. Подъемный кран опускает бетонную плиту с постоянной скоростью $v = 1$ м/с. Когда плита находилась на расстоянии $h = 4$ м от поверхности земли, с нее упал небольшой камень. Каков промежуток времени τ между моментами, в которые камень и плита достигли земли? Ускорение свободного падения принять $g = 10$ м/с², толщиной плиты по сравнению с h пренебречь.

Решение. Пусть t_1 — время падения камня, $t_2 = \frac{h}{v}$ — время движения плиты до момента достижения земли. Из кинематического уравнения, описывающего падение камня, следует соотношение: $h = \frac{gt_1^2}{2} + vt_1$, или

$t_1^2 + \frac{2v}{g}t_1 - \frac{2h}{g} = 0$. Положительный корень этого уравнения

$$t_1 = \frac{v}{g} \left(\sqrt{1 + \frac{2gh}{v^2}} - 1 \right).$$

Ответ. $\tau = t_2 - t_1 = \frac{h}{v} - \frac{v}{g} \left(\sqrt{1 + \frac{2gh}{v^2}} - 1 \right) = 3,2$ с.

1.1.8. Ракета запущена вертикально вверх и во время работы двигателя имела постоянное ускорение $a = 5g$. Спустя $t_0 = 1$ мин после старта двигатель ракеты отключился. Через какое время τ после отключения двигателя ракета упала на землю? Сопротивление воздуха не учитывать.

Решение. На участке разгона ракета набрала высоту $y_0 = \frac{at_0^2}{2}$ и приобрела скорость $v_0 = at_0$. Кинематическое уравнение движения ракеты после отключения двигателя имеет вид: $y = y_0 + v_0t - \frac{gt^2}{2}$. Полагая $y = 0$, $t = \tau$, по-

лучаем квадратное уравнение: $\tau^2 - 2\frac{at_0}{g}\tau - \frac{at_0^2}{g} = 0$. Положительный корень

этого уравнения дает: $\tau = \left(\frac{a}{g} + \sqrt{\frac{a}{g} \left(1 + \frac{a}{g} \right)} \right) t_0 \approx 630 \text{ с} = 10,5 \text{ мин.}$

О т в е т. $\tau = 10,5 \text{ мин.}$

1.1.9. Шарик бросают вертикально вверх со скоростью $v_0 = 5 \text{ м/с}$. Пролетев расстояние $h = 1,05 \text{ м}$, он упруго ударяется о потолок и падает вниз. Через какое время τ после начала движения шарик упадет на пол, если расстояние от пола до потолка $H = 2,25 \text{ м}$? Ускорение свободного падения принять равным $g = 10 \text{ м/с}^2$.

Р е ш е н и е. Время движения шарика от момента броска до момента соударения с потолком равно $t_1 = \frac{v_0 - v_1}{g}$, где v_1 — скорость шарика непосредственно перед ударом о потолок, т. е. $v_1 = \sqrt{v_0^2 - 2gh}$. Время движения шарика от момента удара о потолок до момента падения на пол равно

$t_2 = \frac{v_2 - v_1}{g}$, где $v_2 = \sqrt{v_1^2 + 2gH}$ — скорость шарика непосредственно перед ударом о пол. Объединяя записанные выражения и учитывая, что $\tau = t_1 + t_2$,

получаем: $\tau = \frac{v_0}{g} \left(1 + \sqrt{1 + \frac{2(H-h)g}{v_0^2}} - 2\sqrt{1 - \frac{2gh}{v_0^2}} \right) = 0,8 \text{ с.}$

О т в е т. $\tau = 0,8 \text{ с.}$

1.1.10. В кабине лифта высотой $H = 2,5 \text{ м}$, движущейся с ускорением $a = 0,8 \text{ м/с}^2$, направленным вниз, вертикально вверх бросают маленький шарик с высоты $h = 0,5 \text{ м}$ от пола. С какой начальной скоростью v_0 относительно лифта брошен шарик, если после броска он поднялся точно до потолка кабины?

Р е ш е н и е. Пусть в неподвижной системе отсчета, начало которой совмещено с полом кабины в момент броска шарика, а ось Oy направлена вертикально вверх, $y_{\text{ш}}$ и v — координата шарика и его скорость, а $y_{\text{к}}$ и u — координата потолка кабины и ее скорость. Предположим, что скорость кабины в момент броска равна u_0 и направлена вверх. Для координат и скоростей шарика и потолка кабины справедливы кинематические уравнения:

$$y_{\text{ш}}(t) = h + (v_0 + u_0)t - \frac{gt^2}{2}, \quad v(t) = v_0 + u_0 - gt, \quad y_{\text{к}}(t) = H + u_0t - \frac{at^2}{2}, \quad u(t) =$$

$= u_0 - at$, причем начало отсчета времени совпадает с моментом броска шарика. Поскольку шарик после броска поднимается точно до потолка кабины, в этот момент времени t_0 справедливы следующие соотношения: $y_{\text{ш}}(t_0) = y_{\text{к}}(t_0)$, $v(t_0) = u(t_0)$. Объединяя записанные выражения, находим:

$$v_0 = \sqrt{2(H-h)(g-a)} = 6 \text{ м/с.}$$

О т в е т. $v_0 = 6 \text{ м/с.}$

1.1.11. Два тела начали падать с одной и той же высоты с интервалом $t_0 = 5$ с. Через какое время τ после начала падения второго тела расстояние между телами будет $d = 200$ м? Ускорение свободного падения $g = 10$ м/с², сопротивление воздуха не учитывать.

Решение. Кинематические уравнения движения тел имеют вид:

$$y_1(t) = \frac{g(t_0 + t)^2}{2}, \quad y_2(t) = \frac{gt^2}{2}.$$
 Расстояние между телами в момент времени τ равно: $d = x_1(\tau) - x_2(\tau) = \frac{g}{2}(t_0^2 + 2t_0\tau)$. Отсюда $\tau = \frac{d}{gt_0} - \frac{t_0}{2} = 1,5$ с.

Ответ. $\tau = 1,5$ с.

1.1.12. Два тела скользят навстречу друг другу по наклонной плоскости, составляющей с горизонтом угол $\alpha = 2 \cdot 10^{-4}$ рад. В момент, когда расстояние между ними $S = 130$ см, скорость тела, движущегося вверх, составляет $v_1 = 5$ см/с, а скорость тела, движущегося вниз, — $v_2 = 1,5$ см/с. Какие пути S_1 и S_2 пройдут тела до места встречи? Ускорение свободного падения принять $g = 10$ м/с², трением тел о плоскость пренебречь.

Решение. В координатной системе с началом, совпадающим с положением второго тела в начальный момент времени, и осью Ox , направленной вдоль наклонной плоскости вниз, кинематические уравнения движения тел имеют вид: $x_1(t) = S - v_1t + \frac{at^2}{2}$, $x_2(t) = v_2t + \frac{at^2}{2}$, где ускорение тел $a = g \sin \alpha \approx g\alpha$. В момент встречи тел $x_1(t_0) = x_2(t_0)$, откуда $t_0 = \frac{S}{v_1 + v_2}$.

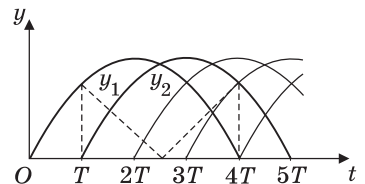
Поскольку $S_1 = S - x_1(t_0)$, $S_2 = x_2(t_0)$, то: $S_1 = \frac{v_1S}{v_1 + v_2} - \frac{g\alpha S^2}{2(v_1 + v_2)^2} = 60$ см,

$$S_2 = \frac{v_2S}{v_1 + v_2} - \frac{g\alpha S^2}{2(v_1 + v_2)^2} = 70 \text{ см.}$$

Ответ. $S_1 = 60$ см; $S_2 = 70$ см.

1.1.13. Жонглер бросает вертикально вверх шарики с одинаковой скоростью через равные промежутки времени. При этом пятый шарик жонглер бросает в тот момент, когда первый шарик возвращается в точку бросания. Найти максимальное расстояние S между первым и вторым шариками, если начальная скорость шариков $v_0 = 5$ м/с. Ускорение свободного падения принять равным $g = 10$ м/с². Сопротивлением воздуха пренебречь.

Решение. Зависимости координат первого и второго шариков от времени описываются уравнениями: $y_1 = v_0t - \frac{gt^2}{2}$, $y_2 = v_0(t - T) - \frac{g(t - T)^2}{2}$, где T — промежуток времени



между бросаниями шариков. Время полета каждого из шариков $t_0 = \frac{2v_0}{g}$,

поэтому $T = \frac{t_0}{4} = \frac{v_0}{2g}$, причем первый и второй шарик находятся в полете

одновременно при $T \leq t \leq 4T$ (см. рисунок, на котором сплошными линиями изображены зависимости координат шариков от времени). Расстояние между

первым и вторым шариками $S = |y_1 - y_2| = \left| v_0 T + \frac{gT^2}{2} - gTt \right|$. График зависи-

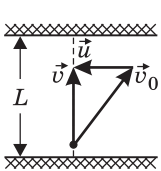
мости этой величины от времени изображен на рисунке штриховой линией. Анализ последнего выражения показывает, что оно достигает максимума при $t = T$ и при $t = 4T$, т. е. в момент бросания второго шарика и в момент возвращения первого шарика в исходную точку. Подставляя в выражение для расстояния между шариками одно из этих значений времени, получаем:

$$S_{\max} = \frac{3v_0^2}{8g} \approx 0,94 \text{ м.}$$

О т в е т. $S_{\max} \approx 0,94 \text{ м.}$

1.1.14. Пловец переплывает реку шириной L по прямой, перпендикулярной берегу, и возвращается обратно, затратив на весь путь время $t_1 = 4$ мин. Проплывая такое же расстояние L вдоль берега реки и возвращаясь обратно, пловец затрачивает время $t_2 = 5$ мин. Во сколько раз α скорость пловца относительно воды превышает скорость течения реки?

Р е ш е н и е. Согласно закону сложения скоростей, скорость пловца относительно неподвижной системы отсчета \vec{v} равна векторной сумме его скорости относительно воды \vec{v}_0 и скорости течения \vec{u} : $\vec{v} = \vec{v}_0 + \vec{u}$. В первом случае, когда пловец пересекает реку по прямой, перпендикулярной



берегу, $\vec{v} \perp \vec{u}$ и векторы \vec{v} , \vec{v}_0 и \vec{u} образуют прямоугольный треугольник (см. рисунок). Следовательно, в этом случае

$v = \sqrt{v_0^2 - u^2}$ и время, за которое пловец переплывает

реку туда и обратно, $t_1 = \frac{2L}{\sqrt{v_0^2 - u^2}}$. Во втором случае, когда

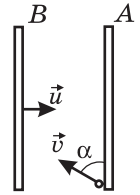
пловец плывет вдоль берега, его скорость в неподвижной системе отсчета равна $v_1 = v_0 + u$ при движении по течению и $v_2 = v_0 - u$ при движении против течения. Следовательно, время, которое пловец затрачивает для того, чтобы проплыть вдоль берега расстояние L и вернуться обратно,

$t_2 = \frac{L}{v_0 + u} + \frac{L}{v_0 - u} = \frac{2Lv_0}{v_0^2 - u^2}$. Разрешая полученную систему уравнений, на-

ходим: $v_0 = \frac{2Lt_2}{t_1^2}$, $u = \frac{2L}{t_1} \sqrt{t_2^2 - t_1^2}$. Следовательно $\alpha = \frac{v_0}{u} = \frac{t_2}{\sqrt{t_2^2 - t_1^2}} = \frac{5}{3}$.

О т в е т. $\alpha = \frac{5}{3}$.

1.1.15. Шарик пренебрежимо малой массы начинает скольжение в горизонтальной плоскости от неподвижной доски A со скоростью $v = 2$ м/с под углом $\alpha = 30^\circ$ к ней. Доска B , параллельная доске A , движется перпендикулярно плоскости доски A с некоторой скоростью u . Найти u , если время движения шарика от доски A до встречи с доской B в $k = 2$ раза превышает время его движения обратно. Удар шарика о доску B считать упругим. Трением пренебречь.



Решение. Пусть расстояние между досками в начальный момент равно L . По закону сложения скоростей, модуль составляющей относительной скорости шарика, нормальной к доске B , до удара равен $v_{\perp\text{отн}} = v \sin \alpha + u$. Следовательно, время движения шарика

до удара о доску B равно $t_1 = \frac{L}{v \sin \alpha + u}$. После удара модуль составляющей скорости шарика, нормальной к доске B , станет равным $v \sin \alpha + 2u$. Поэтому время обратного движения шарика до доски A составит $t_2 = \frac{L - ut_1}{v \sin \alpha + 2u}$.

Используя условие $t_1 = kt_2$, получаем: $u = \frac{(k-1)v \sin \alpha}{2} = 0,5$ м/с.

Ответ. $u = 0,5$ м/с.

1.1.16. Мяч брошен с поверхности земли под углом $\alpha = 45^\circ$ к горизонту с начальной скоростью $v_0 = 10$ м/с в направлении вертикальной стенки, расстояние до которой $l = 7$ м. На какой высоте h мяч ударится о стенку? Сопротивлением воздуха пренебречь.

Решение. Из уравнения траектории мяча $y(x) = \text{tg} \alpha \cdot x - \frac{gx^2}{2v_0^2 \cos^2 \alpha}$ получаем: $h = l \text{tg} \alpha - \frac{gl^2}{2v_0^2 \cos^2 \alpha} \approx 2$ м.

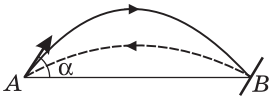
Ответ. $h \approx 2$ м.

1.1.17. Человек бросает камень через забор высотой $H = 2,5$ м. На какое максимальное расстояние S он может отойти от забора, если бросок производится с высоты $h = 2$ м от поверхности земли со скоростью $v_0 = 5$ м/с под углом $\alpha = 45^\circ$ к горизонту? Ускорение свободного падения принять $g = 10$ м/с².

Решение. Уравнение траектории камня имеет вид: $y(x) = h + \text{tg} \alpha \cdot x - \frac{gx^2}{2v_0^2 \cos^2 \alpha}$. Полагая $y = H$, получаем квадратное уравнение относительно x , а именно $x^2 - \frac{2v_0^2 \sin \alpha \cos \alpha}{g} x + \frac{2v_0^2 \cos^2 \alpha (H - h)}{g} = 0$. Условию задачи удовлетворяет больший по величине корень этого уравнения.

Ответ. $S = \frac{v_0^2}{g} \sin \alpha \cos \alpha \left[1 + \sqrt{1 - \frac{2g(H-h)}{v_0^2 \sin^2 \alpha}} \right] \approx 1,81$ м.

1.1.18. Шарик, брошенный из точки A под углом α к горизонту, в точке B , лежащей на одной горизонтали с точкой A , ударяется о гладкую площадку, наклоненную к горизонту. После упругого удара шарик возвращается



в исходную точку A , затратив на полет в $k = \sqrt{3}$ раз меньшее время. Найти угол α , под которым тело было брошено из точки A .

Решение. Дальность полета тела, брошенного под углом α к горизонту со скоростью v_0 , равна

$L = \frac{v_0^2 \sin 2\alpha}{g}$, а время полета $t_{\text{п}} = \frac{2v_0 \sin \alpha}{g}$. Поскольку модуль скорости шарика при упругом ударе не изменяется, а дальность полета шарика в обе

стороны одинакова, справедливо равенство: $\frac{v_0^2 \sin 2\alpha}{g} = \frac{v_0^2 \sin 2\beta}{g}$, где β —

угол, который скорость шарика образует с горизонталью после удара. Отсюда следует, что $\sin 2\alpha = \sin 2\beta$ при $\alpha < \frac{\pi}{2}$, $\beta < \frac{\pi}{2}$. Этому уравнению удовлетво-

ряют два корня: $\beta = \alpha$ и $\beta = \frac{\pi}{2} - \alpha$, причем условию задачи соответствует

второй корень. Следовательно, $\sin \beta = \cos \alpha$. Поскольку отношение времен

полета $k = \frac{\sin \alpha}{\sin \beta} = \text{tg} \alpha = \sqrt{3}$, получаем: $\alpha = \text{arctg} k = \text{arctg} \sqrt{3} = 60^\circ$.

Ответ $\alpha = 60^\circ$.

1.1.19. Под каким углом α к горизонту нужно бросить камень, чтобы отношение максимальной высоты подъема камня к дальности его полета составило $n = \sqrt{3} / 4$?

Решение. Используя выражения для дальности L и максимальной высоты H полета тела, а именно: $L = 2 \frac{v_0^2}{g} \sin \alpha \cos \alpha$, $H = \frac{v_0^2}{2g} \sin^2 \alpha$, находим,

что $\frac{H}{L} = \frac{1}{4} \text{tg} \alpha$.

Ответ: $\alpha = \text{arctg}(4n) = 60^\circ$.

1.1.20. Снаряд, вылетевший из пушки под углом $\alpha_1 = 15^\circ$ к горизонту, падает на расстоянии $L_1 = 5$ км. Какой будет дальность полета снаряда L_2 при угле вылета из пушки $\alpha_2 = 45^\circ$? Сопротивлением воздуха пренебречь.

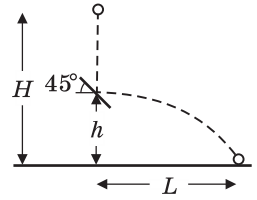
Решение. Пусть v_0 — скорость вылета снаряда из ствола пушки. Используя выражения для дальности полета снаряда, имеем: $L_1 = \frac{v_0^2}{g} \sin 2\alpha_1$, $L_2 =$

$= \frac{v_0^2}{g} \sin 2\alpha_2$. Исключая из этих соотношений v_0 , получаем: $L_2 = L_1 \frac{\sin 2\alpha_2}{\sin 2\alpha_1} =$

$= 10$ км.

Ответ. $L_2 = 10$ км.

1.1.21. Маленький шарик падает с высоты $H = 2$ м без начальной скорости. На высоте $h = 0,5$ м над землей шарик испытывает абсолютно упругий удар о закрепленную гладкую площадку, наклоненную под углом 45° к горизонту. Найти дальность полета шарика L .



Решение. При упругом соударении шарика с неподвижной гладкой площадкой угол между нормалью к площадке и скоростью \vec{v}_1 после удара равен углу между нормалью и скоростью \vec{v}_0 перед ударом. По условию задачи, $\alpha = 45^\circ$, поэтому $\vec{v}_1 \perp \vec{v}_0$ и скорость шарика непосредственно после удара направлена горизонтально. При падении шарика с высоты $H - h$ модуль его скорости $v_0 = \sqrt{2g(H - h)}$. Движение шарика после соударения с площадкой происходит с начальной горизонтальной скоростью $v_1 = v_0$. Дальность полета шарика равна $L = v_1 \tau$, где $\tau = \sqrt{2h/g}$ — время падения с высоты h .

Ответ. $L = 2\sqrt{h(H - h)} \approx 1,7$ м.

1.1.22. Пушка делает два выстрела с интервалом $\tau = 10$ с. Каким будет расстояние l между снарядами спустя время $t = \tau$ после второго выстрела? Скорость снаряда при выстреле $v_0 = 300$ м/с, ствол пушки направлен под углом $\alpha = 60^\circ$ к горизонту. Ускорение свободного падения $g = 9,8$ м/с², силу сопротивления воздуха при движении снарядов не учитывать.

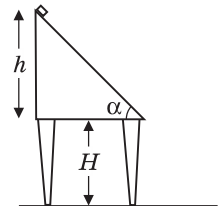
Решение. Кинематические уравнения, записанные для горизонтальной и вертикальной координат снарядов, имеют вид: $x_1 = (v_0 \cos \alpha) \cdot 2\tau$, $y_1 = (v_0 \sin \alpha) \cdot 2\tau - \frac{g(2\tau)^2}{2}$ (для первого снаряда), $x_2 = (v_0 \cos \alpha) \cdot \tau$, $y_2 = (v_0 \sin \alpha) \cdot \tau - \frac{g\tau^2}{2}$ (для второго снаряда). Искомое расстояние $l = \sqrt{(x_1 - x_2)^2 + (y_1 - y_2)^2}$.

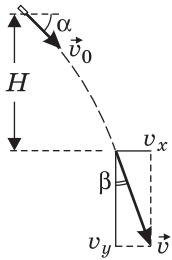
После подстановки получаем: $l = v_0 \tau \sqrt{1 - \frac{3g\tau}{v_0} \sin \alpha + \left(\frac{3g\tau}{2v_0}\right)^2} \approx 1877$ м.

Ответ. $l = 1877$ м.

1.1.23. Маленький брусок соскальзывает без трения с наклонной плоскости высотой $h = 1$ м и с углом при основании $\alpha = 45^\circ$, а затем свободно падает на пол с высоты $H = 1$ м. Найти угол β между направлением скорости и вертикалью в момент удара бруска о пол. Сопротивлением воздуха пренебречь.

Решение. Брусок, соскальзывающий без трения по наклонной плоскости высотой h , приобретает скорость $v_0 = \sqrt{2gh}$ которая направлена вниз под углом α к горизонту. При свободном падении бруска горизонтальная проекция скорости $v_x = v_0 \cos \alpha$ остается неизменной, а вертикальная возрастает и становится к концу падения равной





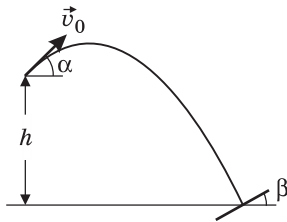
$v_y = \sqrt{v_0^2 \sin^2 \alpha + 2gH}$. Искомый угол $\beta = \operatorname{arctg} \frac{v_x}{v_y}$ (см. рису-

нок). После преобразования получаем: $\beta = \operatorname{arctg} \frac{\sqrt{h} \cos \alpha}{\sqrt{h \sin^2 \alpha + H}} =$

$$= \operatorname{arcsin} \frac{\sqrt{h} \cos \alpha}{\sqrt{h + H}} = 30^\circ.$$

О т в е т. $\beta = 30^\circ$.

1.1.24. Шарик брошен с башни высотой $h = 4,9$ м под углом $\alpha = 30^\circ$ к горизонту со скоростью $v_0 = 7$ м/с. При падении на землю шарик упруго ударяется о наклонную плоскость и возвращается в точку бросания по той же траектории. Какой угол β составляет наклонная плоскость с горизонталью? Ускорение свободного падения принять $g = 10$ м/с².



Решение. После упругого удара о наклонную плоскость шарик вернется в точку бросания по той же траектории, что и при падении, если плоскость расположена перпендикулярно его скорости \vec{v} перед ударом. Поэтому угол β между наклонной

плоскостью и горизонталью равен углу между скоростью шарика в момент падения \vec{v} и вертикалью. Обозначив через $v_x = v_0 \cos \alpha$ горизонтальную проекцию скорости шарика, имеем: $\sin \beta = v_x / v$, где v — модуль скорости шарика перед ударом. Согласно закону сохранения энергии, $\frac{mv^2}{2} = mgh + \frac{mv_0^2}{2}$.

Отсюда $v = \sqrt{v_0^2 + 2gh}$. Объединяя записанные выражения, получаем:

$$\beta = \operatorname{arcsin} \frac{v_0 \cos \alpha}{\sqrt{v_0^2 + 2gh}} = \operatorname{arcsin} 0,5 = 30^\circ.$$

О т в е т. $\beta = 30^\circ$.

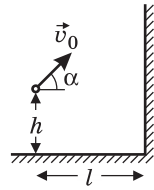
1.1.25. С вершины холма бросили камень под некоторым углом к горизонту со скоростью $v_0 = 10$ м/с. В момент падения камня на склон холма величина угла между направлением скорости камня и горизонтом составила $\beta = 60^\circ$, а разность высот точек бросания и падения $\Delta h = 5$ м. Найти угол α между направлением начальной скорости камня v_0 и горизонтом. Ускорение свободного падения принять $g = 10$ м/с².

Решение. Горизонтальная проекция скорости камня $v_x = v_0 \cos \alpha$ при его падении остается постоянной. Из закона сохранения энергии следует, что модуль скорости камня в момент падения на склон холма равен $v = \sqrt{v_0^2 + 2g\Delta h}$. Учитывая, что $\cos \beta = \frac{v_x}{v} = \frac{v_0 \cos \alpha}{\sqrt{v_0^2 + 2g\Delta h}}$, находим:

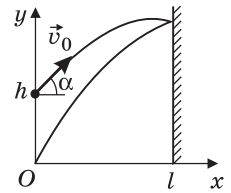
$$\alpha = \arccos \left(\cos \beta \sqrt{1 + \frac{2g\Delta h}{v_0^2}} \right) = 45^\circ.$$

О т в е т. $\alpha = 45^\circ$.

1.1.26. Мальчик бросает мяч в направлении вертикальной стены так, чтобы мяч, отскочив от стены, упал точно к его ногам. Какова должна быть начальная скорость мяча v_0 , если бросок производится с высоты $h = 1,5$ м под углом $\alpha = 45^\circ$ к горизонту? Расстояние от мальчика до стены $l = 6$ м. Удар мяча о стену считать абсолютно упругим, ускорение свободного падения принять $g = 10$ м/с².



Решение. Для того чтобы мяч, отскочив от стены, упал точно к ногам мальчика, траектория мяча должна иметь вид, изображенный на рисунке. При упругом ударе о неподвижную стенку угол между нормалью к стенке и скоростью мяча перед ударом равен по величине углу между нормалью к стенке и скоростью мяча после удара. Обозначим через t_0 время полета мяча. За это время он проходит по горизонтали путь $2l$. Горизонтальная составляющая скорости мяча равна $v_0 \cos \alpha$ и при полете не меняется по величине, следовательно, $(v_0 \cos \alpha) \cdot t_0 = 2l$. С другой стороны, в момент времени t_0 вертикальная координата мяча должна обратиться в нуль: $h + (v_0 \sin \alpha) \cdot t_0 - \frac{gt_0^2}{2} = 0$. Исключая

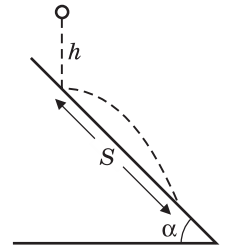


из полученных соотношений t_0 , находим: $v_0 = \frac{l}{\cos \alpha} \sqrt{\frac{2g}{h + 2l \operatorname{tg} \alpha}} \approx 10$ м/с.

Ответ. $v_0 \approx 10$ м/с.

1.1.27. Маленький шарик падает с высоты $h = 50$ см на наклонную плоскость, составляющую угол $\alpha = 45^\circ$ с горизонтом. Найти расстояние S между точками первого и второго соударений шарика с наклонной плоскостью. Соударения считать абсолютно упругими, сопротивлением воздуха пренебречь.

Решение. Из рисунка видно, что угол, который образует с горизонтом скорость шарика \vec{v} после удара о наклонную плоскость, $\gamma = \frac{\pi}{2} - 2\alpha$. В системе координат, изображенной на рисунке, кинематические уравнения движения шарика после удара имеют вид: $x = (v \sin 2\alpha) \cdot t$,

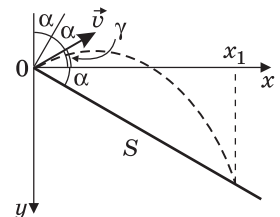


$y = -(v \cos 2\alpha) \cdot t + \frac{gt^2}{2}$. Исключая время t , получаем уравнение траектории шарика: $y(x) = -(ctg 2\alpha) \cdot x + \frac{gx^2}{2v^2 \sin^2 \alpha}$. Уравнение наклонной плоскости имеет вид: $y_{\text{пл}}(x) = x \operatorname{tg} \alpha$. В точке падения шарика на плоскость выполняется равенство: $y(x_1) = y_{\text{пл}}(x_1)$. Отсюда горизонтальная координата точки падения

$x_1 = \frac{4v^2}{g} \sin \alpha \cos \alpha$. Поскольку $S = \frac{x_1}{\cos \alpha}$, $v = \sqrt{2gh}$,

получаем: $S = 8h \sin \alpha = 4h\sqrt{2} \approx 2,83$ м.

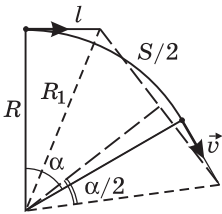
Ответ. $S \approx 2,83$ м.



1.1.28. Самолет летит по дуге окружности радиуса $R = 1$ км, сохраняя одну и ту же высоту $h = 1,5$ км над горизонтальной поверхностью. С интервалом времени $\tau = 10,5$ с ($\approx 10\pi/3$ с) с него сбрасывают два мешка. На каком расстоянии S друг от друга упадут на землю эти мешки, если скорость самолета $v = 100$ м/с? Ускорение свободного падения принять $g = 10$ м/с², сопротивлением воздуха пренебречь.

Решение. Вид сверху на траекторию самолета изображен на рисунке. Горизонтальное перемещение мешка за время падения с высоты h равно

$l = v\sqrt{\frac{2h}{g}}$. Следовательно, расстояние от места падения мешка до центра



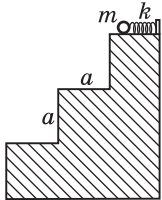
проекции на поверхность земли окружности, по которой движется самолет, $R_1 = \sqrt{R^2 + l^2}$. Из рисунка видно, что

$\frac{S}{2} = R_1 \sin \frac{\alpha}{2}$, где $\alpha = \frac{v\tau}{R}$. Объединяя записанные выра-

жения, находим: $S = 2\sqrt{R^2 + \frac{2hv^2}{g}} \sin\left(\frac{v\tau}{2R}\right) \approx 2$ км.

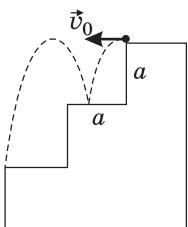
Ответ. $S \approx 2$ км.

1.1.29. Лестница состоит из трех одинаковых гладких ступенек шириной $a = 30$ см и такой же высотой. На верхней ступеньке расположена в плоскости рисунка невесомая пружина жесткостью $k = 30$ Н/м, правым концом прикрепленная к неподвижной стенке, а левым — упирающаяся в лежащий на ступеньке маленький шарик массой $m = 100$ г. Шарик сдвигают вправо, сжимая пружину, после чего отпускают без начальной скорости. До какой максимальной величины Δl_{\max} можно сжать пружину, чтобы выпущенный шарик по одному разу ударился о горизонтальную поверхность средней и нижней ступенек? Удар шарика о ступеньку считать абсолютно упругим, трение и сопротивление воздуха не учитывать. Ускорение свободного падения принять $g = 10$ м/с².



Решение. Сжатая пружина сообщает шарiku начальную скорость \vec{v}_0 , величина которой может быть найдена из закона сохранения энергии:

$v_0 = \Delta l \sqrt{k/m}$. По условию задачи, максимальная начальная скорость шарика отвечает случаю, когда шарик отскакивает от средней ступеньки и падает на самый край нижней ступеньки. Траектория шарика, соответствующая этому случаю, изображена на рисунке. Время падения шарика с высоты a равно $t_1 = \sqrt{2a/g}$. Такое же время шарик будет подниматься до уровня верхней ступеньки. Время падения шарика с высоты верхней ступеньки до удара о нижнюю ступеньку $t_2 = \sqrt{4a/g}$. Полное время движения шарика



$t_0 = 2t_1 + t_2 = 2\sqrt{\frac{a}{g}}(\sqrt{2} + 1)$. За это

время шарик смещается по горизонтали на расстояние $2a$. Объединяя запи-

санные соотношения, получаем ответ: $\Delta l_{\max} = \sqrt{\frac{mga}{k}} \cdot \frac{1}{\sqrt{2+1}} \approx 4,14$ см.

О т в е т. $\Delta l_{\max} = 4,14$ см.

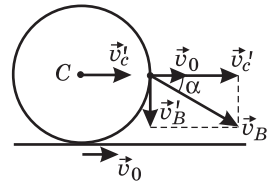
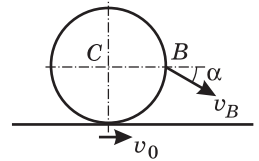
1.1.30. Колесо катится без проскальзывания по ленте транспортера, движущейся горизонтально со скоростью $v_0 = 1$ м/с, в направлении движения ленты. Известно, что относительно неподвижного наблюдателя скорость v_B точки B , находящейся на горизонтальном диаметре обода колеса, составляет с горизонтом угол $\alpha = 30^\circ$. Найти скорость v центра C колеса относительно неподвижного наблюдателя.

Р е ш е н и е. По закону сложения скоростей, скорость центра колеса относительно неподвижного наблюдателя (абсолютная скорость) равна $\vec{v} = \vec{v}_0 + \vec{v}'_c$, где \vec{v}'_c — скорость центра колеса относительно ленты транспортера (см. рисунок). Из условия отсутствия проскальзывания следует, что $v'_c = v'_B$, где v'_B — модуль скорости точки B относительно центра колеса. Таким образом, $v = v_0 + v'_c$, $v'_B = v - v_0$. Как

видно из рисунка, $\operatorname{tg} \alpha = \frac{v'_B}{v_0 + v'_c} = \frac{v - v_0}{v}$. Отсюда

$$v = \frac{v_0}{1 - \operatorname{tg} \alpha} \approx 2,36 \text{ м/с.}$$

О т в е т. $v = 2,36$ м/с.



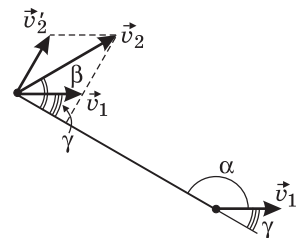
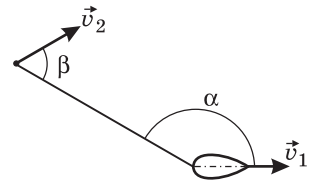
1.1.31. Катер, движущийся со скоростью $v_1 = 30$ км/ч, буксирует спортсмена на водных лыжах. Трос, за который держится спортсмен, составляет с направлением движения катера угол $\alpha = 150^\circ$. Направление движения спортсмена образует с тросом угол $\beta = 60^\circ$. Чему равна величина скорости спортсмена v_2 в этот момент времени?

Р е ш е н и е. По закону сложения скоростей скорость спортсмена относительно неподвижной системы отсчета (его абсолютная скорость) равна $\vec{v}_2 = \vec{v}_1 + \vec{v}'_2$, где \vec{v}'_2 — скорость спортсмена относительно катера (см. рисунок). Поскольку вектор \vec{v}'_2 перпендикулярен тросу, проекции скоростей \vec{v}_1 и \vec{v}_2 на направление троса в каждый момент времени равны друг: $v_1 \cos \gamma = v_2 \cos \beta$. Учитывая,

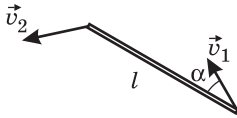
что $\gamma = 180^\circ - \alpha$, получаем: $v_2 = v_1 \frac{\cos(180^\circ - \alpha)}{\cos \beta} \approx$

≈ 52 км/ч.

О т в е т. $v_2 \approx 52$ км/ч.

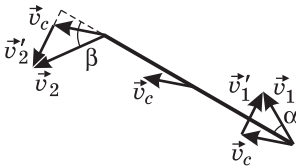


1.1.32. Стержень длиной $l = 0,85$ м движется в горизонтальной плоскости. В некоторый момент времени скорости концов стержня равны $v_1 = 1$ м/с и $v_2 = 1,5$ м/с, причем скорость первого из них направлена под углом $\alpha = 30^\circ$ к стержню. Какова угловая скорость ω вращения стержня вокруг его центра?



Решение. Скорость центра стержня относительно неподвижной системы отсчета равна $\vec{v}_c = \frac{1}{2}(\vec{v}_1 + \vec{v}_2)$.

Скорости концов стержня в системе отсчета, связанной с его центром и движущейся поступательно, по закону сложения скоростей выражаются следующим образом: $\vec{v}'_1 = \vec{v}_1 - \vec{v}_c = \frac{1}{2}(\vec{v}_1 - \vec{v}_2)$, $\vec{v}'_2 = \vec{v}_2 - \vec{v}_c = \frac{1}{2}(\vec{v}_2 - \vec{v}_1)$. Из постоян-



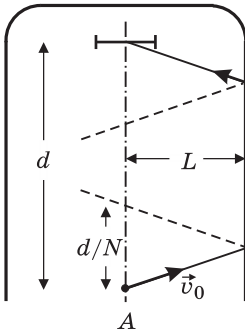
ства длины стержня вытекает, что проекции скоростей его концов на направление стержня в каждый момент времени совпадают: $v_1 \cos \alpha = v_2 \cos \beta$. Поэтому \vec{v}'_1 и \vec{v}'_2 перпендикулярны стержню, причем $v'_1 = v'_2 = \omega \cdot \frac{l}{2}$. Следовательно, но, $\omega = \frac{|\vec{v}_2 - \vec{v}_1|}{l} = \frac{v_1 \sin \alpha + v_2 \sin \beta}{l}$. Учитывая, что

$$\cos \beta = \frac{v_1}{v_2} \cos \alpha, \text{ получаем: } \omega = \frac{1}{l} \left(v_1 \sin \alpha + \sqrt{v_2^2 - v_1^2 \cos^2 \alpha} \right) \approx 2 \text{ рад/с.}$$

Ответ. $\omega \approx 2$ рад/с.

Дополнительные задачи

1.1.33. Хоккеист бросает шайбу из точки А, находящейся на расстоянии $d = 50$ м от ворот и на равных расстояниях $L = 16$ м от бортов хоккейной площадки. Шайба начинает движение по льду со скоростью $v_0 = 10$ м/с. С каким максимальным числом N_{\max} отражений от бортов площадки хоккеист сможет забросить шайбу в центр ворот? Коэффициент трения между шайбой и льдом $\mu = 0,05$, ускорение свободного падения $g = 10$ м/с². Считать, что удар шайбы о борта площадки является абсолютно упругим и что на всем пути шайба не отрывается от поверхности льда и не вращается. При решении задачи в общем виде принять, что $v_0 > \sqrt{2\mu g d}$.



Решение. При абсолютно упругом ударе шайбы о борт углы между нормалью к борту и направлениями скоростей шайбы до и после удара равны друг другу. Из геометрических соображений ясно, что длина траектории шайбы от места удара до линии ворот при N отражениях от бортов составляет величину (см. рисунок): $S_N = 2N \sqrt{L^2 + \left(\frac{d}{2N}\right)^2} = \sqrt{(2NL)^2 + d^2}$. Из закона

изменения механической энергии $\frac{mv_0^2}{2} = \mu mg S_0$ находим, что путь, который

проходит по льду шайба, имеющая начальную скорость v_0 , равен $S_0 = \frac{v_0^2}{2\mu g}$.

По условию задачи, $S_N \leq S_0$. Объединяя записанные равенства, получаем,

что $N \leq \frac{1}{2L} \sqrt{\frac{v_0^4}{(2\mu g)^2} - d^2} \approx 2,71$.

О т в е т. $N_{\max} = \left[\frac{1}{2L} \sqrt{\frac{v_0^4}{(2\mu g)^2} - d^2} \right] = 2$, где символом $[\dots]$ обозначена целая часть числа.

1.1.34. Хоккеист бросает шайбу из точки, находящейся на расстоянии $d = 35$ м от ворот и на равных расстояниях $L = 15$ м от бортов хоккейной площадки. Какую скорость v_0 хоккеист должен сообщить шайбе, чтобы она остановилась в центре линии ворот после одного отражения от борта? Считать, что при отражении от борта величина составляющей скорости, параллельной борту, не изменяется, а величина составляющей скорости, перпендикулярной борту, изменяется в $k = 3/4$ раз. Коэффициент трения между шайбой и льдом $\mu = 0,05$. Считать, что на всем пути шайба не отрывается от поверхности льда. Ускорение свободного падения принять $g = 10$ м/с².

Р е ш е н и е. Обозначив через \vec{v}_1 и \vec{v}_2 скорости шайбы до и после столкновения с бортом, имеем: $v_{2\tau} = v_{1\tau} = v_1 \sin \alpha$, $v_{2n} = kv_{1n} = kv_1 \cos \alpha$, где $v_{i\tau}$

и v_{in} — проекции скорости шайбы на касательное и нормальное борту направления, $i = 1, 2$.

Отсюда находим, что $v_2^2 = v_1^2 (\sin^2 \alpha + k^2 \cos^2 \alpha)$,

$\text{tg} \beta = \frac{1}{k} \text{tg} \alpha$. Из рисунка видно, что длина L траектории шайбы удовлетворяет условию

$L \text{tg} \alpha + L \text{tg} \beta = d$, поэтому $\text{tg} \alpha = \frac{kd}{(k+1)L}$. Из закона изменения механической энергии шайбы

вытекают равенства: $\frac{mv_1^2}{2} = \frac{mv_0^2}{2} - \mu mg S_1$, $\frac{mv_3^2}{2} =$

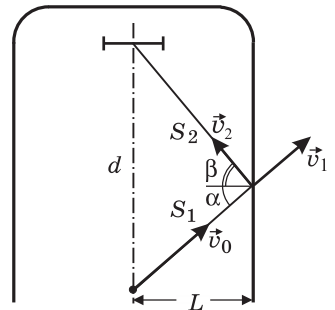
$= \frac{mv_2^2}{2} - \mu mg S_2$, где v_3 — скорость шайбы на линии ворот, $S_1 = \frac{L}{\cos \alpha}$, $S_2 = \frac{L}{\cos \beta}$.

По условию задачи, $v_3 = 0$. Объединяя записанные равенства и учитывая, что

$\frac{1}{\cos \alpha} = \sqrt{1 + \text{tg}^2 \alpha}$, получаем: $v_0 = \left[2\mu g L \left(\sqrt{1 + \text{tg}^2 \alpha} + \frac{1 + \text{tg}^2 \alpha}{k \sqrt{k^2 + \text{tg}^2 \alpha}} \right) \right]^{1/2} \approx 7,3$ м/с,

где $\text{tg} \alpha = \frac{kd}{(k+1)L} = 1$.

О т в е т. $v_0 \approx 7,3$ м/с.



1.1.35. Беговые дорожки легкоатлетического стадиона состоят из двух прямолинейных участков, соединенных двумя полукругностями. Ширина дорожки $d = 1$ м. Линия старта проведена перпендикулярно прямолинейному участку дорожек и совпадает с линией финиша. Два бегуна, находящиеся на первой (внутренней) и второй дорожках, одновременно принимают старт и пробегают до финиша один круг. Они разгоняются равноускоренно, пока не наберут максимальную скорость $v_0 = 8$ м/с, одинаковую для обоих бегунов. С этой скоростью они и пробегают оставшуюся часть дистанции. Насколько отличаются времена разгона бегунов, если, двигаясь каждый по середине своей дорожки, они финишируют одновременно?

Решение. Время, за которое бегун пробегает дистанцию, равно $\tau = t_p + t_0$, где $t_p = \frac{v_0}{a}$ — время разгона, t_0 — время движения с постоянной скоростью, a — ускорение бегуна. За время разгона бегун пробегает расстояние $S_p = \frac{at_p^2}{2} = \frac{v_0^2}{2a}$. Поэтому $t_0 = \frac{S - S_p}{v_0} = \frac{S}{v_0} - \frac{v_0}{2a}$, где S — длина дистанции. Таким образом, $\tau = \frac{v_0}{2a} + \frac{S}{v_0}$. По условию задачи, $\tau_1 = \tau_2$, откуда следует, что $\frac{v_0}{2a_1} + \frac{S_1}{v_0} = \frac{v_0}{2a_2} + \frac{S_2}{v_0}$, или $\frac{t_{p1}}{2} + \frac{S_1}{v_0} = \frac{t_{p2}}{2} + \frac{S_2}{v_0}$ (индексы относятся к обоим бегунам). Отсюда $\Delta t = t_{p1} - t_{p2} = \frac{2(S_2 - S_1)}{v_0}$. Разность длин дистанции $S_2 - S_1$ равна разности длин окружностей радиусов $R + d$ и R , т. е. $S_2 - S_1 = 2\pi d$.

О т в е т. $\Delta t = \frac{4\pi d}{v_0} \approx 1,57$ с.

1.1.36. Беговые дорожки легкоатлетического стадиона состоят из двух прямолинейных участков, соединенных двумя полукругностями. Ширина дорожки $d = 1$ м. Линия старта проведена перпендикулярно прямолинейному участку дорожек и совпадает с линией финиша. Два бегуна, находящиеся на первой (внутренней) и второй дорожках, одновременно принимают старт и пробегают до финиша один круг. Они разгоняются равноускоренно, пока не наберут максимальную скорость $v_0 = 8$ м/с, одинаковую для обоих бегунов. С этой скоростью они и пробегают оставшуюся часть дистанции, каждый по середине своей дорожки, и финишируют одновременно. Чему равно отношение n времени разгона второго бегуна ко времени разгона первого, если полная длина первой дорожки $S_1 = 400$ м, а время, за которое спортсмены пробегают всю дистанцию, $\tau = 52$ с?

Решение. Время, за которое бегун пробегает дистанцию, равно $\tau = t_p + t_0$, где $t_p = \frac{v_0}{a}$ — время разгона; t_0 — время движения с постоянной скоростью; a — ускорение бегуна. За время разгона бегун пробегает расстояние $S_p = \frac{at_p^2}{2} = \frac{v_0^2}{2a}$. Поэтому $t_0 = \frac{S - S_p}{v_0} = \frac{S}{v_0} - \frac{v_0}{2a}$, где S — длина дистанции.

Таким образом, $\tau = \frac{v_0}{2a} + \frac{S}{v_0}$. Отсюда $a = \frac{v_0^2}{2(v_0\tau - S)}$. Поскольку скорость равномерного движения обоих бегунов одинакова, времена разгона бегунов обратно пропорциональны их ускорениям. Следовательно, искомая величина n равна $n = \frac{a_1}{a_2}$ (индексы относятся к обоим бегунам). Имеем $\frac{a_1}{a_2} = \frac{v_0\tau - S_2}{v_0\tau - S_1} = 1 - \frac{S_2 - S_1}{v_0\tau - S_1}$. Разность длин дистанций $S_2 - S_1$ равна разности длин окружностей радиусами $R + d$ и R , т. е. $S_2 - S_1 = 2\pi d$.

$$\text{О т в е т. } n = 1 - \frac{2\pi d}{v_0\tau - S_1} \approx 0,61.$$

1.1.37. Узнав о готовящемся нападении неприятеля, решетку ворот замка начали опускать с постоянной скоростью $u = 0,2$ м/с. Мальчик, игравший на расстоянии $l = 20$ м от ворот, в тот же момент бросился бежать к воротам. Сначала он двигался равноускоренно, а затем, набрав максимальную скорость $v_0 = 2,5$ м/с, равномерно. С каким минимальным ускорением a_{\min} мог разогнаться мальчик, чтобы успеть пробежать под решеткой ворот в полный рост, если в начальный момент нижний край решетки находился на расстоянии $H = 3$ м от поверхности земли? Рост мальчика $h = 1$ м.

Решение. Пусть ускорение мальчика равно a . Тогда за время разгона $t_1 = \frac{v_0}{a}$ он пробежит расстояние $s = \frac{at_1^2}{2} = \frac{v_0^2}{2a}$. Полное время движения мальчика до ворот равно $t_0 = t_1 + \frac{l-s}{v_0} = \frac{v_0}{2a} + \frac{l}{v_0}$. Видно, что чем меньше ускорение мальчика на участке разгона, тем больше t_0 . В то же время, для того чтобы мальчик успел пробежать под решеткой ворот в полный рост, t_0 не должно превышать времени τ движения решетки ворот от исходного положения до высоты, равной росту мальчика. Очевидно, что ускорение мальчика будет минимальным, если $t_0 = \tau$. Учитывая, что $\tau = \frac{H-h}{u}$, получаем:

$$a_{\min} = \frac{v_0}{2\left(\frac{H-h}{u} - \frac{l}{v_0}\right)} = 0,625 \text{ м/с}^2.$$

$$\text{О т в е т. } a_{\min} = 0,625 \text{ м/с}^2.$$

1.1.38. Легкий маленький шарик роняют без начальной скорости. Когда шарик пролетает по вертикали расстояние h , он ударяется о тяжелую горизонтальную доску, движущуюся вертикально вверх с постоянной скоростью. После упругого удара о доску шарик подлетает вверх на высоту nh от точки соударения. С какой скоростью u двигалась доска? Соппротивлением воздуха пренебречь. Ускорение свободного падения g .

Решение. Скорость шарика, свободно падающего с высоты h , равна $v = \sqrt{2gh}$. Для того чтобы шарик после удара о доску поднялся на высо-

ту nh , он должен при ударе приобрести скорость $v' = \sqrt{2gnh} = v\sqrt{n}$, направленную вверх. В системе отсчета, связанной с доской, скорость шарика перед ударом $v_{\text{отн}} = v + u$. Так как удар упругий, шарик отскочит вверх с такой же по модулю скоростью относительно доски: $v'_{\text{отн}} = v + u$. По закону сложения скоростей скорость шарика после удара в неподвижной системе отсчета равна: $v' = v'_{\text{отн}} + u = v + 2u$. Объединяя записанные выражения, получаем: $u = \sqrt{\frac{gh}{2}}(\sqrt{n} - 1)$.

$$\text{О т в е т. } u = \sqrt{\frac{gh}{2}}(\sqrt{n} - 1).$$

1.1.39. Граната, брошенная под углом к горизонту, разрывается в верхней точке траектории на два одинаковых осколка. Один из осколков упал на землю через время t_1 после разрыва гранаты. Через какое время t_2 после разрыва окажется на земле второй осколок, упавший позднее первого, если разрыв гранаты произошел на высоте h над поверхностью земли? Сопротивлением воздуха пренебречь. Ускорение свободного падения g .

Р е ш е н и е. Перед разрывом гранаты вертикальная составляющая импульса равна нулю. Пренебрегая импульсом силы тяжести за время разрыва, можно применить закон сохранения импульса. С учетом того что массы осколков одинаковы, из этого закона следует, что вертикальные составляющие скоростей осколков после разрыва гранаты равны по величине и противоположны, причем скорость первого осколка направлена вниз, а скорость второго — вверх. Выбирая начало отсчета в точке разрыва гранаты и направляя координатную ось OY вниз, имеем $v_{1y} = v_0$, $v_{2y} = -v_0$, где v_0 — модуль вертикальной составляющей скорости осколков. Кинематическое уравнение движения по вертикали, записанное для первого осколка, дает

соотношение: $v_0 t_1 + \frac{gt_1^2}{2} = h$. Отсюда $v_0 = \frac{h}{t_1} - \frac{gt_1}{2}$. Аналогично, для второго

осколка имеем: $-v_0 t_2 + \frac{gt_2^2}{2} = h$. Подставляя сюда найденное v_0 , получаем

уравнение $t_2^2 - \left(\frac{2h}{gt_1} - t_1 \right) t_2 - \frac{2h}{g} = 0$. Условию задачи удовлетворяет положительный корень.

$$\text{О т в е т. } t_2 = \frac{2h}{gt_1}.$$

1.1.40. Дождевальная установка разбрызгивает воду, направляя водяные капли во все стороны с одинаковой скоростью. Какова площадь S орошаемого ею участка, если максимальная высота подъема капель $h = 1$ м? Считать, что капли воды начинают движение непосредственно от поверхности земли. Сопротивление воздуха не учитывать.

Р е ш е н и е. Для решения задачи воспользуемся известными из кинематики криволинейного движения формулами для максимальной высоты подъема и дальности полета тела, брошенного под углом α к горизонту:

$H = \frac{v_0^2}{2g} \sin^2 \alpha$, $L = \frac{v_0^2}{g} \sin 2\alpha$. Максимальной высоты h достигают капли, вылетающие вертикально. Следовательно, начальная скорость капель $v_0 = \sqrt{2gh}$. Максимальная дальность полета капель, имеющих такую начальную скорость, достигается при $\alpha = 45^\circ$ и составляет величину $L = \frac{v_0^2}{g} = 2h$. Поскольку площадь орошаемого участка равна $S = \pi L^2$, откуда получаем: $S = 4\pi h^2 \approx 12,6 \text{ м}^2$.

О т в е т. $S = 12,6 \text{ м}^2$.

1.1.41. При поливе садового участка наконечник водопроводного шланга расположили на высоте $h = 0,8 \text{ м}$ над поверхностью земли, направив струю воды вверх под углом $\alpha = 30^\circ$ к горизонту. Найти массу m воды, содержащейся в отрезке струи от наконечника шланга до поверхности земли. Скорость воды, бьющей из шланга, $v_0 = 6 \text{ м/с}$, внутреннее сечение наконечника шланга $S = 3 \text{ см}^2$, плотность воды $\rho = 10^3 \text{ кг/м}^3$. Ускорение свободного падения принять $g = 10 \text{ м/с}^2$.

Р е ш е н и е. Расход воды, определяемый как масса воды, вытекающей из шланга в единицу времени, равен $\mu = \rho S v_0$. Поэтому масса воды, находящейся в данный момент в воздухе, может быть найдена из выражения: $m = \mu \tau = \rho S v_0 \tau$, где τ — время движения частицы воды в струе от вылета из шланга до падения на землю. Выбрав начало координат на поверхности земли и направив ось Oy вверх, имеем для движения частицы воды по вертикали кинематическое уравнение: $y(\tau) = h + v_0 \tau \sin \alpha - \frac{g\tau^2}{2} = 0$. Положительный корень этого уравнения равен $\tau = \frac{1}{g} \left[v_0 \sin \alpha + \sqrt{v_0^2 \sin^2 \alpha + 2gh} \right]$. Подставляя найденное τ в выражение для массы воды, получаем: $m = \frac{\rho S v_0}{g} \left[v_0 \sin \alpha + \sqrt{v_0^2 \sin^2 \alpha + 2gh} \right] \approx 1,44 \text{ кг}$.

О т в е т. $m \approx 1,44 \text{ кг}$.

1.1.42. Маленький шарик, подвешенный на нити длиной $l = 1 \text{ м}$, отклоняют от положения равновесия так, что нить составляет с вертикалью угол $\alpha = 60^\circ$, и отпускают без начальной скорости. В момент, когда шарик проходит положение равновесия, нить обрывается. Найти угол β , который составляет с вертикалью скорость шарика в момент падения на пол, если расстояние от точки подвеса нити до пола $h = 2,5 \text{ м}$.

Р е ш е н и е. Для нахождения скорости шарика v_0 в момент, когда он проходит положение равновесия, воспользуемся законом сохранения механической энергии: $mgl(1 - \cos \alpha) = \frac{mv_0^2}{2}$, откуда $v_0 = \sqrt{2gl(1 - \cos \alpha)}$. Эта скорость, направленная горизонтально, является начальной для последующего свободного падения шарика. Горизонтальная проекция скорости шарика $v_x = v_0$

при падении шарика остается неизменной, а вертикальная проекция возрастает и становится к концу падения равной $v_y = \sqrt{2g(l-h)}$. Искомый угол

$$\beta = \operatorname{arctg} \frac{v_x}{v_y} = \operatorname{arctg} \sqrt{\frac{l(1-\cos\alpha)}{h-l}} = \operatorname{arctg} \frac{1}{\sqrt{3}} = 30^\circ.$$

О т в е т. $\beta = 30^\circ$.

1.1.43. Скорость снаряда при вылете из ствола пушки равна $v_0 = 500$ м/с. На какой максимальной высоте h снаряд может поразить цель, если расстояние от пушки до цели по горизонтали составляет $l = 1$ км? Ускорение свободного падения принять $g = 10$ м/с². Сопротивление воздуха не учитывать. При решении задачи в общем виде считать, что $v_0 > \sqrt{gl}$.

Р е ш е н и е. В системе координат, изображенной на рисунке, уравнение траектории снаряда имеет вид: $y = (\operatorname{tg}\alpha) \cdot x - \frac{g}{2v_0^2 \cos^2 \alpha} \cdot x^2 = Zx - \frac{g}{2v_0^2} (1 + Z^2)x^2$,

где $Z = \operatorname{tg}\alpha$. По условию задачи нужно найти максимальное значение y при фиксированных x и v_0 . Это можно сделать, например, дифференцируя уравнение траектории по Z и приравнивая производную

нулю: $y' = x - \frac{g}{v_0^2} x^2 Z = 0$. Можно также, используя тождественные преобразования,

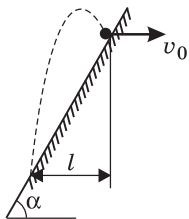
привести уравнение траектории к виду $y = \left(\frac{v_0^2}{2g} - \frac{gx^2}{2v_0^2} \right) - \frac{gx^2}{2v_0^2} \left(Z - \frac{v_0^2}{gx} \right)^2$. Видно,

что максимальное значение y достигается при $Z = \frac{v_0^2}{gx}$ и составляет величину

$$y_{\max} = \frac{v_0^2}{2g} - \frac{gx^2}{2v_0^2}. \text{ Полагая } x = l, \text{ получаем: } h = \frac{v_0^2}{2g} - \frac{gl^2}{2v_0^2} = 12,48 \text{ км.}$$

О т в е т. $h = 12,48$ км.

1.1.44. В гладкую наклонную плоскость, составляющую угол α ($\alpha > 45^\circ$) с горизонтом, ударяется маленький шарик. Непосредственно перед ударом скорость шарика направлена горизонтально. После упругого удара шарик вновь падает на наклонную плоскость в точке, расположенной ниже точки удара и отстоящей от нее по горизонтали на расстояние l . Какова скорость v_0 шарика до удара? Ускорение свободного падения g .



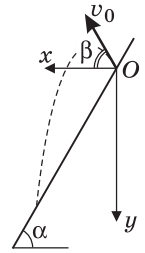
Р е ш е н и е. При упругом ударе о наклонную плоскость составляющая скорости шарика, параллельная плоскости, не изменяется, а составляющая, перпендикулярная плоскости, оставаясь той же по величине, меняет направление на противоположное. Следовательно, после удара шарик отскочит от наклонной плоскости со скоростью v_0 под углом $\beta = \pi - 2\alpha$ к горизонту. Кинематиче-

ские уравнения движения шарика в системе координат, изображенной на рисунке, имеют вид: $x = v_0(\cos\beta)t$, $y = -v_0(\sin\beta)t + \frac{gt^2}{2}$.

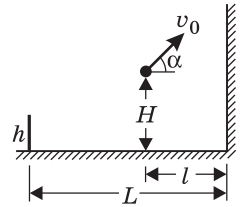
В точке падения шарика на плоскость выполняются соотношения: $x = l$, $y = l \operatorname{tg} \alpha$. Исключая из записанных выражений время,

$$\text{получаем: } v_0 = \sqrt{\frac{gl}{2\cos^2(\pi - 2\alpha)[\operatorname{tg} \alpha + \operatorname{tg}(\pi - 2\alpha)]}} = \sqrt{\frac{gl \cos \alpha}{2\sin \alpha |\cos 2\alpha|}}.$$

$$\text{О т в е т. } v_0 = \sqrt{\frac{gl \cos \alpha}{2\sin \alpha |\cos 2\alpha|}}.$$



1.1.45. Теннисист бьет мячом с высоты $H = 2$ м в направлении вертикальной гладкой стенки, находящейся на расстоянии $l = 2$ м от него. Начальная скорость мяча лежит в плоскости, перпендикулярной стенке, и направлена под углом $\alpha = 45^\circ$ к горизонту. Позади теннисиста на расстоянии $L = 4$ м от стенки расположено параллельно ей ограждение высотой $h = 1$ м. При какой максимальной начальной скорости мяча v_0 он после упругого удара о стенку не перелетит через ограждение? Размером мяча пренебречь, ускорение свободного падения принять равным $g = 10$ м/с².



Р е ш е н и е. Траектория мяча, соответствующая максимальной скорости, удовлетворяющей условию задачи, изображена на рисунке. При упругом ударе о стенку вертикальная составляющая скорости мяча не изменяется, а горизонтальная, оставаясь той же по величине, меняет направление на противоположное. Зависимость высоты мяча над поверхностью земли

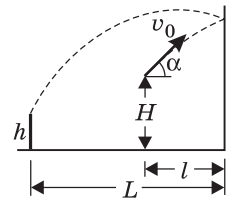
имеет вид: $y = H + v_0(\sin\alpha)t - \frac{gt^2}{2}$. Время полета мяча до ограждения

$$t_0 = \frac{L+l}{v_0 \cos \alpha}.$$

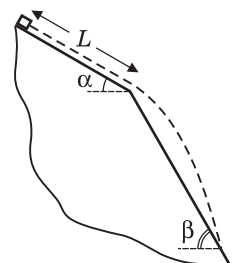
Мяч не перелетит через ограждение, если $y(t_0) \leq h$. Исключая из записанных выражений время,

$$\text{получаем: } v_0 = \frac{L+l}{\cos \alpha} \sqrt{\frac{g}{2[(H-h) + (L+l)\operatorname{tg} \alpha]}} \approx 7,17 \text{ м/с.}$$

$$\text{О т в е т. } v_0 \approx 7,17 \text{ м/с.}$$

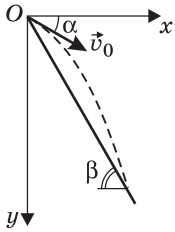


1.1.46. Крыша дома состоит из двух плоских частей, образующих с горизонтом углы $\alpha = 30^\circ$ и $\beta = 60^\circ$. На расстоянии $L = 80$ см от места излома крыши на ее верхнюю часть помещают маленький кубик и отпускают без начальной скорости. Соскользнув с верхней части крыши, в месте излома кубик отрывается от нее и некоторый путь проходит в воздухе. Определить время τ , в течение которого кубик будет находиться в полете перед тем, как коснуться нижней части крыши. Коэффициент трения между кубиком и поверхностью крыши $\mu = \sqrt{3}/6 \approx 0,29$.



Ускорение свободного падения принять $g = 10 \text{ м/с}^2$, сопротивление воздуха не учитывать.

Решение. По закону изменения механической энергии кубика при его движении по верхней части крыши: $\frac{mv_0^2}{2} = mgL\sin\alpha - \mu mgL\cos\alpha$. От-



сюда скорость кубика в момент отрыва в месте излома: $v_0 = \sqrt{2gL(\sin\alpha - \mu\cos\alpha)}$. Эта скорость является начальной при свободном падении кубика. В системе координат, изображенной на рисунке, кинематические уравнения движения кубика в воздухе имеют вид: $x(t) = v_0 t \cos\alpha$,

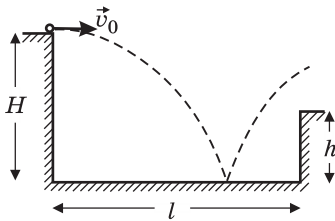
$y(t) = v_0 t \sin\alpha + \frac{gt^2}{2}$. В точке удара кубика о нижнюю часть

крыши выполняется соотношение $y(\tau) = x(\tau)\text{tg}\beta$, где τ — время полета кубика. Отсюда $\tau = \frac{2v_0}{g}(\text{tg}\beta - \text{tg}\alpha)\cos\alpha$. Подставляя сюда v_0 ,

получаем: $\tau = 2(\text{tg}\beta - \text{tg}\alpha)\cos\alpha\sqrt{\frac{2L(\sin\alpha - \mu\cos\alpha)}{g}} = 0,4 \text{ с}$.

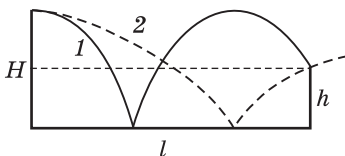
Отв. $\tau = 0,4 \text{ с}$.

1.1.47. С края бетонированного желоба, сечение которого изображено на рисунке, бросают в горизонтальном направлении маленький шарик.



Какие значения может иметь величина начальной скорости шарика v_0 для того, чтобы он, ударившись один раз о дно желоба, выпрыгнул на его противоположную сторону? При расчетах положить $H = 0,9 \text{ м}$, $h = 0,5 \text{ м}$, $l = 2 \text{ м}$. Ускорение свободного падения $g = 9,8 \text{ м/с}^2$. Удар шарика о дно желоба считать абсолютно упругим, сопротивлением воздуха пренебречь.

Решение. Траектории 1 и 2, изображенные на рисунке, соответствуют наименьшей v_1 и наибольшей v_2 скоростям шарика, удовлетворяющим условию задачи. Искомая скорость v_0 очевидно лежит в диапазоне $v_1 \leq v_0 \leq v_2$. Обозначим через $t_1 = \sqrt{2H/g}$ и $t_2 = \sqrt{2(H-h)/g}$ времена падения шарика с высоты H и с высоты $(H-h)$ соответственно. Движение шарика по траектории 1 занимает время $\tau_1 = 2t_1 + t_2 = \sqrt{\frac{2}{g}}[2\sqrt{H} + \sqrt{H-h}]$,



а по траектории 2 — время $\tau_2 = t_1 + (t_1 - t_2) = \sqrt{\frac{2}{g}}[2\sqrt{H} - \sqrt{H-h}]$. Поскольку $v_1\tau_1 = l$, $v_2\tau_2 = l$, имеем $v_1 = \frac{l}{2t_1 + t_2}$, $v_2 = \frac{l}{2t_1 - t_2}$.

Объединяя записанные выражения, получаем: $\frac{l\sqrt{g}}{\sqrt{2(2\sqrt{H} + \sqrt{H-h})}} \leq v_0 \leq$
 $\leq \frac{l\sqrt{g}}{\sqrt{2(2\sqrt{H} - \sqrt{H-h})}}$, или $1,75 \text{ м/с} \leq v_0 \leq 3,5 \text{ м/с}$.

Ответ. $1,75 \text{ м/с} \leq v_0 \leq 3,5 \text{ м/с}$.

1.1.48. Преследуя добычу со скоростью $v = 108 \text{ км/ч}$, гепард движется по прямой горизонтальной тропе прыжками длиной $l = 8 \text{ м}$. Внезапно на пути гепарда встречается овраг глубиной $H = 4/3 \text{ м}$. Отталкиваясь от края оврага точно так же, как и при движении по тропе, гепард прыгает в овраг. Найти горизонтальное перемещение гепарда L при этом прыжке. Ускорение свободного падения принять равным $g = 10 \text{ м/с}^2$, сопротивление воздуха не учитывать, дно оврага считать горизонтальным.

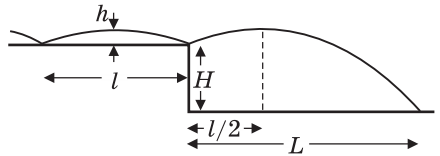
Решение. Длительность прыжка гепарда при движении по горизонтальной тропе равна $\tau = \frac{l}{v}$. Следовательно, высота прыжка над поверхностью тропы составляет

$h = \frac{g(\tau/2)^2}{2} = \frac{gl^2}{8v^2}$. Горизонтальное смещение гепарда при прыжке в овраг равно (см. рисунок):

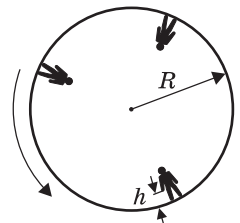
$L = \frac{l}{2} + v\tau_1$, где $\tau_1 = \sqrt{\frac{2(H+h)}{g}}$ — время свободного падения с высоты $(H+h)$.

Объединяя записанные выражения, получаем: $L = \frac{l}{2} \left(1 + \sqrt{1 + \frac{8Hv^2}{gl^2}} \right) = 20 \text{ м}$.

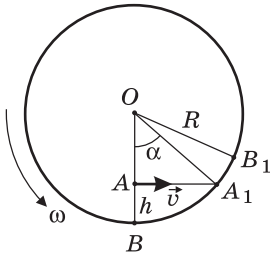
Ответ. $L = 20 \text{ м}$.



1.1.49. Космический корабль, имеющий форму кругового цилиндра, совершает межпланетный перелет с постоянной скоростью. Он приведен во вращение вокруг продольной оси для создания на борту искусственной тяжести. При этом «полом» для космонавтов является внутренняя поверхность корпуса корабля. Космонавт, стоящий на полу, выпускает из руки небольшой предмет. На каком расстоянии l от ног космонавта, измеренном вдоль пола, этот предмет упадет на пол? Радиус корпуса корабля R , высота, с которой падает предмет, h . Влиянием всех небесных тел и силой притяжения предмета к кораблю пренебречь. Сопротивление воздуха не учитывать. Угловая скорость вращения корабля постоянна.



Решение. Рассмотрим движение предмета в невращающейся системе отсчета, связанной с кораблем (см. рисунок). В этой системе предмет, выпущенный из руки в точке A , имеет скорость $v = \omega(R-h)$, направленную перпендикулярно к OA . Поскольку сопротивление воздуха и влияние небесных тел пренебрежимо малы, предмет движется прямолинейно и равномерно

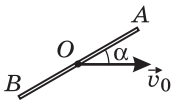


и за время $\tau = \frac{AA_1}{v}$ достигает пола в точке A_1 . Точка B (подошвы ног космонавта) за это время переместится в положение B_1 . Обозначив через ω угловую скорость вращения корабля, находим, что длина дуги $\cup BB_1$ равна: $\cup BB_1 = \omega R t = \omega R \frac{AA_1}{\omega(R-h)} = R \operatorname{tg} \alpha$.

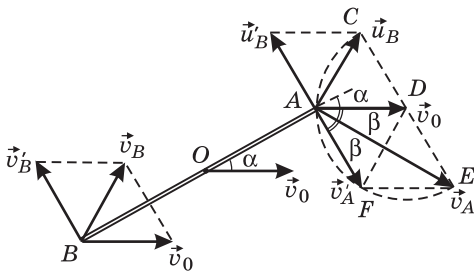
Поскольку длина дуги $\cup BA_1 = R\alpha$, искомое расстояние (длина дуги $\cup A_1B_1$) равно: $\cup A_1B_1 = \cup BB_1 - \cup BA_1 = R(\operatorname{tg} \alpha - \alpha)$.

О т в е т. $l = R(\operatorname{tg} \alpha - \alpha)$, где $\alpha = \arccos \frac{R-h}{R}$.

1.1.50. Стержень AB движется в горизонтальной плоскости. В некоторый момент времени скорость его центра составляет угол $\alpha = 30^\circ$ с направлением стержня, величина скорости точки B равна $v_B = 2$ м/с, а скорость точки A перпендикулярна к скорости точки B . Найдите величину скорости v_0 , с которой движется центр стержня в этот момент времени.



Р е ш е н и е. В неподвижной системе отсчета стержень совершает сложное движение, вращаясь вокруг движущегося центра. В поступательно движущейся системе отсчета, связанной с центром стержня, он только вращается, поэтому относительные скорости его концов \vec{v}'_A и \vec{v}'_B равны друг другу по величине, противоположно направлены и перпендикулярны стержню. Пусть стержень вращается по часовой стрелке. Построение скоростей \vec{v}_A и \vec{v}_B концов стержня в неподвижной системе для этого случая



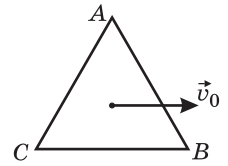
приведено на рисунке, где через \vec{u}'_B и \vec{u}_B обозначены перенесенные в точку A векторы \vec{v}'_B и \vec{v}_B соответственно. Проведем через точки C , A и E окружность. Поскольку угол между векторами \vec{v}_A и \vec{u}_B по условию равен 90° и длины отрезков CD и DE равны друг другу, центр этой окружности лежит в точке D . Следовательно,

$v_0 = v'_A = u'_B$ и фигура $ADEF$ представляет собой ромб. Из рисунка видно, что $u_B = v_B = 2v_0 \sin \beta$, где $\beta = \frac{\pi}{4} - \frac{\alpha}{2}$. Ответ, соответствующий вращению стержня по часовой стрелке, имеет вид: $v_{01} = \frac{v_B}{2 \sin \left(\frac{\pi}{4} - \frac{\alpha}{2} \right)} = 2$ м/с. Если стержень

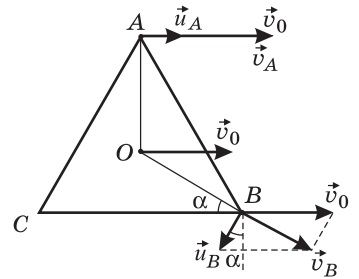
вращается против часовой стрелки, то: $v_{02} = \frac{v_B}{2 \cos \left(\frac{\pi}{4} - \frac{\alpha}{2} \right)} \approx 1,15$ м/с.

О т в е т. При вращении стержня по часовой стрелке $v_0 = 2$ м/с, против часовой стрелки — $v_0 \approx 1,15$ м/с.

1.1.51. Равносторонний треугольник ABC скользит плашмя по горизонтальному столу. Известно, что в некоторый момент времени точка A имеет скорость $v_1 = \sqrt{6}$ м/с $\approx 2,45$ м/с, точка B имеет скорость $v_2 = 1,5$ м/с, а скорость центра треугольника направлена параллельно стороне CB . Какова величина скорости v_0 центра треугольника в этот момент времени?



Решение. В поступательно движущейся системе отсчета, связанной с центром треугольника, он совершает вращательное движение, причем скорости его вершин $\vec{u}_A, \vec{u}_B, \vec{u}_C$ относительно центра равны друг другу по величине ($u_A = u_B = u_C \equiv u$) и каждая из них перпендикулярна линии, проведенной к соответствующей вершине из центра треугольника. Согласно закону сложения скоростей, скорости вершин A и B в неподвижной системе отсчета определяются векторными равенствами: $\vec{v}_A \equiv \vec{v}_1 = \vec{v}_0 + \vec{v}_A$, $\vec{v}_B \equiv \vec{v}_2 = \vec{v}_0 + \vec{v}_B$.



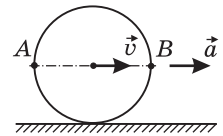
Модули этих скоростей, как видно из рисунка, равны $v_1 = v_0 + u$, $v_2 = \sqrt{(u \cos \alpha)^2 + (v_0 - u \sin \alpha)^2}$, где $\alpha = 30^\circ$. Из последнего равенства находим $v_2^2 = v_0^2 + u^2 - 2uv_0 \sin \alpha = v_0^2 + u^2 - uv_0$. Подставляя в эту формулу выражение $u = v_1 - v_2$, полу-

чим уравнение относительно v_0 , а именно, $v_0^2 - v_1 v_0 + \frac{1}{3}(v_1^2 - v_2^2) = 0$. Корни

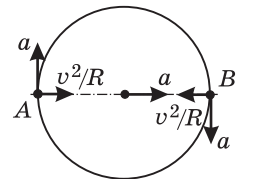
этого уравнения $v_0 = \frac{v_1 \pm \sqrt{(4v_2^2 - v_1^2)/3}}{2} = \frac{\sqrt{6} \pm 1}{2}$ м/с дают два значения скорости центра треугольника, удовлетворяющие условию задачи: $v_{01} \approx 1,72$ м/с, $v_{02} \approx 0,72$ м/с.

Ответ. $v_{01} \approx 1,72$ м/с, $v_{02} \approx 0,72$ м/с.

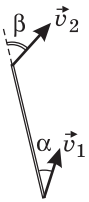
1.1.52. Колесо радиуса R катится без проскальзывания по горизонтальной дороге с ускорением a . Какие ускорения относительно неподвижной системы отсчета имеют точки A и B , расположенные на горизонтальном диаметре колеса в тот момент, когда скорость центра колеса равна v ?



Решение. В системе отсчета, связанной с центром колеса, все точки на ободе движутся по окружности радиуса R . Так как качение колеса происходит без проскальзывания, модуль тангенциального ускорения точек на ободе $a_\tau = a$. Модуль нормального ускорения этих точек $a_n = v^2/R$. При переходе к неподвижной системе отсчета к ускорению каждой точки нужно прибавить ускорение центра колеса.



Ответ. $a_A = \sqrt{a^2 + \left(a + \frac{v^2}{R}\right)^2}$, $a_B = \sqrt{a^2 + \left(a - \frac{v^2}{R}\right)^2}$.



1.1.53. Стержень скользит по инерции по гладкому горизонтальному столу. В некоторый момент времени в неподвижной системе отсчета скорости концов стержня составляют с направлением стержня углы α и β . Какой угол γ образует со стержнем в этот момент скорость его центра?

Решение. Из постоянства длины стержня следует, что $v_1 \cos \alpha = v_2 \cos \beta = v_{\text{ц}} \cos \gamma$, где v_1 , v_2 и $v_{\text{ц}}$ — модули скоростей концов стержня и скорости его центра. В системе отсчета, движущейся поступательно со скоростью $\vec{v}_{\text{ц}}$, стержень вращается вокруг центра, причем скорости его концов равны по модулю и направлены противоположно. Из рисунка видно, что $v_{\text{ц}} \sin \gamma - v_{\text{вр}} = v_1 \sin \alpha$, $v_{\text{ц}} \sin \gamma + v_{\text{вр}} = v_2 \sin \beta$. Объединяя выписанные соотношения, получаем, что $\sin \gamma = \frac{v_1 \sin \alpha + v_2 \sin \beta}{2v_{\text{ц}}} = \frac{\sin \alpha \cos \gamma}{2 \cos \alpha} + \frac{\sin \beta \cos \gamma}{2 \cos \beta}$. Отсюда следу-

ет: $\text{tg } \gamma = \frac{1}{2}(\text{tg } \alpha + \text{tg } \beta)$.

Ответ. $\text{tg } \gamma = \frac{1}{2}(\text{tg } \alpha + \text{tg } \beta)$.

1.2. Динамика

1.2.1. Воздушный шар опускается с ускорением a , направленным вниз. Какой массы m_1 балласт надо сбросить, чтобы шар начал двигаться с тем же по модулю ускорением, направленным вверх? Начальная масса шара с балластом равна m . Сопротивлением воздуха движению шара пренебречь.

Решение. Воздушный шар движется под действием двух сил: силы тяжести, направленной вниз, и архимедовой силы, направленной вверх. Поскольку объем балласта намного меньше, чем объем шара и оставшегося груза, архимедова сила практически не изменяется после выбрасывания балласта. Записывая уравнения движения шара в проекции на направление его ускорения, для указанных в условии случаев имеем: $ma = mg - F_A$, $(m - m_1)a = F_A - (m - m_1)g$. Исключая отсюда архимедову силу, получаем:

$$m_1 = \frac{2ma}{g + a}.$$

Ответ. $m_1 = \frac{2ma}{g + a}$.

1.2.2. Брусок массой $m = 0,51$ кг, лежащий на горизонтальной плоскости, совершает прямолинейное равноускоренное движение под действием горизонтально направленной силы $F = 5$ Н. Если увеличить массу бруска в $\alpha = 2$ раза, то его ускорение под действием той же силы уменьшится в $\beta = 3$ раза. Пользуясь этими данными, вычислить коэффициент трения μ бруска о плоскость. Считать, что сила трения скольжения не зависит от скорости. Ускорение свободного падения принять $g = 10$ м/с².

Решение. Уравнения движения бруска в первом и во втором случаях имеют вид: $ma = F - \mu mg$, $\alpha m \frac{a}{\beta} = F - \mu \cdot \alpha mg$. Исключая отсюда a , получаем: $\mu = \frac{(\beta - \alpha)}{\alpha(\beta - 1)} \cdot \frac{F}{mg} \approx 0,25$.

О т в е т. $\mu \approx 0,25$.

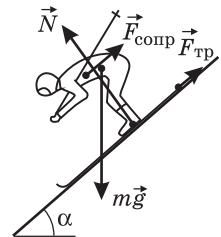
1.2.3. Автомобиль трогается с места с ускорением $a_1 = 2 \text{ м/с}^2$. При скорости $v = 50 \text{ км/ч}$ ускорение автомобиля стало равным $a_2 = 1 \text{ м/с}^2$. С какой установившейся скоростью v_0 будет двигаться автомобиль, если сила сопротивления пропорциональна скорости? Силу тяги двигателя при движении автомобиля считать постоянной.

Решение. Автомобиль движется под действием двух сил: силы трения покоя, приложенной к его ведущим колесам со стороны дорожного покрытия, и силы сопротивления воздуха. Первая из этих сил возникает при передаче крутящего момента от двигателя к ведущим колесам и обычно называется силой тяги двигателя. По условию задачи, эта сила постоянна. Вторая из сил — это сила вязкого трения, пропорциональная скорости автомобиля. Пусть F — сила тяги двигателя автомобиля, m — масса автомобиля, а k — коэффициент вязкого трения. Уравнения движения автомобиля имеют вид: $ma_1 = F$ (когда автомобиль трогается), $ma_2 = F - kv$ (при скорости автомобиля v), $0 = F - kv_0$ (при установившейся скорости v_0). Исключая из этих уравнений F , m и k , находим: $v_0 = \frac{va_1}{a_1 - a_2} = 100 \text{ км/ч}$.

О т в е т. $v_0 = 100 \text{ км/ч}$.

1.2.4. Начальный участок трассы скоростного спуска, расположенный вниз по склону горы с углом наклона $\alpha = 45^\circ$ к горизонту, горнолыжник прошел, не отталкиваясь палками. Какую максимальную скорость v мог развить спортсмен на этом участке, если его масса $m = 70 \text{ кг}$? Коэффициент трения лыж о снег $\mu = 0,1$, сила сопротивления воздуха пропорциональна квадрату скорости: $F = \beta v^2$, где постоянный коэффициент $\beta = 0,9 \text{ кг/м}$. Ускорение свободного падения принять $g = 10 \text{ м/с}^2$.

Решение. Горнолыжник, движущийся по наклонному участку трассы, находится под действием сил, изображенных на рисунке, где $m\vec{g}$ — сила тяжести, \vec{N} — нормальная составляющая силы реакции склона; $\vec{F}_{\text{тр}}$ — сила трения лыж о снег; $\vec{F}_{\text{сопр}}$ — сила сопротивления воздуха. Поскольку, по условию задачи, лыжник движется поступательно, можно принять его за материальную точку и считать, что точки приложения всех перечисленных сил совпадают. В проекции на координатную ось, направленную вниз по склону, уравнение движения лыжника имеет вид: $ma = mg \sin \alpha - F_{\text{тр}} - F_{\text{сопр}}$, где a — ускорение лыжника; $F_{\text{тр}} = \mu N = \mu mg \cos \alpha$; $F_{\text{сопр}} = \beta v^2$. При достижении максимальной скорости a обращается

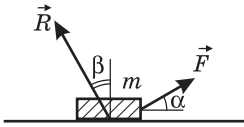


в нуль, следовательно, $mg \sin \alpha - \mu mg \cos \alpha - \beta v_{\max}^2 = 0$. Отсюда получаем:

$$v_{\max} = \sqrt{\frac{mg(\sin \alpha - \mu \cos \alpha)}{\beta}} \approx 22,3 \text{ м/с.}$$

О т в е т. $v_{\max} \approx 22,3 \text{ м/с.}$

1.2.5. К телу массой m приложена сила \vec{F} , под действием которой тело движется по горизонтальной поверхности равномерно. Определите угол β , который составляет с вертикалью равнодействующая \vec{R} сил, действующих на тело со стороны поверхности, если сила \vec{F} составляет с горизонтом угол α . Ускорение свободного падения g .



Решение. Поскольку тело движется равномерно, из второго закона Ньютона вытекают равенства: $F \cos \alpha - F_{\text{тр}} = 0$, $F \sin \alpha + N - mg = 0$. Здесь $F_{\text{тр}}$ — модуль силы трения, N — модуль силы нормального давления. В то же время, $F_{\text{тр}} = R \sin \beta$, $N = R \cos \beta$. Объединяя записанные выражения, получаем:

$$\beta = \arctg \left(\frac{\cos \alpha}{mg / F - \sin \alpha} \right).$$

О т в е т. $\beta = \arctg \left(\frac{\cos \alpha}{mg / F - \sin \alpha} \right).$

1.2.6. По наклонной плоскости с углом наклона $\alpha = 15^\circ$ тело движется вниз равномерно. С каким ускорением a будет двигаться это тело, если угол наклона плоскости увеличить до величины $\beta = 30^\circ$? Ускорение свободного падения принять $g = 10 \text{ м/с}^2$.

Решение. В проекции на направление наклонной плоскости уравнения движения тела имеют вид: $mg \sin \alpha - \mu mg \cos \alpha = 0$ (при равномерном движении), $ma = mg \sin \beta - \mu mg \cos \beta$ (при ускоренном движении), где a — ускорение тела; μ — коэффициент трения. Из первого уравнения следует, что $\mu = \text{tg } \alpha$. Тогда: $a = g(\sin \beta - \text{tg } \alpha \cos \beta) = g(2 - \sqrt{3}) \approx 2,68 \text{ м/с}^2$.

О т в е т. $a \approx 2,68 \text{ м/с}^2$.

1.2.7. За какое время τ тело соскользнет с высоты h по наклонной плоскости, составляющей с горизонтом угол α , если по плоскости, наклоненной к горизонту под углом $\beta < \alpha$, это тело движется равномерно? Коэффициент трения в обоих случаях один и тот же. Ускорение свободного падения g .

Решение. В проекции на направление наклонной плоскости уравнения движения тела имеют вид: $ma = mg \sin \alpha - \mu mg \cos \alpha$ (при ускоренном движении), $mg \sin \beta - \mu mg \cos \beta = 0$ (при равномерном движении), где a — ускорение тела, μ — коэффициент трения. Из этих уравнений следует, что $\mu = \text{tg } \beta$, $a = g(\sin \alpha - \text{tg } \beta \cos \alpha)$. Учитывая, что путь, пройденный телом вдоль на-

клонной плоскости, $l = h / \sin \alpha$, а время движения $\tau = \sqrt{2l/a}$, получаем:

$$\tau = \frac{1}{\sin \alpha} \sqrt{\frac{2h}{g} \cdot \frac{1}{1 - \operatorname{tg} \beta \operatorname{ctg} \alpha}}.$$

Ответ. $\tau = \frac{1}{\sin \alpha} \sqrt{\frac{2h}{g} \cdot \frac{1}{1 - \operatorname{tg} \beta \operatorname{ctg} \alpha}}.$

1.2.8. Санки можно удерживать на горке с углом наклона $\alpha = 30^\circ$ минимальной силой $F = 60$ Н, направленной вдоль горки. Предоставленные самим себе, они скатываются с ускорением $a = 3,9$ м/с². Какую минимальную силу F_1 , направленную вдоль горки, нужно приложить к санкам, чтобы тянуть их в горку с постоянной скоростью? Ускорение свободного падения принять $g = 10$ м/с².

Решение. Пусть m — масса санок, а μ — коэффициент трения между санками и горкой. В проекции на направление горки имеем следующие равенства: $F = mgs \sin \alpha - \mu mg \cos \alpha$ (когда санки удерживают на горке минимальной силой), $ma = mgs \sin \alpha - \mu mg \cos \alpha$ (когда санки скатываются с горки), $F_1 = mgs \sin \alpha + \mu mg \cos \alpha$ (когда санки равномерно тянут вверх).

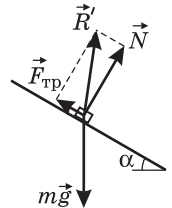
Исключая отсюда m и μ , получаем: $F_1 = F \left(2 \frac{g}{a} \sin \alpha - 1 \right) = 90$ Н.

Ответ. $F_1 = 90$ Н.

1.2.9. Брусек массой m находится на наклонной плоскости, составляющей с горизонтом угол α . Определить величину силы R , с которой брусок действует на плоскость, если коэффициент трения между ними μ , а ускорение свободного падения g .

Решение. По третьему закону Ньютона, искомая сила равна по величине и противоположна по направлению силе \vec{R}' , с которой плоскость действует на брусок. Разложим \vec{R}' на две составляющие: силу \vec{N} ,

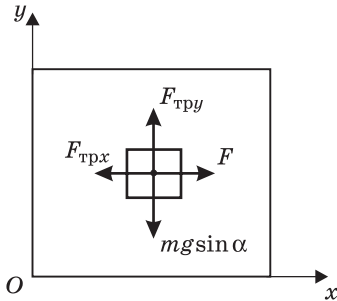
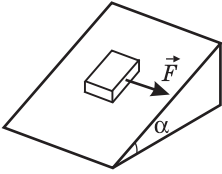
перпендикулярную наклонной плоскости, и силу трения $\vec{F}_{\text{тр}}$, параллельную наклонной плоскости (см. рисунок). В проекции на нормаль к наклонной плоскости сумма сил, действующих на брусок, равна нулю: $N = mg \cos \alpha$. Величина второй составляющей силы \vec{R}' зависит от коэффициента трения между бруском и плоскостью. Поскольку в условии задачи не сказано, покоится ли брусок на наклонной плоскости или скользит по ней, необходимо рассмотреть оба этих случая по отдельности. Как известно, предоставленное самому себе тело покоится на наклонной плоскости, если коэффициент трения удовлетворяет неравенству: $\mu \geq \operatorname{tg} \alpha$. В этом случае сила трения покоя определяется из условия равновесия тела: $F_{\text{тр}} = mgs \sin \alpha$. Если же $\mu < \operatorname{tg} \alpha$, то между бруском и плоскостью действует сила трения скольжения: $F_{\text{тр}} = \mu mg \cos \alpha$. Учитывая, что $R = R' = \sqrt{N^2 + F_{\text{тр}}^2}$,



получаем: $R = mg \sqrt{1 + \mu^2} \cos \alpha$ при $\mu < \operatorname{tg} \alpha$; $R = mg$ при $\mu \geq \operatorname{tg} \alpha$.

Ответ. $R = mg \sqrt{1 + \mu^2} \cos \alpha$ при $\mu < \operatorname{tg} \alpha$; $R = mg$ при $\mu \geq \operatorname{tg} \alpha$.

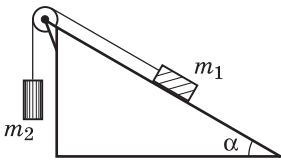
1.2.10. Тело массой $m = 1$ кг покоится на шероховатой поверхности, составляющей с горизонтальной плоскостью угол $\alpha = 30^\circ$. С какой минимальной силой F , направленной горизонтально вдоль линии пересечения плоскостей, нужно подействовать на тело, чтобы стронуть его с места? Коэффициент трения тела о плоскость $\mu = 0,7$. Ускорение свободного падения принять $g = 10$ м/с².



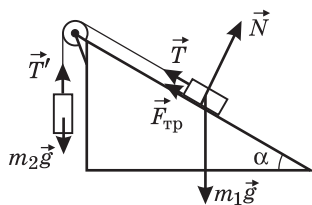
Решение. Пусть сила \vec{F} , приложенная к телу, недостаточна, чтобы сдвинуть его с места. В плоскости, на которой покоится тело, на него действуют силы, изображенные на рисунке, где через $F_{\text{тpx}}$ и $F_{\text{тpy}}$ обозначены проекции силы трения покоя на оси Ox и Oy соответственно. Из условий равновесия тела находим, что $F_{\text{тpx}} = F$, $F_{\text{тpy}} = mgsin\alpha$. Согласно закону сухого трения, модуль силы трения покоя $F_{\text{тр}} = \sqrt{F_{\text{тpx}}^2 + F_{\text{тpy}}^2} \leq \mu N = \mu mg \cos\alpha$. Отсюда находим: $F \geq mg\sqrt{\mu^2 \cos^2\alpha - \sin^2\alpha}$.

Ответ. $F \geq mg\sqrt{\mu^2 \cos^2\alpha - \sin^2\alpha}$.

1.2.11. Два тела массами $m_1 = 0,4$ кг и $m_2 = 0,1$ кг соединены невесомой и нерастяжимой нитью, перекинутой через невесомый блок. Ось блока укреплена на неподвижной наклонной плоскости, составляющей с горизонтом угол $\alpha = 30^\circ$. При каком минимальном значении коэффициента трения μ тела m_1 и m_2 будут находиться в покое? Трением в оси блока пренебречь.



Решение. Тела находятся в покое под действием сил, изображенных на рисунке, где $m_1\vec{g}$ и $m_2\vec{g}$ — силы тяжести, \vec{N} — нормальная составляющая силы реакции наклонной плоскости, $\vec{F}_{\text{тр}}$ — сила трения, \vec{T} и \vec{T}' — силы натяжения нити, причем $T' = T$. Условие равновесия тела массой m_2 имеет вид: $m_2g - T = 0$, откуда натяжение нити $T = m_2g$. Условие равновесия тела массой m_1 зависит от направления силы трения покоя $F_{\text{тр}}$. Если трение в системе отсутствует, то равновесие системы достигается при условии $m_1g \sin\alpha - T = 0$, или $m_1 \sin\alpha = m_2$. При $m_1 \sin\alpha > m_2$ тело m_1 будет двигаться вдоль наклонной плоскости вниз, а при $m_1 \sin\alpha < m_2$ — вверх. Поскольку сила трения покоя направлена против перемещения тела, возникающего в отсутствие трения, уравнения равновесия системы можно записать в виде: $m_1g \sin\alpha - F_{\text{тр}} - T = 0$ при $m_1g \sin\alpha > m_2g$, $m_1g \sin\alpha + F_{\text{тр}} - T = 0$



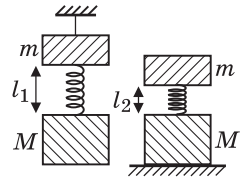
при $m_1g \sin\alpha < m_2g$, $m_1g \sin\alpha + F_{\text{тр}} - T = 0$

при $m_1 g \sin \alpha < m_2 g$. Подставляя максимальное значение силы трения покоя

$$F_{\text{тр}} = \mu N = \mu m g \cos \alpha, \text{ находим: } \mu = \left| \operatorname{tg} \alpha - \frac{m_2}{m_1 \cos \alpha} \right| = \frac{\sqrt{3}}{6} \approx 0,29.$$

Ответ. $\mu \approx 0,29$.

1.2.12. Невесомая пружина скрепляет два груза массами $m = 1$ кг и $M = 3$ кг. Когда эта система подвешена за верхний груз, длина пружины равна $l_1 = 20$ см. Если систему поставить на подставку, длина пружины будет равна $l_2 = 10$ см. Определить длину l_0 ненапряженной пружины.

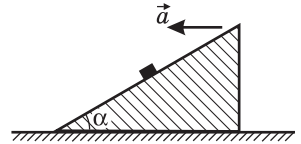


Решение. Условия равновесия грузов в первом случае (когда пружина растянута) и во втором случае (когда пружина сжата) имеют вид соответственно: $Mg = k(l_1 - l_0)$, $mg = k(l_0 - l_2)$. Выражая из этих соотно-

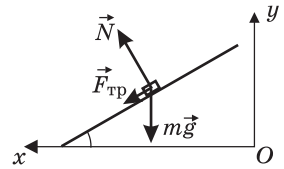
шений l_0 , получаем: $l_0 = \frac{ml_1 + Ml_2}{m + M} = 12,5$ см.

Ответ. $l_0 = 12,5$ см.

1.2.13. Наклонная плоскость, образующая с горизонтом угол $\alpha = 30^\circ$, движется с ускорением \vec{a} , направленным влево, как показано на рисунке. При каких значениях a тело, находящееся на наклонной плоскости, будет скользить вверх вдоль нее? Коэффициент трения между телом и плоскостью $\mu = 0,3$. Ускорение свободного падения принять $g = 10$ м/с².



Решение. Пусть ускорение наклонной плоскости таково, что тело не скользит по ней. Тогда в неподвижной системе отсчета сумма сил, действующих на тело (см. рисунок), сообщает ему ускорение \vec{a} , направленное горизонтально. Если при этом сила трения покоя достигла своего максимального значения $F_{\text{тр}} = \mu N$, то в проекциях на оси Ox и Oy неподвижной системы уравнение движения тела имеет вид: $ma = N \sin \alpha + \mu N \cos \alpha$, $0 = N \cos \alpha - mg - \mu N \sin \alpha$. Решая эту систему, находим значение ускорения, при котором тело не скользит, но сила трения покоя достигает максимальной величины: $a = \frac{\mu + \operatorname{tg} \alpha}{1 - \mu \operatorname{tg} \alpha} g$. Если уско-

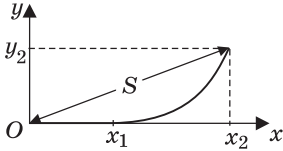


рение наклонной плоскости превышает найденное значение, тело начнет скользить вверх, поскольку сила трения уже не сможет его удерживать. Если же коэффициент трения таков, что $\mu \operatorname{tg} \alpha \geq 1$, тело не будет скользить вверх при любых ускорениях.

Ответ. $a > \frac{\mu + \operatorname{tg} \alpha}{1 - \mu \operatorname{tg} \alpha} g = 10,6$ м/с².

1.2.14. На маленькое тело массой $m = 1$ кг, которое первоначально покоилось, в момент времени $t = 0$ начинает действовать постоянная по величине сила $F = 1$ Н. До момента времени $t_1 = 5$ с сила сохраняет постоянное направление, а в момент t_1 происходит поворот вектора силы на 90° , после чего направление силы не меняется. На какое расстояние S удалится тело от своего начального положения к моменту времени $t_2 = 0t_1$, если на него не действуют никакие другие силы?

Решение. Выберем систему координат, изображенную на рисунке, где ось Ox совпадает с первоначальным направлением силы, а ось Oy — с повернутым. За время t_1 тело сместится от начала координат



вдоль оси Ox на величину $x_1 = \frac{F}{m} \cdot \frac{t_1^2}{2}$ и при-

обретет вдоль этой оси скорость $v_1 = \frac{F}{m} t_1$. К моменту

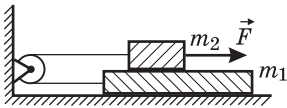
времени $t_2 = 2t_1$ перемещение тела вдоль оси Ox со-

ставит $x_2 = x_1 + v_1(t_2 - t_1) = \frac{3}{2} \cdot \frac{F}{m} t_1^2$, а по оси Oy $y_2 = \frac{F}{m} \cdot \frac{(t_2 - t_1)^2}{2} = \frac{F}{m} \cdot \frac{t_1^2}{2}$.

Учитывая, что $S = \sqrt{x_2^2 + y_2^2}$, получаем: $S = \frac{\sqrt{10}}{2} \cdot \frac{F}{m} \cdot t_1^2 \approx 39,5$ м.

Ответ. $S \approx 39,5$ м.

1.2.15. На горизонтальном столе лежит брусок массой $m_1 = 2$ кг, на котором помещен второй брусок массой $m_2 = 1$ кг. Оба бруска соединены невесомой нерастяжимой нитью, перекинутой через блок, ось которого неподвижна. Какую силу F нужно приложить к верхнему бруску в горизонтальном направлении, чтобы он начал двигаться с ускорением $a = 4,9$ м/с². Коэффициент трения между брусками $\mu = 0,5$. Трением нижнего бруска о стол, трением в блоке и его массой пренебречь.



Решение. Бруски движутся под действием сил, изображенных на рисунке, где T — модуль силы натяжения нити, $F_{\text{тр}} = \mu m_2 g$ — модуль

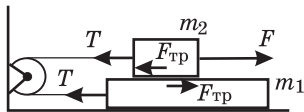
силы трения. В проекции на направление ускорения брусков уравнения

их движения имеют вид: $m_1 a = T - \mu m_2 g$,

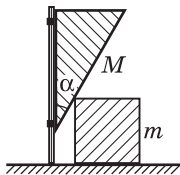
$m_2 a = F - T - \mu m_2 g$. Исключая отсюда T , получаем:

$F = (m_1 + m_2) a + 2\mu m_2 g \approx 24,5$ Н.

Ответ. $F \approx 24,5$ Н.



1.2.16. Клин массой M с углом α при вершине может двигаться поступательно по вертикальным направляющим. Боковой стороной он касается кубика массой m , лежащего на горизонтальной поверхности. Найти ускорение a , с которым будет двигаться клин, если его отпустить. Трением между всеми поверхностями пренебречь. Ускорение свободного падения g .

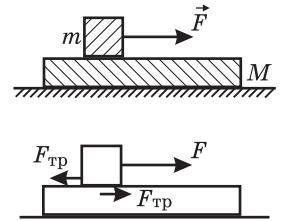


Боковой стороной он касается кубика массой m , лежащего на горизонтальной поверхности. Найти ускорение a , с которым будет двигаться клин, если его отпустить. Трением между всеми поверхностями пренебречь. Ускорение свободного падения g .

Решение. Силы, действующие на клин и кубик, изображены на рисунке, где приняты следующие обозначения: $M\vec{g}$ и $m\vec{g}$ — силы тяжести, \vec{N} и \vec{N}' — силы взаимодействия клина и кубика, \vec{N}_1 — сила реакции стола, \vec{R} — сила реакции вертикальных направляющих. Силы \vec{N} и \vec{N}' направлены перпендикулярно поверхности клина, так как трение отсутствует. По третьему закону Ньютона $N' = N$. Обозначив через a и a_1 ускорения клина и кубика, запишем уравнения движения этих тел: $Ma = Mg - N\sin\alpha$, $ma_1 = N\cos\alpha$. Перемещения кубика и клина за любой промежуток времени связаны соотношением $x = ytg\alpha$. Дважды дифференцируя это соотношение по времени, находим, что $a_1 = atg\alpha$. Исключая из уравнений движения N и используя соотношение между величинами ускорений клина и кубика, получаем: $a = \frac{Mg}{M + mtg^2\alpha}$.

Ответ. $a = \frac{Mg}{M + mtg^2\alpha}$.

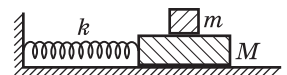
1.2.17. Брусок массой $M = 4$ кг находится на гладкой горизонтальной поверхности, по которой он может двигаться без трения. На бруске лежит кубик массой $m = 1$ кг, к которому приложена горизонтальная сила F . При каком значении этой силы кубик начнет скользить по бруску? Коэффициент трения между кубиком и бруском $\mu = 0,5$. Ускорение свободного падения принять $g = 9,8$ м/с².



Решение. Кубик и брусок движутся под действием сил, изображенных на рисунке, где через $F_{\text{тр}}$ обозначен модуль силы трения. Пусть скольжение кубика по бруску отсутствует. Тогда уравнения движения тел имеют вид: $ma = F - F_{\text{тр}}$, $Ma = F_{\text{тр}}$. Отсюда находим, что в отсутствие скольжения $F = (m + M)a$. Поскольку сила трения покоя $F_{\text{тр}} \leq \mu mg$, максимально возможное ускорение бруска $a_{\text{max}} = \mu \frac{m}{M}g$. Следовательно, скольжение кубика начнется, если $F > (m + M)a_{\text{max}}$.

Ответ. $F > \mu mg \left(1 + \frac{m}{M}\right) \approx 6,1$ Н.

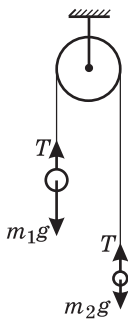
1.2.18. На гладком столе помещен брусок массой $M = 1$ кг, на котором лежит коробок массой $m = 50$ г. Брусок прикреплен к одному из концов невесомой пружины, другой конец которой заделан в неподвижную стенку. Брусок отводят от положения равновесия перпендикулярно стенке на расстояние Δl и отпускают без начальной скорости. При каком значении Δl коробок начнет скользить по бруску? Коэффициент трения коробка о брусок $\mu = 0,2$, жесткость пружины $k = 500$ Н/м. Ускорение свободного падения принять $g = 10$ м/с². Трением бруска о стол пренебречь.



Решение. Пусть брусок сместили от положения равновесия на расстояние Δl вправо. Силы, действующие на тела в момент, когда брусок отпустили, изображены на рисунке, где $F_{\text{упр}} = k\Delta l$ — модуль силы упругости, $F_{\text{тр}}$ — модуль силы трения. Пусть скольжение коробки по бруску отсутствует. Тогда уравнения движения тел имеют вид: $Ma = k\Delta l - F_{\text{тр}}$, $ma = F_{\text{тр}}$. Отсюда находим, что в отсутствие скольжения $k\Delta l = (m + M)a$. Поскольку сила трения покоя $F_{\text{тр}} \leq \mu mg$, максимально возможное ускорение коробки $a_{\text{max}} = \mu g$. Следовательно, скольжение коробки начнется, если $k\Delta l > (m + M)a_{\text{max}}$.

$$\text{Ответ. } \Delta l > \frac{(M + m)}{k} \cdot \mu g = 4,2 \text{ мм.}$$

1.2.19. Два шарика с массами $m_1 = 600$ г и $m_2 = 400$ г подвешены на легкой нерастяжимой нити, перекинутой через блок. В начальный момент времени блок заторможен, а расстояние между шариками по вертикали $l = 49$ см, причем более тяжелый шарик расположен выше. Через какое время τ шарики окажутся на одной горизонтали, если системе позволить двигаться? Блок невесом. Трением пренебречь.

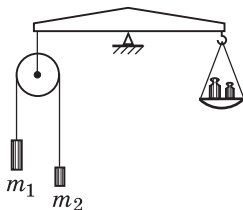


Решение. Шарики движутся под действием сил, изображенных на рисунке, где m_1g и m_2g — модули сил тяжести, T — модуль силы натяжения нити. Уравнения движения шариков имеют вид: $m_1a = m_1g - T$, $m_2a = T - m_2g$. Отсюда модуль ускорения шариков $a = \frac{m_1 - m_2}{m_1 + m_2}g$. Шарики окажутся на одной горизонтали, если каждый из них переместится на расстояние $S = l/2$. Используя кинематическую формулу $\tau = \sqrt{2S/a}$, получаем:

$$\tau = \sqrt{\frac{l}{g} \cdot \frac{(m_1 + m_2)}{(m_1 - m_2)}} = 0,5 \text{ с.}$$

$$\text{Ответ. } \tau = 0,5 \text{ с.}$$

1.2.20. На нерастяжимой нити, перекинутой через невесомый блок, подвешены два груза массами $m_1 = 100$ г и $m_2 = 50$ г. В заторможенном состоянии (когда грузы неподвижны) блок уравновешен на рычажных весах. На какую величину Δm нужно изменить массу гирь на правой чашке, чтобы при освобождении блока (когда грузы придут в движение) сохранить равновесие весов?



Решение. Когда блок заторможен, сила натяжения верхней нити, удерживающей его в равновесии, равна суммарной силе тяжести, действующей на грузы: $T' = (m_1 + m_2)g$. При освобождении блока грузы придут в движение, и сила натяжения верхней нити станет равной $T'' = 2T$, где T — модуль силы натяжения нижней нити, связывающей грузы (см. рисунок). Чтобы найти T , воспользуемся уравнениями движения грузов:

придут в движение, и сила натяжения верхней нити станет равной $T'' = 2T$, где T — модуль силы натяжения нижней нити, связывающей грузы (см. рисунок). Чтобы найти T , воспользуемся уравнениями движения грузов:

$m_1 a = m_1 g - T$, $m_2 a = T - m_2 g$. Отсюда $T = \frac{2m_1 m_2}{m_1 + m_2} g$. Следова-

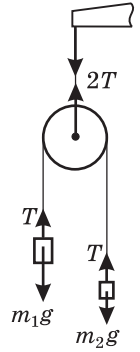
тельно, при освобождении грузов сила, действующая на левый конец коромысла весов, изменится на величину

$\Delta T = T' - T'' = \frac{(m_1 - m_2)^2}{m_1 + m_2} g$. Для восстановления равновесия

весов с правой чашки нужно снять гири массой

$$\Delta m = \frac{(m_1 - m_2)^2}{m_1 + m_2} \approx 16,7 \text{ г.}$$

О т в е т. $\Delta m \approx 16,7 \text{ г.}$



1.2.21. К грузику массой $M = 300 \text{ г}$ прикреплена пружина, другой конец которой привязан к нити, перекинутой через блок. На втором конце нити подвешен грузик массой $m = 200 \text{ г}$. Когда блок заторможен, длина пружины $l = 15 \text{ см}$. Какую длину l_1 будет иметь пружина, если блок освободить? Считать, что колебания в системе не возникнут, т. е. грузики будут двигаться с постоянным ускорением. Длина недеформированной пружины $l_0 = 10 \text{ см}$. Массой пружины, нити и блока, а также трением в блоке пренебречь.

Р е ш е н и е. Когда блок заторможен, сила, с которой растянута пружина, равна весу подвешенного к ней грузика. Из закона

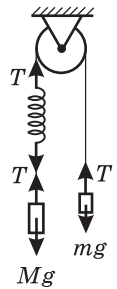
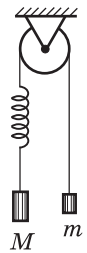
Гука следует, что $k(l - l_0) = Mg$, откуда $k = \frac{Mg}{l - l_0}$. Если блок ос-

вободить, то грузики придут в движение. В общем случае оно будет представлять собой суперпозицию равноускоренного и колебательного движений. Но, задав в системе определенные начальные условия, можно добиться, чтобы колебания в системе не возникли и движение грузиков происходило с постоянным ускорением. В этом случае сила, с которой растянута пружина, будет постоянной. Поскольку эта сила равна силе натяжения нити T , одинаковой во всех точках, для ее нахождения воспользуемся законами динамики. Уравнения движения грузиков имеют вид: $Ma =$

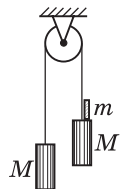
$= Mg - T$, $ma = T - mg$, где a — ускорение в системе. Отсюда $T = \frac{2mM}{m + M} g$.

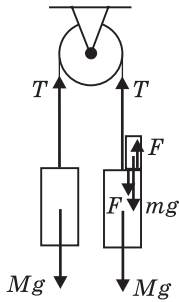
Учитывая, что $T = k(l_1 - l_0)$, получаем: $l_1 = \frac{(M - m)l_0 + 2ml}{M + m} = 14 \text{ см.}$

О т в е т. $l_1 = 14 \text{ см.}$



1.2.22. Два одинаковых груза массой $M = 1 \text{ кг}$ связаны между собой нитью, перекинутой через блок с неподвижной осью. На один из грузов кладут перегрузок массой $m = 0,1 \text{ кг}$. С какой силой F будет давить перегрузок на груз M ? Массой блока и нити, а также трением в оси блока пренебречь, нить считать нерастяжимой, ускорение свободного падения принять $g = 10 \text{ м/с}^2$.

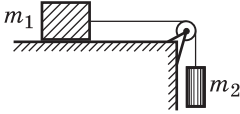




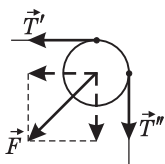
Решение. Тела движутся под действием сил, изображенных на рисунке, где Mg и mg — силы тяжести, T — сила натяжения нити, F — сила взаимодействия груза с перегрузком. Уравнения движения тел имеют вид: $Ma = T - Mg$ (для левого груза), $Ma = Mg + F - T$ (для правого груза), $ma = mg - F$ (для перегрузка). Из этой системы находим: $F = \frac{2Mm}{2M + m}g = 0,95 \text{ Н}$.

Ответ. $F = 0,95 \text{ Н}$.

1.2.23. На горизонтальном столе находится брусок массой m_1 , к которому привязана нерастяжимая нить. Второй конец нити перекинут через блок и прикреплен к грузу массой m_2 . Коэффициент трения между бруском и столом — μ . Пренебрегая массой блока, определить силу F , с которой нить действует на блок. Ускорение свободного падения g .



Решение. Сила \vec{F} , с которой нить действует на блок, равна векторной сумме сил натяжения \vec{T}' и \vec{T}'' , приложенных в точках схода нити с блока (см. рисунок). Из невесомости нити и блока следует, что натяжение нити во всех точках одинаково: $T' = T'' = T$. Следовательно, модуль силы, с которой нить действует на блок, $F = \sqrt{2} \cdot T$. При вычислении натяжения нити нужно учесть, что предоставленная самой себе система придет в движение, если коэффициент трения между грузом m_1 и столом достаточно мал. В этом случае уравнения движения грузов имеют вид: $m_1 a = T - m_1 \mu g$, $m_2 a = m_2 g - T$,

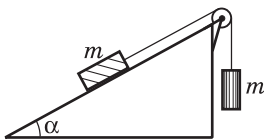


где a — модуль ускорения тел. Отсюда $T = \frac{m_1 m_2 (1 + \mu) g}{m_1 + m_2}$.

Если трение между грузом m_1 и столом велико, то система находится в покое и $T = m_2 g$. Значение коэффициента трения, при котором предоставленные самим себе грузы покоятся, определяется из условия: $m_1 \mu g \geq m_2 g$.

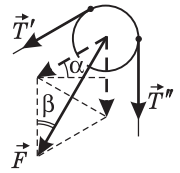
Ответ. $F = \sqrt{2} \frac{m_1 m_2}{m_1 + m_2} (1 + \mu) g$ при $\mu < \frac{m_2}{m_1}$, $F = \sqrt{2} m_2 g$ при $\mu \geq \frac{m_2}{m_1}$.

1.2.24. Два одинаковых бруска массой $m = 0,1 \text{ кг}$ каждый соединены невесомой нерастяжимой нитью, перекинутой через блок, установленный на наклонной плоскости. Плоскость образует с горизонталью угол $\alpha = 30^\circ$. Пренебрегая трением в системе, найти силу F , которая действует со стороны нити на блок. Ускорение свободного падения принять $g = 10 \text{ м/с}^2$. Массой блока пренебречь.



Решение. Сила \vec{F} , с которой нить действует на блок, равна векторной сумме сил натяжения \vec{T}' и \vec{T}'' , приложенных в точках схода нити с блока (см. рисунок). Поскольку нить и блок невесо-

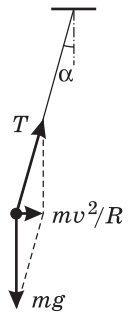
мы, натяжение нити во всех точка одинаково: $T' = T'' = T$. Из рисунка видно, что модуль силы, с которой нить действует на блок, $F = 2T \cos \beta$, где $\beta = \frac{\pi}{4} - \frac{\alpha}{2}$. Уравнения движения грузов имеют вид: $ma = T - mg \sin \alpha$, $ma = mg - T$, где a — модуль ускорения тел. Отсюда $T = \frac{mg}{2}(1 + \sin \alpha)$.



О т в е т. $F = mg(1 + \sin \alpha) \cos\left(\frac{\pi}{4} - \frac{\alpha}{2}\right) \approx 1,3 \text{ Н}$.

1.2.25. Маленький шарик массой $m = 100 \text{ г}$ подвешен на длинной нити к потолку вагона, который равномерно движется по криволинейному участку пути со скоростью $v = 72 \text{ км/ч}$. С какой силой T натянута нить, если радиус закругления участка пути $R = 200 \text{ м}$? Ускорение свободного падения $g = 9,8 \text{ м/с}^2$.

Р е ш е н и е. В вагоне, движущемся по закруглению пути, нить с шариком отклоняется в направлении от центра закругления на некоторый угол α . Сумма силы тяжести и силы натяжения нити сообщает шариком в неподвижной системе отсчета ускорение, направленное горизонтально к центру закругления и равное центростремительному ускорению вагона v^2/R . По второму закону Ньютона, имеем (см. рисунок): $\frac{mv^2}{R} = T \sin \alpha$, $mg = T \cos \alpha$. Исключая из этих уравне-



ний α , получаем: $T = m \sqrt{g^2 + \left(\frac{v^2}{R}\right)^2} = 1 \text{ Н}$.

О т в е т. $T = 1 \text{ Н}$.

1.2.26. Две звезды одинаковой массы M движутся по окружности радиуса R , располагаясь на противоположных концах диаметра окружности. Пренебрегая влиянием других небесных тел, определить период T обращения звезд. Гравитационная постоянная G .

Р е ш е н и е. Каждая из звезд движется под действием гравитационного притяжения к другой звезде. Пусть v — скорость движения звезды по орбите. По второму закону Ньютона, для каждой из звезд имеем: $\frac{Mv^2}{R} = G \frac{M^2}{4R^2}$.

Учитывая, что $T = \frac{2\pi R}{v}$, получаем: $T = 4\pi R \sqrt{\frac{R}{GM}}$.

О т в е т. $T = 4\pi R \sqrt{\frac{R}{GM}}$.

1.2.27. Вокруг планеты, имеющей форму шара радиуса r , по круговой орбите движется спутник. Определить радиус орбиты спутника R , считая известными ускорение свободного падения у поверхности планеты g и период обращения спутника T .

Решение. Пусть m — масса спутника, M — масса планеты, v — скорость движения спутника по орбите, G — гравитационная постоянная. Уравнение движения спутника имеет вид: $\frac{mv^2}{R} = G \frac{mM}{R^2}$. Учитывая, что $g = G \frac{M}{r^2}$

и $T = \frac{2\pi R}{v}$, получаем: $R = \sqrt[3]{\frac{gr^2T^2}{4\pi^2}}$.

О т в е т. $R = \sqrt[3]{\frac{gr^2T^2}{4\pi^2}}$.

1.2.28. Спутник движется по круговой орбите, радиус которой составляет n радиусов планеты. Какова плотность вещества планеты ρ , если период обращения спутника T ? Планету считать однородным шаром. Гравитационная постоянная G .

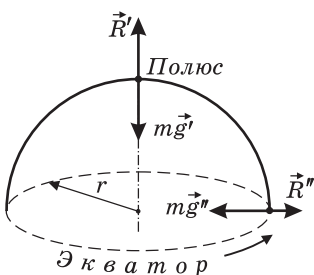
Решение. Пусть m — масса спутника, M — масса планеты радиусом r , v — скорость движения спутника по орбите радиуса R . Уравнение движения спутника имеет вид: $\frac{mv^2}{R} = G \frac{mM}{R^2}$. Учитывая, что $M = \frac{4}{3}\pi r^3\rho$, $T = \frac{2\pi R}{v}$

и $R = rn$, получаем: $\rho = \frac{3\pi n^3}{GT^2}$.

О т в е т. $\rho = \frac{3\pi n^3}{GT^2}$.

1.2.29. Вес тела на экваторе составляет $\eta = 97\%$ от веса этого же тела на полюсе. Найти период вращения планеты вокруг своей оси T , если плотность вещества планеты $\rho = 2,5 \cdot 10^3$ кг/м³, гравитационная постоянная $G = 6,67 \cdot 10^{-11}$ м³кг⁻¹с⁻². Планету считать однородным шаром.

Решение. Силы, действующие на тело на полюсе и на экваторе, изображены на рисунке, где \vec{g}' и \vec{g}'' — ускорения, вызываемые силой тяжести, \vec{R}' и \vec{R}'' — силы реакции опор, на которых покоится тело. Поскольку планета представляет собой однородный шар, ускорения \vec{g}' и \vec{g}'' различаются только направлением, а модули их совпадают: $g' = g'' = g$. Для тела, покоящегося на полюсе, сила тяжести и сила реакции опоры уравновешены и его вес по величине равен $P' = R' = mg$. Тело, находящееся на экваторе, движется по окружности, радиус которой равен радиусу планеты r . Следовательно, сила тяжести и сила реакции опоры не уравновешены



и, по второму закону Ньютона, $m\omega^2 r = mg - R''$, где ω — угловая скорость вращения планеты. Поэтому вес тела на экваторе по величине равен $P'' = R'' = mg - m\omega^2 r = \frac{\eta}{100\%} mg$, откуда $\omega^2 = \frac{g}{r} \left(1 - \frac{\eta}{100\%}\right)$. В то же время, $g = \frac{GM}{r^2}$, где $M = \frac{4}{3}\pi r^3\rho$ — масса планеты.

Отсюда следует, что $\frac{g}{r} = \frac{4}{3}\pi G\rho$. Учитывая, что период вращения планеты $T = \frac{2\pi}{\omega}$, получаем: $T = \sqrt{\frac{3\pi}{G\rho(1 - \eta / 100\%)}} \approx 4,34 \cdot 10^4 \text{ с} \approx 12 \text{ ч.}$

Ответ. $T \approx 12 \text{ ч.}$

1.2.30. Известно, что вес тела на высоте h над поверхностью планеты на полюсе равен весу этого же тела на поверхности планеты на экваторе. Найти период T вращения планеты вокруг оси, если радиус планеты r , а ускорение свободного падения у поверхности на полюсе g . Планету считать однородным шаром.

Решение. Силы, действующие на тело на полюсе и на экваторе, изображены на рисунке, где \vec{g}' и \vec{g}'' — ускорения, вызываемые силой тяжести, \vec{R}' и \vec{R}'' — силы реакции опор, на которых покоится тело. Для тела, находящегося на высоте h на полюсе, сила тяжести и сила реакции опоры уравновешены и его вес

по величине равен $P' = R' = \frac{mg}{(1 + h/r)^2}$. Тело, находящееся на экваторе, движется по окружности, радиус которой равен радиусу планеты. Следовательно, сила тяжести и сила реакции опоры не уравновешены и, по второму закону Ньютона,

$m\omega^2 r = mg - R''$, где ω — угловая скорость вращения планеты. Поэтому вес тела на экваторе по величине равен $P'' = R'' = mg - m\omega^2 r$. По условию,

$mg - m\omega^2 r = \frac{mg}{(1 + h/r)^2}$, откуда $\omega^2 = \frac{g(1 + h/r)^2 - 1}{r(1 + h/r)^2}$. Учитывая, что период

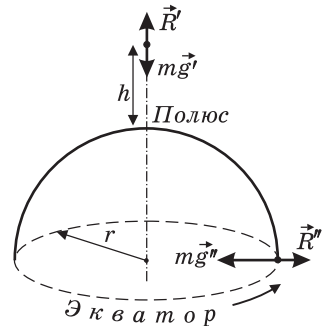
вращения планеты $T = \frac{2\pi}{\omega}$, получаем: $T = 2\pi \left(1 + \frac{h}{r}\right) \sqrt{\frac{r}{g[(1 + h/r)^2 - 1]}}$.

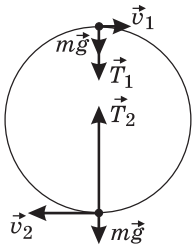
Ответ. $T = 2\pi \left(1 + \frac{h}{r}\right) \sqrt{\frac{r}{g[(1 + h/r)^2 - 1]}}$.

1.2.31. Шарик, подвешенному на нити, сообщили некоторую начальную скорость, после чего он начал вращаться по окружности в вертикальной плоскости. Определить массу шарика m , если известно, что сила натяжения нити в верхней точке траектории составляет $T_1 = 1 \text{ Н}$, а в нижней точке траектории $T_2 = 2 \text{ Н}$. Соппротивлением воздуха пренебречь, ускорение свободного падения $g = 9,8 \text{ м/с}^2$.

Решение. Силы, действующие на шарик в верхней и нижней точках траектории, изображены на рисунке, где $m\vec{g}$ — сила тяжести, \vec{T}_1 и \vec{T}_2 — силы натяжения нити, \vec{v}_1 и \vec{v}_2 — скорости шарика. Пусть l — длина нити.

Уравнения движения шарика имеют вид: $\frac{mv_1^2}{l} = mg + T_1$ (в верхней точке),

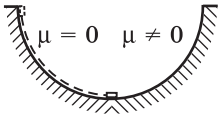




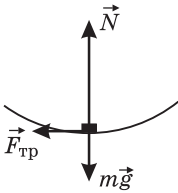
$\frac{mv_2^2}{l} = -mg + T_2$ (в нижней точке). По закону сохранения энергии, $\frac{mv_1^2}{2} + 2mgR = \frac{mv_2^2}{2}$. Объединяя записанные выражения, получаем: $m = \frac{T_2 - T_1}{6g} \approx 0,017$ кг.

О т в е т. $m \approx 0,017$ кг.

1.2.32. Маленькое тело соскальзывает без начальной скорости по внутренней поверхности полусферы с высоты, равной ее радиусу. Одна половина полусферы абсолютно гладкая, а другая — шероховатая, причем на этой половине коэффициент трения между телом и поверхностью $\mu = 0,15$. Определить ускорение a тела в тот момент, когда оно перейдет на шероховатую поверхность. Ускорение свободного падения принять $g = 10$ м/с².



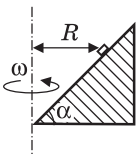
Р е ш е н и е. Силы, действующие на тело в момент, когда оно оказывается на шероховатой поверхности, изображены на рисунке, где $\vec{F}_{\text{тр}}$ — сила трения, \vec{N} — нормальная к поверхности полусферы составляющая силы реакции, $m\vec{g}$ — сила тяжести. Разложив ускорение тела \vec{a} на две составляющие: касательную к поверхности \vec{a}_τ и нормальную к поверхности \vec{a}_n , имеем в рассматриваемый момент времени: $ma_\tau = F_{\text{тр}} = \mu N$, $ma_n = N - mg$. Поскольку $a_n = v^2 / R$, где v — скорость тела, из последнего уравнения следует, что $N = \frac{mv^2}{R} + mg$. При движении



по гладкой поверхности справедлив закон сохранения энергии: $\frac{mv^2}{2} = mgR$. Объединяя записанные соотношения, находим, что $a_n = 2g$, $a_\tau = 3\mu g$ и $a = \sqrt{a_\tau^2 + a_n^2}$.

О т в е т. $a = g\sqrt{9\mu^2 + 4} = 20,5$ м/с².

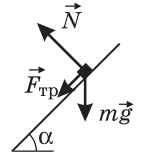
1.2.33. Деревянная призма, одна из граней которой образует с горизонталью угол $\alpha = 45^\circ$, вращается вокруг вертикальной оси с угловой скоростью $\omega = 10$ рад/с. На наклонной грани призмы расположен маленький брусок. Найти максимальное расстояние R_{max} от бруска до оси вращения, при котором брусок не будет скользить по призме. Коэффициент трения между бруском и призмой $\mu = 0,5$. Ускорение свободного падения принять $g = 10$ м/с².



Р е ш е н и е. В неподвижной системе отсчета брусок движется под действием сил, изображенных на рисунке, где $m\vec{g}$ — сила тяжести, \vec{N} — нормальная составляющая силы реакции призмы,

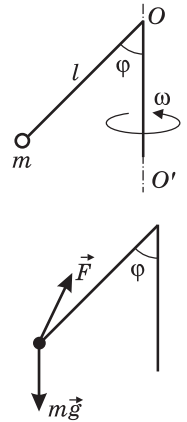
$\vec{F}_{\text{тр}}$ — сила трения. При отсутствии скольжения движение бруска происходит по окружности в горизонтальной плоскости. В проекциях на горизонтальное и вертикальное направления уравнение движения бруска имеет вид: $m\omega^2 R = N \sin \alpha + F_{\text{тр}} \cos \alpha$, $N \cos \alpha = mg + F_{\text{тр}} \sin \alpha$. Подставляя сюда максимальное значение силы трения покоя $F_{\text{тр}} = \mu N$ и исключая N , получаем: $R_{\text{max}} = \frac{g}{\omega^2} \cdot \frac{\sin \alpha + \mu \cos \alpha}{\cos \alpha - \mu \sin \alpha} = 0,3 \text{ м}$.

О т в е т. $R_{\text{max}} = 0,3 \text{ м}$.



1.2.34. Металлический стержень, изогнутый под углом $\varphi = 45^\circ$, как показано на рисунке, вращается с угловой скоростью $\omega = 6 \text{ рад/с}$ вокруг вертикальной оси OO' . К концу стержня прикреплен груз массой $m = 0,1 \text{ кг}$ на расстоянии $l = 0,1 \text{ м}$ от точки O . Определить модуль F силы, с которой стержень действует на груз. Ускорение свободного падения $g = 9,8 \text{ м/с}^2$.

Р е ш е н и е. Равномерное движение груза по окружности радиусом $R = l \sin \varphi$ с угловой скоростью ω происходит под действием сил, изображенных на рисунке, причем сила \vec{F} , действующая на груз со стороны стержня, направлена по отношению к нему в общем случае под некоторым углом. В проекциях на горизонтальную и вертикальную оси неподвижной системы координат уравнение движения груза имеет вид: $m\omega^2 l \sin \varphi = F_x$, $F_y - mg = 0$. Учитывая, что $F = \sqrt{F_x^2 + F_y^2}$, получаем: $F = m\sqrt{g^2 + \omega^4 l^2 \sin^2 \varphi} \approx 1,01 \text{ Н}$.



О т в е т. $F \approx 1,01 \text{ Н}$.

Дополнительные задачи

1.2.35. Малая планета имеет форму шара радиуса $R = 5 \text{ км}$. Считая планету однородной с плотностью $\rho = 5,5 \text{ г/см}^3$, найти ускорение свободного падения g на ее поверхности. Какова первая космическая скорость $v_{1к}$ для этой планеты? Гравитационная постоянная $G = 6,67 \cdot 10^{-11} \text{ Н} \cdot \text{м}^2/\text{кг}^2$.

Р е ш е н и е. Масса планеты $M = \frac{4}{3} \pi R^3 \rho$. По закону всемирного тяготения, $g = G \frac{M}{R^2}$. Из уравнения движения тела массой m по круговой орбите радиусом R , а именно $\frac{mv_{1к}^2}{R} = G \frac{mM}{R^2}$, следует, что первая космическая скорость

равна $v_{1к} = \sqrt{\frac{GM}{R}}$.

О т в е т. $g = G \frac{4}{3} \pi R \rho \approx 8 \text{ мм/с}^2$, $v_{1к} = 2R \sqrt{\frac{G \pi \rho}{3}} \approx 6,2 \text{ м/с}$.

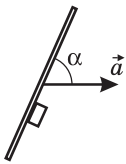
1.2.36. Два шарика одинакового диаметра, имеющие массы m_1 и m_2 ($m_1 > m_2$), связаны между собой легкой нерастяжимой нитью, длина которой значительно превышает диаметр шариков. Шарика сбросили с достаточно большой высоты. Спустя некоторое время после этого вследствие сопротивления воздуха скорость падения шариков стала постоянной. Найти натяжение нити T при установившемся падении шариков. Ускорение свободного падения g .

Решение. При установившемся падении шарика движутся вертикально вниз с постоянной скоростью, причем снизу находится более тяжелый шарик. Обозначив через F модуль силы сопротивления воздуха, одинаковой для обоих шариков, по второму закону Ньютона имеем: $m_1g - T - F = 0$,

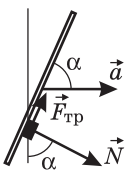
$$m_2g + T - F = 0. \text{ Исключая из этих равенств } F, \text{ получаем: } T = \frac{(m_1 - m_2)g}{2}.$$

О т в е т. $T = \frac{(m_1 - m_2)g}{2}$.

1.2.37. На гладком столе лежит доска, к которой вплотную прижат брусок. Коэффициент трения между бруском и доской $\mu = 0,1$. Доску начинают поступательно перемещать по столу с некоторым постоянным ускорением. При каком минимальном значении α_{\min} угла α между плоскостью доски и вектором ускорения брусок не будет скользить по доске?



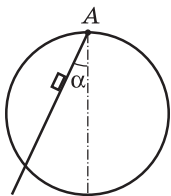
Решение. Силы, действующие на брусок в горизонтальной плоскости, показаны на рисунке, где $\vec{F}_{\text{тр}}$ — сила трения, \vec{N} — нормальная составляющая силы реакции доски. Брусок не скользит по доске, если проекция суммы этих сил на направление, перпендикулярное ускорению доски, равна нулю:



$F_{\text{тр}} \sin \alpha - N \cos \alpha = 0$. Минимальное значение угла α достигается, когда сила трения покоя принимает максимальное значение: $F_{\text{тр}} = \mu N$. Объединяя записанные выражения, получаем: $\alpha_{\min} = \arctg(1/\mu) \approx 84,3^\circ$.

О т в е т. $\alpha_{\min} \approx 84,3^\circ$.

1.2.38. Обруч диаметра D располагается в вертикальной плоскости. В точке A , лежащей на верхнем конце вертикального диаметра обруча, на шарнире закреплен желоб, угол наклона которого можно менять (см. рисунок). По желобу из точки A пускают скользить без начальной скорости небольшой брусок. Найти зависимость времени τ , через которое брусок достигнет точки пересечения желоба и обруча, от угла α , который желоб образует с вертикалью. Коэффициент трения бруска о желоб μ , ускорение свободного падения g .



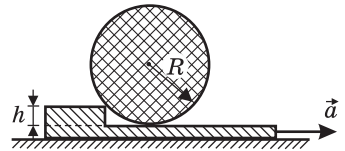
Решение. Уравнение движения бруска по желобу, составляющему угол α с вертикалью, имеет вид: $ma = mg \cos \alpha - \mu mg \sin \alpha$, откуда ускорение бруска $a = g(\cos \alpha - \mu \sin \alpha)$. Из кинематического соотношения $\tau = \sqrt{\frac{2L}{a}}$, где $L = D \cos \alpha$ — путь, пройденный бруском до точки

пересечения желоба с обручем, получаем: $\tau = \sqrt{\frac{2D}{g(1 - \mu \operatorname{tg} \alpha)}}$. В диапазоне

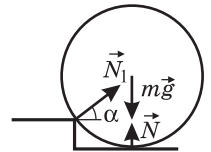
$0 \leq \alpha < \operatorname{arcsctg} \mu$ время движения бруска увеличивается с ростом α . При $\alpha \geq \operatorname{arcsctg} \mu$ брусок, предоставленный самому себе, двигаться не будет.

Ответ. $\tau = \sqrt{\frac{2D}{g(1 - \mu \operatorname{tg} \alpha)}}$.

1.2.39. На горизонтальной доске, имеющей прямоугольный уступ высотой $h = 10$ см, располагается вплотную к уступу однородный цилиндр радиусом $R = 25$ см. Доску начинают двигать с некоторым ускорением \vec{a} , направленным вправо. Каково максимально возможное значение ускорения a_{\max} , при котором цилиндр не будет подниматься на уступ? Все поверхности гладкие. Ускорение свободного падения $g = 9,8$ м/с².



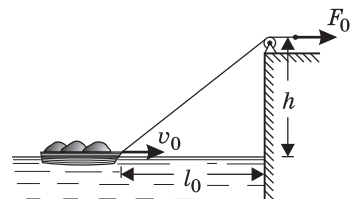
Решение. Пусть ускорение доски таково, что цилиндр не перекачивается через уступ, а движется поступательно вместе с доской. Силы, действующие на цилиндр в этом случае, изображены на рисунке, где $m\vec{g}$ — сила тяжести (m — масса цилиндра), \vec{N} — сила реакции горизонтальной части доски, \vec{N}_1 — сила реакции уступа. Поскольку трение пренебрежимо мало, вектор силы \vec{N}_1 направлен перпендикулярно касательной к поверхности цилиндра, т. е. к его оси. В проекциях на горизонтальное и вертикальное направления уравнения движения цилиндра имеют вид: $ma = N_1 \cos \alpha$, $mg - N_1 \sin \alpha - N = 0$, где α — угол между горизонталью и вектором \vec{N}_1 . Если увеличивать



ускорение доски, то модуль силы \vec{N}_1 будет возрастать, а модуль силы \vec{N} — уменьшаться. При максимально возможном ускорении доски, при котором цилиндр еще не будет подниматься на уступ, \vec{N} обратится в нуль. Из уравнений движения для этого случая находим $a_{\max} = g \operatorname{ctg} \alpha = g \frac{\sqrt{h(2R - h)}}{R - h} \approx 13,1$ м/с².

Ответ. $a_{\max} \approx 13,1$ м/с².

1.2.40. Тяжело нагруженную лодку подтягивают к пристани с помощью веревки, перекинутой через ролик, находящийся на высоте h над уровнем воды. По какому закону должна меняться во времени сила $F(t)$, которую нужно прикладывать к веревке, чтобы поддерживать скорость движения лодки в воде постоянной и равной v_0 ? В момент времени $t = 0$ лодка движется со скоростью v_0 , сила, с которой тянут за веревку, равна F_0 , а расстояние от лодки до пристани составляет l_0 . Сопротивление воды считать пропорциональным скорости лодки.



Решение. Лодка движется равномерно под действием двух сил: горизонтальной составляющей силы натяжения веревки и силы сопротивления воды. Модули этих сил на рисунке обозначены через F_x и βv_0 , где β — коэффициент сопротивления воды. По второму закону Ньютона, имеем: $F_x = \beta v_0$. Из рисунка видно, что $F_x = F \cos \vartheta$, где ϑ — угол, который веревка образует с горизонталью, причем $\cos \vartheta = \frac{l_0 - v_0 t}{\sqrt{(l_0 - v_0 t)^2 + h^2}}$. Объединяя запи-

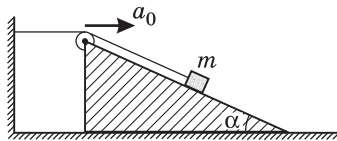
санные равенства, получаем: $F = \beta v_0 \frac{\sqrt{(l_0 - v_0 t)^2 + h^2}}{l_0 - v_0 t}$. Положив в последнем

равенстве $t = 0$, $F(0) = F_0$, имеем: $F_0 = \beta v_0 \frac{\sqrt{l_0^2 + h^2}}{l_0}$, откуда $\beta v_0 = F_0 \frac{l_0}{\sqrt{l_0^2 + h^2}}$.

Ответ. $F(t) = F_0 \frac{l_0}{\sqrt{l_0^2 + h^2}} \frac{\sqrt{(l_0 - v_0 t)^2 + h^2}}{l_0 - v_0 t}$.

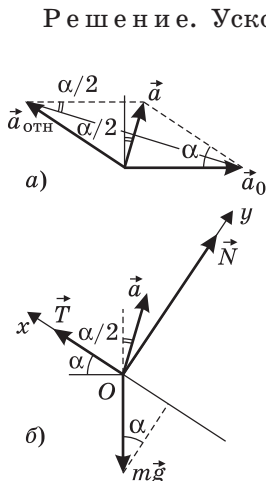
Замечание. Из этой формулы видно, что по мере приближения лодки к пристани сила F неограниченно возрастает. Приведенный ответ имеет смысл до тех пор, пока F не превысит силу тяжести, действующую на лодку.

1.2.41. Клин с углом α при вершине находится на горизонтальном столе. На поверхности клина располагается брусок массой m , к которому привязана невесомая нерастяжимая нить. Второй конец нити перекинут через блок на клине и прикреплен к неподвижной опоре. При этом отрезок нити от опоры до блока горизонтален, а отрезок нити от блока до бруска параллелен поверхности клина. Найти модуль T силы натяжения нити, если клин двигают по столу вправо с ускорением a_0 . Движение всех тел происходит в плоскости рисунка. Трением пренебречь.



Решение. Ускорение \vec{a} бруска в неподвижной системе отсчета равно $\vec{a} = \vec{a}_0 + \vec{a}_{\text{отн}}$. При этом относительное ускорение бруска $\vec{a}_{\text{отн}}$ направлено вдоль наклонной поверхности клина вверх и, поскольку длина нити постоянна, по модулю совпадает с a_0 . Из рисунка (а) видно, что

$a = 2a_0 \sin \frac{\alpha}{2}$, а вектор \vec{a} образует с вертикалью угол $\alpha/2$. Силы, действующие на брусок в неподвижной системе отсчета, изображены на рисунке (б), где $m\vec{g}$ — сила тяжести, \vec{T} — сила натяжения нити, \vec{N} — сила реакции наклонной поверхности клина. Записывая уравнение движения бруска в проекции на ось Ox , имеем: $ma \sin \frac{\alpha}{2} = T - mg \sin \alpha$. Используя



полученное выше выражение для a , а также формулу $2\sin^2 \frac{\alpha}{2} = 1 - \cos \alpha$, получаем: $T = mg \sin \alpha + ma_0(1 - \cos \alpha)$.

Ответ. $T = mg \sin \alpha + ma_0(1 - \cos \alpha)$.

1.2.42. Груз массой $m = 100$ г подвешен на нити и совершает колебания, угловая амплитуда которых $\alpha = 60^\circ$. Определить натяжение нити в тот момент, когда она составляет угол $\beta = 30^\circ$ с вертикалью. Ускорение свободного падения принять $g = 10$ м/с².

Решение. Уравнение движения груза в проекции на неподвижную ось, совпадающую по направлению с нитью в данный момент времени, имеет вид:

$\frac{mv^2}{l} = T - mg \cos \beta$, где T — натяжение нити, l — ее длина, v — скорость груза.

Отсюда $T = \frac{mv^2}{l} + mg \cos \beta$. Из закона сохранения энергии следует, что $v^2 = 2gl(\cos \beta - \cos \alpha)$. Объединяя записанные выражения, получаем:

$$T = mg(3 \cos \beta - 2 \cos \alpha) = \frac{mg}{2}(3\sqrt{3} - 2) \approx 1,6 \text{ Н.}$$

Ответ. $T \approx 1,6$ Н.

1.2.43. Два одинаковых шарика плотностью $\rho = 1,2 \cdot 10^3$ кг/м³ связаны невесомой и нерастяжимой нитью, перекинутой через невесомый блок. Один из шариков погружен в жидкость плотностью $\rho_{\text{ж}} = 0,8 \cdot 10^3$ кг/м³. Сила сопротивления жидкости, действующая на шарик, пропорциональна его скорости. Найти величину v установившейся скорости движения шариков, если известно, что установившаяся скорость падения одиночного шарика в этой жидкости $v_0 = 2$ см/с. Сопротивлением воздуха пренебречь.

Решение. Для одиночного шарика, падающего в жидкости с установившейся скоростью v_0 , имеем: $\rho Vg - \rho_{\text{ж}} Vg - \beta v_0 = 0$, где V — объем шарика, β — коэффициент сопротивления. Отсюда

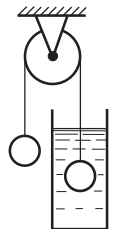
$$\beta = \frac{Vg(\rho - \rho_{\text{ж}})}{v_0}.$$

Установившееся движение двух шариков, связанных нитью, описывается уравнениями:

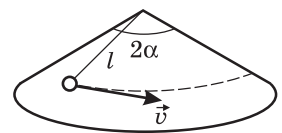
$\rho Vg - T = 0$ (для левого шарика),
 $\rho Vg - T - \rho_{\text{ж}} Vg + \beta v = 0$ (для правого шарика), где T — натяжение нити.

Объединяя записанные выражения, получаем: $v = \frac{\rho_{\text{ж}} v_0}{\rho - \rho_{\text{ж}}} = 4$ см/с.

Ответ. $v = 4$ см/с.

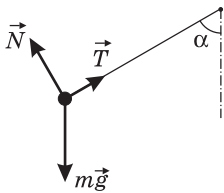


1.2.44. На поверхности гладкого кругового конуса с углом $2\alpha = 120^\circ$ при вершине покоится шарик, прикрепленный нерастяжимой нитью длиной $l = 20$ см к вершине конуса, как показано на рисунке. Во сколько раз n изменится сила натяжения нити, если шарика сообщить скорость $v = 50$ см/с, направленную перпендикулярно



нити вдоль боковой поверхности конуса? Считать, что при движении шарик не отрывается от поверхности конуса. Трение не учитывать.

Решение. На покоящийся шарик действуют силы, изображенные на рисунке, где $m\vec{g}$ — сила тяжести; \vec{N} — сила реакции поверхности конуса, \vec{T} — сила натяжения нити. Условия равновесия шарика имеют вид: $T\sin\alpha - N\cos\alpha = 0$, $T\cos\alpha + N\sin\alpha - mg = 0$. Отсюда $T = mg\cos\alpha$. Когда шарiku сообщат скорость v , он придет в движение по окружности радиусом $R = l\sin\alpha$. Это движение описывается уравнениями:

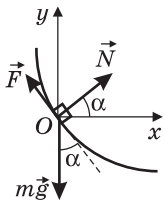
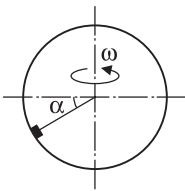


$$\frac{mv^2}{R} = T_1 \sin\alpha - N_1 \cos\alpha, \quad T_1 \cos\alpha + N_1 \sin\alpha - mg = 0. \quad \text{Отсю-}$$

$$\text{да } T_1 = m \left(g \cos\alpha + \frac{v^2}{l} \right).$$

$$\text{О т в е т. } n = 1 + \frac{v^2}{gl\cos\alpha} = 1,25.$$

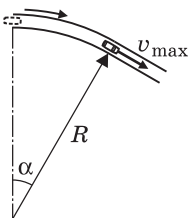
1.2.45. На внутренней поверхности сферы радиуса R , вращающейся вокруг вертикальной оси с постоянной угловой скоростью ω , располагается маленький брусок массой m . Положение бруска задается углом α между горизонталью и прямой, проведенной к бруску из центра сферы. Считая значение угла α известным, найти модуль силы трения, удерживающей брусок от скольжения по поверхности сферы. Ускорение свободного падения g .



Решение. Брусок движется по горизонтальной окружности под действием сил, изображенных на рисунке, где $m\vec{g}$ — сила тяжести, \vec{N} — нормальная составляющая силы реакции сферы, \vec{F} — сила трения. В проекциях на оси Ox и Oy неподвижной координатной системы имеем: $m\omega^2 R \cos\alpha = N \cos\alpha - F \sin\alpha$, $F \cos\alpha + N \sin\alpha - mg = 0$. Исключая отсюда N , находим, что $F = m \cos\alpha (g - \omega^2 R \sin\alpha)$. Если угловая скорость вращения сферы такова, что $\omega^2 R \sin\alpha > g$, то сила трения направлена противоположно.

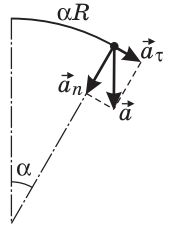
$$\text{О т в е т. } F = m \cos\alpha |g - \omega^2 R \sin\alpha|.$$

1.2.46. Горизонтальный участок шоссе представляет собой дугу окружности радиуса $R = 100$ м с центральным углом $\alpha = 30^\circ$, переходящую в прямолинейный отрезок. Автомобиль со всеми ведущими колесами, стоявший в начале криволинейного участка, начинает разгоняться с постоянным тангенциальным ускорением. С какой максимальной по модулю скоростью v_{\max} может выехать автомобиль на прямолинейный участок, если коэффициент трения между шинами автомобиля и полотном шоссе $\mu = 0,3$? Ускорение свободного падения считать равным $g = 10$ м/с².



Решение. Максимально возможное значение ускорения автомобиля ограничивается максимальной величиной

силы трения покоя и составляет $a = \mu g$. Вектор ускорения автомобиля может быть представлен в виде $\vec{a} = \vec{a}_n + \vec{a}_\tau$, где \vec{a}_n и \vec{a}_τ — нормальная и тангенциальная составляющие ускорения, причем $a^2 = a_n^2 + a_\tau^2$. Нормальное ускорение $a_n = \frac{v^2}{R}$ максимально в конце пути по дуге, когда скорость автомобиля максимальна. Тангенциальное ускорение по условию постоянно. Поэтому скорость, которую будет иметь автомобиль

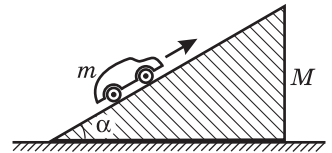


в конце пути по дуге, равна $v_{\max} = \sqrt{2a_\tau \alpha R}$. Нормальное ускорение автомобиля в этот момент будет $a_n = 2a_\tau \alpha$. Из условия $a_n^2 + a_\tau^2 = \mu^2 g^2$ находим $a_\tau = \frac{\mu g}{\sqrt{4\alpha^2 + 1}}$. Отметим, что $a_\tau \leq \mu g$, т. е. при разгоне автомобиль движется без проскальзывания.

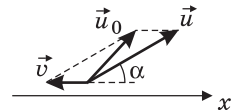
$$\text{Ответ. } v_{\max} = \sqrt{\frac{2\mu g \alpha R}{\sqrt{4\alpha^2 + 1}}} \approx 14,7 \text{ м/с.}$$

1.3. Законы сохранения в механике

1.3.1. Клин массой $M = 0,5$ кг с углом при основании $\alpha = 30^\circ$ покоится на гладкой горизонтальной плоскости. На наклонную поверхность клина ставят заводной автомобиль массой $m = 0,1$ кг и отпускают без начальной скорости, после чего автомобиль начинает движение вверх по клину в плоскости рисунка. Найти скорость u автомобиля относительно клина в момент, когда клин приобретает относительно плоскости скорость $v = 2$ см/с.



Решение. В системе двух тел «автомобиль + клин» сохраняется горизонтальная проекция суммарного импульса. Следовательно, в неподвижной системе отсчета выполняется соотношение: $Mv - mu_{0x} = 0$, где v — модуль скорости клина, u_{0x} — горизонтальная проекция абсолютной скорости автомобиля \vec{u}_0 . По закону сложения скоростей (см. рисунок), $\vec{u}_0 = \vec{v} + \vec{u}$, где \vec{u} — скорость автомобиля относительно клина. В проекции на горизонтальную ось это равенство имеет вид: $u_{0x} = u_x - v = u \cos \alpha - v$. Объединяя записанные соотношения, получаем: $u = \frac{M + m}{m \cos \alpha} v \approx 14$ см/с.



Ответ. $u = 14$ см/с.

1.3.2. На прямолинейном горизонтальном участке пути стоят $N = 5$ одинаковых вагонов. Промежутки между соседними вагонами одинаковы и равны $L = 30$ м. К крайнему вагону подкатывается еще один такой же вагон, имеющий скорость $v_0 = 2$ м/с. В результате N последовательных столкно-

вений, в каждом из которых сталкивающиеся вагоны сцепляются вместе, все $N + 1$ вагонов соединяются в один состав. Найти время τ между первым и последним столкновениями. Силами сопротивления движению вагонов пренебречь.

Решение. Движущийся и покоящиеся вагоны представляют собой замкнутую механическую систему. Пусть m — масса одного вагона. По закону сохранения импульса, для последовательных столкновений вагонов имеем: $mv_0 = 2mv_1$, $2mv_1 = 3mv_2$, $3mv_2 = 4mv_3, \dots$, где v_n — скорость состава после n -го столкновения. Отсюда следует, что $v_n = v_0 / (n + 1)$. Время между n -м

и $(n + 1)$ -м столкновениями равно: $t_n = \frac{L}{v_n} = \frac{L(n + 1)}{v_0}$. Искомое время между

первым и последним, т. е. $(N - 1)$ -м столкновениями: $\tau = t_1 + t_2 + \dots + t_{N-1} =$

$= \frac{L}{v_0}(2 + 3 + \dots + N)$. По формуле для суммы арифметической прогрессии на-

ходим: $\tau = \frac{L(N^2 + N - 2)}{2v_0} = 210$ с.

Ответ. $\tau = 210$ с.

1.3.3. Граната разрывается в наивысшей точке траектории на два одинаковых осколка. Один из осколков летит в обратном направлении с той же по модулю скоростью, которую имела граната до разрыва. На каком расстоянии l от места бросания гранаты упадет на землю второй осколок, если расстояние по горизонтали от места бросания до точки, над которой произошел разрыв гранаты, составляет $a = 15$ м? Граната брошена от поверхности земли. Сопротивление воздуха не учитывать.

Решение. По условию, при разрыве гранаты скорость гранаты и скорости образовавшихся осколков направлены горизонтально. В проекции на это направление закон сохранения импульса, записанный в момент разрыва

гранаты, имеет вид: $mv_x = -\frac{m}{2}v_x + \frac{m}{2}u_x$, где v_x — горизонтальная проекция

скорости гранаты, u_x — горизонтальная проекция скорости осколка, полетевшего после разрыва вперед. Отсюда $u_x = 3v_x$. Имея такую скорость, этот осколок за время падения на землю переместится по горизонтали на расстояние $3a$.

Ответ. $l = 4a = 60$ м.

1.3.4. Граната массой $m = 1$ кг разорвалась на высоте $h = 6$ м над землей на два осколка. Непосредственно перед разрывом скорость гранаты была направлена горизонтально и по модулю равна $v = 10$ м/с. Один из осколков массой $m_1 = 0,4$ кг полетел вертикально вниз и упал на землю под местом разрыва со скоростью $v_1 = 40$ м/с. Чему равен модуль скорости v_2 второго осколка сразу после разрыва? Ускорение свободного падения $g = 9,8$ м/с².

Решение. Обозначим через $v_{1н}$ модуль скорости первого осколка сразу после разрыва гранаты. Пренебрегая импульсом силы тяжести за время разрыва, по закону сохранения импульса имеем: в проекции на горизонтальное

направление: $mv = (m - m_1)v_{2x}$, в проекции на вертикальное направление:

$m_1v_{1н} = (m - m_1)v_{2y}$. Отсюда $v_{2x} = \frac{mv}{m - m_1}$, $v_{2y} = \frac{m_1v_{1н}}{m - m_1}$. Скорость падения

первого осколка на землю и его скорость сразу после разрыва гранаты связаны кинематическим соотношением: $v_1^2 = v_{1н}^2 + 2gh$. Учитывая, что

$v_2 = \sqrt{v_{2x}^2 + v_{2y}^2}$, получаем: $v_2 = \frac{1}{m - m_1} \sqrt{m^2v^2 + m_1^2(v_1^2 - 2gh)} \approx 30,6 \text{ м/с}$.

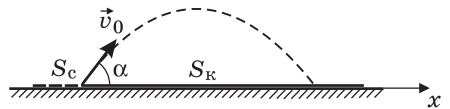
Ответ. $v_2 \approx 30,6 \text{ м/с}$.

1.3.5. Кузнечик сидит на одном из концов соломинки длиной $l = 50 \text{ см}$, покоящейся на гладком полу. С какой минимальной относительно пола скоростью v_0 он должен прыгнуть, чтобы при приземлении попасть точно на второй конец соломинки? Масса кузнечика в $\beta = 3$ раза больше массы соломинки. Размерами кузнечика и трением между полом и соломинкой пренебречь. Ускорение свободного падения $g = 9,8 \text{ м/с}^2$.

Решение. В системе двух тел «кузнечик + соломинка» сохраняется горизонтальная проекция суммарного импульса, откуда следует, что в неподвижной системе отсчета справедливо равенство: $mv_0 \cos\alpha = Mu$, где m и M — массы кузнечика и соломинки соответственно; u — скорость соломинки. Отсюда $u = mv_0 \cos\alpha / M$. Время, которое кузнечик проводит в полете, $t_0 = \frac{2v_0 \sin\alpha}{g}$. За это время перемещение соломинки влево и горизонтальное перемещение кузнечика вправо равны соответственно:

$S_c = ut_0 = \frac{2v_0^2}{g} \cdot \frac{m}{M} \sin\alpha \cos\alpha$, $S_k = v_0 t_0 \cos\alpha = \frac{2v_0^2}{g} \sin\alpha \cos\alpha$. По условию, эти величины связаны соотношением: $S_c + S_k = l$. Учитывая, что $m/M = \beta$, находим величину начальной скорости

кузнечика: $v_0 = \sqrt{\frac{gl}{\sin 2\alpha \cdot (1 + \beta)}}$. Эта величина минимальна при $\sin 2\alpha = 1$, т. е. при $\alpha = 45^\circ$.



Ответ. $v_0 = \sqrt{\frac{gl}{1 + \beta}} \approx 1,1 \text{ м/с}$.

1.3.6. Из пушки производится выстрел таким образом, что дальность полета снаряда в $n = 2$ раза превышает максимальную высоту траектории. Считая известным модуль начального импульса снаряда $p_0 = 1000 \text{ кг} \cdot \text{м/с}$, определить модуль его импульса p в верхней точке траектории. Сопротивлением воздуха пренебречь.

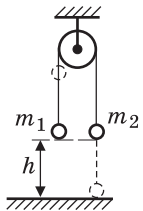
Решение. Обозначим через α угол, который образует с горизонталью начальная скорость снаряда v_0 . Тогда искомая величина $p = p_0 \cos\alpha$. Используя для дальности L и максимальной высоты H полета снаряда

известные выражения: $L = \frac{2v_0^2}{g} \sin \alpha \cos \alpha$, $H = \frac{v_0^2}{2g} \sin^2 \alpha$, находим, что

$$n = \frac{L}{H} = 4 \operatorname{ctg} \alpha. \text{ Отсюда } \cos \alpha = \frac{\operatorname{ctg} \alpha}{\sqrt{1 + \operatorname{ctg}^2 \alpha}} = \frac{1}{\sqrt{1 + 16/n^2}}.$$

Ответ. $p = \frac{P_0}{\sqrt{1 + 16/n^2}} = \frac{P_0}{\sqrt{5}} \approx 447 \text{ кг} \cdot \text{м/с}.$

1.3.7. Два груза массами m_1 и m_2 подвешены на концах нити, перекинутой через блок. Оба груза вначале неподвижны и находятся на одной высоте h над горизонтальной подставкой. Найти величину изменения импульса системы грузов Δp за время, прошедшее от начала их движения до момента, когда один из грузов коснется подставки. Нить невесома и нерастяжима, блок невесом. Ускорение свободного падения g .



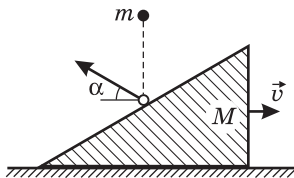
Решение. Пусть v — модуль скорости грузов в момент, когда один из них (например m_2) коснется подставки. По закону сохранения механической энергии имеем:

$$m_1 gh + m_2 gh = \frac{m_1 v^2}{2} + \frac{m_2 v^2}{2} + 2m_1 gh. \text{ Отсюда } v = \sqrt{\frac{2gh|m_2 - m_1|}{m_1 + m_2}}.$$

Поскольку первоначально грузы покоились, изменение их импульса за время движения $\Delta p = m_2 v - m_1 v$.

Ответ. $\Delta p = |m_2 - m_1| \sqrt{\frac{2gh|m_2 - m_1|}{m_2 + m_1}}.$

1.3.8. На покоящийся на гладком горизонтальном столе клин массой $M = 1 \text{ кг}$ с высоты $h = 50 \text{ см}$ падает резиновый шарик массой $m = 10 \text{ г}$ и отскакивает под углом $\alpha = 30^\circ$ к горизонту. Найти скорость клина v после удара. Соударение между шариком и клином считать абсолютно упругим, трение между клином и столом не учитывать. Ускорение свободного падения принять $g = 10 \text{ м/с}^2$.



Решение. Пусть u_0 и u — модули скоростей шарика до и после соударения с клином соответственно. Для тела, падающего без начальной скорости с высоты h , имеем: $u_0 = \sqrt{2gh}$. Из закона сохранения проекции импульса системы «шарик + клин» на горизонтальную ось следует, что $mu \cos \alpha = Mv$. При упругом соударении шарика и клина сохраняется суммарная кинетическая энергия этих тел:

$$\frac{mu_0^2}{2} = \frac{mu^2}{2} + \frac{Mv^2}{2}. \text{ Объединяя записанные выражения, получаем:}$$

$$v = m \cos \alpha \sqrt{\frac{2gh}{M(M + m \cos^2 \alpha)}} \approx 2,7 \text{ см/с}.$$

Ответ. $v \approx 2,7 \text{ см/с}.$

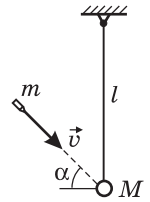
1.3.9. Тело массой $M = 0,1$ кг подвешено на длинной невесомой нити. Нить отклонили так, что тело поднялось на высоту $h = 0,4$ м. После этого тело отпустили. В момент, когда оно проходило нижнюю точку траектории, в тело попал горизонтально летевший пластилиновый шарик, который прилип к телу, после чего тело остановилось. С какой скоростью v летел шарик, если его масса $m = 7$ г?

Решение. Обозначим через v_0 скорость тела в нижней точке траектории. Учитывая, что сила натяжения нити работу не совершает, по закону сохранения механической энергии имеем: $Mgh = \frac{Mv_0^2}{2}$. Поскольку после удара тело и пластилиновый шарик останавливаются, из закона сохранения импульса следует, что $Mv_0 - mv = 0$.

О т в е т. $v = \frac{M}{m}\sqrt{2gh} = 40$ м/с.

1.3.10. Шар массой $M = 1$ кг подвешен на невесомом жестком стержне длиной $l = 1,25$ м, шарнирно закрепленном за верхний конец. В шар попадает пуля массой $m = 10$ г, летящая со скоростью $v = 500$ м/с под углом $\alpha = 45^\circ$ к горизонту, и застревает в нем. Определить максимальный угол β отклонения стержня от вертикали. Ускорение свободного падения $g = 9,8$ м/с².

Решение. Пусть u — модуль скорости шара с застрявшей в нем пулей непосредственно после соударения. По закону сохранения импульса, в проекции на горизонтальное направление имеем: $mv\cos\alpha = (m + M)u$. При движении шара с пулей после соударения сохраняется механическая энергия, откуда следует, что высота



подъема шара над нижней точкой $h = \frac{u^2}{2g}$. В то же время, $h = l(1 - \cos\beta)$.

О т в е т. $\beta = \arccos\left[1 - \frac{m^2v^2\cos^2\alpha}{2(m + M)^2gl}\right] \approx 60^\circ$.

1.3.11. Два одинаковых груза нужно поднять на крышу дома. 1-й рабочий решил поднимать груз на веревке вертикально вверх, 2-й — тянуть груз вверх по трапу, угол наклона которого к горизонту $\alpha = 60^\circ$, а коэффициент трения между грузом и трапом $\mu = 0,05$. Во сколько раз n отличаются работы, совершенные при подъеме грузов на крышу обоими рабочими?

Решение. Работа, совершенная первым рабочим при подъеме груза массой m вертикально вверх на высоту h , равна приращению потенциальной энергии груза: $A_1 = mgh$. При перемещении груза вверх по трапу сила, с которой второй рабочий тянет груз, $F = mg(\sin\alpha + \mu\cos\alpha)$, а путь, пройденный грузом, $S = \frac{h}{\sin\alpha}$. Поэтому работа, совершенная вторым рабочим, $A_2 = FS = mgh + \mu mgh \operatorname{ctg}\alpha$.

О т в е т. $n = 1 + \mu \operatorname{ctg}\alpha \approx 1,03$.

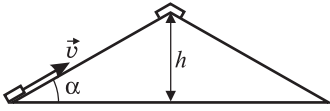
1.3.12. С горки высоты $h = 2$ м с углом наклона $\alpha = 45^\circ$ начинают скатываться санки с нулевой начальной скоростью. Найти скорость v санок у основания горки, если на верхней половине горки коэффициент трения пренебрежимо мал, а на нижней половине коэффициент трения $\mu = 0,1$.

Решение. Длина участка горки, на котором коэффициент трения отличен от нуля, $S = \frac{h}{2\sin\alpha}$. Модуль силы трения, действующей на санки на этом участке, $F_{\text{тр}} = \mu mg \cos\alpha$. Работа силы трения $A_{\text{тр}} = -F_{\text{тр}}S = -\frac{1}{2}\mu mgh \operatorname{ctg}\alpha$.

По закону изменения механической энергии, $\frac{mv^2}{2} - mgh = A_{\text{тр}}$.

Ответ. $v = \sqrt{gh(2 - \mu \operatorname{ctg}\alpha)} \approx 6,1$ м/с.

1.3.13. Кирпич, лежащий на краю крыши дома, толкнули вверх вдоль ската со скоростью $v = 10$ м/с. После упругого удара о конек кирпич соскользнул обратно и остановился на краю крыши. Найти коэффициент трения μ между кирпичом и поверхностью крыши, если конек находится на высоте $h = 2,5$ м от края крыши, а угол наклона крыши к горизонту $\alpha = 30^\circ$. Ускорение свободного падения $g = 9,8$ м/с².



Решение. Поскольку удар кирпича о конек крыши является упругим, изменение полной механической энергии кирпича при его движении по крыше связано с работой силы трения. Модуль этой работы равен:

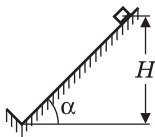
$$A = F_{\text{тр}}S = \mu mg \cos\alpha \cdot 2 \frac{h}{\sin\alpha} = 2\mu mg \operatorname{ctg}\alpha.$$

Учитывая, что значения потенциальной энергии кирпича в начальном и конечном состояниях совпадают и кирпич останавливается точно на краю крыши, закон изменения полной механической энергии кирпича запишется в виде: $\frac{mv^2}{2} = 2\mu mg \operatorname{ctg}\alpha$.

Ответ. $\mu = \frac{v^2}{4gh} \operatorname{tg}\alpha \approx 0,59$.

1.3.14. С наклонной плоскости, составляющей угол $\alpha = 45^\circ$ с горизонтом, соскальзывает небольшое тело и ударяется о выступ, перпендикулярный ей.

Считая удар о выступ абсолютно упругим, найти, на какую высоту h поднимется тело после удара. Начальная высота тела $H = 1$ м, коэффициент трения $\mu = 0,5$.



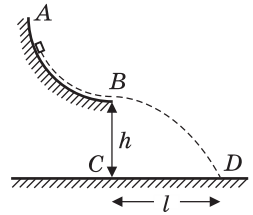
Решение. Пусть m — масса тела. Модуль силы трения, действующей на тело, $F_{\text{тр}} = \mu mg \cos\alpha$. Путь, пройденный телом по наклонной плоскости от начального до конечного по-

ложения, $S = \frac{H+h}{\sin\alpha}$. Работа силы трения $A_{\text{тр}} = -F_{\text{тр}}S = -\mu mg(H+h) \operatorname{ctg}\alpha$.

Поскольку в начальном и конечном положениях скорость тела равна нулю, по закону изменения механической энергии $mgh - mgH = A_{\text{тр}}$.

Ответ. $h = H \cdot \frac{1 - \mu \operatorname{ctg}\alpha}{1 + \mu \operatorname{ctg}\alpha} \approx 0,33$ м.

1.3.15. Маленький брусок массой $m = 100$ г соскальзывает по шероховатому желобу AB , составляющему четверть окружности радиусом $R = 1$ м, и падает на горизонтальную поверхность в точку D . Точка B желоба находится на высоте $h = 2$ м от горизонтальной поверхности. Расстояние между точками C и D равно $l = 2$ м. Найти модуль A работы силы трения бруска о желоб. Ускорение свободного падения принять $g = 10$ м/с².



Решение. Согласно закону изменения механической энергии, модуль работы силы трения при движении бруска по желобу равен $A = E_n - E_k$, где

$E_n = mgR$ — энергия бруска в начале движения по желобу, $E_k = \frac{mv^2}{2}$ — энергия бруска в конце движения по желобу, v — скорость бруска в точке B . Из кинематических уравнений, описывающих свободное падение бруска в течение времени τ , следует: $l = v\tau$, $h = \frac{g\tau^2}{2}$. Объединяя записанные

выражения, получаем: $A = mg\left(R - \frac{l^2}{4h}\right) = 0,5$ Дж.

О т в е т. $A = 0,5$ Дж.

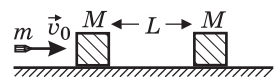
1.3.16. На горизонтальной плоскости лежит деревянный брусок массой $M = 100$ г. В брусок попадает пуля массой $m = 10$ г, летящая горизонтально со скоростью $v_1 = 800$ м/с, и пробивает его насквозь. Скорость пули после вылета из бруска $v_2 = 200$ м/с. Какое количество энергии Q перешло во внутреннюю энергию тел в процессе удара? Трением бруска о плоскость пренебречь.

Решение. По закону сохранения импульса, $mv_1 = mv_2 + Mu$, откуда скорость бруска после вылета из него пули $u = \frac{m}{M}(v_1 - v_2)$. По закону изменения

механической энергии, $\frac{mv_1^2}{2} = \frac{mv_2^2}{2} + \frac{Mu^2}{2} + Q$.

О т в е т. $Q = \frac{m}{2}(v_1 - v_2) \cdot \left[v_1 + v_2 - \frac{m}{M}(v_1 - v_2) \right] = 2820$ Дж.

1.3.17. На гладком горизонтальном столе покоятся два одинаковых кубика массой M каждый. В центр левого кубика попадает пуля массой m , летящая горизонтально со скоростью v_0 , направленной вдоль линии, соединяющей центры кубиков. Пробив насквозь левый кубик, пуля летит дальше со скоростью $v_0/2$, попадает в правый кубик и застревает в нем. Через какое время τ после попадания пули в левый кубик кубики столкнутся, если начальное расстояние между ними равно L ? Размерами кубиков пренебречь.

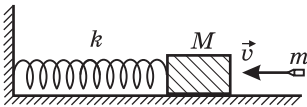


Решение. Пусть u_1 и u_2 — скорости брусков после соударения с пулей. Из закона сохранения импульса при взаимодействии пули с кубиками сле-

дуют равенства: $mv_0 = Mu_1 + \frac{mv_0}{2}$, $\frac{mv_0}{2} = (m + M)u_2$. Отсюда $u_1 = \frac{m}{M} \cdot \frac{v_0}{2}$, $u_2 = \frac{m}{m + M} \cdot \frac{v_0}{2}$. Время полета пули с момента столкновения с левым кубиком до момента столкновения с правым кубиком равно $t_1 = \frac{2L}{v_0}$. За это время левый кубик сместился на расстояние $x_1 = u_1 t_1 = \frac{m}{M} L$. Относительная скорость кубиков $u_{\text{отн}} = u_1 - u_2 = \frac{m^2 v_0}{2M(m + M)}$. Время, которое прошло с момента, когда пуля попала в правый кубик, до столкновения кубиков, $t_2 = \frac{L - x_1}{u_{\text{отн}}} = \frac{2L(M^2 - m^2)}{m^2 v_0}$. Искомое время $\tau = t_1 + t_2$. Объединяя записанные выражения, получаем: $\tau = \frac{2L}{v_0} \cdot \frac{M^2}{m^2}$.

О т в е т. $\tau = \frac{2L}{v_0} \cdot \frac{M^2}{m^2}$.

1.3.18. На горизонтальной плоскости лежит деревянный брусок массой $M = 4$ кг, прикрепленный к вертикальной стенке пружиной жесткостью $k = 100$ Н/м. В центр бруска попадает пуля массой $m = 10$ г, летящая горизонтально и параллельно оси пружины, и застревает в нем. Определить скорость пули v , если максимальное сжатие пружины после удара составило $\Delta l = 30$ см. Трением бруска о плоскость пренебречь.

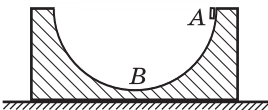


Решение. Поскольку соударение пули с бруском является кратковременным, смещение бруска за время соударения пренебрежимо мало и сила упругости в момент соударения не возникает. Следовательно, суммарный импульс пули и бруска во время соударения сохраняется: $mv = (m + M)u$, где u — скорость бруска с застрявшей в нем пулей сразу после соударения. При последующем движении бруска и пули сохраняется механическая энергия, причем при достижении максимального сжатия пружины брусок с пулей останавливается. Следовательно,

Следовательно, $\frac{(m + M)u^2}{2} = \frac{k\Delta l^2}{2}$. Объединяя записанные выражения, получаем: $v = \frac{\Delta l}{m} \sqrt{(M + m)k} = 600$ м/с.

О т в е т. $v = 600$ м/с.

1.3.19. Сферическая чашка массой $M = 200$ г покоится на гладкой горизонтальной поверхности. По внутренней поверхности чашки из положения A начинает скользить без начальной скорости маленький брусок массой $m = 20$ г. Какую скорость v будет иметь чашка в тот момент,

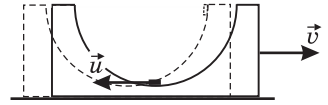


когда брусок достигнет наинизшей точки (положение B), если радиус чашки $R = 8$ см. Трением между всеми поверхностями пренебречь.

Решение. Положение тел в момент, когда брусок достигает наинизшей точки, изображено на рисунке сплошными линиями. Скорость бруска \vec{u} направлена в этот момент горизонтально. Из законов сохранения импульса и механической энергии имеем:

$$mu = Mv, \quad mgR = \frac{mu^2}{2} + \frac{Mv^2}{2}. \quad \text{Исключая } u, \text{ полу-}$$

$$\text{чаем: } v = m\sqrt{\frac{2gR}{M(m+M)}} \approx 11,9 \text{ см/с.}$$



Ответ. $v = 11,9$ см/с.

1.3.20. Два шарика массами m_1 и m_2 , покоящиеся на гладкой горизонтальной плоскости, связаны пружиной длиной l и жесткостью k . Шарикку массой m_1 сообщили скорость v_0 в направлении от шарика массой m_2 вдоль линии, соединяющей их центры. На какое максимальное расстояние L удалятся шарики друг от друга?

Решение. Из законов сохранения импульса и энергии, записанных в неподвижной системе отсчета, следуют равенства: $m_1v_0 = m_1v_1 + m_2v_2$,

$$\frac{m_1v_0^2}{2} = \frac{m_1v_1^2}{2} + \frac{m_2v_2^2}{2} + \frac{kx^2}{2}, \quad \text{где } x \text{ — абсолютное удлинение пружины, } v_1$$

и v_2 — скорости шариков в произвольный момент времени. Когда шарики удалятся друг от друга на максимальное расстояние, их относительная скорость обратится в нуль, т. е. $v_1 = v_2 = v$. Обозначив через x_0 максимальное удлинение пружины, получаем, что в этот момент справедливы равенства:

$$m_1v_0 = (m_1 + m_2)v, \quad m_1v_0^2 = (m_1 + m_2)v^2 + kx_0^2. \quad \text{Отсюда } x_0 = v_0\sqrt{\frac{m_1m_2}{k(m_1 + m_2)}}.$$

$$\text{Учитывая, что } L = l + x_0, \text{ получаем: } L = l + v_0\sqrt{\frac{m_1m_2}{k(m_1 + m_2)}}.$$

$$\text{Ответ. } L = l + v_0\sqrt{\frac{m_1m_2}{k(m_1 + m_2)}}.$$

1.3.21. Из покоящейся пушки массой $M = 500$ кг, находящейся на гладкой горизонтальной поверхности, производится в горизонтальном направлении выстрел. После выстрела снаряд массой $m = 10$ кг имеет скорость относительно земли $v = 500$ м/с. Какое количество энергии E выделилось при сгорании пороха, если кинетическая энергия снаряда и пушки после выстрела равна αE . При расчетах принять $\alpha = 1/3$.

Решение. Пусть u — скорость пушки после выстрела. Из закона сохранения импульса и закона изменения механической энергии следуют равенства:

$$mv = Mu, \quad \frac{mv^2}{2} + \frac{Mu^2}{2} = \alpha E.$$

$$\text{Ответ. } E = \frac{m}{2\alpha} \left(1 + \frac{m}{M}\right) v^2 = 3,825 \text{ МДж.}$$

1.3.22. Граната брошена от поверхности земли под углом $\alpha = 30^\circ$ к горизонту с начальной скоростью $v_0 = 10$ м/с. В верхней точке траектории граната разбивается на два одинаковых осколка, скорости которых сразу после взрыва направлены горизонтально. На каком расстоянии l друг от друга упадут осколки, если кинетическая энергия, сообщенная им при взрыве, $E = 18$ Дж, а масса гранаты $m = 1$ кг? Сопротивлением воздуха пренебречь, ускорение свободного падения принять $g = 10$ м/с².

Решение. Перейдем в систему отсчета, равномерно движущуюся со скоростью, которую имела граната непосредственно перед разрывом. В этой системе суммарный импульс осколков равен нулю, поэтому их скорости после разрыва противоположны по направлению и, в силу равенства их масс, равны по величине. В результате взрыва осколки приобретают кинетическую энергию E , которая поровну делится между ними. Обозначив через v модуль скорости каждого из осколков, имеем:

$$E = \frac{m}{2} \cdot \frac{v^2}{2} + \frac{m}{2} \cdot \frac{v^2}{2} = \frac{mv^2}{2}, \quad \text{откуда} \quad v = \sqrt{\frac{2E}{m}}.$$

Время падения осколков $t_0 = \frac{v_0 \sin \alpha}{g}$. За это время каждый из осколков смещается по горизонтали

на расстояние vt_0 . Расстояние между точками падения равно $l = 2vt_0$.

Объединяя записанные выражения, получаем: $l = 2 \frac{v_0 \sin \alpha}{g} \sqrt{\frac{2E}{m}} = 6$ м.

Ответ. $l = 6$ м.

Замечание. Ответ не зависит от выбора системы отсчета, поскольку расстояние между двумя точками во всех системах отсчета одинаково.

1.3.23. С пристани на палубу покоящегося не пришвартованного катера массой $M = 500$ кг бросают с горизонтальной скоростью $v = 5$ м/с ящик массой $m = 50$ кг, который в результате трения о палубу останавливается на ней. Какое количество теплоты Q выделится при трении ящика о палубу? Сопротивлением воды движению катера пренебречь.

Решение. Пусть u — скорость катера в момент, когда ящик останавливается на палубе. Из закона сохранения импульса и закона изменения механической энергии следуют равенства:

$$mv = (M + m)u, \quad \frac{mv^2}{2} = \frac{(M + m)u^2}{2} + Q.$$

Ответ. $Q = \frac{mM}{2(m + M)}v^2 = 568,2$ Дж.

1.3.24. Человек массой $M = 70$ кг, неподвижно стоявший на коньках, бросил вперед в горизонтальном направлении снежный ком массой $m = 3,5$ кг. Какую работу A совершил человек при броске, если после броска он откатился назад на расстояние $S = 0,2$ м? Коэффициент трения коньков о лед $\mu = 0,01$. Ускорение свободного падения принять $g = 10$ м/с².

Решение. Пусть v и u — скорости снежного кома и человека сразу после броска. Совершенная при броске работа потрачена на сообщение кинетической энергии как снежному кому, так и самому человеку:

$$A = \frac{mv^2}{2} + \frac{Mu^2}{2}.$$

Считая бросок кратковременным, можно пренебречь импульсом силы трения за время броска. Поэтому в момент броска сохраняется суммарный импульс снежного кома и человека, откуда следует, что $mv = Mu$. Закон изменения механической энергии при движении человека после броска дает

соотношение: $\frac{Mu^2}{2} = \mu MgS$. Объединяя записанные равенства, получаем:

$$A = M \left(1 + \frac{M}{m} \right) \mu g S = 29,4 \text{ Дж.}$$

О т в е т. $A = 29,4$ Дж.

1.3.25. Опираясь о барьер катка, мальчик бросил камень горизонтально со скоростью $v_1 = 5$ м/с. Какова будет скорость v_2 камня относительно мальчика, если он бросит камень горизонтально, совершив при броске прежнюю работу, но стоя на гладком льду? Масса камня $m = 1$ кг, масса мальчика $M = 50$ кг. Трением о лед пренебречь.

Р е ш е н и е. При первом броске мальчик совершил работу $A = \frac{mv_1^2}{2}$. При втором броске такая же работа была затрачена на сообщение кинетической энергии не только камню, но и мальчику. Пусть v'_2 и u — скорости камня и мальчика в неподвижной системе отсчета. По закону сохранения импульса, $mv'_2 - Mu = 0$. Закон изменения кинетической энергии приводит к равенству: $A = \frac{mv_1^2}{2} = \frac{mv_2'^2}{2} + \frac{Mu^2}{2}$. Отсюда $v'_2 = v_1 \sqrt{\frac{M}{m+M}}$, $u = v_1 \frac{m}{M} \sqrt{\frac{M}{m+M}}$. Из закона сложения скоростей следует, что скорость камня относительно мальчика $v_2 = v'_2 + u$.

$$\text{О т в е т. } v_2 = v_1 \sqrt{1 + \frac{m}{M}} \approx 5,05 \text{ м/с.}$$

1.3.26. При броске тела от поверхности Земли под некоторым углом к горизонту была совершена работа $A = 58,8$ Дж. На каком расстоянии S от места бросания тело упало на Землю, если его масса $m = 1$ кг, а максимальная высота подъема в полете $H = 3$ м? Ускорение свободного падения $g = 9,8$ м/с².

Р е ш е н и е. Обозначим через v_0 модуль скорости тела после броска. По условию, $\frac{mv_0^2}{2} = A$, откуда $v_0 = \sqrt{2A/m}$. Максимальная высота подъема тела, брошенного под углом α к горизонту: $H = \frac{v_0^2 \sin^2 \alpha}{2g}$. Отсюда

$$\sin \alpha = \sqrt{\frac{2gH}{v_0^2}} = \sqrt{\frac{mgH}{A}}, \quad \cos \alpha = \sqrt{1 - \frac{mgH}{A}}. \text{ Поскольку дальность полета тела}$$

$$L = \frac{2v_0^2 \sin \alpha \cos \alpha}{g}, \text{ получаем: } S = 4H \sqrt{\frac{A}{mgH} - 1} = 12 \text{ м.}$$

О т в е т. $S = 12$ м.

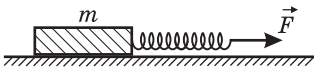
1.3.27. Спутник запущен на круговую орбиту, проходящую на высоте $h = 350$ км над поверхностью Земли. Через некоторое время спутник перевели на другую круговую орбиту, радиус которой меньше на $\Delta h = 25$ км. На какую величину η изменилась при этом кинетическая энергия спутника по отношению к ее первоначальному значению? Радиус Земли $R = 6400$ км.

Решение. Уравнение движения спутника по круговой орбите под действием силы притяжения Земли имеет вид: $\frac{mv_1^2}{R+h} = G \frac{mM}{(R+h)^2}$, где m — масса спутника, v_1 — его скорость на первоначальной орбите, M — масса Земли, R — ее радиус, G — гравитационная постоянная. Отсюда $v_1^2 = \frac{GM}{R+h}$. Аналогично, $v_2^2 = \frac{GM}{R+h-\Delta h}$, где v_2 — скорость спутника на новой орбите. Учитывая, что искомая величина $\eta = \frac{E_2 - E_1}{E_1} = \frac{v_2^2 - v_1^2}{v_1^2}$, получаем: $\eta = \frac{\Delta h}{R+h-\Delta h} = 3,7 \cdot 10^{-3}$.

В результате этого маневра кинетическая энергия спутника увеличилась.

О т в е т. $\eta = 3,7 \cdot 10^{-3}$.

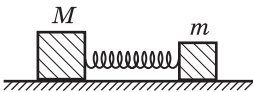
1.3.28. Брусок массой $m = 1$ кг покоится на горизонтальной шероховатой поверхности. К нему прикреплена пружина жесткостью $k = 20$ Н/м. Какую работу A нужно совершить для того, чтобы сдвинуть с места брусок, растягивая пружину в горизонтальном направлении, если коэффициент трения между бруском и поверхностью $\mu = 0,2$? Ускорение свободного падения принять $g = 10$ м/с².



Решение. Брусок сдвинется с места, когда растяжение пружины Δx достигнет такой величины, при которой сила упругости станет равной максимальному значению силы трения покоя: $k\Delta x = \mu mg$, откуда $\Delta x = \frac{\mu mg}{k}$. Работа по растяжению пружины $A = \frac{k\Delta x^2}{2}$.

О т в е т. $A = \frac{(\mu mg)^2}{2k} = 0,1$ Дж.

1.3.29. Между двумя кубиками массами m и M находится сжатая пружина. Если кубик массой M удерживать на месте, а другой освободить, то он отлетает со скоростью v . С какой скоростью v_1 будет двигаться кубик массой m , если оба кубика освободить одновременно? Деформация пружины одинакова в обоих случаях. Трением и массой пружины пренебречь.



Решение. Обозначим через $E_{\text{п}}$ энергию сжатой пружины. Имеем: $E_{\text{п}} = \frac{mv^2}{2}$, $E_{\text{п}} = \frac{mv_1^2}{2} + \frac{Mv_2^2}{2}$, где v_1 и v_2 — скорости кубиков, которые они приобретают, когда их отпускают одновременно. По закону сохранения

импульса $mv_1 = Mv_2$. Объединяя записанные выражения, получаем:

$$v_1 = v \sqrt{\frac{M}{m+M}}.$$

О т в е т. $v_1 = v \sqrt{\frac{M}{m+M}}.$

1.3.30. Два тела, которые первоначально покоились на гладкой горизонтальной плоскости, расталкиваются зажатой между ними пружиной и начинают двигаться поступательно со скоростями $v_1 = 3$ м/с и $v_2 = 1$ м/с. Вычислить энергию E , которая была запасена в пружине, если известно, что суммарная масса обоих тел $M = 8$ кг. Пружина невесома. Трение отсутствует.

Р е ш е н и е. Пусть m_1 и m_2 — массы тел. По законам сохранения импульса и механической энергии имеем: $m_1v_1 = m_2v_2$, $E = \frac{m_1v_1^2}{2} + \frac{m_2v_2^2}{2}$. Учитывая, что $m_1 + m_2 = M$, получаем: $E = \frac{1}{2}Mv_1v_2 = 12$ Дж.

О т в е т. $E = 12$ Дж.

1.3.31. Автомобиль массой $m = 1500$ кг едет по горизонтальному участку дороги со скоростью $v = 72$ км/ч. На какую величину ΔN увеличивается развиваемая двигателем мощность при движении автомобиля с той же скоростью в гору, угол наклона которой составляет $\alpha = 0,1$ рад? Силу сопротивления считать в обоих случаях одинаковой.

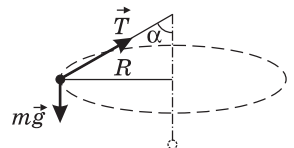
Р е ш е н и е. Мощность, развиваемая двигателем при движении автомобиля по горизонтальной дороге, $N_1 = F_{\text{сопр}}v$, где $F_{\text{сопр}}$ — сила сопротивления. При движении автомобиля с той же скоростью в гору мощность, развиваемая двигателем, $N_2 = (F_{\text{сопр}} + mg\sin\alpha)v$. Поскольку $\Delta N = N_2 - N_1$, получаем: $\Delta N = mgv\sin\alpha = 29,4$ кВт.

О т в е т. $\Delta N = 29,4$ кВт.

1.3.32. Шарик массой $m = 100$ г подвешен на нити длиной $l = 1$ м. Его приводят в движение так, что он обращается по окружности, лежащей в горизонтальной плоскости, которая находится на расстоянии $l/2$ от точки подвеса. Какую работу A нужно совершить для сообщения шарiku такого движения?

Р е ш е н и е. Шарик движется по горизонтальной окружности под действием сил, изображенных на рисунке, где $m\vec{g}$ — сила тяжести, \vec{T} — сила натяжения нити. В проекциях на горизонтальную и вертикальную оси неподвижной системы координат уравнения движения

шарика имеют вид: $\frac{mv^2}{R} = T\sin\alpha$, $mg = T\cos\alpha$. Учитывая, что $R = l\sin\alpha$, находим кинетическую энергию шарика: $E_k = \frac{mv^2}{2} = \frac{mgl}{2}\text{tg}\alpha\sin\alpha$. Потенциаль-



ная энергия шарика относительно положения, занимаемого им в неподвижном состоянии, $E_{\text{п}} = mgl \cos \alpha$. По закону изменения механической энергии, искомая работа $A = E_{\text{к}} + E_{\text{п}} = mgl \cos \alpha \left(\frac{1}{2} \operatorname{tg}^2 \alpha + 1 \right)$. Поскольку

по условию $\alpha = 60^\circ$, получаем: $A = \frac{5}{4} mgl \approx 1,2 \text{ Дж}$.

О т в е т. $A \approx 1,2 \text{ Дж}$.

1.3.33. Два шарика массами $m_1 = 3,8 \text{ г}$ и $m_2 = 6 \text{ г}$ прикреплены к невесомой нити, перекинутой через блок с неподвижной осью. В начальный момент времени шарик массой m_2 находится на высоте $h = 1 \text{ м}$ над горизонтальной поверхностью, и оба шарика неподвижны. Затем шарики отпускают. Определить количество теплоты Q , выделившейся при неупругом ударе шарика массой m_2 о горизонтальную поверхность, если этот шарик сразу после удара останавливается. Силами трения пренебречь. Блок считать невесомым.

Р е ш е н и е. По закону сохранения механической энергии, при движении шариков имеем: $(m_1 + m_2)gh = 2m_1gh + \frac{(m_1 + m_2)v^2}{2}$. Отсюда скорость шариков в конце движения (перед ударом шарика m_2 о горизонтальную поверхность) $v = \sqrt{2gh \frac{m_2 - m_1}{m_2 + m_1}}$. Искомое количество теплоты $Q = \frac{m_2 v^2}{2}$.

О т в е т. $Q = m_2 \cdot \frac{m_2 - m_1}{m_2 + m_1} \cdot gh = 1,32 \cdot 10^{-2} \text{ Дж}$.

1.3.34. На невесомой нити, перекинутой через неподвижный цилиндр, подвешены два груза массами $m_1 = 10 \text{ кг}$ и $m_2 = 1 \text{ кг}$. Первоначально грузы удерживают на одной высоте. При освобождении грузов без начальной скорости первый из них опускается на высоту $h = 2 \text{ м}$ за время $\tau = 1 \text{ с}$, двигаясь равноускоренно. Какое количество теплоты Q выделяется из-за трения нити о поверхность цилиндра за это время? Ускорение свободного падения принять $g = 10 \text{ м/с}^2$.

Р е ш е н и е. Используя кинематические соотношения, найдем ускорение грузов и скорость, которую они приобретают за время движения, а именно $a = 2h/\tau^2$, $v = at = 2h/\tau$. Выбрав за нулевой уровень потенциальной энергии положение первого груза в конце движения, запишем закон изменения полной механической энергии: $(m_1 + m_2)gh = \frac{(m_1 + m_2)v^2}{2} + 2m_2gh + Q$.

Подставляя сюда найденное значение скорости грузов, получаем:

$$Q = (m_1 - m_2)gh - \frac{2(m_1 + m_2)h^2}{\tau^2} = 92 \text{ Дж}.$$

О т в е т. $Q = 92 \text{ Дж}$.

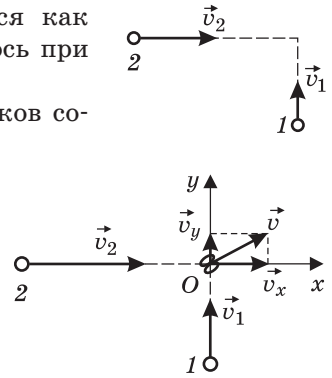
1.3.35. Пластилиновые шарик имеют одинаковые массы m и взаимно перпендикулярные скорости \vec{v}_1 и \vec{v}_2 , лежащие в одной плоскости. В резуль-

тате столкновения шарики слипаются и движутся как одно целое. Какое количество теплоты Q выделилось при столкновении, если $m = 1$ г, $v_1 = 2$ м/с, $v_2 = 4$ м/с?

Решение. Поскольку при столкновении шариков сохраняется импульс, в проекциях на оси Ox и Oy координатной системы, изображенной на рисунке, имеем: $mv_2 = 2mv_x$, $mv_1 = 2mv_y$. Здесь v_x и v_y — проекции скорости \vec{v} тела, образованного слипшимися шариками после удара. Отсюда $v^2 = \frac{1}{4}(v_1^2 + v_2^2)$. По закону изменения механиче-

$$ской энергии, Q = \frac{mv_1^2}{2} + \frac{mv_2^2}{2} - \frac{2mv^2}{2}.$$

Ответ. $Q = \frac{1}{4}m(v_1^2 + v_2^2) = 5 \cdot 10^{-3}$ Дж.



1.3.36. Два одинаковых пластилиновых шарика, движущихся с равными по величине скоростями, совершают неупругий удар, после которого слипаются в одно целое. Какой угол α составляли друг с другом векторы скоростей шариков до удара, если количество теплоты, выделившееся при ударе, равно $\eta = 1/2$ начальной кинетической энергии шариков?

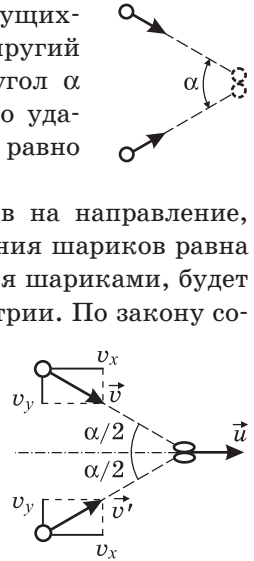
Решение. Проекция суммарного импульса шариков на направление, перпендикулярное оси симметрии системы, до столкновения шариков равна нулю. Поэтому движение тела, образованного слипшимися шариками, будет происходить со скоростью \vec{u} , направленной по оси симметрии. По закону сохранения импульса, в проекции на ось симметрии имеем: $2mv \cos \frac{\alpha}{2} = 2mu$, где v — модуль скорости каждого

из шариков до соударения. Отсюда $u = v \cos \frac{\alpha}{2}$. Количество теплоты, выделившееся при ударе, $Q = E_{нач} - E_{кон}$, где $E_{нач} = \frac{2mv^2}{2}$ и $E_{кон} = \frac{2mu^2}{2}$ — кинетические энер-

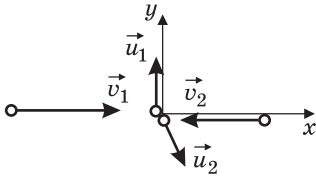
гии шариков до и после столкновения. По условию, $\eta = \frac{Q}{E_{нач}}$. Объединяя записанные выражения, получаем: $\alpha = 2 \arcsin \sqrt{\eta} = 90^\circ$.

Ответ. $\alpha = 90^\circ$.

1.3.37. Шарик 1 массой $m = 200$ г движется равномерно со скоростью $v_1 = 10$ м/с. Навстречу ему движется шарик 2 такой же массой со скоростью $v_2 = 8$ м/с. После соударения шарик 1 стал двигаться перпендикулярно направлению его движения до соударения со скоростью $u_1 = 5$ м/с. Какое количество теплоты Q выделилось при соударении шариков?



Решение. Из условия задачи ясно, что шарики испытывают нецентральный соударение (см. рисунок). Введем координатную систему, ось Ox которой направим вдоль линии первоначального движения шариков, а ось Oy — перпендикулярно этой линии, и запишем закон сохранения импульса в проекции на эти оси: $mv_1 - mv_2 = mu_{2x}$, $mu_1 - mu_{2y} = 0$. Выражая

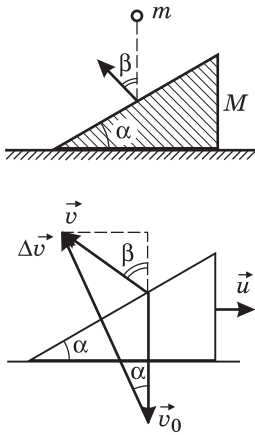


отсюда проекции скорости второго шарика после удара \vec{u}_2 , находим квадрат ее модуля: $u_2^2 = (v_1 - v_2)^2 + u_1^2$. Выделившееся при ударе количество теплоты равно убыли кинетической

энергии шариков: $Q = \frac{mv_1^2}{2} + \frac{mv_2^2}{2} - \left(\frac{mu_1^2}{2} + \frac{mu_2^2}{2} \right)$. Подставляя сюда найденное выше выражение для u_2^2 , получаем: $Q = m(v_1v_2 - u_1^2) = 11$ Дж.

Ответ. $Q = 11$ Дж.

1.3.38. На горизонтальном столе покоится клин массой $M = 4$ кг. Сверху на клин падает шарик массой $m = 1$ кг. Определить угол при основании клина α , если известно, что после упругого удара о клин шарик отскочил под углом $\beta = 45^\circ$ к вертикали, а клин начал двигаться поступательно. Трением пренебречь.



Решение. Поскольку смещения шарика и клина за время соударения пренебрежимо малы и трение отсутствует, силы взаимодействия шарика и клина направлены по нормали к наклонной плоскости. Следовательно, изменение импульса шарика $\Delta\vec{p} = m\Delta\vec{v}$ при ударе также будет направлено по нормали к наклонной плоскости клина (см. рисунок, где \vec{v}_0 и \vec{v} — скорости шарика до и после удара соответственно; \vec{u} — скорость клина после удара). Из рисунка видно, что

$$\operatorname{tg} \alpha = \frac{v \sin \beta}{v_0 + v \cos \beta}.$$

По закону сохранения импульса, в проекции на горизонтальное направление $mv \sin \beta = Mu$. По закону сохранения кинетической энергии, при упругом ударе $\frac{mv_0^2}{2} = \frac{mv^2}{2} + \frac{Mu^2}{2}$. Отсюда

$$u = v \frac{m}{M} \sin \beta, \quad v_0 = v \sqrt{1 + \frac{m}{M} \sin^2 \beta}.$$

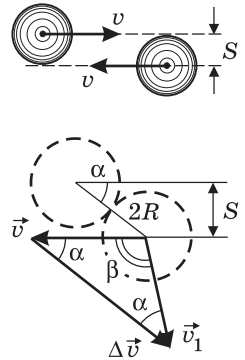
Объединяя записанные выражения, получаем:

$$\operatorname{tg} \alpha = \frac{\sin \beta}{\cos \beta + \sqrt{1 + \frac{m}{M} \sin^2 \beta}} = 0,4.$$

Ответ. $\alpha = \arctg 0,4 \approx 22^\circ$.

1.3.39. Два одинаковых шара радиусами R летят навстречу друг другу с одинаковыми скоростями, как показано на рисунке. Расстояние между ли-

ниями движения центров шаров $S = R$. На какой угол β повернется вектор скорости каждого из шаров после удара? Удар считать упругим, шары — идеально гладкими.



Решение. Обозначим через \vec{v}_1 и \vec{v}_2 скорости шаров после удара. Используя законы сохранения импульса и энергии: $m\vec{v}_1 + m\vec{v}_2 = 0$, $\frac{mv_1^2}{2} + \frac{mv_2^2}{2} = mv^2$, нахо-

дим, что $v_1 = v_2 = v$, т. е. модули скоростей шаров после удара останутся прежними. Из предположения о кратковременности удара вытекает, что приращение импульса каждого из шаров направлено параллельно линии, соединяющей центры шаров в момент удара. Как видно из рисунка,

$\beta + 2\alpha = \pi$, $\sin \alpha = \frac{S}{2R}$. Отсюда получаем: $\beta = \pi - 2\arcsin \frac{S}{2R} = \frac{2\pi}{3}$.

Отв е т. $\beta = \frac{2\pi}{3}$.

1.3.40. Частица, движущаяся в вакууме со скоростью $v = 1000$ м/с, налетает на покоящуюся частицу, масса которой в три раза больше массы первой частицы. Происходит упругое нецентральное соударение, после которого вторая частица начинает двигаться под углом 45° к первоначальному направлению движения первой частицы. Определить модули скоростей u_1 и u_2 обеих частиц после соударения. Силу тяжести не учитывать.

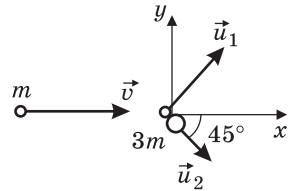
Решение. Введем неподвижную систему координат, как показано на рисунке. По закону сохранения импульса, в проекциях на оси этой системы имеем: $mv = mu_{1x} + 3mu_{2x}$, $mu_{1y} = 3mu_{2y}$. Учитывая, что $u_{2x} = u_2 \cos 45^\circ$ и $u_{2y} = u_2 \sin 45^\circ$, приходим к соотношениям:

$v = u_{1x} + \frac{3\sqrt{2}}{2}u_2$, $u_{1y} = \frac{3\sqrt{2}}{2}u_2$. Из закона сохранения

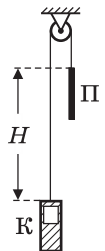
энергии при упругом ударе следует равенство: $v^2 = u_1^2 + 3u_2^2$. Решая полученную систему уравнений с учетом того, что $u_1^2 = u_{1x}^2 + u_{1y}^2$, получаем:

$$u_1 = \frac{\sqrt{10}}{4}v \approx 791 \text{ м/с}, \quad u_2 = \frac{\sqrt{2}}{4}v \approx 354 \text{ м/с}.$$

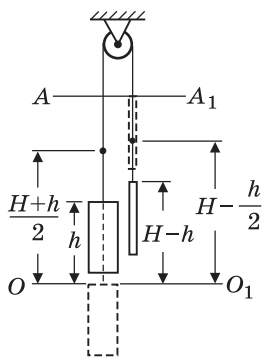
Отв е т. $u_1 \approx 791$ м/с; $u_2 \approx 354$ м/с.



1.3.41. Начальное положение кабины лифта К и противовеса П изображено на рисунке. На какую величину $\Delta E_{\text{п}}$ изменится потенциальная энергия системы при перемещении кабины вверх на расстояние $h = 10$ м, если начальная разность уровней противовеса и кабины $H = 15$ м, масса кабины $M = 1$ т, масса противовеса $m = 0,5$ т, а масса единицы длины троса, соединяющего кабину с противовесом, $\mu = 10$ кг/м? Ускорение свободного падения принять $g = 10$ м/с².



Решение. Будем отсчитывать потенциальную энергию тел от уровня, совпадающего с крышей кабины в начальном положении (прямой OO_1 на рисунке). Поскольку потенциальная энергия участка троса, находящегося выше верхнего края противовеса (прямой AA_1), при перемещении кабины и противовеса не изменяется, исключим этот участок из рассмотрения. Масса отрезка троса между крышей кабины и прямой AA_1



равна μH , центр тяжести отрезка располагается на высоте $H/2$ над прямой OO_1 , поэтому потенциальная энергия троса в начальном состоянии

$E_{\text{нач}} = \mu H g \frac{H}{2}$. При перемещении кабины и противовеса длина левого отрезка троса станет $(H - h)$, высота центра тяжести этого отрезка над прямой OO_1 будет

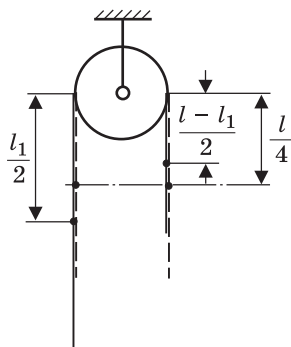
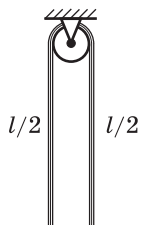
$h + \frac{H - h}{2} = \frac{H + h}{2}$. Справа от блока ниже прямой AA_1 появится отрезок троса длиной h , высота центра тяжести которого над прямой OO_1 равна $H - \frac{h}{2}$. Следова-

тельно, конечная энергия троса $E_{\text{кон}} = \mu(H - h)g \frac{H + h}{2} + \mu h g \left(H - \frac{h}{2} \right)$. Из-

менение потенциальной энергии кабины и противовеса при их перемещении $\Delta E_1 = (M - m)gh$, изменение потенциальной энергии троса $\Delta E_2 = E_{\text{кон}} - E_{\text{нач}}$.

Отв е т. $\Delta E_{\text{п}} = gh(M - m) + \mu gh(H - h) = 55$ кДж.

1.3.42. Канат длиной $l = 2$ м переброшен через блок. В начальный момент канат покоится и по обе стороны блока свешиваются равные его отрезки. Затем в результате незначительного толчка равновесие каната нарушается, и он приходит в движение. Какова будет скорость каната v в тот момент, когда с одной стороны блока будет свешиваться отрезок каната длиной $l_1 = 1,5$ м? Массой блока и его размерами пренебречь, энергию толчка и трение в блоке не учитывать, ускорение свободного падения принять $g = 10$ м/с².



Решение. Примем за уровень отсчета потенциальной энергии каната центр блока и обозначим через m массу каната. В начальном состоянии каната, изображенном на рисунке штриховой линией, по обе стороны от блока свешиваются одинаковые части каната длиной $l/2$ каждая (по условию задачи длиной отрезка каната, лежащего на блоке, можно пренебречь). Центры тяжести каждой из половин каната (обозначены на рисунке жирными точками) находятся на расстоянии $l/4$ от уровня отсчета потенциальной энергии, масса каждой из половин равна $m/2$. Следовательно, начальная потенциальная энергия каната

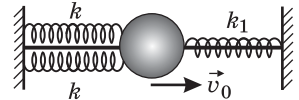
равна: $E_{\text{п1}} = -\frac{mgl}{4}$. В конечном состоянии каната,

изображенном на рисунке сплошными линиями, слева от блока свешивается отрезок каната длиной l_1 и массой $m_1 = ml_1/l$, центр тяжести которого находится на расстоянии $l_1/2$ от уровня отсчета потенциальной энергии. Справа от блока свешивается отрезок каната длиной $(l - l_1)$ и массой $m_2 = m(l - l_1)/l$, центр тяжести которого находится на расстоянии $(l - l_1)/2$ от уровня отсчета потенциальной энергии. В соответствии с этим конечная потенциальная энергия каната равна: $E_{п2} = -mg\frac{l_1^2}{2l} - mg\frac{(l - l_1)^2}{2l}$. По закону

сохранения механической энергии $E_{п1} = \frac{mv^2}{2} + E_{п2}$. Объединяя записанные выражения, получаем: $v = \sqrt{2gl}\left(\frac{l_1}{l} - \frac{1}{2}\right) = \frac{\sqrt{10}}{2} \approx 1,58$ м/с.

Ответ. $v \approx 1,58$ м/с.

1.3.43. Шарик массой $m = 10$ г прикреплен к неподвижным стенкам тремя пружинами, две из которых имеют жесткость $k = 0,375$ Н/м, а третья — жесткость $k_1 = 0,25$ Н/м. Шарик может двигаться только поступательно вдоль горизонтальной оси. Пружины невесомы и в положении равновесия не напряжены. Шарик получает скорость $v_0 = 10$ см/с. Найти амплитуду колебаний шарика.



Решение. Эквивалентная жесткость трех параллельно соединенных пружин $k_0 = 2k + k_1$. По закону сохранения механической энергии при гармонических колебаниях имеем: $\frac{k_0 A^2}{2} = \frac{mv_0^2}{2}$.

Ответ. $A = v_0 \sqrt{\frac{m}{2k + k_1}} = 1$ см.

1.3.44. На гладком столе покоится брусок массой $M = 20$ г, прикрепленный пружиной жесткостью $k = 50$ Н/м к стене. В брусок ударяется шарик массой $m = 10$ г, движущийся по столу со скоростью $v_0 = 30$ м/с, направленной вдоль оси пружины. Считая соударение шарика и бруска упругим, найти амплитуду A колебаний бруска после удара.

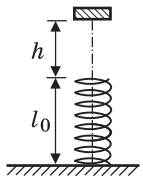
Решение. Пусть после соударения шарик и брусок приобретают скорости u_1 и u_2 соответственно. По законам сохранения импульса и механической энергии имеем: $mv_0 = mu_1 + Mu_2$, $\frac{mv_0^2}{2} = \frac{mu_1^2}{2} + \frac{Mu_2^2}{2}$. Из этой системы

находим $u_2 = \frac{2m}{m + M}v_0$. Из закона сохранения энергии при гармонических

колебаниях следует, что $\frac{Mu_2^2}{2} = \frac{kA^2}{2}$.

Ответ. $A = \frac{2v_0}{(1 + M/m)}\sqrt{\frac{M}{k}} = 0,4$ м.

1.3.45. На горизонтальном столе установлена пружина длиной $l_0 = 20$ см так, что ось пружины расположена вертикально. Когда сверху на пружину кладут брусок, пружина в положении равновесия сжимается до длины, равной $l_1 = 18$ см. Какой минимальной величины l достигнет длина пружины, если тот же самый брусок упадет на нее сверху с высоты $h = 8$ см?



Решение. Условие равновесия бруска, неподвижно лежащего на пружине, имеет вид: $mg = k(l_0 - l_1)$, где m — масса

бруска; k — жесткость пружины. Отсюда $k = \frac{mg}{l_0 - l_1}$. Предпола-

гая, что пружина при падении бруска сжимается не полностью, запишем закон сохранения энергии: $mg(h + l_0) = mgl + \frac{k}{2}(l_0 - l)^2$. Подставляя сюда k ,

приведем это соотношение к виду: $(l_0 - l)^2 - 2(l_0 - l_1)(l_0 - l) - 2h(l_0 - l_1) = 0$,

откуда $l = l_1 \pm \sqrt{(l_0 - l_1)(l_0 - l_1 + 2h)}$. Отбрасывая корень со знаком «+», соответствующий максимальной высоте подъема бруска в процессе колебаний, получаем, что $l = l_1 - \sqrt{(l_0 - l_1)(l_0 - l_1 + 2h)}$. Если пружина при падении бруска сжимается полностью, то из закона сохранения энергии

следует: $mg(h + l_0) = \frac{kl_0^2}{2}$. Значение высоты h_0 , удовлетворяющее это-

му условию, равно $h_0 = l_0 \left(\frac{l_0}{2(l_0 - l_1)} - 1 \right)$. Таким образом, ответ имеет

вид: $l = l_1 - \sqrt{(l_0 - l_1)(l_0 - l_1 + 2h)}$ при $h \leq l_0 \left(\frac{l_0}{2(l_0 - l_1)} - 1 \right)$; $l = 0$ при

$h > l_0 \left(\frac{l_0}{2(l_0 - l_1)} - 1 \right)$. Подставляя данные из условия задачи, находим, что

$l = 12$ см.

Ответ. $l = 12$ см.

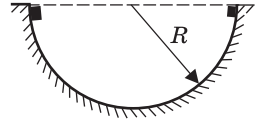
1.3.46. На горизонтальном участке пути длиной $L = 3$ км скорость поезда увеличилась от $v_1 = 36$ км/ч до $v_2 = 72$ км/ч. Какую массу топлива m израсходовал двигатель локомотива на этом участке? Суммарная масса поезда и локомотива $M = 1000$ т, сила сопротивления движению поезда пропорциональна его весу с коэффициентом пропорциональности $\mu = 0,005$, удельная теплота сгорания топлива $h = 42$ МДж/кг, коэффициент полезного действия двигателя $\eta = 30\%$. Ускорение свободного падения принять $g = 10$ м/с².

Решение. Работа двигателя локомотива на данном участке пути затрачена на увеличение кинетической энергии поезда и на преодоление силы со-

противления: $A = \frac{M}{2}(v_2^2 - v_1^2) + \mu MgL$. С другой стороны, $A = hm \frac{\eta}{100\%}$.

Ответ. $m = \frac{100\%}{\eta h} M \left(\frac{v_2^2 - v_1^2}{2} + \mu gL \right) \approx 23,8$ кг.

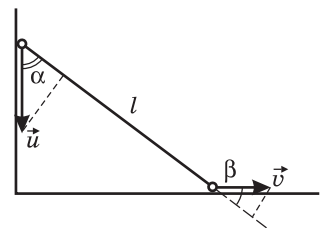
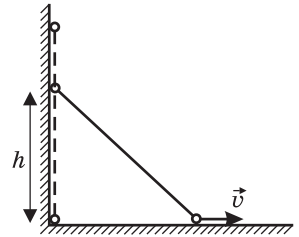
1.3.47. Два небольших тела, находящиеся на концах горизонтального диаметра гладкой полусферы радиусом $R = 20$ см, соскальзывают без начальных скоростей навстречу друг другу. При столкновении тела «слипаются» и далее движутся как одно целое. Найти отношение n масс тел, если максимальная высота над нижней точкой полусферы, на которую поднимаются слипшиеся тела после столкновения, $h = 5$ см. Трение не учитывать.



Решение. Поскольку трение отсутствует, столкновение тел произойдет в нижней точке полусферы, причем модуль скорости каждого из тел перед столкновением $v = \sqrt{2gR}$. Обозначив через m_1 и m_2 массы тел до столкновения, а через u — модуль скорости составного тела, по закону сохранения импульса имеем: $m_1v - m_2v = (m_1 + m_2)u$. Учитывая, что $u = \sqrt{2gh}$ и $m_1 / m_2 = n$, получаем: $n = \frac{1 + \sqrt{h/R}}{1 - \sqrt{h/R}} = 3$.

Ответ. $n = 3$.

1.3.48. Два одинаковых маленьких шарика соединены невесомым жестким стержнем длиной $l = 60$ см. Стержень стоит вертикально вплотную к вертикальной плоскости. При смещении нижнего шарика вправо на малое расстояние система из шариков приходит в движение в плоскости рисунка. Найти модуль скорости нижнего шарика v в момент времени, когда верхний шарик находится на высоте $h = 40$ см над горизонтальной плоскостью. Считать, что при движении шарики не отрываются от плоскостей, трением пренебречь. Ускорение свободного падения принять $g = 10$ м/с².



Решение. Поскольку длина стержня постоянна, проекции скоростей шариков на направление стержня в каждый момент времени совпадают. Обозначив через \vec{u} скорость верхнего шарика, имеем (см. рисунок): $u \cos \alpha = v \cos \beta = v \sin \alpha$, откуда $u = v \operatorname{tg} \alpha$, где $\operatorname{tg} \alpha = \frac{\sqrt{l^2 - h^2}}{h}$. Из закона сохранения механической энергии шариков следует

равенство: $mgl = mgh + \frac{m(u^2 + v^2)}{2} = mgh + \frac{mv^2}{2}(1 + \operatorname{tg}^2 \alpha)$. Объединяя запи-

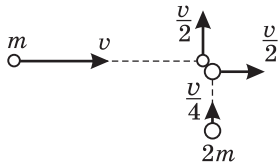
санные выражения, получаем: $v = \frac{h}{l} \sqrt{2g(l-h)} \approx 1,33$ м/с.

Ответ. $v \approx 1,33$ м/с.

Дополнительные задачи

1.3.49. Два маленьких шарика массами m и $2m$ движутся в одной плоскости так, что их импульсы направлены взаимно перпендикулярно, а модули импульсов равны соответственно p и $p/2$. Шарики сталкиваются, причем после соударения модуль импульса шарика массой m становится равным $p/2$, а модуль импульса шарика массой $2m$ становится равным p . Какое количество теплоты Q выделилось при соударении шариков? Действием всех внешних сил пренебречь.

Решение. Картина столкновения шариков изображена на рисунке. Величины скоростей шариков массами m и $2m$ до столкновения соответствен-



но равны: $v_1 = \frac{p}{m} = v$, $v_2 = \frac{p/2}{2m} = \frac{p}{4m} = \frac{v}{4}$. После со-

ударения шарики приобретают скорости

$v'_1 = \frac{p/2}{m} = \frac{v}{2}$, $v'_2 = \frac{p}{2m} = \frac{v}{2}$. Кинетическая энергия

шариков: до столкновения $E_0 = \frac{mv_1^2}{2} + \frac{2mv_2^2}{2} = \frac{9p^2}{16m}$,

после столкновения $E = \frac{mv_1'^2}{2} + \frac{2mv_2'^2}{2} = \frac{3p^2}{8m}$. Количество теплоты, выделив-

шееся при ударе, равно изменению кинетической энергии: $Q = E_0 - E$.

Ответ. $Q = \frac{3p^2}{16m}$.

1.3.50. Два шарика массами $m_1 = 2$ г и $m_2 = 6$ г лежат на гладком горизонтальном столе. Между шариками располагается легкая пружина. Если сблизить шарики, сжав пружину, а затем, удерживая на месте шарик массой m_2 , отпустить шарик массой m_1 , то он отлетает со скоростью $v_0 = 2$ см/с. С какими скоростями v_1 и v_2 разлетятся шарики, если сблизить их до расстояния, при котором сжатие пружины окажется в $n = 2$ раза меньше, чем в первом случае, и отпустить оба шарика одновременно?

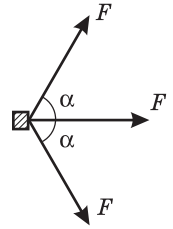
Решение. Пусть k — жесткость пружины, x_0 — сжатие пружины в первом случае. По закону сохранения механической энергии: $\frac{m_1 v_0^2}{2} = \frac{kx_0^2}{2}$

(в первом случае), $\frac{m_1 v_1^2}{2} + \frac{m_2 v_2^2}{2} = \frac{kx_0^2}{2n^2}$ (во втором случае). Когда шарики отпускают одновременно, по закону сохранения импульса: $m_1 v_1 = m_2 v_2$.

Ответ. $v_1 = \frac{v_0}{n} \sqrt{\frac{m_2}{m_1 + m_2}} \approx 0,87$ см/с, $v_2 = \frac{v_0}{n} \sqrt{\frac{m_1^2}{m_2(m_1 + m_2)}} \approx 0,29$ см/с.

1.3.51. На горизонтальной шероховатой поверхности находится маленький брусок. Если на брусок действовать в течение очень короткого промежутка времени горизонтальной силой F , значительно превышающей силу трения скольжения, то после этого брусок пройдет до остановки путь S_0 .

Какой путь S пройдет до остановки этот брусок, если в течение того же промежутка времени на него одновременно подействовать тремя горизонтальными силами F , две из которых направлены под углами $\alpha = 60^\circ$ к третьей?



Решение. Обозначим через τ время действия силы F . По закону изменения импульса имеем $F\tau = mv_0$, где m — масса бруска, v_0 — скорость, которую он приобретает в результате действия силы F (импульсом силы трения за время τ по условию можно пренебречь). По закону изменения механической энергии имеем:

$\frac{mv_0^2}{2} = \mu mgS_0$, где μ — коэффициент трения. Величина равнодействующей трех сил, действующих на брусок одновременно и направленных, как показано на рисунке, равна $F_\Sigma = F(1 + 2\cos\alpha)$. Законы изменения импульса и энергии в этом случае дают: $F_\Sigma\tau = mv$, $\frac{mv^2}{2} = \mu mgS$.

Объединяя записанные выражения, находим: $S = (1 + 2\cos\alpha)^2 S_0 = 4S_0$.

О т в е т. $S = 4S_0$.

1.3.52. Молекулярный пучок составляют одинаковые молекулы, движущиеся с одинаковыми скоростями $v = 500$ м/с. Масса молекулы $m = 4,8 \cdot 10^{-26}$ кг. На пути пучка установлен экран, плоскость которого перпендикулярна вектору \vec{v} . Найти давление p , оказываемое пучком на экран. Число молекул в единице объема пучка $n = 3 \cdot 10^{25}$ м⁻³. Удар молекулы об экран считать абсолютно упругим.

Решение. При абсолютно упругом ударе об экран импульс молекулы меняется на величину, по модулю равную $\Delta p_1 = 2mv$. По второму закону Ньютона, модуль импульса силы, действующей на экран со стороны молекул, $F\Delta t = N\Delta p_1$, где $N = nSv\Delta t$ — число молекул, ударяющихся об экран за время Δt , S — площадь экрана. Из записанных равенств следует, что $F = 2nmv^2S$. Учитывая, что давление $p = F/S$, получаем: $p = 2nmv^2 = 720$ кПа.

О т в е т. $p = 720$ кПа.

1.3.53. Пучок молекул, движущихся в вакууме с одинаковыми скоростями, падает на пластинку-мишень перпендикулярно ее плоскости. Суммарная масса молекул, испускаемых источником в единицу времени, равна $\mu = 0,01$ г/с, сила, с которой пучок действует на мишень, $F = 4 \cdot 10^{-3}$ Н. Считая соударение молекулы с мишенью абсолютно упругим, найти скорость молекул в пучке v .

Решение. При абсолютно упругом ударе об экран импульс молекул, испущенных источником за время Δt , меняется на величину, по модулю равную $\Delta p = 2\Delta mv$, где $\Delta m = \mu\Delta t$. По второму закону Ньютона, $\Delta p = F\Delta t$. Объединяя записанные равенства, получаем: $2\mu v\Delta t = F\Delta t$.

О т в е т. $v = \frac{F}{2\mu} = 200$ м/с.

1.3.54. Правая чаша рычажных весов находится под мелким морозящим дождем, а левая укрыта от дождя навесом. Каждая чаша представляет собой тонкостенную цилиндрическую емкость с площадью дна $S = 0,05 \text{ м}^2$ и высотой бортика $h = 1 \text{ мм}$. Интенсивность равномерно падающего дождя такова, что дождевая вода целиком заполняет предварительно опорожненную чашу весов за время $\tau = 30 \text{ с}$. Какой массы m гирию нужно положить на левую чашу весов, чтобы уравновесить весы в случае, когда правая чаша заполнена дождевой водой до краев? Капли дождя падают вертикально со скоростью $v = 3 \text{ м/с}$. Плотность воды $\rho = 10^3 \text{ кг/м}^3$. Ускорение свободного падения принять равным $g = 10 \text{ м/с}^2$. Соударение капель с водой в чаше считать неупругим.

Решение. На правую чашу весов, заполненную водой до краев, действует сила $F = Mg + N$, где $M = \rho Sh$ — масса воды в этой чаше, N — сила давления падающих капель дождя. Поскольку соударение капель с водой, находящейся в чаше, является неупругим, по второму закону Ньютона имеем:

$\Delta m \cdot v = (N - \Delta m \cdot g)\Delta t$, где $\Delta m = \frac{M}{\tau}\Delta t$ — масса дождевых капель, попадающих в чашу за малое время Δt . Отсюда $N\Delta t = \frac{Mv}{\tau}\Delta t + \frac{Mg}{\tau}\Delta t^2$. Учитывая

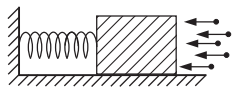
малость Δt , находим, что приближенно $N \approx \frac{Mv}{\tau}$. Весы будут уравновешены,

если масса гири на левой чаше $m = \frac{F}{g} = \rho Sh + \frac{N}{g}$. Объединяя записанные вы-

ражения, получаем: $m = \rho Sh \left(1 + \frac{v}{g\tau}\right) = 50,5 \text{ г}$.

О т в е т. $m = 50,5 \text{ г}$.

1.3.55. Брусок расположен на гладкой горизонтальной плоскости и соединен горизонтальной пружиной жесткостью $k = 100 \text{ Н/м}$ с вертикальной стенкой. Перпендикулярно поверхности бруска летят капли воды массой $m = 0,1 \text{ г}$ каждая со скоростью $v_0 = 5 \text{ м/с}$. Ударившись о брусок, капли, не отскакивая от него, стекают на землю. Найти, на какую величину Δl



сжимается пружина, если известно, что брусок не совершает колебаний. Число капель в единице объема потока $n = 2 \cdot 10^3 \text{ м}^{-3}$. Площадь поверхности бруска, в которую ударяют капли, $S = 100 \text{ см}^2$.

Решение. Соударения капель с поверхностью бруска являются неупругими, и все капли летят с одной и той же скоростью. Поэтому изменение импульса одной капли при ударе о поверхность неподвижного бруска по модулю равно $\Delta p_1 = mv_0$. За время Δt в брусок ударяется $N = nSv_0\Delta t$ капель. Следовательно, величина импульса силы давления капель на поверхность бруска за время Δt равна: $F\Delta t = N\Delta p_1 = mnv_0^2S\Delta t$, а величина самой силы давления $F = mnv_0^2S$. Возникающая в пружине сила упругости, величина которой $F_{\text{упр}} = k\Delta l$, уравнивает силу давления капель: $F = F_{\text{упр}}$. Объединяя записанные соотношения, получаем:

$\Delta l = \frac{mnv_0^2S}{k} = 0,5 \text{ мм}$.

О т в е т. $\Delta l = 0,5 \text{ мм}$.

1.3.56. Математический маятник длиной $l = 2,5$ м и массой $m = 0,2$ кг раскачивают так, что каждый раз, когда маятник проходит положение равновесия, по нему производят короткий удар, сообщая импульс $p = 0,02$ Н·с в направлении скорости. Какое минимальное число n_{\min} ударов нужно совершить, чтобы угол отклонения маятника от положения равновесия превысил $\alpha = 60^\circ$? Первоначально маятник покоился. Ускорение свободного падения $g = 10$ м/с², сопротивление воздуха не учитывать.

Решение. При каждом ударе скорость маятника возрастает на величину $\Delta v = \frac{p}{m}$. Следовательно, через n ударов его скорость будет $v_n = n\Delta v = \frac{np}{m}$.

Маятник отклонится на угол, превышающий α , если выполнено условие: $\frac{mv_n^2}{2} > mgl(1 - \cos\alpha)$. Объединяя записанные соотношения, находим, что

$$n > \sqrt{2gl(1 - \cos\alpha)} \cdot \frac{m}{p}. \text{ Отсюда } n_{\min} = \left[\sqrt{2gl(1 - \cos\alpha)} \cdot \frac{m}{p} \right] + 1 = 51, \text{ где символом } [\dots] \text{ обозначена целая часть числа.}$$

Ответ. $n_{\min} = 51$.

1.3.57. Начиная движение из состояния покоя, кабина лифта поднимается на высоту $H = 30$ м и останавливается. Найти, какая работа A была совершена при этом двигателем лифта, если максимальная мощность, развиваемая им при подъеме, составила $N = 2$ кВт. Полное время подъема кабины $\tau = 8$ с, разгон и замедление кабины происходили в течение одинакового времени $\tau_1 = 2$ с с постоянным по величине ускорением, остальное время кабина двигалась равномерно. Коэффициент полезного действия двигателя считать равным 100%, ускорение свободного падения $g = 10$ м/с².

Решение. Пусть a — модуль ускорения кабины при разгоне и замедлении, а v_0 — модуль скорости ее равномерного движения, причем $a\tau_1 = v_0$. Сила натяжения троса: при разгоне кабины: $T_{\max} = m(g + a)$, при равномерном движении: $T_0 = mg$, при замедлении кабины: $T_{\min} = m(g - a)$. Здесь m — масса кабины. Работа по подъему кабины равна $A = mgH$. Из условий движения кабины вытекает, что $H = \frac{a\tau_1^2}{2} + v_0(\tau - 2\tau_1) + v_0\tau_1 - \frac{a\tau_1^2}{2} = v_0(\tau - \tau_1)$.

Следовательно, $v_0 = \frac{H}{(\tau - \tau_1)}$. Максимальная мощность развивается двигателем в конце участка разгона: $N_{\max} = m(g + a)v_0 = m\left(g + \frac{v_0}{\tau_1}\right)v_0$. Отсюда

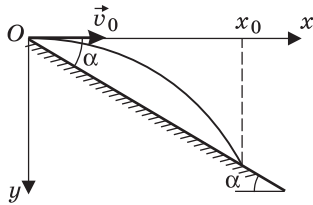
$$m = \frac{N_{\max}}{v_0(g + v_0/\tau_1)}. \text{ Объединяя записанные выражения, получаем:}$$

$$A = \frac{gN_{\max}\tau_1(\tau - \tau_1)^2}{g\tau_1(\tau - \tau_1) + H} = 9,6 \text{ кДж.}$$

Ответ. $A = 9,6$ кДж.

1.3.58. Камень массой $m = 0,1$ кг бросают горизонтально с вершины холма, склон которого составляет угол $\alpha = 30^\circ$ с горизонталью. Определить, какая работа A была совершена при броске, если камень упал на склон на расстоянии $L = 40$ м от вершины. Считать, что бросок выполнен непосредственно от поверхности земли. Ускорение свободного падения принять $g = 10$ м/с². Сопротивлением воздуха пренебречь.

Решение. Введем систему координат, как показано на рисунке. Обозначим через v_0 начальную скорость камня. Кинематические уравнения движе-



ния камня имеют вид: $x = v_0 t$, $y = \frac{gt^2}{2}$, уравнение

его траектории $y = \frac{g}{2v_0^2} x^2$. Уравнение наклонной

плоскости, аппроксимирующей поверхность холма, $y_1 = x \operatorname{tg} \alpha$. В точке падения камня, имеющей координату $x_0 = L \cos \alpha$, выполняется равенство:

$y(x_0) = y_1(x_0)$. Отсюда $x_0 = \frac{2v_0^2}{g} \operatorname{tg} \alpha$ и, следовательно,

но, $v_0^2 = \frac{gL \cos^2 \alpha}{2 \sin \alpha}$. Поскольку работа, совершенная при броске, $A = \frac{mv_0^2}{2}$,

получаем: $A = \frac{mgL \cos^2 \alpha}{4 \sin \alpha} = 15$ Дж.

О т в е т. $A = 15$ Дж.

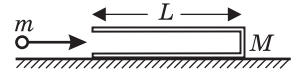
1.3.59. Второй космической скоростью $v_{2к}$ называется минимальная скорость, которую нужно сообщить в вертикальном направлении телу для того, чтобы оно неограниченно удалилось от поверхности планеты, причем скорость тела на бесконечно большом расстоянии от планеты принимается равной нулю. Известно, что для Земли $v_{2к} = 11,2$ км/с. Какова будет скорость v_∞ тела на бесконечно большом расстоянии от Земли, если на поверхности Земли сообщить ему вертикальную скорость $u = 12,2$ км/с? Влиянием вращения Земли вокруг оси и притяжением других небесных тел пренебречь.

Решение. Из определения второй космической скорости и из закона сохранения механической энергии следует, что $\frac{mv_{2к}^2}{2} = \Delta E_{п}$, где m — масса тела, $\Delta E_{п}$ — приращение потенциальной энергии тела при перемещении его с поверхности Земли в бесконечно удаленную точку. Если начальная скорость тела равна $u > v_{2к}$, то $\frac{mu^2}{2} = \Delta E_{п} + \frac{mv_\infty^2}{2}$. Объединяя записанные равенства, получаем: $v_\infty = \sqrt{u^2 - v_{2к}^2} \approx 4,84$ км/с.

О т в е т. $v_\infty \approx 4,84$ км/с.

1.3.60. На гладком горизонтальном столе покоится трубка массой M и длиной L , закрытая с одного торца. В открытый конец трубки влетает

маленький шарик массой m со скоростью, направленной вдоль оси трубки. После упругого удара о закрытый торец трубки шарик вылетает наружу. Какой путь S относительно стола пройдет шарик за время, которое он будет находиться внутри трубки? Размером шарика и трением между всеми поверхностями пренебречь.



Решение. Пусть начальная скорость шарика v_0 . Из законов сохранения импульса и кинетической энергии в системе «шарик + трубка» следует, что $mv_0 = MV + mv$, $mv_0^2 = MV^2 + mv^2$, где V и v — скорости трубки и шарика

после соударения. Из этой системы находим $V = \frac{2m}{M+m}v_0$, $v = \frac{m-M}{M+m}v_0$.

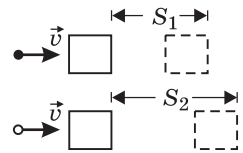
Поскольку относительная скорость этих тел после удара $V_{\text{отн}} = V - v = v_0$, время, которое шарик движется после соударения внутри трубки,

$\tau = \frac{L}{V_{\text{отн}}} = \frac{L}{v_0}$. За это время он проходит путь $S' = |v|\tau = \frac{|m-M|}{M+m}L$. Полный

путь, пройденный шариком, $S = L + S'$.

О т в е т. $S = L \left(1 + \frac{|m-M|}{M+m} \right)$.

1.3.61. Два одинаковых бруска покоятся на шероховатой горизонтальной поверхности. В один из брусков попадает пластилиновый шарик, летящий с некоторой скоростью, и прилипает к нему. В другой брусок попадает металлический шарик такой же массы, летящий с такой же скоростью, что и пластилиновый. После упругого удара о брусок металлический шарик отскакивает назад со скоростью, вдвое меньшей начальной. Найти отношение n путей, пройденных брусками после удара, считая их движение поступательным.



Решение. Пусть m — масса каждого из шариков, v — их скорость до соударения, M — масса каждого из брусков. При соударении пластилинового шарика с первым бруском выполняется закон сохранения импульса:

$mv = (m + M)u_1$, откуда $u_1 = \frac{m}{m + M}v$. При соударении металлического шарика со вторым бруском выполняются законы сохранения импульса и механической энергии:

$mv = -m\frac{v}{2} + Mu_2$, $\frac{mv^2}{2} = \frac{mv^2}{8} + \frac{Mu_2^2}{2}$. Из этой системы

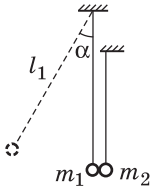
находим: $\frac{m}{M} = \frac{1}{3}$, $u_2 = \frac{v}{2}$. Подставляя найденное отношение масс в выражение

для u_1 , получаем $u_1 = \frac{v}{4}$. Поскольку бруски движутся с одинаковыми ускорениями, отношение путей, пройденных брусками до остановки,

$$n = \frac{S_1}{S_2} = \frac{u_1^2}{u_2^2}.$$

О т в е т. $n = \frac{1}{4}$.

1.3.62. Два маленьких шарика подвешены на нитях так, что в положении равновесия нити вертикальны, а шарики соприкасаются друг с другом и их центры находятся на одной высоте. Длина нити подвеса левого шарика $l_1 = 10$ см, отношение масс шариков $m_2 / m_1 = n = 3$. Левый шарик отклоняют на некоторый угол α от вертикали и отпускают без начальной скорости. Определить величину α , если максимальная высота, на которую поднимается левый шарик после первого соударения с правым шариком, $h_1 = 1,25$ см. Нити считать невесомыми и нерастяжимыми, соударение шариков — абсолютно упругим.



Решение. Пусть v_0 — модуль скорости первого шарика непосредственно перед соударением со вторым шариком, v_1 и v_2 — горизонтальные проекции скоростей шариков сразу после соударения. Из законов сохранения энергии и импульса вытекают равенства: $\frac{m_1 v_0^2}{2} = m_1 g l_1 (1 - \cos \alpha)$,

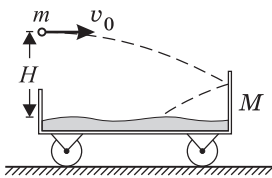
$$m_1 v_0 = m_1 v_1 + m_2 v_2, \quad \frac{m_1 v_0^2}{2} = \frac{m_1 v_1^2}{2} + \frac{m_2 v_2^2}{2}, \quad \frac{m_1 v_1^2}{2} = m_1 g h_1. \quad \text{Из этих равенств}$$

следует, что $\cos \alpha = 1 - \frac{v_0^2}{2g l_1}$, $v_1 = \frac{m_1 - m_2}{m_1 + m_2} v_0$, $v_2 = \frac{2m_1}{m_1 + m_2} v_0$. Учитывая, что

$$\frac{m_2}{m_1} = n, \quad \text{находим } v_0^2 = 2gh_1 \left(1 + \frac{4n}{(n-1)^2} \right).$$

$$\text{О т в е т. } \cos \alpha = 1 - \frac{h_1 (n+1)^2}{l_1 (n-1)^2} = 0,5, \quad \alpha = 60^\circ.$$

1.3.63. На горизонтальных рельсах стоит тележка массой M . В нее бросают шар массой m , который ударяется о правую стенку тележки и падает на ее дно, застревая в насыпанном на дно песке. В момент, когда шар пролетал над левой стенкой тележки, его скорость была равна $v_0 = 4$ м/с и направлена горизонтально, а высота над поверхностью песка составляла $H = 1,8$ м. Какой путь S пройдет тележка к моменту падения шара на песок, если длина тележки $L = 2$ м? Удар шара о стенку считать абсолютно упругим, стенку и шар гладкими, трением при движении тележки и размером шара пренебречь. При расчете положить $m = M/9$. Ускорение свободного падения принять равным $g = 10$ м/с².



Решение. При упругом ударе шара о правую стенку тележки сохраняются горизонтальная проекция импульса и механическая энергия. Имеем:

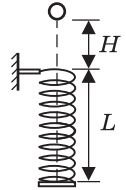
$$m v_0 = M u - m v, \quad \frac{m v_0^2}{2} = \frac{M u^2}{2} + \frac{m v^2}{2}, \quad \text{где } u \text{ — скорость тележки, } v \text{ — горизонтальная проекция скорости шара после удара. Из этой системы находим}$$

$u = \frac{2m}{M+m} v_0 = 0,2 v_0$. Поскольку вертикальная проекция скорости шара при ударе о гладкую стенку не меняется, время τ движения шара с момента,

когда он пролетает над левой стенкой, до попадания в песок, равно времени свободного падения с высоты H , а именно $\tau = \sqrt{2H/g}$. Время движения шара с момента, когда он пролетает над левой стенкой, до удара о правую стенку, $\tau_1 = L/v_0$. Приобретая после удара скорость u , тележка пройдет до момента падения шара на песок путь $S = u(\tau - \tau_1)$.

О т в е т.
$$S = \frac{2mv_0}{M+m} \left(\sqrt{\frac{2H}{g}} - \frac{L}{v_0} \right) = 8 \text{ см.}$$

1.3.64. Невесомая пружина жесткостью $k = 10$ Н/м и длиной $L = 7,5$ см подвешена на штативе за верхний конец в вертикальном положении. Нижний конец пружины перекрыт невесомой горизонтальной пластинкой, жестко прикрепленной к пружине. С высоты $H = 2,5$ см, отсчитываемой от верхнего края пружины, падает без начальной скорости пластилиновый шарик массой $m = 25$ г, пролетает сквозь витки пружины, ударяется о пластинку и прилипает к ней. Какую максимальную скорость v_{\max} будет иметь шарик при своем движении вниз? Сопротивление воздуха не учитывать, размером шарика пренебречь, ускорение свободного падения принять $g = 10$ м/с².

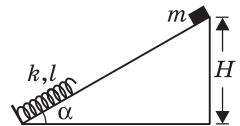


Решение. После того как шарик коснется пластинки, его движение будет происходить по закону гармонических колебаний. Скорость шарика максимальна в положении, когда сила упругости и сила тяжести, действующие на шарик, уравновешены: $mg = k\Delta x$. Отсюда растяжение пружины в момент достижения шариком максимальной скорости $\Delta x = mg/k$. Согласно закону сохранения механической энергии, справедливо равенство $mg(H+L) = \frac{mv_{\max}^2}{2} + \frac{k\Delta x^2}{2} - mg\Delta x$. Выражая отсюда v_{\max} ,

получаем:
$$v_{\max} = \sqrt{2g(H+L) + \frac{mg^2}{k}} = 1,5 \text{ м/с.}$$

О т в е т. $v_{\max} = 1,5$ м/с.

1.3.65. Брусок массой m удерживают на высоте H над основанием наклонной плоскости, образующей с горизонталью угол α . У основания наклонной плоскости находится выступ, в который упирается легкая пружина жесткостью k и длиной l , расположенная вдоль наклонной плоскости. Брусок отпускают без начальной скорости, после чего он соскальзывает вниз и ударяется о пружину. Найти максимальное сжатие пружины Δl , если коэффициент трения между плоскостью и бруском μ . Ускорение свободного падения g .



Решение. В момент, когда достигается максимальное сжатие пружины, скорость бруска обращается в нуль. По закону изменения механической энергии имеем: $mgH = mg(l - \Delta l)\sin\alpha + \frac{k\Delta l^2}{2} + A_{\text{тр}}$, где $A_{\text{тр}}$ — модуль работы силы трения $F_{\text{тр}}$ на перемещении бруска S , причем $F_{\text{тр}} = \mu mg \cos\alpha$,

$S = \left(\frac{H}{\sin \alpha} - (l - \Delta l) \right)$. Следовательно, $A_{\text{тр}} = \mu mg \cos \alpha \left(\frac{H}{\sin \alpha} - (l - \Delta l) \right)$. Объединяя записанные выражения, получаем квадратное уравнение относительно Δl : $\Delta l^2 - \frac{2mg}{k}(\sin \alpha - \mu \cos \alpha)\Delta l - \frac{2mg}{k}(\sin \alpha - \mu \cos \alpha) \left(\frac{H}{\sin \alpha} - l \right) = 0$. Поскольку по условию задачи предоставленный самому себе брусок приходит в движение, $\sin \alpha > \mu \cos \alpha$. Кроме того, $\frac{H}{\sin \alpha} > l$. Поэтому свободный член в квадратном уравнении заведомо отрицателен, и, следовательно, корни этого уравнения существуют. Условию задачи удовлетворяет положительный корень.

$$\text{Ответ. } \Delta l = \frac{mg}{k}(\sin \alpha - \mu \cos \alpha) \left\{ 1 + \sqrt{1 + \frac{2k}{mg \sin \alpha} \cdot \frac{(H - l \sin \alpha)}{(\sin \alpha - \mu \cos \alpha)}} \right\}.$$

1.3.66. Система из двух шаров массами $m_1 = 0,6$ кг и $m_2 = 0,3$ кг, соединенных невесомой спицей длиной $l = 0,5$ м, вращается вокруг неподвижной оси, проходящей через центр тяжести и перпендикулярной спице, с угловой скоростью $\omega = 2$ рад/с. Найти энергию системы E . Размерами шаров по сравнению с длиной спицы пренебречь.

Решение. Поскольку центр тяжести системы неподвижен, потенциальная энергия системы не изменяется, и ее можно принять равной нулю.

Кинетическая энергия шаров рассчитывается по формуле $E = \frac{m_1 v_1^2}{2} + \frac{m_2 v_2^2}{2}$, где $v_1 = \omega l_1$ и $v_2 = \omega l_2$ — линейные скорости шаров, l_1 и l_2 — расстояния от каждого из шаров до центра тяжести системы. Из определения центра тяжести следует, что $m_1 l_1 = m_2 l_2$, а по условию $l_1 + l_2 = l$. Отсюда находим

$$l_1 = \frac{m_2 l}{m_1 + m_2}, \quad l_2 = \frac{m_1 l}{m_1 + m_2}.$$

Объединяя записанные выражения, получаем:

$$E = \frac{m_1 m_2}{2(m_1 + m_2)} \omega^2 l^2 = 0,1 \text{ Дж.}$$

Ответ. $E = 0,1$ Дж.

1.3.67. Две пружины, соединенные как показано на рисунке, имеют жесткости $k_1 = 15$ Н/м и $k_2 = 10$ Н/м. Пружины растянули за свободные концы в разные стороны, совершив работу $A = 1$ Дж. Каковы потенциальные энергии E_1 и E_2 деформации каждой из пружин по отдельности?



Решение. При растяжении пружин, соединенных последовательно, возникающие в них силы упругости одинаковы. Следовательно, $k_1 \Delta l_1 = k_2 \Delta l_2$, где Δl_1 и Δl_2 — абсолютные удлинения пружин. Их сумма равна общему удлинению Δl системы: $\Delta l_1 + \Delta l_2 = \Delta l$. Отсюда

$$\Delta l_1 = \Delta l \frac{k_2}{k_1 + k_2}, \quad \Delta l_2 = \Delta l \frac{k_1}{k_1 + k_2}.$$

Жесткость двух пружин, соединенных последовательно, $k = \frac{k_1 k_2}{k_1 + k_2}$. Поэтому работа по их растяжению $A = \frac{k_1 k_2}{k_1 + k_2} \cdot \frac{\Delta l^2}{2}$,

откуда $\frac{\Delta l^2}{2} = \frac{A(k_1 + k_2)}{k_1 k_2}$. Потенциальные энергии деформации пружин

$E_1 = \frac{k_1 \Delta l^2}{2}$, $E_2 = \frac{k_2 \Delta l^2}{2}$. Объединяя записанные выражения, получаем:

$$E_1 = A \frac{k_2}{k_1 + k_2} = 0,4 \text{ Дж}; \quad E_2 = A \frac{k_1}{k_1 + k_2} = 0,6 \text{ Дж.}$$

О т в е т. $E_1 = 0,4 \text{ Дж}; E_2 = 0,6 \text{ Дж.}$

1.3.68. Развивая максимальную мощность двигателя, автобус движется по горизонтальному участку шоссе с постоянной скоростью v_0 . Когда автобус при неизменной мощности, развиваемой двигателем, въезжает на подъем с углом наклона α_1 , его скорость падает до v_1 . С какой скоростью v_2 автобус будет преодолевать подъем с углом наклона $\alpha_2 < \alpha_1$ при той же мощности, развиваемой двигателем? Проскальзывание ведущих колес автобуса на всех участках шоссе отсутствует. Силу сопротивления воздуха считать пропорциональной скорости автобуса.

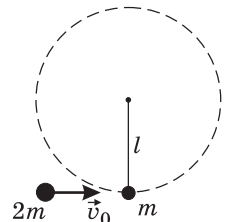
Решение. По условию сила сопротивления воздуха $F = \beta v$, где v — скорость автобуса, β — коэффициент сопротивления. Поэтому часть мощности двигателя, расходуемая на преодоление этой силы, равна $N_1 = Fv = \beta v^2$. При движении автобуса массой m по наклонному участку шоссе часть мощности двигателя расходуется также на увеличение потенциальной энергии автобуса: $N_2 = mgs \sin \alpha \cdot v$. Полная мощность, развиваемая двигателем, $N_0 = \beta v^2 + mgv \sin \alpha$. Из условия задачи следует система уравнений: $\beta v_0^2 = \beta v_1^2 + mgv_1 \sin \alpha_1$, $\beta v_0^2 = \beta v_2^2 + mgv_2 \sin \alpha_2$. Исключая из этой системы β

и m и вводя величину $u = \frac{(v_0^2 - v_1^2) \sin \alpha_2}{v_1 \sin \alpha_1}$, получаем: $v_2 = \frac{1}{2} (\sqrt{u^2 + 4v_0^2} - u)$.

О т в е т. $v_2 = \frac{1}{2} (\sqrt{u^2 + 4v_0^2} - u)$, где $u = \frac{(v_0^2 - v_1^2) \sin \alpha_2}{v_1 \sin \alpha_1}$.

1.3.69. Шарик массой m подвешен на невесомой нерастяжимой нити длиной $l = 1 \text{ м}$. В него ударяется шарик массой $2m$, летящий в плоскости рисунка со скоростью \vec{v}_0 так, что вектор скорости направлен горизонтально вдоль линии, соединяющей центры шаров. Каким должен быть модуль скорости v_0 , чтобы после удара шарик массой m совершил полный оборот по окружности в вертикальной плоскости? Удар считать абсолютно упругим, силы трения не учитывать. Ускорение свободного падения $g = 9,8 \text{ м/с}^2$.

Решение. При соударении шариков сохраняется проекция импульса на горизонтальное направление и кинетическая энергия системы. Обозначив через v_1 и v_2 модули скоростей шариков m и $2m$ после удара, имеем: $2mv_0 = mv_1 + 2mv_2$, $2m \frac{v_0^2}{2} = m \frac{v_1^2}{2} + 2m \frac{v_2^2}{2}$. Так как сила натяжения нити T работу не совершает, при движении шарика



ка m после удара сохраняется его полная механическая энергия. Для нижней и верхней точек окружности, по которой движется этот шарик, получаем: $m \frac{v_1^2}{2} = 2mgl + m \frac{u^2}{2}$, где u — модуль скорости шарика в верхней точке.

Уравнение движения шарика в верхней точке окружности имеет вид: $m \frac{u^2}{l} = mg + T$. Отсюда следует, что u минимально, если натяжение нити в верхней точке обращается в нуль, т. е. $m \frac{u_{\min}^2}{l} = mg$. Объединяя записанные

выражения, получаем ответ: $v_0 = \frac{3}{4} \sqrt{5gl} = 5,25 \text{ м/с}$.

О т в е т. $v_0 = 5,25 \text{ м/с}$.

1.3.70. Гирия массой $m = 1 \text{ кг}$ подвешена на веревке. За свободный конец веревки гирию начинают поднимать вертикально вверх. Какую работу A нужно совершить, чтобы поднять гирию на высоту $h = 2 \text{ м}$ за время $\tau = 3 \text{ с}$? Считать, что сила натяжения веревки во время подъема груза постоянна. Веревку считать невесомой и нерастяжимой. Ускорение свободного падения принять равным $g = 10 \text{ м/с}^2$.

Р е ш е н и е. Искомая работа равна изменению полной механической энергии гири за время подъема: $A = mgh + \frac{mv^2}{2}$. Используя кинематические

уравнения: $v = a\tau$, $h = \frac{a\tau^2}{2}$, находим скорость гири в конце подъема: $v = \frac{2h}{\tau}$.

О т в е т. $A = mgh \left(1 + \frac{2h}{g\tau^2} \right) \approx 20,9 \text{ Дж}$.

1.3.71. Два шарика массами m_1 и m_2 связаны между собой легкой пружиной и покоятся на гладком горизонтальном столе. Жесткость пружины k , ее длина в свободном состоянии l_0 . Раздвигая шарики, растягивают пружину до длины l , а затем отпускают шарики без начальной скорости. Определить скорость v_1 шарика массой m_1 в момент, когда длина пружины станет равной l_0 . Трением пренебречь.

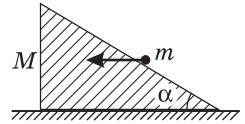
Р е ш е н и е. Из законов сохранения импульса и полной механической энергии следуют равенства: $m_1 v_1 = m_2 v_2$, $\frac{k(l-l_0)^2}{2} = \frac{m_1 v_1^2}{2} + \frac{m_2 v_2^2}{2}$. Исключая

из этих равенств v_2 , получаем: $v_1 = (l-l_0) \sqrt{\frac{km_2}{m_1(m_1+m_2)}}$.

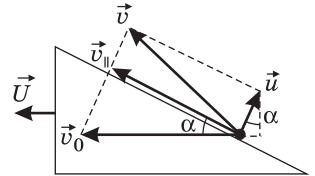
О т в е т. $v_1 = (l-l_0) \sqrt{\frac{km_2}{m_1(m_1+m_2)}}$.

1.3.72. На гладком столе покоится клин массой M с углом α при основании. На гладкую наклонную поверхность клина налетает шарик массой m , причем непосредственно перед ударом скорость шарика направлена горизонтально. Чему равно отношение m/M масс шарика и клина, если известно,

что после абсолютно упругого соударения с клином падающий шарик попадает в ту же самую точку на клине, что и при первом ударе? Считайте, что после соударения с шариком клин движется поступательно. Трением между всеми поверхностями можно пренебречь.



Решение. Поскольку клин гладкий и время соударения мало, изменение импульса шарика при ударе направлено перпендикулярно поверхности клина. Следовательно, проекция скорости шарика $v_{\parallel} = v_0 \cos \alpha$ на направление, параллельное поверхности клина, при ударе не меняется. Обозначим через u проекцию на нормаль к поверхности клина скорости шарика после удара, а через U — модуль скорости клина после удара (см. рисунок). Из закона сохранения импульса в проекции на горизонтальное направление следует: $mv_0 = MU + mv_0 \cos^2 \alpha - mu \sin \alpha$. Закон сохранения энергии дает равенство: $mv_0^2 = MU^2 + m(v_0^2 \cos^2 \alpha + u^2)$. Разре-



шая эту систему, находим $U = \frac{m}{M} \cdot \frac{2v_0 \sin^2 \alpha}{1 + \frac{m}{M} \sin^2 \alpha}$, $u = v_0 \sin \alpha \frac{1 - \frac{m}{M} \sin^2 \alpha}{1 + \frac{m}{M} \sin^2 \alpha}$.

Шарик после падения попадет в ту же точку, что и при первом ударе, если горизонтальная проекция его скорости относительно клина равна нулю: $v_0 \cos^2 \alpha - u \sin \alpha - U = 0$. Подставляя в это равенство найденные ранее U и u ,

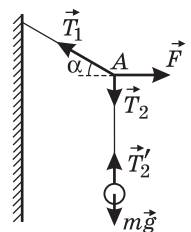
получаем: $\frac{m}{M} = \operatorname{ctg}^2 \alpha - 1$.

О т в е т. $\frac{m}{M} = \operatorname{ctg}^2 \alpha - 1$.

1.4. Статика твердого тела

1.4.1. Однородный шар массой $m = 7$ кг привязан за легкую веревку к гвоздю, вбитому в стену. Какую горизонтальную силу F нужно приложить к середине веревки, чтобы натяжения нижней и верхней ее половин относились как $1 : 2$, а шар не касался стенки? Ускорение свободного падения принять $g = 10$ м/с².

Решение. Положение веревки и силы, действующие в системе, изображены на рисунке, где $m\vec{g}$ — сила тяжести, \vec{T}_1 , \vec{T}_2 и \vec{T}'_2 — силы натяжения верхней и нижней половин веревки, причем $T_2 = T'_2$. Из условия равновесия шара вытекает, что $T'_2 = mg$. Записывая условие равновесия точки приложения силы \vec{F} (точки A) в проекциях на горизонтальное и вертикальное направления, имеем: $T_1 \cos \alpha = F$,



$T_1 \sin \alpha = T_2$. Из последнего соотношения, с учетом того, что по условию $T_1 = 2T_2$, находим: $\sin \alpha = \frac{1}{2}$, т. е. $\alpha = 30^\circ$. Следовательно, $F = 2mg \cos 30^\circ$.

О т в е т. $F = mg\sqrt{3} \approx 118,8$ Н.

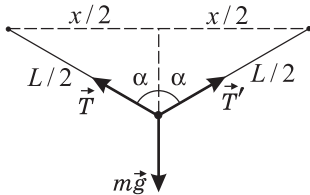
1.4.2. Груз массой $m = 1,2$ кг подвешен к середине нити длиной $L = 2$ м, концы которой закреплены на одном уровне. Найти максимально возможное расстояние x между точками закрепления концов нити, если она выдерживает нагрузку не более $F = 10$ Н. Ускорение свободного падения принять $g = 10$ м/с².

Р е ш е н и е. Груз находится в равновесии под действием сил, изображенных на рисунке, где $m\vec{g}$ — сила тяжести, \vec{T} и \vec{T}' — силы натяжения левого и правого отрезков нити, причем $T = T'$. В проекции на вертикальное направление условие равновесия имеет вид:

$mg = 2T \cos \alpha$, причем $\cos \alpha = \sqrt{L^2 - x^2} / L$. Отсюда

$$T = \frac{mgL}{2\sqrt{L^2 - x^2}}.$$

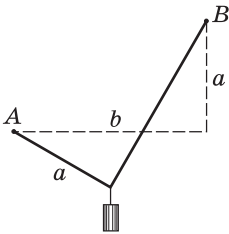
Видно, что с увеличением x сила натяжения нити возрастает. Нить не оборвется, если $T \leq F$.



О т в е т. $x = L\sqrt{1 - \left(\frac{mg}{2F}\right)^2} = 1,6$ м.

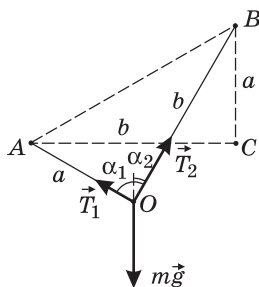
1.4.3. На двух гвоздях, вбитых в стену в точках A и B (см. рисунок), повешена веревка. Расстояние между гвоздями по горизонтали $b = \sqrt{3}$ м \approx

$\approx 1,73$ м, разность высот, на которых вбиты гвозди, $a = 1$ м, длина веревки равна $a + b$. На веревке на расстоянии a от точки A подвешивают груз, который не касается стены. Найти отношение n сил натяжения веревки слева и справа от груза. Веревку считать невесомой и нерастяжимой.



Р е ш е н и е. Груз находится в равновесии под действием трех сил: силы тяжести $m\vec{g}$ и сил натяжения левого \vec{T}_1 и правого \vec{T}_2 отрезков веревки (см. рисунок), причем векторная сумма этих сил равна нулю. Из условия равновесия груза, в частности, следует, что $T_1 \sin \alpha_1 = T_2 \sin \alpha_2$, где α_1 и α_2 — углы между вертикалью и левым и правым отрезками веревки соответственно.

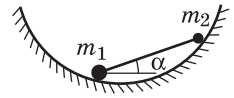
Из равенства треугольников ABC и AOB вытекает, что $\alpha_1 + \alpha_2 = 90^\circ$. Следовательно, $n = \frac{T_1}{T_2} = \operatorname{tg} \alpha_2$.



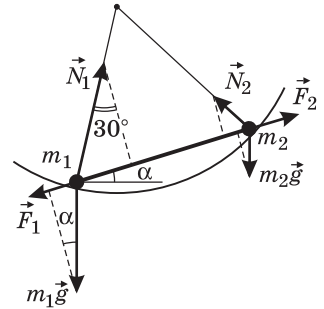
С другой стороны, $a \sin \alpha_1 + b \sin \alpha_2 = b$, или $a \cos \alpha_2 + b \sin \alpha_2 = b$. Из последнего уравнения находим $\cos \alpha_2 = \frac{2ab}{a^2 + b^2} = \frac{\sqrt{3}}{2}$. Поэтому $\alpha_2 = 30^\circ$ и $n = \frac{1}{\sqrt{3}} \approx 0,577$.

О т в е т. $n \approx 0,577$.

1.4.4. На внутренней поверхности гладкой сферы лежит невесомый стержень с маленькими шариками массами m_1 и m_2 на концах. Длина стержня равна радиусу сферы. Пренебрегая трением, найти угол α , который составляет стержень с горизонталью.



Решение. Шарик, насаженный на стержень, находится в равновесии под действием сил, изображенных на рисунке, где $m_1\vec{g}$, $m_2\vec{g}$ — силы тяжести, \vec{N}_1 , \vec{N}_2 — силы реакции сферической поверхности, \vec{F}_1 , \vec{F}_2 — силы реакции стержня,



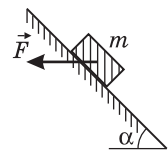
причем $\vec{F}_1 = -\vec{F}_2$, т. к. стержень невесом и находится в покое. В проекции на направление стержня условие равновесия шариков имеет вид: $N_1 \sin 30^\circ - m_1 g \sin \alpha = N_2 \sin 30^\circ + m_2 g \sin \alpha$. Записывая правило моментов относительно осей, проходящих через точки m_1 и m_2 , получаем: $m_2 g \cos \alpha = N_2 \cos 30^\circ$, $m_1 g \cos \alpha = N_1 \cos 30^\circ$, откуда

$$N_1 = \frac{2}{\sqrt{3}} m_1 g \cos \alpha, \quad N_2 = \frac{2}{\sqrt{3}} m_2 g \cos \alpha.$$

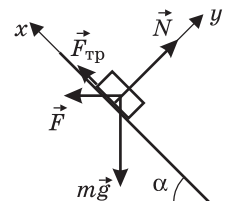
Подставляя найденные N_1 и N_2 в уравнение для сил, получаем: $\operatorname{tg} \alpha = \frac{m_1 - m_2}{\sqrt{3}(m_1 + m_2)}$.

Ответ. $\operatorname{tg} \alpha = \frac{m_1 - m_2}{\sqrt{3}(m_1 + m_2)}$.

1.4.5. Брусок массой $m = 1$ кг находится на неподвижной наклонной плоскости, составляющей угол $\alpha = 45^\circ$ с горизонтом. С какой минимальной горизонтальной силой F нужно действовать на брусок, чтобы он покоился? Коэффициент трения бруска о наклонную плоскость $\mu = 0,25$. Ускорение свободного падения $g = 10$ м/с².



Решение. Брусок находится в равновесии под действием сил, изображенных на рисунке, где $m\vec{g}$ — сила тяжести, \vec{N} — нормальная составляющая силы реакции наклонной плоскости, $\vec{F}_{\text{тр}}$ — сила трения. Согласно закону сухого трения, проекция силы трения покоя на наклонную плоскость может принимать любые значения из диапазона $-\mu N \leq F_{\text{тр}} \leq \mu N$. Сила F минимальна, если сила трения покоя направлена вдоль наклонной плоскости вверх и ее модуль достигает максимальной величины $F_{\text{тр}} = \mu N$. Записывая уравнение равновесия бруска в проекциях на выбранные координатные оси (см. рисунок), получаем: $F_{\text{тр}} + F \cos \alpha - mg \sin \alpha = 0$, $N - mg \cos \alpha - F \sin \alpha = 0$, $F_{\text{тр}} = \mu N$. Разрешая эту систему относительно F , находим:

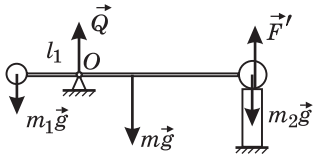


$$\text{дим: } F = mg \frac{\operatorname{tg} \alpha - \mu}{\mu \operatorname{tg} \alpha + 1} = 6 \text{ Н.}$$

Ответ. $F = 6$ Н.

1.4.6. Однородный стержень длиной $l = 1$ м и массой $m = 0,8$ кг несет на концах два маленьких шарика, массы которых $m_1 = 0,2$ кг и $m_2 = 0,25$ кг. Стержень может поворачиваться на горизонтальной оси, находящейся на расстоянии $l_1 = 0,3$ м от шарика меньшей массы. Чтобы стержень был расположен горизонтально, под шарик большей массы подставлена опора. Найти модуль силы F , действующей на опору. Ускорение свободного падения принять $g = 10$ м/с².

Решение. Стержень находится в равновесии под действием сил, изображенных на рисунке, где $m\vec{g}$, $m_1\vec{g}$ и $m_2\vec{g}$ — силы тяжести, \vec{Q} и \vec{F}' — силы реакции оси и опоры. Уравнение моментов, записанное относительно оси, проходящей через точку O (оси вращения стержня), имеет вид:

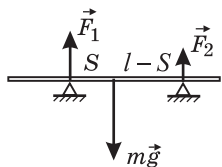


$m_1gl_1 + F'(l - l_1) = m_2g(l - l_1) + mg\left(\frac{l}{2} - l_1\right)$. По третьему закону Ньютона, модуль искомой силы равен модулю силы \vec{F}' .

Ответ. $F = \left[m_2 + \frac{ml/2 - (m + m_1)l_1}{l - l_1} \right] g = 3,85$ Н.

1.4.7. Однородный стержень лежит горизонтально на двух опорах. Расстояние от центра стержня до ближайшей опоры $S = 0,3$ м. Найти расстояние между опорами l , если известно, что модули сил, действующих на стержень со стороны опор, отличаются друг от друга на величину, равную $\alpha = 1/5$ веса стержня.

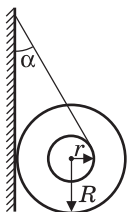
Решение. Стержень находится в равновесии под действием сил, изображенных на рисунке, где $m\vec{g}$ — сила тяжести, \vec{F}_1 и \vec{F}_2 — силы реакции опор. Условия равновесия стержня имеют вид: для сил: $F_1 + F_2 = mg$, для моментов сил относительно центра тяжести стержня: $F_1S = F_2(l - S)$. Кроме того, по условию $F_1 - F_2 = \alpha mg$. Исключая из этих уравнений m , F_1 и F_2 ,



получаем: $l = \frac{2S}{1 - \alpha} = 0,75$ м.

Ответ. $l = 0,75$ м.

1.4.8. К гвоздю, вбитому в вертикальную стенку, привязана нить, намотанная на катушку. Катушка висит, опираясь о стенку. Нить составляет со стенкой угол $\alpha = 30^\circ$. Размеры катушки: $r = 1$ см, $R = 10$ см. Найти минимальное значение коэффициента трения μ между стенкой и катушкой, при котором катушка неподвижна.

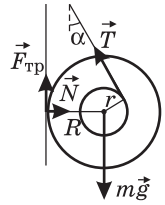


Решение. Силы, действующие на катушку, изображены на рисунке, где $m\vec{g}$ — сила тяжести, \vec{T} — сила натяжения нити, $\vec{F}_{\text{тр}}$ — сила трения, \vec{N} — нормальная составляющая силы реакции стены. Запишем условия равновесия катушки в виде: для горизонтальных проекций сил: $T\sin\alpha = N$, для моментов

сил относительно центра тяжести катушки: $F_{\text{тр}}R = Tr$. Используя для силы трения покоя максимальное значение

$$F_{\text{тр}} = \mu N, \text{ получаем: } \mu = \frac{r}{R \sin \alpha} = 0,2.$$

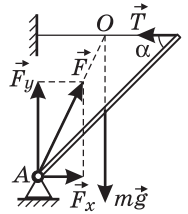
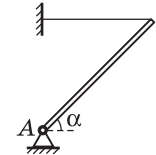
Ответ. $\mu = 0,2$.



1.4.9. Тонкий однородный стержень укреплен на шарнире в точке A и удерживается горизонтальной нитью. Масса стержня $m = 1$ кг, угол его наклона к горизонту $\alpha = 45^\circ$. Найти модуль силы реакции шарнира F. Принять $g = 10$ м/с².

Решение. Стержень находится в равновесии под действием сил, изображенных на рисунке, где $m\vec{g}$ — сила тяжести, \vec{T} — сила натяжения нити, \vec{F}_x и \vec{F}_y — составляющие силы реакции шарнира вдоль горизонтальной и вертикальной осей соответственно.

Условия равновесия стержня имеют вид: для сил: $F_x = T$, $F_y = mg$; для моментов сил относительно точки A: $mg \frac{l}{2} \cos \alpha = Tl \sin \alpha$, где l — длина стержня. Учитывая, что

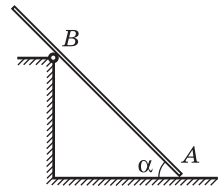


$$F = \sqrt{F_x^2 + F_y^2}, \text{ получаем ответ: } F = mg \sqrt{1 + \frac{1}{4} \text{ctg}^2 \alpha} \approx 11 \text{ Н.}$$

Ответ. $F \approx 11$ Н.

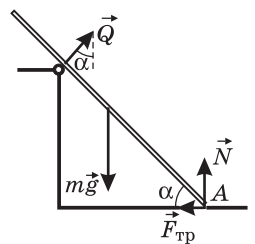
Замечание. Поскольку линии действия сил mg и T пересекаются в точке O, линия действия силы F также должна проходить через эту точку, что позволяет до решения задачи однозначно определить направление силы реакции шарнира.

1.4.10. Лестница стоит на шероховатом полу и опирается о выступ, снабженный роликом. Расстояние AB от нижнего конца лестницы до выступа составляет 3/4 ее полной длины, угол наклона лестницы $\alpha = 45^\circ$. Каков должен быть коэффициент трения μ между лестницей и полом, чтобы она находилась в равновесии? Трением в ролике пренебречь.



Решение. Лестница находится в равновесии под действием сил, изображенных на рисунке, где $m\vec{g}$ — сила тяжести, \vec{N} — нормальная составляющая реакции пола, $\vec{F}_{\text{тр}}$ — сила трения между лестницей и полом, \vec{Q} — реакция ролика. Условия равновесия имеют вид: для сил в проекции на горизонтальное направление: $F_{\text{тр}} = Q \sin \alpha$, в проекции на вертикальное направление: $mg = N + Q \cos \alpha$, для моментов сил относительно оси, проходящей через точку A:

$Q \frac{3l}{4} = mg \frac{l}{2} \cos \alpha$, где m — масса лестницы, l — ее длина. Учитывая, что $F_{\text{тр}} \leq \mu N$, из этой системы уравнений получаем:

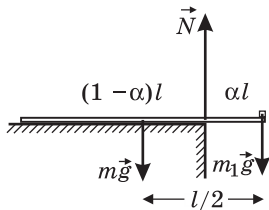


$$\mu \geq \frac{2 \sin \alpha \cos \alpha}{1 + 2 \sin^2 \alpha} = 0,5.$$

Ответ. $\mu \geq 0,5$.

1.4.11. Деревянная линейка выдвинута за край стола на $\alpha = 1/4$ часть своей длины. При этом она не опрокидывается, если на ее свешивающийся конец положить груз массой не более $m_1 = 250$ г. На какую часть длины β можно выдвинуть за край стола эту линейку, если на ее свешивающийся конец положен груз массой $m_2 = 125$ г?

Решение. Пусть m — масса линейки, l — ее длина. Когда на свешивающемся конце линейки лежит груз массой m_1 , она находится в равновесии под действием сил, изображенных на рисунке, где $m\vec{g}$ и $m_1\vec{g}$ — силы тяжести,



\vec{N} — равнодействующая элементарных сил реакции, действующих на линейку со стороны стола. Поскольку по условию линейка не опрокидывается, точка приложения силы \vec{N} совпадает с краем стола. Уравнение моментов, записанное относительно оси, проходящей через край стола, имеет вид:

$$m_1 g \alpha l = m g \left(\frac{l}{2} - \alpha l \right).$$

Для случая, когда на конце линейки лежит груз массой m_2 , по аналогии имеем: $m_2 g \beta l = m g \left(\frac{l}{2} - \beta l \right)$. Раз-

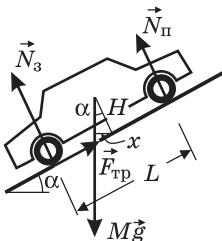
делив второе уравнение на первое, получаем: $\frac{m_2 \beta}{m_1 \alpha} = \frac{1 - 2\beta}{1 - 2\alpha}$. Выражая отсю-

да β , находим $\beta = \frac{m_1 \alpha}{m_2 + 2\alpha(m_1 - m_2)} = \frac{1}{3}$.

О т в е т. $\beta = \frac{1}{3}$.

1.4.12. Автомобиль массой $M = 1000$ кг равномерно движется вверх по наклонному участку дороги, составляющему с горизонтом угол $\alpha = 15^\circ$. Найти модуль силы $N_{\text{п}}$, с которой давят на дорогу передние колеса автомобиля, если расстояние между его осями $L = 2$ м, центр тяжести расположен посередине между осями на расстоянии $H = 0,5$ м от поверхности дороги, ведущие колеса — задние. Силу трения, действующую на передние колеса, не учитывать. Ускорение свободного падения принять $g = 10$ м/с².

Решение. Поскольку автомобиль движется с постоянной скоростью, связанная с ним система отсчета является инерциальной. В этой системе автомобиль находится в равновесии под действием сил, изображенных на ри-



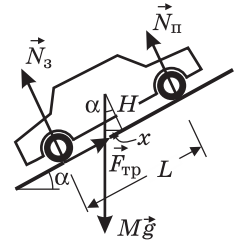
сунке, где $M\vec{g}$ — сила тяжести, $\vec{F}_{\text{тр}}$ — сила трения покоя, действующая со стороны дороги на ведущие (задние) колеса, $\vec{N}_{\text{п}}$ и \vec{N}_3 — нормальные составляющие сил реакции дороги, действующие, соответственно, на передние и задние колеса. Записывая уравнение моментов относительно оси, проходящей через точки соприкосновения

задних колес с дорогой, имеем: $Mg \left(\frac{L}{2} \cos \alpha - x \right) = N_{\text{п}} L$, где $x = H \sin \alpha$.

О т в е т. $N_{\text{п}} = Mg \left(\frac{1}{2} \cos \alpha - \frac{H}{L} \sin \alpha \right) \approx 4,18 \cdot 10^3$ Н.

1.4.13. Автомобиль массой M поднимается с постоянной скоростью вверх по дороге, составляющей угол α с горизонтом. Найти силу F взаимодействия ведущих (задних) колес с поверхностью дороги. Расстояние между осями автомобиля L , центр тяжести находится посередине между осями на расстоянии H от поверхности дороги. Силу трения, действующую на передние колеса, не учитывать. Ускорение свободного падения g .

Решение. Поскольку автомобиль движется с постоянной скоростью, связанная с ним система отсчета является инерциальной. В этой системе автомобиль находится в равновесии под действием сил, изображенных на рисунке, где $M\vec{g}$ — сила тяжести, $\vec{F}_{\text{тр}}$ — сила трения покоя, действующая со стороны дороги на ведущие (задние) колеса, $\vec{N}_{\text{п}}$ и $\vec{N}_{\text{з}}$ — нормальные составляющие сил реакции дороги, действующие, соответственно, на передние и задние колеса. Записывая уравнение моментов относительно оси, проходящей через точки соприкосновения передних колес с дорогой, имеем: $Mg\left(\frac{L}{2}\cos\alpha + x\right) = N_3L$,



где $x = H\sin\alpha$. Отсюда $N_3 = Mg\left(\frac{1}{2}\cos\alpha + \frac{H}{L}\sin\alpha\right)$.

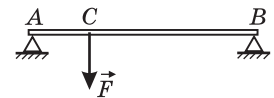
Из условия равновесия автомобиля также следует, что $F_{\text{тр}} = Mg\sin\alpha$. Учти-

таявая, что $F = \sqrt{F_{\text{тр}}^2 + N_3^2}$, получаем: $F = Mg\sqrt{\sin^2\alpha + \left(\frac{1}{2}\cos\alpha + \frac{H}{L}\sin\alpha\right)^2}$.

О т в е т. $F = Mg\sqrt{\sin^2\alpha + \left(\frac{1}{2}\cos\alpha + \frac{H}{L}\sin\alpha\right)^2}$.

Дополнительные задачи

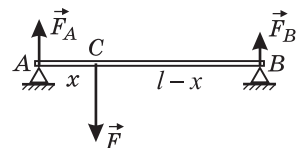
1.4.14. Невесомый стержень лежит горизонтально на двух опорах A и B . В точке C к стержню приложена сила \vec{F} , направленная вертикально вниз. Определить величину этой силы, если известно, что расстояние CB в $k = 2,5$ раза превышает расстояние AC , а нагрузка на опору A превышает нагрузку на опору B на величину $f = 30$ Н.



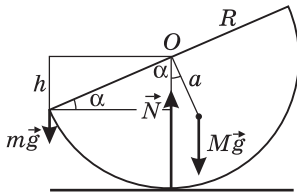
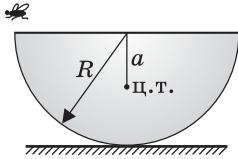
Решение. Пусть l — длина стержня. Обозначим через x расстояние AC , а через \vec{F}_A и \vec{F}_B — силы реакции опор, действующие на стержень в точках A и B . Условия равновесия стержня имеют вид: $F_A + F_B = F$, $F_A x = F_B(l - x)$. Кроме того, по условию задачи, $F_A - F_B = f$, $\frac{l - x}{x} = k$. Решая эту систему уравнений, получаем:

$$F = f \frac{k+1}{k-1} = 70 \text{ Н.}$$

О т в е т. $F = 70$ Н.



1.4.15. Тонкостенная полусфера массой M и радиуса R покоится на горизонтальном столе. На какую высоту h опустится край полусферы, если на него сядет муха массой m ? Центр тяжести полусферы расположен на расстоянии $a = R/2$ от ее центра.



Решение. Под действием веса мухи сфера займет наклонное положение, изображенное на рисунке, где через \vec{N} обозначена сила реакции стола. Уравнение

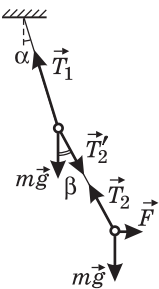
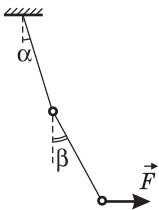
моментов, записанное относительно оси, перпендикулярной плоскости рисунка и проходящей через точку касания полусферы и стола, имеет вид: $Mg a \sin \alpha = mg R \cos \alpha$, где α — угол, на который отклонится полусфера. Отсюда $\operatorname{tg} \alpha = \frac{mR}{Ma} = 2 \frac{m}{M}$.

Из рисунка видно, что искомая величина

$$h = R \sin \alpha = \frac{R \operatorname{tg} \alpha}{\sqrt{1 + \operatorname{tg}^2 \alpha}}.$$

Ответ. $h = \frac{R}{\sqrt{1 + (M / (2m))^2}}$.

1.4.16. Два одинаковых шарика подвешены на невесомой нерастяжимой нити, как показано на рисунке. На нижний шарик действует некоторая постоянная сила, направленная горизонтально. Найти угол β , на который отклонился от вертикали нижний отрезок нити, если известно, что верхний отрезок нити отклонен от вертикали на угол α .

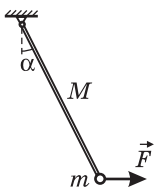


Решение. Шары находятся в равновесии под действием сил, изображенных на рисунке, где \vec{F} — сила, действующая на нижний шарик, \vec{T}_1 , \vec{T}_2 и \vec{T}'_2 — силы натяжения нитей, причем $T'_2 = T_2$. Условия равновесия имеют вид: $T_2 \sin \beta = F$, $T_2 \cos \beta = mg$ (для нижнего шарика), $T_1 \sin \alpha = T_2 \sin \beta$, $T_1 \cos \alpha = mg + T_2 \cos \beta$ (для верхнего шарика). Из этих условий находим, что $\operatorname{tg} \beta = \frac{F}{mg}$, $\operatorname{tg} \alpha = \frac{F}{2mg}$.

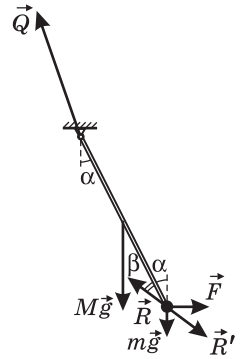
Следовательно, $\operatorname{tg} \beta = 2 \operatorname{tg} \alpha$.

Ответ. $\beta = \operatorname{arctg}(2 \operatorname{tg} \alpha)$.

1.4.17. Маленький шарик массой m подвешен на однородном стержне массой $M = 2(\sqrt{3} - 1)m \approx 1,464m$, длина которого значительно больше радиуса шарика. Под действием горизонтальной силы, приложенной к шарика, стержень отклонился от вертикали на угол $\alpha = 30^\circ$. Под каким углом β к стержню направлена сила, действующая на шарик со стороны стержня?



Решение. Тела системы находятся в равновесии под действием сил, изображенных на рисунке. На шарик действуют: сила тяжести $m\vec{g}$, сила \vec{F} и сила взаимодействия со стержнем \vec{R} . Условия равновесия шарика имеют вид: $F = R\sin(\alpha + \beta)$, $mg = R\cos(\alpha + \beta)$. В свою очередь, на стержень действуют: сила тяжести $M\vec{g}$, сила реакции шарнира \vec{Q} и сила взаимодействия с шариком \vec{R}' . По третьему закону Ньютона $\vec{R} = -\vec{R}'$. Следовательно, $R'_x = F$, $R'_y = mg$. Уравнение моментов, записанное для стержня относительно оси, проходящей через точку подвеса, имеет вид: $Mg \frac{l}{2} \sin\alpha + mgl \sin\alpha = Fl \cos\alpha$,

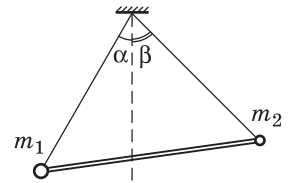


где l — длина стержня. Из записанных равенств находим: $\operatorname{tg}(\alpha + \beta) = \frac{F}{mg}$,

$$\left(1 + \frac{M}{2m}\right) \operatorname{tg}\alpha = \frac{F}{mg}. \text{ Следовательно, } \operatorname{tg}(\alpha + \beta) = \left(1 + \frac{M}{2m}\right) \operatorname{tg}\alpha.$$

О т в е т. $\beta = \arctg\left[\left(1 + \frac{M}{2m}\right) \operatorname{tg}\alpha\right] - \alpha = 15^\circ.$

1.4.18. Два шарика, соединенные невесомым жестким стержнем, подвешены на невесомых нитях одинаковой длины, закрепленных в одной и той же точке. Найти отношение масс шариков $k = m_1 / m_2$. Известно, что нить, на которой висит первый из них, отклонена от вертикали на угол $\alpha = 30^\circ$, а нить, на которой висит второй, отклонена на угол $\beta = 45^\circ$.

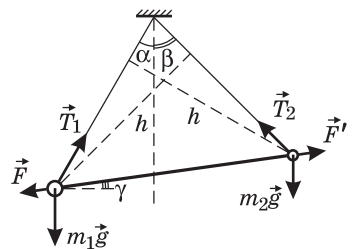


Решение. Шарика находятся в равновесии под действием сил, изображенных на рисунке, где $m_1\vec{g}$ и $m_2\vec{g}$ — силы тяжести, \vec{T}_1 и \vec{T}_2 — силы натяжения нитей, \vec{F} и \vec{F}' — силы реакции стержня. Поскольку стержень невесом и находится в покое, $F' = F$.

Из условия равновесия шариков следует, что $T_1 \sin\alpha = F \cos\gamma$, $T_2 \sin\beta = F \cos\gamma$, откуда

$$\frac{T_1}{T_2} = \frac{\sin\beta}{\sin\alpha}.$$

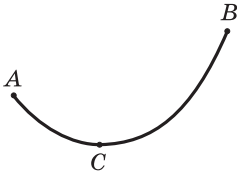
Записывая уравнения моментов относительно каждого из шариков, получаем: $m_2 g l \cos\gamma = T_2 h$, $m_1 g l \cos\gamma = T_1 h$, где l — длина стержня; h — перпендикулярная боковой стороне высота равнобедренного треугольника, образованного нитями и стержнем. Следовательно,



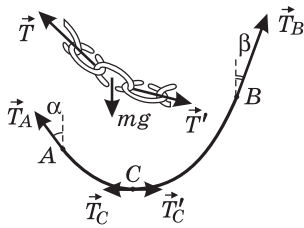
Следовательно, $\frac{T_1}{T_2} = \frac{m_1}{m_2}.$

О т в е т. $k = \frac{\sin\beta}{\sin\alpha} = \sqrt{2}.$

1.4.19. Однородная тяжелая цепочка, состоящая из мелких звеньев, подвешена за концы, как показано на рисунке. Точка C — самая нижняя точка цепочки. Определить массу цепочки m , если известно, что силы натяжения цепочки в точках A, B, C равны соответственно T_A, T_B, T_C . Ускорение свободного падения g .



Решение. На каждое звено цепочки действуют силы, изображенные в верхней части рисунка, где $m\vec{g}$ — сила тяжести, а \vec{T} и \vec{T}' — силы, приложенные к этому звену со стороны соседних звеньев. Поскольку цепочка висит неподвижно, каждое звено находится в состоянии равновесия и сумма сил, действующих на него, равна нулю. Полагая, что масса каждого звена мала, можно считать, что силы \vec{T} и \vec{T}' равны по величине и направлены в противоположные стороны по касательной к цепочке. Модуль каждой из этих сил и представляет собой натяжение цепочки в данном сечении.



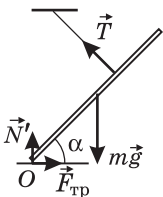
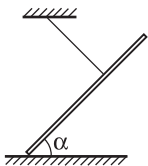
В нижней части рисунка изображены силы натяжения, действующие на отрезки цепочки AC и CB . Из соображений симметрии ясно, что силы, возникающие в точке C , а именно \vec{T}_C и \vec{T}'_C , направлены горизонтально. При этом $T'_C = T_C$. Условия равновесия цепочки имеют вид: $T_A \sin \alpha = T_C$,

$T_B \sin \beta = T_C$, $T_A \cos \alpha + T_B \cos \beta = mg$. Исключая из этих равенств углы α и β ,

$$\text{получаем: } m = \frac{1}{g} (\sqrt{T_A^2 - T_C^2} + \sqrt{T_B^2 - T_C^2}).$$

$$\text{О т в е т. } m = \frac{1}{g} (\sqrt{T_A^2 - T_C^2} + \sqrt{T_B^2 - T_C^2}).$$

1.4.20. Лестница массой $m = 30$ кг удерживается в наклонном положении легкой нерастяжимой веревкой. Веревка привязана к лестнице в точке, отстоящей от верхнего конца лестницы на расстояние, равное $1/3$ длины лестницы. Найти модуль силы нормального давления N лестницы на пол, если лестница составляет с полом угол $\alpha = 45^\circ$, а веревка перпендикулярна лестнице. Центр тяжести лестницы находится посередине. Ускорение свободного падения принять равным $g = 10$ м/с².



Решение. Лестница находится в равновесии под действием сил, указанных на рисунке, где $m\vec{g}$ — сила тяжести, \vec{T} — сила натяжения веревки, $\vec{F}_{\text{тр}}$ — сила трения, \vec{N}' — нормальная составляющая реакции пола. Условия равновесия лестницы имеют вид: для сил в проекции на вертикальное направление: $mg - N' - T \cos \alpha = 0$, для моментов сил относительно оси, перпендикулярной плоскости рисунка и проходящей через точку O : $mg \frac{L}{2} \cos \alpha - T \frac{2}{3} L = 0$. Здесь L — длина

лестницы. Исключая из этих уравнений T , находим $N' = mg\left(1 - \frac{3}{4}\cos^2\alpha\right)$.

По третьему закону Ньютона, модуль искомой силы нормального давления лестницы на пол $N = N'$.

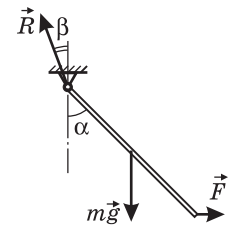
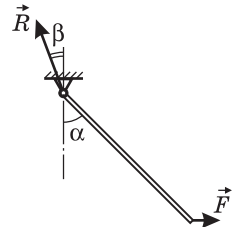
О т в е т. $N = mg\left(1 - \frac{3}{4}\cos^2\alpha\right) = 187,5 \text{ Н.}$

1.4.21. Однородный стержень может вращаться без трения вокруг горизонтальной оси, проходящей через его конец. К другому концу стержня приложена сила, направленная горизонтально и перпендикулярно оси вращения стержня. Под действием этой силы стержень отклонен от вертикали на угол $\alpha = 45^\circ$. Какой угол β составляет с вертикалью сила \vec{R} , действующая на стержень со стороны оси?

Решение. Стержень находится в равновесии под действием сил, изображенных на рисунке, где $m\vec{g}$ — сила тяжести (m — масса стержня), \vec{F} — сила, приложенная к стержню, \vec{R} — сила реакции оси. Из условий равновесия стержня вытекают следующие равенства: для сил: $F = R\sin\beta$, $mg = R\cos\beta$, для моментов сил относительно оси: $F l \cos\alpha = mg \frac{l}{2} \sin\alpha$, где l — длина стержня.

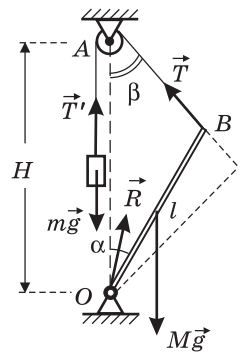
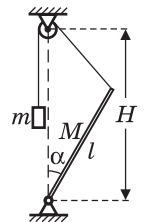
Исключая отсюда F , R и mg , находим, что $\operatorname{tg}\beta = \frac{1}{2}\operatorname{tg}\alpha$.

О т в е т. $\beta = \operatorname{arctg}\left(\frac{1}{2}\operatorname{tg}\alpha\right) = \operatorname{arctg}\left(\frac{1}{2}\right) \approx 26^\circ 34'$.



1.4.22. Стержень массой $M = 28 \text{ кг}$ и длиной $l = 1,73 \text{ м}$ закреплен нижним концом на шарнире (см. рисунок). К верхнему концу стержня привязана легкая нерастяжимая веревка, перекинутая через блок, укрепленный на высоте $H = 2 \text{ м}$ от шарнира на одной вертикали с ним. Найти массу m груза, который нужно подвесить на другом конце веревки, чтобы стержень находился в равновесии, составляя угол $\alpha = 30^\circ$ с вертикалью. Трением в шарнире и в блоке пренебречь. Диаметр блока считать малым.

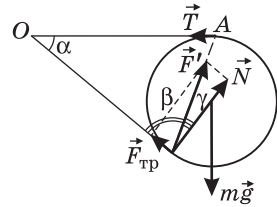
Решение. Система находится в равновесии под действием сил, изображенных на рисунке, где $m\vec{g}$ и $M\vec{g}$ — силы тяжести, \vec{R} — сила реакции шарнира, \vec{T} , \vec{T}' — силы натяжения веревки, причем $T' = T$. Из условия равновесия груза следует, что $T = mg$. Для описания равновесия стержня воспользуемся уравнением моментов относительно оси, перпендикулярной плоскости рисунка и проходящей через точку O , а именно



$mgH \sin \beta = Mg \frac{l}{2} \sin \alpha$. Отсюда $m = M \frac{l}{2H} \cdot \frac{\sin \alpha}{\sin \beta}$. Из теоремы синусов, записанной для $\triangle AOB$, следует равенство $\frac{|AB|}{\sin \alpha} = \frac{l}{\sin \beta}$. По теореме косинусов, для того же треугольника $|AB| = \sqrt{l^2 + H^2 - 2lH \cos \alpha}$. Объединяя записанные выражения, получаем: $m = \frac{M}{2} \sqrt{1 + \left(\frac{l}{H}\right)^2 - 2\frac{l}{H} \cos \alpha} \approx 7$ кг.

Ответ. $m \approx 7$ кг.

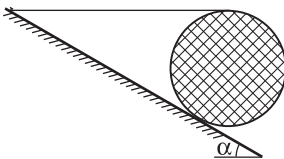
1.4.23. Сплошной однородный цилиндр массой m располагается на шероховатой наклонной плоскости, образующей с горизонталью угол α . На цилиндр намотана нить, которая закреплена на наклонной плоскости так, что ее отрезок между цилиндром и точкой закрепления горизонтален. Найти модуль силы F , с которой цилиндр действует на плоскость, если известно, что он находится в равновесии? Ускорение свободного падения g .



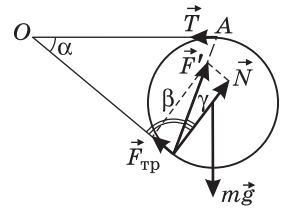
Решение. Цилиндр находится в равновесии под действием сил, изображенных на рисунке, где $m\vec{g}$ — сила тяжести, \vec{T} — сила натяжения нити, \vec{F}' — сила реакции наклонной плоскости. Последнюю удобно разложить на две составляющие: силу нормального давления \vec{N} и силу трения $\vec{F}_{\text{тр}}$. Поскольку линии действия сил $m\vec{g}$ и \vec{T} пересекаются в точке A , линия действия силы \vec{F}' при равновесии цилиндра также должна проходить через эту точку. Следовательно, $F' = \frac{N}{\cos \gamma}$. Записывая уравнение моментов относительно оси, проходящей через точку O , находим, что $N = mg$. Из рисунка видно, что $\gamma = \frac{\pi}{2} - \beta$, $2\beta + \alpha = \pi$. Отсюда $\gamma = \frac{\alpha}{2}$. По третьему закону Ньютона, величина искомой силы $F = F'$.

Ответ. $F = \frac{mg}{\cos(\alpha/2)}$.

1.4.24. Сплошной однородный цилиндр располагается на шероховатой наклонной плоскости, образующей с горизонталью угол α . На цилиндр намотана нить, которая закреплена на наклонной плоскости так, что ее отрезок между цилиндром и точкой закрепления горизонтален. При каком минимальном значении коэффициента трения μ_{min} между плоскостью и цилиндром последний будет находиться в равновесии?



Решение. Цилиндр находится в равновесии под действием сил, изображенных на рисунке, где $m\vec{g}$ — сила тяжести, \vec{T} — сила натяжения нити, \vec{F}' — сила реакции наклонной плоскости. Поскольку линии действия сил $m\vec{g}$ и \vec{T} пересекаются в точке схода нити с блока A , и нить горизонтальна, линия действия силы \vec{F}' при равновесии цилиндра также проходит через эту точку.



Разложим силу \vec{F}' на две составляющие: силу нормального давления \vec{N} и силу трения $\vec{F}_{\text{тр}}$. Из рисунка видно, что $F_{\text{тр}} = N \operatorname{tg} \gamma$. Поскольку величина силы трения покоя $F_{\text{тр}} \leq \mu N$, значение коэффициента трения, при котором цилиндр находится в равновесии, удовлетворяет условию: $\mu \geq \operatorname{tg} \gamma$. Минимальное значение коэффициента трения

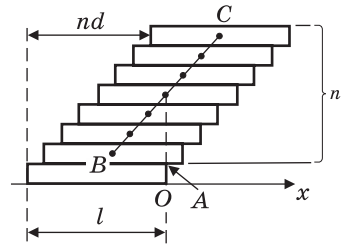
$$\mu_{\min} = \operatorname{tg} \gamma. \text{ Как видно из рисунка, } \gamma = \frac{\pi}{2} - \beta. \text{ Поскольку } 2\beta + \alpha = \pi, \text{ то } \gamma = \frac{\alpha}{2}.$$

Ответ. $\mu_{\min} = \operatorname{tg} \frac{\alpha}{2}.$

1.4.25. Фишки для игры в домино укладывают на горизонтальную поверхность ступенчатой стопкой, смещая вдоль длинной стороны каждую последующую фишку по отношению к предыдущей на $d = 2$ мм. Какое максимальное количество фишек N можно уложить таким образом, прежде чем стопка развалится? Длина каждой фишки $l = 4$ см.

Решение. Стопка развалится, когда ее часть, состоящая из n фишек, начнет опрокидываться, вращаясь вокруг оси, проходящей через точку A (см. рисунок). Центр тяжести системы из n фишек, лежащих на нижней $((n + 1)$ -й) фишке, располагается на середине прямой BC , соединяющей их центры тяжести.

Выбрав начало координат в точке O , находим горизонтальные координаты точек B и C : $x_B = d - \frac{l}{2}$, $x_C = nd - \frac{l}{2}$. Следовательно, горизонтальная координата центра тяжести этой системы $x_{\text{ц}} = \frac{x_B + x_C}{2} =$

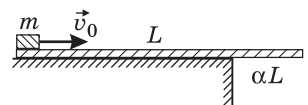


$$= \frac{(n + 1)d}{2} - \frac{l}{2}. \text{ Условие равновесия системы из } n \text{ фишек имеет вид: } x_{\text{ц}} \leq 0.$$

Отсюда $N = n + 1 = \left[\frac{l}{d} \right] = 20$, где символом $[\dots]$ обозначена целая часть числа.

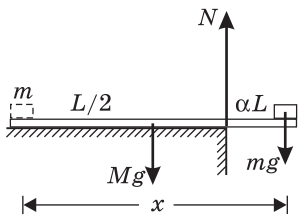
Ответ. $N = 20.$

1.4.26. На шероховатом столе лежит доска массой $M = 1$ кг и длиной $L = 0,5$ м так, что за край стола выступает ее часть длиной αL , где $\alpha = 1/4$. Какую минимальную скорость v_0 нужно сообщить



маленькому бруску массой $m = 1$ кг, находящемуся на левом конце доски, чтобы в результате его перемещения левый конец доски приподнялся над столом? Коэффициент трения между бруском и доской $\mu = 0,1$. Доска при движении бруска не скользит по столу. Толщиной доски пренебречь, ускорение свободного падения $g = 10$ м/с².

Решение. Доска, лежащая на столе, взаимодействует с ним во всех точках соприкосновения. Элементарные силы упругости, действующие со стороны



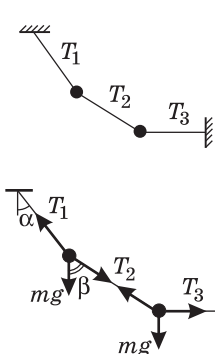
стола на каждый элемент нижней поверхности доски, имеют равнодействующую, величина которой равна суммарному весу доски и бруска, а точка приложения определяется из уравнения моментов. Эту равнодействующую обычно называют силой реакции стола. При движении бруска по доске точка приложения силы реакции стола перемещается вправо до тех пор, пока не достигнет его края. В этот момент левый конец доски перестает давить на стол. Дальнейшее перемещение бруска приведет к тому, что доска опрокинется через край стола. Силы, действующие на доску в момент, когда ее левый конец перестает давить на стол, изображены на рисунке. Из уравнения моментов, записанного относительно оси, проходящей по краю

стола, получаем: $Mg\left(\frac{1}{2} - \alpha\right)L = mg(x - L(1 - \alpha))$, где x — смещение бруска от начального положения. Для того чтобы связать смещение x с начальной скоростью бруска v_0 , воспользуемся законом изменения кинетической энергии тела, согласно которому $\frac{mv_0^2}{2} = \mu mgx$. Отсюда $x = v_0^2 / (2\mu g)$. Объединяя

это выражение с первым, находим: $v_0 = \sqrt{2\mu gL \left[\frac{M}{m} \left(\frac{1}{2} - \alpha \right) + 1 - \alpha \right]} = 1$ м/с.

Ответ. $v_0 = 1$ м/с.

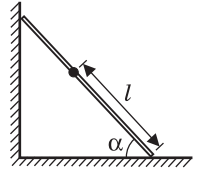
1.4.27. Два одинаковых шарика подвешены на невесомых нерастяжимых нитях, как показано на рисунке. Силы натяжения верхней и средней нитей T_1 и T_2 известны. Найти силу натяжения нижней нити T_3 , если известно, что она расположена горизонтально.



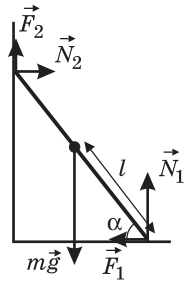
Решение. Шарик находится в равновесии под действием сил, модули и направления которых изображены на рисунке, где mg — модуль силы тяжести. В проекции на горизонтальное и вертикальное направления условия равновесия шариков имеют вид: $T_1 \sin \alpha = T_2 \sin \beta$, $T_1 \cos \alpha = mg + T_2 \cos \beta$, $T_2 \sin \beta = T_3$, $T_2 \cos \beta = mg$. Отсюда вытекают следующие равенства: $T_1 \cos \alpha = 2T_2 \cos \beta$, $T_1^2 = T_2^2(\sin^2 \beta + 4\cos^2 \beta) = T_2^2(4 - 3\sin^2 \beta)$. Из последнего равенства находим $T_2 \sin \beta = \sqrt{(4T_2^2 - T_1^2) / 3}$.

Ответ. $T_3 = \sqrt{(4T_2^2 - T_1^2) / 3}$.

1.4.28. Маленький шарик закреплен на однородном стержне длиной L на расстоянии l от его конца. Стержень прислонен к вертикальной стенке и расположен в плоскости, перпендикулярной стенке. Он образует с горизонтальной поверхностью угол α . При каком максимальном значении l стержень может находиться в равновесии? Коэффициент трения между стержнем и горизонтальной поверхностью, а также в точке касания стержня со стенкой равен μ . Массой стержня по сравнению с массой шарика пренебречь.



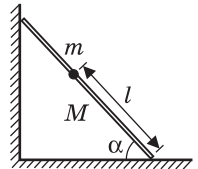
Решение. Стержень находится в равновесии под действием сил, изображенных на рисунке, где $m\vec{g}$ — сила тяжести, действующая на шарик, \vec{N}_1 и \vec{N}_2 — нормальные составляющие сил реакции горизонтальной и вертикальной поверхностей, \vec{F}_1 и \vec{F}_2 — силы трения. Максимальное расстояние l соответствует случаю, когда силы трения принимают значения: $F_1 = \mu N_1$, $F_2 = \mu N_2$. Записывая для этого случая условия равновесия стержня, имеем: $N_2 = \mu N_1$, $\mu N_2 + N_1 = mg$, $\mu N_2 L \cos \alpha + N_2 L \sin \alpha = mgl \cos \alpha$. Исключая из этих уравнений N_1 и N_2 , получаем: $l = L \frac{\mu(\mu + \operatorname{tg} \alpha)}{\mu^2 + 1}$.



О т в е т. $l = L \frac{\mu(\mu + \operatorname{tg} \alpha)}{\mu^2 + 1}$.

1.4.29. Маленький шарик массой m закреплен на однородном стержне массой M и длиной L на расстоянии l от его конца. Стержень прислонен к вертикальной стене так, что образует с горизонтальной поверхностью угол α и располагается в вертикальной плоскости, перпендикулярной стене. При каком максимальном значении l стержень может находиться в равновесии? Коэффициент трения стержня о горизонтальную поверхность и стену равен μ .

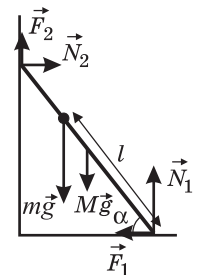
Решение. Стержень находится в равновесии под действием сил, изображенных на рисунке, где $m\vec{g}$ и $M\vec{g}$ — силы тяжести, действующие на шарик и на стержень, \vec{N}_1 и \vec{N}_2 — нормальные составляющие сил реакции горизонтальной и вертикальной поверхностей, \vec{F}_1 и \vec{F}_2 — силы трения покоя. Расстояние l максимально, когда $F_1 = \mu N_1$, $F_2 = \mu N_2$. Записывая для этого случая условия равновесия стержня, имеем: $N_2 = \mu N_1$, $\mu N_2 + N_1 = (M + m)g$, $\mu N_2 L \cos \alpha + N_2 L \sin \alpha = mgl \cos \alpha + Mg \frac{L}{2} \cos \alpha$.



Исключая из этих уравнений N_1 и N_2 , получаем:

$$l = L \left(\frac{\mu(\mu + \operatorname{tg} \alpha)}{(\mu^2 + 1)} \cdot \frac{(M + m)}{m} - \frac{M}{2m} \right).$$

О т в е т. $l = L \left(\frac{\mu(\mu + \operatorname{tg} \alpha)}{(\mu^2 + 1)} \cdot \frac{(M + m)}{m} - \frac{M}{2m} \right)$.



1.5. Механика жидкостей и газов

1.5.1. Браслет массой $M = 80$ г сделан из сплава золота и серебра. Вычислить массу золота m , содержащегося в браслете, исходя из следующих данных. Плотность золота $\rho_1 = 19,3$ г/см³, плотность серебра $\rho_2 = 10,5$ г/см³. При погружении браслета в воду, находящуюся в сосуде с вертикальными стенками и площадью основания $S = 25$ см², уровень воды поднимается на $h = 2$ мм. Объем сплава принять равным суммарному объему исходных компонентов.

Решение. Объем браслета равен объему вытесненной им воды: $V = Sh$. Этот объем складывается из объема золота V_1 и объема серебра V_2 , причем

$$V_1 = \frac{m}{\rho_1}, \quad V_2 = \frac{M - m}{\rho_2}. \quad \text{Следовательно, } m \left(\frac{1}{\rho_1} - \frac{1}{\rho_2} \right) + \frac{M}{\rho_2} = Sh.$$

Отсюда получаем, что $m = (M - Sh\rho_2) \cdot \frac{\rho_1}{\rho_1 - \rho_2}$.

Ответ. $m = 60,3$ г.

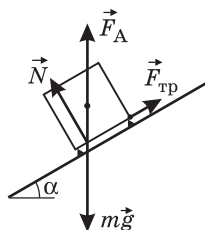

1.5.2. На поверхности воды плавает лист пенопласта, причем толщина погруженной в воду части $h = 1$ см. Если положить на пенопласт груз массой $M = 50$ кг, то высота выступающей над водой части пенопласта уменьшится на $\Delta h = 5$ см. Чему равна масса m пенопласта?

Решение. Пусть S — площадь листа пенопласта, ρ — плотность воды. Условия плавания листа пенопласта имеют вид: $mg = \rho Shg$ (без груза),

$$(m + M)g = \rho S(h + \Delta h)g \quad (\text{с грузом}). \quad \text{Исключая } S, \text{ получаем: } m = M \frac{h}{\Delta h} = 10 \text{ кг.}$$

Ответ. $m = 10$ кг.

1.5.3. На наклонном дне сосуда, наполненного водой, покоится на маленьких подставках алюминиевый кубик с ребром $a = 10$ см. Определить суммарную силу трения между кубиком и подставками. Угол наклона дна сосуда к горизонту $\alpha = 30^\circ$, плотности алюминия и воды, соответственно, $\rho_a = 2,7 \cdot 10^3$ кг/м³, $\rho_v = 10^3$ кг/м³. Ускорение свободного падения принять $g = 10$ м/с².



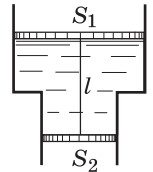
Решение. Кубик находится в равновесии под действием трех сил: силы тяжести $m\vec{g}$, архимедовой силы \vec{F}_A и силы реакции со стороны подставок, которую удобно разложить на две составляющие: нормальную к наклонному дну составляющую \vec{N} и силу трения $\vec{F}_{\text{тр}}$ (см. рисунок).

Отметим, что благодаря подставкам вода окружает кубик со всех сторон и для определения силы, с которой вода действует на него, можно воспользоваться законом Архимеда. Если бы кубик лежал непосредственно на дне сосуда и вода под него не подтекала, то результирующая поверхностных сил давления воды на кубик не выталкивала бы его вверх, а наоборот, еще сильнее прижимала ко дну.

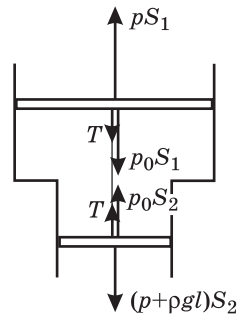
В нашем случае на кубик действует выталкивающая сила $F_A = \rho_b a^3 g$, направленная вверх. В проекции на координатную ось, параллельную дну сосуда, условие равновесия кубика имеет вид: $F_{\text{тр}} = (mg - F_A) \sin \alpha$. Учитывая, что масса кубика $m = \rho_a a^3$, получаем: $F_{\text{тр}} = (\rho_a - \rho_b) a^3 g \sin \alpha = 8,5 \text{ Н}$.

Ответ. $F_{\text{тр}} = 8,5 \text{ Н}$.

1.5.4. В сосуде, вертикальное сечение которого изображено на рисунке, находятся в равновесии два невесомых поршня, соединенные невесомой нерастяжимой нитью. Пространство между поршнями заполнено жидкостью, плотность которой $\rho = 10^3 \text{ кг/м}^3$. Найти силу натяжения нити T , если площади поршней $S_1 = 0,1 \text{ м}^2$ и $S_2 = 0,05 \text{ м}^2$, а длина нити $l = 0,5 \text{ м}$. Трением поршней о стенки сосуда пренебречь, ускорение свободного падения принять равным $g = 10 \text{ м/с}^2$.



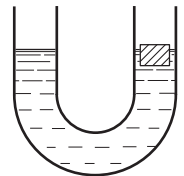
Решение. Поршни находятся в равновесии под действием сил, модули и направления которых указаны на рисунке. Для облегчения анализа рисунка точки приложения некоторых сил условно смещены от их истинного положения. На самом деле точки приложения всех сил расположены на оси симметрии системы. Будем использовать следующие обозначения: T — модуль силы натяжения нити, p_0 — атмосферное давление, p — давление жидкости на уровне верхнего поршня. Условия равновесия поршней имеют вид: для верхнего поршня: $p_0 S_1 + T = p S_1$, для нижнего поршня: $(p + \rho g l) S_2 = p_0 S_2 + T$. Исключая из этих выражений p_0 и p , получаем:



$$T = \frac{\rho g l S_1 S_2}{S_1 - S_2} = 500 \text{ Н}.$$

Ответ. $T = 500 \text{ Н}$.

1.5.5. В одно из колен U -образной трубки, частично заполненной водой, опускают плавать кусочек дерева массой $m = 10 \text{ г}$. На какую высоту Δh поднимется уровень воды в трубке, если площадь ее сечения $S = 10 \text{ см}^2$? Плотность воды $\rho = 1 \text{ г/см}^3$.

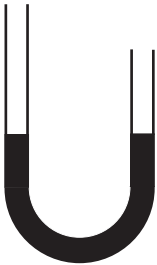


Решение. Из условия плавания кусочка дерева, а именно: $mg = \rho V g$, находим вытесняемый им объем воды: $V = \frac{m}{\rho}$.

Поскольку площадь сечения трубки постоянна, этот объем поровну распределится между ее коленами.

$$\text{Ответ. } \Delta h = \frac{m}{2\rho S} = 0,5 \text{ см}.$$

1.5.6. Вертикально расположенная U -образная трубка частично заполнена ртутью, причем левый конец трубки выше уровня ртути на $h_1 = 50,2 \text{ см}$,



а правый — на $h_2 = 25$ см. В оба колена трубки наливают воду так, что они оказываются полностью заполненными. На какую величину Δh переместится уровень ртути в левом колене трубки, если известно, что ртуть из него не вытесняется полностью? Плотность ртути $\rho = 13,6$ г/см³, плотность воды $\rho_{\text{в}} = 1$ г/см³.

Решение. Пусть первоначальная высота столба ртути в каждом из колен трубки равна h_0 . Поскольку ртуть несжимаема и сечение трубки постоянно, после заполнения колен водой ртуть опустится в левом колене на такую же величину Δh , на которую поднимется в правом колене. Поэтому высоты столбов воды в левом и правом коленах трубки будут равны, соответственно, $h_1 + \Delta h$ и $h_2 - \Delta h$. Жидкости будут находиться в равновесии при равенстве давлений ртути в левом и правом коленах в нижней точке трубки, т. е. при выполнении условия: $\rho_{\text{в}}g(h_1 + \Delta h) + \rho g(h_0 - \Delta h) = \rho_{\text{в}}g(h_2 - \Delta h) + \rho g(h_0 + \Delta h)$.

$$\text{О т в е т. } \Delta h = \frac{\rho_{\text{в}}(h_1 - h_2)}{2(\rho - \rho_{\text{в}})} = 1 \text{ см.}$$

1.5.7. В трех одинаковых сообщающихся сосудах находится ртуть. В левый сосуд налили слой воды высотой $h_1 = 180$ мм, а в правый — высотой $h_3 = 228$ мм. На какую величину h_2 сместится уровень ртути в среднем сосуде, если известно, что ртуть из левого и правого сосудов не вытесняется водой полностью? Плотность ртути $\rho = 13,6$ г/см³, плотность воды $\rho_{\text{в}} = 1$ г/см³.

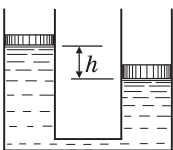


Решение. Пусть h_0 — высота начального уровня ртути в сосудах. После того как нальют воду, уровень ртути в левом сосуде опустится на Δh_1 , в правом — опустится на Δh_3 , а в среднем — повысится на $\Delta h_1 + \Delta h_3$. Жидкости будут находиться в равновесии при равенстве давлений ртути на уровне трубки, соединяющей сосуды: $\rho_{\text{в}}h_1g + \rho(h_0 - \Delta h_1)g = \rho(h_0 + \Delta h_1 + \Delta h_3)g$, $\rho(h_0 + \Delta h_1 + \Delta h_3)g = \rho_{\text{в}}h_3g + \rho(h_0 - \Delta h_3)g$. Из этих равенств, следует, что $\rho_{\text{в}}h_1 = \rho(2\Delta h_1 + \Delta h_3)$, $\rho_{\text{в}}h_3 = \rho(\Delta h_1 + 2\Delta h_3)$, или $\rho_{\text{в}}(h_1 + h_3) = 3\rho(\Delta h_1 + \Delta h_3)$. Учитывая, что $\Delta h_1 + \Delta h_3 = h_2$, получаем:

$$h_2 = \frac{\rho_{\text{в}}}{3\rho}(h_1 + h_3) = 10 \text{ мм.}$$

$$\text{О т в е т. } h_2 = 10 \text{ мм.}$$

1.5.8. Два вертикальных сообщающихся цилиндра заполнены водой и закрыты поршнями с разными массами. В положении равновесия левый поршень расположен выше правого на величину $h = 10$ см. Какой массы m гирию надо поставить на левый поршень, чтобы поршни оказались на одной высоте? Площади поршней одинаковы и равны $S = 200$ см², плотность воды $\rho = 1$ г/см³.

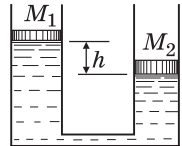


Решение. Обозначим через M_1 и M_2 массы левого и правого поршней соответственно. Условия равновесия системы имеют вид: $\frac{M_1g}{S} + \rho gh = \frac{M_2g}{S}$ (в отсутствие гири),

$\frac{(M_1 + m)g}{S} = \frac{M_2g}{S}$ (когда гиря лежит на левом поршне). Вычитая из первого уравнения второе, получаем: $m = \rho Sh = 2$ кг.

О т в е т. $m = 2$ кг.

1.5.9. Два вертикальных сообщающихся цилиндра заполнены водой и закрыты поршнями с массами $M_1 = 1$ кг и $M_2 = 2$ кг. В положении равновесия левый поршень расположен выше правого на величину $h = 10$ см. Когда на левый поршень поместили гирию массой $m = 2$ кг, поршни в положении равновесия оказались на одной высоте. Какова будет разность высот поршней H , если гирию перенести на правый поршень?



Решение. Пусть S_1 и S_2 — площади поршней, ρ — плотность воды. Из условия равновесия поршней следует:

$\frac{M_1g}{S_1} + \rho gh = \frac{M_2g}{S_2}$ (в исходном состоянии), $\frac{(M_1 + m)g}{S_1} = \frac{M_2g}{S_2}$ (когда гиря лежит на левом поршне),

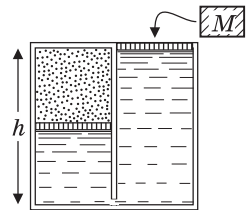
$\frac{M_1g}{S_1} + \rho gH = \frac{(M_2 + m)g}{S_2}$ (когда гиря лежит на правом поршне). Выражая из первого и второго равенств S_1 и S_2 , получаем:

$S_1 = \frac{m}{\rho h}$, $S_2 = \frac{m}{\rho h} \cdot \frac{M_2}{M_1 + m}$. Подставляя найденные S_1 и S_2 в третье равенство, получаем:

$$H = h \left(1 + \frac{M_1 + m}{M_2} \right) = \frac{5}{2}h = 25 \text{ см.}$$

О т в е т. $H = 25$ см.

1.5.10. Сосуд, имеющий форму куба со стороной $h = 1$ м, разделен вертикальной перегородкой на две равные части, сообщающиеся между собой у дна сосуда. Левая половина сверху запаяна, а правая открыта. В каждой половине имеется плоский невесомый поршень, а сосуд заполнен частично водой и частично газом (см. рисунок). Вначале правый поршень находится вровень с верхним краем сосуда, а левый — ровно на половине его высоты. Затем на правый поршень кладут груз массой M , в результате чего этот поршень перемещается на расстояние $d = 25$ см. Определить массу груза, если плотность воды $\rho = 1000$ кг/м³, атмосферное давление $p_0 = 10^5$ Па, а ускорение свободного падения $g = 10$ м/с². Температуру газа считать постоянной.



Решение. В исходном состоянии системы (без груза на поршне) объем и давление газа равны, соответственно, $V = \frac{h^3}{4}$, $p = p_0 + \rho g \frac{h}{2}$. Уравнение

начального состояния газа имеет вид: $\left(p_0 + \rho g \frac{h}{2} \right) \frac{h^3}{4} = \nu RT$. Когда на правый поршень кладут груз, объем и давление газа становятся равными, соответ-

ственно: $V' = \frac{h^2}{2} \left(\frac{h}{2} - d \right)$, $p' = p_0 + \frac{2Mg}{h^2} + \rho g \left(\frac{h}{2} - 2d \right)$. Уравнение состояния


газа в этом случае имеет вид: $\left[p_0 + \frac{2Mg}{h^2} + \rho g \left(\frac{h}{2} - 2d \right) \right] \frac{h^2}{2} \left(\frac{h}{2} - d \right) = \nu RT$.

Приравнивая левые части уравнений состояния, получаем:

$$M = \frac{h^2 d}{2g} \cdot \frac{2p_0 + \rho g(3h - 4d)}{h - 2d} \approx 5,5 \text{ т.}$$

О т в е т. $M \approx 5,5 \text{ т.}$

1.5.11. Сосуд, имеющий форму куба со стороной $h = 1 \text{ м}$, разделен вертикальной перегородкой на две равные части, сообщающиеся между собой у дна сосуда. Левая половина сверху запаяна, а правая открыта. В каждой половине имеется плоский невесомый поршень, а сосуд заполнен частично водой и частично газом (см. рисунок). Вначале на правом поршне лежит груз массой $M = 100 \text{ кг}$, при этом оба поршня находятся на уровне середины сосуда. Затем груз убирают, в результате чего правый поршень поднимается на расстояние $d = 1 \text{ см}$. Определить атмосферное давление, если плотность воды $\rho = 1000 \text{ кг/м}^3$, а ускорение свободного падения $g = 10 \text{ м/с}^2$. Температуру газа считать постоянной.



Р е ш е н и е. В исходном состоянии системы (с грузом на поршне) давление

газа $p = p_0 + \frac{2Mg}{h^2}$, его объем $V = \frac{h^3}{4}$. Уравнение состояния газа имеет

вид $\left(p_0 + \frac{2Mg}{h^2} \right) \frac{h^3}{4} = \nu RT$. В системе без груза давление газа $p' = p_0 + 2\rho g d$,

его объем $V' = \frac{h^2}{2} \left(\frac{h}{2} + d \right)$. Уравнение состояния газа в этом случае:

$\left(p_0 + 2\rho g d \right) \frac{h^2}{2} \left(\frac{h}{2} + d \right) = \nu RT$. Приравнивая левые части уравнений состояния,

получаем: $p_0 = \frac{Mg}{hd} - \rho g(h + 2d) \approx 0,9 \cdot 10^5 \text{ Па.}$

О т в е т. $p_0 \approx 0,9 \cdot 10^5 \text{ Па.}$

1.5.12. К коромыслу равноплечных весов подвешены два сплошных однородных шарика равной массой, сделанных из разных материалов. Если одновременно один из шариков поместить в жидкость с плотностью $\rho_1 = 10^3 \text{ кг/м}^3$, а другой — в жидкость с плотностью $\rho_2 = 0,8 \cdot 10^3 \text{ кг/м}^3$, то равновесие сохранится. Считая, что плотности шариков больше плотностей жидкостей, найти отношение n плотностей шариков.

Р е ш е н и е. Обозначим плотности шариков через ρ'_1 и ρ'_2 , а их объемы — через V_1 и V_2 . Из равенства масс шариков следует, что $V_1 \rho'_1 = V_2 \rho'_2$. Поскольку при погружении шариков в жидкости равновесие весов не на-

рушается, архимедовы силы, действующие на шарики, равны друг другу, т. е. $V_1\rho_1g = V_2\rho_2g$.

$$\text{О т в е т. } n = \frac{\rho'_1}{\rho'_2} = \frac{\rho_1}{\rho_2} = \frac{5}{4}.$$

1.5.13. В цилиндрическом сосуде уровень воды находится на высоте $H = 20$ см. Когда в сосуд пустили плавать пустой стеклянный стакан, уровень воды поднялся на $\Delta h = 2$ см. На какой высоте H_1 будет располагаться уровень воды в сосуде, если стакан утопить? Плотность воды $\rho_{\text{в}} = 1$ г/см³, плотность стекла $\rho_{\text{ст}} = 2,5$ г/см³.

Решение. Пусть m — масса стакана, а S — площадь сечения сосуда. Поскольку плавающий стакан вытесняет объем воды, равный $S\Delta h$, условие его плавания имеет вид: $mg = \rho_{\text{в}}gS\Delta h$. Следовательно, объем стекла, из которого изготовлен стакан, равен $V = \frac{m}{\rho_{\text{ст}}} = S\Delta h \frac{\rho_{\text{в}}}{\rho_{\text{ст}}}$. Этот объем равен объему воды, вытесненному утонувшим стаканом.

$$\text{О т в е т. } H_1 = H + \Delta h \frac{\rho_{\text{в}}}{\rho_{\text{ст}}} = 20,8 \text{ см.}$$

1.5.14. В двух сосудах налиты различные жидкости одинакового объема. Если брусок из пластмассы поместить в первый сосуд, то он плавает в нем, причем сторона бруска, имеющая длину a , перпендикулярна поверхности жидкости, а высота выступающей части равна h_1 . Если этот брусок поместить во второй сосуд, то высота выступающей части станет h_2 . Какой будет величина выступающей части h , если жидкости слить в один сосуд? Жидкости смешиваются без изменения суммарного объема.

Решение. Пусть m — масса бруска, S — площадь его горизонтального сечения, ρ_1 и ρ_2 — плотности жидкостей в первом и втором сосудах. Тогда условия плавания бруска в этих жидкостях будут иметь вид: $mg = (a - h_1)S\rho_1g$,

$$mg = (a - h_2)S\rho_2g. \text{ Отсюда } \rho_1 = \frac{m}{S(a - h_1)}, \quad \rho_2 = \frac{m}{S(a - h_2)}.$$

При сливании жидкостей в один сосуд объем образовавшейся смеси по условию равен сумме объемов компонентов, которые, в свою очередь, равны друг другу. Отсюда

$$\text{следует, что плотность смеси } \rho = \frac{\rho_1 + \rho_2}{2} = \frac{m}{2S} \left(\frac{1}{a - h_1} + \frac{1}{a - h_2} \right).$$

Условие плавания бруска в смеси имеет вид: $mg = (a - h)S\rho g$. Из последних двух соотношений получаем:

$$h = \frac{a(h_1 + h_2) - 2h_1h_2}{2a - (h_1 + h_2)}.$$

$$\text{О т в е т. } h = \frac{a(h_1 + h_2) - 2h_1h_2}{2a - (h_1 + h_2)}.$$

1.5.15. В сосуде с жидкостью плотностью $\rho_1 = 900$ кг/м³ плавает однородный кубик. Верхняя грань кубика параллельна поверхности жидкости, а высота выступающей над жидкостью части $h_1 = 1,8$ см. Когда кубик поместили в сосуд с жидкостью плотностью $\rho_2 = 1800$ кг/м³, высота выступающей части стала $h_2 = 2,4$ см. Найти плотность материала кубика ρ .

Решение. Пусть a — длина ребра кубика. Условия плавания кубика в жидкостях имеют вид: $a^3 \rho g = a^2(a - h_1) \rho_1 g$, $a^3 \rho g = a^2(a - h_2) \rho_2 g$. Исключая из этих равенств a , получаем: $\rho = \rho_1 \rho_2 \frac{h_2 - h_1}{\rho_2 h_2 - \rho_1 h_1} = 360 \text{ кг/м}^3$.

О т в е т. $\rho = 360 \text{ кг/м}^3$.

1.5.16. Цилиндрическая пробирка с грузиком, имеющая площадь поперечного сечения $S = 1 \text{ см}^2$, плавает в воде вертикально, причем из воды высовывается часть пробирки высотой $h = 5 \text{ см}$. Какова минимальная плотность жидкости ρ , в которой пробирка с грузиком не утонет, если суммарная масса пробирки и грузика $M = 20 \text{ г}$? Плотность воды $\rho_0 = 10^3 \text{ кг/м}^3$.

Решение. Пусть длина пробирки l . Условия плавания пробирки в жидкостях имеют вид: $Mg = S(l - h)\rho_0 g$, $Mg = S l \rho g$. Исключая из этих равенств l , получаем: $\rho = \frac{M \rho_0}{(M + \rho_0 S h)} = 0,8 \cdot 10^3 \text{ кг/м}^3$.

О т в е т. $\rho = 0,8 \cdot 10^3 \text{ кг/м}^3$.

1.5.17. В цилиндрический сосуд с водой опускают деревянный шар радиусом R , внутри которого находится свинцовый грузик массой m . На какую высоту h поднимется уровень воды в сосуде, если площадь дна сосуда S , плотность воды $\rho_{\text{в}}$, плотность дерева $\rho_{\text{д}}$, плотность свинца $\rho_{\text{св}}$?

Решение. Вытесненный шаром объем воды зависит от того, будет ли шар плавать или утонет. При записи ответа в общем виде необходимо рассмотреть эти случаи отдельно. Выразим массу составного тела через массу свинцового грузика. Поскольку объем свинца равен $V_{\text{св}} = m / \rho_{\text{св}}$, объем, занимаемый деревом, выразится как $V_{\text{д}} = V_0 - m / \rho_{\text{св}}$, где $V_0 = 4\pi R^3 / 3$ — объем шара. Следовательно, масса шара равна

$$M = \rho_{\text{д}} V_{\text{д}} + m = \frac{4}{3} \pi R^3 \rho_{\text{д}} + m \left(1 - \frac{\rho_{\text{д}}}{\rho_{\text{св}}} \right).$$

Условие того, что шар плавает полностью погруженным в воду, имеет вид: $Mg = \frac{4}{3} \pi R^3 \rho_{\text{в}} g$. Отсюда масса свинца

$$m_0, \text{ при которой выполняется это условие: } m_0 = \frac{4}{3} \pi R^3 (\rho_{\text{в}} - \rho_{\text{д}}) \frac{\rho_{\text{св}}}{(\rho_{\text{св}} - \rho_{\text{д}})}.$$

Если фактическая масса свинцового грузика меньше этого значения, то шар плавает частично погруженным в воду, и вытесненный им объем V определяется

$$\text{из условия } \left[\frac{4}{3} \pi R^3 \rho_{\text{д}} + m \left(1 - \frac{\rho_{\text{д}}}{\rho_{\text{св}}} \right) \right] g = V \rho_{\text{в}} g. \text{ Если же масса грузика } m \geq m_0,$$

то шар тонет, вытесняя объем $V_0 = 4\pi R^3 / 3$.

$$\text{О т в е т. } h = \frac{1}{S \rho_{\text{в}}} \left[\frac{4}{3} \pi R^3 \rho_{\text{д}} + m \left(1 - \frac{\rho_{\text{д}}}{\rho_{\text{св}}} \right) \right] \text{ при } m \leq m_0; h = \frac{1}{S} \cdot \frac{4}{3} \pi R^3 \text{ при } m \geq m_0,$$

$$\text{где } m_0 = \frac{4}{3} \pi R^3 \rho_{\text{св}} \frac{\rho_{\text{в}} - \rho_{\text{д}}}{\rho_{\text{св}} - \rho_{\text{д}}}.$$

1.5.18. Надводная часть айсберга имеет объем $V = 1000 \text{ м}^3$. Найти массу айсберга M , если плотность воды $\rho_{\text{в}} = 1,03 \cdot 10^3 \text{ кг/м}^3$, а плотность льда $\rho_{\text{л}} = 0,9 \cdot 10^3 \text{ кг/м}^3$.

Решение. Обозначим через V_1 объем подводной части айсберга. Условие его плавания имеет вид: $Mg = \rho_{\text{в}}gV_1$. Поскольку $M = \rho_{\text{л}}(V + V_1)$, условие плавания можно переписать следующим образом: $\rho_{\text{л}}(V + V_1) = \rho_{\text{в}}V_1$. Выра-

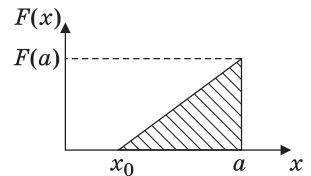
жая отсюда V_1 , получаем: $M = V \frac{\rho_{\text{л}}\rho_{\text{в}}}{\rho_{\text{в}} - \rho_{\text{л}}} \approx 7131 \text{ т}$.

О т в е т. $M \approx 7131 \text{ т}$.

1.5.19. Деревянный куб плавает на поверхности воды. Какую работу A нужно совершить, чтобы полностью погрузить куб в воду? Длина ребра куба $a = 1 \text{ м}$, плотность дерева $\rho_{\text{д}} = 0,5 \text{ г/см}^3$, плотность воды $\rho_{\text{в}} = 1 \text{ г/см}^3$, ускорение свободного падения $g = 10 \text{ м/с}^2$. Погружение куба в воду производится очень медленно.

Решение. Обозначим через x высоту подводной части куба в процессе погружения. Архимедова сила, действующая на куб, равна $F_{\text{А}} = \rho_{\text{в}}ga^2x$.

Поскольку погружение куба происходит медленно, в каждый момент времени силы, приложенные к нему, уравновешены: $mg + F = F_{\text{А}}$, где $m = \rho_{\text{д}}a^3$ — масса куба, F — внешняя сила, погружающая куб в воду. Из условия плавания куба $\rho_{\text{д}}a^3g = \rho_{\text{в}}a^2x_0g$ находим высоту его подводной части в свободном состоянии: $x_0 = a\rho_{\text{д}} / \rho_{\text{в}}$. Следовательно, зависимость силы,



погружающей куб в воду, от x имеет вид: $F(x) = \rho_{\text{в}}ga^2(x - x_0)$. Работа этой силы на перемещении $(a - x_0)$ может быть вычислена графическим способом

как площадь заштрихованного треугольника (см. рисунок): $A = \frac{1}{2}F(a)(a - x_0)$.

Подставляя сюда значение x_0 , получаем: $A = \frac{1}{2}\rho_{\text{в}}a^4g\left(1 - \frac{\rho_{\text{д}}}{\rho_{\text{в}}}\right)^2 = 1,25 \text{ кДж}$.

О т в е т. $A = 1,25 \text{ кДж}$.

1.5.20. Тело, состоящее из куска льда и вмержшего в него алюминиевого бруска, плавает в воде так, что под водой находится $\alpha = 95\%$ объема тела.

Какой процент льда β должен растаять, чтобы тело полностью погрузилось в воду? Плотность воды $\rho_{\text{в}} = 10^3 \text{ кг/м}^3$, плотность льда $\rho_{\text{л}} = 0,9 \cdot 10^3 \text{ кг/м}^3$, плотность алюминия $\rho_{\text{а}} = 2,7 \cdot 10^3 \text{ кг/м}^3$.



Решение. Пусть $V_{\text{а}}$ — объем алюминиевого бруска, V_0 и V — начальный и конечный объемы льда. Выражая массы этих тел через их объемы и плотности, имеем: $m_{\text{а}} = \rho_{\text{а}}V_{\text{а}}$, $m_0 = \rho_{\text{л}}V_0$, $m = \rho_{\text{л}}V$, где $m_{\text{а}}$ — масса алюминия, m_0 и m — начальная и конечная массы льда. Условия плавания льда с вмержшим в него бруском можно записать в виде:

$(V_0\rho_{\text{л}} + V_{\text{а}}\rho_{\text{а}})g = \frac{\alpha}{100\%}(V_0 + V_{\text{а}})\rho_{\text{в}}g$ (при частичном погружении в воду);

$(V\rho_{\text{л}} + V_a\rho_a)g = (V + V_a)\rho_{\text{в}}g$ (при полном погружении в воду). По условию задачи, искомая величина $\beta = 100\% \cdot \frac{V_0 - V}{V_0}$. Отсюда $V = V_0 \left(1 - \frac{\beta}{100\%}\right)$. Под-

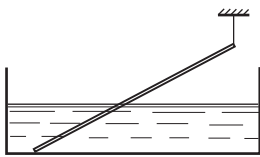
ставляя это соотношение в условие плавания полностью погруженного тела, получаем: $\left(V_0 \left(1 - \frac{\beta}{100\%}\right) \rho_{\text{л}} + V_a \rho_a\right)g = \left(V_0 \left(1 - \frac{\beta}{100\%}\right) + V_a\right)\rho_{\text{в}}g$. Для того чтобы исключить неизвестные V_0 и V_a , приведем условия плавания к виду: $\left(\rho_{\text{л}} - \frac{\alpha\rho_{\text{в}}}{100\%}\right)V_0 = \left(\frac{\alpha\rho_{\text{в}}}{100\%} - \rho_a\right)V_a$, $\left(1 - \frac{\beta}{100\%}\right)(\rho_{\text{в}} - \rho_{\text{л}})V_0 = (\rho_a - \rho_{\text{в}})V_a$. Деля по-

членно эти выражения одно на другое, получаем:
$$\frac{\rho_{\text{л}} - \frac{\alpha\rho_{\text{в}}}{100\%}}{\left(1 - \frac{\beta}{100\%}\right)(\rho_{\text{в}} - \rho_{\text{л}})} = \frac{\frac{\alpha\rho_{\text{в}}}{100\%} - \rho_a}{\rho_a - \rho_{\text{в}}}$$

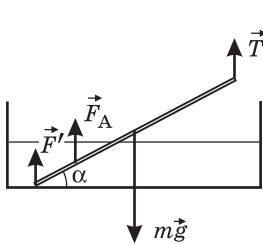
Отсюда находим: $\beta = \frac{\left(1 - \frac{\alpha}{100\%}\right)\rho_{\text{в}}(\rho_a - \rho_{\text{л}})}{\left(\rho_a - \frac{\alpha\rho_{\text{в}}}{100\%}\right)(\rho_{\text{в}} - \rho_{\text{л}})} \cdot 100\% = 51\%$.

О т в е т. $\beta = 51\%$.

1.5.21. Алюминиевая спица длиной $L = 25$ см и площадью поперечного сечения $S = 0,1$ см² подвешена на нити за верхний конец. Нижний конец опирается на горизонтальное дно сосуда, в который налита вода. Длина погруженной в воду части спицы $l = 10$ см. Найти силу F , с которой спица давит на дно сосуда, если известно, что нить расположена вертикально. Плотность алюминия $\rho_a = 2,7$ г/см³, плотность воды $\rho_{\text{в}} = 1$ г/см³. Ускорение свободного падения принять $g = 10$ м/с².



Решение. Силы, действующие на спицу, изображены на рисунке, где $m\vec{g}$ — сила тяжести, \vec{T} — сила натяжения нити, \vec{F}_A — архимедова сила,



\vec{F}' — сила реакции дна сосуда. Сила тяжести приложена к центру спицы, архимедова сила — к центру погруженной в воду ее части. Масса спицы m и модуль архимедовой силы выражаются следующим образом: $m = SL\rho_a$, $F_A = Sl\rho_{\text{в}}g$. Уравнение моментов относительно точки подвеса спицы имеет вид:

$$F'L \cos \alpha + Sl\rho_{\text{в}}g \left(L - \frac{l}{2}\right) \cos \alpha = SL\rho_a g \frac{L}{2} \cos \alpha. \quad \text{Учиты-}$$

вая, что $F' = F$, находим: $F = \left[\frac{1}{2}L\rho_a - \left(1 - \frac{l}{2L}\right)l\rho_{\text{в}}\right]Sg = 0,025$ Н.

О т в е т. $F = 0,025$ Н.

1.5.22. Тонкая однородная палочка опирается одним концом о вершину острого камня, выступающего из воды. Другой конец палочки находит-

ся на плаву, причем погруженная в воду часть палочки в n раз меньше всей ее длины. Плотность воды $\rho_0 = 10^3$ кг/м³, $n = 3$. Найти плотность ρ материала, из которого сделана палочка.

Решение. Палочка находится в равновесии под действием сил, изображенных на рисунке, где $m\vec{g}$ — сила тяжести, \vec{F}_A — архимедова сила, \vec{R} — сила реакции камня. Уравнение моментов, записанное относительно оси, проходящей через вершину камня, имеет вид: $mg \frac{l}{2} \cos \alpha = F_A \left(l - \frac{l}{2n} \right) \cos \alpha$, где l — длина палочки, l/n — длина ее погруженной части. Если S — площадь сечения палочки, то $m = \rho Sl$, $F_A = \rho_0 \frac{Sl}{n} g$.

$$\text{Ответ. } \rho = \frac{\rho_0}{n} \left(2 - \frac{1}{n} \right) = 0,55 \cdot 10^3 \text{ кг/м}^3.$$

1.5.23. В водопроводной трубе образовалось отверстие сечением $s = 4$ мм², из которого вертикально вверх бьет струя воды, поднимаясь на высоту $h = 80$ см. Какой объем воды V вытекает через отверстие за время τ , равное одним суткам? Ускорение свободного падения принять $g = 10$ м/с².

Решение. Искомый объем равен произведению объемного расхода воды vs , вытекающей из отверстия со скоростью v , на время τ , а именно $V = vst$. Чтобы определить v , воспользуемся законом сохранения механической энергии для элемента струи массой Δm , согласно которому

$$\frac{\Delta m \cdot v^2}{2} = \Delta m \cdot gh. \text{ Отсюда } v = \sqrt{2gh}. \text{ Объединяя записанные выражения,}$$

получаем: $V = \sqrt{2gh} \cdot st \approx 1,37 \text{ м}^3$.

$$\text{Ответ. } V = 1,37 \text{ м}^3.$$

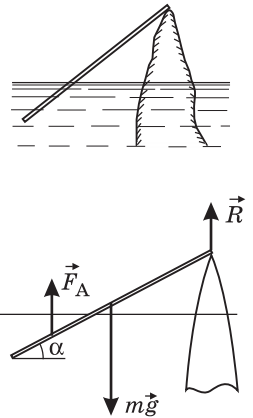
Замечание. Опыт показывает, что струя жидкости, вытекающая из отверстия со скоростью v и направленная строго вертикально, не достигает высоты $h = v^2 / (2g)$, определяемой по закону сохранения энергии. Это объясняется трением частиц жидкости, движущихся вверх, о частицы жидкости, падающие вниз. Но если направить струю под небольшим углом к вертикали, то она будет подниматься практически до высоты h .

1.5.24. В широкой части горизонтальной трубы вода течет со скоростью $v_1 = 8$ см/с при давлении $p_1 = 1,5 \cdot 10^5$ Па. В узкой части трубы давление воды равно $p_2 = 1,4 \cdot 10^5$ Па. Какова скорость v_2 течения воды в узкой части трубы? Плотность воды $\rho = 1$ г/см³.

Решение. Для жидкости, текущей по горизонтальной трубе, уравнение Бернулли имеет вид: $\frac{\rho v_1^2}{2} + p_1 = \frac{\rho v_2^2}{2} + p_2$. Выражая из него v_2 , получаем:

$$v_2 = \sqrt{\frac{2}{\rho}(p_1 - p_2) + v_1^2} \approx 4,47 \text{ м/с.}$$

$$\text{Ответ. } v_2 = 4,47 \text{ м/с.}$$



1.5.25. В горизонтальной трубе диаметром $d_1 = 5$ см вода течет со скоростью $v_1 = 20$ см/с при давлении $p_1 = 2 \cdot 10^5$ Па. Каково давление p_2 в узкой части трубы диаметром $d_2 = 2$ см? Плотность воды $\rho = 1$ г/см³.

Решение. Пусть v_2 — скорость воды в узкой части трубы. Из уравнения неразрывности следует, что $d_1^2 v_1 = d_2^2 v_2$. Записывая уравнение Бернулли

$$p_1 + \frac{\rho v_1^2}{2} = p_2 + \frac{\rho v_2^2}{2} \text{ и исключая из него } v_2, \text{ получаем: } p_2 = p_1 - \frac{\rho v_1^2}{2} \left(\frac{d_1^4}{d_2^4} - 1 \right) \approx 1,992 \cdot 10^5 \text{ Па.}$$

Ответ. $p_2 = 1,992 \cdot 10^5$ Па.

1.5.26. На поршень горизонтально расположенного шприца сечением S действует вдоль оси шприца постоянная сила F . С какой скоростью v вытекает в горизонтальном направлении струя воды из отверстия шприца площадью s ($s \ll S$), если плотность воды равна ρ ? Трением пренебречь.

Решение. Под действием приложенной к поршню силы он перемещается с некоторой скоростью u . При этом давление воды внутри шприца равно

$$p_0 + \frac{F}{S}, \text{ а на выходе из отверстия шприца совпадает с атмосферным давлением } p_0. \text{ Следовательно, уравнение Бернулли принимает вид: } \frac{\rho u^2}{2} + \frac{F}{S} = \frac{\rho v^2}{2}.$$

Скорость u движения воды в шприце и скорость v ее истечения из отверстия связаны уравнением неразрывности $Su = sv$. Исключая из записанных уравнений u , получаем:

$$v = \sqrt{\frac{2F}{\rho S [1 - (s/S)^2]}} \approx \sqrt{\frac{2F}{\rho S}}.$$

$$\text{Ответ. } v \approx \sqrt{\frac{2F}{\rho S}}.$$

1.5.27. Труба переменного сечения расположена горизонтально. В широкой части трубы диаметром D расположен поршень, на который действует постоянная сила F . Узкая часть трубы имеет диаметр d , и из нее вытекает струя воды. Найти скорость v перемещения поршня. Плотность воды равна ρ . Трением пренебречь.

Решение. Обозначим скорость, с которой вода вытекает из узкой части трубы, через u . Давление воды внутри широкой части трубы равно $p_0 + \frac{4F}{\pi D^2}$,

а в узкой части совпадает с атмосферным давлением p_0 . Скорость движения воды в широкой части трубы равна скорости поршня v . Поэтому уравнение

Бернулли принимает вид: $\frac{\rho v^2}{2} + \frac{4F}{\pi D^2} = \frac{\rho u^2}{2}$. Из уравнения неразрывности

следует, что $D^2 v = d^2 u$. Исключая из записанных уравнений u , получаем:

$$v = \frac{2d^2}{D} \sqrt{\frac{2F}{(D^4 - d^4)\pi\rho}}.$$

$$\text{Ответ. } v = \frac{2d^2}{D} \sqrt{\frac{2F}{(D^4 - d^4)\pi\rho}}.$$

1.5.28. В дне бака высотой $H = 50$ см, полностью заполненного водой, имеется отверстие площадью $s_1 = 1$ см², которая значительно меньше площади сечения бака. Если открыть отверстие, то из него начинает вытекать струя воды и падать вниз. Какова площадь сечения струи s_2 на высоте $h = 20$ ниже дна бака? Поверхностным натяжением воды пренебречь.

Решение. Согласно формуле Торричелли, скорость истечения воды из малого отверстия равна $v_1 = \sqrt{2gH}$. Свободно падающие частицы воды при прохождении по вертикали расстояния h приобретут скорость $v_2 = \sqrt{v_1^2 + 2gh} = \sqrt{2g(H+h)}$. Из уравнения неразрывности струи следует, что $s_1 v_1 = s_2 v_2$.

Объединяя записанные выражения, получаем: $s_2 = s_1 \sqrt{\frac{H}{H+h}} \approx 0,85$ см².

Ответ. $s_2 \approx 0,85$ см².

1.5.29. На горизонтальном столе стоит цилиндрический бак высотой H , полностью заполненный водой. На какой высоте h от основания бака нужно просверлить в его боковой стенке маленькое отверстие, чтобы бьющая из него струя воды падала на поверхность стола наиболее далеко от сосуда?

Решение. Согласно формуле Торричелли, скорость истечения воды из малого отверстия в боковой стенке бака равна $v = \sqrt{2g(H-h)}$. Поскольку эта скорость направлена горизонтально, время достижения частицами струи

поверхности стола $t_0 = \sqrt{\frac{2h}{g}}$. Следовательно, струя падает на поверхность

стола на расстоянии $S = vt_0 = 2\sqrt{h(H-h)}$ от бака. Максимум этого выражения достигается при $h = H/2$. Заметим, что при такой высоте расположения отверстия $S = H$.

Ответ. $h = H/2$.

1.5.30. На гладком горизонтальном столе стоит сосуд с водой. В боковой стенке у дна сосуда проделано маленькое отверстие площадью s . Какую горизонтальную силу F нужно приложить к сосуду, чтобы удержать его в равновесии в момент, когда высота уровня воды в сосуде равна h ? Трением пренебречь. Ускорение свободного падения g . Плотность воды ρ .

Решение. Согласно формуле Торричелли, скорость истечения воды из малого отверстия равна $v = \sqrt{2gh}$. За время Δt из сосуда вытечет вода массой $\Delta m = \rho v s \Delta t$, унося импульс $\Delta p = \Delta m \cdot v = \rho s v^2 \Delta t = 2\rho s g h \cdot \Delta t$. По второму закону Ньютона $\Delta p = F \cdot \Delta t$. Следовательно, реактивная сила, действующая на сосуд со стороны вытекающей воды, равна $F = 2\rho g h s$. Именно такую силу нужно приложить к сосуду, чтобы удерживать его на месте.

Ответ. $F = 2\rho g h s$.

Замечание. Если отверстие закрыто пробкой, то горизонтальные силы давления жидкости, действующие на боковые стенки сосуда, уравновешены. Когда пробку извлекают, из соответствующей стенки удаляется участок площадью s . Если бы механическое состояние жидкости при этом не изменилось, то сила давления на эту стенку уменьшилась бы на $\rho g h s$. На самом деле ее уменьшение

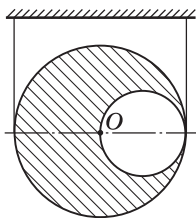
вдвое больше и составляет $2\rho g h s$. Это объясняется перераспределением давления, которое происходит при переходе жидкости от состояния покоя к состоянию установившегося движения. Этот переход совершается за конечное время. Как показывает опыт, сразу после удаления пробки сила давления на соответствующую стенку действительно уменьшается только на $\rho g h s$. Затем в процессе установления течения жидкости сила давления быстро, но непрерывно уменьшается еще на такую же величину.

Дополнительные задачи

1.5.31. Стеклянная бутылка вместимостью $V = 0,5$ л и массой $M = 200$ г плавает в воде. Какое количество воды m нужно налить в бутылку, чтобы она утонула? Плотность стекла $\rho = 2,5 \cdot 10^3$ кг/м³, плотность воды $\rho_{\text{в}} = 10^3$ кг/м³.

Решение. Наружный объем бутылки равен $V_0 = V + \frac{M}{\rho}$. Условие плавания бутылки, полностью погруженной в воду, имеет вид: $(M + m)g = \rho_{\text{в}} V_0 g$. Отсюда находим, что бутылка утонет, если в нее налить воды массой $m > \rho_{\text{в}} V - M \left(1 - \frac{\rho_{\text{в}}}{\rho}\right) = 0,38$ кг.

Ответ. $m = 0,38$ кг.



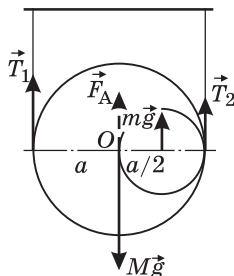
1.5.32. Шар радиуса a со сферической полостью радиуса $a/2$, центр которой смещен на расстояние $a/2$ от центра шара O , подвешен на двух вертикальных нитях так, что линия, соединяющая центры шара и полости горизонтальна (см. рисунок). Во сколько раз n изменится натяжение левой нити, если шар полностью погрузить в жидкость, в которой он не плавает? Плотность жидкости $\rho_0 = 10^3$ кг/м³; плотность материала, из которого сделан шар, $\rho = 2 \cdot 10^3$ кг/м³. Жидкость в полость не проникает.

Решение. При анализе равновесия шара с полостью можно рассматривать его как сплошной шар массой $M = \frac{4}{3}\pi a^3 \rho$, внутрь которого помещен

шар радиусом $a/2$, имеющий «отрицательную» массу $(-m)$, равную по модулю массе $m = \frac{4}{3}\pi \left(\frac{a}{2}\right)^3 \rho$ вырезанной части.

Условия равновесия шара в воздухе имеют вид: для сил: $T_1 + T_2 = Mg - mg$; для моментов сил относительно точки O : $T_1 a - T_2 a - mg \frac{a}{2} = 0$. Аналогичные условия для шара в жидкости запишутся так:

$$T'_1 + T'_2 + F_A = Mg - mg, \quad T'_1 a - T'_2 a - mg \frac{a}{2} = 0,$$



где $F_A = \frac{4}{3}\pi a^3 \rho_0 g$ — архимедова сила. Из этих равенств следует, что

$$T_1 = \frac{1}{2}\left(M - \frac{m}{2}\right)g, \quad T_1' = \frac{1}{2}\left(M - \frac{m}{2}\right)g - \frac{F_A}{2}.$$

О т в е т. $n = 1 - \frac{16\rho_0}{15\rho} = \frac{7}{15}$.

1.5.33. Запаянная с одного конца трубка длиной $L = 110$ см погружается в воду в вертикальном положении открытым концом вниз. Определить давление p воздуха внутри трубки, если ее верхний конец находится на уровне поверхности воды. Атмосферное давление $p_0 = 10^5$ Па. Температуру воздуха в трубке считать постоянной, ускорение свободного падения принять $g = 10$ м/с². Плотность воды $\rho = 10^3$ кг/м³.

Р е ш е н и е. Давление воздуха в трубке, полностью погруженной в воду, равно $p = p_0 + \rho gh$, где h — высота объема, занимаемого воздухом. Поскольку температура воздуха в трубке постоянна, для него справедлив закон Бойля—Мариотта: $p_0 L S = p h S$, где S — площадь сечения трубки. Отсюда

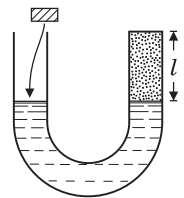
$$h = \frac{p_0}{p} L. \quad \text{Объединяя записанные выражения, получаем:}$$

$$p = p_0 + \rho g \frac{p_0}{p} L, \quad \text{или} \quad p^2 - p_0 p - \rho g L p_0 = 0. \quad \text{Условие задачи}$$

удовлетворяет положительный корень этого уравнения.

О т в е т. $p = \frac{p_0}{2} \left(1 + \sqrt{1 + \frac{4\rho g L}{p_0}} \right) = 1,1 \cdot 10^5$ Па.

1.5.34. В U-образной трубке с площадью поперечного сечения S находится жидкость плотностью ρ . Правое колено трубки сверху герметично закрывают, а в левое колено опускают плавать брусок, в результате чего уровень жидкости в правом колене поднимается относительно исходного уровня на высоту h . Найдите массу бруска m . Расстояние от поверхности жидкости до верхнего края правого колена трубки в начальном состоянии равно l . Атмосферное давление p_0 , ускорение свободного падения g . Температура воздуха постоянна.



Р е ш е н и е. Брусок массой m , плавающий в жидкости плотностью ρ , вытесняет объем $V = m / \rho$. В результате уровни жидкости в трубке повышаются:

в левом колене на h_1 , в правом — на h , причем $h_1 + h = \frac{V}{S} = \frac{m}{\rho S}$. Если

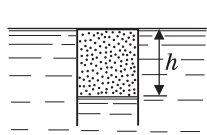
p — давление воздуха над жидкостью в правом колене, то условие равновесия жидкости имеет вид: $p_0 + \rho g h_1 = p + \rho g h$. По закону Бойля—Мариотта для воздуха, содержащегося в правом колене, $p_0 S l = p S (l - h)$. Исключая

из записанных равенств p и h_1 , получаем: $m = h S \left(\frac{p_0}{g(l - h)} + 2\rho \right)$.

О т в е т. $m = h S \left(\frac{p_0}{g(l - h)} + 2\rho \right)$.

1.5.35. Цилиндрическое ведро массой $m = 1$ кг имеет объем $V_0 = 10$ л и высоту $H = 40$ см. Его погружают вверх дном в воду в вертикальном положении до тех пор, пока дно ведра не оказывается вровень с поверхностью воды. Какую силу F нужно приложить к ведру, чтобы удерживать его в этом положении? Температуру воздуха внутри ведра считать неизменной. Плотность воды $\rho = 1$ г/см³, ускорение свободного падения $g = 10$ м/с², атмосферное давление $p_0 = 10^5$ Па. Толщиной стенок ведра пренебречь.

Решение. Давление воздуха в ведре, полностью погруженном в воду, равно $p = p_0 + \rho gh$, где h — высота объема, занимаемого воздухом. Поскольку температура воздуха постоянна, для него справедлив закон Бойля—Мариотта: $p_0 V_0 = (p_0 + \rho gh) V_1$, где $V_1 = \frac{V_0 h}{H}$. Отсюда получаем уравнение для h ,



а именно $h^2 + \frac{p_0}{\rho g} h - \frac{p_0 H}{\rho g} = 0$. Условию задачи удовлетворяет положительный корень $h = \frac{p_0}{2\rho g} \cdot \left[\sqrt{1 + \frac{4\rho g H}{p_0}} - 1 \right]$. Ус-

ловие равновесия погруженного ведра имеет вид:

$F + mg = F_A$, где $F_A = \frac{\rho g V_0 h}{H}$ — архимедова сила. Объединяя записанные

выражения, получаем: $F = \frac{p_0 V_0}{2H} \cdot \left[\sqrt{1 + \frac{4\rho g H}{p_0}} - 1 \right] - mg \approx 86,3$ Н.

О т в е т. $F \approx 86,3$ Н.

1.5.36. Водолазный колокол представляет собой цилиндрическую бочку, изготовленную из стали, причем отношение внутреннего объема колокола к объему его стенок и днища составляет $\alpha = 68$. Колокол переворачивают вверх дном и погружают в воду, подцепив к нему дополнительный груз. На какой глубине d нужно отцепить груз, чтобы колокол после этого оказался в равновесии? Температура воздуха над поверхностью воды $t_0 = 27$ °С; температура воды $t_1 = 7$ °С; атмосферное давление $p_a = 10^5$ Па; плотность стали $\rho_c = 7,8 \cdot 10^3$ кг/м³; плотность воды $\rho_b = 10^3$ кг/м³; ускорение свободного падения $g = 10$ м/с². Высоту колокола считать очень малой по сравнению с глубиной его погружения.

Решение. Обозначим через H и S высоту и площадь поперечного сечения внутренней полости колокола, а через h — высоту столба воздуха в колоколе, находящемся на глубине d . Поскольку давление воды на глубине d равно $p_a + \rho_b g d$, уравнения состояния воздуха в колоколе имеют вид: $p_a S H = \nu R T_0$,

$(p_a + \rho_b g d) S h = \nu R T_1$. Отсюда $h = \frac{p_a H T_1}{(p_a + \rho_b g d) T_0}$. Обозначив через V_0 объем стенок и днища колокола, запишем условие равновесия колокола, погруженного в воду, пренебрегая массой воздуха в нем: $\rho_c V_0 g = \rho_b (V_0 + S h) g$. Учитывая, что

$S H / V_0 = \alpha$, получаем: $d = \frac{p_a}{g} \left[\frac{\alpha T_1}{(\rho_c - \rho_b) T_0} - \frac{1}{\rho_b} \right] \approx 83,3$ м.

О т в е т. $d \approx 83,3$ м.

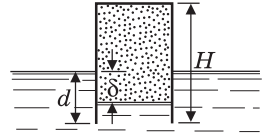
1.5.37. Тонкостенную цилиндрическую бочку массой $m = 100$ кг, высотой $H = 1$ м и площадью основания $S = 0,5$ м² переворачивают вверх дном и опускают в воду. На какой глубине d окажется нижний край бочки, когда она примет положение равновесия? Атмосферное давление $p_a = 10^3$ Па; плотность воды $\rho_v = 10^3$ кг/м³; ускорение свободного падения $g = 10$ м/с². Считать, что бочка все время занимает вертикальное положение. Температура воды равна температуре воздуха.

Решение. Обозначим через δ разность уровней воды снаружи и внутри бочки. Условие равновесия бочки имеет вид: $mg = \rho_v \delta S g$. Отсюда

$\delta = \frac{m}{\rho_v S}$. Для воздуха, заключенного в бочке, справедлив закон Бойля—

Мариотта: $p_a H S = (p_a + \rho_v g \delta)(H - d + \delta)S$. Подставляя

сюда δ , получаем: $d = \frac{m}{\rho_v S} \left(1 + \frac{\rho_v g H}{p_a + mg/S} \right) \approx 22$ см.



Ответ. $d \approx 22$ см.

1.5.38. Тонкостенный стакан вместимостью $V_0 = 200$ см³ и массой $m = 100$ г погружают в воду, держа его дном вверх. На какой глубине h стакан, предоставленный самому себе, перестанет всплывать? Атмосферное давление $p_0 = 10^5$ Па; плотность воды $\rho = 10^3$ кг/м³; температура воды не меняется с глубиной. Ускорение свободного падения принять $g = 10$ м/с². Размерами стакана по сравнению с глубиной его погружения, давлением паров воды, а также объемом стенок стакана пренебречь.

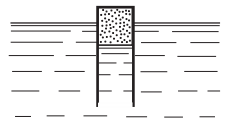
Решение. Стакан будет находиться под водой в безразличном равновесии при выполнении условия $mg = \rho V g$, где V — объем воздуха в стакане.

Отсюда $V = \frac{m}{\rho}$. По закону Бойля—Мариотта, $p_0 V_0 = p V$, где $p = p_0 + \rho g h$ — давление воды на глубине h . Объединяя записанные выражения, находим

$h = \frac{p_0}{\rho g m} (\rho V_0 - m)$. При меньшей глубине погружения стакан, предоставленный самому себе, будет всплывать. Наоборот, при увеличении глубины погружения стакан начнет опускаться вниз, так как с ростом давления воды выталкивающая сила будет уменьшаться.

Ответ. $h \geq \frac{p_0}{\rho g m} (\rho V_0 - m) = 10$ м.

1.5.39. Объем тонкостенного цилиндрического сосуда высотой $H = 40$ см равен $V = 400$ см³, его масса $m = 330$ г. При температуре $t = 47$ °С и атмосферном давлении $p_0 = 100$ кПа сосуд переворачивают вверх дном и погружают в жидкость плотностью $\rho = 10^3$ кг/м³. При какой температуре t_1 сосуд утонет? Атмосферное давление считать неизменным, ускорение свободного падения принять $g = 10$ м/с².



Решение. При понижении температуры объем воздуха в сосуде уменьшается, и он погружается в воду. Сосуд будет оставаться

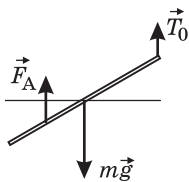
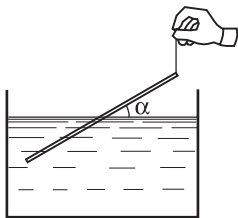
на плаву до тех пор, пока его дно не окажется на одном уровне с поверхностью воды. Силы, действующие на сосуд, при этом еще будут уравновешены. При дальнейшем понижении температуры равновесие сил станет невозможным, и сосуд начнет тонуть. Это произойдет из-за того, что объем воздуха в сосуде и, следовательно, архимедова сила еще больше уменьшатся, а сила, действующая вниз на дно сосуда, увеличится, поскольку к силе давления атмосферного воздуха добавится сила давления воды на дно. Исходя из этих рассуждений, рассмотрим случай, когда сосуд еще плавает, но его дно уже находится вровень с поверхностью воды. Обозначим через p_x давление воздуха в сосуде, а через V_x — объем воздуха. Учитывая, что площадь сечения сосуда $S = \frac{V}{H}$, запишем условие равновесия сосуда под действием приложенных к нему сил: $(p_x - p_0) \frac{V}{H} = mg$. Из закона Архимеда следует, что $mg = \rho V_x g$. Из этих равенств легко найти p_x и V_x . Имеем $p_x = p_0 + \frac{mgH}{V}$,

$V_x = \frac{m}{\rho}$. Уравнения начального и конечного состояния воздуха в сосуде имеют вид: $p_0 V = \nu RT$, $p_x V_x = \nu RT_1$. Отсюда $T_1 = \frac{p_x V_x}{p_0 V} T$. Подставляя сюда най-

денные p_x и V_x , получаем: $t_1 < (t + 273^\circ\text{C}) \cdot \frac{m}{V\rho} \cdot \left(1 + \frac{mgH}{p_0 V}\right) - 273^\circ\text{C} = 16,8^\circ\text{C}$.

Ответ. $t_1 = 16,8^\circ\text{C}$.

1.5.40. Тонкую деревянную палочку подвесили за один из концов на нити, а другой конец опустили в воду. При этом палочка оказалась наклоненной к горизонтали на угол $\alpha = 30^\circ$, а длина ее части, погруженной в воду, составила половину длины палочки. Какую работу A нужно совершить, чтобы вытащить за нить палочку из воды? Длина палочки L , площадь сечения S , плотность воды ρ_B , ускорение свободного падения g .



Решение. Плавающая палочка находится в равновесии под действием сил, изображенных на рисунке, где $m\vec{g}$ — сила тяжести, \vec{F}_A — архимедова сила, \vec{T}_0 — сила натяжения нити. Из уравнения моментов, записанного относительно оси, проходящей через точку подвеса палочки, получаем: $\rho SL \cdot \frac{L}{2} \cos\alpha = \rho_B S \frac{L}{2} \cdot \frac{3L}{4} \cos\alpha$,

откуда плотность материала палочки $\rho = \frac{3}{4}\rho_B$, а ее масса $m = \frac{3}{4}\rho_B SL$. Следовательно, сила натяжения нити в исходном положении

палочки равна $T_0 = mg - F_A = \frac{1}{4}\rho_B SLg$. Поскольку в уравнение моментов угол наклона палочки не входит, глубина погружения палочки в воду при

любом угле наклона одна и та же. Поэтому при перемещении нити вверх сила натяжения будет оставаться постоянной до тех пор, пока палочка не займет вертикальное положение, оставаясь погруженной в воду наполовину. Совершенная при этом работа $A_1 = T_0 \cdot \frac{L}{2}(1 - \sin\alpha) = \frac{1}{8}\rho_b SL^2 g(1 - \sin\alpha)$.

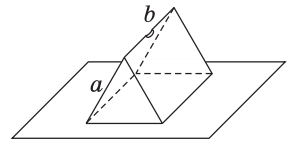
При дальнейшем подъеме нити сила натяжения будет возрастать в зависимости от перемещения по линейному закону. Обозначив через x длину выступающей из воды части палочки, имеем: $T(x) = \rho_b Sg\left(x - \frac{L}{4}\right)$, причем

$\frac{L}{2} \leq x \leq L$. Среднее значение этой силы при удалении палочки из воды

$$T_{cp} = \frac{1}{2}\left(T\left(\frac{L}{2}\right) + T(L)\right) = \frac{1}{2}\rho_b SLg. \text{ Совершенная при этом работа } A_2 = T_{cp} \cdot \frac{L}{2} = \frac{1}{4}\rho_b SL^2 g. \text{ Полная работа } A = A_1 + A_2.$$

Отв е т. $A = \frac{1}{8}\rho_b SL^2 g(3 - \sin\alpha) = \frac{5}{16}\rho_b SL^2 g.$

1.5.41. На горизонтальном столе лежит полая треугольная призма массой m , изготовленная из листового металла. Основания призмы представляют собой правильные треугольники со стороной a . Две боковые грани призмы — прямоугольники со сторонами a и b ; нижняя грань отсутствует. Нижние ребра оснований и боковых граней призмы плотно (без зазора) прилегают к столу. Через отверстие в верхнем ребре в призму медленно наливают воду. До какой высоты h нужно заполнить водой призму, чтобы она оторвалась от стола? Плотность воды ρ .

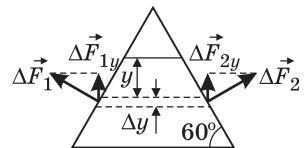


Решение. Выделим тонкий слой воды толщиной Δy , находящийся на глубине y . Площадь боковой стенки, соответствующая толщине этого слоя, $\Delta S = \frac{b\Delta y}{\sin 60^\circ} = \frac{2b\Delta y}{\sqrt{3}}$. Гидростатическое давление воды на глубине y равно $p(y) = \rho gy$. Поэтому модуль силы давления воды, действующей со стороны выделенного слоя на каждую из боковых стенок,

$$\Delta F_1 = \Delta F_2 = p\Delta S = \frac{2\rho gby\Delta y}{\sqrt{3}}. \text{ Векторная сумма } \Delta \vec{F} = \Delta \vec{F}_1 + \Delta \vec{F}_2 \text{ направлена вертикально вверх и по модулю равна } \Delta F(y) = 2\Delta F_1 \cos 60^\circ = f(y)\Delta y, \text{ где } f(y) = 2\frac{\rho gby}{\sqrt{3}}. \text{ Поскольку } f(y) \text{ зависит от } y \text{ линейно,}$$

полная сила, действующая на боковые стенки со стороны столба воды высотой h , равна

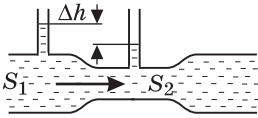
$$F = \frac{1}{2}(f(0) + f(h))h = \frac{\rho gbh^2}{\sqrt{3}}. \text{ Учитывая, что по усло-}$$



вию $F = mg$, находим: $h = \sqrt{\frac{m\sqrt{3}}{\rho b}}$. Поскольку $h \leq \frac{a\sqrt{3}}{2}$, ответ имеет смысл при $m \leq \frac{\sqrt{3}}{4}\rho a^2 b$.

О т в е т. $h = \sqrt{\frac{m\sqrt{3}}{\rho b}}$.

1.5.42. Простейший прибор для измерения объема протекающей через него воды (водомер) представляет собой отрезок горизонтальной трубы переменного сечения, в широкую и узкую части которой вмонтированы тонкие вертикальные трубки (см. рисунок). Площади сечения широкой и узкой части трубы равны, соответственно, $S_1 = 30 \text{ см}^2$ и $S_2 = 10 \text{ см}^2$. Какой объем воды V протекает



через водомер за единицу времени, если разность уровней воды в вертикальных трубках составляет $\Delta h = 4 \text{ см}$? Течение воды считать стационарным, капиллярными эффектами в вертикальных трубках пренебречь. Ускорение свободного падения принять $g = 10 \text{ м/с}^2$.

Р е ш е н и е. Записывая для воды, текущей по трубе переменного сечения, уравнение Бернулли, имеем: $p_1 + \frac{\rho v_1^2}{2} = p_2 + \frac{\rho v_2^2}{2}$, где p_1, p_2 — давления воды в широком и узком сечениях трубы, v_1, v_2 — скорости воды в этих сечениях, ρ — плотность воды. Отсюда следует, что $\Delta p = p_1 - p_2 = \frac{\rho}{2}(v_2^2 - v_1^2)$. В то же время, $\Delta p = \rho g \Delta h$. Объем воды, протекающей через водомер за единицу времени, определяется как $V = S_1 v_1 = S_2 v_2$. Объединяя записанные выражения,

находим: $V = S_1 S_2 \sqrt{\frac{2g\Delta h}{S_1^2 - S_2^2}} \approx 0,95 \text{ л/с}$.

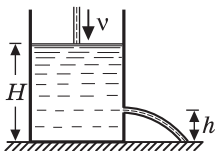
О т в е т. $V \approx 0,95 \text{ л/с}$.

1.5.43. В бочку наливают воду, причем скорость подачи воды постоянна и равна $v = 1 \text{ л/с}$. В стенке бочки имеется отверстие диаметром $d = 2 \text{ см}$, центр которого находится на расстоянии $h = 15 \text{ см}$ от дна бочки. Какой максимальной высоты H относительно дна может достичь уровень воды в бочке? Ускорение свободного падения $g = 9,8 \text{ м/с}^2$.

Р е ш е н и е. Согласно уравнению Бернулли, $\rho \frac{v^2}{2} = \rho g(H - h)$, где ρ — плотность воды, v — скорость истечения воды из отверстия. Отсюда $v = \sqrt{2g(H - h)}$. Высота уровня воды в бочке перестанет меняться, когда расход воды через отверстие сравняется со скоростью подачи воды в бочку:

$vS = V$, где $S = \pi d^2 / 4$ — площадь отверстия. Имеем: $V = \frac{\pi d^2}{4} \sqrt{2g(H - h)}$. Отсюда получаем: $H = h + \frac{8v^2}{\pi^2 g d^4} \approx 67 \text{ см}$.

О т в е т. $H \approx 67 \text{ см}$.



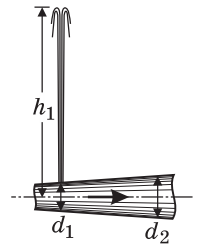
1.5.44. Садовый насос, расположенный в скважине на глубине h , подает воду на поверхность земли по шлангу площадью сечения S . Какую мощность N развивает насос, если известно, что он наполняет водой ведро объемом V за время τ ? Плотность воды ρ , ускорение свободного падения g .

Решение. Пусть p — давление, создаваемое насосом, v — скорость воды в шланге. Согласно уравнению Бернулли, $p = \rho gh + \frac{\rho v^2}{2}$. Работа $\Delta A = p\Delta V$, совершаемая насосом по перемещению воды объемом $\Delta V = Sv\Delta t$, равна $\Delta A = \rho \left(gh + \frac{v^2}{2} \right) Sv\Delta t$. По условию $V = Sv\tau$, откуда $v = \frac{V}{S\tau}$. Объединяя записанные выражения и учитывая, что $N = \frac{\Delta A}{\Delta t}$, по-

$$\text{лучаем: } N = \frac{\rho V}{\tau} \left(gh + \frac{V^2}{2S^2\tau^2} \right).$$

$$\text{О т в е т. } N = \frac{\rho V}{\tau} \left(gh + \frac{V^2}{2S^2\tau^2} \right).$$

1.5.45. По трубе с переменным поперечным сечением и с горизонтальной осью течет вода, причем ее расход составляет $v = 5$ л/с. В верхней части трубы в том месте, где внутренний диаметр трубы $d_1 = 4$ см, образовалось небольшое отверстие. Из этого отверстия вертикально вверх бьет струя воды, поднимаясь на высоту $h_1 = 1$ м. На какую высоту h_2 поднимется струя воды, если такое же отверстие образуется в верхней части трубы в том месте, где внутренний диаметр трубы $d_2 = 8$ см? Высоту подъема струи отсчитывать от оси трубы. Ускорение свободного падения принять равным $g = 10$ м/с². Сопротивлением воздуха пренебречь.



Решение. Уравнение Бернулли для воды, текущей по трубе, имеет вид: $p_1 + \frac{1}{2}\rho v_1^2 = p_2 + \frac{1}{2}\rho v_2^2$, где p_1 , v_1 и p_2 , v_2 — давления и скорости воды в сечениях диаметрами d_1 и d_2 , соответственно, ρ — плотность воды. Из уравнения неразрывности течения следует, что $v = \frac{1}{4}\pi d_1^2 v_1 = \frac{1}{4}\pi d_2^2 v_2$. Отсюда

находим скорости $v_1 = \frac{4v}{\pi d_1^2}$ и $v_2 = \frac{4v}{\pi d_2^2}$. Давление воды в трубе связано с высотой подъема струи воды соотношением $p = p_0 + \rho gh$, где p_0 — атмосферное давление. Объединяя записанные выражения, получаем:

$$h_2 = h_1 + \frac{8v^2}{\pi^2 g d_1^4} \left[1 - \left(\frac{d_1}{d_2} \right)^4 \right] \approx 1,74 \text{ м.}$$

$$\text{О т в е т. } h_2 \approx 1,74 \text{ м.}$$

1.6. Механические колебания и волны

1.6.1. Горизонтальная доска совершает гармонические колебания в горизонтальном направлении с периодом $T = 2$ с. При какой амплитуде колебаний A лежащее на ней тело начнет скользить? Коэффициент трения между доской и телом $\mu = 0,2$, ускорение свободного падения $g = 10$ м/с².

Решение. Направим ось Ox горизонтально и совместим начало координат с некоторой фиксированной точкой доски в положении равновесия. Зависимость координаты этой точки от времени имеет вид: $x = A \cos \frac{2\pi}{T} t$.

Ускорение доски также описывается гармонической функцией времени:

$a = \ddot{x} = -\left(\frac{2\pi}{T}\right)^2 A \cos \frac{2\pi}{T} t$. Амплитудное значение ускорения доски равно

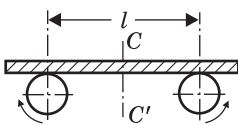
$a_0 = \left(\frac{2\pi}{T}\right)^2 A$. Лежащее на доске тело приводится в движение силой трения.

Поскольку максимальное значение силы трения покоя равно μmg , максимальное ускорение, которое она может сообщить телу, $a_{\max} = \mu g$. Следовательно, тело начнет скользить по доске, когда амплитудное значение ускорения доски превысит максимально возможное значение ускорения тела, т. е. при $a_0 > a_{\max}$.

Отв е т. $A > \frac{\mu g T^2}{4\pi^2} \approx 20$ см.

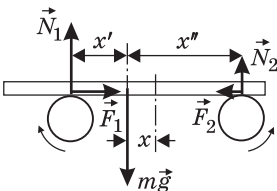
1.6.2. На двух валиках, быстро вращающихся в противоположные стороны, лежит горизонтально однородная доска. Расстояние между осями валиков $l = 20$ см, коэффициент трения между валиками и доской $\mu = 0,2$.

Показать, что если в начальный момент времени центр тяжести доски смещен относительно средней линии CC' , то предоставленная самой себе доска будет совершать гармонические колебания. Найти период T этих колебаний. Ускорение свободного падения принять $g = 10$ м/с².



Решение. Пусть доска смещена от положения равновесия влево на расстояние x . Силы, действующие на доску при этом, изображены на рисунке, где $m\vec{g}$ — сила тяжести (m — масса доски), \vec{N}_1 и \vec{N}_2 — нормальные к доске составляющие сил реакции валиков, \vec{F}_1 и \vec{F}_2 — силы трения скольжения, причем $F_1 = \mu N_1$, $F_2 = \mu N_2$. На рисунке использованы также обозначения:

$x' = \frac{l}{2} - x$, $x'' = \frac{l}{2} + x$. В проекции на вертикальное направление сумма сил равна нулю, откуда следует, что $N_1 + N_2 = mg$. Уравнение моментов, записанное относительно мгновенного положения центра тяжести доски, имеет вид: $N_1 \left(\frac{l}{2} - x\right) = N_2 \left(\frac{l}{2} + x\right)$. Из за-



писанной системы уравнений находим: $N_1 = \frac{mg(l+2x)}{2l}$, $N_2 = \frac{mg(l-2x)}{2l}$.

Сумма сил трения скольжения направлена вправо и по модулю равна

$F = F_1 - F_2 = \mu(N_1 - N_2) = \frac{2\mu mg}{l}x$. Поэтому уравнение движения доски

$m\ddot{x} = -\frac{2\mu mg}{l}x$ имеет вид уравнения гармонических колебаний с круговой

частотой $\omega = \sqrt{\frac{2\mu g}{l}}$. Учитывая, что период колебаний $T = \frac{2\pi}{\omega}$, получаем:

$$T = 2\pi\sqrt{\frac{l}{2\mu g}} \approx 1,4 \text{ с.}$$

О т в е т. $T \approx 1,4 \text{ с.}$

1.6.3. Определить период T вертикальных колебаний груза массой m , подвешенного к двум последовательно соединенным пружинам, жесткости которых k_1 и k_2 .

Р е ш е н и е. Жесткость пружин, соединенных последовательно, рассчитывается по формуле: $k = \frac{k_1 k_2}{k_1 + k_2}$. Период колебаний груза, подвешенного

на пружине, $T = 2\pi\sqrt{\frac{m}{k}}$.

$$\text{О т в е т. } T = 2\pi\sqrt{\frac{m(k_1 + k_2)}{k_1 k_2}}.$$

1.6.4. Зная период колебаний маятника на уровне моря $T_0 = 1 \text{ с}$, найти период колебаний этого маятника T_1 на высоте $h = 6,4 \text{ км}$ над уровнем моря. Радиус Земли $R = 6400 \text{ км}$.

Р е ш е н и е. Зависимость ускорения свободного падения от высоты h над поверхностью Земли имеет вид: $g(h) = \frac{g_0}{(1 + h/R)^2}$, где g_0 — ускорение сво-

бодного падения на уровне моря. Период колебаний математического маят-

ника $T = 2\pi\sqrt{\frac{l}{g}}$.

$$\text{О т в е т. } T_1 = \left(1 + \frac{h}{R}\right)T_0 = 1,001 \text{ с.}$$

1.6.5. Математический маятник, представляющий собой шарик массой m , подвешенный на нити длиной l , помещен в электрическое поле плоского конденсатора, заряженного до напряжения U . Пластины конденсатора расположены горизонтально, расстояние между ними d . Заряд шарика положителен и равен q . Определить период T колебаний маятника. Ускорение свободного падения g .

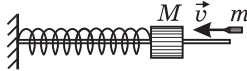
Р е ш е н и е. На шарик кроме силы тяжести и силы натяжения нити действует кулоновская сила. Поскольку электрическое поле внутри плоского

конденсатора однородно, эта сила направлена вертикально, а ее модуль равен $F = \frac{qU}{d}$. Если верхняя пластина конденсатора заряжена положительно, то направление кулоновской силы совпадает с направлением силы тяжести, если отрицательно, то противоположно ему. Следовательно, уравнение малых колебаний маятника имеет вид: $m\ddot{\alpha} = -\left(mg \pm \frac{qU}{d}\right)\alpha$, где α — угол отклонения маятника от вертикали. Отсюда циклическая частота колебаний

$$\omega = \sqrt{\frac{g}{l} \left(1 \pm \frac{qU}{mgd}\right)}, \text{ а период } T = \frac{2\pi}{\omega}.$$

Ответ. $T = 2\pi \sqrt{\frac{l}{g \pm qU/(md)}}$, причем знак «+» соответствует случаю, когда нижняя пластина конденсатора заряжена отрицательно.

1.6.6. Тело массой $M = 10$ кг, надетое на гладкий горизонтальный стержень, связано пружиной с неподвижной стенкой. В это тело попадает и застревает в нем пуля массой $m = 10$ г, летящая горизонтально со скоростью $v = 500$ м/с, направленной вдоль стержня. Тело вместе с застрявшей в нем пулей начинает совершать колебания с амплитудой $A = 10$ см. Найти период T колебаний тела.



Решение. Полагая длительность взаимодействия пули с телом при соударении пренебрежимо малой, можно применить для соударения закон сохранения импульса: $mv = (M + m)u$, где u — скорость тела и пули сразу после соударения. Приобретая такую скорость, тело с застрявшей в нем пулей начинает совершать гармонические колебания с периодом $T = 2\pi \sqrt{\frac{M + m}{k}}$.

По закону сохранения механической энергии: $\frac{(M + m)u^2}{2} = \frac{kA^2}{2}$. Объединяя записанные соотношения, получаем: $T = 2\pi \frac{M + m}{mv} A \approx 1,26$ с.

Ответ. $T \approx 1,26$ с.

1.6.7. Шарик, надетый на гладкую горизонтальную спицу, прикреплен к концам двух невесомых пружин. Вторые концы пружин заделаны в неподвижные стенки так, что в положении равновесия шарика пружины не деформированы. Каков период T колебаний шарика, если известно, что при поочередном подвешивании шарика к каждой из пружин по отдельности их удлинения составили $h_1 = 4$ см и $h_2 = 6$ см? Ускорение свободного падения принять $g = 10$ м/с².



Решение. Пусть m — масса шарика. Из условий равновесия шарика при его поочередном подвешивании на пружинах следует, что $mg = k_1 h_1$,

$mg = k_2 h_2$. Отсюда $k_1 = \frac{mg}{h_1}$, $k_2 = \frac{mg}{h_2}$. Когда шарик с прикрепленными к нему пружинами надет на стержень, его смещение от положения равновесия вызывает одинаковые по модулю деформации пружин, причем направления сил упругости, возникающих в пружинах, совпадают. Потому эквивалентная жесткость пружин $k = k_1 + k_2$. Период колебаний шарика на пружине с такой жесткостью равен $T = 2\pi\sqrt{\frac{m}{k}}$.

О т в е т. $T = 2\pi\sqrt{\frac{h_1 h_2}{g(h_1 + h_2)}} \approx 0,31$ с.

1.6.8. Тело массой $m = 1$ кг, надетое на гладкий горизонтальный стержень, совершает свободные гармонические колебания под действием пружины. Какова полная механическая энергия колебаний E , если амплитуда колебаний $A = 0,2$ м, а модуль максимального ускорения тела в процессе колебаний $a_{\max} = 3$ м/с²?



Р е ш е н и е. В проекции на ось, вдоль которой движется тело, уравнение его колебаний под действием пружины жесткостью k имеет вид: $ma = -kx$, где a — ускорение тела, x — его смещение от положения равновесия. Отсюда $|a| = \frac{k}{m}|x|$, и, следовательно,

$a_{\max} = \frac{k}{m}A$. Учитывая, что полная механическая энергия колебаний равна

$$E = \frac{kA^2}{2}, \text{ получаем: } E = \frac{1}{2}mAa_{\max} = 0,3 \text{ Дж.}$$

О т в е т. $E = 0,3$ Дж.

1.6.9. Тело массой $m = 0,1$ кг, надетое на гладкий горизонтальный стержень, связано пружиной жесткостью $k = 10$ Н/м с неподвижной стенкой. Тело смещают от положения равновесия на расстояние $x_0 = 10$ см и отпускают без начальной скорости. Найти среднюю скорость тела $v_{\text{ср}}$ за время, в течение которого оно проходит из крайнего положения путь $x_0/2$.

Р е ш е н и е. Пусть в момент, когда тело, смещенное от положения равновесия на расстояние x_0 , отпускают без начальной скорости, $t = 0$. Тогда координата тела будет меняться со временем по закону: $x(t) = x_0 \cos \omega t$,

где $\omega = \sqrt{\frac{k}{m}}$ — круговая частота колебаний. Обозначив через t_0 время, за которое тело проходит от крайнего положения путь $x_0/2$, имеем:

$$\frac{x_0}{2} = x_0 \cos\left(\sqrt{\frac{k}{m}}t_0\right), \text{ откуда } t_0 = \sqrt{\frac{m}{k}} \arccos\left(\frac{1}{2}\right) = \frac{\pi}{3}\sqrt{\frac{m}{k}}. \text{ Средняя скорость тела}$$

за время t_0 определяется выражением: $v_{\text{ср}} = \frac{x_0}{2t_0}$.

О т в е т. $v_{\text{ср}} = \frac{3x_0}{2\pi}\sqrt{\frac{k}{m}} \approx 0,48$ м/с.

1.6.10. Гири массой $m = 1$ кг, подвешенная на пружине, совершает вертикальные гармонические колебания с амплитудой $A = 0,2$ м и периодом $T = 2$ с. Определить силу натяжения пружины F в тот момент, когда гиря достигает нижней точки. Ускорение свободного падения $g = 9,8$ м/с².

Решение. Будем отсчитывать координату гири относительно точки подвеса пружины, координатную ось Ox направим вниз. Пусть длина недеформированной пружины l_0 , а ее жесткость k . Тогда координата положения равновесия гири x_0 определится из условия: $mg = k(x_0 - l_0)$, откуда $x_0 = l_0 + mg/k$. Гири совершает колебания относительно положения равновесия с амплитудой A , поэтому в нижней точке координата гири будет: $x_{\max} = x_0 + A$. По закону Гука, сила растяжения пружины при этом равна:

$$F = k(x_{\max} - l_0) = mg + kA. \quad \text{Поскольку период колебаний гири } T = 2\pi\sqrt{\frac{m}{k}},$$

жесткость пружины $k = \frac{4\pi^2 m}{T^2}$.

$$\text{О т в е т. } F = m\left(g + \frac{4\pi^2 A}{T^2}\right) \approx 11,8 \text{ Н.}$$

1.6.11. Математический маятник совершает малые колебания. Известно, что через время $\tau = 0,314$ с после прохождения маятником положения равновесия его отклонение составило некоторую величину α_0 , а через время 2τ — величину $\sqrt{3}\alpha_0$. Найти длину маятника l , если 2τ меньше полупериода его колебаний. Ускорение свободного падения принять $g = 10$ м/с².

Решение. Пусть в момент прохождения маятником положения равновесия $t = 0$. Тогда зависимость угла отклонения маятника от времени имеет вид: $\alpha(t) = A\sin\omega t$, где A — амплитуда колебаний, ω — угловая частота. По условию $\alpha_0 = A\sin\omega\tau$, $\sqrt{3}\alpha_0 = A\sin 2\omega\tau$. Поскольку $\sin 2\omega\tau = 2\sin\omega\tau\cos\omega\tau$,

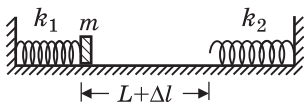
из этих равенств следует, что $\cos\omega\tau = \frac{\sqrt{3}}{2}$, или $\omega\tau = \frac{\pi}{6}$. Учитывая, что

$$\omega = \sqrt{\frac{g}{l}}, \quad \text{получаем: } l = 36g\left(\frac{\tau}{\pi}\right)^2 = 3,6 \text{ м.}$$

О т в е т. } l = 3,6 \text{ м.}

1.6.12. Маленький брусок массой $m = 9$ г может совершать поступательное движение по прямой между двумя пружинами жесткостью $k_1 = 0,25$ Н/м и $k_2 = 0,16$ Н/м. В недеформированном состоянии пружин расстояние между их концами $L = 20$ см.

В начальный момент времени пружина k_1 сжата на величину $\Delta l = 1$ см, а брусок расположен вплотную к ее концу. Через какое время τ после того, как брусок отпустят, он вернется в исходное положение? Пружины считать невесомыми.



Решение. Искомое время складывается из трех времен: половины периода T_1 колебаний бруска на пружине k_1 , времени $2L/v$ равномерного дви-

жения бруска между пружинами и половины периода T_2 колебаний бруска на пружине k_2 . Согласно известной формуле для периода колебаний груза на пружине, $T_1 = 2\pi\sqrt{\frac{m}{k_1}}$, $T_2 = 2\pi\sqrt{\frac{m}{k_2}}$. Скорость равномерного движения бруска можно найти из закона сохранения энергии, справедливого при свободных колебаниях: $\frac{k_1\Delta l^2}{2} = \frac{mv^2}{2}$. Отсюда $v = \sqrt{\frac{k_1}{m}}\Delta l$.

$$\text{Ответ. } \tau = \pi\left(\sqrt{\frac{m}{k_1}} + \sqrt{\frac{m}{k_2}}\right) + \frac{2L}{\Delta l}\sqrt{\frac{m}{k_1}} \approx 9 \text{ с.}$$

1.6.13. Маленький шарик, подвешенный на нити, отклоняют от положения равновесия и отпускают без начальной скорости. Определить, с каким по модулю ускорением a_1 начнет двигаться шарик, если известно, что в момент прохождения шариком нижней точки траектории модуль его ускорения равен $a_2 = 15 \text{ м/с}^2$. Нить считать невесомой и нерастяжимой, сопротивление воздуха не учитывать. Ускорение свободного падения принять $g = 10 \text{ м/с}^2$.

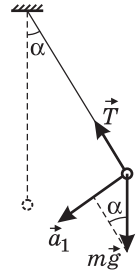
Решение. Пусть m — масса шарика, l — длина нити, α — начальный угол отклонения маятника. Поскольку ускорение шарика в начальный момент времени направлено по касательной к траектории, модуль ускорения a_1 определяется проекцией силы тяжести $m\vec{g}$ на это направление, т. е. $a_1 = g\sin\alpha$. По закону сохранения энергии

$$\frac{mv^2}{2} = mgl(1 - \cos\alpha), \text{ где } v \text{ — скорость шарика в нижней точке.}$$

Ускорение шарика в этой точке равно $a_2 = \frac{v^2}{l}$. Объединяя за-

$$\text{писанные выражения, получаем: } a_1 = \frac{1}{2}\sqrt{a_2(4g - a_2)} \approx 9,7 \text{ м/с}^2.$$

$$\text{Ответ. } a_1 \approx 9,7 \text{ м/с}^2.$$



Дополнительные задачи

1.6.14. На гладком горизонтальном столе лежит деревянный брусок, прикрепленный пружиной к вертикальной стенке. В брусок попадает пуля массой $m = 10 \text{ г}$, летящая горизонтально вдоль оси пружины, и застревает в нем. Определить жесткость пружины k , если известно, что: время, в течение которого сжималась пружина после попадания пули в брусок, $T = 0,1 \text{ с}$; отношение количества теплоты, выделившейся при взаимодействии пули с бруском, к начальной кинетической энергии пули $\alpha = 0,9$. Трением бруска о стол, а также массой пружины пренебречь.

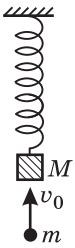


Решение. Обозначим через v скорость пули перед ударом, а через M — массу бруска. Из закона сохранения импульса и закона изменения механической энергии следуют равенства: $mv = (M + m)u$, $\frac{mv^2}{2} = \frac{(M + m)u^2}{2} + Q$, где u — скорость пули и бруска после соударения; Q — количество теплоты, выделившееся при взаимодействии пули с бруском, причем, по условию,

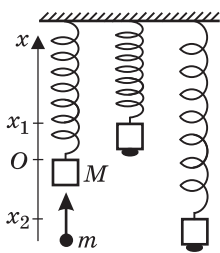
$Q = \alpha \frac{mv^2}{2}$. Время T , в течение которого сжималась пружина, равно четверти периода колебаний тела массой $(M + m)$ на пружине жесткостью k , т. е. $T = \frac{2\pi}{4} \sqrt{\frac{M + m}{k}}$, Объединяя записанные выражения, получаем: $k = \frac{\pi^2 m}{4T^2(1 - \alpha)} = 25 \text{ Н/м}$.

О т в е т. $k = 25 \text{ Н/м}$.

1.6.15. Брусок массой $M = 100 \text{ г}$ подвешен на невесомой пружине жесткостью $k = 1 \text{ Н/м}$. Снизу в него попадает пластилиновый шарик массой $m = 1 \text{ г}$, летящий вертикально вверх со скоростью $v_0 = 2,5 \text{ м/с}$, и прилипает к бруску. Найти амплитуду A возникающих при этом гармонических колебаний. Ускорение свободного падения $g = 10 \text{ м/с}^2$.



Решение. Выберем начало отсчета в положении равновесия бруска до прилипания шарика, ось Ox направим вверх. В этом состоянии пружина растянута на величину $x_0 = Mg/k$. По закону сохранения импульса в момент прилипания шарика имеем: $mv_0 = (M + m)u$, откуда $u = \frac{mv_0}{M + m}$. В точках макси-



мального смещения от нового положения равновесия скорость бруска и шарика равна нулю. Из закона сохранения механической энергии следует равенство:

$$\frac{(M + m)u^2}{2} + \frac{kx_0^2}{2} = (M + m)gx + \frac{k(x - x_0)^2}{2}. \quad \text{Подставляя}$$

в это равенство найденные ранее x_0 и u , получаем квадратное уравнение относительно x , а именно $x^2 + \frac{2mg}{k}x - \frac{m^2v_0^2}{k(M + m)} = 0$. Разрешая это уравнение, получаем

два корня, которые соответствуют координатам верхней и нижней точек движения бруска с шариком:

$$x_{1,2} = -\frac{mg}{k} \pm \sqrt{\left(\frac{mg}{k}\right)^2 + \frac{m^2v_0^2}{k(M + m)}}. \quad \text{По-}$$

скольку амплитуда колебаний равна $A = \frac{1}{2}(x_1 - x_2)$, получаем:

$$A = \frac{mg}{k} \sqrt{1 + \frac{k}{M + m} \left(\frac{v_0}{g}\right)^2} \approx 1,3 \text{ см}.$$

О т в е т. $A \approx 1,3 \text{ см}$.

1.6.16. Тело массой $m = 1 \text{ кг}$, надетое на гладкий горизонтальный стержень, связано пружиной жесткостью $k = 10 \text{ Н/м}$ с неподвижной стенкой. Тело сместили на некоторое расстояние от положения равновесия и отпустили без начальной скорости. Через какое минимальное время t_0 после начала движения тела его кинетическая энергия будет в $n = 3$ раза больше потенциальной энергии пружины?

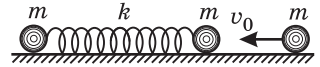
Решение. Зависимость смещения колеблющегося тела от времени имеет вид: $x = x_0 \cos\left(\sqrt{\frac{k}{m}}t\right)$. Скорость тела меняется по закону:

$v = -x_0\sqrt{\frac{k}{m}} \sin\left(\sqrt{\frac{k}{m}}t\right)$. Следовательно, зависимости кинетической энергии тела и потенциальной энергии пружины от времени таковы: $E_K = \frac{mx_0^2}{2} \cdot \frac{k}{m} \cdot \sin^2\left(\sqrt{\frac{k}{m}}t\right)$, $E_{II} = \frac{kx_0^2}{2} \cdot \cos^2\left(\sqrt{\frac{k}{m}}t\right)$. По условию задачи,

$$E_K = nE_{II}. \text{ Отсюда } \operatorname{tg}\left(\sqrt{\frac{k}{m}}t_0\right) = \sqrt{n}.$$

$$\text{О т в е т. } t_0 = \sqrt{\frac{m}{k}} \operatorname{arctg} \sqrt{n} \approx 0,1 \text{ с.}$$

1.6.17. Два одинаковых шарика массой m каждый, связанные пружиной жесткостью k и длиной l , лежат неподвижно на гладком горизонтальном столе. Третий такой же шарик движется со скоростью v_0 по линии, соединяющей центры шариков, связанных пружиной, и совершает упругое соударение с одним из них. Определить максимальное и минимальное расстояния между шариками, связанными пружиной, при их дальнейшем движении. Принять, что $v_0 < l\sqrt{2k/m}$. Массой пружины, временем соударения и трением пренебречь.



Решение. Из законов сохранения импульса и энергии, записанных для упругого соударения одинаковых по массе шариков, следует, что они при ударе обмениваются скоростями. Поэтому после соударения двигавшийся шарик остановится, а покоившийся приобретет скорость v_0 . При последующем движении шариков, связанных пружиной, также будут сохраняться импульс и энергия. Учитывая, что в моменты времени, когда расстояния между шариками максимальны или минимальны, их относительная скорость обращается в нуль, для этих моментов времени имеем: $mv_0 = 2mv$, $\frac{mv_0^2}{2} = \frac{2mv^2}{2} + \frac{kx^2}{2}$, где v — скорость шариков, x — удлинение пружины.

Исключая из этих соотношений v , находим ответ: $x = \pm v_0 \sqrt{\frac{m}{2k}}$.

$$\text{О т в е т. } l_{\max} = l + v_0 \sqrt{\frac{m}{2k}}, \quad l_{\min} = l - v_0 \sqrt{\frac{m}{2k}}.$$

1.6.18. Груз массой M подвешен на пружине. Удерживая груз в положении равновесия, на него кладут брусок массой m , а затем отпускают. С какой максимальной силой F_{\max} брусок будет действовать на груз в процессе движения? Ускорение свободного падения g . Спротивлением воздуха пренебречь.

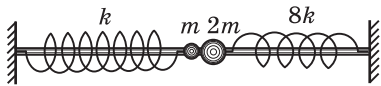
Решение. Из условия равновесия неподвижно висящего груза $kx_0 = Mg$ следует, что удлинение пружины при этом равно $x_0 = \frac{Mg}{k}$, где k — жест-

кость пружины. Совместим начало отсчета потенциальной энергии с концом недеформированной пружины. Учитывая, что при максимальном растяжении пружины ($x = x_{\max}$) скорость груза с брусом обращается в нуль, запишем закон сохранения энергии: $\frac{kx_0^2}{2} - (M + m)gx_0 = \frac{kx_{\max}^2}{2} - (M + m)gx_{\max}$.

Подставляя сюда x_0 , находим $x_{\max} = \frac{(M + 2m)g}{k}$. Запишем далее уравнения движения для груза с брусом и отдельно для бруска: $(M + m)a = (M + m)g - kx$, $ma = mg - F$. Отсюда сила, с которой брусок действует на груз, $F = \frac{mkx}{M + m}$. Максимальное значение эта сила принимает при $x = x_{\max}$. Объединяя записанные выражения, получаем: $F_{\max} = mg \frac{M + 2m}{M + m}$.

Ответ. $F_{\max} = mg \frac{M + 2m}{M + m}$.

1.6.19. Два шарика массами m и $2m$ прикреплены к пружинам жесткостями k и $8k$ соответственно и надеты на гладкий горизонтальный стержень.



Свободные концы пружин заделаны в неподвижные стенки так, что в положении равновесия пружины не деформированы, а шарики касаются друг друга (см. рисунок).

Шарик массой m отводят влево на небольшое расстояние и отпускают без начальной скорости. Найти время τ между первым и вторым соударениями шариков, считая их абсолютно упругими.

Решение. Пусть скорость шарика массой m перед ударом равна v_0 . Из законов сохранения импульса и энергии при упругом столкновении шариков вытекают равенства: $mv_0 = mv_1 + 2mv_2$, $\frac{mv_0^2}{2} = \frac{mv_1^2}{2} + \frac{2mv_2^2}{2}$. Отсюда

$v_1 = -\frac{v_0}{3}$, $v_2 = \frac{2v_0}{3}$. Направив координатную ось Ox вправо и совместив начало координат с положением равновесия, для координат шариков имеем: $x_1 = -A_1 \sin \omega_1 t$, $x_2 = A_2 \sin \omega_2 t$, где A_1 и A_2 — амплитуды колебаний шариков, $\omega_1 = \sqrt{\frac{k}{m}}$, $\omega_2 = \sqrt{\frac{8k}{2m}} = 2\omega_1$ — круговые частоты колебаний. Скорости колеблющихся шариков определяются по формулам: $\dot{x}_1 = -A_1 \omega_1 \cos \omega_1 t$, $\dot{x}_2 = A_2 \omega_2 \cos \omega_2 t$. Полагая в этих формулах $t = 0$ и используя значения скоростей v_1 и v_2 , получаем, что $A_1 = \frac{v_0}{3\omega_1}$, $A_2 = \frac{2v_0}{3\omega_2}$. Отсюда следует, что

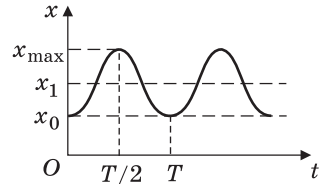
$A_1 = A_2 = A$. Второе столкновение шариков произойдет в момент, когда $x_1 = x_2$. Имеем: $-A \sin \omega_1 \tau = A \sin 2\omega_1 \tau$, или $-\sin \omega_1 \tau = 2 \sin \omega_1 \tau \cdot \cos \omega_1 \tau$. Отсюда

$\cos \omega_1 \tau = -\frac{1}{2}$, или $\omega_1 \tau = \frac{2\pi}{3}$.

Ответ. $\tau = \frac{2\pi}{3} \sqrt{\frac{m}{k}}$.

1.6.20. К потолку покоящейся кабины лифта на пружине жесткостью k подвешена гиря массой m . В некоторый момент времени лифт начинает движение вверх с постоянным ускорением a . Какой путь S пройдет кабина лифта к тому моменту, когда длина пружины первый раз станет максимальной?

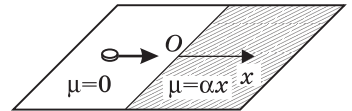
Решение. Совместим начало системы отсчета, связанной с кабиной лифта, с нижним концом недеформированной пружины; координатную ось Ox направим вертикально вниз. Когда кабина неподвижна, координата гири в положении равновесия равна $x_0 = mg/k$. В момент начала движения кабины скачком смещается вниз положение равновесия гири, координата которой в равновесии становится равной $x_1 = m(g+a)/k$. В результате начинаются гармонические колебания гири с периодом $T = 2\pi\sqrt{m/k}$. График зависимости координаты гири x от времени t изображен на рисунке, на котором $t = 0$ соответствует моменту начала движения кабины. Как видно из рисунка, время τ , за которое длина пружины достигает максимального значения, равно половине периода колебаний гири: $\tau = T/2$. Путь, пройденный кабиной за это



время, $S = \frac{a\tau^2}{2}$. Объединяя записанные выражения, получаем: $S = \frac{\pi^2 am}{2k}$.

О т в е т. $S = \frac{\pi^2 am}{2k}$.

1.6.21. Маленькая шайба находится на горизонтальной поверхности стола, состоящей из двух панелей: гладкой и шероховатой. Координатная ось Ox направлена перпендикулярно стыку панелей. Шайба скользит по гладкой панели параллельно оси Ox и в некоторый момент времени попадает на шероховатую панель. Коэффициент трения между шайбой и шероховатой панелью возрастает по мере удаления от стыка панелей по линейному закону $\mu(x) = \alpha x$, где $\alpha = \text{const}$. Через какое время τ после попадания шайбы на шероховатую панель ее скорость уменьшится в 2 раза? Ускорение свободного падения g .

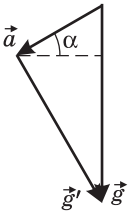
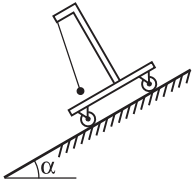


Решение. Уравнение движения шайбы, начиная с момента, когда она попадает на шероховатую поверхность, и до момента остановки имеет вид: $m\ddot{x} = -\mu mg$, или $\ddot{x} = -\alpha gx$. С учетом начальных условий $x(0) = 0$, $\dot{x}(0) = v_0$ решение этого уравнения записывается как $x = x_0 \sin\sqrt{\alpha g}t$, где x_0 — некоторая константа. Скорость шайбы меняется во времени по закону $v = \dot{x} = x_0\sqrt{\alpha g} \cdot \cos\sqrt{\alpha g}t$. Следовательно, начальная скорость шайбы v_0 связана с константой x_0 соотношением $v_0 = x_0\sqrt{\alpha g}$. По условию $v_0 \cos\sqrt{\alpha g}\tau = \frac{v_0}{2}$.

Отсюда $\sqrt{\alpha g}\tau = \frac{\pi}{3}$.

О т в е т. $\tau = \frac{\pi}{3\sqrt{\alpha g}}$.

1.6.22. Математический маятник длиной $l = 0,5$ м подвешен на штативе, закрепленном на тележке, которая свободно скатывается с наклонной плоскости. Найти период T малых колебаний маятника относительно тележки. Считать, что масса тележки значительно больше массы маятника, а силы трения пренебрежимо малы. Ускорение свободного падения $g = 9,8$ м/с². Угол наклона плоскости к горизонтالي $\alpha = 30^\circ$.



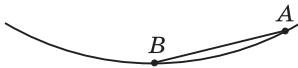
Решение. Рассмотрим колебания маятника в поступательно движущейся системе отсчета, связанной с тележкой. Обозначив через g' модуль ускорения свободного падения в этой системе, по формуле Гюйгенса находим, что период малых колебаний математического маятника равен

$$T = 2\pi\sqrt{\frac{l}{g'}}.$$

Согласно закону сложения ускорений, $\vec{g} = \vec{g}' + \vec{a}$, где \vec{a} — ускорение тележки. Вектор \vec{a} направлен вдоль наклонной плоскости и равен по модулю $a = g \sin \alpha$. Как видно из рисунка, $g'^2 = (a \cos \alpha)^2 + (g - a \sin \alpha)^2$. Отсюда $g' = g \cos \alpha$.

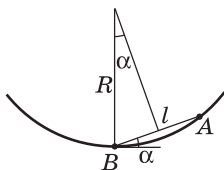
Ответ. $T = 2\pi\sqrt{\frac{l}{g \cos \alpha}} \approx 1,5$ с.

1.6.23. Два маленьких тела начинают одновременно соскальзывать без начальной скорости из точки A : первое по внутренней поверхности гладкой сферы до ее нижней точки B , второе по гладкой наклонной плоскости AB .



Пренебрегая трением, найти, во сколько раз n отличаются времена движения этих тел от начальной до конечной точек. Расстояние AB намного меньше радиуса сферы.

Решение. Поскольку расстояние между точками A и B намного меньше радиуса сферы, можно считать, что тело, скользящее по гладкой сферической поверхности радиуса R , движется как математический маятник длиной R , совершающий малые колебания. Поэтому время его движения из точки A в точку B равно четверти периода



ода $T = 2\pi\sqrt{\frac{R}{g}}$ колебаний маятника, т. е. $t_1 = \frac{\pi}{2}\sqrt{\frac{R}{g}}$. Тело

на гладкой наклонной плоскости, составляющей угол α с горизонталью, движется с ускорением $a = g \sin \alpha$. Длина наклонной плоскости совпадает с расстоянием между точками A и B , которое, как видно из рисунка, равно $l = 2R \sin \alpha$. Следова-

тельно, время движения этого тела из точки A в точку B равно $t_2 = \sqrt{\frac{2l}{a}} = 2\sqrt{\frac{R}{g}}$.

Отсюда $n = \frac{t_1}{t_2} = \frac{\pi}{4}$.

Ответ. $n = \frac{\pi}{4} \approx 0,78$.

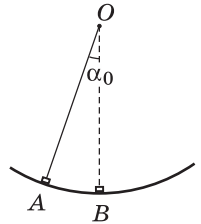
1.6.24. Математический маятник отклонили от положения равновесия на малый угол $\alpha_0 = 0,1$ рад и отпустили без начальной скорости, после чего маятник стал совершать гармонические колебания. Найти максимальную величину $v_{y\max}$ вертикальной составляющей скорости маятника. Длина маятника $l = 0,4$ м. Ускорение свободного падения принять $g = 10$ м/с². Считать, что $\sin\alpha \approx \alpha$.

Решение. Угол отклонения маятника от вертикали изменяется во времени по закону: $\alpha = \alpha_0 \cos\omega t$, где $\omega = \sqrt{\frac{g}{l}}$ — циклическая частота.

Следовательно, модуль линейной скорости маятника $|v| = l|\dot{\alpha}|$ зависит от времени следующим образом: $|v| = \alpha_0 l \omega |\sin\omega t|$. Модуль вертикальной составляющей скорости маятника равен $|v_y| = |v \sin\alpha| \approx |v\alpha| = \alpha_0^2 l \omega |\sin\omega t \cos\omega t| = \frac{\alpha_0^2 l \omega}{2} |\sin 2\omega t|$. Максимальное значение этой величины достигается при $|\sin 2\omega t| = 1$.

$$\text{О т в е т. } v_{y\max} = \frac{1}{2} \alpha_0^2 \sqrt{gl} = 1 \text{ см/с.}$$

1.6.25. По гладкому желобу, имеющему форму дуги окружности, из точки A без начальной скорости начинает скользить маленький брусок. Когда этот брусок проходит половину пути до нижней точки желоба (точки B), из точки A начинает скользить без начальной скорости второй такой же брусок. Найти, какой угол α будет составлять с вертикалью линия, соединяющая второй брусок с центром дуги (точкой O), в момент, когда первый брусок достигнет точки B , если $\angle AOB$ известен и равен α_0 ($\alpha_0 \ll 1$).



Решение. При движении первого бруска угол α_1 , задающий его положение, меняется во времени по закону

$\alpha_1 = \alpha_0 \cos\omega t$, где $\omega = \sqrt{\frac{g}{R}}$ — круговая частота, R — радиус желоба. В момент t_1 , когда начинает движение второй брусок, $\alpha_1(t_1) = \frac{\alpha_0}{2} = \alpha_0 \cos\omega t_1$, откуда

$\omega t_1 = \arccos \frac{1}{2} = \frac{\pi}{3}$. Следовательно, закон движения второго бруска имеет вид: $\alpha_2 = \alpha_0 \cos\left(\omega t - \frac{\pi}{3}\right)$. Когда первый брусок в момент времени t_2 достигает точки B , $\omega t_2 = \frac{\pi}{2}$. Поскольку искомый угол $\alpha = \alpha_2(t_2)$, получаем:

$\alpha = \alpha_0 \cos\left(\frac{\pi}{2} - \frac{\pi}{3}\right) = \frac{\alpha_0 \sqrt{3}}{2}$.

О т в е т. $\alpha = \frac{\alpha_0 \sqrt{3}}{2}$.

1.6.26. На ракете, взлетающей вертикально с постоянным ускорением $a = 1,25g$, установлены маятниковые часы. Точно такие же часы расположены на поверхности Земли. На какое время Δt будут отличаться показания этих часов по истечении $\tau = 1$ мин после взлета ракеты? Время τ измерено по часам, находящимся на Земле. Зависимостью ускорения свободного падения g от высоты пренебречь.

Решение. По закону сложения ускорений, модуль ускорения свободного падения в системе отсчета, связанной с ракетой, равен $g' = g + a$. Следовательно, частота малых колебаний маятника, установленного на ракете,

$$\omega_1 = \sqrt{\frac{g'}{l}} = \sqrt{\frac{g+a}{l}}, \text{ где } l \text{ — длина нити. Частота колебаний маятника, находящегося на Земле, } \omega = \sqrt{\frac{g}{l}}.$$

Так как показания часов пропорциональны числу колебаний маятника за рассматриваемое время, по истечении времени полета τ часы на ракете покажут время $t_1 = \tau \sqrt{1 + \frac{a}{g}}$, т. е. уйдут вперед на

$$\Delta t = \tau \left(\sqrt{1 + \frac{a}{g}} - 1 \right) = 0,5 \text{ мин.}$$

О т в е т. $\Delta t = 0,5$ мин.

1.6.27. Маятник состоит из маленького шарика массой m , подвешенного на нити длиной L на некоторой высоте над горизонтальной плоскостью, равномерно заряженной с поверхностной плотностью заряда σ . На шарик помещен заряд q противоположного знака. Найдите период малых колебаний маятника. Ускорение свободного падения — g , электрическая постоянная — ϵ_0 .

Решение. На шарик кроме силы тяжести и силы натяжения нити действует кулоновская сила $F_k = \frac{q\sigma}{2\epsilon_0}$, направленная вертикально вниз. По

этому уравнение малых колебаний маятника имеет вид: $mL\ddot{\alpha} = -\left(mg + \frac{q\sigma}{2\epsilon_0}\right)\alpha$,

где α — угол отклонения маятника от вертикали. Отсюда циклическая частота колебаний

$$\omega = \sqrt{\frac{g}{L} \left(1 + \frac{q\sigma}{2mg\epsilon_0} \right)}.$$

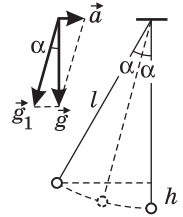
$$\text{О т в е т. } T = 2\pi / \sqrt{\frac{g}{L} \left(1 + \frac{q\sigma}{2mg\epsilon_0} \right)}.$$

1.6.28. К потолку покоящегося вагона на нити длиной l подвешен маленький шарик. В некоторый момент времени вагон приходит в движение в горизонтальном направлении с постоянным ускорением a . На какую максимальную высоту h относительно своего начального положения поднимется шарик? Ускорение свободного падения g .

Решение. По закону сложения ускорений, ускорение свободного падения относительно системы отсчета, связанной с вагоном, $\vec{g}_1 = \vec{g} - \vec{a}$.

Из рисунка видно, что модуль этого ускорения равен $g_1 = \sqrt{a^2 + g^2}$, а само ускорение образует с вертикалью угол α , причем $\operatorname{tg} \alpha = \frac{a}{g}$.

Следовательно, в момент начала движения вагона маятник оказывается отклоненным от нового положения равновесия на угол α . В результате возникших колебаний максимальный угол отклонения маятника от вертикали составит 2α . Как видно из рисунка, $h = l(1 - \cos 2\alpha) = 2l \sin^2 \alpha$. Используя



формулу $\sin \alpha = \frac{\operatorname{tg} \alpha}{\sqrt{1 + \operatorname{tg}^2 \alpha}}$, получаем: $h = \frac{2la^2}{g^2 + a^2}$.

Ответ. $h = \frac{2la^2}{g^2 + a^2}$.

1.6.29. Предположим, что на некоторой высоте над поверхностью планеты, лишенной атмосферы, установлен «маятник», представляющий собой стержень пренебрежимо малой массы с двумя одинаковыми грузиками на концах. Стержень может вращаться без трения на оси, проходящей через его середину и параллельной поверхности планеты. Первоначально стержень располагался вертикально. Затем его отклонили на небольшой угол и отпустили. Найдите период T возникших при этом малых колебаний маятника. Выразите ответ через период обращения T_0 искусственного спутника, движущегося по круговой орбите вокруг планеты на высоте, равной высоте центра стержня. Вращение планеты вокруг своей оси и влияние других небесных тел не учитывайте.

Решение. Пусть в некоторый момент времени маятник занимает положение, изображенное на рисунке, где через F_1 и F_2 обозначены модули сил тяготения, действующих на первый и второй грузики. По второму закону

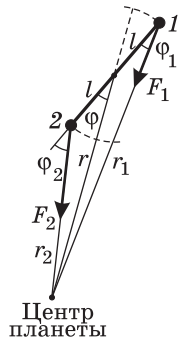
Ньютона, уравнения движения грузиков имеют вид: $ma_\tau = G \frac{mM}{r_1^2} \sin \varphi_1$ (для грузика 1), $ma_\tau = -G \frac{mM}{r_2^2} \sin \varphi_2$ (для грузика 2). Здесь a_τ — тангенциальное

ускорение каждого из грузиков, m — масса грузика, M — масса планеты, G — гравитационная постоянная. Складывая эти уравнения, получаем: $2ma_\tau = -GmM \left(\frac{\sin \varphi_2}{r_2^2} - \frac{\sin \varphi_1}{r_1^2} \right)$.

Согласно теореме синусов, имеем $\frac{\sin \varphi}{r_2} = \frac{\sin(\pi - \varphi_2)}{r} = \frac{\sin \varphi_2}{r}$,

$\frac{\sin(\pi - \varphi)}{r_1} = \frac{\sin \varphi}{r_1} = \frac{\sin \varphi_1}{r}$. Отсюда $\sin \varphi_1 = \frac{r}{r_1} \sin \varphi$, $\sin \varphi_2 =$

$= \frac{r}{r_2} \sin \varphi$. Следовательно, $a_\tau = -G \frac{Mr}{2} \left(\frac{1}{r_2^3} - \frac{1}{r_1^3} \right) \sin \varphi = -G \frac{Mr}{2} \times$



$$\times \frac{r_1^3 - r_2^3}{r_1^3 r_2^3} \sin \varphi = -G \frac{Mr}{2} \cdot \frac{(r_1 - r_2)(r_1^2 + r_1 r_2 + r_2^2)}{r_1^3 r_2^3} \sin \varphi. \text{ Учитывая, что размер маятника значительно меньше расстояния от маятника до центра планеты,}$$

и что угол отклонения маятника от положения равновесия также мал, запишем приближенные равенства: $r_1 - r_2 \approx 2l$, $r_1 r_2 \approx r^2$, $r_1^2 + r_1 r_2 + r_2^2 \approx 3r^2$, $\sin \varphi \approx \varphi$. В итоге уравнение движения маятника принимает вид:

$$a_\tau = -\frac{3GM}{r^3} s, \text{ где } s = l\varphi \text{ — смещение каждого из шариков от положения равновесия. Следовательно, период колебаний маятника равен } T = 2\pi \sqrt{\frac{r^3}{3GM}}.$$

Период обращения спутника, движущегося по круговой орбите радиуса r ,

$$T_0 = 2\pi \sqrt{\frac{r^3}{GM}}.$$

$$\text{О т в е т. } T = \frac{T_0}{\sqrt{3}}.$$

2. Молекулярная физика и термодинамика

2.1. Основы молекулярно-кинетической теории

2.1.1. Атмосферное давление на пике Ленина (высота 7134 м над уровнем моря) $p_1 = 3,8 \cdot 10^4$ Па. Определить плотность воздуха ρ_1 на вершине при температуре $t_1 = -10$ °С, если при нормальных условиях ($t_0 = 0$ °С, $\rho_0 = 1,29$ Па) плотность воздуха $\rho_0 = 1,29$ кг/м³.

Решение. Уравнение состояния идеального газа (уравнение Менделеева—Клапейрона) можно записать в следующей форме: $\rho = \frac{pM}{RT}$, где $\rho = m/V$ — плотность газа, p — давление, M — молярная масса, T — абсолютная температура. Учитывая, что $\rho_0 = \frac{p_0 M}{RT_0}$, $\rho_1 = \frac{p_1 M}{RT_1}$, где $T_0 = t_0 + 273$ °С, $T_1 = t_1 + 273$ °С, получаем: $\rho_1 = \rho_0 \frac{p_1 T_0}{p_0 T_1} = 0,51$ кг/м³.

Ответ. $\rho_1 = 0,51$ кг/м³.

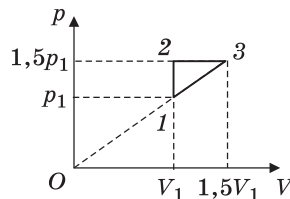
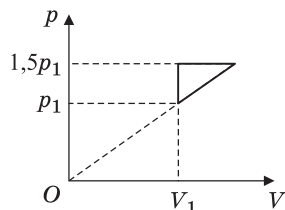
2.1.2. Найти отношение k максимальной плотности идеального газа к его минимальной плотности, которые достигаются при циклическом процессе, показанном на рисунке.

Решение. Значения плотности газа в точках 1, 2 и 3 (см. рисунок) равны: $\rho_1 = \frac{p_1 M}{RT_1}$, $\rho_2 = \frac{p_2 M}{RT_2}$,

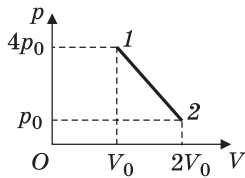
$\rho_3 = \frac{p_2 M}{RT_3}$, где M — молярная масса газа; T_1 , T_2 и T_3 — температуры газа в этих точках. Поскольку объем газа в точках 1 и 2 один и тот же, $p_1/T_1 = p_2/T_2$. Следовательно, $\rho_2 = \rho_1$, т. е. на участке 1—2 плотность газа не меняется. На участке 2—3, проходящем при постоянном давлении, $V_2/T_2 = V_3/T_3$, откуда следует, что $T_3 = 1,5T_2$. По-

этому $\rho_3 = \frac{1}{1,5} \rho_1$. Таким образом, максимальная плотность газа достигается в точках 1 и 2, а минимальная — в точке 3.

Ответ. $k = \frac{\rho_1}{\rho_3} = 1,5$.



2.1.3. С идеальным одноатомным газом проводят процесс 1—2, показанный на рисунке. Во сколько раз α при этом изменится средняя кинетическая энергия одной молекулы?



Решение. Поскольку средняя кинетическая энергия молекулы одноатомного газа $\bar{E}_k = \frac{3}{2}kT$, искомое отношение энергий равно отношению абсолютных температур газа в состояниях 2 и 1, т. е. $\alpha = T_2 / T_1$. Записывая уравнение Менделеева—Клапейрона для этих состояний, имеем: $V_0 \cdot 4p_0 = \nu RT_1$, $2V_0 \cdot p_0 = \nu RT_2$,

где ν — количество молей газа, R — универсальная газовая постоянная. Отсюда видно, что $\frac{T_2}{T_1} = \frac{1}{2}$. Следовательно, $\alpha = \frac{1}{2}$, т. е. средняя кинетическая энергия молекулы газа в процессе 1—2 уменьшится в 2 раза.

Ответ. $\alpha = \frac{1}{2}$.

2.1.4. Горизонтальный цилиндр с газом разделен на три камеры двумя неподвижными поршнями. Температура газа во всех камерах одинакова и равна T_0 . Давление газа в первой камере p_1 , объем V_1 , во второй p_2 , V_2 , в третьей соответственно p_3 , V_3 . Каково будет давление p в камерах после того как, освободив поршни, дать им возможность свободно двигаться, а температуру газа сделать равной T ?

Решение. Запишем уравнения состояния для порций газа в камерах: $p_1 V_1 = \nu_1 RT_0$, $p_2 V_2 = \nu_2 RT_0$, $p_3 V_3 = \nu_3 RT_0$. Отсюда найдем количества газа в каждой камере: $\nu_1 = \frac{p_1 V_1}{RT_0}$, $\nu_2 = \frac{p_2 V_2}{RT_0}$, $\nu_3 = \frac{p_3 V_3}{RT_0}$. Когда поршни освободят, давление во всех камерах станет одинаковым и уравнение состояния газа примет вид: $p(V_1 + V_2 + V_3) = (\nu_1 + \nu_2 + \nu_3)RT$. Подставляя сюда выше найден-

ные количества газа, получаем: $p = \frac{(p_1 V_1 + p_2 V_2 + p_3 V_3)T}{(V_1 + V_2 + V_3)T_0}$.

Ответ. $p = \frac{(p_1 V_1 + p_2 V_2 + p_3 V_3)T}{(V_1 + V_2 + V_3)T_0}$.

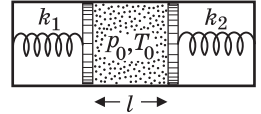
2.1.5. Баллон, содержащий $m_1 = 1$ кг азота, при испытании на прочность взорвался при температуре $t_1 = 327$ °С. Какую массу водорода m_2 можно было бы хранить в таком баллоне при температуре $t_2 = 27$ °С, имея пятикратный запас прочности? Молярная масса азота $M_1 = 28$ г/моль, водорода $M_2 = 2$ г/моль.

Решение. Из уравнения состояния азота следует, что давление, при котором взорвался баллон, $p_1 = \frac{m_1 RT_1}{M_1 V}$, где V — объем баллона, $T_1 = t_1 + 273$ °С. По условию водород можно хранить при давлении $p_2 = p_1 / 5$.

Учитывая, что $p_2 = \frac{m_2 RT_2}{M_2 V}$, получаем: $m_2 = \frac{m_1}{5} \cdot \frac{M_2}{M_1} \cdot \frac{(t_1 + 273 \text{ °С})}{(t_2 + 273 \text{ °С})} \approx 28$ г.

Ответ. $m_2 \approx 28$ г.

2.1.6. В цилиндре с площадью основания $S = 10 \text{ см}^2$ могут без трения скользить два поршня. Между поршнями находится идеальный газ, а справа и слева от них — вакуум. Поршни соединены со стенками сосуда пружинами жесткостями $k_1 = 100 \text{ Н/м}$ и $k_2 = 50 \text{ Н/м}$, как показано на рисунке. При температуре $T_0 = 300 \text{ К}$ давление газа $p_0 = 0,5 \cdot 10^4 \text{ Па}$ и расстояние между поршнями $l = 10 \text{ см}$. Найти температуру газа T , при которой расстояние между поршнями увеличится до $L = 12 \text{ см}$.



Решение. Уравнения начального и конечного состояний газа имеют вид: $p_0 l S = \nu R T_0$, $p L S = \nu R T$, откуда $T = T_0 \frac{pL}{p_0 l}$. Из условия равновесия поршней имеем: $(p - p_0)S = k_1 \Delta l_1 = k_2 \Delta l_2$, где Δl_1 и Δl_2 — смещения левого и правого поршней соответственно, причем $\Delta l_1 + \Delta l_2 = L - l$.

Отсюда $\Delta l_1 = \frac{(L - l)k_2}{k_1 + k_2}$. Объединяя записанные выражения, получаем:

$$T = T_0 \frac{L}{l} \left[1 + \frac{(L - l)k_1 k_2}{S p_0 (k_1 + k_2)} \right] = 417,6 \text{ К.}$$

Ответ. $T = 417,6 \text{ К}$.

2.1.7. На рисунке показан циклический процесс, совершаемый над идеальным газом, причем $1-2$ — изохорный, $2-3$ — изобарный процессы. Температуры газа в точках 1 и 3 равны соответственно $T_1 = 300 \text{ К}$ и $T_3 = 400 \text{ К}$. Найти температуру T_2 газа в точке 2 .

Решение. Пусть p_1, V_1 — давление и объем газа в точке 1 , p_2 — давление газа в точке 2 , V_3 — объем газа в точке 3 . Для участка $1-2$ по закону Шарля:

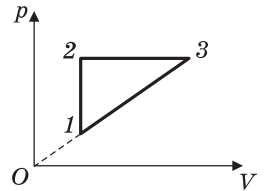
$$\frac{p_1}{T_1} = \frac{p_2}{T_2}, \text{ для участка } 2-3 \text{ по закону Гей-Люссака:}$$

$$\frac{V_1}{T_2} = \frac{V_3}{T_3}. \text{ Поскольку продолжение прямой } 1-3 \text{ проходит через начало}$$

координат, $\frac{p_1}{V_1} = \frac{p_2}{V_3}$. Объединяя записанные выражения, получаем:

$$T_2 = \sqrt{T_1 T_3} \approx 346 \text{ К.}$$

Ответ. $T_2 \approx 346 \text{ К}$.



2.1.8. В закрытом сосуде объемом $V = 2 \text{ м}^3$ содержится $m_1 = 3,2 \text{ кг}$ кислорода, к которому добавлено $\nu_2 = 150$ молей азота. Каково будет давление p в сосуде при температуре $t = 527 \text{ }^\circ\text{С}$? Молярная масса кислорода $M = 32 \text{ г/моль}$. Универсальная газовая постоянная $R = 8,3 \text{ Дж/(моль} \cdot \text{К)}$.

Решение. Согласно закону Дальтона, давление смеси двух газов $p = p_1 + p_2$, где p_1 и p_2 — парциальные давления кислорода и азота. Из уравнений состояния этих газов имеем: $p_1 = \frac{m_1 RT}{M V}$, $p_2 = \nu_2 \frac{RT}{V}$.

$$\text{Ответ. } p = \left(\frac{m_1}{M} + \nu_2 \right) \frac{RT}{V} = 8,3 \cdot 10^5 \text{ Па.}$$

2.1.9. Два одинаковых сосуда, соединенные трубкой, содержат идеальный газ общей массой $m = 6,6$ г. Первоначально температура газа в обоих сосудах одинакова. Затем газ в первом сосуде нагревают и поддерживают при температуре $t_1 = 27$ °С, а газ во втором сосуде нагревают и поддерживают при температуре $t_2 = 87$ °С. На какую величину Δm изменится масса газа в первом сосуде? Объем трубки не учитывать.

Решение. В начальном состоянии масса газа в каждом сосуде равна $m_0 = m / 2$. Уравнения конечного состояния газов имеют вид: $pV = \frac{m_1}{M} RT_1$, $pV = \frac{m_2}{M} RT_2$, где p — давление газа, одинаковое в обоих сосудах, V — объем одного из сосудов, m_1 и m_2 — массы газа в первом и втором сосудах, M — их молярная масса, $T_1 = t_1 + 273$ °С, $T_2 = t_2 + 273$ °С. Следовательно, $\frac{m_1}{m_2} = \frac{T_2}{T_1}$,

$m_1 + m_2 = m$. Отсюда $m_1 = \frac{mT_2}{T_1 + T_2}$. Учитывая, что $\Delta m = m_1 - m_0$, получаем:

$$\Delta m = \frac{m(t_2 - t_1)}{2(t_1 + t_2 + 546 \text{ °С})} = 0,3 \text{ г.}$$

$$\text{Ответ. } \Delta m = 0,3 \text{ г.}$$

2.1.10. В комнате объемом $V = 60$ м³ температура поднялась с $t_1 = 17$ °С до $t_2 = 27$ °С. На какую величину Δm изменилась масса воздуха в комнате, если атмосферное давление $p_0 = 10^5$ Па? Молярная масса воздуха $M = 29$ г/моль, универсальная газовая постоянная $R = 8,3$ Дж/(моль · К).

Решение. Пусть m_1 и m_2 — массы воздуха в комнате при температурах $T_1 = t_1 + 273$ °С и $T_2 = t_2 + 273$ °С соответственно. Уравнения состояния воздуха в комнате имеют вид: $p_0 V = \frac{m_1}{M} RT_1$, $p_0 V = \frac{m_2}{M} RT_2$. Отсюда $m_{1,2} = \frac{p_0 VM}{RT_{1,2}}$ и $\Delta m = m_2 - m_1$.

$$\text{Ответ. } \Delta m = \frac{p_0 VM(t_1 - t_2)}{R(t_1 + 273 \text{ °С})(t_2 + 273 \text{ °С})} = -2,4 \text{ кг.}$$

2.1.11. Накачивая футбольный мяч, который первоначально был пустым, мальчик сделал $n = 50$ качаний насосом. Какое давление p установилось в мяче после того, как температура воздуха в нем сравнялась с температурой окружающей среды? Объем мяча $V = 5$ л, объем воздухозаборной камеры насоса $v = 200$ см³, а атмосферное давление $p_0 = 10^5$ Па.

Решение. Уравнение состояния воздуха, заполняющего воздухозаборную камеру насоса при атмосферном давлении p_0 и температуре окружаю-

щей среды T , имеет вид: $p_0 v = \nu RT$. Отсюда количество молей воздуха, находящегося в камере и целиком поступающего после одиночного качания внутрь мяча, $\nu = \frac{p_0 v}{RT}$. Следовательно, после n качаний внутри мяча окажется νn молей воздуха. Состояние воздуха в мяче, когда температура воздуха в нем сравняется с первоначальной, описывается уравнением: $pV = \nu n RT$.

О т в е т. $p = p_0 \frac{\nu n}{V} = 250$ кПа.

2.1.12. Закрытый с обоих концов горизонтальный цилиндр заполнен идеальным газом при температуре $t = 27$ °С и разделен подвижным теплопроводящим поршнем на две равные части длиной $L = 50$ см каждая. На какую величину Δt (ΔT) нужно повысить температуру газа в одной половине цилиндра, чтобы поршень сместился на расстояние $l = 20$ см при неизменной температуре газа во второй половине цилиндра?

Р е ш е н и е. Для части газа, имеющей постоянную температуру, справедлив закон Бойля—Мариотта, согласно которому $pLS = p_1(L-l)S$, где p — первоначальное давление газа в цилиндре, p_1 — давление в цилиндре после нагревания половины газа, S — площадь поршня. Уравнение состояния, записанное для газа в другой части цилиндра, дает нам соотношение

$$\frac{pLS}{T} = \frac{p_1(L+l)S}{T + \Delta T}.$$

Исключая из этих равенств p и p_1 , получаем:

$$\Delta T = \frac{2lT}{L-l} = 400 \text{ К.}$$

О т в е т. $\Delta T = 400$ К.

2.1.13. Закрытый сосуд заполнен газом при температуре $T_0 = 300$ К и давлении $p_0 = 150$ кПа. Сосуд снабжен предохранительным клапаном, открывающимся при давлении, превышающем $p_m = 200$ кПа. Сосуд нагрели до температуры $T_1 = 600$ К. При этом из него вышло $m = 10$ г газа. Определить массу m_0 газа в сосуде до его нагрева.

Р е ш е н и е. Уравнение начального состояния газа в сосуде имеет вид:

$$p_0 V = \frac{m_0}{M} RT_0,$$

где V — объем сосуда, M — молярная масса газа. При нагревании сосуда до некоторой температуры, при которой давление газа становится равным p_m , клапан открывается, после чего давление газа в сосуде остается постоянным, а излишек газа выходит наружу. Конечное состояние

газа описывается уравнением: $p_m V = \frac{m_0 - m}{M} RT_1$. Исключая V и M , получа-

$$\text{ем: } m_0 = \frac{m p_0 T_1}{p_0 T_1 - p_m T_0} = 30 \text{ г.}$$

О т в е т. $m_0 = 30$ г.

2.1.14. Сосуд, содержащий идеальный газ при температуре $t = 27$ °С, снабжен клапаном, открывающимся при перепаде давлений $p_k = 400$ кПа. Газ нагревают до температуры $t_1 = 127$ °С, при этом часть газа выходит

из сосуда через клапан. Найти давление p , которое установится в сосуде после охлаждения газа до начальной температуры t . Атмосферное давление $p_0 = 100$ кПа.

Решение. При нагревании газа в сосуде его давление будет повышаться до величины $p' = p_0 + p_k$, после чего давление будет оставаться постоянным и равным p' , а излишек газа будет выходить наружу. Из уравнения состояния газа в конце нагрева $(p_0 + p_k)V = \nu RT_1$ можно найти количество газа, оставшегося в сосуде: $\nu = \frac{(p_0 + p_k)V}{RT_1}$, где $T_1 = t_1 + 273$ °С. Записывая уравнение

состояния этого количества газа при температуре $T = t + 273$ °С, а именно, $pV = \nu RT = \frac{(p_0 + p_k)V}{T_1} \cdot T$, получаем: $p = (p_k + p_0) \frac{(t + 273 \text{ °С})}{(t_1 + 273 \text{ °С})} = 375$ кПа.

О т в е т. $p = 375$ кПа.

2.1.15. В баллоне, снабженном предохранительным клапаном, находится идеальный газ под давлением $p = 0,5 \cdot 10^6$ Па при температуре $t = 27$ °С. Клапан открывается, если давление в баллоне превышает $p_1 = 0,6 \cdot 10^6$ Па. До какой температуры t_1 нужно нагреть баллон, чтобы из него вытекла часть газа, масса которой составляет $\beta = 0,01$ первоначальной массы?

Решение. Уравнение начального состояния газа в сосуде имеет вид:

$pV = \frac{m_0}{M} RT$, где V — объем сосуда, m_0 — первоначальная масса газа, M — его молярная масса, $T = t + 273$ °С. При нагревании сосуда до некоторой температуры, при которой давление газа становится равным p_1 , клапан открывается, после чего давление газа в сосуде остается постоянным, а излишек газа выходит наружу. Поскольку масса газа, вытекшего из сосуда при нагревании, равна βm_0 , масса оставшегося газа составляет $(1 - \beta)m_0$. Следовательно, конечное состояние газа описывается уравнением:

$p_1 V = \frac{(1 - \beta)m_0}{M} RT_1$, где $T_1 = t_1 + 273$ °С. Исключая V , m_0 и M , получаем:

$$t_1 = \frac{p_1(t + 273 \text{ °С})}{p(1 - \beta)} - 273 \text{ °С} = 90,6 \text{ °С}.$$

О т в е т. $t_1 = 90,6$ °С.

2.1.16. Закрытый цилиндрический сосуд объемом $V = 6,6$ л разделен на две части невесомым поршнем, скользящим без трения. Одна часть содержит идеальный газ массой $m_1 = 6,6$ г, вторая часть — такой же газ массой $m_2 = 13,2$ г. Температура газов одинакова и равна температуре окружающей среды. Из второй части сосуда выпускают массу газа $\Delta m_2 = 1,65$ г. На какую величину ΔV изменится объем части сосуда, содержащей газ массой m_1 , когда температура газов станет равной первоначальной?

Решение. Уравнения начального состояния газа в двух частях сосуда, разделенных поршнем, имеют вид: $pV_1 = \frac{m_1}{M} RT$, $pV_2 = \frac{m_2}{M} RT$, где p — дав-

ление газа, одинаковое в обеих частях сосуда, V_1 и V_2 — объемы этих частей, M — молярная масса газа, T — температура. Из этих уравнений следует, что $\frac{V_1}{V_2} = \frac{m_1}{m_2}$. Кроме того, $V_1 + V_2 = V$. Отсюда $V_1 = \frac{Vm_1}{m_1 + m_2}$, $V_2 = \frac{Vm_2}{m_1 + m_2}$. Рас-

суждая аналогично, находим, что объемы частей сосуда в конечном состоянии будут: $V_1' = \frac{Vm_1}{m_1 + m_2 - \Delta m_2}$, $V_2' = \frac{V(m_2 - \Delta m_2)}{m_1 + m_2 - \Delta m_2}$. Учитывая, что

$$\Delta V = V_1' - V_1, \text{ получаем: } \Delta V = \frac{m_1 \Delta m_2 V}{(m_1 + m_2) \cdot (m_1 + m_2 - \Delta m_2)} = 200 \text{ см}^3.$$

О т в е т. $\Delta V = 200 \text{ см}^3$.

2.1.17. В вертикально расположенном цилиндре постоянного сечения под невесомым подвижным поршнем находится воздух. На поршень помещают гирию массой $m = 10$ кг. На какую величину Δh переместится поршень, если температура воздуха в цилиндре поддерживается постоянной? Атмосферное давление $p_0 = 10^5$ Па, площадь поршня $S = 100 \text{ см}^2$, расстояние от ненагруженного поршня до дна цилиндра $h_0 = 100$ см. Ускорение свободного падения $g = 10 \text{ м/с}^2$.

Р е ш е н и е. Из условия равновесия поршня следует, что давление воздуха в сосуде равно p_0 в начальном состоянии и $p_0 + \frac{mg}{S}$, когда на поршень положили гирию. По закону Бойля—Мариотта имеем: $p_0 V_0 = \left(p_0 + \frac{mg}{S}\right)V$,

где $V_0 = h_0 S$, $V = (h_0 - \Delta h)S$. Отсюда находим: $\Delta h = \frac{mgh_0}{Sp_0 + mg} = 8,9 \text{ см}$.

О т в е т. $\Delta h = 8,9 \text{ см}$.

2.1.18. Вертикально расположенный цилиндрический сосуд, закрытый подвижным поршнем массой $M = 2$ кг, содержит идеальный газ при температуре $T_1 = 300$ К. На поршень помещают тело массой $m = 100$ г и нагревают газ так, чтобы поршень занял первоначальное положение. Найти температуру T_2 нагретого газа. Атмосферное давление не учитывать.

Р е ш е н и е. Обозначив через p_1 и p_2 давления газа в начальном и конечном состояниях, имеем: $p_1 V = \nu RT_1$, $p_2 V = \nu RT_2$ где ν — количество газа, V — его объем. Отсюда $\frac{p_1}{p_2} = \frac{T_1}{T_2}$. Учитывая, что $p_1 = \frac{Mg}{S}$, $p_2 = \frac{(M + m)g}{S}$, полу-

чаем: $T_2 = T_1 \left(1 + \frac{m}{M}\right) = 315 \text{ К}$.

О т в е т. $T_2 = 315 \text{ К}$.

2.1.19. Вертикально расположенный замкнутый цилиндрический сосуд высотой $H = 50$ см разделен подвижным поршнем весом $P = 110$ Н на две части, в каждой из которых содержится по $\nu = 0,0255$ моль идеального газа. При какой температуре T расстояние между поршнем и дном сосуда будет

равно $h = 20$ см? Толщиной поршня пренебречь. Универсальная газовая постоянная $R = 8,3$ Дж/(моль · К).

Решение. Пусть давление газа в верхней части сосуда равно p . Тогда давление газа в нижней части сосуда будет $p + \frac{P}{S}$, где S — площадь поршня. Уравнения состояния газа в верхней и нижней частях сосуда имеют вид:
 $p(H - h)S = \nu RT$, $\left(p + \frac{P}{S}\right)hS = \nu RT$. Исключая из этих уравнений S , получаем: $T = \frac{Ph(H - h)}{R\nu(H - 2h)} = 310,5$ К.

О т в е т. $T = 310,5$ К.

2.1.20. Вертикально расположенный замкнутый цилиндрический сосуд разделен на две части подвижным массивным поршнем. В обеих частях сосуда содержится один и тот же идеальный газ. Расстояние между поршнем и дном сосуда $H_1 = 30$ см. Сосуд переворачивают так, что дном становится его верхняя плоскость. В новом положении расстояние между дном сосуда и поршнем составляет $H_2 = 20$ см. Найти отношение α массы газа, содержавшегося в той части сосуда, которая первоначально находилась вверху, к массе газа, содержавшегося в другой части сосуда. Высота сосуда $L = 60$ см. Температуру считать постоянной, толщиной поршня пренебречь.

Решение. Обозначим через m_1 , p'_1 и m_2 , p'_2 массы и давления газа, содержащегося соответственно в нижней и верхней частях сосуда в его начальном положении. По условию, $\frac{m_2}{m_1} = \alpha$, или $m_2 = \alpha m_1$. Из уравнений со-

стояния газов в нижней и верхней частях сосуда следует, что $p'_1 = \frac{m_1 RT}{MH_1 S}$,

$p'_2 = \frac{\alpha m_1 RT}{M(L - H_1)S}$. Когда сосуд переворачивают вверх дном, в нижней его ча-

сти оказывается газ массой $m_2 = \alpha m_1$ под давлением p''_2 , а в верхней части — газ массой m_1 под давлением p''_1 , причем $p''_1 = \frac{m_1 RT}{M(L - H_2)S}$, $p''_2 = \frac{\alpha m_1 RT}{MH_2 S}$.

Из условия равновесия поршня вытекает соотношение: $p'_1 - p'_2 = p''_2 - p''_1$. Подставляя сюда найденные выше давления, получаем равенство:

$$\frac{1}{H_1} - \frac{\alpha}{L - H_1} = \frac{\alpha}{H_2} - \frac{1}{L - H_2}. \text{ Отсюда } \alpha = \frac{(L - H_2 + H_1) \cdot (L - H_1)H_2}{(L - H_1 + H_2) \cdot (L - H_2)H_1} = 0,7.$$

О т в е т. $\alpha = 0,7$.

2.1.21. В цилиндре под невесомым поршнем площадью $S = 100$ см² находится $\nu = 1$ моль идеального газа при температуре $t_1 = 100$ °С. К поршню через два блока на невесомой нерастяжимой нити подвешен груз массой $M = 17$ кг. На какую высоту Δh поднимется груз, если охладить газ до температуры $t_2 = 0$ °С? Атмосферное давление $p_0 = 10^5$ Па. Универсальная газо-

вая постоянная $R = 8,3$ Дж/(моль · К), ускорение свободного падения принять $g = 10$ м/с². Трением пренебречь.

Решение. Поршень находится под действием трех сил: силы натяжения нити T и силы давления газа в сосуде pS , направленных вверх, а также силы атмосферного давления p_0S , направленной вниз. Поскольку процесс охлаждения газа является медленным, сила натяжения нити в каждый момент времени равна весу неподвижного груза, т. е. $T = Mg$. Следовательно, поршень находится в равновесии при выполнении условия: $p = p_0 - \frac{Mg}{S}$, т. е.

давление газа при изменении его объема постоянно. Записывая уравнение Менделеева—Клапейрона для начального и конечного состояний газа, получаем: $pV_1 = \nu RT_1$, $pV_2 = \nu RT_2$, где $T_1 = t_1 + 273$ °С, $T_2 = t_2 + 273$ °С, V_1 и V_2 — начальный и конечный объемы газа, причем $V_1 - V_2 = \Delta h \cdot S$. Объединяя записанные соотношения, получаем: $\Delta h = \frac{\nu R(t_1 - t_2)}{p_0S - Mg} \approx 1$ м.

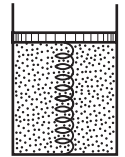
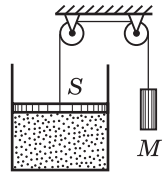
Ответ. $\Delta h \approx 1$ м.

2.1.22. В вертикально расположенном цилиндре находится кислород массой $m = 64$ г, отделенный от атмосферы поршнем, который соединен с дном цилиндра пружиной жесткостью $k = 8,3 \cdot 10^2$ Н/м. При температуре $T_1 = 300$ К поршень располагается на расстоянии $h = 1$ м от дна цилиндра. До какой температуры T_2 надо нагреть кислород, чтобы поршень расположился на высоте $H = 1,5$ м от дна цилиндра? Универсальная газовая постоянная $R = 8,3$ Дж/(моль · К), молярная масса кислорода $M = 32$ г/моль.

Решение. Поскольку в условии задачи не сказано, что поршень невесом, будем полагать, что он обладает некоторой массой, которую обозначим через M_0 . Ничего не говорится также про атмосферное давление, поэтому будем считать, что оно существует, и обозначим его через p_0 . Таким образом, на поршень действуют в общем случае четыре силы: сила тяжести M_0g , сила упругости пружины kx (x — удлинение пружины) и сила атмосферного давления p_0S , направленные вниз, и сила давления газа в цилиндре pS , направленная вверх. Условия равновесия поршня в начальном и конечном состояниях имеют вид: $M_0g + p_0S + kx_1 = p_1S$, $M_0g + p_0S + kx_2 = p_2S$. Здесь p_1 и p_2 — давления газа в начальном и конечном состояниях. Вычитая из второго уравнения первое, получаем: $p_2 - p_1 = \frac{k}{S}(x_2 - x_1) = \frac{k}{S}(H - h)$. С другой стороны, из уравнения Менделеева—Клапейрона, записанного для начального и конечного состояний газа: $p_1hS = \frac{m}{M}RT_1$, $p_2HS = \frac{m}{M}RT_2$, вытекает, что $p_2 - p_1 = \frac{mR}{MS} \left(\frac{T_2}{H} - \frac{T_1}{h} \right)$.

Приравнявая разности давлений газа, найденные этими двумя способами, получаем: $T_2 = T_1 \frac{H}{h} + \frac{MkH(H - h)}{mR} = 487,5$ К. Как и следовало ожидать, наличие атмосферного давления и конечная масса поршня не влияют на ответ.

Ответ. $T_2 = 487,5$ К.



2.1.23. В вертикальном цилиндре под поршнем массой $M_0 = 100$ кг и площадью $S = 100$ см² находится $m = 28$ г азота при температуре $T_1 = 273$ К. Газ в цилиндре нагревают до температуры $T_2 = 373$ К. На какую высоту h поднимется поршень? Атмосферное давление $p_0 = 0,1$ МПа, молярная масса азота $M = 28$ г/моль, универсальная газовая постоянная $R = 8,3$ Дж/(моль · К), ускорение свободного падения $g = 10$ м/с².

Решение. В процессе нагревания газ расширяется при постоянном давлении $p = p_0 + \frac{M_0 g}{S}$. Уравнения начального и конечного состояния газа

имеют вид: $\left(p_0 + \frac{M_0 g}{S}\right) h_0 S = \frac{m}{M} R T_1$, $\left(p_0 + \frac{M_0 g}{S}\right) (h_0 + h) S = \frac{m}{M} R T_2$, где h_0 — высота поршня над дном сосуда при температуре T_1 . Исключая h_0 , получаем: $h = \frac{m(T_2 - T_1)R}{M(Sp_0 + M_0 g)} = 41,5$ см.

О т в е т. $h = 41,5$ см.

2.1.24. В вертикальном закрытом цилиндре находится идеальный газ, разделенный на две части тяжелым поршнем, который может перемещаться без трения. В нижней части цилиндра масса газа вдвое больше, чем в верхней. При некоторой температуре, одинаковой во всем цилиндре, объем V_1 нижней части цилиндра равен объему V_2 верхней части. Каким будет отношение объемов $\alpha = V_1/V_2$, если температуру газа увеличить в $n = 2$ раза? Толщиной поршня пренебречь.

Решение. Пусть V — объем половины цилиндра. Из соотношений $\frac{V_1}{V_2} = \alpha$, $V_1 + V_2 = 2V$ выражаем $V_1 = \frac{2\alpha V}{\alpha + 1}$, $V_2 = \frac{2V}{\alpha + 1}$. Используя уравнения состояния газа в нижней и верхней частях цилиндра, находим давления газа в этих частях: $p_1 = \frac{2\nu RT}{V}$, $p_2 = \frac{\nu RT}{V}$ (при начальной температуре T); $p'_1 = \frac{2\nu RnT(\alpha + 1)}{2\alpha V}$, $p'_2 = \frac{\nu RnT(\alpha + 1)}{2V}$ (при температуре nT). Здесь ν — количество молей газа в верхней части цилиндра. Из условия равновесия поршня вытекает соотношение $p_1 - p_2 = p'_1 - p'_2$. Подставляя сюда найденные выше давления, получаем квадратное уравнение относительно α , а именно $\alpha^2 - 2\left(\frac{1}{2} - \frac{1}{n}\right)\alpha - 2 = 0$. Условию задачи удовлетворяет положительный корень.

О т в е т. $\alpha = \frac{1}{2} - \frac{1}{n} + \sqrt{\left(\frac{1}{2} - \frac{1}{n}\right)^2 + 2} = \sqrt{2}$.

2.1.25. Вертикальная цилиндрическая трубка с запаянными концами разделена на две части тонким горизонтальным поршнем, способным перемещаться вдоль нее без трения. Верхняя часть трубки заполнена неонам, а нижняя — гелием, причем массы газов одинаковы. При некоторой темпе-

ратуре поршень находится точно посередине трубки. После того как трубку нагрели, поршень переместился вверх и стал делить объем трубки в отношении 1 : 3. Определить, во сколько раз α возросла абсолютная температура газов. Молярная масса неона $M_{\text{Ne}} = 20$ г/моль, молярная масса гелия $M_{\text{He}} = 4$ г/моль.

Решение. Обозначим через p_1 и p_2 давления газов, находящихся в верхней и нижней частях трубки соответственно. Поскольку количества газов в верхней и нижней частях трубки по условию задачи различны, а при одной и той же начальной температуре T' объемы этих частей одинаковы, равновесие поршня возможно только при условии, что он имеет некоторую конечную массу. Обозначив массу поршня через M_0 , а его площадь через S , запишем условие равновесия поршня в виде: $p_2 - p_1 = \frac{M_0 g}{S}$. Ис-

пользуя уравнение Менделеева—Клапейрона для описания состояния гелия и неона при произвольной температуре T , получаем для разности их давлений следующее выражение: $p_2 - p_1 = mRT \left(\frac{1}{M_{\text{He}} V_{\text{He}}} - \frac{1}{M_{\text{Ne}} V_{\text{Ne}}} \right)$, где m — мас-

са каждого из газов, R — универсальная газовая постоянная. Обозначим через V объем всей трубки. Тогда начальные объемы газов (при температуре T'): $V'_{\text{He}} = V'_{\text{Ne}} = V/2$, а их конечные объемы (при температуре T''): $V''_{\text{He}} = 3V/4$, $V''_{\text{Ne}} = V/4$. Объединяя записанные равенства, приходим

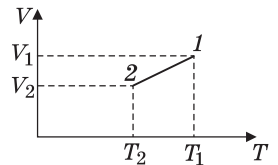
к соотношению: $T' \left(\frac{1}{M_{\text{He}} (V/2)} - \frac{1}{M_{\text{Ne}} (V/2)} \right) = T'' \left(\frac{1}{M_{\text{He}} (3V/4)} - \frac{1}{M_{\text{Ne}} (V/4)} \right)$.

Учитывая, что искомое отношение $\alpha = \frac{T''}{T'}$, получаем: $\alpha = \frac{3}{2} \cdot \frac{M_{\text{Ne}} - M_{\text{He}}}{M_{\text{Ne}} - 3M_{\text{He}}} = 3$.

О т в е т. $\alpha = 3$.

2.1.26. Идеальный газ переводится из состояния $p_1 = 200$ кПа, $T_1 = 500$ К в состояние $p_2 = 138$ кПа, $T_2 = 300$ К так, что объем газа меняется по закону $V = a + bT$, где a и b — постоянные, $T_1 > T > T_2$. Определить максимальную концентрацию n_0 молекул газа в этом процессе. Постоянная Больцмана $k = 1,38 \cdot 10^{-23}$ Дж/К.

Решение. Из уравнений начального и конечного состояний газа $p_1 V_1 = \nu R T_1$, $p_2 V_2 = \nu R T_2$ следует, что $\frac{V_1}{V_2} = \frac{p_2 T_1}{p_1 T_2}$. Подстановка численных значений дает:



$V_1 / V_2 = 1,15$. Следовательно, зависимость V от T имеет вид, изображенный на рисунке, и минимальный объем в этом процессе, равный V_2 , достигается в состоянии 2. Записывая уравнение этого состояния в форме $p_2 = n_0 k T_2$, получаем: $n_0 = \frac{p_2}{k T_2} = 3,333 \cdot 10^{19} \text{ см}^{-3}$.

О т в е т. $n_0 = 3,333 \cdot 10^{19} \text{ см}^{-3}$.

2.1.27. В баллоне объемом $V = 10$ л содержится водород при температуре $t = 20$ °С под давлением $p = 10^7$ Па. Какая масса Δm водорода была выпущена из баллона, если при полном сгорании оставшегося газа образовалось $m = 50$ г воды? Универсальная газовая постоянная $R = 8,3$ Дж/(моль · К); молярные массы: водорода $M_{\text{H}_2} = 2$ г/моль, воды $M_{\text{H}_2\text{O}} = 18$ г/моль.

Решение. Из уравнения состояния водорода выражаем его первоначальную массу $m_0 = \frac{pVM_{\text{H}_2}}{RT}$, где $T = t + 273$ °С. Записав уравнение реакции горения водорода в кислороде: $2\text{H}_2 + \text{O}_2 = 2\text{H}_2\text{O}$, находим, что количество молей сгоревшего водорода равно количеству молей образовавшейся воды: $\nu_{\text{H}_2} = \nu_{\text{H}_2\text{O}} = \frac{m}{M_{\text{H}_2\text{O}}}$. Следовательно, масса сгоревшего водорода $m_1 = m \frac{M_{\text{H}_2}}{M_{\text{H}_2\text{O}}}$.

$$\text{О т в е т. } \Delta m = \frac{pVM_{\text{H}_2}}{R(t + 273 \text{ °С})} - m \frac{M_{\text{H}_2}}{M_{\text{H}_2\text{O}}} \approx 77 \text{ г.}$$

Дополнительные задачи

2.1.28. При повышении температуры идеального одноатомного газа на $\Delta T_1 = 150$ К среднеквадратичная скорость его молекул возросла от $v_1 = 400$ м/с до $v_2 = 500$ м/с. На какую величину ΔT_2 нужно дополнительно повысить температуру этого газа, чтобы увеличить среднеквадратичную скорость его молекул от $v_2 = 500$ м/с до $v_3 = 600$ м/с?

Решение. Поскольку среднеквадратичная скорость молекул газа при температуре T равна $v = \sqrt{\frac{3kT}{m_0}}$, справедливо соотношение: $v_2^2 - v_1^2 = \frac{3k}{m_0}(T_2 - T_1) = \frac{3k}{m_0}\Delta T_1$, где k — постоянная Больцмана, m_0 — масса молекулы. Аналогично, $v_3^2 - v_2^2 = \frac{3k}{m_0}(T_3 - T_2) = \frac{3k}{m_0}\Delta T_2$. Следовательно, $\frac{\Delta T_2}{\Delta T_1} = \frac{v_3^2 - v_2^2}{v_2^2 - v_1^2}$.

$$\text{О т в е т. } \Delta T_2 = \Delta T_1 \frac{v_3^2 - v_2^2}{v_2^2 - v_1^2} \approx 183,3 \text{ К.}$$

2.1.29. В баллоне находится смесь азота N_2 и водорода H_2 . При некоторой температуре T , при которой все молекулы азота диссоциировали на атомы, а диссоциацией молекул водорода еще можно пренебречь, давление смеси в баллоне оказалось равным p . При температуре $2T$, при которой молекулы обоих газов полностью диссоциировали, давление в баллоне стало равным $3p$. Каково отношение α числа атомов азота к числу атомов водорода в смеси?

Решение. Обозначим число атомов азота и число атомов водорода в смеси через n_1 и n_2 соответственно. Уравнения состояния смеси имеют вид: $pV = (n_1 + n_2/2)kT$ (при температуре T); $3pV = (n_1 + n_2)k \cdot 2T$ (при температу-

ре $2T$). Здесь V — объем баллона, k — постоянная Больцмана. Выражая из этих уравнений отношение $\alpha = n_1/n_2$, получаем: $\alpha = \frac{1}{2}$.

О т в е т. $\alpha = \frac{1}{2}$.

2.1.30. Искусственный спутник Земли, имеющий форму шара радиусом $R = 0,5$ м, движется по круговой орбите со скоростью $v = 7,9$ км/с. Давление воздуха на высоте орбиты спутника $p = 0,9$ Па, температура $T = 270$ К. Полагая, что скорость теплового движения молекул воздуха пренебрежимо мала по сравнению со скоростью спутника, найти среднее число \bar{z} столкновений молекул со спутником в единицу времени. Постоянная Больцмана $k = 1,38 \cdot 10^{-23}$ Дж/К.

Р е ш е н и е. Поскольку молекулы воздуха можно считать практически неподвижными, за время τ спутник столкнется с молекулами, находящимися в воображаемом цилиндре сечением $S = \pi R^2$ и длиной $v\tau$. Число таких молекул $N = Sv\tau n$, где $n = \frac{p}{kT}$ — их концентрация.

О т в е т. $\bar{z} = \pi R^2 v \frac{p}{kT} \approx 1,5 \cdot 10^{24}$ с $^{-1}$.

2.1.31. В настоящее время для различных целей широко используются воздушные шары, заполненные нагретым воздухом. Подогрев воздуха производится с помощью горелки, установленной под небольшим отверстием в нижней части оболочки шара. Из этого же отверстия излишек воздуха может свободно выходить наружу. До какой температуры t_1 нужно нагреть воздух внутри шара, чтобы с его помощью поднять груз массой $m = 100$ кг? Объем шара $V = 1000$ м 3 , температура атмосферного воздуха $t_0 = 27$ °С, атмосферное давление $p_0 = 10^5$ Па. Молярная масса воздуха $M = 29$ г/моль, универсальная газовая постоянная $R = 8,3$ Дж/(моль · К). Массой оболочки шара пренебречь. Воздух считать идеальным газом.

Р е ш е н и е. Плотность воздуха при температуре T и давлении p равна $\rho = \frac{pM}{RT}$. Следовательно, архимедова сила, действующая на шар,

$$F_A = \frac{p_0 M}{RT_0} V g, \text{ а масса воздуха, заключенного внутри шара, } m_1 = \frac{p_0 M}{RT_1} V.$$

Здесь $T_0 = t_0 + 273$ °С, $T_1 = t_1 + 273$ °С. Условие равновесия шара с грузом массой m имеет вид: $(m + m_1)g = F_A$. Объединяя записанные выражения, по-

лучаем: $T_1 = T_0 \frac{Mp_0 V}{Mp_0 V - mRT_0} \approx 328,2$ К, $t_1 \approx 55,2$ °С.

О т в е т. $t_1 \approx 55,2$ °С.

2.1.32. Вертикально расположенный герметичный цилиндр разделен на две части тяжелым теплонепроницаемым поршнем, способным скользить без трения. В верхней и нижней частях цилиндра находится идеальный газ. При некоторой температуре T в верхней части цилиндра и температуре $2T$

в нижней части поршень находится посередине цилиндра и давление газа в верхней части цилиндра $p_0 = 10^5$ Па. Цилиндр перевернули вверх дном. Для того чтобы поршень не сместился, газ в той части, которая оказалась наверху, охладил до температуры $T/2$, оставив температуру T газа в другой части цилиндра без изменения. Определить давление p , которое имел газ в нижней части цилиндра в начальном состоянии.

Решение. Пусть m — масса поршня, S — его площадь. Поскольку температура и объем газа, находящегося в той части цилиндра, которая первоначально была наверху, не меняются, давление газа в этой части постоянно и равно p_0 . Условия равновесия поршня имеют вид: $p = p_0 + \frac{mg}{S}$ (в начальном положении цилиндра), $p_0 = p' + \frac{mg}{S}$ (в конечном положении цилиндра). Отсюда $p + p' = 2p_0$. Температура газа, находящегося в той части цилиндра, которая первоначально была внизу, уменьшается в 4 раза, а объем не меняется. Следовательно, $\frac{p}{p'} = 4$. Из двух последних уравнений получаем ответ: $p = \frac{8}{5}p_0 = 1,6 \cdot 10^5$ Па.

2.1.33. Вертикально расположенный цилиндрический сосуд, закрытый тяжелым подвижным поршнем, содержит идеальный газ. Через зазор между поршнем и стенкой сосуда газ медленно и равномерно вытекает из сосуда так, что температура газа остается неизменной. В момент времени $t = 0$ масса газа в сосуде $m = 0,15$ кг, а расстояние от поршня до дна сосуда $h = 75$ см. Изменение массы газа в сосуде в единицу времени составляет $\mu = 0,01$ г/с. С какой скоростью v будет двигаться поршень?

Решение. Пусть p — давление газа, создаваемое поршнем, S — площадь поперечного сечения сосуда, а T — температура газа. Уравнение начального состояния газа имеет вид: $phS = \frac{m}{M}RT$. За время Δt масса газа уменьшится на $\Delta m = \mu\Delta t$, а высота поршня — на Δh , и уравнение состояния газа примет вид: $p(h - \Delta h)S = \frac{m - \mu\Delta t}{M}RT$. Объединяя записанные уравнения, находим, что $\frac{\Delta h}{\Delta t} = h \frac{\mu}{m}$. Поскольку истечение газа будет продолжаться в течение промежутка времени $\tau = \frac{m}{\mu} = 1,5 \cdot 10^4$, то $v = h \frac{\mu}{m} = 5 \cdot 10^{-5}$ м/с при $0 \leq t \leq 1,5 \cdot 10^4$ с.

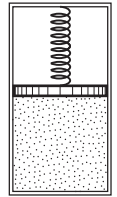
О т в е т. $v = h \frac{\mu}{m} = 5 \cdot 10^{-5}$ м/с при $0 \leq t \leq 1,5 \cdot 10^4$ с.

2.1.34. В цилиндре под подвижным поршнем находится идеальный газ, поддерживаемый при постоянной температуре. Когда на поршень положили груз массой M_1 , объем газа уменьшился в n раз. Какой массы M_2 груз нужно положить на поршень дополнительно, чтобы объем газа уменьшился еще в k раз?

Решение. Пусть m — масса поршня, S — его площадь, p_A — атмосферное давление. Обозначив через p_0 , p_1 и p_2 давления в цилиндре без груза на поршне, с грузом M_1 и с грузами M_1 и M_2 на поршне соответственно, запишем условия равновесия поршня в этих случаях: $mg + p_A S = p_0 S$, $(M_1 + m)g + p_A S = p_1 S$, $(M_1 + M_2 + m)g + p_A S = p_2 S$. Поскольку температура газа постоянна, из закона Бойля—Мариотта следует, что $p_1 = np_0$, $p_2 = kp_1 = nkp_0$. Исключая из этих уравнений m , S , p_A и p_0 , получаем: $M_2 = M_1 \frac{n(k-1)}{n-1}$.

Ответ. $M_2 = M_1 \frac{n(k-1)}{n-1}$.

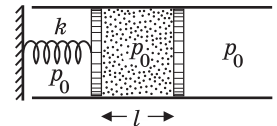
2.1.35. В закрытом цилиндрическом сосуде под невесомым поршнем находится идеальный газ. В пространстве над поршнем создан вакуум. Поршень удерживается в равновесии пружиной, помещенной между поршнем и крышкой цилиндра, причем пружина не деформирована, если поршень располагается у дна цилиндра. Во сколько раз n возрастет объем газа, если увеличить его температуру в $m = 2$ раза? Толщиной поршня пренебречь.



Решение. Поскольку сжатие пружины совпадает с высотой поршня над дном сосуда, давление газа пропорционально его объему, т. е. $p \sim V$. Пусть p_0 , V_0 и T_0 — начальные давление, объем и температура газа. Уравнения начального и конечного состояний газа имеют вид: $p_0 V_0 = \nu RT_0$, $np_0 nV_0 = \nu RmT_0$. Отсюда $n^2 = m$.

Ответ. $n = \sqrt{m} \approx 1,41$.

2.1.36. Горизонтальная трубка площадью сечения S , открытая с двух концов, закреплена неподвижно. В ней находятся два поршня, один из которых соединен пружиной жесткостью k с неподвижной стенкой. В исходном состоянии давление воздуха между поршнями равно атмосферному давлению p_0 , пружина не деформирована и расстояние между поршнями равно l . Правый поршень медленно переместили вправо на расстояние l . Какое давление воздуха p_1 установилось при этом между поршнями? Температуру воздуха считать постоянной, трением пренебречь.



Решение. При перемещении правого поршня вправо на расстояние l левый поршень переместится в ту же сторону на некоторое расстояние x . Условие равновесия левого поршня имеет вид: $p_0 S - kx - p_1 S = 0$. Отсюда давление воздуха между поршнями $p_1 = p_0 - \frac{kx}{S}$. Из закона Бойля—Мариотта следует равенство $p_0 l = p_1 (2l - x)$. Исключая из этих соотношений x , получаем квадратное уравнение относительно p_1 , а именно $p_1^2 - \left(p_0 - \frac{2kl}{S}\right)p_1 - \frac{p_0 kl}{S} = 0$.

Выбираем его положительный корень.

Ответ. $p_1 = \frac{p_0}{2} - \frac{kl}{S} + \sqrt{\frac{p_0^2}{4} + \left(\frac{kl}{S}\right)^2}$.

2.1.37. Плотность смеси азота и кислорода при температуре $t = 17^\circ\text{C}$ и давлении $p_0 = 10^5$ Па равна $\rho = 1,2$ кг/м³. Найдите концентрации n_1 и n_2 молекул азота и кислорода в смеси. Молярная масса азота $M_1 = 28$ г/моль, кислорода $M_2 = 32$ г/моль. Постоянная Больцмана $k = 1,38 \cdot 10^{-23}$ Дж/К, универсальная газовая постоянная $R = 8,31$ Дж/(моль · К).

Решение. Плотность и давление идеального газа выражаются следующим образом: $\rho = n \frac{M}{N_A}$, $p = nkT$, где n — концентрация молекул, M — молярная масса газа, k — постоянная Больцмана, N_A — число Авогадро, T — абсолютная температура. Используя эти выражения, для смеси газов получаем систему уравнений: $n_1 \frac{M_1}{N_A} + n_2 \frac{M_2}{N_A} = \rho$, $n_1 kT + n_2 kT = p_0$. От-

сюда, учитывая, что $kN_A = R$, получаем: $n_1 = \frac{p_0 M_2 - \rho RT}{kT(M_2 - M_1)} \approx 1,9 \cdot 10^{25}$ м⁻³,

$$n_2 = \frac{\rho RT - p_0 M_1}{kT(M_2 - M_1)} \approx 0,57 \cdot 10^{25} \text{ м}^{-3}.$$

Ответ. $n_1 \approx 1,9 \cdot 10^{25}$ м⁻³, $n_2 \approx 0,57 \cdot 10^{25}$ м⁻³.

2.1.38. В баллоне находится смесь азота, кислорода и углекислого газа, причем массы всех трех газов одинаковы. Какова плотность смеси ρ , если давление смеси $p = 10^5$ Па, а температура $t = 27^\circ\text{C}$? Молярные массы газов: азота $M_1 = 28$ г/моль, кислорода $M_2 = 32$ г/моль, углекислого газа $M_3 = 44$ г/моль. Универсальная газовая постоянная $R = 8,3$ Дж/(моль · К).

Решение. Записывая уравнения состояния компонент смеси, находим их парциальные давления: $p_1 = \frac{mRT}{M_1 V}$, $p_2 = \frac{mRT}{M_2 V}$, $p_3 = \frac{mRT}{M_3 V}$, где m — масса каждого из газов, V — объем баллона. По закону Дальтона, $p = p_1 + p_2 + p_3$.

Плотность смеси $\rho = \frac{3m}{V}$. Объединяя записанные выражения, получаем:

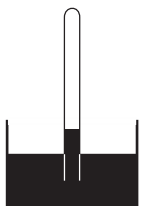
$$\rho = \frac{3p}{\left(\frac{1}{M_1} + \frac{1}{M_2} + \frac{1}{M_3}\right) R(t + 273^\circ\text{C})} \approx 1,34 \text{ кг/м}^3.$$

Ответ. $\rho \approx 1,34$ кг/м³.

2.1.39. Вертикальная стеклянная трубка, верхний конец которой запаян, погружена в сосуд с ртутью, причем уровень ртути в трубке на $h = 5$ см выше уровня в сосуде. Длина части трубки, заполненной воздухом, $l = 50$ см.

На какую величину Δt должна подняться температура воздуха в трубке, чтобы ртуть в ней опустилась до ее уровня в сосуде? Первоначальная температура воздуха $t_0 = 17^\circ\text{C}$, атмосферное давление $p_0 = 760$ мм рт. ст., плотность ртути $\rho = 13,6$ г/см³.

Решение. Из условия равновесия ртути следует, что в начальном состоянии давление воздуха в трубке $p = p_0 - \rho gh$. Уравнение начального состояния воздуха имеет вид $plS = \nu RT_0$,

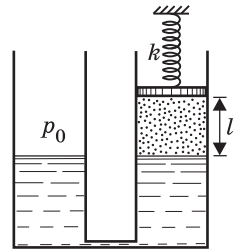


где S — площадь поперечного сечения трубки, ν — количество молей воздуха в трубке, $T_0 = t_0 + 273$ °С. После повышения температуры воздуха на Δt давление воздуха станет равным p_0 и уравнение его состояния примет вид: $p_0(l+h)S = \nu R(T_0 + \Delta t)$. Исключая из записанных уравнений ν и S , получа-

$$\text{ем: } \Delta t = (t_0 + 273 \text{ °С}) \cdot \left[\frac{p_0(l+h)}{(p_0 - \rho gh)l} - 1 \right] \approx 51,5 \text{ °С.}$$

О т в е т. $\Delta t \approx 51,5$ °С.

2.1.40. В двух сообщающихся цилиндрических сосудах с одинаковой площадью поперечного сечения S находится вода. В один из сосудов помещен невесомый поршень, соединенный с неподвижной опорой пружиной жесткостью k . Пространство под поршнем заполнено воздухом. При температуре воздуха в сосуде T_0 расстояние между поршнем и поверхностью воды l , пружина не деформирована и поверхность воды в обоих сосудах находится на одном уровне. До какой температуры T нужно нагреть воздух в сосуде, чтобы поршень переместился вверх на расстояние x ? Атмосферное давление p_0 , плотность воды ρ , ускорение свободного падения g . Давлением водяных паров и трением при перемещении поршня пренебречь.



Р е ш е н и е. Пусть при температуре T давление воздуха в пространстве под поршнем равно p , а смещение поверхности воды вниз от первоначального уровня в правом сосуде составляет y . При этом в левом сосуде уровень воды повышается на такую же величину, а пружина сжимается на величину x . Из условия равновесия поршня следует равенство $(p - p_0)S = kx$. Условие равновесия жидкости дает соотношение $p = p_0 + 2\rho gy$. Уравнения начального и конечного состояний воздуха имеют вид: $p_0Sl = \nu RT_0$, $pS(l+x+y) = \nu RT$. Решая полученную систему уравнений, находим:

$$T = T_0 \left(1 + \frac{x}{l} + \frac{kx}{2\rho g l S} \right) \cdot \left(1 + \frac{kx}{p_0 S} \right).$$

$$\text{О т в е т. } T = T_0 \left(1 + \frac{x}{l} + \frac{kx}{2\rho g l S} \right) \cdot \left(1 + \frac{kx}{p_0 S} \right).$$

2.1.41. В вертикально расположенном цилиндрическом сосуде под поршнем находится идеальный газ. Сосуд помещается в лифт. Когда лифт неподвижен, расстояние между поршнем и дном сосуда $h = 12$ см. При движении лифта с постоянным ускорением, направленным вверх, расстояние между поршнем и дном цилиндра оказалось равным $x = 10$ см. Найти модуль ускорения лифта a . Температуру считать постоянной, ускорение свободного падения принять $g = 10$ м/с², атмосферное давление не учитывать.

Р е ш е н и е. Пусть M — масса поршня, S — его площадь. Когда лифт покоится, давление газа в сосуде $p = \frac{Mg}{S}$. В ускоренно движущемся лифте для поршня справедливо уравнение: $Ma = p_1S - Mg$. Следовательно, давле-

ние газа в движущемся сосуде $p_1 = \frac{M(g+a)}{S}$. По закону Бойля—Мариотта, $p_1 h S = p_1 x S$, откуда вытекает равенство $gh = (g+a)x$.

О т в е т. $a = g\left(\frac{h}{x} - 1\right) = 2 \text{ м/с}^2$.

2.1.42. В лифте, движущемся с ускорением $a = 5 \text{ м/с}^2$, направленным вверх, находится цилиндрический сосуд, закрытый поршнем массой $M = 20 \text{ кг}$ и площадью $S = 100 \text{ см}^2$. Под поршнем находится идеальный газ. Поршень расположен на расстоянии $h = 22 \text{ см}$ от дна сосуда. Определить, на какую величину Δh переместится поршень, если лифт будет двигаться с тем же по модулю ускорением, направленным вниз. Температура газа не изменяется. Атмосферное давление $p_0 = 10^5 \text{ Па}$, ускорение свободного падения принять равным $g = 10 \text{ м/с}^2$. Трением поршня о стенки сосуда пренебречь.

Р е ш е н и е. Поршень, покоящийся в движущемся лифте, имеет относительно неподвижной системы отсчета ускорение a , совпадающее с ускорением лифта. Запишем уравнения движения поршня в проекциях на направление его ускорения: $Ma = p_1 S - p_0 S - Mg$ (при ускорении a , направленном вверх), $Ma = Mg + p_0 S - p_2 S$ (при ускорении a , направленном вниз). Здесь p_1 и p_2 — давления газа под поршнем в этих случаях. Из уравнения состояния газа под поршнем следует, что $p_1 h S = p_2 (h + \Delta h) S$. Решая эту систему

уравнений, находим: $\Delta h = \frac{2Mah}{Sp_0 + M(g-a)} = 4 \text{ см}$.

О т в е т. $\Delta h = 4 \text{ см}$.

2.1.43. В вертикальном цилиндрическом сосуде с площадью сечения $S = 20 \text{ см}^2$ под тяжелым поршнем находится идеальный газ. Когда сосуду сообщают ускорение $g/2$, направленное вверх, поршень устанавливается относительно сосуда в таком положении, что объем газа под ним уменьшается в $\alpha = 1,3$ раза. Считая температуру газа постоянной, найти массу поршня M . Атмосферное давление $p_0 = 10^5 \text{ Па}$, ускорение свободного падения $g = 10 \text{ м/с}^2$. Массой газа пренебречь.

Р е ш е н и е. Условие равновесия поршня в неподвижном сосуде: $p_1 S = p_0 S + Mg$, откуда давление газа в неподвижном сосуде

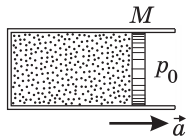
$p_1 = p_0 + \frac{Mg}{S}$. По второму закону Ньютона для поршня в сосуде, движущемся с ускорением $g/2$, $Mg/2 = p_2 S - p_0 S - Mg$. Отсюда установившееся давление газа в движущемся сосуде $p_2 = p_0 + \frac{3Mg}{2S}$. Считая это давление одинаковым во всех точках сосуда, по закону Бойля—Мариотта

имеем: $\left(p_0 + \frac{Mg}{S}\right)V_1 = \left(p_0 + \frac{3Mg}{2S}\right)V_2$. Учитывая, что $\frac{V_1}{V_2} = \alpha$, получаем:

$$M = \frac{(\alpha - 1)p_0 S}{(1,5 - \alpha)g} = 30 \text{ кг}.$$

О т в е т. $M = 30 \text{ кг}$.

2.1.44. В горизонтальном цилиндрическом сосуде под поршнем массой $M = 20$ кг и площадью $S = 100$ см² находится идеальный газ. Расстояние от поршня до дна сосуда $l = 55$ см. На какое расстояние Δl и в какую сторону переместится поршень, если цилиндр начать двигать с ускорением $a = 5$ м/с², как показано на рисунке. Атмосферное давление $p_0 = 10^5$ Па. Температура газа не изменяется. Трением поршня о стенки сосуда пренебречь. Считать, что при сообщении цилиндру ускорения колебания поршня не возникают.



Решение. Уравнение движения поршня с ускорением a имеет вид: $Ma = pS - p_0S$. Отсюда давление газа в ускоренно движущемся цилиндре $p = p_0 + \frac{Ma}{S}$. По закону Бойля—Мариотта: $p_0lS = p(l - \Delta l)S$. Объединяя за-

писанные равенства, получаем: $\Delta l = \frac{Mal}{p_0S + Ma} = 5$ см. Поршень переместится влево.

Ответ. $\Delta l = 5$ см. Поршень переместится влево.

2.1.45. В замкнутом сосуде к верхней стенке подвешена на пружине жесткостью $k = 4$ Н/м сфера объемом $V = 2$ л. На какое расстояние Δh поднимется сфера, если давление воздуха в сосуде повысить при постоянной температуре $t = 17$ °С от $p_1 = 100$ кПа до $p_2 = 500$ кПа? Молярная масса воздуха $M = 29$ г/моль. Универсальная газовая постоянная $R = 8,3$ Дж/(моль · К). Ускорение свободного падения принять $g = 10$ м/с².

Решение. Сфера находится в равновесии под действием силы тяжести, силы упругости и архимедовой силы. Условия равновесия сферы при начальном и конечном состояниях воздуха имеют вид: $mg = kx + \rho_1Vg$, $mg = k(x - \Delta h) + \rho_2Vg$, где m — масса сферы, x — начальное удлинение пружины, $\rho_1 = \frac{p_1M}{RT}$ и $\rho_2 = \frac{p_2M}{RT}$ — плотности воздуха при давлениях p_1 и p_2 ;

$T = t + 273$ °С. Исключая из записанных уравнений массу сферы, получаем:

$$\Delta h = \frac{MVg}{RTk}(p_2 - p_1) = 2,4 \text{ см.}$$

Ответ. $\Delta h = 2,4$ см.

2.1.46. Сферу массой $m = 80$ г взвешивают в воздухе. При температуре воздуха $t = 47$ °С вес сферы оказался равным $P = 0,1$ Н. При какой температуре воздуха t_1 сфера перестанет давить на чашку весов? Изменением объема сферы пренебречь, давление воздуха считать неизменным, ускорение свободного падения принять равным $g = 10$ м/с².

Решение. По закону Архимеда, вес сферы при температуре воздуха $T = t + 273$ °С равен $P = mg - \rho Vg$, где $\rho = \frac{pM}{RT}$ — плотность воздуха при этой температуре, p — давление воздуха, M — его молярная масса. При температуре $T_1 = t_1 + 273$ °С, при которой сфера не давит на чашку ве-

сов, $mg = \rho_1 Vg$, где $\rho_1 = \frac{pM}{RT_1}$. Объединяя записанные выражения, полу-

чаем: $t_1 = \left(1 - \frac{P}{mg}\right)(t + 273^\circ\text{C}) - 273^\circ\text{C} = 7^\circ\text{C}$.

Ответ. $t_1 = 7^\circ\text{C}$.

2.1.47. Какой массой m должно обладать сферическое тело радиусом $r = 1$ м, чтобы оно могло плавать в атмосфере Венеры? Атмосфера Венеры состоит из углекислого газа, давление у поверхности $p_0 = 9$ МПа, температура $t = 527^\circ\text{C}$. Универсальная газовая постоянная $R = 8,3$ Дж/(моль · К). Молярная масса углекислого газа $M = 44$ г/моль.

Решение. По закону Архимеда, сфера будет плавать при выполнении условия: $mg \leq \rho gV$, где g — ускорение свободного падения у поверхности

Венеры, $\rho = \frac{p_0 M}{RT}$ — плотность атмосферы Венеры, $T = t + 273^\circ\text{C}$ — абсо-

лютная температура атмосферы, $V = \frac{4}{3}\pi r^3$ — объем тела.

Ответ. $m \leq \frac{4}{3}\pi r^3 \frac{p_0 M}{RT} \approx 249$ кг.

2.1.48. Надувной шарик, заполненный гелием, удерживают на нити. Найти натяжение нити F , если масса оболочки шарика $m = 2$ г, объем $V = 3$ л, давление гелия $p = 1,04 \cdot 10^5$ Па, температура $t = 27^\circ\text{C}$. Молярная масса гелия $M = 4$ г/моль, плотность воздуха $\rho = 1,3$ кг/м³, универсальная газовая постоянная $R = 8,3$ Дж/(моль · К). Ускорение свободного падения принять $g = 10$ м/с².

Решение. Условие равновесия шарика на нити имеет вид: $(m + m_r)g + F = F_A$, где m_r — масса гелия, $F_A = \rho Vg$ — архимедова сила, действующая на шарик. Массу гелия легко найти из уравнения его состоя-

ния: $pV = \frac{m_r}{M}RT$, где $T = t + 273^\circ\text{C}$.

Ответ. $F = \rho Vg - \left(m + \frac{MpV}{R(t + 273^\circ\text{C})}\right)g \approx 0,014$ Н.

2.1.49. Тонкая сферическая оболочка воздушного шара изготовлена из однородного материала, масса единицы площади которого $\sigma = 1$ кг/м². Шар наполнен гелием при атмосферном давлении $p_0 = 10^5$ Па. Какой минимальный радиус r_{\min} должен иметь шар, чтобы он начал подниматься вверх? Температуры гелия и окружающего воздуха одинаковы и равны $t_0 = 0^\circ\text{C}$. Молярные массы гелия и воздуха соответственно $M_{\text{He}} = 4$ г/моль и $M_{\text{B}} = 29$ г/моль. Универсальная газовая постоянная $R = 8,31$ Дж/(моль · К).

Решение. Шар будет подниматься вверх, если действующая на него выталкивающая сила превысит силу тяжести. По закону Архимеда, выталкивающая сила равна $m_{\text{B}}g$, где m_{B} — масса воздуха в объеме, занимаемом шаром. Обозначив через m_{He} массу гелия, содержащегося в шаре, а через M — массу оболочки шара, запишем условие, при котором шар начнет под-

ниматься: $(M + m_{\text{He}})g \leq m_{\text{B}}g$. Массы гелия и воздуха, содержащихся в объеме V , можно найти из уравнений состояния этих газов: $m_{\text{He}} = \frac{M_{\text{He}}p_0V}{RT_0}$, $m_{\text{B}} = \frac{M_{\text{B}}p_0V}{RT_0}$, где $T_0 = t_0 + 273$ °С, $V = \frac{4}{3}\pi r^3$. Учитывая, что масса оболочки шара равна $M = 4\pi r^2\sigma$, перепишем условие подъема шара в виде: $4\pi r^2\sigma \leq \frac{4}{3}\pi r^3 p_0 \frac{M_{\text{B}} - M_{\text{He}}}{RT_0}$. При этом знак равенства достигается при минимальном радиусе шара.

$$\text{О т в е т. } r_{\min} = \frac{3\sigma RT_0}{(M_{\text{B}} - M_{\text{He}})p_0} \approx 2,73 \text{ м.}$$

2.1.50. Внутри вертикально расположенного цилиндра, воздух из которого откачан, находится тонкий массивный поршень. Под поршень ввели смесь водорода и гелия, в результате чего поршень поднялся до середины цилиндра. Поскольку материал, из которого изготовлен поршень, оказался проницаемым для гелия, поршень начал медленно опускаться. Спустя достаточно большое время поршень занял окончательное положение равновесия на высоте, составляющей $1/3$ высоты цилиндра. Найти отношение k масс водорода и гелия в смеси в первоначальный момент. Молярная масса водорода $M_1 = 2$ г/моль, молярная масса гелия $M_2 = 4$ г/моль. Температуру считать постоянной.

Решение. Пусть m_1 и m_2 — массы водорода и гелия в смеси соответственно, M_0 — масса поршня, V — объем цилиндра, S — площадь поршня, T — температура. Из условия равновесия поршня и уравнения начального состояния смеси следует равенство: $\frac{M_0g}{S} = \frac{2}{V} \left(\frac{m_1}{M_1} + \frac{m_2}{M_2} \right) RT$. В конечном состоянии, когда диффузия гелия закончится, концентрация гелия в обеих частях цилиндра станет одинаковой. Следовательно, станут равными парциальные давления гелия снизу и сверху от поршня. Поэтому давление поршня будет уравниваться только давлением водорода: $\frac{M_0g}{S} = \frac{3}{V} \frac{m_1}{M_1} RT$. Сопоставляя записанные выражения, получаем, что $k = \frac{m_1}{m_2} = \frac{2M_1}{M_2} = 1$.

О т в е т. $k = 1$. Массы водорода и гелия в смеси были одинаковыми.

2.1.51. В космический корабль, совершающий межпланетный перелет, попал метеорит, пробивший в корпусе маленькое отверстие, через которое наружу стал выходить воздух. Объем корабля $V = 1000$ м³, начальное давление воздуха в нем $p_0 = 10^5$ Па, температура $t = 27$ °С. Через какое время τ после попадания метеорита давление воздуха в корабле уменьшится на $\Delta p = 10^3$ Па, если площадь отверстия $S = 1$ см²? Молярная масса воздуха $M = 29$ г/моль, универсальная газовая постоянная $R = 8,3$ Дж/(моль · К). При решении учесть, что $\Delta p \ll p_0$, температуру воздуха внутри корабля считать постоянной, а процесс истечения воздуха квазиравновесным.

Решение. Записывая для вытекающего воздуха уравнение Бернулли и учитывая, что давление воздуха за рассматриваемый промежуток времени меняется незначительно, имеем: $p_0 = \frac{\rho v^2}{2}$, откуда скорость истечения воздуха

$v = \sqrt{\frac{2p_0}{\rho}}$. Здесь $\rho = \frac{p_0 M}{RT}$ — плотность воздуха, которая также практически постоянна. Следовательно, массовый расход воздуха равен:

$\mu = Sv\rho = S\sqrt{2p_0\rho} = Sp_0\sqrt{\frac{2M}{RT}}$. Из уравнения Клапейрона—Менделеева находим изменение давления воздуха за время τ , а именно $\Delta p = \frac{\mu\tau}{MV}RT$. Объединяя записанные выражения, получаем:

$$\tau = \frac{\Delta p}{p_0} \cdot \frac{V}{S} \cdot \sqrt{\frac{M}{2RT}} \approx 241 \text{ с.}$$

Ответ. $\tau \approx 241 \text{ с.}$

2.1.52. На металлическую пластинку напыляют серебряное покрытие, используя пучок атомов серебра, направленный перпендикулярно пластинке. С какой скоростью v_0 растёт толщина покрытия, если атомы серебра оказывают на пластинку давление $p = 0,1 \text{ Па}$? Кинетическая энергия одного атома $E = 10^{-17} \text{ Дж}$, молярная масса серебра $M = 108 \text{ г/моль}$, его плотность $\rho = 10,5 \text{ г/см}^3$. Постоянная Авогадро $N_A = 6,02 \cdot 10^{23} \text{ моль}^{-1}$.

Решение. На площадке пластинки площадью S за время τ осаждается серебро массой $M_0 = mN_0S\tau = \rho v_0 S\tau$, где m — масса атома серебра, N_0 — число атомов, попадающих на единичную площадку в единицу времени. Отсюда $v_0 = \frac{mN_0}{\rho}$. С другой стороны, давление, оказываемое атомами, осаждающимися на пластинке, равно $p = muN_0$, где u — скорость атомов.

Следовательно, $v_0 = \frac{p}{\rho u}$. Поскольку $u = \sqrt{2E/m}$ и $m = M/N_A$, то

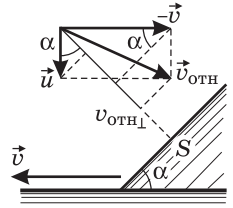
$$v_0 = \frac{p}{\rho} \sqrt{\frac{M}{2EN_A}} \approx 9 \cdot 10^{-8} \text{ см/с.}$$

Ответ. $v_0 \approx 9 \cdot 10^{-8} \text{ см/с.}$

2.1.53. Автомобиль, движущийся по горизонтальной дороге, попадает в полосу дождя, капли которого падают на землю вертикально с постоянной скоростью. Известно, что при скорости автомобиля $v_1 = 36 \text{ км/ч}$ в его наклонное лобовое стекло попадает $n_1 = 200$ дождевых капель в секунду, а при скорости $v_2 = 72 \text{ км/ч}$ это число возрастает до $n_2 = 300$ капель в секунду. Сколько капель n_0 будет попадать в лобовое стекло за одну секунду, если автомобиль остановится?

Решение. Используя рассуждения, проводимые при выводе основного уравнения молекулярно-кинетической теории идеального газа, находим, что число капель, попадающих за одну секунду на ветровое стекло автомобиля,

$n = NSv_{\text{отн}\perp}$, где N — число капель в единице объема, S — площадь стекла, $v_{\text{отн}\perp}$ — проекция скорости капель относительно автомобиля на нормаль к стеклу. По закону сложения скоростей, $\vec{v}_{\text{отн}} = \vec{u} - \vec{v}$, где \vec{u} и \vec{v} — скорости капель и автомобиля относительно земли (см. рисунок). Обозначив через α угол наклона ветрового стекла к горизонтали и используя известное из геометрии утверждение о том, что проекция суммы векторов на какое-либо направление равна сумме проекций векторов на это направление, находим, что $v_{\text{отн}\perp} = u \cos \alpha + v \sin \alpha$. Следовательно, справедливы следующие равенства: $n_1 = NS(u \cos \alpha + v_1 \sin \alpha)$, $n_2 = NS(u \cos \alpha + v_2 \sin \alpha)$, $n_0 = NSu \cos \alpha$. Умножая первое соотношение на v_2 , а второе на v_1 и вычитая одно из другого, полу-



чаем: $NSu \cos \alpha = \frac{n_1 v_2 - n_2 v_1}{v_2 - v_1}$.

О т в е т. $n_0 = \frac{n_1 v_2 - n_2 v_1}{v_2 - v_1} = 100$ капель/с.

2.2. Элементы термодинамики

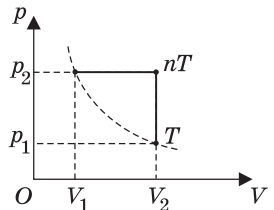
2.2.1. В сосуде емкостью $V = 5$ л находится гелий под давлением $p = 0,3$ МПа. Какова внутренняя энергия U газа в сосуде?

Р е ш е н и е. Из уравнения состояния газа $pV = \nu RT$ находим его температуру: $T = \frac{pV}{\nu R}$. Поскольку гелий — одноатомный газ, его внутренняя энергия $U = \frac{3}{2} \nu RT$.

О т в е т. $U = \frac{3}{2} pV = 2,25$ кДж.

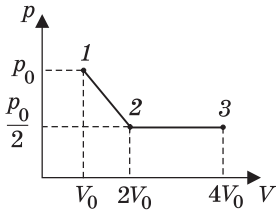
2.2.2. Идеальный газ, взятый в количестве $\nu = 5$ моль, сначала нагревают при постоянном объеме так, что абсолютная температура газа возрастает в $n = 3$ раза, а затем сжимают при постоянном давлении, доводя температуру газа до первоначального значения $T = 100$ К. Какая работа A совершена при сжатии? Универсальная газовая постоянная $R = 8,3$ Дж/(моль · К).

Р е ш е н и е. График процесса изображен на рисунке. Поскольку величина работы, совершенной над газом, численно равна площади под кривой зависимости давления от объема, имеем: $A = p_2(V_1 - V_2) = p_2 V_1 - p_2 V_2$. Из уравнения состояния газа следует, что $p_1 V_1 = \nu RT$, $p_2 V_1 = n \nu RT$, $p_2 V_2 = \nu RT$. Объединяя записанные выражения, получаем: $A = (n - 1) \nu RT = 8310$ Дж.



О т в е т. $A = 8310$ Дж.

2.2.3. Найти работу A , совершенную идеальным газом в ходе процесса $1-2-3$. В состоянии 1 давление газа равно $p_0 = 10^5$ Па, а объем $V_0 = 1$ л. В состоянии 2 давление газа вдвое меньше, а объем вдвое больше. Процесс $2-3$ представляет собой изобарное расширение до объема $4V_0$.

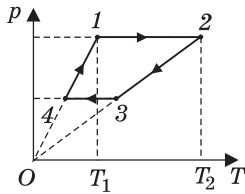


Решение. Работа газа численно равна площади под кривой, отображающей рассматриваемый процесс на pV -диаграмме. Используя формулы для площади треугольника и прямоугольника, получаем:

$$A = \frac{1}{2} \cdot \frac{p_0 V_0}{2} + \frac{p_0}{2} 3V_0.$$

Ответ. $A = \frac{7}{4} p_0 V_0 = 175$ Дж.

2.2.4. С массой $m = 80$ г идеального газа, молярная масса которого $M = 28$ г/моль, совершается циклический процесс, изображенный на рисунке. Ка-



кую работу A совершает такой двигатель за один цикл, если $T_1 = 300$ К, $T_2 = 1000$ К, а при нагревании на участке $4-1$ давление газа увеличивается в 2 раза? Универсальная газовая постоянная $R = 8,3$ Дж/(моль · К).

Решение. Для вычисления работы газа удобно перерисовать график процесса в виде pV -диаграммы (см. рисунок), откуда видно, что $A = (p' - p'')(V_2 - V_1)$.

Используя уравнение состояния газа, запишем последнее равенство в виде: $A = \frac{m}{M} R(T_2 - T_3 - T_1 + T_4)$.

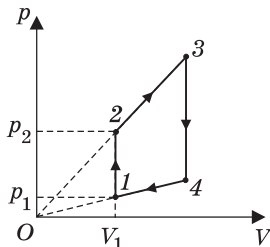
Поскольку объемы газа на участках $2-3$ и $4-1$ постоянны, имеем: $\frac{T_1}{T_4} = \frac{T_2}{T_3} = \frac{p'}{p''} = 2$. Отсюда $T_4 = T_1 / 2$,

$T_3 = T_2 / 2$. Подставляя найденные значения температуры в выражение для работы, получаем:

$$A = \frac{m}{2M} R(T_2 - T_1) \approx 8,3 \text{ кДж.}$$

Ответ. $A \approx 8,3$ кДж.

2.2.5. Найти работу, совершенную идеальным газом в циклическом процессе, изображенном на рисунке. Объем $V_1 = 10$ л, давление $p_1 = 10^4$ Па. Давление p_2 в $k = 4$ раза превышает p_1 . Температура в точках 2 и 4 одинакова.



Решение. Работа газа в циклическом процессе численно равна площади фигуры, отображающей процесс на pV -диаграмме. В данном случае работа равна площади трапеции:

$$A = \frac{(p_2 - p_1 + p_3 - p_4)}{2} (V_4 - V_1).$$

Из подобия треугольников следует, что $\frac{p_4}{p_1} = \frac{V_4}{V_1}$,

$\frac{p_3}{p_2} = \frac{V_4}{V_1}$. Поскольку точки 2 и 4 находятся на одной изотерме, $p_2V_1 = p_4V_4$.

Кроме того, по условию $p_2 = kp_1$. Объединяя эти соотношения, получаем: $p_3 = k\sqrt{k}p_1$, $p_4 = \sqrt{k}p_1$, $V_4 = \sqrt{k}V_1$. Подставляя эти выражения в формулу

для работы, находим: $A = p_1V_1 \frac{(k-1)^2}{2} = 450$ Дж.

О т в е т. $A = 450$ Дж.

2.2.6. В вертикально расположенном цилиндрическом сосуде, закрытом подвижным поршнем массой $m = 4$ кг, содержится один моль одноатомного газа. На какую величину Δh передвинется поршень, если газу сообщить количество теплоты $Q = 10$ Дж? Массой газа по сравнению с массой поршня пренебречь, атмосферное давление не учитывать. Ускорение свободного падения принять $g = 10$ м/с².

Решение. Поскольку расширение газа происходит при постоянном давлении, $Q = \frac{5}{2}R\Delta T$, где ΔT — изменение температуры газа. Из уравнения

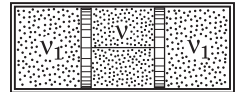
изобарного процесса следует, что $R\Delta T = p\Delta V$, где $p = \frac{mg}{S}$ — давление газа,

$\Delta V = S\Delta h$ — изменение его объема. Объединяя записанные выражения, получаем:

$$\Delta h = \frac{2Q}{5mg} = 0,1 \text{ м.}$$

О т в е т. $\Delta h = 0,1$ м.

2.2.7. Горизонтально расположенный цилиндр разделен двумя подвижными поршнями, связанными нитью, на три равные части объемом $V = 8,3$ л каждая. В центральной части находится $\nu = 0,533$ моля гелия, а в левой и правой частях — по $\nu_1 = 0,5$ молей азота ($\nu_1 < \nu$). Температура всех газов равна $T_0 = 300$ К. Когда гелию сообщили количество теплоты $Q = 100$ Дж, поддерживая температуру азота постоянной, нить оборвалась. Найти максимальное натяжение F_{\max} , которое выдерживает нить. Площади поршней $S = 50$ см², универсальная газовая постоянная $R = 8,3$ Дж/(К·моль). Трение между поршнями и цилиндром пренебрежимо мало.



Решение. Поскольку нагрев гелия происходит при постоянном объеме, сообщенное ему количество тепла идет на увеличение его внутренней энергии: $Q = \frac{3}{2}\nu R\Delta T$. Следовательно, изменение его температуры $\Delta T = \frac{2Q}{3\nu R}$. Дав-

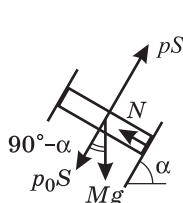
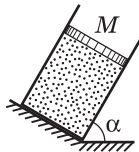
ление азота $p_1 = \frac{\nu_1 R}{V}T_0$, давление гелия после нагревания $p = \frac{\nu R}{V}(T_0 + \Delta T)$.

Из условия равновесия поршней следует, что сила натяжения нити $F = S(p - p_1)$. Объединяя записанные выражения, получаем:

$$F_{\max} = \frac{SR}{V} \left[(\nu - \nu_1)T_0 + \frac{2Q}{3R} \right] = 90 \text{ Н.}$$

О т в е т. $F_{\max} = 90$ Н.

2.2.8. В цилиндре, закрепленном под углом $\alpha = 60^\circ$ к горизонту, может без трения двигаться поршень массой $M = 10$ кг и площадью $S = 50$ см². Под поршнем находится идеальный одноатомный газ. Газ нагревают так, что поршень перемещается на расстояние $l = 5$ см. Какое количество теплоты Q было сообщено газу? Атмосферное давление $p_0 = 10^5$ Па, ускорение свободного падения $g = 10$ м/с².



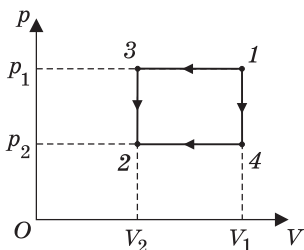
Решение. При нагревании газ перемещает поршень, совершая изобарное расширение. Поскольку молярная теплоемкость идеального одноатомного газа при постоянном давлении $C_p = \frac{5}{2}R$, количество теплоты, сообщенное газу, равно

$$Q = \frac{5}{2} \nu R \Delta T, \text{ где } \nu \text{ — число молей газа; } \Delta T \text{ — изменение его}$$

температуры. Записывая уравнения начального и конечного состояний газа, имеем $pV = \nu RT$, $p(V + lS) = \nu R(T + \Delta T)$, где p — давление газа; V — начальный объем газа; T — его начальная температура. Отсюда $\nu R \Delta T = plS$. Для определения давления газа воспользуемся условием равновесия поршня под действием сил, модули и направления которых изображены на рисунке. Здесь Mg — модуль силы тяжести, N — модуль силы реакции цилиндра, pS — модуль силы давления газа, p_0S — модуль силы атмосферного давления. В проекции на направление, перпендикулярное поршню, имеем: $pS = p_0S + Mg \sin \alpha$. Объединяя записанные выражения, получаем: $Q = \frac{5}{2} l(p_0S + Mg \sin \alpha) \approx 73,38$ Дж.

О т в е т. $Q \approx 73,38$ Дж.

2.2.9. Идеальный газ переводят из состояния p_1, V_1 в состояние p_2, V_2 двумя разными способами. В первый раз переход совершается сначала по изобаре, а затем по изохоре, а во второй — сначала по изохоре, а затем по изобаре. Найти разность количеств теплоты ΔQ , выделившихся при этих переходах. При расчетах положить $p_1 = 2 \cdot 10^5$ Па, $V_1 = 4$ м³, $p_2 = 10^5$ Па, $V_2 = 2$ м³.



Решение. pV -диаграммы совершаемых переходов изображены на рисунке. Согласно первому закону термодинамики, в этих переходах выделяются следующие количества теплоты: $Q_{132} = A_{132} + \Delta U_{132}$, $Q_{142} = A_{142} + \Delta U_{142}$. Поскольку начальное и конечное состояния в рассматриваемых процессах совпадают, изменения внутренней энергии в них одинаковы: $\Delta U_{132} = \Delta U_{142}$. Следовательно, $\Delta Q = A_{132} - A_{142}$.

О т в е т. $\Delta Q = (p_1 - p_2)(V_1 - V_2) = 2 \cdot 10^5$ Дж.

2.2.10. Некоторое количество идеального одноатомного газа нужно перевести из состояния 1 в состояние 2, используя изохорный и изобарный процессы (см. рисунок). Во сколько раз β отличаются количества теплоты,

которые требуются для перехода из исходного в конечное состояние по путям 1—3—2 и 1—4—2 соответственно?

Решение. Проведем расчет количеств теплоты на отдельных участках. С учетом уравнения состояния газа имеем:

$$Q_{13} = \frac{3}{2} \cdot \frac{m}{M} R(T_3 - T_1) = \frac{3}{2} \cdot 2p_0V_0 - \frac{3}{2} \cdot p_0V_0 = \frac{3}{2} p_0V_0,$$

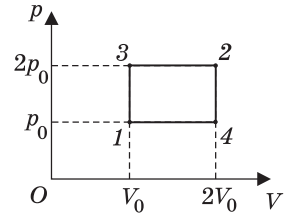
$$Q_{32} = \frac{5}{2} \cdot \frac{m}{M} R(T_2 - T_3) = \frac{5}{2} \cdot 4p_0V_0 - \frac{5}{2} \cdot 2p_0V_0 = 5p_0V_0,$$

$$Q_{14} = \frac{5}{2} \cdot \frac{m}{M} R(T_4 - T_1) = \frac{5}{2} \cdot p_02V_0 - \frac{5}{2} \cdot p_0V_0 = \frac{5}{2} p_0V_0,$$

$$Q_{42} = \frac{3}{2} \cdot \frac{m}{M} R(T_2 - T_4) = \frac{3}{2} \cdot 4p_0V_0 - \frac{3}{2} \cdot 2p_0V_0 = 3p_0V_0.$$

$$\text{Отсюда } Q_{132} = Q_{13} + Q_{32} = \frac{13}{2} p_0V_0, \quad Q_{142} = Q_{14} + Q_{42} = \frac{11}{2} p_0V_0.$$

$$\text{Ответ. } \beta = \frac{13}{11} = 1,1818\dots$$



2.2.11. Найти количество теплоты ΔQ , переданное идеальному одноатомному газу при переводе его из состояния 1 в состояние 2, как показано на рисунке. При расчете принять $p_1 = 100$ кПа, $V_1 = 2$ л, $V_2 = 4$ л.

Решение. Изменение внутренней энергии в рассматриваемом процессе $\Delta U = \frac{3}{2} \nu R(T_2 - T_1) =$

$= \frac{3}{2}(p_2V_2 - p_1V_1)$. Учитывая, что продолжение прямой, изображающей график процесса, проходит через начало координат (давление в этом процессе пропорционально объему), имеем: $p_2 = \frac{p_1V_2}{V_1}$. Следовательно,

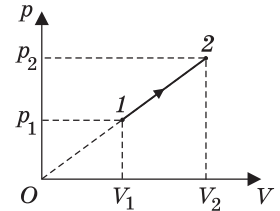
$\Delta U = \frac{3}{2} p_1 V_1 \left(\frac{V_2^2}{V_1^2} - 1 \right)$. Работа газа в этом процессе численно равна площади

трапеции: $A = \frac{1}{2}(p_2 + p_1)(V_2 - V_1) = \frac{1}{2} p_1 V_1 \left(\frac{V_2^2}{V_1^2} - 1 \right)$. Количество теплоты, по-

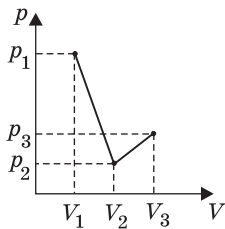
лученное газом, $\Delta Q = \Delta U + A$.

$$\text{Ответ. } \Delta Q = 2p_1V_1 \left(\frac{V_2^2}{V_1^2} - 1 \right) = \frac{2p_1}{V_1} (V_2^2 - V_1^2) = 1,2 \text{ кДж.}$$

2.2.12. Одноатомный идеальный газ переводится из состояния $p_1 = 130$ кПа, $V_1 = 1$ л в состояние $p_2 = 10$ кПа, $V_2 = 2$ л по прямой, соединяющей точки (p_1, V_1) и (p_2, V_2) на pV -диаграмме. Затем газ переводится в состояние $p_3 = 20$ кПа, $V_3 = 3$ л по прямой, соединяющей точки (p_2, V_2) и (p_3, V_3) . Какое количество теплоты ΔQ сообщено газу?



Решение. Количества теплоты, которые газ получает на участках 1—2 и 2—3, соответственно равны: $\Delta Q_{1-2} = \Delta U_{1-2} + A_{1-2}$, $\Delta Q_{2-3} = \Delta U_{2-3} + A_{2-3}$,



где $\Delta U_{1-2} = \frac{3}{2} \nu R(T_2 - T_1)$, $\Delta U_{2-3} = \frac{3}{2} \nu R(T_3 - T_2)$ — изме-

нения внутренней энергии; $A_{1-2} = \frac{1}{2}(p_1 + p_2)(V_2 - V_1)$,

$A_{2-3} = \frac{1}{2}(p_2 + p_3)(V_3 - V_2)$ — работы газа на этих участ-

ках; ν — количество газа; R — универсальная газовая постоянная. Используя уравнения состояния газа, можно переписать выражения для изменения внутренней энергии

газа в виде: $\Delta U_{1-2} = \frac{3}{2}(p_2 V_2 - p_1 V_1)$, $\Delta U_{2-3} = \frac{3}{2}(p_3 V_3 - p_2 V_2)$. Учитывая, что

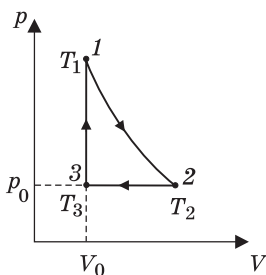
искомое количество теплоты равно $\Delta Q = \Delta Q_{1-2} + \Delta Q_{2-3}$, получаем:

$$\Delta Q = \frac{1}{2}[p_1(V_2 - 4V_1) + p_2(V_3 - V_1) + p_3(4V_3 - V_2)] = -20 \text{ Дж.}$$

Ответ. $\Delta Q = -20$ Дж.

2.2.13. С идеальным одноатомным газом совершается циклический процесс. Масса газа $m = 60$ г, его молярная масса $M = 20$ г/моль. Из начального состояния газ адиабатически расширяется, причем его температура изменяется от $T_1 = 400$ К до $T_2 = 64$ К. Затем газ изобарически сжимают при давлении $p_0 = 200$ кПа до первоначального объема $V_0 = 500$ см³. Цикл замыкается изохорой $V = V_0$. Каково суммарное количество теплоты Q , которое газ получил и отдал за цикл?

Решение. Используя обозначения, приведенные на рисунке, находим количества теплоты, которые газ отдает и получает на отдельных участ-



ках: $Q_{12} = 0$, $Q_{23} = \frac{5}{2} \frac{m}{M} R(T_3 - T_2)$, $Q_{31} = \frac{3}{2} \frac{m}{M} R(T_1 - T_3)$.

Из уравнения состояния в точке 3 следует, что

$\frac{m}{M} R T_3 = p_0 V_0$. Учитывая, что искомое количество теп-

лоты равно $Q = Q_{12} + Q_{23} + Q_{31}$, находим: $Q = \frac{m}{M} \cdot \frac{R}{2} \times$

$\times (3T_1 - 5T_2) + p_0 V_0 = 11,1$ кДж.

Ответ. $Q = 11,1$ кДж.

2.2.14. Два сосуда содержат одноатомный идеальный газ. Масса газа в первом сосуде $m_1 = 20$ г, его температура $T_1 = 300$ К. Второй сосуд содержит такой же газ массой $m_2 = 30$ г при температуре $T_2 = 400$ К. Сосуды соединяют трубкой. Пренебрегая объемом трубки и теплообменом с окружающей средой, найти температуру газа T , установившуюся в сосудах.

Решение. Поскольку сосуды теплоизолированы и газ не совершает работу, внутренняя энергия газа в процессе теплообмена остается постоянной.

Следовательно, $\frac{3}{2} \cdot \frac{m_1}{M} RT_1 + \frac{3}{2} \cdot \frac{m_2}{M} RT_2 = \frac{3}{2} \cdot \frac{m_1 + m_2}{M} RT$, где M — молярная масса газа.

$$\text{О т в е т. } T = \frac{m_1 T_1 + m_2 T_2}{m_1 + m_2} = 360 \text{ К.}$$

2.2.15. Два сосуда, объемы которых V_1 и V_2 , содержат одинаковый одноатомный газ молярной массой M . В сосуде объемом V_1 масса газа равна m_1 при температуре T_1 , а в сосуде с объемом V_2 — соответственно m_2 при температуре T_2 . Сосуды соединяют трубкой. Пренебрегая объемом трубки и теплообменом с окружающей средой, найти давление p , установившееся в сосудах.

Р е ш е н и е. Поскольку сосуды теплоизолированы и газ не совершает работу, внутренняя энергия газа в процессе теплообмена остается постоянной.

Следовательно, $\frac{3}{2} \cdot \frac{m_1}{M} RT_1 + \frac{3}{2} \cdot \frac{m_2}{M} RT_2 = \frac{3}{2} \cdot \frac{m_1 + m_2}{M} RT$, откуда установившаяся температура газа $T = \frac{m_1 T_1 + m_2 T_2}{m_1 + m_2}$. Используя уравнение установившегося

состояния газа $p(V_1 + V_2) = \frac{m_1 + m_2}{M} RT$, получаем: $p = \frac{(m_1 T_1 + m_2 T_2) R}{M(V_1 + V_2)}$.

$$\text{О т в е т. } p = \frac{(m_1 T_1 + m_2 T_2) R}{M(V_1 + V_2)}.$$

2.2.16. Теплоизолированный сосуд объемом $V = 0,5 \text{ м}^3$ содержит идеальный одноатомный газ, молярная масса которого $M = 4 \text{ г/моль}$. В сосуд вводится дополнительно $m = 1 \text{ г}$ такого же газа при температуре $T = 400 \text{ К}$. На какую величину Δp изменится давление? Универсальная газовая постоянная $R = 8,3 \text{ Дж/(моль} \cdot \text{К)}$.

Р е ш е н и е. Пусть p_0 , m_0 и T_0 — начальные давление, масса и температура газа в сосуде. Уравнение начального состояния газа имеет вид:

$p_0 V = \frac{m_0}{M} RT_0$. Обозначив через T_1 температуру, установившуюся в сосуде после введения в него дополнительной порции газа, запишем уравнение конечного состояния газа:

$(p_0 + \Delta p) V = \frac{m_0 + m}{M} RT_1$. Поскольку сосуд теплоизолирован и газ работу не совершает, из первого закона термодинамики следует соотношение:

$\frac{3}{2} \frac{m_0}{M} RT_0 + \frac{3}{2} \frac{m}{M} RT = \frac{3}{2} \frac{m_0 + m}{M} RT_1$, откуда $T_1 = \frac{m_0 T_0 + m T}{m_0 + m}$.

Объединяя записанные выражения, получаем: $\Delta p = \frac{m}{M} \cdot \frac{RT}{V} = 1,66 \cdot 10^3 \text{ Па}$.

$$\text{О т в е т. } \Delta p = 1,66 \cdot 10^3 \text{ Па.}$$

2.2.17. В вертикально расположенном цилиндрическом сосуде, площадь сечения которого $S = 23 \text{ см}^2$, под поршнем весом $P = 10 \text{ Н}$ находится идеальный одноатомный газ. Расстояние между дном сосуда и поршнем $h = 30 \text{ см}$.

На внутренней стенке сосуда имеется стопорное кольцо, не позволяющее расстоянию между дном сосуда и поршнем превысить величину $H = 50$ см. Какое количество теплоты Q нужно сообщить газу, чтобы его давление увеличилось в $\alpha = 1,5$ раза? Атмосферное давление $p_0 = 100$ кПа.

Решение. До тех пор, пока поршень не достигнет стопорного кольца, расширение газа при нагревании будет происходить при постоянном давлении

$p_1 = p_0 + \frac{P}{S}$. Записывая уравнения состояния газа в начальный момент

и в момент, когда поршень достигает стопорного кольца, имеем: $p_1 h S = \nu R T_1$,

$p_1 H S = \nu R T_2$. Отсюда изменение температуры в этом процессе:

$\Delta T_{12} = \frac{1}{\nu R} \left(p_0 + \frac{P}{S} \right) (H - h) S$. Количество теплоты, полученное газом в этом

процессе: $\Delta Q_{12} = \frac{5}{2} \left(p_0 + \frac{P}{S} \right) (H - h) S$. При дальнейшем нагревании объем

газа не меняется. В конечном состоянии газа его давление $p_3 = \alpha p_1$.

Из уравнения этого состояния $p_3 H S = \nu R T_3$ находим температуру

$T_3 = \frac{\alpha}{\nu R} \left(p_0 + \frac{P}{S} \right) H S$. Количество теплоты, полученное газом в этом процес-

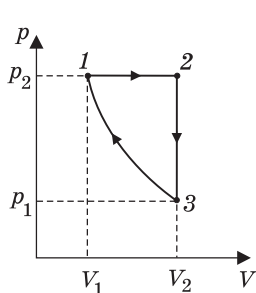
се, $\Delta Q_{23} = \frac{3}{2} \nu R (T_3 - T_2) = \frac{3}{2} \left(p_0 + \frac{P}{S} \right) (\alpha - 1) H S$. Учитывая, что $Q = \Delta Q_{12} + \Delta Q_{23}$,

получаем: $Q = \frac{(p_0 S + P)}{2} \cdot [(3\alpha + 2)H - 5h] = 210$ Дж.

О т в е т. $Q = 210$ Дж.

2.2.18. С идеальным одноатомным газом совершается циклический процесс. Из начального состояния $p_2 = 1,6$ МПа и $V_1 = 2$ л газ расширяется при постоянном давлении до объема $V_2 = 16$ л. Затем при постоянном объеме V_2 давление газа уменьшается до такой величины $p_1 = 50$ кПа, что из состояния p_1, V_2 газ приводится в начальное состояние адиабатическим сжатием. Найти работу A , совершенную газом за цикл.

Решение. pV -диаграмма рассматриваемого процесса изображена на рисунке. На участке $1-2$ газ совершает работу $A_{12} = p_2(V_2 - V_1)$. На участке $2-3$ работа газа $A_{23} = 0$. Для вычисления работы, совершенной над газом при адиабатическом сжатии на участке $3-1$, воспользуемся соотношени-



ем $A_{31} = -\Delta U_{31} = -\frac{3}{2} \nu R (T_1 - T_3)$, где U — внутренняя

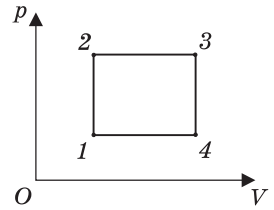
энергия газа, ν — количество молей газа. Привлекая уравнение Менделеева—Клапейрона, находим, что

$A_{31} = \frac{3}{2} (p_1 V_2 - p_2 V_1)$. Поскольку $A = A_{12} + A_{23} + A_{31}$, то

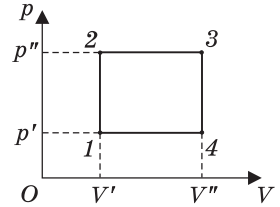
$A = p_2 V_2 + \frac{3}{2} p_1 V_2 - \frac{5}{2} p_2 V_1 = 18,8$ кДж.

О т в е т. $A = 18,8$ кДж.

2.2.19. С одним моле идеального газа проводят циклический процесс, состоящий из двух изохор и двух изобар. Найти работу A , совершаемую газом за цикл, если известно, что в состоянии 1 температура $T_1 = 300$ К, а в состояниях 2 и 4 температура одинакова и равна $T = 320$ К. Универсальная газовая постоянная $R = 8,3$ Дж/(моль · К).



Решение. Работа газа в циклическом процессе численно равна площади, ограниченной графиком процесса на pV -диаграмме. Вводя для давлений и объемов газа в характерных точках цикла обозначения, приведенные на рисунке, имеем $A = (p'' - p') \cdot (V'' - V')$.



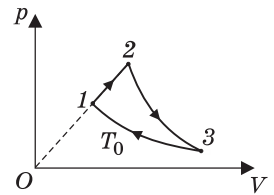
Используя для газа в состояниях 1, 2, 3, 4 уравнение Менделеева—Клапейрона и учитывая, что количество газа $\nu = 1$ моль, можно переписать выражение для работы газа в виде $A = \nu R(T_3 - T_4 - T_2 + T_1) = \nu R(T_3 - 2T + T_1)$, где T_i — температура газа в состоянии i ($i = 1, 2, 3, 4$), причем по условию $T_2 = T_4 = T$. Поскольку процессы 1—2 и 3—4 проводятся при постоянных объемах, то $\frac{p'}{T_1} = \frac{p''}{T_2}$, $\frac{p'}{T_4} = \frac{p''}{T_3}$, откуда следует, что $T_3 = T^2 / T_1$. Используя последнее вы-

ражение, получаем: $A = \frac{\nu R}{T_1}(T - T_1)^2 \approx 11,07$ Дж.

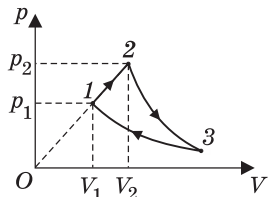
О т в е т. $A \approx 11,07$ Дж.

2.2.20. С одним моле идеального одноатомного газа проводят цикл, показанный на рисунке. На участке 1—2 объем газа увеличивается в $m = 2$ раза. Процесс 2—3 — адиабатическое расширение, процесс 3—1 — изотермическое сжатие при температуре $T_0 = 300$ К. Найти работу A газа на участке 2—3. Универсальная газовая постоянная $R = 8,3$ Дж/(моль · К).

газа увеличиваются



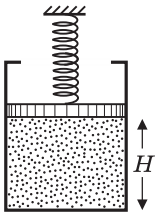
Решение. На рисунке изображена pV -диаграмма рассматриваемого процесса. Для вычисления работы, совершенной газом при адиабатическом расширении на участке 2—3, воспользуемся соотношением



$A_{23} = -\Delta U_{23} = \frac{3}{2}\nu R(T_2 - T_0)$, где U — внутренняя энергия газа; ν — количество молей газа. Обозначив через p_1, V_1 и p_2, V_2 давления и объемы газа в точках 1 и 2 соответственно, запишем уравнения состояния газа в этих точках: $p_1 V_1 = \nu R T_0$, $p_2 V_2 = \nu R T_2$. Поскольку $p_2 = m p_1$, $V_2 = m V_1$, из этих уравнений следует, что $T_2 = m^2 T_0$.

О т в е т. $A = \frac{3}{2}\nu R(m^2 - 1)T_0 = 11,2$ кДж.

2.2.21. В вертикально расположенном цилиндрическом сосуде под поршнем весом $P = 20$ Н содержится идеальный одноатомный газ. Между поршнем и неподвижной опорой располагается пружина, жесткость которой $k = 200$ Н/м. Расстояние между поршнем и дном сосуда $H = 30$ см, при этом пружина не деформирована. Какое количество теплоты Q нужно сообщить газу, чтобы поршень переместился на расстояние $\Delta h = 10$ см? Атмосферное давление не учитывать.



Решение. При нагревании газ будет расширяться, совершая работу по подъему поршня и сжатию пружины:

$$A = P\Delta h + \frac{k\Delta h^2}{2}. \text{ Одновременно будет повышаться температура газа. Учитывая, что давления газа в начальном и конечном состоянии равны } p_1 = \frac{P}{S} \text{ и } p_2 = \frac{P}{S} + \frac{k\Delta h}{S} \text{ соответственно, из уравнений}$$

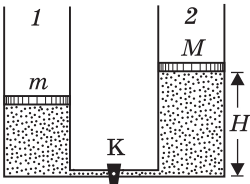
состояния газа имеем: $\frac{P}{S}HS = \nu RT_1$, $\left(\frac{P}{S} + \frac{k\Delta h}{S}\right)(H + \Delta h)S = \nu RT_2$, откуда

$$T_2 - T_1 = \frac{1}{\nu R}[(P + k\Delta h)(H + \Delta h) - PH]. \text{ Поскольку } Q = \frac{3}{2}\nu R(T_2 - T_1) + A, \text{ то}$$

$$Q = \frac{1}{2}(5P + 3kH + 4k\Delta h)\Delta h = 18 \text{ Дж.}$$

Ответ. $Q = 18$ Дж.

2.2.22. В цилиндрическом сосуде 1 под поршнем массой $m = 5$ кг находится одноатомный идеальный газ. Сосуд 1 соединен трубкой, снабженной краном, с таким же сосудом 2, в котором под поршнем массой $M = 10$ кг находится такой же газ. Сосуды и трубка теплоизолированы. В начальном состоянии кран К закрыт, температура газа в обоих сосудах одинакова, поршень в сосуде 2 расположен на высоте $H = 10$ см от дна. На какое расстояние Δh передвинется поршень в сосуде 1 после открывания крана? Объемом трубки с краном пренебречь, атмосферное давление не учитывать.



Решение. При закрытом кране внутренние энергии газов в сосудах 1 и 2 равны, соответственно: $U_1 = \frac{3}{2}\nu RT = \frac{3}{2}pV = \frac{3}{2} \cdot \frac{mg}{S}hS = \frac{3}{2}mgh$, $U_2 = \frac{3}{2}MgH$,

где h — первоначальная высота поршня в сосуде 1. После открывания крана более тяжелый поршень, находящийся в сосуде 2, опустится на дно, полностью вытеснив газ в сосуд 1. В результате этого поршень в сосуде 1 поднимется на высоту Δh и внутренняя энергия газа в этом сосуде станет равной

$$U = \frac{3}{2}mg(h + \Delta h). \text{ Таким образом, изменение внутренней энергии в системе}$$

$$\Delta U = U - (U_1 + U_2) = \frac{3}{2}(mg\Delta h - MgH). \text{ Работа, совершенная системой и над}$$

системой в сумме равна: $A = mg\Delta h - MgH$. Поскольку система теплоизо-

лирована, $\Delta U + A = 0$. Объединяя записанные выражения, получаем:

$$\Delta h = \frac{M}{m} H = 20 \text{ см.}$$

О т в е т. $\Delta h = 20 \text{ см.}$

2.2.23. Сосуд содержит $m = 1,28 \text{ г}$ гелия при температуре $t = 27^\circ \text{C}$. Во сколько раз β изменится среднеквадратичная скорость молекул гелия, если при его адиабатическом сжатии совершить работу $A = 252 \text{ Дж}$? Молярная масса гелия $M = 4 \text{ г/моль}$. Универсальная газовая постоянная $R = 8,3 \text{ Дж/(моль} \cdot \text{К)}$.

Р е ш е н и е. Среднеквадратичная скорость молекул газа определяется выражением $v_{\text{ср.кв}} = \sqrt{\frac{3kT}{m_0}}$, где k — постоянная Больцмана; T — абсолютная температура; m_0 — масса молекулы. Следовательно, искомое отношение равно $\beta = \sqrt{\frac{T_1}{T_0}}$, где T_1 — температура газа в конечном состоянии; $T_0 = t + 273^\circ \text{C}$ — его температура в начальном состоянии. При адиабатическом сжатии газа изменение его внутренней энергии $\Delta U = \frac{3}{2} \frac{m}{M} R(T_1 - T_0) = A$.

$$\text{Отсюда } T_1 = T_0 + \frac{2MA}{3mR}.$$

$$\text{О т в е т. } \beta = \sqrt{1 + \frac{2MA}{3mR(t+273^\circ \text{C})}} = 1,3.$$

2.2.24. В вертикально расположенном цилиндрическом сосуде с площадью сечения $S = 20 \text{ см}^2$ под поршнем массой $M = 4 \text{ кг}$ содержится идеальный одноатомный газ. Расстояние между поршнем и дном сосуда $h = 1 \text{ м}$. Газу сообщили количество теплоты $\Delta Q = 126 \text{ Дж}$. Во сколько раз α изменится среднеквадратичная скорость молекул газа? Атмосферное давление $p_0 = 100 \text{ кПа}$, ускорение свободного падения принять $g = 10 \text{ м/с}^2$.

Р е ш е н и е. Среднеквадратичная скорость молекул газа определяется выражением $v_{\text{ср.кв}} = \sqrt{\frac{3kT}{m_0}}$, где k — постоянная Больцмана, T — абсолютная температура, m_0 — масса молекулы. Следовательно, искомое отношение равно $\alpha = \sqrt{\frac{T_2}{T_1}}$, где T_2 и T_1 — температуры газа в конечном и начальном состояниях. Из уравнения начального состояния газа $\left(p_0 + \frac{Mg}{S}\right)hS = \nu RT_1$ находим число молей газа $\nu = \frac{(p_0 S + Mg)h}{RT_1}$. При нагреве газ совершает изобарное расширение, поэтому $\Delta Q = \frac{5}{2} \nu R(T_2 - T_1)$. Подставляя сюда найденное выше ν , приходим к соотношению: $\Delta Q = \frac{5}{2} (p_0 S + Mg)h \left(\frac{T_2}{T_1} - 1\right)$.

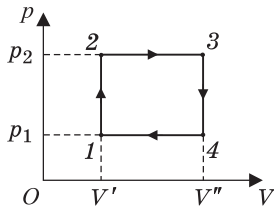
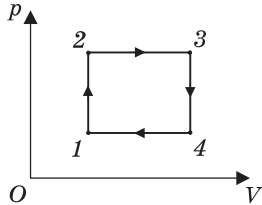
$$\text{О т в е т. } \alpha = \sqrt{1 + \frac{2\Delta Q}{5(p_0 S + Mg)h}} = 1,1.$$

2.2.25. Идеальная тепловая машина имеет температуру нагревателя $T_1 = 400$ К, а температуру холодильника $T_2 = 300$ К. Какую мощность N развивает эта машина, если расход топлива составляет $\mu = 10^{-3}$ кг/с, а его удельная теплота сгорания $q = 4 \cdot 10^7$ Дж/кг?

Решение. Работа, совершенная тепловым двигателем за некоторое время t , равна $A = Nt = \eta Q$, где η — коэффициент полезного действия (КПД) двигателя; $Q = \mu q t$ — количество теплоты, полученное при сгорании топлива за это время. Отсюда $N = \mu q \eta$. Учитывая, что КПД идеального теплового двигателя $\eta = \frac{T_1 - T_2}{T_1}$, получаем: $N = \mu q \cdot \frac{T_1 - T_2}{T_1} = 10$ кВт.

Ответ. $N = 10$ кВт.

2.2.26. С идеальным одноатомным газом проводят циклический процесс, состоящий из двух изохор и двух изобар. Найти коэффициент полезного действия цикла η , если температура в состоянии 1 равна $T_1 = 256$ К, в состоянии 3 равна $T_3 = 325$ К, а в состояниях 2 и 4 температура одинакова.



Решение. Работа газа в циклическом процессе равна (см. обозначения, приведенные на рисунке): $A = (p_2 - p_1)(V'' - V')$. Обозначив через T температуру газа в точках 2 и 4 и используя уравнение Менделеева—Клапейрона, преобразуем это выражение к виду: $A = R(T_3 - 2T + T_1)$. Поскольку отношения давлений в точках 1, 2 и 3, 4 одинаковы и процессы 1—2 и 3—4 проводятся при постоянных объемах, для температур в этих точках справедливо равенство: $\frac{T_3}{T} = \frac{T}{T_1}$. Отсюда $T = \sqrt{T_1 T_3}$. Простой анализ показывает, что приращения теплоты в данном циклическом процессе положительны на участках 1—2 и 2—3. Поэтому количество теплоты, полученное

газом в цикле, равно $Q_{\text{пол}} = Q_{12} + Q_{23} = \frac{3}{2}R(T - T_1) + \frac{5}{2}R(T_3 - T)$. Учитывая,

что КПД цикла $\eta = A / Q_{\text{пол}}$, после несложных преобразований получаем:

$$\eta = \frac{2(\sqrt{T_3} - \sqrt{T_1})^2}{5T_3 - 3T_1 - 2\sqrt{T_1 T_3}} \approx 10,4\%.$$

Ответ. $\eta \approx 10,4\%$.

Дополнительные задачи

2.2.27. Два одинаковых теплоизолированных сосуда, содержащих одинаковое количество атомов гелия, соединены трубкой с краном. В первом сосуде среднеквадратичная скорость атомов равна $v_1 = 500$ м/с, во втором $v_2 = 1000$ м/с. Какова будет среднеквадратичная скорость v_3 атомов гелия, если открыть кран и сделать сосуды сообщающимися?

Решение. Внутренняя энергия гелия, который является одноатомным газом, до открывания крана равна: $U_0 = N \frac{m_0 v_1^2}{2} + N \frac{m_0 v_2^2}{2}$, где N — число атомов гелия в каждом из сосудов, m_0 — масса атома гелия. После открывания крана в сосудах устанавливается тепловое равновесие, в результате чего средняя кинетическая энергия молекул становится одинаковой. Так как сосуды теплоизолированы и гелий при перемешивании не совершает работу, полная внутренняя энергия гелия не изменяется. Следовательно, $U_1 = 2N \frac{m_0 v_3^2}{2} = U_0$. Объединяя записанные равенства, по-

$$\text{лучаем: } v_3 = \sqrt{\frac{v_1^2 + v_2^2}{2}} \approx 790,6 \text{ м/с.}$$

Ответ. $v_3 \approx 790,6$ м/с.

2.2.28. Два теплоизолированных сосуда объемом $V = 40$ л каждый содержат идеальные одноатомные газы. Масса газа в первом сосуде $m_1 = 20$ г, его молярная масса $M_1 = 4$ г/моль, температура $T_1 = 300$ К. Масса газа во втором сосуде $m_2 = 20$ г, его молярная масса $M_2 = 20$ г/моль, температура $T_2 = 400$ К. Сосуды соединяют тонкой трубкой, объемом которой можно пренебречь. Какое давление p установится в сосудах после достижения теплового равновесия? Универсальная газовая постоянная $R = 8,3$ Дж/(моль · К).

Решение. Поскольку система теплоизолирована и газы работу не совершают, внутренняя энергия в системе остается постоянной. Обозначив через T температуру газов после установления теплового равновесия, имеем:

$$\frac{3}{2} \frac{m_1}{M_1} RT_1 + \frac{3}{2} \frac{m_2}{M_2} RT_2 = \frac{3}{2} \left(\frac{m_1}{M_1} + \frac{m_2}{M_2} \right) RT, \text{ откуда } T = \frac{m_1 M_2 T_1 + m_2 M_1 T_2}{m_1 M_2 + m_2 M_1}.$$

Парциальные давления газов в конечном состоянии: $p_1 = \frac{m_1 RT}{2VM_1}$, $p_2 = \frac{m_2 RT}{2VM_2}$.

По закону Дальтона $p = p_1 + p_2$.

$$\text{Ответ. } p = \frac{R}{2V} \cdot \frac{m_1 M_2 T_1 + m_2 M_1 T_2}{M_1 M_2} \approx 1,97 \cdot 10^5 \text{ Па.}$$

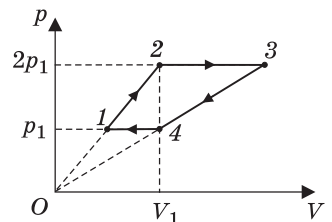
2.2.29. Над идеальным одноатомным газом проводят процесс, изображенный на рисунке. Найти работу A , совершаемую газом в этом процессе, если на участке 2—3 газ получает количество теплоты $Q_{23} = 200$ Дж. Объем газа в точках 2 и 4 один и тот же, давление газа в точке 2 в два раза больше давления газа в точке 1.

Решение. Работа газа численно равна площади фигуры, которую ограничивает график процесса на плоскости переменных p и V (в данной задаче площади трапеции):

$$A = (p_2 - p_1) \cdot \frac{V_4 - V_1 + V_3 - V_2}{2} = p_1 \frac{V_3 - V_1}{2}.$$

Полученное газом количество теплоты

$$Q_{23} = \frac{5}{2} \nu R (T_3 - T_2) = \frac{5}{2} p_2 (V_3 - V_2) = 5 p_1 (V_3 - V_2).$$



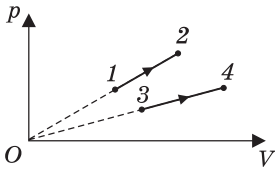
Из уравнений процессов 1—2 и 4—3 следует, что $\frac{V_2}{V_1} = \frac{p_2}{p_1} = 2$, $\frac{V_3}{V_4} = \frac{p_2}{p_1} = 2$.

Отсюда $V_2 = 2V_1$, $V_3 = 4V_1$. Используя эти соотношения, преобразуем выражения для работы газа и полученного им количества теплоты к виду:

$$A = \frac{3}{2} p_1 V_1, \quad Q_{23} = 10 p_1 V_1, \quad \text{из которого легко получить: } A = \frac{3}{20} Q_{23} = 30 \text{ Дж.}$$

Ответ. $A = 30$ Дж.

2.2.30. На рисунке изображены pV -диаграммы двух процессов, проводимых над одним и тем же идеальным одноатомным газом. Масса газа, участвующего в процессе 1—2, в $k = 2$ раза больше, чем масса газа, с которым проводится процесс 3—4. Температура в точке 1 равна температуре в точке 3, а температура в точке 2 равна температуре в точке 4. Найти отношение n количеств теплоты, получаемых газом в процессах 1—2 и 3—4.



Решение. Рассмотрим вначале процесс 1—2. Изменение внутренней энергии газа и работа, совершенная газом в этом процессе, соответственно равны:

$$\Delta U_{12} = \frac{3}{2} \nu_1 R(T_2 - T_1), \quad A_{12} = \frac{p_1 + p_2}{2} (V_2 - V_1).$$

Здесь ν_1 — число молей газа, участвующего в процессе 1—2; p_i , V_i , T_i — давление, объем и температура газа в точке i ($i = 1, 2$). Поскольку точки 1 и 2 лежат на прямой, проходящей через начало координат, справедливо равенство: $\frac{p_1}{V_1} = \frac{p_2}{V_2}$. Ис-

пользуя это равенство, а также уравнения состояния газа в точках 1 и 2: $p_1 V_1 = \nu_1 R T_1$, $p_2 V_2 = \nu_1 R T_2$, выражение для работы газа легко преобразовать

к виду: $A_{12} = \frac{1}{2} \nu_1 R(T_2 - T_1)$. Из первого закона термодинамики следует,

что количество теплоты, полученное газом в процессе 1—2, равно $Q_{12} = \Delta U_{12} + A_{12} = 2\nu_1 R(T_2 - T_1)$. Рассуждая аналогично, находим количество теплоты, полученное газом в процессе 3—4: $Q_{34} = 2\nu_2 R(T_4 - T_3)$, где ν_2 — количество газа, участвующего в этом процессе. Поскольку по условию задачи $T_3 = T_1$, $T_4 = T_2$, выражение для Q_{34} преобразуется к виду: $Q_{34} = 2\nu_2 R(T_2 - T_1)$.

$$\text{Следовательно, } n = \frac{Q_{12}}{Q_{34}} = \frac{\nu_1}{\nu_2} = \frac{m_1}{m_2} = k.$$

Ответ. $n = k = 2$.

2.2.31. Когда легковой автомобиль едет с постоянной скоростью по горизонтальному шоссе, расход бензина составляет $\mu_1 = 7$ л/100 км. Каков будет расход бензина μ_2 , если этот автомобиль поедет с той же скоростью вверх по наклонному участку шоссе, образующему угол $\alpha = 0,01$ рад с горизонтом? Качество дорожного покрытия на горизонтальном и наклонном участках шоссе одинаково. Масса автомобиля $M = 1000$ кг, коэффициент

полезного действия двигателя $\eta = 30\%$, удельная теплота сгорания бензина $q = 42$ МДж/кг, плотность бензина $\rho = 0,7$ кг/л. Ускорение свободного падения принять $g = 10$ м/с². При расчетах положить $\sin \alpha \approx \alpha$.

Решение. Пусть F — модуль результирующей всех сил сопротивления движению автомобиля. При перемещении автомобиля на расстояние l работа, совершенная двигателем, равна произведению количества теплоты, выделившейся при сгорании топлива, на КПД двигателя: $A = \mu \rho q \frac{\eta}{100\%}$.

На горизонтальном участке шоссе длиной l эта работа равна по величине работе сил сопротивления $A_c = Fl$, т. е. $A_1 = \mu_1 \rho q \frac{\eta}{100\%} l = Fl$. На наклонном

участке шоссе той же длины работа двигателя равна сумме величины работы сил сопротивления $A_c = Fl$ и приращения потенциальной энергии автомобиля в поле силы тяготения $\Delta E_{\text{п}} = Mgl \sin \alpha$. С учетом малости угла наклона

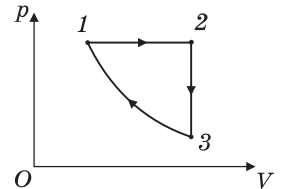
на шоссе к горизонту имеем: $A_2 = \mu_2 \rho q \frac{\eta}{100\%} l = Fl + Mgl \alpha$. Объединяя эти

равенства, находим: $\mu_2 = \mu_1 + \frac{M \alpha g \cdot 100\%}{\rho q \eta} \approx 8,13$ л/100 км.

Ответ. $\mu_2 = 8,13$ л/100 км.

Замечание. При подстановке числовых данных из условия задачи получаем, что последнее слагаемое в ответе имеет размерность л/м. Чтобы преобразовать его к требуемой размерности (л/100 км), нужно умножить его на 10^5 .

2.2.32. В тепловом двигателе, рабочим телом которого является один моль идеального одноатомного газа, совершается циклический процесс, изображенный на рисунке, где участок $3-1$ — адиабатическое сжатие. Работа газа за один цикл составляет $A = 625$ Дж, температура газа в состоянии 1 равна $T_1 = 300$ К, а коэффициент полезного действия двигателя $\eta = 30\%$. Найти температуру T_2 в состоянии 2 . Универсальную газовую постоянную принять равной $R = 8,3$ Дж/(моль · К).



Решение. Газ получает теплоту от нагревателя

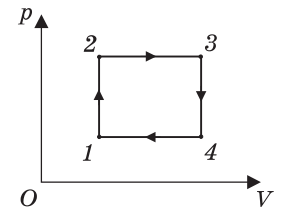
на участке $1-2$. Количество теплоты, полученной газом, $Q_{1-2} = \frac{5}{2} \nu R(T_2 - T_1)$.

КПД двигателя по определению равен $\eta = \frac{A}{Q_{1-2}}$. Объединяя записанные вы-

ражения, получаем: $T_2 = T_1 + \frac{2A}{5\nu R \eta} \cdot 100\% \approx 400$ К.

Ответ. $T_2 \approx 400$ К.

2.2.33. В тепловом двигателе, рабочим телом которого является идеальный одноатомный газ, совершается циклический процесс, изображенный на рисунке. Отношение максимальной температуры газа



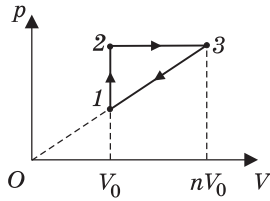
к минимальной в этом цикле равно $n = 4$, температуры в точках 2 и 4 совпадают. Найти коэффициент полезного действия двигателя η .

Решение. Работа газа за цикл равна площади прямоугольника $1-2-3-4$, т. е. $A = (p_2 - p_1)(V_3 - V_1) = \nu R(T_3 - 2T + T_1)$, где ν — число молей газа; $T = T_2 = T_4$. Поскольку газ получает теплоту на участках $1-2$ и $2-3$, полное количество теплоты, полученное газом за цикл, равно $Q_{\text{п}} = \frac{3}{2}\nu R(T - T_1) + \frac{5}{2}\nu R(T_3 - T)$. Следовательно, $\eta = \frac{A}{Q_{\text{п}}} = \frac{2(T_3 - 2T + T_1)}{5T_3 - 2T - 3T_1}$.

Из уравнений изохорных процессов $1-2$ и $4-3$ с учетом того, что точки 2, 3 и 1, 4 лежат на изобарах, вытекает, что $\frac{T_2}{T_1} = \frac{T_3}{T_4}$. Отсюда $T = \sqrt{T_1 T_3}$. По условию задачи, $\frac{T_3}{T_1} = n$.

$$\text{Ответ. } \eta = \frac{2(n - 2\sqrt{n} + 1)}{5n - 2\sqrt{n} - 3} = \frac{2}{13} \approx 15,4\%.$$

2.2.34. В тепловом двигателе, рабочим телом которого является идеальный одноатомный газ, совершается циклический процесс, изображенный на рисунке. Отношение максимального объема газа к минимальному в этом цикле равно $n = 3$. Найти коэффициент полезного действия двигателя η .



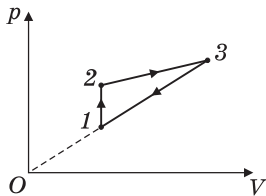
Решение. Работа газа в циклическом процессе равна $A = \frac{1}{2}(p_2 - p_1)(nV_0 - V_0) = \frac{1}{2}(n - 1)^2 p_1 V_0$. Газ получает теплоту на участках $1-2$ и $2-3$, поэтому полное количество теплоты, полученное газом

за цикл, равно $Q_{\text{п}} = \frac{3}{2}\nu R(T_2 - T_1) + \frac{5}{2}\nu R(T_3 - T_2)$, где ν — число молей газа.

Используя уравнение состояния газа, это выражение можно преобразовать к виду $Q_{\text{п}} = \frac{1}{2}p_1 V_0 (n - 1)(3 + 5n)$.

$$\text{Ответ. } \eta = \frac{A}{Q_{\text{п}}} = \frac{n - 1}{3 + 5n} = \frac{1}{9} \approx 11,1\%.$$

2.2.35. В тепловом двигателе, рабочим телом которого является один моль идеального одноатомного газа, совершается циклический процесс, изображенный на рисунке, где $1-2$ — изохорный процесс. Работа газа за один цикл составляет $A = 40$ Дж, температуры газа в состояниях 1 и 3 равны $T_1 = 300$ К и $T_3 = 330$ К соответственно. Найти коэффициент полезного действия цикла η . Универсальную газовую постоянную принять равной $R = 8,3$ Дж/(моль · К).



Решение. Работа газа в циклическом процессе равна алгебраической сумме количеств теплоты, которыми газ обменивается с нагревателем и холодильником: $A = Q_{1-2} + Q_{2-3} + Q_{3-1}$. Полученное газом количество теплоты $Q = Q_{1-2} + Q_{2-3}$. Следовательно, КПД

двигателя $\eta = \frac{A}{A - Q_{3-1}}$, причем $Q_{3-1} < 0$. По перво-

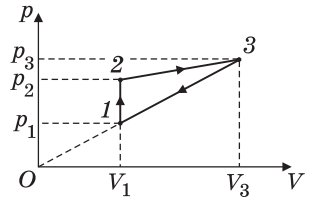
му закону термодинамики $Q_{3-1} = \frac{3}{2}\nu R(T_1 - T_3) + A_{3-1}$,

где $A_{3-1} = \frac{1}{2}(p_1 + p_3)(V_1 - V_3)$ — работа газа на участ-
ке 3—1. Поскольку продолжение прямой 1—3 про-

ходит через начало координат, справедливо равенство: $\frac{p_1}{V_1} = \frac{p_3}{V_3}$, с учетом

которого выражение для A_{3-1} преобразуется к виду: $A_{3-1} = \frac{1}{2}(p_1 V_1 - p_3 V_3)$.

Используя уравнения состояния $p_1 V_1 = \nu R T_1$, $p_3 V_3 = \nu R T_3$, находим, что $A_{3-1} = \frac{1}{2}\nu R(T_1 - T_3)$. Следовательно: $Q_{3-1} = 2\nu R(T_1 - T_3)$.



Отв е т. $\eta = \frac{A}{A + 2\nu R(T_3 - T_1)} \cdot 100\% \approx 7,4\%$.

2.2.36. В тепловом двигателе, рабочим телом которого является идеаль-
ный одноатомный газ, совершается циклический процесс, изображенный
на рисунке. Максимальный объем газа в этом процессе в $n = 3$ раза больше
минимального объема. Найдите коэффициент полез-
ного действия двигателя η .

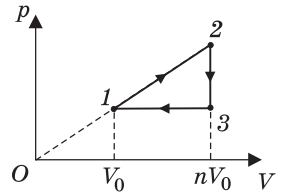
Р е ш е н и е. Работа газа в циклическом про-
цессе численно равна площади фигуры, ограни-
ченной графиком процесса на pV -диаграмме:

$$A = \frac{1}{2}(np_1 - p_1)(nV_1 - V_1) = \frac{1}{2}(n - 1)^2 p_1 V_1, \text{ где } p_1 \text{ и } V_1 \text{ —}$$

давление и объем газа в точке 1. Количество теплоты,

полученной газом в данном процессе, $Q_{1-2} = \frac{3}{2}\nu R(T_2 - T_1) + \frac{1}{2}(p_1 + np_1)(nV_1 - V_1)$.

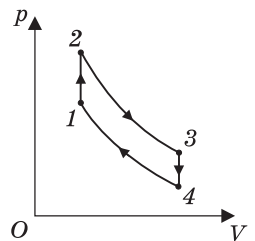
Поскольку $\nu R T_1 = p_1 V_1$ и $\nu R T_2 = n^2 p_1 V_1$, то $Q_{1-2} = 2p_1 V_1(n^2 - 1)$.



Отв е т. $\eta = \frac{A}{Q_{1-2}} = \frac{n - 1}{4(n + 1)} = 12,5\%$.

2.2.37. В тепловом двигателе, рабочим телом которого является идеаль-
ный одноатомный газ, совершается циклический процесс, изображенный
на рисунке, где участок 2—3 — адиабатическое расши-
рение, а участок 4—1 — адиабатическое сжатие. Найти
коэффициент полезного действия двигателя η , если из-
вестно, что температура газа при адиабатическом рас-
ширении уменьшается в n раз, а при адиабатическом
сжатии увеличивается в n раз, где $n = 1,5$.

Р е ш е н и е. Работа газа за цикл равна алгебраиче-
ской сумме количеств теплоты, которыми газ обме-
нивается с окружающими телами: $A = Q_{1-2} + Q_{3-4} =$



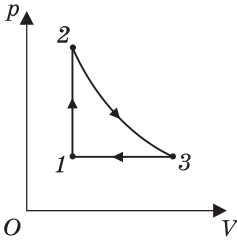
$$= \frac{3}{2} \nu R (T_2 - T_1 + T_4 - T_3). \text{ Количество теплоты, полученное газом, } Q_{1-2} =$$

$$= \frac{3}{2} \nu R (T_2 - T_1). \text{ Следовательно, КПД цикла } \eta = \frac{A}{Q_{1-2}} = 1 - \frac{T_3 - T_4}{T_2 - T_1}. \text{ По усло-$$

вию задачи $T_2 = nT_3$, $T_1 = nT_4$.

$$\text{О т в е т. } \eta = \frac{n-1}{n} \approx 33,3\%.$$

2.2.38. В тепловом двигателе, рабочим телом которого является один моль идеального одноатомного газа, совершается циклический процесс, изображенный на рисунке, где участок 2—3 — изотермическое расширение. Найти работу газа на участке 2—3, если коэффициент полезного действия двигателя $\eta = 20\%$, а разность между максимальной и минимальной температурами газа $\Delta T = 100$ К.



Решение. Работа газа за цикл равна алгебраической сумме количеств теплоты, которыми газ обменивается с окружающими телами: $A = Q_{1-2} + Q_{2-3} + Q_{3-1}$. Количество теплоты, полученное газом, $Q_{\text{п}} = Q_{1-2} + Q_{2-3}$.

Следовательно, КПД рассматриваемого цикла равен $\eta = \frac{A}{Q_{\text{п}}} = \frac{Q_{1-2} + Q_{2-3} + Q_{3-1}}{Q_{1-2} + Q_{2-3}}$.

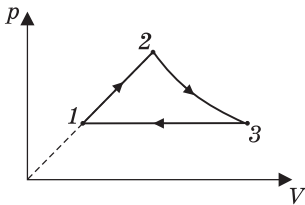
По условию задачи $T_2 = T_3 = T_{\text{max}}$. Поэтому $Q_{1-2} = \frac{3}{2} \nu R (T_{\text{max}} - T_1) = \frac{3}{2} \nu R \Delta T$,

$$Q_{1-2} + Q_{3-1} = \frac{3}{2} \nu R \Delta T - \frac{5}{2} \nu R \Delta T = -\nu R \Delta T. \text{ Таким образом, } \eta = \frac{Q_{2-3} - \nu R \Delta T}{Q_{2-3} + \frac{3}{2} \nu R \Delta T}.$$

Отсюда $Q_{2-3} = \frac{3\eta + 2}{2(1 - \eta)} \nu R \Delta T$. В изотермическом процессе количество теплоты, полученное от термостата, равно работе газа: $Q_{2-3} = A_{2-3}$.

$$\text{О т в е т. } A_{2-3} = \frac{3\eta / 100\% + 2}{2(1 - \eta / 100\%)} \nu R \Delta T \approx 1,35 \text{ кДж.}$$

2.2.39. В тепловом двигателе, рабочим телом которого является идеальный одноатомный газ, совершается циклический процесс, изображенный на рисунке. На участке 1—2 давление газа изменяется пропорционально его объему. Участок 2—3 — адиабатическое расширение, участок 3—1 — изобарное сжатие. Чему равен коэффициент полезного действия двигателя η , если в процессе 1—2 давление газа увеличивается в $n = 2$ раза, а в процессе 3—1 объем газа уменьшается в $m = 3$ раза?



Решение. В циклическом процессе работа газа равна алгебраической сумме количеств теплоты, которыми газ обменивается с окружающими телами: $A = Q_{1-2} + Q_{3-1}$. Газ получает теплоту на участке 1—2. Следовательно,

КПД цикла $\eta = \frac{A}{Q_{1-2}} = 1 + \frac{Q_{3-1}}{Q_{1-2}} = 1 - \frac{|Q_{3-1}|}{Q_{1-2}}$. Согласно первому закону термодинамики, $Q_{1-2} = \frac{3}{2} \nu R(T_2 - T_1) + \frac{1}{2}(p_1 + p_2)(V_2 - V_1)$, где ν — количество газа;

R — универсальная газовая постоянная. Учитывая, что $\frac{p_2}{p_1} = \frac{V_2}{V_1} = n$, и используя уравнение состояния газа, выражаем полученное газом количество теплоты в виде: $Q_{1-2} = 2\nu R(T_2 - T_1) = 2\nu RT_1(n^2 - 1)$. Кроме того, по условию $\frac{V_3}{V_1} = \frac{T_3}{T_1} = m$. Следовательно, $|Q_{3-1}| = \frac{5}{2} \nu R(T_3 - T_1) = \frac{5}{2} \nu RT_1(m - 1)$.

$$\text{О т в е т. } \eta = 1 - \frac{5(m-1)}{4(n^2-1)} = \frac{1}{6} \approx 16,7\%.$$

2.2.40. Тепловая машина с максимально возможным КПД имеет в качестве нагревателя резервуар с кипящей водой при $t_1 = 100$ °С, а в качестве холодильника — сосуд со льдом при $t_2 = 0$ °С. Какая масса m льда растает при совершении машиной работы $A = 10$ Дж? Удельная теплота плавления льда $\lambda = 334$ Дж/г.

Решение. Максимально возможный КПД достигается, если тепловая машина работает по циклу Карно, и равен: $\eta = \frac{T_1 - T_2}{T_2}$, где $T_1 = t_1 + 273$ °С, $T_2 = t_2 + 273$ °С — абсолютные температуры нагревателя и холодильника.

С другой стороны, по определению КПД $\eta = \frac{A}{Q_{\text{пол}}}$, где $A = Q_{\text{пол}} - |Q_{\text{отд}}|$ — работа газа за цикл; $Q_{\text{пол}}$ — количество теплоты, полученное за цикл от нагревателя; $Q_{\text{отд}}$ — количество теплоты, отданное за цикл холодильнику. Из равенства $\frac{T_1 - T_2}{T_1} = \frac{Q_{\text{пол}} - |Q_{\text{отд}}|}{Q_{\text{пол}}}$ находим, что $|Q_{\text{отд}}| = Q_{\text{пол}} \cdot \frac{T_2}{T_1} = \frac{A}{\eta} \cdot \frac{T_2}{T_1}$. Отданная

холодильнику теплота расходуется на таяние льда при температуре плавления. Следовательно, $|Q_{\text{отд}}| = m\lambda$. Объединяя записанные выражения, получаем: $m = \frac{(t_2 + 273 \text{ °С})}{\lambda(t_1 - t_2)} A \approx 0,11$ г.

$$\text{О т в е т. } m \approx 0,11 \text{ г.}$$

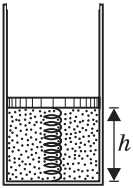
2.2.41. Температура нагревателя идеальной тепловой машины $T_1 = 400$ К, температура холодильника $T_2 = 300$ К, количество теплоты, получаемое от нагревателя за цикл $Q = 400$ Дж, число циклов в секунду $n = 2$. С какой скоростью v будет перемещаться по горизонтальной дороге тележка, приводимая в движение такой машиной, если сила сопротивления $F = 100$ Н? Скорость тележки считать постоянной.

Решение. По определению КПД теплового двигателя $\eta = \frac{A}{Q}$, где A — работа газа за цикл; Q — количество теплоты, полученное за цикл от нагре-

вателя. Учитывая, что КПД идеальной тепловой машины $\eta = \frac{T_1 - T_2}{T_2}$, найдем $A = Q \frac{T_1 - T_2}{T_1}$. Мощность $N = nA$, развиваемая двигателем, расходуется на преодоление силы сопротивления при движении тележки: $N = Fv$. Объединяя записанные выражения, получаем: $v = \frac{nQ(T_1 - T_2)}{FT_1} = 2 \text{ м/с}$.

О т в е т. $v = 2 \text{ м/с}$.

2.2.42. Невесомый поршень соединен с дном цилиндрического сосуда пружиной жесткостью $k = 100 \text{ Н/м}$. В сосуде под поршнем находится идеальный одноатомный газ. В начальном состоянии расстояние между поршнем и дном сосуда составляет $h = 0,2 \text{ м}$. Найти количество теплоты ΔQ , которое нужно сообщить газу, чтобы расстояние между поршнем и дном сосуда удвоилось. Считать, что пружина не деформирована при $h = 0$. Атмосферное давление не учитывать.



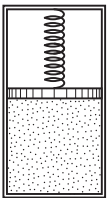
Р е ш е н и е. В соответствии с первым законом термодинамики $\Delta Q = \Delta U + A$, где $\Delta U = \frac{3}{2}\nu R(T - T_0)$ — изменение внутренней энергии газа;

$A = \frac{k}{2}(4h^2 - h^2)$ — работа газа, равная изменению потенциальной энергии упругой деформации пружины. Из уравнения Менделеева—Клапейрона, записанного для начального и конечного состояний газа, находим, что $p_0 V_0 = \frac{kh}{S} h S = kh^2 = \nu R T_0$, $pV = \frac{k2h}{S} 2h S = 4kh^2 = \nu R T$.

Следовательно, $\Delta U = \frac{9}{2}kh^2$. Учитывая, что $A = \frac{3}{2}kh^2$, получаем: $\Delta Q = 6kh^2 = 24 \text{ Дж}$.

О т в е т. $\Delta Q = 24 \text{ Дж}$.

2.2.43. В закрытом цилиндрическом сосуде под невесомым тонким поршнем находится один моль идеального одноатомного газа при температуре $T_0 = 300 \text{ К}$. В пространстве над поршнем создан вакуум. Поршень удерживается в равновесии пружиной, помещенной между поршнем и крышкой цилиндра. Пружина не деформирована, если поршень располагается у дна цилиндра. Какое количество теплоты Q нужно сообщить газу, чтобы его объем увеличился в $n = 1,5$ раза? Универсальная газовая постоянная $R = 8,3 \text{ Дж/(моль} \cdot \text{К)}$. Теплоемкостью сосуда, теплообменом с окружающей средой и трением пренебречь.



Р е ш е н и е. Пусть p_0, V_0 и T_0 — начальные, а p, V и T — конечные давление, объем и температура газа. По первому закону термодинамики, $Q = \Delta U + A$, где $\Delta U = \frac{3}{2}R(T - T_0)$ — изменение внутренней энергии; A — работа газа. Поскольку сжатие пружины x совпадает с высотой поршня над

дном сосуда, давление газа $p = kx / S$ пропорционально его объему, т. е. $p \sim V$ и $\frac{p}{V} = \frac{p_0}{V_0}$. При этом работа газа $A = \frac{1}{2}(p + p_0)(V - V_0) = \frac{1}{2}(pV - p_0V_0)$.

Из уравнения состояния газа имеем: $p_0V_0 = RT_0$, $pV = np_0nV_0 = RT$. Отсюда $T = n^2T_0$. Следовательно, $A = \frac{1}{2}p_0V_0(n^2 - 1) = \frac{1}{2}RT_0(n^2 - 1)$, $\Delta U = \frac{3}{2}RT_0(n^2 - 1)$.

О т в е т. $Q = 2RT_0(n^2 - 1) = 6225$ Дж.

2.2.44. В теплоизолированном цилиндрическом сосуде под поршнем массой m находится идеальный одноатомный газ. Расстояние между поршнем и дном сосуда равно x . На какое расстояние Δx опустится поршень, если сверху положить на него груз массой Δm ? Считать, что $\Delta m \ll m$, начальное и конечное положения поршня являются положениями равновесия, трение поршня о стенки сосуда пренебрежимо мало. Атмосферное давление не учитывать.

Р е ш е н и е. Поскольку газ теплоизолирован, из первого закона термодинамики следует, что $\Delta U = \Delta A$, где $\Delta U = \frac{3}{2}\nu R\Delta T$ — изменение внутренней энергии газа, $\Delta A = p\Delta V$ — работа, совершенная над газом. Для газа справедливо также уравнение состояния (уравнение Менделеева—Клапейрона): $pV = \nu RT$. Пусть p_0 , V_0 и T_0 — параметры начального состояния, а $p = p_0 + \Delta p$, $V = V_0 - \Delta V$ и $T = T_0 + \Delta T$ — параметры конечного состояния газа. Так как $\Delta m \ll m$, изменения параметров состояния газа также малы: $\Delta p \ll p_0$, $\Delta V \ll V_0$, $\Delta T \ll T_0$. С точностью до малых первого порядка из уравнения Менделеева—Клапейрона получаем $\nu R\Delta T \approx -p_0\Delta V + V_0\Delta p$. Кроме того, с той же точностью имеем $p\Delta V \approx p_0\Delta V$. Подставляя найденные выражения в равенство $\Delta U = \Delta A$, получаем, что $\frac{\Delta V}{V_0} = \frac{3}{5} \cdot \frac{\Delta p}{p_0}$. Поскольку $\frac{\Delta V}{V_0} = \frac{\Delta x}{x}$ и $\frac{\Delta p}{p_0} = \frac{\Delta m}{m}$, получаем: $\Delta x = \frac{3}{5}x \frac{\Delta m}{m}$.

О т в е т. $\Delta x = \frac{3}{5}x \frac{\Delta m}{m}$.

2.2.45. В теплоизолированном вертикальном цилиндре под тяжелым теплоизолирующим поршнем находится идеальный одноатомный газ. Расстояние между поршнем и дном сосуда H . Сверху на поршень медленно насыпали порцию песка, масса которой m значительно меньше массы поршня. На какую величину ΔU изменится в результате этого внутренняя энергия газа? Ускорение свободного падения g .

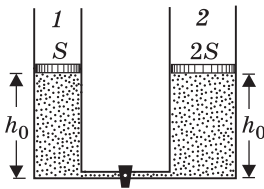
Р е ш е н и е. Изменение внутренней энергии идеального одноатомного газа равно $\Delta U = \frac{3}{2}\nu R\Delta T$, где ν — количество молей газа, R — универсальная газовая постоянная. Уравнения Менделеева—Клапейрона для начального и конечного состояний газа имеют вид: $pV = \nu RT$, $(p + \Delta p)(V - \Delta V) = \nu R(T + \Delta T)$. Здесь p , V и T — начальные давление, объем

и температура газа; Δp , ΔV и ΔT — их приращения. Пренебрегая произведением малых величин $\Delta p \Delta V$, из этих уравнений находим $\nu R \Delta T = V \Delta p - p \Delta V$. Поскольку газ теплоизолирован, из первого закона термодинамики следует, что $p \Delta V = \Delta U$. Условия равновесия поршня массой M в начальном и конечном состояниях имеют вид: $pS = Mg + p_0 S$, $(p + \Delta p)S = (M + m)g + p_0 S$, где S — площадь поршня, p_0 — атмосферное давление. Отсюда $\Delta p = \frac{mg}{S} = \frac{mgH}{V}$.

Объединяя записанные выражения, получаем: $\Delta U = \frac{3}{5} mgH$.

О т в е т. $\Delta U = \frac{3}{5} mgH$.

2.2.46. Два теплоизолированных цилиндра, соединенные тонкой трубкой с краном, содержат под теплоизолирующими поршнями идеальный одноатомный газ при одной и той же температуре. Когда кран закрыт, оба поршня находятся на высоте h_0 над основаниями цилиндров. Массы поршней одинаковы и равны M ; площадь сечения первого цилиндра S , второго $2S$. На каком расстоянии h от дна окажется поршень в правом цилиндре, если открыть кран и подождать достаточное время для установления теплового равновесия? Теплоемкостью цилиндров и поршней, объемом трубки, а также трением и потерями энергии при перемещении поршней можно пренебречь. Атмосферное давление p_0 , ускорение свободного падения g .



Решение. Давления и объемы газа в цилиндрах в начальном состоянии (при закрытом кране) равны соответственно: $p_1 = p_0 + \frac{Mg}{S}$, $p_2 = p_0 + \frac{Mg}{2S}$, $V_1 = h_0 S$, $V_2 = 2h_0 S$. Внутренние энергии газа в цилиндрах $U_1 = \frac{3}{2} p_1 V_1 = \frac{3}{2} (p_0 S + Mg) h_0$, $U_2 = \frac{3}{2} p_2 V_2 = \frac{3}{2} (2p_0 S + Mg) h_0$. Поскольку давление в левом цилиндре больше, чем в правом, после открывания крана левый поршень опустится вниз и полностью вытеснит газ в правый цилиндр. Внутренняя энергия газа станет равной $U_3 = \frac{3}{2} p_2 (h_0 + \Delta h) 2S = \frac{3}{2} (2p_0 S + Mg) (h_0 + \Delta h)$. Изменение внутренней энергии в этом процессе составит величину $\Delta U = U_3 - (U_1 + U_2) = \frac{3}{2} [(2p_0 S + Mg) \Delta h - (p_0 S + Mg) h_0]$. Работа, совершенная газом и над газом

$A = \left(p_0 + \frac{Mg}{2S} \right) 2S \Delta h - \left(p_0 + \frac{Mg}{S} \right) S h_0 = (2p_0 S + Mg) \Delta h - (p_0 S + Mg) h_0$. Согласно первому закону термодинамики $\Delta U + A = 0$, так как система теплоизолирована и потерями энергии при перемещении поршней и ударе левого поршня о дно цилиндра можно пренебречь. Объединяя записанные выражения, находим $\Delta h = \frac{p_0 S + Mg}{2p_0 S + Mg} h_0$.

О т в е т. $h = h_0 + \Delta h = \frac{3p_0 S + 2Mg}{2p_0 S + Mg} h_0$.

2.3. Изменение агрегатного состояния вещества. Уравнение теплового баланса

2.3.1. Относительная влажность воздуха в комнате объемом $V = 40 \text{ м}^3$ равна $f = 70\%$. Найти массу m водяных паров в комнате, если температура воздуха $t = 20 \text{ }^\circ\text{C}$, а давление насыщенного пара при этой температуре $p_{\text{н}} = 2330 \text{ Па}$. Универсальная газовая постоянная $R = 8,3 \text{ Дж}/(\text{моль} \cdot \text{К})$, молярная масса воды $M = 0,018 \text{ кг}/\text{моль}$.

Решение. Парциальное давление водяного пара $p = fp_{\text{н}} / 100\%$. Записывая для водяного пара уравнение Менделеева—Клапейрона

$$pV = \frac{m}{M}R(t + 273 \text{ }^\circ\text{C}), \text{ получаем: } m = \frac{fMp_{\text{н}}V}{100\%R(t + 273 \text{ }^\circ\text{C})} = 0,48 \text{ кг.}$$

О т в е т. $m = 0,48 \text{ кг}$.

2.3.2. В комнате при температуре $t = 20 \text{ }^\circ\text{C}$ относительная влажность воздуха $f_1 = 20\%$. Какую массу Δm воды нужно испарить для увеличения влажности до величины $f_2 = 60\%$ при той же температуре? Объем комнаты $V = 50 \text{ м}^3$, плотность насыщенных паров воды при температуре $t = 20 \text{ }^\circ\text{C}$ равна $\rho_{\text{н}} = 1,73 \cdot 10^{-2} \text{ кг}/\text{м}^3$.

Решение. Исходная масса водяных паров в комнате $m = f_1\rho_{\text{н}}V / 100\%$, конечная масса $m + \Delta m = f_2\rho_{\text{н}}V / 100\%$. Отсюда $\Delta m = \frac{(f_2 - f_1)}{100\%}\rho_{\text{н}}V = 346 \text{ г}$.

О т в е т. $\Delta m = 346 \text{ г}$.

2.3.3. В комнате при температуре $t = 20 \text{ }^\circ\text{C}$ относительная влажность $f_1 = 20\%$. Найти относительную влажность f_2 после испарения в комнате $m = 0,2 \text{ кг}$ воды. Объем комнаты $V = 50 \text{ м}^3$, плотность насыщенных паров при температуре $t = 20 \text{ }^\circ\text{C}$ равна $\rho_{\text{н}} = 1,73 \cdot 10^{-2} \text{ кг}/\text{м}^3$.

Решение. Пусть m_0 — начальная масса водяного пара, содержащегося в комнате. Относительная влажность при этом равна $f_1 = \frac{m_0}{V\rho_{\text{н}}} \cdot 100\%$. После испарения в комнате воды массой m относительная влажность станет

$$f_2 = \frac{m_0 + m}{V\rho_{\text{н}}} \cdot 100\%.$$

О т в е т. $f_2 = f_1 + \frac{m}{\rho_{\text{н}}V} \cdot 100\% = 43\%$.

2.3.4. Воздух в комнате объемом $V = 50 \text{ м}^3$ имеет температуру $t = 27 \text{ }^\circ\text{C}$ и относительную влажность $f_1 = 30\%$. Сколько времени τ должен работать увлажнитель воздуха, распыляющий воду с производительностью $\mu = 2 \text{ кг}/\text{ч}$, чтобы относительная влажность в комнате повысилась до $f_2 = 70\%$? Давление насыщенных паров воды при $t = 27 \text{ }^\circ\text{C}$ равно $p_{\text{н}} = 3665 \text{ Па}$, универсальная газовая постоянная $R = 8,3 \text{ Дж}/(\text{моль} \cdot \text{К})$, молярная масса воды $M = 18 \text{ г}/\text{моль}$.

Решение. Парциальное давление водяного пара при относительной влажности f_1 равно $p_1 = f_1 p_{\text{н}} / 100\%$. Из уравнения Менделеева—Клапейрона $p_1 V = \frac{m_1}{M} R(t + 273^\circ \text{C})$, находим начальную массу пара, содержащегося

в комнате: $m_1 = \frac{f_1 M p_{\text{н}} V}{100\% \cdot R(t + 273^\circ \text{C})}$. Аналогично, при относительной влаж-

ности f_2 масса пара $m_2 = \frac{f_2 M p_{\text{н}} V}{R(t + 273^\circ \text{C}) \cdot 100\%}$. Учитывая, что $\tau = \frac{m_2 - m_1}{\mu}$,

получаем: $\tau = \frac{p_{\text{н}}(f_2 - f_1)MV}{100\% \cdot \mu R(t + 273^\circ \text{C})} = 15,5$ мин.

О т в е т. $\tau = 15,5$ мин.

2.3.5. Относительная влажность при температуре $t_1 = 27^\circ \text{C}$ равна $f_1 = 75\%$. Во сколько раз n изменится относительная влажность, если температура упадет до $t_2 = 10^\circ \text{C}$? Давление насыщенного пара при $t_1 = 27^\circ \text{C}$ равно $p_{1\text{н}} = 27$ мм рт. ст., при $t_2 = 10^\circ \text{C}$ равно $p_{2\text{н}} = 9,2$ мм рт. ст.

Решение. Парциальное давление водяного пара при температуре $t_1 = 27^\circ \text{C}$ равно $p_1 = f_1 p_{1\text{н}} = 20,25$ мм рт. ст. Ненасыщенный пар обладает свойствами идеального газа, поэтому его давление при понижении температуры меняется незначительно. В то же время давление насыщенного пара сильно зависит от температуры и в температурном диапазоне от $t_1 = 27^\circ \text{C}$ до $t_2 = 10^\circ \text{C}$ уменьшается почти в 3 раза. Поскольку $p_{2\text{н}} < p_1$, при некоторой температуре, называемой точкой росы, наступает стопроцентная влажность, которая при дальнейшем понижении температуры не меняется, а излишек влаги выделяется в виде росы.

О т в е т. $n = \frac{4}{3} \approx 1,33$.

2.3.6. Горизонтально расположенный цилиндр разделен подвижным поршнем массой $m = 5$ кг на две равные части объемом $V = 1$ л каждая. С одной стороны от поршня находится насыщенный водяной пар при температуре $t = 100^\circ \text{C}$, с другой — воздух при той же температуре. Цилиндр поставили вертикально так, что снизу оказался пар. На какое расстояние x опустится поршень, если температуру в обеих частях цилиндра поддерживают неизменной? Площадь основания цилиндра $S = 0,01$ м², давление насыщенного пара при температуре $t = 100^\circ \text{C}$ равно $p_{\text{н}} = 10^5$ Па. Ускорение свободного падения принять $g = 10$ м/с².

Решение. Когда цилиндр расположен горизонтально, давление воздуха равно давлению насыщенного водяного пара $p_{\text{н}}$. Записывая уравнение состояния воздуха, имеем $p_{\text{н}} V = \nu_{\text{в}} RT$, откуда количество молей воздуха

$\nu_{\text{в}} = \frac{p_{\text{н}} V}{RT}$. Когда цилиндр поставили вертикально, давление водяного пара осталось прежним, а давление воздуха, как это следует из уравнения равновесия поршня, стало равным $p_{\text{н}} - mg/S$. При перемещении поршня на расстояние x объем воздуха увеличился на xS и уравнение состояния

воздуха приняло вид: $\left(p_n - \frac{mg}{S}\right)(V + xS) = \nu_n RT = p_n V$. Из последнего соотношения легко найти величину x , а именно: $x = \frac{MgV}{S(p_n S - Mg)}$. Анализ этого

выражения показывает, что оно теряет смысл при $Mg \geq p_n S / 2$. Действительно, максимально возможное перемещение поршня (когда он опустится до дна сосуда и весь пар сконденсируется) составляет V/S . При этом мы пренебрегаем объемом образовавшейся из пара воды, который, как показывает расчет, оказывается очень малым. В самом деле, подставляя в уравнение начального состояния пара числовые данные из условия, находим, что масса пара равна примерно 0,6 г. Следовательно, объем воды, образовавшейся при конденсации всего пара, составит около 0,06% от объема сосуда.

$$\text{Ответ. } x = \frac{V}{S} \cdot \frac{mg}{p_n S - mg} = 5,3 \text{ мм.}$$

2.3.7. Определить массу воды m , которую теряет человек за $\tau = 1$ ч в процессе дыхания, исходя из следующих данных. Относительная влажность вдыхаемого воздуха $f_1 = 60\%$, относительная влажность выдыхаемого воздуха $f_2 = 100\%$. Человек делает в среднем $n = 15$ вдохов в минуту, вдыхая каждый раз $V = 2,5$ л воздуха. Температуру вдыхаемого и выдыхаемого воздуха принять $t = 36$ °С; давление насыщенного водяного пара при этой температуре $p_n = 5,9$ кПа. Молярная масса воды $M = 18$ г/моль, универсальная газовая постоянная $R = 8,3$ Дж/(моль · К).

Решение. Пусть p_1 и p_2 — парциальные давления водяного пара во вдыхаемом и выдыхаемом воздухе, соответственно. Для них справедливы выражения: $p_1 = \frac{f_1 p_n}{100\%}$, $p_2 = \frac{f_2 p_n}{100\%}$. Обозначим через $V_0 = n\tau V$ полный объем

воздуха, вдыхаемого или выдыхаемого за время τ . Из уравнения Менделеева—Клапейрона, записанного для водяного пара, следует, что массы пара, содержащегося во всем объеме воздуха, который человек вдыхает и выдыхает за время τ , соответственно равны: $m_1 = \frac{p_1 V_0 M}{RT}$, $m_2 = \frac{p_2 V_0 M}{RT}$. Масса теряемой человеком воды $m = m_2 - m_1$. Объединяя записанные выражения, получаем:

$$m = \frac{p_n n V \tau M (f_2 - f_1)}{RT \cdot 100\%} \approx 37,3 \text{ г.}$$

$$\text{Ответ. } m = 37,3 \text{ г.}$$

2.3.8. В цилиндрическом сосуде под поршнем при температуре $T = 373$ К находится насыщенный водяной пар. При изотермическом сжатии пара выделилось количество теплоты $Q = 4540$ Дж. Найти совершенную при сжатии работу A . Молярная масса воды $M = 18$ г/моль, удельная теплота парообразования воды $r = 2270$ Дж/г, универсальная газовая постоянная $R = 8,3$ Дж/(моль · К).

Решение. При изотермическом сжатии пара часть его массой Δm превращается в воду, за счет чего выделяется количество теплоты $Q = r\Delta m$. Работа изобарного сжатия $A = p\Delta V$. Из уравнения состояния пара имеем:

$$pV_0 = \frac{m_0}{M}RT, \quad p(V_0 - \Delta V) = \frac{m_0 - \Delta m}{M}RT, \quad \text{где } V_0 \text{ — начальный объем; } m_0 \text{ —}$$

начальная масса пара. Отсюда $p\Delta V = \frac{\Delta m}{M}RT$. Объединяя записанные выра-

жения, получаем: $A = \frac{Q}{rM}RT \approx 344 \text{ Дж}$.

Ответ. $A \approx 344 \text{ Дж}$.

2.3.9. В цилиндрическом сосуде под поршнем находится $\nu = 1$ моль водяного пара при давлении p . Давление насыщенного водяного пара при этой температуре равно $2p$. Поршень вдвигают в цилиндр так, что объем под поршнем уменьшается в 4 раза при неизменной температуре. Найти массу m образовавшейся при этом воды. Молярная масса воды $M = 18 \text{ г/моль}$.

Решение. При уменьшении объема пара в 2 раза его давление увеличивается от p до $2p$ и пар становится насыщенным. Дальнейшее уменьшение объема происходит при постоянном давлении $2p$ и часть пара конденсируется. Поскольку в процессе конденсации объем уменьшается в 2 раза, масса образовавшейся воды равна половине начальной массы пара.

Ответ. $m = 0,5M\nu = 9 \text{ г}$.

2.3.10. Стакан объемом $V = 290 \text{ см}^3$ перевернули вверх дном и медленно погрузили в воду на глубину $h = 5 \text{ м}$. При этом объем воздуха в стакане оказался равным $V_1 = 194 \text{ см}^3$. Найти парциальное давление водяного пара, находящегося в стакане, считая его насыщенным. Относительная влажность атмосферного воздуха $f = 60\%$, атмосферное давление $p_0 = 10^5 \text{ Па}$, плотность воды $\rho = 1 \text{ г/см}^3$, ускорение свободного падения $g = 10 \text{ м/с}^2$. Температуру воздуха в стакане считать постоянной. Размером стакана по сравнению с глубиной его погружения пренебречь.

Решение. До погружения в воду в стакане находилась смесь воздуха и водяного пара, причем давление этой смеси $p_0 = p_{\text{в}} + p_{\text{п}}$, где $p_{\text{в}}$ — парциальное давление воздуха, $p_{\text{п}} = fp_{\text{н}} / 100\%$ — парциальное давление пара. От-

сюда $p_{\text{в}} = p_0 - \frac{f}{100\%}p_{\text{н}}$. После медленного погружения стакана в воду пар

в стакане достиг насыщения, и давление газовой смеси в стакане стало равным $p_1 = p'_{\text{в}} + p_{\text{н}}$, где $p'_{\text{в}}$ — парциальное давление воздуха, $p_1 = \rho gh + p_0$ — давление воды на глубине h . Для парциального давления воздуха справедливо уравнение $p'_{\text{в}}V_1 = p_{\text{в}}V_0$. Объединяя записанные выражения, находим давление насыщенного водяного пара.

Ответ. $p = p_{\text{н}} = \frac{\rho ghV_1 - p_0(V_0 - V_1)}{V_1 - V_0f / 100\%} = 5 \text{ кПа}$.

2.3.11. В стеклянную банку объемом 1 л налили 0,5 л воды при температуре $t_1 = 20^\circ\text{C}$ и герметично закрыли завинчивающейся крышкой. Затем банку нагрели до температуры $t_2 = 100^\circ\text{C}$. Найти силу взаимодействия F между банкой и крышкой при достижении этой температуры. Площадь крышки $S = 50\text{ см}^2$, атмосферное давление $p_0 = 10^5\text{ Па}$. Влажностью атмосферного воздуха, а также массой крышки пренебречь.

Решение. В банке под крышкой находится воздух и насыщенный водяной пар. При температуре $t_2 = 100^\circ\text{C}$ давление насыщенного пара равно атмосферному давлению: $p_{\text{н}} = p_0$. Таким образом, парциальное давление водяного пара компенсирует атмосферное давление. Следовательно, сила, которая действует на крышку со стороны банки, равна по величине $F = Sp_{\text{в}}$, где $p_{\text{в}}$ — парциальное давление воздуха в банке. Пренебрегая изменением объема воздуха, связанным с частичным испарением воды и ее тепловым расширением, для определения давления воздуха можно использовать закон

Шарля, согласно которому $p_{\text{в}} = p_0 \frac{T_2}{T_1}$.

$$\text{Ответ. } F = Sp_0 \frac{t_2 + 273^\circ\text{C}}{t_1 + 273^\circ\text{C}} \approx 640\text{ Н.}$$

2.3.12. В стеклянной банке объемом 1 л, закрытой завинчивающейся крышкой, находятся 0,5 л воды и насыщенный водяной пар при температуре 100°C . Какой момент силы M нужно приложить к крышке, чтобы отвернуть ее после того, как банка остынет до температуры 20°C ? Давление насыщенного водяного пара при температуре 20°C составляет $p_{\text{н}} = 2,3\text{ кПа}$. Атмосферное давление $p_0 = 10^5\text{ Па}$. Радиус крышки $R = 4\text{ см}$, коэффициент трения между плоскостью крышки и верхней частью банки $\mu = 0,2$. Массой крышки и трением в резьбовом соединении крышки с банкой пренебречь.

Решение. После остывания банки в ней будут находиться вода и насыщенный пар при давлении $p_{\text{н}}$. Следовательно, сила, с которой крышка будет давить на банку, $N = S(p_0 - p_{\text{н}})$, где $S = \pi R^2$ — площадь крышки. Сила трения между крышкой и банкой $F_{\text{тр}} = \mu N$, момент этой силы $M = F_{\text{тр}} R$. Объединяя записанные выражения, получаем: $M = \pi R^3 \mu (p_0 - p_{\text{н}}) \approx 3,8\text{ Н}\cdot\text{м}$.

$$\text{Ответ. } M \approx 3,8\text{ Н}\cdot\text{м.}$$

2.3.13. В калориметре находилось $m_1 = 400\text{ г}$ воды при температуре $t_1 = 5^\circ\text{C}$. К ней долили еще $m_2 = 200\text{ г}$ воды при температуре $t_2 = 10^\circ\text{C}$ и положили $m_3 = 400\text{ г}$ льда при температуре $t_3 = -60^\circ\text{C}$. Какая масса m льда оказалась в калориметре после установления теплового равновесия? Удельные теплоемкости воды и льда, соответственно, $c_{\text{в}} = 4,2\text{ Дж}/(\text{г}\cdot\text{К})$, $c_{\text{л}} = 2,1\text{ Дж}/(\text{г}\cdot\text{К})$, удельная теплота плавления льда $\lambda = 330\text{ Дж}/\text{г}$. Теплоемкостью калориметра пренебречь.

Решение. Решение задач такого типа необходимо начинать с числовых оценок количеств теплоты, которыми обмениваются различные компоненты системы при установлении теплового равновесия. Определим вначале количество теплоты, которое может отдать вода при остывании до температуры плавления льда (0°C): $Q_1 = m_1 c_{\text{в}} t_1 + m_2 c_{\text{в}} t_2 = 16,8\text{ кДж}$. Количество тепло-

ты, требующееся для нагревания льда до температуры плавления, равно $Q_2 = m_3 c_{\text{л}} |t_3| = 50,4$ кДж. Сравнивая эти величины, видим, что теплоты, отдаваемой водой при остывании, недостаточно для нагревания льда до 0°C . В то же время количество теплоты, которое может отдать вся вода при замерзании, $Q_3 = (m_1 + m_2)\lambda = 198$ кДж явно превышает количество теплоты, требующееся для нагревания льда до температуры плавления. Следовательно, при установлении теплового равновесия в калориметре вода остынет до 0°C , часть ее замерзнет, и весь лед будет иметь температуру плавления. Обозначив через m_x массу замерзшей воды, запишем уравнение теплового баланса: $m_x \lambda = Q_2 - Q_1$, откуда $m_x = \frac{Q_2 - Q_1}{\lambda} \approx 102$ г. Таким образом, после установления теплового равновесия в калориметре образуется смесь воды и льда при нулевой температуре, причем масса льда $m \approx 502$ г.

О т в е т. $m \approx 502$ г.

2.3.14. В цилиндрическом сосуде с площадью основания $S = 11$ см² находится кубик льда массой $m = 11$ г при температуре $t = -10^\circ\text{C}$. Какое минимальное количество теплоты Q нужно сообщить льду для того, чтобы при дальнейшем нагревании уровень воды в сосуде не изменялся? Удельная теплоемкость льда $c = 2,1$ Дж/(г·К), удельная теплота плавления льда $\lambda = 330$ Дж/г, плотность льда $\rho_{\text{л}} = 0,9$ г/см³. При расчете принять, что при плавлении кусок льда сохраняет форму куба.

Р е ш е н и е. Уровень воды в сосуде будет подниматься до момента всплытия льда. После этого, пока весь лед не растает, уровень воды будет находиться на одной и той же высоте h , которая определяется объемом воды, образовавшейся из всего растаявшего льда:

$h = \frac{m}{S\rho_{\text{в}}}$. Здесь $\rho_{\text{в}}$ — плотность

воды. С другой стороны, лед всплывет, когда глубина подводной части кубика станет равной h . Из условия плавания частично растаявшего кубика

$\rho_{\text{л}} a^3 g = \rho_{\text{в}} a^2 h g$ находим длину его ребра: $a = \frac{h\rho_{\text{в}}}{\rho_{\text{л}}} = \frac{m}{S\rho_{\text{л}}}$. Отсюда масса на-

чавшего плавать кубика $m' = \rho_{\text{л}} a^3 = \frac{m^3}{\rho_{\text{л}}^2 S^3}$. Таким образом, для того чтобы

кубик всплыл, нужно, чтобы растаяла масса льда $m_x = m - m' = m - \frac{m^3}{\rho_{\text{л}}^2 S^3}$.

Для этого требуется количество теплоты $Q = mc|t| + \lambda m_x$. Объединяя запи-

санные выражения, получаем: $Q = mc|t| + \lambda m \left(1 - \frac{m^2}{\rho_{\text{л}}^2 S^3} \right) \approx 3,5$ кДж.

О т в е т. $Q \approx 3,5$ кДж.

2.3.15. В чайник налили воды при температуре $t = 10^\circ\text{C}$ и поставили на электроплитку. Через время $\tau_1 = 10$ мин вода закипела. Через какое время τ_2 вода полностью выкипит? Удельная теплоемкость воды $c = 4,2$ кДж/(кг·К),

удельная теплота парообразования $r = 2,3$ МДж/кг. Температура кипения воды $t_{\text{к}} = 100$ °С. Теплоемкостью чайника и потерями теплоты пренебречь.

Решение. Обозначив через m начальную массу воды в чайнике, найдем количества теплоты Q_1 и Q_2 , требующиеся, соответственно, для нагревания воды до температуры кипения и для превращения ее в пар: $Q_1 = cm(t_{\text{к}} - t)$, $Q_2 = mr$. Пусть q — мощность плитки; тогда $Q_1 = q\tau_1$, $Q_2 = q\tau_2$. Объединяя

эти выражения, получаем: $\tau_2 = \tau_1 \frac{r}{c(t_{\text{к}} - t)} = 60,8$ мин.

О т в е т. $\tau_2 = 60,8$ мин.

2.3.16. На примус поставили открытую кастрюлю с водой при температуре $t = 20$ °С и сняли ее через $\tau = 40$ мин. Найти объем V_1 оставшейся в кастрюле воды, если начальный объем воды составлял $V = 3$ л. В примусе каждую минуту сгорает $\mu = 3$ г керосина, удельная теплота сгорания которого $h = 40$ кДж/г, КПД примуса (относительная доля выделившейся теплоты, идущая на нагревание воды) $\eta = 42\%$, теплоемкость и удельная теплота парообразования воды соответственно $c = 4,2$ кДж/(кг·К), $r = 2,1$ МДж/кг, плотность воды $\rho_{\text{в}} = 10^3$ кг/м³, температура кипения воды $t_{\text{к}} = 100$ °С. Теплоемкостью кастрюли пренебречь.

Решение. За время τ примус сообщает воде количество теплоты $Q = \eta\mu h\tau / 100\% = 2,016$ МДж. Количество теплоты, требующееся для нагревания воды до температуры кипения, равно $Q_1 = \rho_{\text{в}} V c (t_{\text{к}} - t) = 1,008$ МДж. Из сравнения этих данных следует, что часть воды заведомо выкипит. Обозначив через V_2 объем выкипевшей воды, запишем уравнение теплового баланса: $\eta\mu h\tau / 100\% = \rho_{\text{в}} [V c (t_{\text{к}} - t) + V_2 r]$. Поскольку $V_1 = V - V_2$, запишем:

$$V_1 = V - \frac{\mu\tau h\eta}{\rho_{\text{в}} r \cdot 100\%} + \frac{c}{r} \cdot (t_{\text{к}} - t)V = 2,52 \text{ л.}$$

О т в е т. $V_1 = 2,52$ л.

2.3.17. Нагретый металлический порошок высыпают в жидкость массой m , находящуюся при температуре T_1 . Масса порошка равна M , его удельная теплоемкость c . Когда установилось тепловое равновесие, оказалось что температура системы равна T_2 и масса жидкости уменьшилась на Δm . Удельная теплоемкость жидкости равна c_1 , ее удельная теплота парообразования r , температура кипения $T_{\text{к}}$. Найти температуру T_3 , которую имел нагретый порошок.

Решение. После высыпания порошка вся жидкость нагрелась до температуры T_2 , ее часть массой Δm , непосредственно контактировавшая с порошком, нагрелась до температуры кипения и выкипела, порошок остыл до температуры T_2 . Уравнение теплового баланса имеет вид: $Mc(T_3 - T_2) = mc_1(T_2 - T_1) + \Delta mc_1(T_{\text{к}} - T_2) + \Delta mr$. Отсюда находим: $T_3 = T_2 +$

$$+ \frac{1}{Mc} [r\Delta m + c_1\Delta m \cdot (T_{\text{к}} - T_2) + c_1m(T_2 - T_1)].$$

О т в е т. $T_3 = T_2 + \frac{1}{Mc} [r\Delta m + c_1\Delta m \cdot (T_{\text{к}} - T_2) + c_1m(T_2 - T_1)].$

2.3.18. Тигель, содержащий некоторое количество олова, нагревают на плитке, выделяющей в единицу времени постоянное количество теплоты. За время $\tau_0 = 20$ мин температура олова повысилась от $t_1 = 20$ °С до $t_2 = 70$ °С, а еще через $\tau = 166$ мин олово полностью расплавилось. Найти удельную теплоемкость олова c , если его температура плавления $t_{\text{пл}} = 232$ °С, а удельная теплота плавления $\lambda = 58,5$ кДж/кг. Теплоемкостью тигля и потерями теплоты пренебречь.

Решение. Пусть m — масса олова, q — мощность плитки. Из уравнений теплового баланса имеем: $q\tau_0 = cm(t_2 - t_1)$, $q\tau = cm(t_{\text{пл}} - t_2) + \lambda m$. Исключая отсюда m и q , получаем: $c = \frac{\lambda\tau_0}{\tau(t_2 - t_1) - \tau_0(t_{\text{пл}} - t_2)} \approx 0,23$ кДж/(кг·К).

О т в е т. $c \approx 0,23$ кДж/(кг·К).

2.3.19. Железнодорожный вагон массой $M_1 = 60$ т, движущийся со скоростью $v_0 = 7,2$ км/ч, сталкивается с неподвижно стоящим вагоном массой $M_2 = 40$ т. После столкновения вагоны приобретают одну и ту же скорость и движутся как единый состав. Какой объем воды V можно было бы довести до кипения, если всю энергию, выделившуюся при столкновении вагонов, удалось бы обратить в нагрев воды? Начальная температура воды $t_0 = 20$ °С, температура кипения воды $t_k = 100$ °С, удельная теплоемкость воды $c = 4,2 \cdot 10^3$ Дж/(кг·К), плотность воды $\rho = 10^3$ кг/м³.

Решение. По закону сохранения импульса, при столкновении вагонов имеем: $M_1v_0 = (M_1 + M_2)u$, откуда скорость вагонов после столкновения $u = \frac{M_1}{M_1 + M_2}v_0$. Количество теплоты, выделяющееся при столкновении вагонов, равно изменению их механической энергии:

$$Q = \frac{M_1v_0^2}{2} - \frac{(M_1 + M_2)u^2}{2} = \frac{M_1M_2v_0^2}{2(M_1 + M_2)}. \text{ По условию } Q = c\rho V(t_k - t_0).$$

$$\text{О т в е т. } V = \frac{v_0^2}{2\rho c(t_k - t_0)} \cdot \frac{M_1M_2}{M_1 + M_2} \approx 143 \text{ см}^3.$$

2.3.20. В теплоизолированном сосуде в начальный момент находятся одноатомный газ при температуре $T_0 = 300$ К и кусочек железа массой $m = 0,2$ кг, нагретый до температуры $T_1 = 500$ К. Начальное давление газа $p_0 = 10^5$ Па, его объем $V_0 = 1000$ см³, удельная теплоемкость железа $c = 0,45$ кДж/(кг·К). Найти давление газа p в равновесном состоянии, считая объем газа неизменным.

Решение. Из уравнения теплового баланса имеем: $\frac{3}{2}vRT_0 + mcT_1 = \left(\frac{3}{2}vR + mc\right)T$, где v — число молей газа, T — установившаяся (равновесная) температура в сосуде. Число молей газа может быть легко найдено из уравнения его начального состояния: $v = p_0V_0 / (RT_0)$. Подставляя v в первое соотношение, находим установившуюся температуру: $T = \frac{(3p_0V_0 + 2mcT_1)T_0}{3p_0V_0 + 2mcT_0}$.

Поскольку объем газа постоянен, его давление в конечном состоянии $p = p_0 \frac{T}{T_0}$. Объединяя записанные выражения, получаем: $p = p_0 \frac{2mcT_1 + 3p_0V_0}{2mcT_0 + 3p_0V_0} \approx 1,67 \cdot 10^5$ Па.

О т в е т. $p \approx 1,67 \cdot 10^5$ Па.

2.3.21. Толстостенный сосуд массой $m = 1$ кг изготовлен из материала, удельная теплоемкость которого $c = 100$ Дж/(кг · К). Сосуд содержит $\nu = 2$ моля одноатомного газа, объем которого $V = 500$ см³ остается неизменным. Системе сообщают количество теплоты $Q = 300$ Дж. Найти изменение давления газа Δp . Универсальную газовую постоянную принять $R = 8,3$ Дж/(моль · К).

Р е ш е н и е. Теплоемкость сосуда с газом равна $C = \frac{3}{2}\nu R + cm$. Поскольку объем сосуда является постоянным, сообщенное системе количество теплоты $Q = C\Delta T$, откуда приращение температуры газа $\Delta T = \frac{2Q}{3\nu R + 2mc}$. Из уравнения Менделеева—Клапейрона следует, что $\Delta p = \frac{\nu R \Delta T}{V}$.

О т в е т. $\Delta p = \frac{2Q\nu R}{V(3\nu R + 2mc)} = 8 \cdot 10^4$ Па.

2.3.22. Некоторое количество воды нагревается электронагревателем мощностью $W = 500$ Вт. При включении нагревателя на время $t_1 = 2$ мин температура воды повысилась на $\Delta T = 1$ К, а при его отключении — понизилась за время $t_2 = 1$ мин на ту же величину ΔT . Какова масса m нагреваемой воды, если потери тепла за счет рассеяния в окружающую среду пропорциональны времени? Удельная теплоемкость воды $c = 4,19 \cdot 10^3$ Дж/(кг · К).

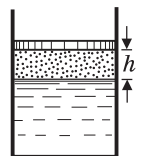
Р е ш е н и е. Поскольку по условию потери тепла пропорциональны времени, количественной характеристикой потерь является их мощность w . Обозначив через m массу воды, по первому закону термодинамики имеем: $Wt_1 = cm\Delta T + wt_1$ (при нагревании воды), $cm\Delta T = wt_2$ (при остывании воды).

Исключая отсюда w , получаем: $m = \frac{Wt_1t_2}{c\Delta T(t_1 + t_2)} \approx 4,8$ кг.

О т в е т. $m \approx 4,8$ кг.

Дополнительные задачи

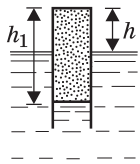
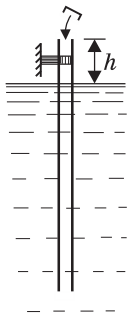
2.3.23. В вертикальном цилиндре, наполовину заполненном водой, под подвижным поршнем заключен воздух. Поршень находится в равновесии, когда давление внутри цилиндра равно утроенному атмосферному давлению. При температуре $t_1 = 6$ °С расстояние между поршнем и поверхностью воды $h = 10$ см. На каком расстоянии H от поверхности воды окажется поршень, если цилиндр нагреть до температуры $t_2 = 100$ °С? Атмосферное давление считать нормальным. Давлением водяных паров при температуре $t_1 = 6$ °С и изменением объема воды за счет испарения пренебречь.



Решение. Давление смеси сухого воздуха и насыщенного водяного пара в цилиндре, обусловленное атмосферным давлением p_0 и весом поршня, в процессе нагревания цилиндра остается постоянным и равным $3p_0$. При температуре $t_1 = 6^\circ\text{C}$ давление насыщенных паров воды пренебрежимо мало, поэтому давление сухого воздуха $p_{в1} = 3p_0$. При температуре $t_2 = 100^\circ\text{C}$ давление насыщенных паров становится равным атмосферному. Следовательно, давление сухого воздуха при этой температуре $p_{в2} = 2p_0$. Из уравнения состояния сухого воздуха следует, что $\frac{3p_0 h S}{T_1} = \frac{2p_0 H S}{T_2}$, где S — площадь поршня.

О т в е т. $H = \frac{3h}{2} \cdot \frac{t_2 + 273^\circ\text{C}}{t_1 + 273^\circ\text{C}} \approx 20$ см.

2.3.24. Металлическую трубку площадью поперечного сечения $S = 10$ см² и длиной около полутора метров опустили в воду и закрепили на штативе в вертикальном положении так, чтобы верхний край трубки находился над поверхностью воды на высоте $h = 10$ см. Температуры воздуха и воды одинаковы и равны $t_0 = 7^\circ\text{C}$, атмосферное давление $p_0 = 10^5$ Па. Трубку закрыли сверху легкой герметичной крышечкой, закрепив ее, и нагрели воду до температуры $t_1 = 100^\circ\text{C}$. На какую величину ΔF изменилась при этом сила, с которой трубка действует на штатив? Давлением насыщенных паров воды при температуре t_0 , а также тепловым расширением воды и стенок трубки пренебречь. Плотность воды считать равной $\rho = 10^3$ кг/м³, а модуль ускорения свободного падения $g = 10$ м/с².



Решение. Давление в трубке под крышечкой при начальной температуре равно атмосферному давлению p_0 . При нагревании воды до температуры $t_1 = 100^\circ\text{C}$ давление в трубке становится равным сумме давления p сухого воздуха и давления p_0 насыщенных водяных паров. Условие равновесия воды в трубке имеет вид: $p + p_0 = \rho g(h_1 - h) + p_0$, где h_1 — высота столба смеси воздуха и пара внутри трубы. Отсюда $p = \rho g(h_1 - h)$. Из уравнения состояния сухого воздуха следует, что

$$\frac{p_0 h S}{T_0} = \frac{p h_1 S}{T_1}, \text{ где } T_0 = t_0 + 273^\circ\text{C}, T_1 = t_1 + 273^\circ\text{C}.$$

Объединяя записанные выражения, получаем квадратное уравнение относительно h_1 , а именно $h_1^2 - h h_1 - \frac{p_0 h T_1}{\rho g T_0} = 0$. Условию задачи удовлетворяет положительный

корень: $h_1 = \frac{h}{2} \left(1 + \sqrt{1 + \frac{4p_0 T_1}{\rho g h T_0}} \right) \approx 1,21$ м. Учитывая, что $\Delta F = p S = \rho g(h_1 - h) S$,

получаем: $\Delta F = \rho g \frac{h}{2} S \left(\sqrt{1 + \frac{4p_0 T_1}{\rho g h T_0}} - 1 \right) \approx 11,1$ Н.

О т в е т. $\Delta F \approx 11,1$ Н.

2.3.25. Трубка с поперечным сечением S , заполненная водяным паром под давлением p , запаяна с двух концов и расположена горизонтально. При этом находящийся в трубке поршень делит трубку на две равных части. Трубку ставят вертикально, в результате чего поршень смещается, и объем под ним уменьшается в четыре раза. Найти массу поршня m , если давление насыщенного водяного пара равно $2p$. Трением и толщиной поршня пренебречь, температуру пара считать постоянной. Ускорение свободного падения g .

Решение. При перемещении поршня давление пара в нижней части трубки увеличится до величины $2p$, после чего будет оставаться постоянным. При этом часть пара сконденсируется. Пар над поршнем можно считать идеальным газом. Его давление, согласно закону Бойля—Мариотта, равно: $p_1 = p \frac{V}{V_1} = p \frac{V}{V + 3V/4} = \frac{4}{7}p$. Из условия равновесия поршня имеем

$$p_1 S + mg = 2pS. \text{ Объединяя записанные выражения, получаем: } m = \frac{10}{7} \cdot \frac{pS}{g}.$$

$$\text{О т в е т. } m = \frac{10}{7} \cdot \frac{pS}{g}.$$

2.3.26. Водяной пар занимает объем $V_0 = 5$ л при температуре $t = 100$ °С. Давление пара $p = 0,5 \cdot 10^5$ Па. Какая масса Δm пара превратится в воду, если объем пара изотермически уменьшить до величины $V = 1$ л? Молярная масса воды $M = 18$ г/моль.

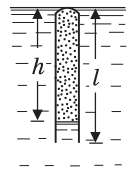
Решение. Пусть m_0 и m — массы водяного пара в начальном и конечном состояниях. Давление насыщенного водяного пара при температуре 100 °С равно атмосферному: $p_0 = 10^5$ Па. Поскольку при сжатии объем пара уменьшается в 5 раз, а $p = p_0 / 2$, пар достигнет насыщения и часть его превратится в воду. Из уравнений начального и конечного состояний пара:

$$pV_0 = \frac{m_0}{M}RT, \quad p_0V = \frac{m}{M}RT, \text{ а также учитывая, что } \Delta m = m_0 - m, \text{ получаем:}$$

$$\Delta m = \frac{M}{RT}(pV_0 - p_0V) \approx 0,87 \text{ г.}$$

$$\text{О т в е т. } \Delta m \approx 0,87 \text{ г.}$$

2.3.27. Цилиндрическую пробирку располагают вертикально открытым концом вниз и погружают в воду на всю длину. Спустя некоторое время водяной пар в пробирке становится насыщенным; при этом уровень воды в пробирке устанавливается на глубине h . Температура воды и атмосферного воздуха одинакова, давление насыщенного водяного пара при этой температуре $p_{\text{н}}$, атмосферное давление p_0 , длина пробирки l . Какова относительная влажность f атмосферного воздуха?



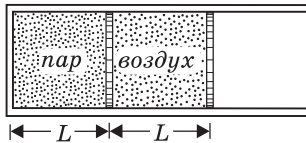
Решение. До погружения в воду в пробирке находилась смесь сухого воздуха и водяного пара, причем давление этой смеси $p_0 = p_{\text{в}} + p_{\text{п}}$, где $p_{\text{в}}$ — парциальное давление воздуха, $p_{\text{п}} = fp_{\text{н}}$ — парциальное давление пара. Отсюда $p_{\text{в}} = p_0 - fp_{\text{н}}$. После погружения пробирки в воду

давление газовой смеси в ней стало равным $p = p'_b + p_n$, где $p = p_0 + \rho gh$ — давление воды на глубине h ; p'_b — парциальное давление сухого воздуха. Из закона Бойля—Мариотта, записанного для сухого воздуха, следует, что $p_n S l = p'_b S h$, где S — сечение пробирки. Объединяя записанные выражения,

$$\text{получаем: } f = \frac{p_0}{p_n} \left(1 - \frac{h}{l} \right) - \frac{h}{l} \left(\frac{\rho gh}{p_n} - 1 \right).$$

$$\text{О т в е т. } f = \frac{p_0}{p_n} \left(1 - \frac{h}{l} \right) - \frac{h}{l} \left(\frac{\rho gh}{p_n} - 1 \right).$$

2.3.28. В закрытом с одного конца цилиндрическом сосуде находятся два тонких поршня, способных перемещаться без трения и разделяющих пространство внутри сосуда на два отсека. В левом отсеке заключен водяной пар при давлении p , а в правом — воздух при том же давлении, причем длины отсеков одинаковы и равны L . Правый поршень медленно передвинули влево на некоторое расстояние l . На какое расстояние x сместится при этом левый поршень? Температуру пара и воздуха считать постоянной. Давление насыщенного водяного пара при этой температуре равно $2p$.



Решение. Пусть перемещение l правого поршня таково, что пар в левом отсеке остается ненасыщенным. Обозначив через x смещение левого поршня, по закону Бойля—Мариотта имеем: $pSL = p_1 S(L - l + x)$ (для воздуха); $pSL = p_1 S(L - x)$ (для пара). Отсюда $x = l/2$, что справедливо, пока $p_1 \leq 2p$, т. е. при $l \leq L$. Когда перемещение правого поршня превысит L , пар в левом отсеке начнет конденсироваться, и давление в обоих отсеках станет постоянным и равным $2p$. Следовательно, постоянным и равным $L/2$ будет и расстояние между поршнями. Длина левого отсека при этом $L'' = 2L - (l + L/2) = 3L/2 - l$, и смещение левого поршня составит величину $x = L - L'' = l - L/2$. Если $l \geq 3L/2$, то пар полностью сконденсируется и левый поршень перестанет перемещаться.

О т в е т. $x = l/2$ при $l \leq L$; $x = l - L/2$ при $L \leq l \leq 3L/2$; $x = L$ при $3L/2 \leq l \leq 2L$.

2.3.29. При центральном соударении шарика, движущегося со скоростью $v = 20$ м/с, с таким же неподвижным шариком последний приобретает скорость $v/2$. Найти изменение температуры шариков Δt , если удельная теплоемкость вещества, из которого они состоят, $c = 0,25$ кДж/(кг·К). Рассеянием теплоты в окружающую среду пренебречь.

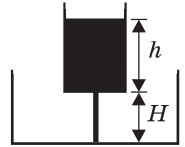
Решение. Обозначим через m массу каждого из шариков, а через u — скорость первоначально двигавшегося шарика, которую он приобретет после соударения. По закону сохранения импульса: $mv = mu + m \frac{v}{2}$, откуда $u = \frac{v}{2}$. Следовательно, после соударения оба шарика движутся с одной скоростью.

По закону изменения механической энергии имеем $\frac{mv^2}{2} = \frac{mv^2}{8} + \frac{mv^2}{8} + Q$.

Отсюда находим, что выделившееся при ударе количество теплоты $Q = \frac{mv^2}{4}$.
Из уравнения теплового баланса следует равенство $2mc\Delta t = Q$.

О т в е т. $\Delta t = \frac{v^2}{8c} = 0,2^\circ\text{C}$.

2.3.30. Над серединой цилиндрического сосуда с площадью сечения S на высоте $H = 60$ см закреплен сосуд с площадью сечения $0,2S$. В верхнем сосуде находится ртуть, причем высота ее уровня над дном верхнего сосуда $h = 1,5$ м. Через отверстие в середине дна верхнего сосуда ртуть выливается в нижний. Найти изменение температуры ртути Δt , если ее удельная теплоемкость $c = 0,12$ кДж/(кг·К). Ускорение свободного падения принять $g = 10$ м/с², теплоемкостью сосудов и рассеянием теплоты в окружающее пространство пренебречь.



Р е ш е н и е. Найдем изменение $\Delta E_{\text{п}}$ потенциальной энергии ртути при ее перетекании из верхнего сосуда в нижний. Обозначим через m массу ртути. Ее начальная потенциальная энергия относительно дна нижнего сосуда равна $E_{\text{нач}} = mg\left(H + \frac{h}{2}\right)$. Поскольку объем ртути $V = 0,2Sh$ неизменен, центр тяжести ртути, целиком перетекшей в нижний сосуд, будет находиться на расстоянии $x = \frac{1}{2} \cdot \frac{0,2Sh}{S} = 0,1h$ от дна нижнего сосуда. При этом потенциальная энергия ртути станет $E_{\text{кон}} = 0,1mgh$. Следовательно, $\Delta E_{\text{п}} = -mg(H + 0,4h)$. Учитывая, что в начальном и конечном состояниях ртуть покоилась, т. е. ее кинетическая энергия равнялась нулю, находим, что количество теплоты, выделившееся при перетекании ртути $Q = -\Delta E_{\text{п}}$. Из уравнения теплового баланса следует равенство $mc\Delta t = Q$.

О т в е т. $\Delta t = \frac{g}{c}(H + 0,4h) = 0,1^\circ\text{C}$.

2.3.31. В цилиндрическом сосуде при температуре 0°C находится вода и кусок льда, примерзший ко дну сосуда, причем уровень воды располагается на высоте $h_0 = 20$ см от дна сосуда, а лед не выступает над поверхностью воды. Когда содержимому сосуда сообщили количество теплоты $Q = 60$ кДж, $\eta = 10\%$ льда расплавилось, а оставшаяся часть льда всплыла на поверхность. На какой высоте h от дна оказался уровень воды в сосуде после этого? Площадь поперечного сечения сосуда $S = 200$ см², плотность воды $\rho_{\text{в}} = 1$ г/см³, плотность льда $\rho_{\text{л}} = 0,9$ г/см³, удельная теплота плавления льда $\lambda = 332$ Дж/г.

Р е ш е н и е. Пусть m_0 — начальная масса льда. Тогда примерзший ко дну лед вытесняет объем $V_0 = \frac{m_0}{\rho_{\text{л}}}$. Всплывший лед массой $m = m_0\left(1 - \frac{\eta}{100\%}\right)$

вытеснит объем $V = \frac{m}{\rho_{\text{в}}}$, а образовавшаяся при таянии льда вода массой $\frac{\eta m_0}{100\%}$ займет объем $V' = \frac{\eta m_0}{100\% \cdot \rho_{\text{в}}}$. Обозначив через $V_{\text{в}}$ начальный объем воды в сосуде, имеем: $Sh_0 = V_{\text{в}} + V_0$, $Sh = V_{\text{в}} + V + V'$. Из записанных равенств находим $h = h_0 - \frac{m_0}{S} \cdot \frac{(\rho_{\text{в}} - \rho_{\text{л}})}{\rho_{\text{в}} \rho_{\text{л}}}$. Для определения начальной массы льда m_0 воспользуемся уравнением теплового баланса: $Q = \frac{\eta}{100\%} m_0 \lambda$, откуда $m_0 = \frac{100\%}{\eta} \cdot \frac{Q}{\lambda}$.

$$\text{О т в е т. } h = h_0 - \frac{100\%}{\eta} \cdot \frac{Q(\rho_{\text{в}} - \rho_{\text{л}})}{S \lambda \rho_{\text{в}} \rho_{\text{л}}} \approx 19 \text{ см.}$$

2.3.32. Металлический шарик, нагретый до температуры $t = 60^\circ\text{C}$, положили в стакан с водой, имеющей температуру $t_0 = 20^\circ\text{C}$. После достижения теплового равновесия температура воды в стакане стала равной $t_1 = 30^\circ\text{C}$. Затем шарик переложили в другой стакан с таким же количеством воды, имеющей температуру t_0 . Какая температура t_2 установится в этом стакане? Теплообменом с окружающей средой пренебречь.

Р е ш е н и е. Пусть $C_{\text{ш}}$ — теплоемкость шарика, а $C_{\text{в}}$ — теплоемкость стакана с водой. Уравнения теплового баланса имеют вид: $C_{\text{ш}}(t - t_1) = C_{\text{в}}(t_1 - t_0)$ (когда шарик положили в первый стакан), $C_{\text{ш}}(t_1 - t_2) = C_{\text{в}}(t_2 - t_0)$ (когда шарик переложили во второй стакан). Из этих выражений следует равенство:

$$\frac{t - t_1}{t_1 - t_2} = \frac{t_1 - t_0}{t_2 - t_0}. \text{ Выразая из него } t_2, \text{ находим: } t_2 = \frac{t_1^2 + (t - 2t_1)t_0}{t - t_0} = 22,5^\circ\text{C}.$$

$$\text{О т в е т. } t_2 = 22,5^\circ\text{C}.$$

2.3.33. В стакане находится некоторое количество воды, нагретой до температуры $t_1 = 80^\circ\text{C}$. Когда в стакан кладут металлический шарик, имеющий температуру $t_0 = 20^\circ\text{C}$, в стакане устанавливается температура $t_2 = 60^\circ\text{C}$. Какая температура t_3 установится в стакане после того, как в него опустят еще один такой же шарик, имеющий температуру $t_0 = 20^\circ\text{C}$? Теплообменом с окружающей средой пренебречь.

Р е ш е н и е. Обозначим через $C_{\text{в}}$ и $C_{\text{ш}}$ теплоемкости стакана с водой и шарика, соответственно. Уравнения теплового баланса для двух процессов теплообмена имеют вид: $C_{\text{в}}(t_1 - t_2) = C_{\text{ш}}(t_2 - t_0)$ (когда положили первый шарик), $C_{\text{в}}(t_2 - t_3) + C_{\text{ш}}(t_2 - t_3) = C_{\text{ш}}(t_3 - t_0)$ (когда положили второй шарик). Исключая из этих соотношений $C_{\text{в}}$ и $C_{\text{ш}}$, получаем:

$$t_3 = \frac{t_2(t_1 - t_0) + t_0(t_1 - t_2)}{2t_1 - t_2 - t_0} = 50^\circ\text{C}.$$

$$\text{О т в е т. } t_3 = 50^\circ\text{C}.$$

2.3.34. В стакане находится некоторое количество воды, нагретой до температуры $t_1 = 60^\circ\text{C}$. В стакан кладут металлический шарик, имеющий тем-

пературу $t_0 = 20^\circ\text{C}$, а некоторое время спустя — еще два таких же шарика при той же температуре. В результате в стакане устанавливается температура $t_3 = 50^\circ\text{C}$. Какова была установившаяся температура t_2 в стакане после того, как в него был опущен первый шарик? Теплообменом с окружающей средой пренебречь.

Решение. Пусть $C_{\text{в}}$ и $C_{\text{ш}}$ — теплоемкости стакана с водой и шарика, соответственно. Запишем уравнения теплового баланса для двух процессов теплообмена: $C_{\text{в}}(t_1 - t_2) = C_{\text{ш}}(t_2 - t_0)$ (когда положили первый шарик), $C_{\text{в}}(t_2 - t_3) + C_{\text{ш}}(t_2 - t_3) = 2C_{\text{ш}}(t_3 - t_0)$ (когда положили второй и третий шарики). Исключая из этих соотношений $C_{\text{в}}$ и $C_{\text{ш}}$, получаем:

$$t_2 = \frac{2t_1(t_3 - t_0) + t_3(t_1 - t_0)}{t_1 + 2t_3 - 3t_0} = 56^\circ\text{C}.$$

О т в е т. $t_2 = 56^\circ\text{C}$.

2.3.35. Лазер излучает световые импульсы с энергией $E = 0,1$ Дж каждый. Частота повторения импульсов $f = 10$ Гц. Коэффициент полезного действия лазера, определяемый как отношение излучаемой энергии к энергии, потребляемой от электрической сети, составляет $\eta = 0,01$. Какой объем воды V нужно пропустить через охлаждающую систему лазера за время $\tau = 1$ ч, чтобы вода нагрелась не более, чем на $\Delta t = 10^\circ\text{C}$? Удельная теплоемкость воды $c = 4,2$ Дж/(г·К), плотность воды $\rho = 1$ г/см³.

Решение. Мощность излучения лазера равна произведению энергии одного импульса на частоту повторения: $N_{\text{изл}} = Ef$. Потребляемая лазером мощность по определению КПД есть $N_{\text{л}} = \frac{N_{\text{изл}}}{\eta}$. Следовательно, мощность, которая должна быть отведена от лазера с помощью системы охлаждения, составляет величину $N_{\text{охл}} = N_{\text{л}} - N_{\text{изл}} = \frac{N_{\text{изл}}(1 - \eta)}{\eta}$. Количество теплоты, отводимое системой охлаждения за время τ , т. е. $Q_{\text{охл}} = N_{\text{охл}}\tau$, может быть выражено с использованием уравнения теплового баланса как $Q_{\text{охл}} = \rho V c \Delta t$.


Объединяя записанные соотношения, получаем: $V = \frac{Ef\tau}{\rho c \Delta t} \left(\frac{1 - \eta}{\eta} \right) \approx 8,49$ л.

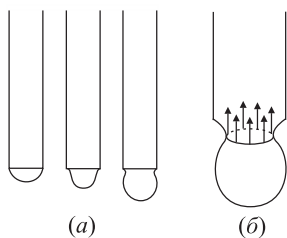
О т в е т. $V \approx 8,49$ л.

2.4. Поверхностное натяжение в жидкостях

2.4.1. Какова масса m капли воды, вытекающей из стеклянной трубки внутренним диаметром $d = 1$ мм, если считать, что диаметр шейки капли в момент отрыва равен диаметру трубки (см. рисунок)? Поверхностное натяжение воды $\sigma = 73$ мН/м. Ускорение свободного падения принять $g = 10$ м/с².

Решение. Процесс образования капли, вытекающей из трубки, схематично изображен на рисунке (а). Перед отрывом капли образу-





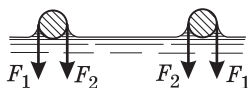
ется шейка, диаметр которой, вообще говоря, несколько меньше внутреннего диаметра трубки. Сила поверхностного натяжения воды, действующая перпендикулярно окружности этой шейки (рисунок (б)), удерживает каплю от падения. Отрыв капли происходит при выполнении условия $\pi d_{\text{ш}} \sigma = mg$, где $d_{\text{ш}}$ — диаметр шейки. Полагая приближенно, что диаметр шейки равен внутреннему диаметру трубки, получаем: $m = \frac{\pi d \sigma}{g} = 0,023 \text{ г}$.

$$m = \frac{\pi d \sigma}{g} = 0,023 \text{ г}$$

Ответ. $m = 0,023 \text{ г}$.

2.4.2. Горизонтально расположенное проволочное кольцо массой m и радиусом R касается поверхности воды. Какую вертикальную силу F необходимо приложить, чтобы оторвать кольцо от поверхности воды? Проволока смачивается водой. Диаметр проволоки считать пренебрежимо малым. Поверхностное натяжение воды σ . Ускорение свободного падения g .

Решение. На рисунке изображено сечение кольца вертикальной плоскостью, проходящей через его центр. Там же показаны модули сил поверхностного натяжения, действующих по внешнему (F_1) и внутреннему (F_2) периметрам кольца в момент его отрыва от поверхности воды. Величины этих сил равны, соответственно, $F_1 = 2\pi R_1 \sigma$, $F_2 = 2\pi R_2 \sigma$,



где R_1 и R_2 — внешний и внутренний радиусы кольца. Поскольку диаметр проволоки пренебрежимо мал, $R_1 \approx R_2 \approx R$. Условие равновесия кольца в момент отрыва имеет вид: $F = mg + F_1 + F_2$.

Ответ. $F = mg + 4\pi R \sigma$.

2.4.3. Для изготовления ртутного барометра взяли стеклянную трубку внутренним диаметром $d = 3 \text{ мм}$. Какую поправку Δh нужно вносить в показания барометра, если учесть поверхностное натяжение ртути? Ртуть не смачивает стекло. Поверхностное натяжение ртути $\sigma = 510 \text{ мН/м}$, плотность ртути $\rho = 13,6 \text{ г/см}^3$. Ускорение свободного падения принять $g = 10 \text{ м/с}^2$.

Решение. В отсутствие капиллярных эффектов равновесие ртути в трубке достигается при выполнении равенства $\rho g h_0 = p_0$, где h_0 — высота столба ртути, p_0 — атмосферное давление. Поскольку ртуть не смачивает стекло, поверхность ртути в трубке образует выпуклый мениск. Полагая, что радиус мениска r совпадает с радиусом трубки, находим, что давление ртути в трубке непосредственно под искривленной поверхностью равно $2\sigma/r$. Следовательно, с учетом капиллярных явлений условие равновесия

ртути принимает вид: $\rho g h_1 + \frac{2\sigma}{r} = p_0$. Влияние поверхностного натяжения ртути сводится к тому, что высота столба ртути в трубке при неизменном атмосферном давлении уменьшается на величину $\Delta h = h_0 - h_1 = \frac{2\sigma}{\rho g r} = \frac{4\sigma}{\rho g d}$.

Поэтому для правильного измерения атмосферного давления нужно прибавлять к показаниям барометра $\Delta h = \frac{4\sigma}{\rho g d} \approx 5$ мм.

О т в е т. $\Delta h \approx 5$ мм.

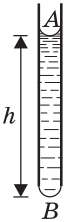
2.4.4. Длинную стеклянную трубку с внутренним диаметром $d = 1,6$ мм заполнили водой и перевели в вертикальное положение. Найдите массу воды m , оставшейся в трубке после того, как часть воды вылилась. Поверхностное натяжение воды $\sigma = 73$ мН/м. Ускорение свободного падения принять $g = 10$ м/с².

Р е ш е н и е. Поскольку вода смачивает стекло, поверхность воды образует внутри трубки вогнутый мениск, а на нижнем торце трубки — выпуклый мениск (см. рисунок). Давления воды в точках A и B соответственно

равны: $p_A = p_0 - \frac{2\sigma}{r}$, $p_B = p_0 + \frac{2\sigma}{r}$, где p_0 — атмосферное давление,

$r = d/2$ — радиус трубки. Условие равновесия воды, оставшейся в трубке, имеет вид: $p_A + \rho g h = p_B$. Отсюда высота столбика воды,

удерживаемого в трубке силами поверхностного натяжения, $h = \frac{4\sigma}{\rho g r}$.



Учитывая, что масса воды $m = \rho \pi r^2 h$, получаем: $m = \frac{2\sigma \pi d}{g} \approx 0,073$ г.

О т в е т. $m \approx 0,073$ г.

2.4.5. В дне чайника имеется круглое отверстие диаметром $d = 1$ мм. До какой высоты h можно налить воду в чайник, чтобы она не выливалась через отверстие? Поверхностное натяжение воды $\sigma = 73$ мН/м, плотность воды $\rho = 1$ г/см³. Ускорение свободного падения принять $g = 10$ м/с².

Р е ш е н и е. Выделим мысленно вертикальный столбик воды сечением $\pi d^2/4$ расположенный над отверстием. Этот столбик ограничен снизу сферической поверхностью воды, образующей мениск радиусом $d/2$. Избыточное давление, создаваемое искривленной поверхностью воды в нижней точке рассматриваемого столбика, равно $4\sigma/d$. Столбик находится в равновесии,

если выполнено условие $\rho g h = \frac{4\sigma}{d}$. Отсюда легко найти: $h = \frac{4\sigma}{\rho g d} \approx 2,9$ см.

О т в е т. $h \approx 2,9$ см.

2.4.6. Высота подъема воды в капиллярной трубке, помещенной вертикально в сосуд с водой у подножия горы, составляет h_0 . На какую величину Δh изменится высота поднятия воды в этой трубке, если перенести ее вместе с сосудом на вершину горы? Разность уровней между вершиной и подножием горы равна H , радиус Земли R .

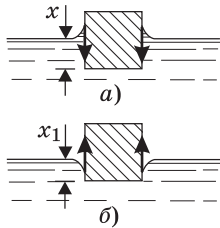
Р е ш е н и е. Пусть ускорение свободного падения у подножия горы g_0 . Поскольку поверхность воды в трубке образует вогнутый мениск, условие равновесия столбика воды в трубке имеет вид: $\rho g_0 h_0 = \frac{2\sigma}{r}$, где ρ — плотность воды; h_0 — высота столбика; σ — поверхностное натяжение воды; r —

радиус трубки. Отсюда $h_0 = \frac{2\sigma}{\rho g_0 r}$. Рассуждая аналогично, находим, что на вершине горы высота столбика воды равна $h = \frac{2\sigma}{\rho g r}$, где $g = \frac{g_0}{(1 + H/R)^2}$ — ускорение свободного падения на вершине горы. Учитывая, что $\Delta h = h - h_0$, получаем: $\Delta h = \frac{Hh}{R} \left(2 + \frac{H}{R} \right) \approx \frac{2Hh}{R}$.

О т в е т. $\Delta h \approx \frac{2Hh}{R}$.

2.4.7. Смачиваемый водой кубик массой $m = 4$ г плавает на поверхности воды так, что его верхняя грань горизонтальна. Длина ребра кубика $a = 3$ см. На каком расстоянии x от поверхности воды находится нижняя грань кубика? На какую величину Δx изменится глубина погружения кубика, если покрыть его тонким слоем парафина, который не смачивается водой? Поверхностное натяжение воды $\sigma = 73$ мН/м, плотность воды $\rho = 1$ г/см³. Ускорение свободного падения принять $g = 10$ м/с².

Р е ш е н и е. На рисунке (а) изображены силы поверхностного натяжения, действующие на смачиваемый водой кубик. Условие равновесия кубика имеет вид: $F_A - mg - 4a\sigma = 0$, где $F_A = \rho a^2 x g$ — архимедова



сила. Отсюда глубина погружения смачиваемого водой кубика $x = \frac{mg + 4a\sigma}{a^2 \rho g} \approx 5,4$ мм. Когда кубик покрывают

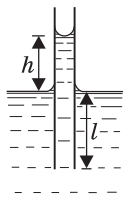
парафином, силы поверхностного натяжения меняют направление на противоположное (см. рисунок (б)), и условие равновесия плавающего кубика принимает вид:

$$\rho a^2 x_1 g - mg + 4a\sigma = 0, \quad \text{откуда} \quad x_1 = \frac{mg - 4a\sigma}{a^2 \rho g} \approx 3,5 \text{ мм.}$$

Следовательно, глубина погружения кубика уменьшится на $\Delta x = x - x_1 = \frac{8\sigma}{\rho g a} \approx 1,9$ мм.

О т в е т. $x \approx 5,4$ мм; $\Delta x \approx 1,9$ мм.

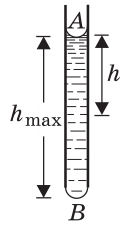
2.4.8. В капиллярной трубке, опущенной вертикально в воду на глубину l , вода поднялась на высоту h . Нижний конец трубки закрыли, вынули ее из воды и снова открыли, сохранив вертикальное положение трубки. Определите высоту h_1 столбика воды, оставшейся в трубке.



Р е ш е н и е. Поскольку вода смачивает стекло, поверхность воды образует внутри трубки вогнутый мениск, а на нижнем торце трубки, вынутой из воды — выпуклый мениск (см. рисунок). Давления воды в точках А и В соответственно равны:

$p_A = p_0 - \frac{2\sigma}{r}, \quad p_B = p_0 + \frac{2\sigma}{r}$, где p_0 — атмосферное давление, $r = d/2$ — радиус трубки. Условие равновесия воды, оставшейся в трубке, имеет вид: $p_A + \rho g h = p_B$. Отсюда максимальная высота столбика воды,

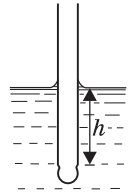
удерживаемого в трубке силами поверхностного натяжения, $h_{\max} = \frac{4\sigma}{\rho gr}$. Эта высота в 2 раза больше высоты $h = \frac{2\sigma}{\rho gr}$ подъема воды в трубке, погруженной в воду. Таким образом, если глубина погружения нижнего конца трубки $l > h$, то при вытаскивании трубки из воды часть воды выльется, и в трубке останется столбик воды высотой $h_1 = 2h$. Если же $l \leq h$, то вода из трубки не выльется и $h_1 = h + l$.



Отв е т. $h_1 = 2h$ при $l > h$; $h_1 = h + l$ при $l \leq h$.

2.4.9. Конец стеклянной капиллярной трубки радиусом $r = 0,5$ мм опущен в воду на глубину $h = 2$ см. Какое избыточное давление p необходимо создать в трубке, чтобы выдуть пузырек воздуха через ее нижний конец? Поверхностное натяжение воды $\sigma = 73$ мН/м, плотность воды $\rho = 1$ г/см³. Ускорение свободного падения принять $g = 10$ м/с².

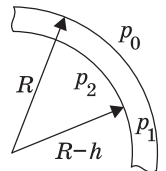
Решение. Для того чтобы вытеснить воду из трубки, необходимо создать внутри нее избыточное давление воздуха $p_1 = \rho gh$, равное гидростатическому давлению воды на глубине h . При дальнейшем повышении давления в трубке на ее нижнем торце будет образовываться пузырек воздуха. Давление воздуха внутри пузырька радиусом r , обусловленное гидростатическим давлением воды и ее поверхностным натяжением, $p = p_1 + \frac{2\sigma}{r}$.



Отв е т. $p = \rho gh + \frac{2\sigma}{r} = 490$ Па.

2.4.10. На какую величину Δp давление воздуха внутри мыльного пузыря больше атмосферного давления, если диаметр пузыря $D = 10$ см? Какую работу A нужно совершить, чтобы выдуть такой пузырек? Поверхностное натяжение мыльного раствора $\sigma = 40$ мН/м. Толщину мыльной пленки, образующей пузырек, считать пренебрежимо малой.

Решение. Мыльная пленка образует две поверхности: внешнюю и внутреннюю. Сечение пленки изображено на рисунке, где через h обозначена ее толщина. Давления в толще пленки и внутри пузыря определяются формулами: $p_1 = p_0 + \frac{2\sigma}{R}$, $p_2 = p_1 + \frac{2\sigma}{R-h}$. Пренебрегая толщиной пленки, получаем для разности давлений внутри и снаружи пузыря следующее выражение: $\Delta p = p_2 - p_0 = \frac{4\sigma}{R} = \frac{8\sigma}{D}$. Таким образом, избыточное давление



внутри пузыря создается двумя поверхностями мыльной пленки. Работа по выдуванию пузыря равна изменению поверхностной энергии пленки ΔU . Считая, что площадь сечения трубки, из которой выдувают пузырек, мала, находим: $\Delta U = 2\sigma \cdot \Delta S = 2\sigma \cdot \pi D^2$.

Отв е т. $\Delta p = \frac{8\sigma}{D} \approx 3,2$ Па; $A = 2\pi\sigma D^2 \approx 2,5 \cdot 10^{-3}$ Дж.

2.5. Тепловое расширение твердых тел и жидкостей

2.5.1. Диаметр стеклянной пробки, застрявшей в горлышке флакона, $d_0 = 2,5$ см. Чтобы вынуть пробку, горлышко нагрели до температуры $t_1 = 150$ °С. Сама пробка успела при этом нагреться до температуры $t_2 = 50$ °С. Какой зазор l между горлышком и пробкой образовался при этом? Температурный коэффициент линейного расширения стекла $\alpha_1 = 8 \cdot 10^{-6}$ К⁻¹.

Решение. Пусть t_0 — начальная температура флакона и пробки. В соответствии с законом теплового линейного расширения диаметры горлышка флакона d_1 и пробки d_2 при нагревании станут равными: $d_1 = d_0[1 + \alpha_1(t_1 - t_0)]$, $d_2 = d_0[1 + \alpha_1(t_2 - t_0)]$. Зазор между горлышком и пробкой определяется как $l = \frac{d_1 - d_2}{2}$.

$$\text{О т в е т. } l = \frac{d_0 \alpha_1 (t_1 - t_2)}{2} = 0,01 \text{ мм.}$$

2.5.2. Как должны относиться длины l_1 и l_2 двух стержней, изготовленных из разных материалов с температурными коэффициентами линейного расширения α'_1 и α''_1 , чтобы при любой температуре из заданного интервала разность длин стержней оставалась постоянной? Считать, что α'_1 и α''_1 в этом интервале температур постоянны.

Решение. Пусть при исходной температуре длины стержней составляют l_1 и l_2 . При повышении температуры стержней на Δt длины стержней станут: $l'_1 = l_1 + l_1 \alpha'_1 \Delta t$, $l'_2 = l_2 + l_2 \alpha''_1 \Delta t$. Разность этих длин равна $l'_2 - l'_1 = l_2 - l_1 + (l_2 \alpha''_2 - l_1 \alpha'_1) \Delta t$. По условию, $l'_2 - l'_1 = l_2 - l_1$. Следовательно, $l_2 \alpha''_2 = l_1 \alpha'_1$.

$$\text{О т в е т. } \frac{l_1}{l_2} = \frac{\alpha''_1}{\alpha'_1}.$$

2.5.3. Какое количество теплоты Q нужно сообщить стальному рельсу площадью сечения $S = 20$ см², чтобы он удлинился на $\Delta l = 6$ мм? Плотность стали $\rho = 7,8 \cdot 10^3$ кг/м³, удельная теплоемкость $c = 460$ Дж/(кг·К), температурный коэффициент линейного расширения $\alpha_1 = 1,2 \cdot 10^{-5}$ К⁻¹.

Решение. По закону линейного теплового расширения, абсолютное удлинение рельса $\Delta l = l_0 \alpha_1 \Delta t$, где l_0 — первоначальная длина рельса, Δt — повышение его температуры. Отсюда $\Delta t = \frac{\Delta l}{l_0 \alpha_1}$. Количество теплоты, которое нужно сообщить рельсу, чтобы повысить его температуру на Δt , $Q = cm \Delta t$, где $m = \rho S l_0$ — масса рельса. Объединяя записанные выражения, получаем:

$$Q = c \rho S \frac{\Delta l}{\alpha_1} = 3,6 \cdot 10^6 \text{ Дж.}$$

$$\text{О т в е т. } Q = 3,6 \cdot 10^6 \text{ Дж.}$$

2.5.4. Латунный сосуд при нагревании увеличился в объеме на $\eta = 0,6\%$. Найти увеличение Δt температуры сосуда, если температурный коэффициент линейного расширения латуни $\alpha_1 = 2 \cdot 10^{-5} \text{ К}^{-1}$.

Решение. Пусть V_0 — первоначальный объем сосуда. По закону объемного теплового расширения, объем сосуда при повышении его температуры на Δt станет $V = V_0(1 + 3\alpha_1\Delta t)$. По условию, $\eta = \frac{V - V_0}{V_0} \cdot 100\%$. Подставляя в эту формулу найденное V , получаем, что $\eta = 3\alpha_1\Delta t \cdot 100\%$.

$$\text{О т в е т. } \Delta t = \frac{\eta}{3\alpha_1 \cdot 100\%} = 100 \text{ }^\circ\text{C}.$$

2.5.5. Сообщающиеся сосуды заполнены жидкостью, имеющей температуру t_1 . При нагревании жидкости в одном из сосудов до температуры t_2 уровень жидкости в этом сосуде установился на высоте h_2 , а в другом сосуде — на высоте h_1 . Найти температурный коэффициент объемного расширения жидкости α . Тепловым расширением сосудов пренебречь.

Решение. Равновесие жидкости достигается при равенстве гидростатических давлений у дна сосудов, т. е. при выполнении условия: $\rho_1 g h_1 = \rho_2 g h_2$, где ρ_1 и ρ_2 — плотности жидкости при температурах t_1 и t_2 соответственно.

Согласно закону объемного теплового расширения $\rho_2 = \frac{\rho_1}{1 + \alpha(t_2 - t_1)}$. Объединяя записанные соотношения, получаем: $\alpha = \frac{h_2 - h_1}{h_1(t_2 - t_1)}$


$$\text{О т в е т. } \alpha = \frac{h_2 - h_1}{h_1(t_2 - t_1)}.$$

2.5.6. Определите объем V_0 шарика ртутного термометра, если известно, что при температуре $t_0 = 0 \text{ }^\circ\text{C}$ ртуть заполняет только шарик, а объем трубки термометра между делениями, соответствующими температурам $t_0 = 0 \text{ }^\circ\text{C}$ и $t_1 = 100 \text{ }^\circ\text{C}$, равен $V = 3 \text{ мм}^3$. Температурный коэффициент объемного расширения ртути $\alpha = 1,8 \cdot 10^{-4} \text{ К}^{-1}$, температурный коэффициент линейного расширения стекла $\alpha_1 = 8 \cdot 10^{-6} \text{ К}^{-1}$.

Решение. По условию V_0 — объем шарика термометра при температуре $t_0 = 0 \text{ }^\circ\text{C}$. При температуре $t_1 = 100 \text{ }^\circ\text{C}$ объем шарика и трубки составляет величину $(V_0 + V)(1 + 3\alpha_1(t_1 - t_0))$. Этот объем равен объему ртути $V_0(1 + \alpha(t_1 - t_0))$ при той же температуре. Из равенства $(V_0 + V)(1 + 3\alpha_1(t_1 - t_0)) = V_0(1 + \alpha(t_1 - t_0))$ получаем: $V_0 = V \frac{1 + 3\alpha_1(t_1 - t_0)}{(\alpha - 3\alpha_1)(t_1 - t_0)} \approx 192 \text{ мм}^3$.

$$\text{О т в е т. } V_0 \approx 192 \text{ мм}^3.$$

2.5.7. В колбу, плотно закрытую пробкой со вставленной в нее трубкой, до самой пробки налит спирт. На какую величину Δp изменится давление на дно колбы при нагревании спирта на $\Delta t = 30 \text{ }^\circ\text{C}$, если объем колбы $V_0 = 2 \text{ л}$, высота ее $h_0 = 20 \text{ см}$, сечение трубки $S = 2 \text{ см}^2$? Температурный ко-



эффицент объемного расширения спирта $\alpha = 1,1 \cdot 10^{-3} \text{ К}^{-1}$, его плотность при начальной температуре $\rho_0 = 0,8 \cdot 10^3 \text{ кг/м}^3$. Тепловым расширением колбы и трубки пренебречь. Ускорение свободного падения принять $g = 10 \text{ м/с}^2$.

Решение. По условию, при исходной температуре объем спирта равен V_0 , а его плотность — ρ_0 . Когда температуру спирта повышают на Δt , его объем и плотность становятся, соответ-

ственно, $V = V_0(1 + \alpha\Delta t)$, $\rho = \frac{\rho_0 V_0}{V_1} = \frac{\rho_0}{1 + \alpha\Delta t}$. Высота уровня

спирта при исходной температуре равна h_0 , а при нагревании спирта повысится до $h = \frac{V - V_0}{S} + h_0 = \frac{V_0\alpha\Delta t}{S} + h_0$. Изменение давления спирта на дно колбы при его нагревании равно $\Delta p = \rho gh - \rho_0 gh_0$. Объединяя записанные выражения, получаем: $\Delta p = \frac{\rho_0 g \alpha \Delta t (V_0 - h_0 S)}{S(1 + \alpha\Delta t)} \approx 2,5 \text{ кПа}$.

О т в е т. $\Delta p \approx 2,5 \text{ кПа}$.

2.5.8. В кварцевый сосуд объемом $V_0 = 2,5 \text{ л}$ помещен латунный цилиндр массой $m = 8,5 \text{ кг}$. Остальная часть сосуда доверху заполнена водой. При нагревании сосуда вместе с содержимым на $\Delta t = 3 \text{ }^\circ\text{С}$ уровень воды по отношению к верхнему краю сосуда не изменился. Найдите температурный коэффициент объемного расширения воды α в этом температурном интервале. Температурный коэффициент линейного расширения кварца $\alpha_{\text{кв}} = 4,2 \cdot 10^{-7} \text{ К}^{-1}$, латуни $\alpha_{\text{л}} = 2 \cdot 10^{-5} \text{ К}^{-1}$. Плотность латуни при начальной температуре $\rho_{\text{л}} = 8,5 \cdot 10^3 \text{ кг/м}^3$.

Решение. При нагревании на Δt объем сосуда V_0 увеличился на $\Delta V_1 = V_0 \cdot 3\alpha_{\text{кв}}\Delta t$, объем латунного цилиндра $V_2 = \frac{m}{\rho_{\text{л}}}$ увеличился

на $\Delta V_2 = \frac{m}{\rho_{\text{л}}} \cdot 3\alpha_{\text{л}}\Delta t$, объем воды изменился на $\Delta V = (V_0 - V_2)\alpha\Delta t$. Поскольку уровень воды в сосуде не изменился, $\Delta V_1 - \Delta V_2 - \Delta V = 0$. Подставляя в это равенство найденные выше приращения объемов, получаем:

$$\alpha = \frac{3(V_0\rho_{\text{л}}\alpha_{\text{кв}} - m\alpha_{\text{л}})}{V_0\rho_{\text{л}} - m} = -3,8 \cdot 10^{-5} \text{ К}^{-1}.$$

О т в е т. $\alpha = -3,8 \cdot 10^{-5} \text{ К}^{-1}$. Поскольку $\alpha < 0$, нагревание происходит в интервале температур от 0 до $4 \text{ }^\circ\text{С}$.

2.5.9. Поплавок объемом $V = 5 \text{ л}$ целиком погружен в жидкость и удерживается от всплывания нитью, закрепленной на дне. Начальная температура жидкости $t_1 = 10 \text{ }^\circ\text{С}$. На какую величину ΔF изменится сила натяжения нити, если жидкость нагреть до температуры $t_2 = 20 \text{ }^\circ\text{С}$? Температурный коэффициент объемного расширения жидкости в данном интервале температуры $\alpha = 1,5 \cdot 10^{-4} \text{ К}^{-1}$. Тепловым расширением поплавка пренебречь. Плот-

ность жидкости при температуре $t_0 = 0$ °С равна $\rho_0 = 10^3$ кг/м³. Ускорение свободного падения принять $g = 10$ м/с².


Решение. Изменение силы натяжения нити равно изменению архимедовой силы, действующей на поплавок: $\Delta F = V(\rho_2 - \rho_1)g$. Плотность жидкости меняется с температурой по закону $\rho(t) = \frac{\rho_0}{1 + \alpha(t - t_0)}$. Следовательно,

$$\Delta F = \frac{V\rho_0 g \alpha(t_1 - t_2)}{[1 + \alpha(t_2 - t_0)][1 + \alpha(t_1 - t_0)]}. \text{ Учитывая, что в рассматриваемом темпера-}$$

турном диапазоне $\alpha(t - t_0) \ll 1$ получаем: $\Delta F \approx V\rho_0 g \alpha(t_1 - t_2) = -7,5 \cdot 10^{-2}$ Н.

О т в е т. $\Delta F = -7,5 \cdot 10^{-2}$ Н. Сила натяжения нити уменьшится.

2.5.10. Два сообщающихся сосуда разного поперечного сечения заполнены жидкостью при температуре $t_0 = 0$ °С до высоты h . Площадь поперечного сечения правого сосуда S . Левый сосуд до высоты h имеет сечение площадью $2S$, а выше этого уровня — сечение площадью S . В правом сосуде температуру жидкости поддерживают неизменной и равной t_0 , а в левом сосуде жидкость нагревают до температуры t_1 . На какую величину $\Delta h_{\text{пр}}$ поднимется при этом уровень жидкости в правом сосуде? Температурный коэффициент объемного расширения жидкости равен α . Тепловым расширением сосудов и объемом соединительной трубки пренебречь.



Решение. Пусть ρ_0 — плотность жидкости при температуре t_0 . Тогда при температуре t_1 плотность жидкости будет $\rho_1 = \frac{\rho_0}{1 + \alpha(t_1 - t_0)}$. Поскольку

полная масса жидкости в сосудах не изменяется, справедливо равенство: $\rho_0(2S + S)h = \rho_1(2Sh + S\Delta h_{\text{л}}) + \rho_0S(h + \Delta h_{\text{пр}})$ где $\Delta h_{\text{л}}$ и $\Delta h_{\text{пр}}$ — перемещения уровней жидкости в левом и правом сосудах. Условие равновесия жидкости имеет вид: $\rho_1 g(h + \Delta h_{\text{л}}) = \rho_0 g(h + \Delta h_{\text{пр}})$. Объединяя записанные выражения,

$$\text{получаем: } \Delta h_{\text{пр}} = \frac{h\alpha(t_1 - t_0)}{2(1 + \alpha(t_1 - t_0))}.$$

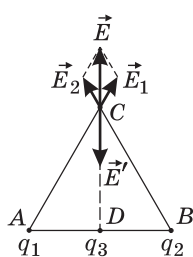
$$\text{О т в е т. } \Delta h_{\text{пр}} = \frac{h\alpha(t_1 - t_0)}{2(1 + \alpha(t_1 - t_0))}.$$

3. Электродинамика

3.1. Электростатика

3.1.1. В двух вершинах равностороннего треугольника помещены одинаковые заряды $q_1 = q_2 = q = 4$ мкКл. Какой точечный заряд q_3 необходимо поместить в середину стороны, соединяющей заряды q_1 и q_2 , чтобы напряженность электрического поля в третьей вершине треугольника оказалась равной нулю?

Решение. Заряды q_1 и q_2 создают в вершине C электрические поля \vec{E}_1 и \vec{E}_2 , направленные вдоль сторон AC и BC соответственно (см. рисунок),



причем $E_1 = E_2 = \frac{q}{4\pi\epsilon_0 a^2}$, где a — сторона треугольника.

Векторная сумма этих полей $\vec{E} = \vec{E}_1 + \vec{E}_2$ направлена вдоль высоты треугольника CD и по величине равна

$$E = 2E_1 \cos 30^\circ = \sqrt{3}E_1 = \frac{\sqrt{3}q}{4\pi\epsilon_0 a^2}.$$

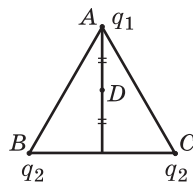
Суммарное поле в точке C будет равно нулю, если в точку D поместить отрицательный заряд q_3 , создающий в точке C поле $\vec{E}' = -\vec{E}$. Учиты-

вая, что расстояние между точками C и D равно $x = \sqrt{a^2 - \frac{a^2}{4}} = \frac{a\sqrt{3}}{2}$, имеем:

$$\frac{|q_3|}{3\pi\epsilon_0 a^2} = \frac{\sqrt{3}q}{4\pi\epsilon_0 a^2}. \text{ Отсюда легко найти: } q_3 = -\frac{3\sqrt{3}}{4}q = -5,2 \text{ мкКл.}$$

О т в е т. $q_3 = -5,2$ мкКл.

3.1.2. Три положительных заряда расположены в вершинах равностороннего треугольника ABC . Величина заряда, находящегося в точке A , равна q_1 ; величины зарядов в точках B и C равны q_2 . Найти отношение $\alpha = q_2 / q_1$, если напряженность электрического поля, создаваемого этими тремя зарядами в точке D , лежащей на середине высоты, опущенной из вершины A на сторону BC , равна нулю.



Решение. Обозначим через a сторону треугольника. Тогда расстояния между точкой D и вершинами треугольника (см. рисунок) запишем как: $AD = r_1 = a \frac{\sqrt{3}}{4}$,

$$BD = CD = r_2 = \sqrt{\left(\frac{a}{2}\right)^2 + \left(\frac{a\sqrt{3}}{4}\right)^2} = a \frac{\sqrt{7}}{4}.$$

Модули напряженностей полей,

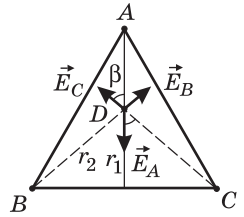
создаваемых в точке D зарядами, расположенными

в точках A, B и C , равны: $E_A = \frac{q_1}{4\pi\epsilon_0 r_1^2}$, $E_B = E_C = \frac{q_2}{4\pi\epsilon_0 r_2^2}$.

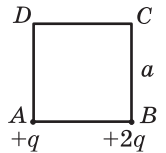
Суммарное поле в точке D будет равно нулю при выполнении условия: $E_A = 2E_B \cos\beta = 2E_B \frac{r_1}{r_2}$.

Комбинируя записанные выражения, получаем: $\alpha = \frac{q_2}{q_1} = \frac{7}{6}\sqrt{\frac{7}{3}} \approx 1,8$.

О т в е т. $\alpha \approx 1,8$.



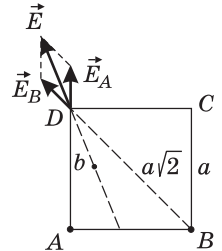
3.1.3. Два точечных заряда $+q$ и $+2q$, расположенные, соответственно, в вершинах A и B квадрата $ABCD$ со стороной $a = 1$ м, создают в вершине D электрическое поле напряженностью \vec{E} . В какую точку нужно поместить третий точечный заряд $-q$, чтобы напряженность суммарного электрического поля, создаваемого всеми тремя зарядами в вершине D , стала равна $-\vec{E}$?



Р е ш е н и е. Заряды, расположенные в точках A и B , создают в точке D электрические поля, модули которых равны:

$E_A = \frac{q}{4\pi\epsilon_0 a^2}$, $E_B = \frac{2q}{4\pi\epsilon_0 (a\sqrt{2})^2} = E_A$. Сумма этих полей направлена вдоль биссектрисы $\angle ADB$ (см. рисунок) и по модулю равна: $E = 2E_A \cos\frac{\pi}{8}$. Для того чтобы поле в точке D , оставаясь тем же самым по величине, переменяло знак на противоположный, заряд $-q$ должен создать в этой точке поле $-2\vec{E}$, направленное против поля \vec{E} .

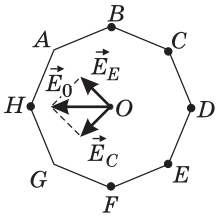
Следовательно, этот заряд нужно поместить внутри квадрата на биссектрисе $\angle ADB$ на таком расстоянии b от точки D , чтобы выполнялось равенство: $2\frac{q}{4\pi\epsilon_0 a^2} \cdot 2\cos\frac{\pi}{8} = \frac{q}{4\pi\epsilon_0 b^2}$. Отсюда находим искомое расстояние: $b = \frac{a}{2\sqrt{\cos\pi/8}}$.



О т в е т. Заряд $-q$ нужно поместить внутри квадрата на биссектрисе $\angle ADB$ на расстоянии $b = \frac{a}{2\sqrt{\cos\pi/8}} = \frac{a}{\sqrt[4]{8+4\sqrt{2}}} \approx 0,5$ м от точки D .

3.1.4. В окружность радиусом $R = 3$ см с центром в точке O вписан правильный восьмиугольник $ABCDEFGH$. В шести вершинах восьмиугольника помещены одинаковые положительные заряды так, что вектор \vec{E}_0 напряженности в точке O направлен по отрезку OH . Чему равен модуль поля E_0 , если величина каждого из зарядов $q = 10^{-9}$ Кл? Электрическая постоянная $\epsilon_0 = 8,85 \cdot 10^{-12}$ Ф/м.

Решение. Для того чтобы поле в центре восьмиугольника было направлено по отрезку OH , нужно разместить заряды в вершинах B, C, D, E, F, H . В самом деле сумма полей \vec{E}_E и \vec{E}_C , создаваемых в точке O зарядами, находящимися в вершинах E и C соответственно, направлена по отрезку OH , а поле, создаваемое остальными зарядами, в силу их симметрии относительно точки O обращается в нуль. Поскольку $E_E = E_C$ и $\angle AOG = 90^\circ$,



$$\text{то } E_0 = \frac{q\sqrt{2}}{4\pi\epsilon_0 R^2} \approx 14,1 \text{ кВ.}$$

Ответ. $E_0 \approx 14,1$ кВ.

3.1.5. Три положительных точечных электрических заряда находятся в вакууме и расположены в вершинах равностороннего треугольника со стороной $a = 1$ м. Силы отталкивания зарядов составляют: первого и второго: $F_{12} = 1$ Н; первого и третьего: $F_{13} = 2$ Н; второго и третьего: $F_{23} = 3$ Н. Вычислить величину заряда q_3 . Электрическая постоянная $\epsilon_0 = 8,85 \cdot 10^{-12}$ Ф/м.

Решение. По закону Кулона имеем: $F_{12} = \frac{q_1 q_2}{4\pi\epsilon_0 a^2}$, $F_{13} = \frac{q_1 q_3}{4\pi\epsilon_0 a^2}$, $F_{23} = \frac{q_2 q_3}{4\pi\epsilon_0 a^2}$. Исключая из этих равенств q_1 и q_2 , получаем: $q_3 = a \sqrt{4\pi\epsilon_0 \frac{F_{13} F_{23}}{F_{12}}} \approx 2,57 \cdot 10^{-5}$ Кл.

Ответ. $q_3 \approx 2,57 \cdot 10^{-5}$ Кл.

3.1.6. К нитям длиной l , точки подвеса которых находятся на одном уровне на расстоянии L друг от друга, подвешены два одинаковых маленьких шарика массами m каждый. При сообщении им одинаковых по величине разноименных зарядов шарики сблизилась до расстояния L_1 . Определить величину зарядов q , сообщенных шарикам. Ускорение свободного падения g .

Решение. Шарики находятся в равновесии под действием сил, модули и направления которых изображены на рисунке, где через T обозначен модуль силы тяжести, через F_K — модуль кулоновской силы, действующей на каждый из шариков, равный

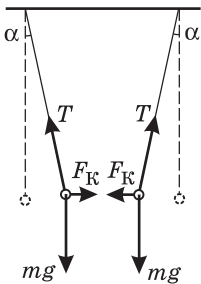
$F_K = \frac{q^2}{4\pi\epsilon_0 L_1^2}$. Вводя угол α между нитью вертикалью, запишем условия равновесия шариков в проекциях на горизонтальную и вертикальную оси:

$F_K = T \sin \alpha$, $mg = T \cos \alpha$. Исключая отсюда T , получаем:

$F_K = mg \operatorname{tg} \alpha = mg \frac{L - L_1}{\sqrt{4l^2 - (L - L_1)^2}}$. Используя для кулоновской силы записанное выше выражение, получаем:

$$q = 2L_1 \sqrt{\pi\epsilon_0 \frac{mg(L - L_1)}{\sqrt{4l^2 - (L - L_1)^2}}}.$$

Ответ. $q = 2L_1 \sqrt{\pi\epsilon_0 \frac{mg(L - L_1)}{\sqrt{4l^2 - (L - L_1)^2}}}.$

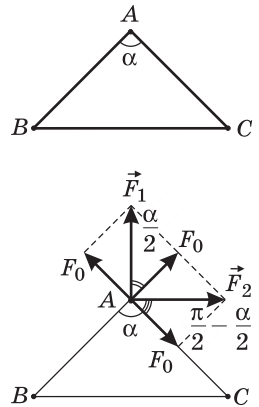


3.1.7. Три одинаковых заряда расположены в вершинах равнобедренного треугольника с углом $\alpha = 90^\circ$ при вершине A . Во сколько раз k изменится величина силы, действующей на заряд в точке A , если знак заряда в точке C изменить на противоположный?

Решение. Силы, действующие на заряд, находящийся в точке A , в первом (\vec{F}_1) и во втором (\vec{F}_2) случаях изображены на рисунке. Обозначив через F_0 модуль силы взаимодействия зарядов, находящихся в точках A и C , равный модулю силы взаимодействия зарядов, находящихся в точках A и B , имеем: $F_1 = 2F_0 \cos \frac{\alpha}{2}$,

$$F_2 = 2F_0 \cos \left(\frac{\pi}{2} - \frac{\alpha}{2} \right) = 2F_0 \sin \frac{\alpha}{2}.$$

Отв е т. $k = \operatorname{tg} \frac{\alpha}{2} = 1.$

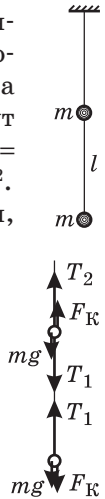


3.1.8. Два одинаковых маленьких шарика массами $m = 10$ г, заряженные одинаковыми зарядами $q = 2 \cdot 10^{-6}$ Кл, закреплены на непроводящей нити, подвешенной на штативе. При какой длине l отрезка нити между шариками оба отрезка нити (верхний и нижний) будут испытывать одинаковое натяжение? Электрическая постоянная $\epsilon_0 = 8,85 \cdot 10^{-12}$ Ф/м, ускорение свободного падения принять $g = 10$ м/с².

Решение. Шарiki находятся в равновесии под действием сил, модули и направления которых изображены на рисунке, где mg — модуль силы тяжести; T_1 и T_2 — модули сил натяжения нижнего и верхнего отрезков нити; F_K — модуль силы кулоновского отталкивания шариков. Условие равновесия верхнего шарика имеет вид: $mg + T_1 = F_K + T_2$. Полагая $T_1 = T_2$, находим, что $F_K = mg$.

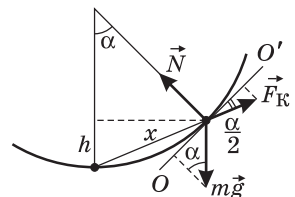
По закону Кулона $F_K = \frac{q^2}{4\pi\epsilon_0 l^2}$.

Отв е т. $l = \frac{q}{\sqrt{4\pi\epsilon_0 mg}} \approx 0,6$ м.



3.1.9. Два маленьких тела с равными зарядами q расположены на внутренней поверхности гладкой непроводящей сферы радиуса R . Первое тело закреплено в нижней точке сферы, а второе может свободно скользить по ее поверхности. Найти массу второго тела, если известно, что в состоянии равновесия оно находится на высоте h от нижней точки поверхности сферы.

Решение. Заряженное тело, способное свободно скользить по гладкой сферической поверхности, займет положение равновесия, когда сумма действующих на него сил окажется равной нулю. Эти силы показаны на рисунке, где $m\vec{g}$ — сила тяжести, \vec{N} — сила реакции поверхности, \vec{F}_K — сила кулоновского отталкивания зарядов. Условие равновесия заряженного тела



удобно записать в проекции на касательную к сфере, проведенную в плоскости рисунка (линию OO'). С учетом известной из геометрии теоремы об угле, образованном касательной и хордой, имеем: $mg \sin \alpha = F_K \cos \frac{\alpha}{2}$, или

$2mg \sin \frac{\alpha}{2} = F_K$. В соответствии с законом Кулона $F_K = \frac{q^2}{4\pi\epsilon_0 x^2}$, причем расстояние между заряженными телами x , как видно из рисунка, равно: $x = 2R \sin \frac{\alpha}{2}$.

Из рисунка также видно, что высота h , на которую поднимается заряженное тело, выражается как $h = R(1 - \cos \alpha) = 2R \sin^2 \frac{\alpha}{2}$. Отсюда $\sin \frac{\alpha}{2} = \sqrt{\frac{h}{2R}}$. Объ-

единя записанные выражения, получаем: $m = \frac{q^2}{32\pi\epsilon_0 g R^2} \left(\frac{2R}{h}\right)^{3/2}$.

О т в е т. $m = \frac{q^2}{32\pi\epsilon_0 g R^2} \left(\frac{2R}{h}\right)^{3/2}$.

3.1.10. Два удаленных друг от друга на большое расстояние металлических шара радиусами $r_1 = 5$ см и $r_2 = 10$ см, несущие заряды $q_1 = 2 \cdot 10^{-9}$ Кл и $q_2 = -10^{-9}$ Кл соответственно, соединяют тонким проводом. Какой заряд q протечет при этом по проводу?

Решение. Поскольку по условию задачи шары достаточно удалены друг от друга, их потенциалы до соединения проводом можно определить по формуле для потенциала уединенной заряженной сферы. Имеем:

$\varphi_1 = \frac{q_1}{4\pi\epsilon_0 r_1}$, $\varphi_2 = \frac{q_2}{4\pi\epsilon_0 r_2}$. После соединения шаров проводом заряды на них перераспределяются так, что потенциалы шаров станут равными друг другу,

т. е. $\varphi'_1 = \frac{q'_1}{4\pi\epsilon_0 r_1} = \varphi'_2 = \frac{q'_2}{4\pi\epsilon_0 r_2}$. Следовательно, $\frac{q'_1}{r_1} = \frac{q'_2}{r_2}$. Пренебрегая емкостью провода, запишем закон сохранения заряда в системе: $q'_1 + q'_2 = q_1 + q_2$.

Из последних двух уравнений находим заряды на шарах после их соединения: $q'_1 = \frac{q_1 + q_2}{r_1 + r_2} r_1$, $q'_2 = \frac{q_1 + q_2}{r_1 + r_2} r_2$. По проводу протечет заряд $q = q_1 - q'_1 = q_1 - \frac{q_1 + q_2}{r_1 + r_2} r_1 = q_2 - q'_2 = q'_2 - q_2$.

О т в е т. $q = \frac{q_1 r_2 - q_2 r_1}{r_1 + r_2} \approx 1,67 \cdot 10^{-9}$ Кл.

3.1.11. Два удаленных друг от друга на большое расстояние металлических шара радиусами $r_1 = 1$ см и $r_2 = 2$ см, несущие одинаковые заряды, взаимодействуют с силой $F = 10^{-4}$ Н. Какова будет сила взаимодействия этих шаров F' , если соединить их друг с другом на короткое время тонким проводом?

Решение. Поскольку по условию задачи шары достаточно удалены друг от друга, их потенциалы до соединения проводом можно определить по формуле для потенциала уединенной заряженной сферы. Имеем:

$\varphi_1 = \frac{q}{4\pi\epsilon_0 r_1}$, $\varphi_2 = \frac{q}{4\pi\epsilon_0 r_2}$, где q — заряд на каждом из шаров до их соедине-

ния. После соединения шаров проводом заряды на них перераспределяются так, что потенциалы шаров станут равными друг другу, т. е.

$$\varphi'_1 = \frac{q'_1}{4\pi\epsilon_0 r_1} = \varphi'_2 = \frac{q'_2}{4\pi\epsilon_0 r_2}. \text{ Следовательно, } \frac{q'_1}{r_1} = \frac{q'_2}{r_2}.$$

Пренебрегая емкостью провода, запишем закон сохранения заряда в системе: $q'_1 + q'_2 = 2q$. Из последних двух уравнений находим заряды на шарах после их соединения:

$$q'_1 = \frac{2qr_1}{r_1 + r_2}, \quad q'_2 = \frac{2qr_2}{r_1 + r_2}.$$

Сила взаимодействия шаров определяется по закону Кулона: $F = \frac{q^2}{4\pi\epsilon_0 R^2}$ (до соединения), $F' = \frac{q'_1 q'_2}{4\pi\epsilon_0 R^2}$ (после соединения), где

R — расстояние между шарами. Объединяя полученные выражения, находим:

$$F' = F \cdot \frac{4r_1 r_2}{(r_1 + r_2)^2} = \frac{8}{9} \cdot 10^{-4} \text{ Н.}$$

О т в е т. $F' = \frac{8}{9} \cdot 10^{-4} \text{ Н.}$

3.1.12. Расстояние между двумя одинаковыми металлическими шариками l намного больше их радиусов. Когда на шарики поместили некоторые заряды, сила отталкивания между ними оказалась равной F_1 . После того, как шарики соединили тонкой проволокой, а затем убрали ее, шарики стали отталкиваться с силой F_2 . Определить первоначальные заряды шариков q_1 и q_2 . Электрическая постоянная ϵ_0 .

Решение. Поскольку по условию задачи шарики достаточно удалены друг от друга, для силы взаимодействия между ними справедлив закон Кулона:

$$F_1 = \frac{q_1 q_2}{4\pi\epsilon_0 l^2}.$$

Потенциалы шариков до соединения их проволокой можно определить по формуле для потенциала уединенной заряженной сферы:

$$\varphi_1 = \frac{q_1}{4\pi\epsilon_0 r}, \quad \varphi_2 = \frac{q_2}{4\pi\epsilon_0 r},$$

где r — радиус каждого из шариков. После соединения шариков проволокой заряды на них перераспределяются так, что потенциалы шариков станут одинаковыми:

$$\varphi'_1 = \frac{q'_1}{4\pi\epsilon_0 r} = \varphi'_2 = \frac{q'_2}{4\pi\epsilon_0 r}.$$

Пренебрегая емкостью проволоки, запишем закон сохранения заряда в системе: $q'_1 + q'_2 = q_1 + q_2$. Поскольку радиусы шариков равны, из равенства их потенциалов после соединения проволокой следует, что на каждом из шариков будет находиться один и тот же заряд:

$$q'_1 = q'_2 = \frac{(q_1 + q_2)}{2}.$$

В результате этого величина силы взаимодействия примет значение: $F_2 = \frac{(q_1 + q_2)^2}{16\pi\epsilon_0 l^2}$. Имеем систему уравнений:

$$q_1 q_2 = 4\pi\epsilon_0 l^2 F_1, \quad q_1 + q_2 = 4l\sqrt{\pi\epsilon_0 F_2},$$

из которой находим q_1 и q_2 .

О т в е т. $q_1 = 2l\sqrt{\pi\epsilon_0}(\sqrt{F_2} \pm \sqrt{F_2 - F_1}), \quad q_2 = 2l\sqrt{\pi\epsilon_0}(\sqrt{F_2} \mp \sqrt{F_2 - F_1}).$

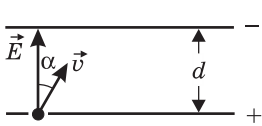
3.1.13. Внутри плоского незаряженного конденсатора, пластины которого расположены горизонтально на расстоянии $l = 2$ см, падает положительно заряженная пылинка. Вследствие сопротивления воздуха пылинка движется равномерно, проходя некоторый путь за время $t_0 = 10$ с. Когда на конденсатор подали напряжение $U = 980$ В, пылинка начала двигаться равномерно вверх, пройдя тот же путь за время $t_1 = 5$ с. Определить отношение γ заряда пылинки к ее массе. Силу сопротивления воздуха считать пропорциональной скорости пылинки, ускорение свободного падения принять $g = 9,8$ м/с².

Решение. Пусть β — коэффициент сопротивления воздуха, m — масса пылинки, d — пройденный пылинкой путь. Тогда при движении пылинки вниз с постоянной скоростью v_0 справедливо уравнение $mg - \beta v_0 = 0$, или $mg = \beta \frac{d}{t_0}$. Движение пылинки вверх с постоянной скоростью v_1 описывается

уравнением $mg + \beta v_1 - qE = 0$, или $mg + \beta \frac{d}{t_1} = q \frac{U}{l}$, где q — заряд пылинки. Выражая из первого уравнения β и подставляя во второе, получаем: $\gamma = \frac{q}{m} = \frac{g(1 + t_0/t_1)l}{U} = 6 \cdot 10^{-4}$ Кл/кг.

Ответ. $\gamma = 6 \cdot 10^{-4}$ Кл/кг.

3.1.14. Электрон влетает со скоростью $v = 10^7$ м/с в отверстие в нижней пластине плоского конденсатора. Между пластинами поддерживается разность потенциалов $U = 425$ В. Определить максимальное удаление h электрона от нижней пластины конденсатора, если угол, который составляет вектор начальной скорости электрона с вектором напряженности электрического



поля конденсатора, $\alpha = 30^\circ$, расстояние между пластинами конденсатора $d = 1$ см, отношение заряда электрона к его массе $\gamma = 1,76 \cdot 10^{11}$ Кл/кг. Считать электрическое поле внутри конденсатора однородным, силу тяжести не учитывать.

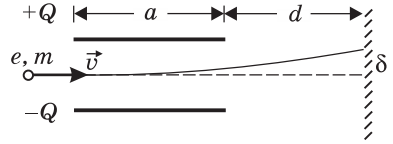
Решение. Составляющая скорости электрона $v_{\parallel} = v \sin \alpha$, параллельная пластинам, будет оставаться постоянной. Составляющая скорости, перпендикулярная пластинам, при максимальном удалении h электрона от нижней пластины обратится в нуль. Поскольку электростатические силы потенциальны, полная механическая энергия электрона при движении внутри конденсатора сохраняется. Обозначив через m массу электрона, а через e — модуль его заря-

да, имеем: $\frac{mv^2}{2} = e \frac{U}{d} h + \frac{mv^2 \sin^2 \alpha}{2}$. Отсюда получаем: $h = d \frac{V^2 \cos^2 \alpha}{2\gamma U} \approx 5$ мм.

Ответ. $h \approx 5$ мм.

3.1.15. Электронный пучок проходит между горизонтально расположенными пластинами плоского конденсатора и попадает на экран. Начальная скорость электронов направлена горизонтально и равна $v = 10^7$ м/с. Пластины конденсатора представляют собой квадраты со стороной $a = 10$ см, а величина заряда на каждой из них составляет $Q = 10^{-10}$ Кл. Расстояние

от правого края конденсатора до экрана равно $d = 5$ см. Определить поперечное смещение δ электронов в плоскости экрана, связанное с действием конденсатора. Электрическая постоянная $\epsilon_0 = 8,9 \cdot 10^{-12}$ Ф/м, отношение величины заряда электрона к его массе $\gamma = 1,78 \cdot 10^{11}$ Кл/кг. Силу тяжести не учитывать.



Решение. Поскольку в задаче требуется найти смещение электронов, вызванное действием конденсатора, электрическим взаимодействием между электронами можно пренебречь и считать, что на каждый электрон, находящийся внутри конденсатора, действует сила $F = eE$, направленная вертикально вверх (здесь e — модуль заряда электрона,

$E = \frac{Q}{a^2 \epsilon_0}$ — напряженность поля внутри конденсатора). Вертикальное смещение электрона при движении внутри конденсатора в течение времени

$t_1 = \frac{a}{v}$ равно $\delta_1 = \frac{F}{m} \cdot \frac{t_1^2}{2} = \gamma \frac{Q}{2\epsilon_0 v^2}$. При вылете из конденсатора электрон

имеет вертикальную скорость $v_1 = \frac{F}{m} \cdot t_1$. Пролетая вне конденсатора расстояние d в течение времени $t_2 = \frac{d}{v}$, он приобретает смещение $\delta_2 = v_1 t_2 = \gamma \frac{Q}{a\epsilon_0} \frac{d}{v^2}$.

Поскольку полное смещение электрона равно $\delta = \delta_1 + \delta_2$, получим:

$$\delta = \gamma \frac{Q}{v^2 \epsilon_0} \left(\frac{1}{2} + \frac{d}{a} \right) = 2 \text{ см.}$$

Ответ. $\delta = 2$ см.

3.1.16. Две частицы с одинаковыми массами, заряженные равными по величине разноименными зарядами, движутся по окружности вокруг общего центра масс. Пренебрегая гравитационным взаимодействием между частицами, найти отношение α величин потенциальной и кинетической энергий частиц. Принять, что энергия взаимодействия частиц при их удалении на бесконечно большое расстояние равна нулю.

Решение. Уравнение движения каждой из частиц под действием сил

кулоновского притяжения имеет вид: $\frac{mv^2}{r} = \frac{q^2}{4\pi\epsilon_0(2r)^2}$, где v — скорость

каждой из частиц, r — радиус их орбит, q — модуль их зарядов. Кинетическая энергия частиц $E_k = 2 \frac{mv^2}{2} = \frac{q^2}{16\pi\epsilon_0 r}$, модуль потенциальной энергии

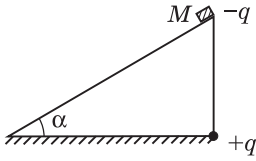
их притяжения $|E_{\text{п}}| = \frac{q^2}{4\pi\epsilon_0(2r)}$. Находя отношение между этими величинами, получаем: $\alpha = \frac{|E_{\text{п}}|}{E_k} = 2$.

и притяжения $|E_{\text{п}}| = \frac{q^2}{4\pi\epsilon_0(2r)}$. Находя отношение между этими величинами, получаем: $\alpha = \frac{|E_{\text{п}}|}{E_k} = 2$.

ми, получаем: $\alpha = \frac{|E_{\text{п}}|}{E_k} = 2$.

Ответ. $\alpha = 2$.

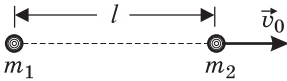
3.1.17. По наклонной плоскости, составляющей угол α с горизонтом, соскальзывает с высоты h небольшое тело, заряженное отрицательным зарядом $-q$. В точке пересечения вертикали, проведенной через начальное положение тела, с основанием наклонной плоскости находится заряд $+q$. Определить скорость v , с которой тело достигнет основания наклонной плоскости. Масса тела M , ускорение свободного падения g . Трением пренебречь.



Решение. Выберем в качестве нулевого уровня потенциальной энергии тела в поле тяготения Земли основание наклонной плоскости, а качестве точки с нулевой потенциальной энергией притяжения зарядов — бесконечно удаленную точку. По закону сохранения механической энергии, имеем равенство $Mgh - \frac{q^2}{4\pi\epsilon_0 h} = -\frac{q^2}{4\pi\epsilon_0 h} \operatorname{tg} \alpha + \frac{Mv^2}{2}$.

Отв. $v = \sqrt{2gh - \frac{q^2}{2\pi\epsilon_0 Mh}(1 - \operatorname{tg} \alpha)}$. При $h < \frac{q}{2} \sqrt{\frac{1 - \operatorname{tg} \alpha}{\pi\epsilon_0 Mg}}$ тело не достигнет основания наклонной плоскости.

3.1.18. Два маленьких шарика массами $m_1 = 6$ г и $m_2 = 4$ г, несущие заряды $q_1 = 10^{-6}$ Кл и $q_2 = -5 \cdot 10^{-6}$ Кл соответственно, удерживаются на расстоянии $l = 2$ м друг от друга. В некоторый момент оба шарика отпускают, сообщив одновременно второму из них скорость $v_0 = 3$ м/с, направленную от первого шарика вдоль линии, соединяющей их центры. На какое максимальное расстояние L разойдутся шарика друг от друга? Силу тяжести не учитывать. Электрическую постоянную



принять равной $\epsilon_0 = \frac{1}{36\pi} \cdot 10^{-9}$ Ф/м.

Решение. Движение шариков происходит под действием силы электростатического притяжения, которая является внутренней силой для рассматриваемой системы. Следовательно, суммарный импульс шариков остается постоянным. Закон сохранения импульса в проекции на координатную ось, положительное направление которой совпадает с направлением начальной скорости второго шарика, имеет вид: $m_2 v_0 = m_1 v_1 + m_2 v_2$. Здесь v_1 и v_2 — проекции скоростей шариков на эту ось в произвольный момент времени. Кулоновские силы относятся к классу потенциальных сил, поэтому в системе сохраняется также полная механическая энергия. Потенциальная энергия электростатического взаимодействия двух зарядов определяется равенством $E_{\text{п}} = \frac{q_1 q_2}{4\pi\epsilon_0 r}$, где r — расстояние между зарядами.

Заметим, что для разноименных зарядов потенциальная энергия отрицательна и возрастает при удалении зарядов друг от друга. В соответствии с этим кинетическая энергия шариков будет убывать по мере увеличения расстояния между ними, и закон сохранения энергии запишется в виде:

$$\frac{m_2 v_0^2}{2} + \frac{q_1 q_2}{4\pi\epsilon_0 l} = \frac{m_1 v_1^2}{2} + \frac{m_2 v_2^2}{2} + \frac{q_1 q_2}{4\pi\epsilon_0 r}$$

ное расстояние L их относительная скорость $v_{\text{отн}} = v_1 - v_2$ обратится в нуль. Таким образом, когда расстояние между шариками максимально, $v_1 = v_2 \equiv v$. Используя это равенство, преобразуем исходную систему уравнений к виду:

$$m_2 v_0 = (m_1 + m_2)v, \quad \frac{m_2 v_0^2}{2} - \frac{q_1 |q_2|}{4\pi\epsilon_0 l} = \frac{(m_1 + m_2)v^2}{2} - \frac{q_1 |q_2|}{4\pi\epsilon_0 L}.$$

Исключая из этой системы v , находим:
$$L = \frac{l}{1 - \frac{2\pi\epsilon_0 l m_1 m_2 v_0^2}{(m_1 + m_2) q_1 |q_2|}} \approx 3,85 \text{ м.}$$

О т в е т. $L \approx 3,85 \text{ м.}$

Замечание. Элементарный анализ показывает, что ответ теряет смысл при $\frac{2\pi\epsilon_0 l m_1 m_2 v_0^2}{(m_1 + m_2) q_1 |q_2|} \geq 1$. Последнему неравенству можно придать более наглядную

форму: $E_{0к} \geq \left(1 + \frac{m_2}{m_1}\right) \cdot |E_{0п}|$, где $E_{0к} = \frac{m_2 v_0^2}{2}$ — начальная кинетическая энергия,

$E_{0п} = -\frac{q_1 |q_2|}{4\pi\epsilon_0 l}$ — начальная потенциальная энергия системы. Физический смысл это-

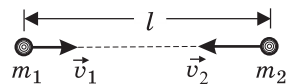
го результата таков: если начальная кинетическая энергия системы равна или превышает взятую с некоторым коэффициентом величину начальной потенциальной энергии притяжения зарядов, то шарики удалятся на бесконечно большое расстояние и никогда не сблизятся. Когда массы шариков соизмеримы, коэффициент $\left(1 + \frac{m_2}{m_1}\right)$ отличен от единицы. Это отражает тот факт, что начальная кинетическая

энергия системы в процессе взаимодействия шариков перераспределяется между ними. Если неограниченно увеличивать массу m_1 первоначально неподвижного шарика, то множитель $\left(1 + \frac{m_2}{m_1}\right)$ устремится к единице. Бесконечно тяжелый шарик бу-

дет оставаться неподвижным, и мы приходим к случаю движения тела около *неподвижного* силового центра. Напомним, что условие того, что тело, притягивающееся к неподвижному силовому центру, не удалится от него на бесконечность, имеет хорошо известный вид: $E_{0к} < |E_{0п}|$.

3.1.19. Два маленьких шарика массами $m_1 = 6 \text{ г}$ и $m_2 = 4 \text{ г}$ несут заряды $q_1 = 10^{-6} \text{ Кл}$ и $q_2 = 5 \cdot 10^{-6} \text{ Кл}$ соответственно. В начальный момент они движутся навстречу друг другу по прямой, соединяющей их центры. При этом расстояние между шариками составляет $l = 2 \text{ м}$ и их скорости равны $v_1 = 1 \text{ м/с}$ и $v_2 = 2 \text{ м/с}$ соответственно. На какое минимальное расстояние L приблизятся шарики друг к другу? Силу тяжести не учитывать. Электрическую постоянную принять

равной $\epsilon_0 = \frac{1}{36\pi} \cdot 10^{-9} \text{ Ф/м.}$



Решение. Движение шариков происходит под действием силы электростатического отталкивания, которая является внутренней силой для рассматриваемой системы. Следовательно, суммарный импульс шариков остается постоянным. Закон сохранения импульса в проекции на координатную ось, положительное направление которой совпадает с направлением начальной

скорости первого шарика, имеет вид: $m_1 v_1 - m_2 v_2 = m_1 u_1 + m_2 u_2$. Здесь u_1 и u_2 — проекции скоростей шариков на эту ось в произвольный момент времени. Кулоновские силы относятся к классу потенциальных сил, поэтому в системе сохраняется также полная механическая энергия. Потенциальная энергия электростатического взаимодействия двух зарядов определяется равенством

$E_{\text{п}} = \frac{q_1 q_2}{4\pi\epsilon_0 r}$, где r — расстояние между зарядами. Заметим, что для

одноименных зарядов потенциальная энергия положительна и возрастает при сближении зарядов. В соответствии с этим кинетическая энергия шариков будет убывать по мере уменьшения расстояния между ними, и закон сохранения энергии запишется в виде:

$$\frac{m_1 v_1^2}{2} + \frac{m_2 v_2^2}{2} + \frac{q_1 q_2}{4\pi\epsilon_0 l} = \frac{m_1 u_1^2}{2} + \frac{m_2 u_2^2}{2} + \frac{q_1 q_2}{4\pi\epsilon_0 r}.$$

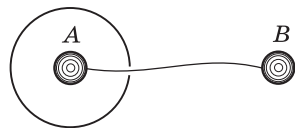
При сближении шариков на минимальное расстояние L их относительная скорость $v_{\text{отн}} = u_1 - u_2$ обратится в нуль. Таким образом, когда расстояние между шариками минимально, $u_1 = u_2 \equiv u$. Используя это равенство, преобразуем исходную систему уравнений к виду: $m_1 v_1 - m_2 v_2 = (m_1 + m_2)u$,

$$\frac{m_1 v_1^2}{2} + \frac{m_2 v_2^2}{2} + \frac{q_1 q_2}{4\pi\epsilon_0 l} = \frac{(m_1 + m_2)u^2}{2} + \frac{q_1 q_2}{4\pi\epsilon_0 L}.$$

Исключая из этой системы u , находим:
$$L = \frac{l}{1 + \frac{2\pi\epsilon_0 l m_1 m_2 (v_1 + v_2)^2}{q_1 q_2 (m_1 + m_2)}} \approx 1,32 \text{ м.}$$

О т в е т. $L \approx 1,32 \text{ м.}$

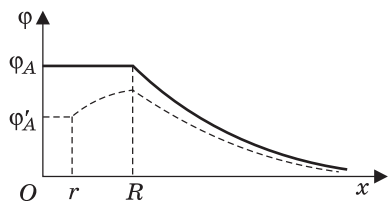
3.1.20. Металлическая сфера, имеющая небольшое отверстие, заряжена положительным зарядом Q . Первоначально незаряженные металлические шарики A и B расположены, как показано на рисунке. Радиус сферы равен R , радиусы каждого шарика r , расстояние $AB \gg R$. Определить заряды q_A и q_B , которые индуцируются на шариках, когда их соединят тонкой проволокой.



Решение. Рассмотрим вначале случай, когда шарики не соединены. При этом потенциал шарика B равен нулю: $\varphi_B = 0$, а потенциал шарика A равен потенциалу поверхности заряженной сферы:

$$\varphi_A = \frac{Q}{4\pi\epsilon_0 R}.$$

Распределение потенциала внутри и вне сферы для этого случая изображено на рисунке сплошной линией (через x обозначено расстояние от центра сферы до точки наблюдения).



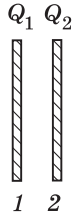
После соединения шариков проволокой их потенциалы выровняются: $\varphi'_A = \varphi'_B$, причем потенциал шарика A понизится, а потенциал шарика B повысится. Это произойдет за счет перетекания по проволоке некоторого заряда q . В результате на шарике A образуется заряд q_A , а на шарике B — заряд q_B , причем $q_A = -q_B = -q$. Име-

ем: $\varphi'_A = \frac{1}{4\pi\epsilon_0} \left(\frac{Q}{R} - \frac{q}{r} \right) = \varphi'_B = \frac{q}{4\pi\epsilon_0 r}$. Отсюда $q = \frac{Qr}{2R}$. Распределение потенциала внутри и вне сферы после соединения шариков проволокой изображено на рисунке штриховой линией.

О т в е т. $q_A = -q_B = -\frac{Qr}{2R}$.

3.1.21. Металлическим пластинам 1 и 2 сообщили положительные заряды $Q_1 = 2 \cdot 10^{-6}$ Кл и $Q_2 = 4 \cdot 10^{-6}$ Кл соответственно. Какие заряды Q'_1 , Q''_1 , Q'_2 , Q''_2 расположатся на боковых сторонах пластин?

Р е ш е н и е. Пренебрегая краевыми эффектами, будем считать, что заряды распределятся на боковых поверхностях пластин равномерно. Вводя для поверхностных плотностей зарядов обозначения, смысл которых ясен из рисунка, имеем: $\sigma'_1 = \frac{Q'_1}{S}$, $\sigma''_1 = \frac{Q''_1}{S}$, $\sigma'_2 = \frac{Q'_2}{S}$,

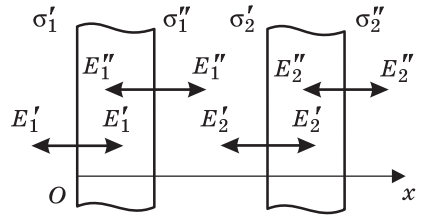


$\sigma''_2 = \frac{Q''_2}{S}$, где S — площадь боковой поверхности каждой из пластин. Заряды с такими плотностями создают однородные электрические поля, перпендикулярные поверхностям пластин (см. рисунок). Модули напряженностей этих полей равны, соответственно,

$$E'_1 = \frac{\sigma'_1}{2\epsilon_0} = \frac{Q'_1}{2\epsilon_0 S}, \quad E''_1 = \frac{Q''_1}{2\epsilon_0 S}, \quad E'_2 = \frac{Q'_2}{2\epsilon_0 S},$$

$$E''_2 = \frac{Q''_2}{2\epsilon_0 S}.$$

Распределение зарядов по боковым поверхностям пластин таково, что суммарные электрические поля в толще пластин равны нулю. Записывая эти условия, имеем: $E'_1 - E''_1 - E'_2 - E''_2 = 0$ (для пластины 1), $E'_1 + E''_1 + E'_2 - E''_2 = 0$ (для пластины 2).



В результате получаем уравнения для зарядов:

$$Q'_1 - Q''_1 - Q'_2 - Q''_2 = 0, \quad Q'_1 + Q''_1 + Q'_2 - Q''_2 = 0, \quad Q'_1 + Q''_1 = Q_1, \quad Q'_2 + Q''_2 = Q_2.$$

Решая эту систему из четырех уравнений относительно четырех неизвестных, находим, что $Q'_1 = Q''_2 = \frac{Q_1 + Q_2}{2}$, $Q''_1 = -Q'_2 = \frac{Q_1 - Q_2}{2}$.

О т в е т. $Q''_1 = -Q'_2 = \frac{Q_1 - Q_2}{2} = -10^{-6}$ Кл, $Q'_1 = Q''_2 = \frac{Q_1 + Q_2}{2} = 3 \cdot 10^{-6}$ Кл.

3.1.22. Конденсатор представляет собой две круглые металлические пластины радиуса $r = 0,2$ м, расположенные параллельно друг другу. Расстояние между пластинами мало по сравнению с их радиусом. Напряженность однородного электрического поля между пластинами $E = 0,9 \cdot 10^6$ В/м. Найти абсолютную величину заряда q на каждой из пластин. Электрическая постоянная $\epsilon_0 = 8,85 \cdot 10^{-12}$ Ф/м.

Решение. Модуль напряженности электрического поля, создаваемого пластинами конденсатора, $E = \frac{\sigma}{\epsilon_0}$, где $\sigma = \frac{q}{\pi r^2}$ — поверхностная плотность заряда на одной из пластин.

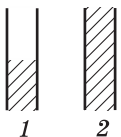
Ответ. $q = \epsilon_0 \pi r^2 E = 10^{-6}$ Кл.

3.1.23. Обкладки плоского воздушного конденсатора, подключенного к источнику постоянного напряжения, притягиваются с силой F_0 . Какая сила F будет действовать на обкладки, если в зазор параллельно им вставить металлическую пластинку, толщина которой в $n = 2$ раза меньше величины зазора, а остальные размеры совпадают с размерами обкладок?

Решение. Найдем вначале силу, с которой притягиваются друг к другу обкладки пустого конденсатора. При этом учтем, что каждая обкладка находится в однородном поле E' , создаваемом другой обкладкой и равном по величине половине поля E внутри конденсатора. Следовательно, искомая сила равна $F_0 = qE' = q \frac{E}{2} = q \frac{U}{2d} = \frac{CU^2}{2d}$. Здесь $q = CU$ — величина заряда на обкладках пустого конденсатора, U — напряжение на конденсаторе, равное напряжению на зажимах источника, $C = \epsilon_0 S / d$ — емкость пустого конденсатора, d — расстояние между обкладками, S — площадь одной из них. При внесении металлической пластины в пространство между обкладками напряжение на конденсаторе не изменится, а напряженность поля возрастет, так как источник доставит на обкладки дополнительные заряды. Поскольку внутри пластины поле всегда равно нулю, внесение ее внутрь конденсатора эквивалентно уменьшению расстояния между обкладками d на величину d/n . В результате емкость конденсатора после внесения пластины станет равной $C' = \frac{\epsilon_0 S}{d - d/n} = \frac{\epsilon_0 S n}{d(n-1)} = C \cdot \frac{n}{n-1}$. Вследствие этого сила притяжения между обкладками также изменится и примет значение $F = \frac{C'U^2}{2(d - d/n)} = \frac{CU^2}{2d} \cdot \frac{n^2}{(n-1)^2}$. Сравнивая последнее выражение с выражением для F_0 , получаем: $F = F_0 \frac{n^2}{(n-1)^2} = 4F_0$.

Ответ. $F = 4F_0$.

3.1.24. В двух одинаковых плоских конденсаторах пространство между обкладками заполнено диэлектриком с диэлектрической проницаемостью $\epsilon = 3$, в одном наполовину, в другом полностью. Найти отношение емкостей α этих конденсаторов.



Решение. Конденсатор, наполовину заполненный диэлектриком, можно представить как два параллельно соединенных конденсатора, один из которых пустой, а другой — полностью заполнен диэлектриком, причем площадь пластин этих конден-

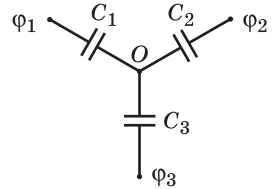
саторов равна половине площади пластин исходного конденсатора. Следовательно, $C_1 = \frac{C_0}{2} + \frac{\epsilon C_0}{2}$, $C_2 = \epsilon C_0$, где C_0 — емкость пустого конденсатора.

О т в е т. $\alpha = \frac{1 + \epsilon}{2\epsilon} = \frac{2}{3}$.

3.1.25. Первоначально незаряженные конденсаторы емкостями C_1 , C_2 , C_3 соединили по схеме, изображенной на рисунке. Затем конденсаторы зарядили так, что на клеммах схемы образовались потенциалы ϕ_1 , ϕ_2 , ϕ_3 . Определить потенциал ϕ_0 точки O .

Решение. При зарядке конденсаторов на них накопились заряды: $q_1 = C_1(\phi_1 - \phi_0)$, $q_2 = C_2(\phi_2 - \phi_0)$, $q_3 = C_3(\phi_3 - \phi_0)$. Поскольку первоначально конденсаторы были не заряжены, из закона сохранения заряда на пластинах, соединенных с точкой O , следует, что $q_1 + q_2 + q_3 = 0$.

О т в е т. $\phi_0 = \frac{C_1\phi_1 + C_2\phi_2 + C_3\phi_3}{C_1 + C_2 + C_3}$.



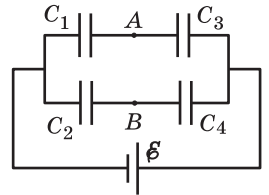
3.1.26. На рисунке изображена батарея конденсаторов, подключенная к гальваническому элементу с ЭДС \mathcal{E} . Емкости конденсаторов равны: $C_1 = C$, $C_2 = 2C$, $C_3 = 3C$, $C_4 = 6C$. Чему равна разность потенциалов U между точками A и B ? Считать, что до подключения к источнику все конденсаторы были не заряжены.

Решение. Обозначим через U_1 , U_2 , U_3 , U_4 напряжения на конденсаторах C_1 , C_2 , C_3 , C_4 соответственно. Тогда величина искомой разности потенциалов выразится как $U = |U_1 - U_2| = |U_3 - U_4|$. Исходя из этого, найдем напряжения на конденсаторах, зная их емкости и ЭДС источника. Имеем следующую систему уравнений: $U_1 + U_3 = \mathcal{E}$, $C_1U_1 = C_3U_3$, $U_2 + U_4 = \mathcal{E}$,

$$C_2U_2 = C_4U_4. \text{ Разрешая ее, получаем: } U_1 = \frac{\mathcal{E}C_3}{C_1 + C_3}, \quad U_2 = \frac{\mathcal{E}C_4}{C_2 + C_4}, \quad U_3 = \frac{\mathcal{E}C_1}{C_1 + C_3},$$

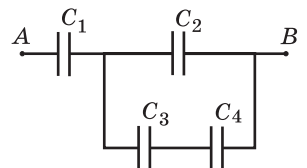
$$U_4 = \frac{\mathcal{E}C_2}{C_2 + C_4}.$$

О т в е т. $U = \mathcal{E} \frac{|C_2C_3 - C_1C_4|}{(C_1 + C_3)(C_2 + C_4)} = 0$.



3.1.27. В схеме, показанной на рисунке, емкости конденсаторов равны: $C_1 = 1$ мкФ, $C_2 = 2$ мкФ, $C_3 = 3$ мкФ, $C_4 = 4$ мкФ. Напряжение между точками A и B равно $U = 100$ В. Найти напряжение U_4 на конденсаторе C_4 . Первоначально конденсаторы были не заряжены.

Решение. Обозначим напряжения на конденсаторах через U_1 , U_2 , U_3 , U_4 . Имеем следующую систему уравнений: $U_1 + U_2 = U$, $U_3 + U_4 = U_2$,



$C_1U_1 = CU_2$, $C_3U_3 = C_4U_4$, где $C = C_2 + \frac{C_3C_4}{C_3 + C_4}$ — емкость участка цепи, содержащего конденсаторы C_2 , C_3 и C_4 . Из этой системы находим

$$U_2 = \frac{C_1U}{C_1 + C}, \quad U_4 = \frac{C_3U_2}{C_3 + C_4}.$$

Объединяя записанные выражения, получаем:

$$U_4 = \frac{C_1C_3U}{C_3C_4 + (C_1 + C_2)(C_3 + C_4)} \approx 9,09 \text{ В.}$$

О т в е т. $U_4 \approx 9,09 \text{ В.}$

3.1.28. Два плоских конденсатора заряжены: первый до разности потенциалов U_1 , второй — до разности потенциалов U_2 . Площади пластин конденсаторов равны соответственно S_1 у первого и S_2 у второго, расстояние между пластинами у обоих конденсаторов одинаково. Чему будет равно напряжение на конденсаторах U , если соединить их одноименно заряженные обкладки?

Р е ш е н и е. Обозначим через C_1 и C_2 емкости конденсаторов. Если d — расстояние между их обкладками, то $C_1 = \frac{\epsilon_0 S_1}{d}$, $C_2 = \frac{\epsilon_0 S_2}{d}$, где ϵ_0 — электрическая постоянная. Заряды на конденсаторах до соединения равны, соответственно: $q_1 = C_1U_1$, $q_2 = C_2U_2$. В силу закона сохранения заряда, при соединении обкладок алгебраическая сумма зарядов на каждой паре обкладок останется без изменения. Поскольку после соединения обкладок напряжения на конденсаторах станут одинаковыми, их можно рассматривать как два параллельно соединенных конденсатора с общей емкостью $C = C_1 + C_2$. Общий заряд на этих конденсаторах $q = q_1 + q_2$, а напряжение $U = q / C$. Объ-

единяя записанные соотношения, получаем: $U = \frac{C_1U_1 + C_2U_2}{C_1 + C_2}$. Учитывая вы-

ражения для емкостей конденсаторов, находим: $U = \frac{U_1S_1 + U_2S_2}{S_1 + S_2}$.

О т в е т. $U = \frac{U_1S_1 + U_2S_2}{S_1 + S_2}$.

3.1.29. Два плоских конденсатора имеют одинаковую емкость. В один из них вставили пластинку с диэлектрической проницаемостью $\epsilon = 6$, заполняющую весь объем между обкладками, и зарядили этот конденсатор так, что запасенная в нем энергия составила $W_0 = 2 \cdot 10^{-6}$ Дж. Отсоединив источник, пластинку удалили и к заряженному конденсатору подсоединили второй, незаряженный конденсатор. Найти энергию W , которая будет запасена в конденсаторах после их перезарядки.

Р е ш е н и е. Пусть C_0 — емкость пустого конденсатора. Энергия заряженного конденсатора, заполненного диэлектриком, выражается через заряд q на нем как $W_0 = \frac{q^2}{2\epsilon C_0}$. При вытаскивании диэлектрической пластин-

ки из конденсатора, отключенного от источника, заряд на конденсаторе не изменяется, поэтому энергия конденсатора становится равной

$W_1 = \frac{q^2}{2C_0} = \varepsilon W_0$. Увеличение энергии в ε раз происходит за счет работы, совершенной при удалении пластинки (диэлектрик втягивается внутрь конденсатора). Когда к заряженному конденсатору подсоединили такой же незаряженный, емкость системы удвоилась, а заряд остался прежним. Следовательно, энергия системы в конечном состоянии равна $W = \frac{q^2}{2 \cdot 2C_0} = \frac{\varepsilon W_0}{2}$. Уменьшение энергии конденсаторов в процессе их перезарядки связано с выделением теплоты при перемещении зарядов по соединительным проводам.

О т в е т. $W = \frac{\varepsilon W_0}{2} = 6 \cdot 10^{-6}$ Дж.

3.1.30. Два одинаковых плоских конденсатора, один из которых заполнен диэлектриком с диэлектрической проницаемостью ε , соединены как показано на рисунке, заряжены до напряжения U_0 и отсоединены от источника. Какую работу A нужно совершить, чтобы вытащить диэлектрическую пластинку из конденсатора? Емкость пустого конденсатора равна C .

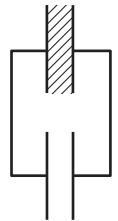
Р е ш е н и е. Начальная емкость системы $C_1 = (\varepsilon + 1)C$, суммарный заряд на конденсаторах $q = (\varepsilon + 1)CU_0$, энергия конденсаторов $W_1 = \frac{(\varepsilon + 1)CU_0^2}{2}$. После вытаскивания диэлектрической пластинки суммарный заряд на конденсаторах останется неизменным, а емкость системы станет равной $C_2 = 2C$. Энергия системы в конечном состоянии $W_2 = \frac{q^2}{2C_2} = \frac{(\varepsilon + 1)^2 CU_0^2}{4}$. Увеличение энергии связано с работой по удалению пластинки. Если пластинку удаляют медленно, выделением теплоты при перемещении зарядов по проводникам, соединяющим конденсаторы, можно пренебречь. Тогда $A = W_2 - W_1$.

О т в е т. $A = \frac{1}{4}(\varepsilon^2 - 1)CU_0^2$.

3.1.31. Конденсатор емкостью $C = 15$ пФ зарядили до разности потенциалов $U = 100$ В и отключили от источника. Затем пространство между обкладками заполнили диэлектриком с диэлектрической проницаемостью $\varepsilon = 1,5$. На какую величину ΔW изменится при этом энергия конденсатора?

Р е ш е н и е. Заряд на конденсаторе $q = CU$, его начальная энергия $W_1 = \frac{CU^2}{2}$. При заполнении конденсатора диэлектриком заряд на нем останется неизменным, а емкость увеличится в ε раз. Поэтому энергия конденсатора в конечном состоянии $W_2 = \frac{q^2}{2\varepsilon C} = \frac{CU^2}{2\varepsilon}$. Изменение энергии $\Delta W = W_2 - W_1$ отрицательно: конденсатор совершает работу, втягивая внутрь себя диэлектрик.

О т в е т. $\Delta W = \frac{CU^2}{2} \cdot \frac{(1 - \varepsilon)}{\varepsilon} = -2,5 \cdot 10^{-8}$ Дж.



Замечание. Если заполнять диэлектриком конденсатор, подключенный к источнику, напряжение на конденсаторе будет оставаться постоянным, а заряд на нем увеличится. Как показывает расчет, энергия конденсатора при этом возрастет в ϵ раз. Дополнительную энергию конденсатору сообщит источник, перемещая на пластины конденсатора добавочные заряды.

3.1.32. К источнику с ЭДС \mathcal{E} последовательно подключены два конденсатора емкостями C_1 и C_2 . После зарядки конденсаторов источник отключают, а параллельно конденсатору C_1 через резистор подключают незаряженный конденсатор емкостью C_3 . Какое количество теплоты Q выделится на резисторе в процессе зарядки конденсатора C_3 ?

Решение. При подключении к источнику двух последовательно соединенных конденсаторов, они заряжаются до напряжений U_1 и U_2 , для которых справедлива система уравнений: $U_1 + U_2 = \mathcal{E}$, $C_1 U_1 = C_2 U_2$.

Отсюда $U_1 = \frac{\mathcal{E} C_2}{C_1 + C_2}$, $U_2 = \frac{\mathcal{E} C_1}{C_1 + C_2}$. После отключения источника напря-

жение и заряд на конденсаторе C_2 меняться не будут. Не изменится также запасенная в нем энергия. В то же время, при подключении к заряженному до напряжения U_1 конденсатору C_1 незаряженного конденсатора C_3 в образовавшейся цепи произойдет перераспределение зарядов, в результате чего на резисторе выделится некоторая энергия. Напряжение на этих конденсаторах после перезарядки будет

$U = \frac{C_1 U_1}{C_1 + C_3} = \frac{C_1 C_2 \mathcal{E}}{(C_1 + C_2)(C_1 + C_3)}$. Начальная энергия конденсатора C_1 и конечная энергия системы из двух конденсаторов C_1 и C_3 соответственно

равны: $W_1 = \frac{C_1 U_1^2}{2} = \frac{C_1 C_2^2 \mathcal{E}^2}{2(C_1 + C_2)^2}$, $W = \frac{(C_1 + C_3) U^2}{2} = \frac{C_1^2 C_2^2 \mathcal{E}^2}{2(C_1 + C_2)^2 (C_1 + C_3)}$. Раз-

ность между этими значениями равна количеству выделившейся на резисторе

теплоты: $Q = W_1 - W$. Отсюда получаем: $Q = \frac{C_1 C_2^2 C_3 \mathcal{E}^2}{2(C_1 + C_2)^2 (C_1 + C_3)}$.

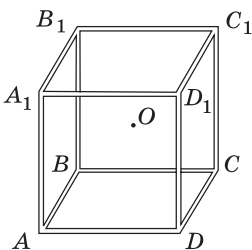
Ответ. $Q = \frac{C_1 C_2^2 C_3 \mathcal{E}^2}{2(C_1 + C_2)^2 (C_1 + C_3)}$.

Дополнительные задачи

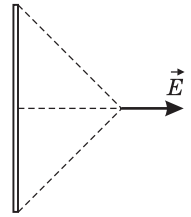
3.1.33. Из 12 одинаковых непроводящих стержней собран каркас в форме куба (см. рисунок). Когда по сторонам куба AD и BC равномерно распределили одинаковые заряды, модуль напряженности электрического поля и потенциал в центре куба (точке O) оказались равными E_0

и ϕ_0 . Какими станут модуль напряженности поля E_1 и потенциал ϕ_1 в точке O , если такие же равномерно распределенные заряды дополнительно разместить на сторонах $A_1 B_1$ и $C_1 D_1$?

Решение. Из соображений симметрии ясно, что электрическое поле \vec{E} , создаваемое однородно заряженным стержнем в точке, равноудаленной от его кон-

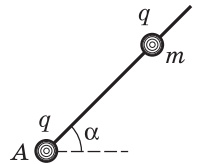


цов, направлено перпендикулярно стержню (см. рисунок). Следовательно, суммарное поле \vec{E}_0 , создаваемое в точке O стержнями AD и BC , направлено перпендикулярно плоскости $ABCD$. По принципу суперпозиции потенциал φ_0 в точке O равен сумме потенциалов φ полей, создаваемых этими стержнями: $\varphi_0 = 2\varphi$. Суммарное поле, создаваемое в точке O стержнями A_1B_1 и C_1D_1 , равно по модулю полю \vec{E}_0 и направлено противоположно ему, а потенциал совпадает с φ_0 .

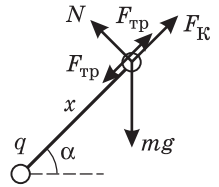


Отв е т. $E_1 = 0$, $\varphi_1 = 2\varphi_0$.

3.1.34. На диэлектрическую спицу, закрепленную под углом $\alpha = 45^\circ$ к горизонту, надета бусинка массой $m = 14,1$ мг, несущая положительный заряд $q = 2 \cdot 10^{-8}$ Кл. Коэффициент трения между спицей и бусинкой $\mu = 0,1$. В точке A на спице закреплен точечный заряд q . При каких расстояниях x от точки A бусинка будет находиться в равновесии? Ускорение свободного падения принять $g = 10$ м/с². Электрическая постоянная $\epsilon_0 = 8,85 \cdot 10^{-12}$ Ф/м.



Решение. Бусинка находится в равновесии под действием сил, модули и направления которых изображены на рисунке, где mg — модуль силы тяжести,



$F_K = \frac{q^2}{4\pi\epsilon_0 x^2}$ — модуль силы кулоновского отталкивания

зарядов, N — модуль нормальной составляющей силы реакции спицы, $F_{\text{тр}}$ — модуль силы трения, x — расстояние между зарядами. При малых x кулоновская сила велика, и сила трения, удерживающая бусинку от перемещения вверх, направлена вдоль по спице вниз. Наоборот, при больших x , когда кулоновская сила мала, сила трения удерживает бусинку от сползания вниз и направлена вдоль по спице вверх. Проекция силы трения покоя может принимать любые значения из интервала $[-\mu N, \mu N]$, поэтому равновесие бусинки достигается при всех x , удовлетворяющих неравенствам $x_1 \leq x \leq x_2$. В проекции на направление спицы условия равновесия бусинки в двух крайних положениях имеют вид: $mg \sin \alpha + \mu mg \cos \alpha = \frac{q^2}{4\pi\epsilon_0 x_1^2}$, $mg \sin \alpha = \frac{q^2}{4\pi\epsilon_0 x_2^2} + \mu mg \cos \alpha$.

Отсюда $\frac{q}{2\sqrt{\pi\epsilon_0 mg(\sin \alpha + \mu \cos \alpha)}} \leq x \leq \frac{q}{2\sqrt{\pi\epsilon_0 mg(\sin \alpha - \mu \cos \alpha)}}$. Если $\mu \geq \text{tg } \alpha$,

бусинка будет находиться в равновесии при всех $x \geq \frac{q}{2\sqrt{\pi\epsilon_0 mg(\sin \alpha + \mu \cos \alpha)}}$.

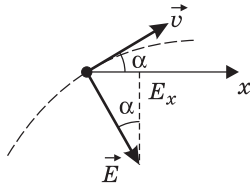
Отв е т. $18,2 \text{ см} \leq x \leq 20 \text{ см}$.

3.1.35. Заряженная частица движется в однородном электрическом поле напряженностью $E = 30$ В/м. Известно, что в момент, когда кинетическая энергия частицы достигает минимума, ее скорость направлена под углом

$\alpha = 30^\circ$ к горизонту. Определить разность потенциалов U между точками A и B поля, лежащими на одной горизонтали на расстоянии $l = 30$ см друг от друга. Действием силы тяжести пренебречь.

Решение. Из курса механики известно, что траектория тела, движущегося под действием постоянной по величине и по направлению силы, представляет собой в общем случае параболу. Такое движение полностью аналогично движению тела, брошенного под углом к горизонту вблизи поверхности Земли. Пользуясь этой аналогией, легко установить, что кинетическая энергия тела принимает минимальное значение в точке, в которой скорость тела перпендикулярна действующей на него силе, в нашем случае в точке, где $\vec{v} \perp \vec{E}$ (см. рисунок). Тем самым направление напряженности электрического поля в пространстве определено. Проекция напряженности поля на горизонтальную ось Ox равна $E_x = E \sin \alpha$. Учитывая, что искомая разность потенциалов определяется как $U = E_x l$, получаем: $U = El \sin \alpha = 4,5$ В.

О т в е т. $U = 4,5$ В.



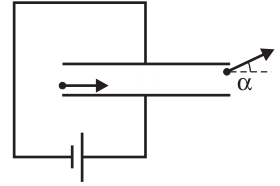
3.1.36. Шарик массой $m = 0,1$ г, несущий отрицательный заряд $q = -10^{-7}$ Кл, движется вдоль силовой линии однородного электрического поля с напряженностью \vec{E} , направленной вертикально вниз ($E = 7 \cdot 10^3$ В/м). На пути $l = 1$ м величина скорости шарика изменилась в 2 раза, а направление скорости осталось неизменным. Найти модуль скорости шарика v в конце этого пути. Ускорение свободного падения принять $g = 10$ м/с². Соппротивлением воздуха пренебречь.

Решение. Шарик движется под действием двух сил: силы тяжести и кулоновской силы, причем последняя направлена против электрического поля, поскольку заряд шарика отрицательный. В проекции на вертикальную координатную ось, направленную вниз, суммарная сила, действующая на шарик, равна: $F = mg + qE = mg - |q|E$. На перемещении l эта сила совершает работу $A = (mg - |q|E)l$. По условию задачи шарик движется по полю, т. е. вниз, и на рассматриваемом отрезке пути его скорость не меняет своего направления. Следовательно, перемещение шарика положительно. В соответствии с законом изменения кинетической энергии тела, $\frac{mv^2}{2} = \frac{mv_0^2}{2} + A$, где v_0 — скорость шарика в начале рассматриваемого пути, v — его скорость в конце этого пути. Из последнего соотношения находим: $v^2 = v_0^2 + \frac{2A}{m}$. Очевидно, что ответ зависит от знака работы, который определяется знаком проекции суммарной силы, действующей на шарик, на выбранную координатную ось. Таким образом, если сила тяжести больше кулоновской силы, то $F > 0$, $A > 0$, и скорость шарика увеличивается в два раза ($v = 2v_0$), при этом $v^2 = \frac{1}{4}v^2 + \frac{2A}{m}$. В противном случае $A < 0$ и скорость шарика уменьшается в два раза ($v = v_0/2$); тогда $v^2 = 4v^2 + \frac{2A}{m}$. Объединяя

записанные соотношения, получаем ответ: $v = 2\sqrt{\frac{2}{3}l\left(g - \frac{|q|E}{m}\right)}$ при $mg > |q|E$,
 $v = \sqrt{\frac{2}{3}l\left(\frac{|q|E}{m} - g\right)}$ при $mg < |q|E$. Подстановка численных данных из условия задачи дает для конечной скорости значение $v \approx 2,83$ м/с.

О т в е т. $v \approx 2,83$ м/с.

3.1.37. Заряженная частица влетает в пространство между пластинами плоского конденсатора, напряжение на котором поддерживается постоянным. Начальная скорость частицы параллельна пластинам конденсатора. При вылете из конденсатора скорость частицы составила угол α с ее начальной скоростью. Под каким углом β к начальной скорости вылетит эта частица из конденсатора, если расстояние между его пластинами увеличить в k раз? Силу тяжести не учитывать, электрическое поле в конденсаторе считать однородным.



Решение. Определим вначале, как зависит угол α вылета частицы из конденсатора от ее заряда q , массы m и начальной скорости v_0 , а также от параметров электрической системы. Обозначим через U напряжение на зажимах источника, через L — длину пластин, а через d_0 — начальное расстояние между ними. В пространстве между пластинами на частицу действует сила $\vec{F} = q\vec{E}$, направленная вдоль линий напряженности \vec{E} электрического поля в конденсаторе. В результате движение частицы в направлении, параллельном пластинам, будет равномерным со скоростью v_0 , а в направлении, перпендикулярном пластинам, — равноускоренным

с ускорением $a = \frac{F}{m} = \frac{qE}{m} = \frac{qU}{md_0}$. За время $t_0 = L/v_0$ пролета частицей конденсатора перпендикулярная пластинам составляющая скорости частицы

приобретет значение $v_{\perp} = at_0 = \frac{qUL}{md_0v_0}$. Следовательно, угол α между начальной скоростью частицы и ее скоростью при вылете из конденсатора определяется

из соотношения $\operatorname{tg}\alpha = \frac{v_{\perp}}{v_0} = \frac{qUL}{md_0v_0^2}$. При увеличении расстояния между

пластинами в k раз угол вылета частицы из конденсатора определяется формулой: $\operatorname{tg}\beta = \frac{qUL}{mkd_0v_0^2}$. Сравнивая два последние соотношения, получаем:

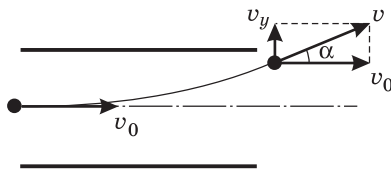
$$\beta = \operatorname{arctg}\left(\frac{1}{k}\operatorname{tg}\alpha\right).$$

О т в е т. $\beta = \operatorname{arctg}\left(\frac{1}{k}\operatorname{tg}\alpha\right)$.

3.1.38. Плоский конденсатор представляет собой две параллельные металлические пластины, жестко скрепленные между собой изолирующими

стержнями. Конденсатор находится в вакууме и покоится на горизонтальной подставке. Между пластинами конденсатора распространяется пучок электронов, скорость которых v_0 направлена горизонтально. На какую величину ΔN изменится сила реакции подставки, если на конденсатор подать напряжение, при котором пучок на выходе из конденсатора отклонится от первоначального направления на угол α ? Поле конденсатора считать однородным, действием силы тяжести на электроны пренебречь. Поперечное сечение пучка и концентрация электронов в пучке на входе в конденсатор равны, соответственно, S и n . Масса электрона m .

Решение. Поскольку электрическое поле внутри конденсатора однородно, а вне его равно нулю, при пролете конденсатора будет изменяться только поперечная составляющая скорости электронов, причем на выходе из конденсатора $v_y = v_0 \operatorname{tg} \alpha$. Следовательно, изменение импульса одного электрона за время пролета конденсатора равно $\Delta p_1 = m v_0 \operatorname{tg} \alpha$. С другой стороны, по закону изменения импульса, $\Delta p_1 =$



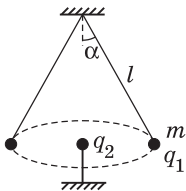
$= F_1 \Delta t$, где F_1 — сила, действующая на электрон со стороны поля конденсатора, Δt — время пролета конденсатора. Обозначив через l длину пластин конденсатора, находим,

что $\Delta t = \frac{l}{v_0}$ и $F_1 = \frac{\Delta p_1}{\Delta t} = \frac{m v_0^2}{l} \operatorname{tg} \alpha$. Одновременно в конденсаторе находятся $n_\Sigma = n S v_0 \Delta t = n S l$ электронов. Поэтому

полная сила, действующая на пучок, равна $F = n_\Sigma F_1 = n S m v_0^2 \operatorname{tg} \alpha$. По третьему закону Ньютона, искомая величина $\Delta N = F$. В зависимости от полярности напряжения на конденсаторе пучок будет отклоняться либо вверх ($\alpha > 0$), либо вниз ($\alpha < 0$). В соответствии с этим сила реакции подставки будет либо увеличиваться, либо уменьшаться на величину ΔN .

О т в е т. $\Delta N = n S m v_0^2 \operatorname{tg} \alpha$.

3.1.39. Шарик массой m , несущий заряд q_1 , подвешен на невесомой, нерастяжимой и непроводящей нити длиной l и вращается с постоянной угловой скоростью, причем угол между нитью и вертикалью равен α . В центре окружности, по которой движется шарик, расположен точечный заряд q_2 . Найти угловую скорость вращения шарика ω . Электрическая постоянная ϵ_0 , ускорение свободного падения g . Размером шарика пренебречь.



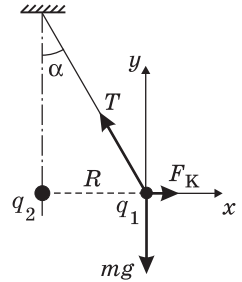
Решение. Для решения задачи будем использовать неподвижную систему координат, плоскость xOy которой в некоторый момент времени совпадает с плоскостью, проходящей через ось вращения системы и нить с шариком (см. рисунок). Поскольку шарик совершает равномерное движение по окружности, его ускорение направлено к ее центру и по величине равно $\omega^2 R = \omega^2 l \sin \alpha$. Движение шарика происходит под действием сил, модули и направления которых изображены на рисунке, где mg — модуль силы тяжести, T — модуль силы натяжения нити, F_K — модуль силы электрического взаимо-

действия между зарядами (кулоновской силы). В проекциях на координатные оси выбранной системы имеем: $-m\omega^2 l \sin \alpha = \frac{q_1 q_2}{4\pi \epsilon_0 (l \sin \alpha)^2} - T \sin \alpha$, $T \cos \alpha - mg = 0$.

Исключая отсюда натяжение нити T , после несложных

преобразований получаем: $\omega = \sqrt{\frac{g}{l \cos \alpha} - \frac{q_1 q_2}{4\pi \epsilon_0 m (l \sin \alpha)^3}}$.

$$\text{О т в е т. } \omega = \sqrt{\frac{g}{l \cos \alpha} - \frac{q_1 q_2}{4\pi \epsilon_0 m (l \sin \alpha)^3}}.$$



3.1.40. Два одинаковых шарика, заряженных одноименными зарядами, удерживают на расстоянии a друг от друга. В некоторый момент времени один из шариков отпускают без начальной скорости, после чего он начинает движение. Когда расстояние между шариками становится равным $2a$, отпускают без начальной скорости второй шарик. Определить, во сколько раз n скорость первого шарика будет превышать скорость второго шарика в момент, когда расстояние между ними станет равным $3a$. Действием всех сил, кроме сил электростатического отталкивания, пренебречь.

Р е ш е н и е. Пусть m — масса каждого из шариков; q_1 и q_2 — заряды шариков; v — модуль скорости первого шарика в момент, когда расстояние между шариками равно $2a$; v_1 и v_2 — модули скоростей первого и второго шариков в момент, когда расстояние между ними равно $3a$. Из законов сохранения энергии и импульса следуют равенства:

$$\frac{q_1 q_2}{4\pi \epsilon_0 a} = \frac{q_1 q_2}{4\pi \epsilon_0 2a} + \frac{mv^2}{2}, \quad \frac{q_1 q_2}{4\pi \epsilon_0 a} = \frac{q_1 q_2}{4\pi \epsilon_0 3a} + \frac{m(v_1^2 + v_2^2)}{2}, \quad mv = mv_1 - mv_2. \text{ Исключая}$$

из этих равенств v и $\frac{q_1 q_2}{4\pi \epsilon_0 a}$, получаем уравнение $v_1^2 - 8v_1 v_2 + v_2^2 = 0$, откуда $v_1 = v_2(4 \pm \sqrt{15})$. Условию задачи удовлетворяет больший по величине корень.

$$\text{О т в е т. } n = 4 + \sqrt{15} \approx 8 \text{ раз.}$$

3.1.41. На шероховатой горизонтальной непроводящей поверхности закреплен маленький шарик, имеющий заряд q . Маленький брусок массой m , несущий такой же по знаку и величине заряд, помещают на эту поверхность на расстоянии l_0 от закрепленного заряженного шарика. Какой путь l пройдет брусок до остановки, если его отпустить без начальной скорости? Коэффициент трения между бруском и поверхностью μ . Электрическая постоянная ϵ_0 , ускорение свободного падения g .

Р е ш е н и е. Поскольку сила кулоновского взаимодействия между заряженными телами является потенциальной, для решения задачи можно воспользоваться законом изменения механической энергии. По условию в начальном и конечном состояниях брусок неподвижен и его кинетическая энергия равна нулю. Следовательно, изменение потенциальной энергии взаимодействия зарядов равно работе силы трения на перемещении бруска

из начального положения в конечное: $\frac{q^2}{4\pi\epsilon_0(l_0 + l)} - \frac{q^2}{4\pi\epsilon_0 l_0} = -\mu mg l$. Отсюда

находим $l = \frac{q^2}{4\pi\epsilon_0 l_0 \mu mg} - l_0$. Необходимо иметь в виду, что этот результат справедлив не всегда. В самом деле, если в начальном положении бруска сила кулоновского отталкивания меньше максимального значения силы трения покоя, т. е. $\frac{q^2}{4\pi\epsilon_0 l_0^2} \leq \mu mg$, то брусок в движение не придет.

О т в е т. $l = \frac{q^2}{4\pi\epsilon_0 l_0 \mu mg} - l_0$ при $\frac{q^2}{4\pi\epsilon_0 l_0^2} > \mu mg$; $l = 0$ при $\frac{q^2}{4\pi\epsilon_0 l_0^2} \leq \mu mg$.

3.1.42. Два маленьких шарика массами m_1 и m_2 , несущие одноименные заряды q_1 и q_2 соответственно, соединены друг с другом невесомой нитью длиной l . Первоначально шарики покоятся. Затем нить пережигают, дав шарикам возможность свободно двигаться. Определить расстояние между шариками L в тот момент, когда первый шарик имеет импульс p_1 . Действием всех сил, кроме сил электростатического отталкивания, пренебречь. Электрическая постоянная ϵ_0 .

Р е ш е н и е. Предоставленные самим себе шарики приходят в движение под действием силы кулоновского отталкивания, которая является внутренней для рассматриваемой системы. Поэтому суммарный импульс шариков остается постоянным и равным нулю, откуда следует, что в каждый момент времени выполняется равенство $m_1 v_1 = m_2 v_2 = p_1$, где v_1 и v_2 — скорости шариков. Поскольку кулоновская сила является потенциальной, в системе сохраняется полная механическая энергия. Из закона сохранения энергии

вытекает соотношение: $\frac{1}{4\pi\epsilon_0} \cdot \frac{q_1 q_2}{l} = \frac{1}{4\pi\epsilon_0} \cdot \frac{q_1 q_2}{L} + \frac{m_1 v_1^2}{2} + \frac{m_2 v_2^2}{2}$. Исключая

из записанных выражений v_2 , находим: $L = \frac{l}{1 - 2\pi\epsilon_0 l p_1^2 (m_1 + m_2) / (q_1 q_2 m_1 m_2)}$.

О т в е т. $L = \frac{l}{1 - 2\pi\epsilon_0 l p_1^2 (m_1 + m_2) / (q_1 q_2 m_1 m_2)}$.

3.1.43. Два маленьких одноименно заряженных шарика массами m_1 и m_2 соединены друг с другом невесомой нитью длиной l . Первоначально шарики покоятся. При этом нить натянута с силой T . Затем нить пережигают, дав шарикам возможность свободно двигаться. Определить расстояние между шариками L в тот момент, когда первый шарик имеет импульс p_1 . Действием всех сил, кроме сил электростатического отталкивания, пренебречь.

Р е ш е н и е. Условие равновесия шариков, соединенных нитью, имеет вид: $T = \frac{1}{4\pi\epsilon_0} \cdot \frac{q_1 q_2}{l^2}$. Предоставленные самим себе шарики приходят в движение под действием силы кулоновского отталкивания, которая является внутренней для рассматриваемой системы. Поэтому суммарный импульс

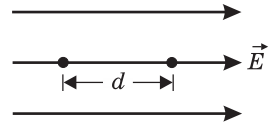
шариков остается постоянным и равным нулю, откуда следует, что в каждый момент времени выполняется равенство $m_1 v_1 = m_2 v_2 = p_1$, где v_1 и v_2 — скорости шариков. Поскольку кулоновская сила является потенциальной, в системе сохраняется полная механическая энергия. Из закона сохранения энергии вытекает соотношение:

$$\frac{1}{4\pi\epsilon_0} \cdot \frac{q_1 q_2}{l} = \frac{1}{4\pi\epsilon_0} \cdot \frac{q_1 q_2}{L} + \frac{m_1 v_1^2}{2} + \frac{m_2 v_2^2}{2}.$$

Объединяя эти равенства, находим:
$$L = \frac{l}{1 - p_1^2(m_1 + m_2) / (2Tlm_1 m_2)}.$$

Ответ.
$$L = \frac{l}{1 - p_1^2(m_1 + m_2) / (2Tlm_1 m_2)}.$$

3.1.44. Две заряженные частицы помещены в однородное электрическое поле напряженностью \vec{E} . Частица массой m несет отрицательный заряд $-q$, а частица массой M — положительный заряд Q . На каком расстоянии d друг от друга нужно расположить частицы, чтобы при их движении из состояния покоя расстояние между частицами оставалось неизменным? Электрическая постоянная ϵ_0 .

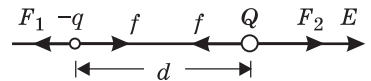


Решение. Частицы должны быть расположены на одной силовой линии электрического поля (см. рисунок). Модули сил, действующих на частицы, составляют следующие величины: $f = \frac{qQ}{4\pi\epsilon_0 d^2}$,

$F_1 = qE$, $F_2 = QE$. Полагая, что ускорения частиц равны, по второму закону Ньютона имеем: $ma = -qE + \frac{qQ}{4\pi\epsilon_0 d^2}$, $Ma = QE - \frac{qQ}{4\pi\epsilon_0 d^2}$. Исключая из этих уравнений ускорение частиц a , получаем:

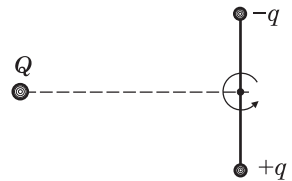
$$d = \sqrt{\frac{qQ(m+M)}{4\pi\epsilon_0 E(mQ+Mq)}}.$$

Поскольку начальные скорости частиц равны нулю, а их ускорения совпадают, расстояние между частицами при их движении будет оставаться постоянным.



Ответ.
$$d = \sqrt{\frac{qQ(m+M)}{4\pi\epsilon_0 E(mQ+Mq)}}.$$

3.1.45. Два маленьких шарика одинаковой массой m , несущие заряды $+q$ и $-q$, закреплены на концах невесомого непроводящего стержня длиной $2l$. Система находится в электрическом поле неподвижного точечного заряда Q , удаленного от центра стержня на расстояние L . Первоначально стержень удерживают так, что он располагается перпендикулярно линии, соединяющей его центр и заряд Q (см. рисунок). Затем стержень отпускают, и он начинает вращаться без трения вокруг оси, проходящей через его центр и перпендикулярной плоскости рисунка.



Определить угловую скорость вращения стержня ω в тот момент, когда она достигнет максимального значения.

Решение. Угловая скорость вращения стержня максимальна в тот момент, когда сила притяжения между зарядами Q и $-q$ и сила отталкивания между зарядами Q и $+q$ не имеют составляющих, перпендикулярных стержню, т. е. когда заряды Q , $-q$ и $+q$ лежат на одной прямой. Поскольку кулоновские силы потенциальны, для решения задачи можно применить закон сохранения энергии, используя для энергии взаимодействия двух точечных зарядов Q и q , находящихся на расстоянии x друг от друга, формулу:

$E_{\text{П}} = \frac{Qq}{4\pi\epsilon_0 x}$. В начальном состоянии стержень неподвижен, а энергии взаимодействия пар зарядов Q , $+q$ и Q , $-q$ равны по величине и противоположны по знаку. Поэтому начальная энергия системы равна нулю. Полагая, что в конечном состоянии заряды Q , $-q$ и $+q$ находятся на одной прямой, по закону сохранения энергии имеем

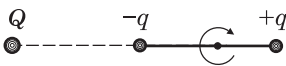
$$mv^2 + \frac{1}{4\pi\epsilon_0} \left(-\frac{Qq}{L-l} + \frac{Qq}{L+l} \right) = 0,$$

где $v = \omega l$ — линейная скорость каждого из шариков. Отсюда легко получить:

$$\omega = \sqrt{\frac{Qq}{2\pi\epsilon_0 lm(L^2 - l^2)}}.$$

О т в е т. $\omega = \sqrt{\frac{Qq}{2\pi\epsilon_0 lm(L^2 - l^2)}}.$

3.1.46. Два маленьких шарика, несущие заряды $+q$ и $-q$, закреплены на концах непроводящего стержня длиной $2l$. Система находится в электрическом поле неподвижного точечного заряда Q , удаленного от центра стержня на расстояние L . Первоначальное расположение шариков показано на рисунке. Какую работу A нужно совершить, чтобы повернуть стержень на 180° вокруг оси, перпендикулярной стержню и проходящей через его центр? Силу тяжести не учитывать.



Какую работу A нужно совершить, чтобы повернуть стержень на 180° вокруг оси, перпендикулярной стержню и проходящей через его центр? Силу тяжести не учитывать.

Решение. Поскольку кулоновские силы потенциальны, работа A равна изменению потенциальной энергии системы: $A = E_{\text{П2}} - E_{\text{П1}}$. Используя для энергии взаимодействия двух точечных зарядов Q и q , находящихся на расстоянии x друг от друга, формулу:

$$E_{\text{П}} = \frac{Qq}{4\pi\epsilon_0 x}, \text{ находим: } E_{\text{П1}} = \frac{1}{4\pi\epsilon_0} \left(-\frac{Qq}{L-l} + \frac{Qq}{L+l} \right),$$

$$E_{\text{П2}} = \frac{1}{4\pi\epsilon_0} \left(\frac{Qq}{L-l} - \frac{Qq}{L+l} \right).$$

О т в е т. $A = \frac{Qql}{\pi\epsilon_0(L^2 - l^2)}.$

3.1.47. Маленький шарик, несущий заряд $+q$, закреплен на пружине жесткостью k . На расстоянии L от этого шарика удерживают другой такой же шарик с зарядом, равным $-q$. Какую работу A нужно совершить, чтобы, медленно отодвигая второй заряд от первого, увеличить расстояние меж-



ду ними в 2 раза? Действием силы тяжести пренебречь. Электрическая постоянная ϵ_0 .

Решение. Искомая работа равна изменению потенциальной энергии системы: $A = E_{\text{П2}} - E_{\text{П1}}$, где $E_{\text{П1}} = \frac{kx_1^2}{2} - \frac{1}{4\pi\epsilon_0} \cdot \frac{q^2}{L}$, $E_{\text{П2}} = \frac{kx_2^2}{2} - \frac{1}{4\pi\epsilon_0} \cdot \frac{q^2}{2L}$. При этом начальное x_1 и конечное x_2 удлинения пружины определяются условиями равновесия заряда q , а именно $kx_1 = \frac{1}{4\pi\epsilon_0} \cdot \frac{q^2}{L^2}$, $kx_2 = \frac{1}{4\pi\epsilon_0} \cdot \frac{q^2}{4L^2}$. Объединяя записанные выражения, получаем ответ.

$$\text{О т в е т. } A = \frac{q^2}{8\pi\epsilon_0 L} \left(1 - \frac{15q^2}{64\pi\epsilon_0 kL^3} \right).$$

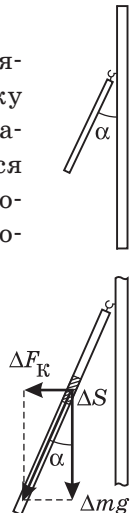
3.1.48. На длинной нити подвешен маленький шарик массой $m = 10$ г, несущий заряд $q = 10^{-7}$ Кл. В некоторый момент включают горизонтально направленное однородное электрическое поле напряженностью $E = 5 \cdot 10^4$ В/м. На какой максимальный угол α_{max} отклонится после этого нить? Ускорение свободного падения принять $g = 10$ м/с².

Решение. Работа сил электростатического поля равна изменению механической энергии шарика: $qEl \sin \alpha = \frac{mv^2}{2} + mgl(1 - \cos \alpha)$, где α — угол отклонения нити, l — ее длина, v — скорость шарика. При максимальном отклонении нити от вертикали скорость шарика обращается в нуль, следовательно, $qEl \sin \alpha_{\text{max}} = mgl(1 - \cos \alpha_{\text{max}})$. Последнее выражение легко привести к виду: $2qEl \sin \frac{\alpha_{\text{max}}}{2} \cos \frac{\alpha_{\text{max}}}{2} = 2mgl \sin^2 \frac{\alpha_{\text{max}}}{2}$. Отсюда следует: $\alpha_{\text{max}} = 2 \arctg \frac{qE}{mg} \approx 0,1$ рад $\approx 5,7^\circ$.

О т в е т. $\alpha_{\text{max}} \approx 5,7^\circ$.

3.1.49. Плоский лепесток толщиной δ , сделанный из непроводящего материала плотностью ρ , подвешен за свою верхнюю точку вплотную к тонкой вертикальной пластине, площадь которой значительно больше площади лепестка. На какой угол α отклонится лепесток от вертикали, если на него и на пластину поместить одноименные заряды, равномерно распределенные с плотностью σ по поверхности пластины и обеим поверхностям лепестка? Электрическая постоянная ϵ_0 , ускорение свободного падения g .

Решение. На участок лепестка площадью ΔS действует сила тяжести $\Delta m \cdot g = \rho g \delta \Delta S$, направленная вертикально вниз, и сила кулоновского отталкивания от плоскости $\Delta F_{\text{к}} = 2\sigma \Delta S \cdot \frac{\sigma}{2\epsilon_0}$, направленная горизонтально. Направление равнодействующей этих сил для всех точек лепестка одно и то же, поэтому лепесток



сток будет находиться в равновесии, если равнодействующая проходит через точку подвеса. Поэтому $\operatorname{tg} \alpha = \frac{\Delta F_{\text{к}}}{\Delta mg} = \frac{\sigma^2}{\varepsilon_0 \rho \delta g}$.

$$\text{О т в е т. } \alpha = \operatorname{arctg} \left(\frac{\sigma^2}{\varepsilon_0 \rho \delta g} \right).$$

3.1.50. Два одноименно заряженных металлических шарика находятся в вакууме на расстоянии, намного превышающем радиусы обоих шариков. Радиус и заряд первого шарика равны, соответственно, $R_1 = 4$ см и $Q_1 = 10^{-8}$ Кл. Чему равны радиус R_2 и начальный заряд Q_2 второго шарика, если известно, что после соединения шариков тонким проводом напряженность электрического поля вблизи поверхности первого шарика изменилась в $k_1 = 4$ раза, а вблизи второго — в $k_2 = 0,5$ раза?

Р е ш е н и е. До соединения шариков проводом потенциалы шариков и напряженности электрического поля вблизи их поверхностей равны соответственно:

$$\varphi_{1,2} = \frac{Q_{1,2}}{4\pi\varepsilon_0 R_{1,2}}, \quad E_{1,2} = \frac{Q_{1,2}}{4\pi\varepsilon_0 R_{1,2}^2}.$$

После соединения шариков их потенциалы станут одинаковыми за счет перетекания зарядов. Обозначив заряды шариков после соединения через Q'_1 и Q'_2 , имеем: $Q'_1 + Q'_2 = Q_1 + Q_2$,

$$\frac{Q'_1}{4\pi\varepsilon_0 R_1} = \frac{Q'_2}{4\pi\varepsilon_0 R_2}.$$

Отсюда $Q'_1 = \frac{(Q_1 + Q_2)R_1}{R_1 + R_2}$, $Q'_2 = \frac{(Q_1 + Q_2)R_2}{R_1 + R_2}$. Следовательно, напряженности поля у поверхностей шариков станут:

$$E'_1 = \frac{(Q_1 + Q_2)}{4\pi\varepsilon_0 R_1 (R_1 + R_2)},$$

$$E'_2 = \frac{(Q_1 + Q_2)}{4\pi\varepsilon_0 R_2 (R_1 + R_2)}.$$

В итоге получаем систему уравнений: $k_1 = \frac{E'_1}{E_1} = \frac{(Q_1 + Q_2)R_1}{Q_1(R_1 + R_2)}$, $k_2 = \frac{E'_2}{E_2} = \frac{(Q_1 + Q_2)R_2}{Q_2(R_1 + R_2)}$. Разрешая эту систему относительно R_2

$$\text{и } Q_2, \text{ находим: } R_2 = R_1 \frac{k_2(k_1 - 1)}{k_1(1 - k_2)} = 3 \text{ см, } Q_2 = Q_1 \frac{k_1 - 1}{1 - k_2} = 6 \cdot 10^{-8} \text{ Кл.}$$

$$\text{О т в е т. } R_2 = 3 \text{ см, } Q_2 = 6 \cdot 10^{-8} \text{ Кл.}$$

3.1.51. Радиусы двух проводящих концентрических сфер отличаются в 2 раза. Внутренняя сфера заряжена отрицательным зарядом, а внешняя — положительным, причем величина заряда внешней сферы в три раза больше модуля заряда внутренней сферы. Во сколько раз n изменится потенциал внутренней сферы, если эти сферы соединить проводником?

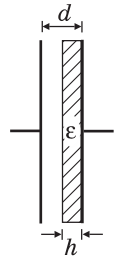
Р е ш е н и е. Пусть заряд на внутренней сфере равен $-q$, тогда заряд на внешней сфере $3q$. До соединения сфер проводником потенциал внутренней сферы

$$\varphi_0 = -\frac{q}{4\pi\varepsilon_0 R} + \frac{3q}{4\pi\varepsilon_0 (2R)} = \frac{q}{8\pi\varepsilon_0 R}.$$

После соединения сфер весь заряд с внутренней сферы перейдет на внешнюю сферу. Потенциал внутренней сферы станет равным потенциалу внешней: $\varphi = \frac{3q - q}{4\pi\varepsilon_0 (2R)} = \frac{q}{4\pi\varepsilon_0 R}$.

$$\text{О т в е т. } n = \frac{\varphi}{\varphi_0} = 2. \text{ Потенциал внутренней сферы увеличится в 2 раза.}$$

3.1.52. В плоский конденсатор вставлена диэлектрическая пластинка, как показано на рисунке. На конденсатор подали напряжение U . Найти напряженность электрического поля E внутри диэлектрика, если расстояние между обкладками конденсатора d , толщина пластинки h , диэлектрическая проницаемость диэлектрика ε .



Решение. Пусть E_0 — напряженность электрического поля в той части конденсатора, где нет диэлектрика. Напряжение между обкладками $U = E_0(d - h) + Eh$, где $E = E_0/\varepsilon$. Объединяя

записанные выражения, получаем: $E = \frac{U}{h + \varepsilon(d - h)}$.

О т в е т. $E = \frac{U}{h + \varepsilon(d - h)}$.

3.1.53. Две одинаковые металлические пластины площадью S каждая расположены параллельно друг другу на расстоянии d , малом по сравнению с размерами пластин. На одну из пластин поместили заряд $q_1 = q$, на другую — заряд $q_2 = 5q$ того же знака. Определить разность потенциалов U между пластинами. Электрическая постоянная ε_0 .

Решение. Модули напряженностей электрических полей, создаваемых пластинами, $E_1 = \frac{q_1}{2\varepsilon_0 S}$, $E_2 = \frac{q_2}{2\varepsilon_0 S}$. Эти поля однородны и в пространстве между пластинами направлены противоположно друг другу. По принципу суперпозиции модуль результирующего поля между пластинами $E = \frac{|q_1 - q_2|}{2\varepsilon_0 S}$.

Разность потенциалов между пластинами $U = Ed$.

О т в е т. $U = \frac{|q_1 - q_2|d}{2\varepsilon_0 S} = \frac{2qd}{\varepsilon_0 S}$.

3.1.54. Экран электронно-лучевой трубки представляет собой прямоугольник с диагональю $d = 51$ см и соотношением сторон 3 : 4. Сила тока в электронном луче составляет $I = 0,5$ мА. Предположим, что все электроны луча, попавшие на экран, остаются на нем, распределяясь по его поверхности равномерно. Через какое время τ после включения устройства напряженность электрического поля вблизи поверхности экрана достигнет по величине напряженности поля на поверхности уединенного металлического шара радиусом $R = 10$ см, заряженного до потенциала $\varphi = 3$ кВ? Электрическая постоянная $\varepsilon_0 = 8,85 \cdot 10^{-12}$ Ф/м.

Решение. За время τ на экране электронно-лучевой трубки соберется заряд $q = I\tau$ с поверхностной плотностью $\sigma = \frac{q}{S}$, где S — площадь экрана.

При заданном отношении сторон экрана $S = \frac{3}{5}d \cdot \frac{4}{5}d = \frac{12}{25}d^2$. Напряженность

электрического поля вблизи экрана $E = \frac{\sigma}{2\varepsilon_0} = \frac{25I\tau}{24\varepsilon_0 d^2}$. Напряженность поля

на поверхности уединенного металлического шара, заряженного до потенци-

ала φ , равна $E_1 = \frac{\varphi}{R}$. Приравнявая эти величины, получаем: $\tau = \frac{24d^2\epsilon_0\varphi}{25IR} \approx 133$ мкс.

О т в е т. $\tau \approx 133$ мкс.

3.1.55. Плоский конденсатор, подключенный к источнику с ЭДС \mathcal{E} , состоит из двух квадратных обкладок площадью S каждая, расположенных на расстоянии d друг от друга. Между обкладками расположена диэлектрическая пластинка с диэлектрической проницаемостью ϵ , заполняющая весь объем конденсатора. Пластинку начинают медленно выдвигать вдоль одной из сторон конденсатора с постоянной скоростью v_0 . Какой по величине и направлению ток I будет течь в цепи источника при этом? Внутренним сопротивлением источника пренебречь.

Р е ш е н и е. Пусть пластинка выдвинута из конденсатора на расстояние x . Емкость конденсатора и заряд на нем при этом будут: $C(x) = \frac{ax\epsilon_0}{d} + \frac{a(a-x)\epsilon_0\epsilon}{d} = \frac{a\epsilon_0}{d}[a\epsilon - x(\epsilon - 1)]$, $q(x) = C(x)\mathcal{E}$, где $a = \sqrt{S}$. За малое время Δt пластинка переместится на расстояние $\Delta x = v_0\Delta t$ и заряд конденсатора уменьшится на величину $\Delta q = \frac{a\epsilon_0\mathcal{E}}{d}(\epsilon - 1)v_0\Delta t$. Учитывая, что $I = \Delta q / \Delta t$, получаем: $I = \sqrt{S} \frac{\epsilon_0\mathcal{E}}{d}(\epsilon - 1)v_0$.

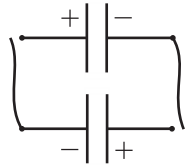
О т в е т. $I = \sqrt{S} \frac{\epsilon_0\mathcal{E}}{d}(\epsilon - 1)v_0$. Ток внутри источника направлен от положительной его клеммы к отрицательной.

3.1.56. Пластины плоского воздушного конденсатора расположены горизонтально. Верхняя пластина сделана подвижной и удерживается в начальном состоянии на высоте $h = 1$ мм над нижней пластиной, которая закреплена. Конденсатор зарядили до разности потенциалов $U = 1000$ В, отключили от источника и освободили верхнюю пластину. Какую скорость приобретет падающая пластина к моменту соприкосновения с нижней пластиной? Масса верхней пластины $m = 4,4$ г. площадь каждой из пластин $S = 0,01$ м², электрическая постоянная $\epsilon_0 = 8,85 \cdot 10^{-12}$ Ф/м. Сопротивлением воздуха пренебречь. Ускорение свободного падения $g = 10$ м/с².

Р е ш е н и е. При неограниченном сближении пластин плоского конденсатора, заряд на котором постоянен, энергия конденсатора стремится к нулю. Поэтому вся начальная энергия конденсатора переходит в кинетическую энергию движущейся пластины. Из закона сохранения энергии следует: $\frac{mv^2}{2} = mgh + \frac{CU^2}{2}$, где $C = \frac{\epsilon_0 S}{h}$ — емкость конденсатора в начальном состоянии.

О т в е т. $v = \sqrt{2gh + \frac{\epsilon_0 S U^2}{mh}} \approx 0,2$ м/с.

3.1.57. Два конденсатора, заряженные до одного и того же напряжения, имеют энергии W_1 и W_2 . Разноименно заряженные обкладки конденсаторов соединили с помощью двух проводников. Какая энергия W выделилась в проводниках при разрядке конденсаторов?



Решение. Пусть C_1 и C_2 — емкости конденсаторов, U_0 — напряжение, до которого они заряжены. Тогда заряды

на конденсаторах $q_1 = C_1 U_0$, $q_2 = C_2 U_0$, а их энергии $W_1 = \frac{C_1 U_0^2}{2}$, $W_2 = \frac{C_2 U_0^2}{2}$.

После соединения разноименно заряженных пластин модуль заряда на каждой паре пластин будет $q = |q_1 - q_2| = |C_1 - C_2| U_0$. Следовательно, энергия конденсаторов после перезарядки $W' = \frac{q^2}{2(C_1 + C_2)} = \frac{(C_1 - C_2)^2 U_0^2}{2(C_1 + C_2)}$. Изменение

энергии конденсаторов в процессе перезарядки равно энергии, выделившейся в проводниках: $W = W_1 + W_2 - W'$. После несложных преобразований находим, что $W = \frac{4U_0^2 C_1 C_2}{2(C_1 + C_2)} = \frac{4W_1 C_2}{C_1 + C_2}$. Учитывая, что $\frac{C_1}{C_2} = \frac{W_1}{W_2}$, полу-

чаем: $W = \frac{4W_1 W_2}{W_1 + W_2}$.

О т в е т. $W = \frac{4W_1 W_2}{W_1 + W_2}$.

3.1.58. Два одинаковых конденсатора емкостью C каждый соединены последовательно и постоянно подключены к источнику, имеющему ЭДС \mathcal{E} и пренебрежимо малое внутреннее сопротивление. В некоторый момент времени параллельно одному из конденсаторов подсоединили резистор. Какое количество теплоты Q выделится в этом резисторе в процессе перераспределения зарядов в конденсаторах, если перед подключением резистора заряды на конденсаторах были одинаковы?

Решение. В начальном состоянии заряд на каждом конденсаторе $q = \frac{C}{2} \mathcal{E}$, энергия системы $W_1 = 2 \frac{C}{2} \left(\frac{\mathcal{E}}{2} \right)^2 = \frac{C \mathcal{E}^2}{4}$. При подключении резистора к одному из конденсаторов этот конденсатор полностью разрядится, а второй зарядится до напряжения \mathcal{E} . Поэтому конечная энергия системы

$W_2 = \frac{C \mathcal{E}^2}{2}$. При перезарядке конденсаторов источник переместит по цепи заряд q , совершив работу $A = q \mathcal{E} = \frac{C \mathcal{E}^2}{2}$. Из закона изменения энергии следует, что $A + W_1 = W_2 + Q$.

О т в е т. $Q = \frac{C \mathcal{E}^2}{4}$.

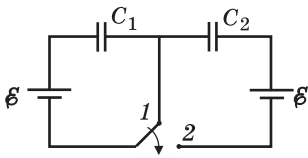
3.1.59. Два конденсатора емкостями C_1 и C_2 соединены последовательно и постоянно подключены к источнику, имеющему ЭДС \mathcal{E} и пренебрежимо малое внутреннее сопротивление. В некоторый момент времени параллельно

конденсатору C_2 подсоединили резистор. Какое количество теплоты Q выделится в этом резисторе в процессе перераспределения зарядов в конденсаторах, если перед подключением резистора заряды на конденсаторах были одинаковы?

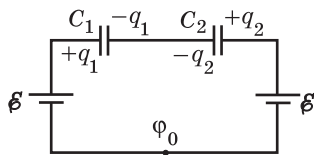
Решение. В начальном состоянии заряд на каждом конденсаторе $q = \frac{C_1 C_2}{C_1 + C_2} \mathcal{E}$, энергия системы $W_0 = \frac{q^2}{2C_1} + \frac{q^2}{2C_2} = \frac{C_1 C_2 \mathcal{E}^2}{2(C_1 + C_2)}$. При подключении резистора к конденсатору C_2 этот конденсатор полностью разрядится, а конденсатор C_1 зарядится до напряжения \mathcal{E} . Конечная энергия системы $W = \frac{C_1 \mathcal{E}^2}{2}$. При перезарядке конденсаторов источник переместит по цепи заряд $q = \left(C_1 - \frac{C_1 C_2}{C_1 + C_2} \right) \mathcal{E}$, совершив работу $A = q\mathcal{E} = \frac{C_1^2 \mathcal{E}^2}{C_1 + C_2}$. По закону изменения энергии, $A + W_0 = W + Q$.

$$\text{О т в е т. } Q = \frac{C_1^2 \mathcal{E}^2}{2(C_1 + C_2)}.$$

3.1.60. В цепи, изображенной на рисунке, ключ в течение длительного времени находился в положении 1, а конденсатор C_2 был полностью разряжен. В некоторый момент ключ перевели из положения 1 в положение 2.



Найти заряды q_1 и q_2 , которые по истечении достаточно длительного времени накопятся на конденсаторах C_1 и C_2 соответственно. Емкости конденсаторов $C_1 = 1$ мкФ, $C_2 = 2$ мкФ, ЭДС каждого из источников $\mathcal{E} = 30$ В.



Решение. Когда ключ находился в положении 1, на конденсаторе C_1 накопился заряд $q_0 = C_1 \mathcal{E}$. При переводе ключа в положение 2 заряд $(-q_0)$, находившийся первоначально на правой обкладке конденсатора C_1 , перераспределится между ней и левой обкладкой конденсатора C_2 . По закону сохранения заряда на этой системе обкладок имеем: $-C_1 \mathcal{E} = -q_1 - q_2$. При обходе кон-

тура справедливо соотношение $\phi_0 + \mathcal{E} - \frac{q_1}{C_1} + \frac{q_2}{C_2} - \mathcal{E} = \phi_0$, откуда следует,

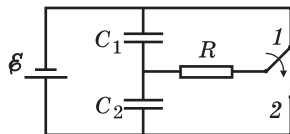
что $\frac{q_2}{C_2} = \frac{q_1}{C_1}$. Из этой системы уравнений находим: $q_1 = \frac{C_1^2 \mathcal{E}}{C_1 + C_2} = 10^{-5}$ Кл,

$$q_2 = \frac{C_1 C_2 \mathcal{E}}{C_1 + C_2} = 2 \cdot 10^{-5} \text{ Кл.}$$

$$\text{О т в е т. } q_1 = 10^{-5} \text{ Кл, } q_2 = 2 \cdot 10^{-5} \text{ Кл.}$$

3.1.61. Цепь, изображенная на рисунке, состоит из двух конденсаторов емкостями C_1 и C_2 , источника с ЭДС \mathcal{E} и пренебрежимо малым внутренним сопротивлением, резистора и ключа. В течение достаточно длительного вре-

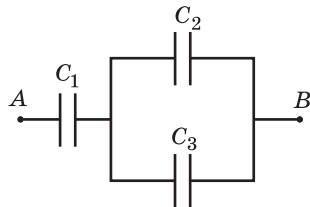
мени после сборки схемы ключ находился в положении 1. Какое количество теплоты Q выделится в резисторе после перебрасывания ключа в положение 2? Сопротивлением подводящих проводов и ключа пренебречь.



Решение. В начальном состоянии (когда ключ находился в положении 1) заряд и напряжение на конденсаторе C_1 были равны нулю, а конденсатор C_2 был заряжен до напряжения \mathcal{E} . Следовательно, начальная энергия системы $W_0 = \frac{C_2 \mathcal{E}^2}{2}$. После перебрасывания ключа в положение 2 конденсатор C_2 разрядится, а конденсатор C_1 зарядится до напряжения \mathcal{E} , приобретя заряд $q = C_1 \mathcal{E}$. Поэтому конечная энергия системы $W = \frac{C_1 \mathcal{E}^2}{2}$. При зарядке конденсатора C_1 источник переместит по цепи заряд $q = C_1 \mathcal{E}$, совершив работу $A = q\mathcal{E} = C_1 \mathcal{E}^2$. По закону изменения энергии, $A + W_0 = W + Q$.

$$\text{О т в е т. } Q = \frac{1}{2}(C_1 + C_2)\mathcal{E}^2.$$

3.1.62. Первоначально незаряженные конденсаторы, емкости которых C_1 , C_2 и C_3 неизвестны, соединены в цепь, как показано на рисунке. После подключения к точкам A и B источника оказалось, что заряд на конденсаторе C_1 равен $q_1 = 5 \cdot 10^{-4}$ Кл, напряжение на конденсаторе C_2 равно $U_2 = 100$ В, а энергия конденсатора C_3 равна $W_3 = 10^{-2}$ Дж. Найти емкость конденсатора C_2 .



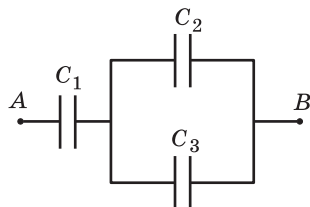
Решение. Поскольку все конденсаторы были первоначально незаряжены, после подключения цепи к источнику заряд на конденсаторе C_1 будет равен суммарному заряду на конденсаторах C_2 и C_3 , т. е. $q_1 = q_2 + q_3$. Учитывая, что конденсаторы C_2 и C_3 соединены параллельно, можно записать равенство $q_1 = (C_2 + C_3)U_2$.

Энергия конденсатора C_3 равна $W_3 = \frac{C_3 U_2^2}{2}$. Из этой системы уравнений на-

$$\text{ходим: } C_2 = \frac{q_1 U_2 - 2W_3}{U_2^2} = 3 \cdot 10^{-6} \text{ Ф.}$$

$$\text{О т в е т. } C_2 = 3 \cdot 10^{-6} \text{ Ф.}$$

3.1.63. Первоначально незаряженные конденсаторы, емкости которых C_1 , C_2 и C_3 неизвестны, соединены в цепь, как показано на рисунке. После подключения к точкам A и B источника оказалось, что напряжение на конденсаторе C_1 равно $U_1 = 100$ В, заряд на конденсаторе C_2 равен $q_2 = 10^{-4}$ Кл, а энергия конденсатора C_1 превышает энергию конденсатора C_3 в $m = 2$ раза. Найти ем-



кость конденсатора C_2 , если известно, что она в $n = 3$ раза меньше емкости конденсатора C_3 .

Решение. Заряд C_1U_1 на конденсаторе C_1 равен суммарному заряду на конденсаторах C_2 и C_3 , т. е. $C_1U_1 = q_2 + q_3$. Поскольку $C_3 = nC_2$ и напряжение U_3 на конденсаторах C_2 и C_3 одинаково, то $q_3 = nq_2$, $q_2 = C_2U_3$. Энергии конденсаторов C_1 , C_2 и C_3 связаны соотношением $\frac{C_1U_1^2}{2} = m\frac{C_3U_3^2}{2} = mn\frac{C_2U_3^2}{2} = mn\frac{q_2^2}{2C_2}$. Из системы уравнений $C_1U_1 = q_2(n + 1)$, $C_1U_1^2 = mn\frac{q_2^2}{C_2}$ получаем:

$$C_2 = \frac{mnq_2}{(n + 1)U_1} = 1,5 \cdot 10^{-6} \text{ Ф.}$$

О т в е т. $C_2 = 1,5 \cdot 10^{-6} \text{ Ф.}$

3.1.64. Два одинаковых плоских конденсатора, соединенных параллельно, зарядили до напряжения $U = 1000 \text{ В}$ и отключили от источника. Затем пластины одного из конденсаторов раздвинули так, что расстояние между ними увеличилось в $k = 3$ раза, после чего пластины этого конденсатора замкнули проводником. Какая энергия Q выделилась в проводнике? Первоначальная емкость каждого конденсатора $C = 500 \text{ пФ}$.

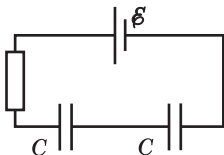
Решение. Соединенные параллельно конденсаторы образуют батарею емкостью $2C$, полный заряд на которой равен $q = 2CU$. Поскольку после зарядки конденсаторов батарею отключили от источника, суммарный заряд на ней остается постоянным. Учитывая, что емкость плоского конденсатора обратно пропорциональна расстоянию между пластинами, найдем емкость

батареи после раздвигания пластин одного из конденсаторов: $C' = C\left(1 + \frac{1}{k}\right)$.

За счет работы, совершенной при раздвигании пластин, энергия батареи возрастает и принимает значение $W = \frac{q^2}{2C'} = \frac{2kCU^2}{(k + 1)}$. При замыкании пластин эта энергия выделится в проводнике.

О т в е т. $Q = 2CU^2 \cdot \frac{k}{k + 1} = 7,5 \cdot 10^{-4} \text{ Дж.}$

3.1.65. В схеме, показанной на рисунке, ЭДС источника $\mathcal{E} = 60 \text{ В}$, емкость каждого из плоских воздушных конденсаторов $C = 10 \text{ мкФ}$. Какой заряд q протечет через источник, если один из конденсаторов заполнить диэлектриком с диэлектрической проницаемостью $\varepsilon = 2$?



Решение. В отсутствие диэлектрика общая емкость конденсаторов $C_1 = \frac{C}{2}$, заряд на каждом из них $q_1 = \frac{C\mathcal{E}}{2}$.

Когда один из конденсаторов заполняют диэлектриком, его емкость становится равной εC , а емкость двух последовательно соединенных конденсаторов будет $C_2 = 1 / \left(\frac{1}{C} + \frac{1}{\varepsilon C} \right) = \frac{\varepsilon C}{\varepsilon + 1}$. Следовательно, конечный

заряд на каждом из конденсаторов $q_2 = \frac{\varepsilon C \xi}{\varepsilon + 1}$. Протекший через источник заряд $q = q_2 - q_1$.

$$\text{О т в е т. } q = \frac{\xi C}{2} \cdot \frac{(\varepsilon - 1)}{(\varepsilon + 1)} = 10^{-4} \text{ Кл.}$$

3.1.66. В плоском конденсаторе находится пластина из диэлектрика с проницаемостью $\varepsilon = 2,5$, площадь которой составляет часть $\alpha = 0,4$ от площади его обкладок. Конденсатор зарядили до напряжения $U = 1000$ В и отключили от источника. Какую работу A необходимо совершить, чтобы вытащить пластину из конденсатора? Емкость пустого конденсатора $C = 400$ пФ, зазором между диэлектриком и обкладками пренебречь.

Решение. Емкость C_1 конденсатора, пространство между пластинами которого частично заполнено диэлектриком, может быть вычислена как емкость двух параллельно соединенных конденсаторов емкостями $(1 - \alpha)C$ и $\alpha\varepsilon C$: $C_1 = (1 - \alpha)C + \alpha\varepsilon C = (1 + \beta)C$, где $\beta = \alpha(\varepsilon - 1)$. Заряд q на этом конденсаторе и его энергия W_1 в начальном состоянии составляют: $q = C_1 U = (1 + \beta)CU$,

$W_1 = \frac{1}{2} C_1 U^2 = \frac{1}{2} (1 + \beta) C U^2$. При удалении диэлектрика заряд на конденсаторе не меняется, а энергия конденсатора после вытаскивания пластины возрастает и становится равной $W_2 = \frac{q^2}{2C} = \frac{1}{2} (1 + \beta)^2 C U^2$. Увеличение энергии конденсатора происходит за счет работы, совершенной при вытаскивании пластины: $W_2 - W_1 = A$.

$$\text{О т в е т. } A = \frac{1}{2} \alpha (\varepsilon - 1) [1 + \alpha (\varepsilon - 1)] C U^2 = 1,92 \cdot 10^{-4} \text{ Дж.}$$

3.1.67. Два одинаковых плоских конденсатора емкостями $C = 200$ пФ каждый соединены параллельно, заряжены до напряжения $U = 2000$ В и отключены от источника. Какую работу A необходимо совершить, чтобы раздвинуть пластины одного из конденсаторов, увеличив зазор между ними в $k = 2$ раза?

Решение. Начальная емкость батареи конденсаторов и ее начальная энергия равны соответственно: $C_1 = 2C$, $W_1 = C U^2$. Поскольку при раздвигании пластин емкость конденсатора уменьшается в k раз, конечная емкость батареи $C_2 = C \left(1 + \frac{1}{k}\right)$. Заряд на конденсаторах $q = 2CU$ остается постоянным. Поэтому конечная энергия батареи конденсаторов равна

$W_2 = \frac{q^2}{2C_2} = \frac{2CU^2}{1 + 1/k}$. Совершенная при раздвигании пластин работа $A = W_2 - W_1$.

$$\text{О т в е т. } A = C U^2 \frac{k - 1}{k + 1} \approx 2,66 \cdot 10^{-4} \text{ Дж.}$$

3.1.68. Плоский конденсатор присоединен к источнику с напряжением $U = 2000$ В. Пластины раздвинули так, что расстояние между ними увеличилось в $k = 3$ раза. Какая работа A была совершена при этом? Первоначальная емкость конденсатора $C = 400$ пФ.

Решение. При раздвигании пластин емкость конденсатора уменьшается в k раз. Поскольку напряжение на нем постоянно (конденсатор подключен к источнику), во столько же раз уменьшится заряд. Начальная и конечная энергии конденсатора равны соответственно: $W_1 = \frac{1}{2}CU^2$, $W_2 = \frac{1}{2k}CU^2$. Изменение заряда на конденсаторе $\Delta q = \left(\frac{1}{k} - 1\right)CU$ отрицательно. Отрицательна также работа источника $U\Delta q$, так как заряд перемещается через источник в направлении, противоположном его ЭДС. По закону изменения энергии конденсатора $A + U\Delta q = W_2 - W_1$. Отсюда легко найти: $A = \frac{1}{2}\left(1 - \frac{1}{k}\right)CU^2 \approx 5,33 \cdot 10^{-4}$ Дж.

О т в е т. $A \approx 5,33 \cdot 10^{-4}$ Дж.

3.1.69. В плоском конденсаторе находится пластина из диэлектрика с проницаемостью $\epsilon = 2,5$, площадь которой составляет часть $\alpha = 0,6$ от площади его обкладок. Конденсатор постоянно подключен к источнику с напряжением $U = 2000$ В. Какую работу A необходимо совершить, чтобы вытащить пластину из конденсатора? Емкость пустого конденсатора $C = 200$ пФ, зазором между диэлектриком и обкладками пренебречь.

Решение. Емкость C_1 конденсатора, пространство между пластинами которого частично заполнено диэлектриком, может быть вычислена как емкость двух параллельно соединенных конденсаторов емкостями $(1 - \alpha)C$ и $\alpha\epsilon C$, а именно $C_1 = (1 - \alpha)C + \alpha\epsilon C = (1 + \beta)C$, где $\beta = \alpha(\epsilon - 1)$. Начальный заряд на конденсаторе и его начальная энергия составляют, соответственно, $q_1 = (1 + \beta)CU$, $W_1 = \frac{1}{2}(1 + \beta)CU^2$. При удалении диэлектрика напряжение на конденсаторе не меняется, а заряд уменьшается на величину $|\Delta q| = \beta CU$. Энергия конденсатора после вытаскивания пластины $W_2 = \frac{1}{2}CU^2$. Работа источника $U\Delta q$ отрицательна, так как заряд перемещается через источник в направлении, противоположном его ЭДС. По закону сохранения энергии $A - U|\Delta q| = W_2 - W_1$.

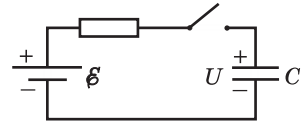
О т в е т. $A = \frac{1}{2}\alpha(\epsilon - 1)CU^2 = 3,6 \cdot 10^{-4}$ Дж.

3.1.70. Конденсатор емкостью $C = 100$ мкФ заряжается постоянным током через резистор сопротивлением $R = 100$ кОм. Через какое время τ после начала зарядки энергия, запасенная в конденсаторе, станет равной энергии, выделенной на резисторе? Первоначально конденсатор был не заряжен.

Решение. Пусть I — сила тока зарядки. За время τ в цепи протечет заряд $q = I\tau$ и энергия конденсатора станет равной $W_C = \frac{q^2}{2C} = \frac{I^2\tau^2}{2C}$. За это же время на резисторе выделится количество теплоты $Q_R = RI^2\tau$. Учитывая, что по условию $W_C = Q_R$, получаем: $\tau = 2RC = 20$ с.

О т в е т. $\tau = 20$ с.

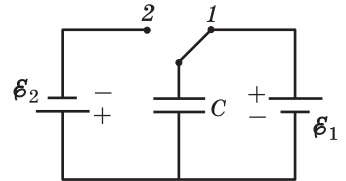
3.1.71. Конденсатор емкостью $C = 10$ мкФ, предварительно заряженный до напряжения $U = 100$ В, подключают через резистор к батарее с ЭДС $\mathcal{E} = 300$ В и пренебрежимо малым внутренним сопротивлением. Какое количество теплоты Q выделится в резисторе за время полной зарядки конденсатора?



Решение. Начальный заряд на конденсаторе и его начальная энергия составляют $q_1 = CU$, $W_1 = \frac{CU^2}{2}$ соответственно. По окончании зарядки напряжение на конденсаторе достигнет величины \mathcal{E} . Следовательно, конечный заряд на конденсаторе и его конечная энергия будут: $q_2 = C\mathcal{E}$, $W_2 = \frac{C\mathcal{E}^2}{2}$. В процессе зарядки по цепи протечет заряд $\Delta q = q_2 - q_1$ и источник совершит работу $A = \Delta q\mathcal{E}$. По закону сохранения энергии $W_1 + A = W_2 + Q$. Подставляя в эту формулу найденные выше величины, получаем: $Q = \frac{C}{2}(\mathcal{E} - U)^2 = 0,2$ Дж.

Ответ. $Q = 0,2$ Дж.

3.1.72. В схеме, изображенной на рисунке, ключ находился достаточно долго в положении 1. Какое количество теплоты Q выделится в источнике \mathcal{E}_2 после переключения ключа в положение 2? Емкость конденсатора $C = 20$ мкФ, ЭДС источников $\mathcal{E}_1 = 10$ В, $\mathcal{E}_2 = 5$ В. Сопротивлением соединительных проводов и ключа, а также потерями на излучение пренебречь.

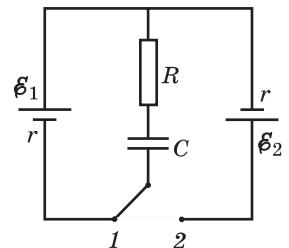


Решение. При исходном положении ключа заряд на нижней пластине конденсатора и его энергия составляют: $q_1 = -C\mathcal{E}_1$, $W_1 = \frac{C\mathcal{E}_1^2}{2}$ соответственно.

После переключения ключа в положение 2 заряд нижней пластины и энергия конденсатора станут равными: $q_2 = +C\mathcal{E}_2$, $W_2 = \frac{C\mathcal{E}_2^2}{2}$. При перемещении по цепи заряда $\Delta q = q_2 - q_1$ источник \mathcal{E}_2 совершает работу $A = \mathcal{E}_2\Delta q$, которая расходуется на изменение энергии конденсатора и на выделение в источнике теплоты: $A = W_2 - W_1 + Q$. Объединяя записанные выражения, получаем: $Q = \frac{C(\mathcal{E}_1 + \mathcal{E}_2)^2}{2} = 2,25$ мДж.

Ответ. $Q = 2,25$ мДж.

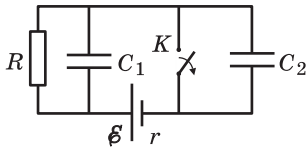
3.1.73. Найти количество теплоты, которое выделится на резисторе сопротивлением $R = 10$ Ом после переключения ключа из положения 1 в положение 2. ЭДС источников $\mathcal{E}_1 = 5$ В, $\mathcal{E}_2 = 6$ В, их внутренние сопротивления одинаковы и равны $r = 1$ Ом. Емкость конденсатора $C = 200$ мкФ.



Решение. В начальном положении ключа заряд на нижней пластине конденсатора и его энергия равны соответственно: $q_1 = -C\mathcal{E}_1$, $W_1 = \frac{C\mathcal{E}_1^2}{2}$. После переключения ключа заряд на этой же пластине и энергия конденсатора становятся равными $q_2 = +C\mathcal{E}_2$, $W_2 = \frac{C\mathcal{E}_2^2}{2}$. При перемещении по цепи заряда $\Delta q = q_2 - q_1$ источник \mathcal{E}_2 совершает работу $A = \mathcal{E}_2\Delta q$, которая расходуется на изменение энергии конденсатора и на выделение в цепи некоторого количества теплоты Q_0 , т. е. $Q = W_2 - W_1 + Q_0$. Отсюда $Q_0 = \frac{C}{2}(\mathcal{E}_1 + \mathcal{E}_2)^2$. Это количество теплоты выделяется на резисторе R и внутреннем сопротивлении r источника \mathcal{E}_2 , т. е. $Q_0 = Q_R + Q_r$. В последовательной цепи мощности, выделяющиеся на отдельных элементах цепи, пропорциональны их сопротивлениям. Поскольку значения сопротивлений R и r от времени не зависят, такое же соотношение справедливо и для выделяющихся на них количеств теплоты: $Q_R/Q_r = R/r$. Следовательно $Q_R = \frac{Q_0 R}{R+r}$. После несложных преобразований получаем: $Q = Q_R = \frac{RC}{2(R+r)}(\mathcal{E}_1 + \mathcal{E}_2)^2 = 1,1 \cdot 10^{-2}$ Дж.

Ответ. $Q = Q_R = 1,1 \cdot 10^{-2}$ Дж.

3.1.74. В цепи, схема которой изображена на рисунке, ключ K в течение длительного времени находился в замкнутом состоянии. В некоторый момент ключ разомкнули. Какое количество теплоты Q выделится в схеме после этого? Емкости конденсаторов: $C_1 = 1$ мкФ, $C_2 = 2$ мкФ, сопротивление резистора $R = 4$ Ом, ЭДС источника $\mathcal{E} = 10$ В, его внутреннее сопротивление $r = 1$ Ом.



Решение. При замкнутом ключе напряжение на конденсаторе C_1 равно $U_1 = \frac{\mathcal{E}R}{R+r}$, конденсатор

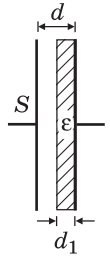
C_2 не заряжен, и энергия системы $W_1 = \frac{CU_1^2}{2}$. Когда

ключ разомкнули, конденсатор C_1 разрядился через резистор, а конденсатор C_2 зарядился до напряжения $U_2 = \mathcal{E}$. При этом энергия системы стала равной $W_2 = \frac{C_2\mathcal{E}^2}{2}$, а через источник протек заряд $q_2 = C_2\mathcal{E}$, в результате чего источник совершил работу $A = q_2\mathcal{E}$. По закону сохранения энергии имеем: $W_1 + A = W_2 + Q$. Объединяя записанные выражения, получаем: $Q = \frac{\mathcal{E}^2}{2} \left(C_2 + C_1 \frac{R^2}{(R+r)^2} \right) = 1,32 \cdot 10^{-4}$ Дж.

Ответ. $Q = 1,32 \cdot 10^{-4}$ Дж.

3.1.75. В плоском воздушном конденсаторе к правой обкладке придвинута вплотную пластинка слюды толщиной $d_1 = 0,3$ мм. Диэлектрическая

проницаемость слюды $\varepsilon = 7$, площадь обкладок конденсатора $S = 200 \text{ см}^2$, расстояние между ними $d = 0,5 \text{ мм}$. Определить емкость конденсатора. Электрическая постоянная $\varepsilon_0 = 8,85 \cdot 10^{-12} \text{ Ф/м}$. Краевыми эффектами пренебречь.



Решение. Поверхность слюды, обращенная к левой обкладке конденсатора, является эквипотенциальной, так как напряженность электрического поля перпендикулярна к ней. Нанесем мысленно на эту поверхность тонкий проводящий слой. При этом потенциал поверхности останется тем же самым и разность потенциалов между обкладками конденсатора не изменится. Поэтому не изменится и емкость конденсатора. Следовательно, конденсатор с диэлектрической пластинкой можно рассматривать как два последовательно соединенных конденсатора емкостями $C_1 = \frac{\varepsilon\varepsilon_0 S}{d_1}$ и $C_2 = \frac{\varepsilon_0 S}{d - d_1}$. Следовательно, $C = \frac{C_1 C_2}{C_1 + C_2}$.

$$\text{О т в е т. } C = \frac{\varepsilon\varepsilon_0 S}{\varepsilon d - (\varepsilon - 1)d_1} \approx 7,3 \cdot 10^{-10} \text{ Ф.}$$

3.1.76. Герметично закрытый плоский конденсатор заполнен диэлектрической жидкостью, занимающей половину его объема. Диэлектрическая проницаемость жидкости ε . Вначале емкость конденсатора была измерена при вертикальном положении пластин. Затем его повернули так, что свободная поверхность жидкости стала параллельна пластинам. Чему равно отношение n емкостей конденсатора в этих двух положениях?

Решение. Обозначим емкость пустого конденсатора через C . Тогда при заполнении его жидкостью на половину высоты емкость составит $C_1 = \frac{C}{2} + \frac{\varepsilon C}{2} = \frac{C(\varepsilon + 1)}{2}$. При горизонтальном расположении пластин емкость

$$\text{будет } C_2 = \frac{2C \cdot 2\varepsilon C}{2C + 2\varepsilon C} = \frac{2\varepsilon C}{\varepsilon + 1}.$$

$$\text{О т в е т. } n = \frac{C_2}{C_1} = \frac{4\varepsilon}{(1 + \varepsilon)^2}.$$

3.1.77. Плоский конденсатор заполнен веществом с диэлектрической проницаемостью $\varepsilon = 3$ и удельным сопротивлением $\rho = 10^8 \text{ Ом}\cdot\text{м}$. Найти сопротивление R между обкладками конденсатора, если его емкость равна $C = 100 \text{ пФ}$. Электрическая постоянная $\varepsilon_0 = 8,85 \cdot 10^{-12} \text{ Ф/м}$.

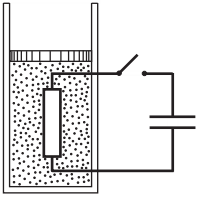
Решение. Сопротивление слоя среды толщиной d и сечением S вычисляется по формуле $R = \frac{\rho d}{S}$. Емкость плоского конденсатора с площадью

пластин S и расстоянием между ними d равна $C = \frac{\varepsilon\varepsilon_0 S}{d}$. Сравнивая эти вы-

ражения, получаем: $R = \frac{\varepsilon\varepsilon_0 \rho}{C} = 26,6 \text{ МОм}$.

$$\text{О т в е т. } R = 26,6 \text{ МОм.}$$

3.1.78. Вертикально расположенная цилиндрическая теплоизолированная трубка диаметром $d = 1$ см, закрытая подвижным невесомым поршнем, заполнена идеальным одноатомным газом. Внутри трубки установлен резистор с большим сопротивлением, соединенный через ключ с конденсатором емкостью $C = 1$ мкФ, заряженным до напряжения $U = 200$ В. Подводящие провода имеют ничтожно малое сопротивление и не нарушают герметичность трубки. На какое расстояние h поднимется поршень после замыкания ключа и установления теплового равновесия? Атмосферное давление $p_0 = 10^5$ Па.



Решение. При разрядке конденсатора в резисторе выделится количество теплоты, равное первоначальной энергии конденсатора: $Q = \frac{CU^2}{2}$. Поскольку давление газа в трубке постоянно и равно p_0 , то

$$Q = \frac{5}{2} \nu R \Delta T, \text{ где } \nu \text{ — количество газа, } \Delta T \text{ — изменение его температуры.}$$

Из уравнения изобарного процесса следует, что $\nu R \Delta T = p_0 \Delta V$, где $\Delta V = h \pi d^2 / 4$ — изменение объема газа. Объединяя записанные выражения, получаем:

$$h = \frac{4CU^2}{5p_0\pi d^2} \approx 1 \text{ мм.}$$

О т в е т. $h \approx 1$ мм.

3.1.79. Непроводящая трубка, открытая с обоих концов, расположена горизонтально. В трубке находятся два металлических поршня площадью S каждый, способные перемещаться без трения. Пространство между поршнями заполнено воздухом при атмосферном давлении, причем расстояние между поршнями мало по сравнению с их диаметром. Во сколько раз n уменьшится расстояние между поршнями, если зарядить их разноименными зарядами q и $-q$? Температура воздуха постоянна. Атмосферное давление p_0 . Электрическое поле между поршнями считать однородным. Электрическая постоянная ϵ_0 .

Решение. Обозначим через l_0 и l расстояния между поршнями до и после сообщения им зарядов. Напряженность поля, создаваемого одним из поршней,

равна $E_1 = \frac{q}{2S\epsilon_0}$. Поэтому сила электростатического притяжения между

поршнями $F = qE_1 = \frac{q^2}{2S\epsilon_0}$. Под действием этой силы поршни переместятся

и займут новое положение равновесия. Обозначив через p давление воздуха в пространстве между поршнями после их зарядки, запишем условие равновесия каждого из поршней: $p_0 S + \frac{q^2}{2S\epsilon_0} = pS$. Поскольку температура воздуха

постоянна, справедлив закон Бойля—Мариотта, согласно которому: $p_0 S l_0 = p S l$.

О т в е т. $n = 1 + \frac{q^2}{2\epsilon_0 p_0 S^2}$.

3.1.80. Стеклянная трубка, открытая с обеих сторон, расположена горизонтально внутри барокамеры, где давление воздуха составляет $p_0 = 450$ Па. Внутри трубки помещены два тонких металлических поршня, способных скользить без трения. Поршни находятся в равновесии, когда расстояние между ними $d_0 = 2$ см. С помощью гибких проводников поршни подсоединяют к клеммам высоковольтного источника с напряжением $U = 60$ кВ. Каково будет расстояние d между поршнями после того, как они займут новое положение равновесия? Электрическая постоянная $\epsilon_0 = 9 \cdot 10^{-12}$ Ф/м. Температура воздуха не изменяется. Электрическое поле между поршнями считать однородным.

Решение. При подключении к поршням напряжения, между ними возникает сила электростатического притяжения $F = qE$, где q — заряд на одном из поршней, $E = \frac{q}{2S\epsilon_0}$ — электрическое поле, создаваемое другим поршнем, S — площадь поршня. Поршни образуют плоский конденсатор, поэтому $q = CU = \frac{\epsilon_0 S}{d} U$. Отсюда $F = \frac{\epsilon_0 S U^2}{2d^2}$. Под действием силы притяжения поршни переместятся и займут новое положение равновесия, определяемое условием: $p_0 S + F = p_1 S$, где p_1 — давление воздуха в объеме между поршнями. Поскольку температура воздуха постоянна, $p_0 d_0 S = p_1 d S$. Объединяя записанные выражения, получаем квадратное уравнение относительно d , а именно $d^2 - d_0 d + \frac{\epsilon_0 U^2}{2p_0} = 0$, и находим его корни: $d_{1,2} = \frac{d_0}{2} \pm \sqrt{\frac{d_0^2}{4} - \frac{\epsilon_0 U^2}{2p_0}}$.

Для того чтобы определить, какой из корней удовлетворяет условию задачи, устремим $U \rightarrow 0$. Видно, что при этом $d_{1,2} \rightarrow \frac{d_0}{2} \pm \frac{d_0}{2}$. Поскольку в отсутствие напряжения между поршнями расстояние между ними равно d_0 , условию задачи удовлетворяет больший по величине корень.

$$\text{О т в е т. } d = \frac{d_0}{2} + \sqrt{\frac{d_0^2}{4} - \frac{\epsilon_0 U^2}{2p_0}} = 1,8 \text{ см.}$$

3.1.81. В стеклянной трубке, запаянной с обеих сторон, находится идеальный газ под давлением $p_0 = 500$ Па. В один из торцов трубки вмонтирован плоский электрод, занимающий все сечение трубки площадью $S = 100$ см². Внутри трубки может перемещаться без трения поршень, несущий электрический заряд $Q_1 = 6 \cdot 10^{-7}$ Кл. Первоначально поршень делит трубку на две равные части. Какой положительный заряд Q_2 нужно сообщить электроду для того, чтобы поршень стал делить трубку в отношении 3 : 1? Электрическая постоянная $\epsilon_0 = 9 \cdot 10^{-12}$ Ф/м. Температура газа не изменяется. Электрическое поле между поршнем и электродом считать однородным. Толщиной поршня пренебречь.

Решение. При сообщении электроду заряда Q_2 между ним и поршнем возникает сила электростатического отталкивания $F = Q_2 E$, где $E = \frac{Q_1}{2\epsilon_0 S}$ — электрическое поле, создаваемое поршнем. Отсюда $F = \frac{Q_1 Q_2}{2\epsilon_0 S}$. Переместив-

шийся под действием этой силы поршень займет новое положение равновесия, условие которого имеет вид: $p_1 S = p_2 S + F$. Здесь p_1 и p_2 — давления порций газа, находящихся по разные стороны от поршня. Обозначив через V_0 объем половины трубки, по закону Бойля—Мариотта, записанному для этих порций газа, имеем: $p_0 V_0 = p_1 \frac{V_0}{2}$, $p_0 V_0 = p_2 \frac{3}{2} V_0$. Отсюда $p_1 = 2p_0$, $p_2 = \frac{2}{3} p_0$ и $p_1 - p_2 = \frac{4}{3} p_0$. Следовательно, $F = \frac{4}{3} p_0 S$. Сравнивая это выражение

с выражением для F , найденным выше, получаем: $Q_2 = \frac{8\epsilon_0 p_0 S^2}{3Q_1} = 2 \cdot 10^{-6}$ Кл.

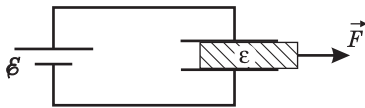
О т в е т. $Q_2 = 2 \cdot 10^{-6}$ Кл.

3.1.82. Два плоских воздушных конденсатора емкостями $C_1 = 100$ мкФ и $C_2 = 200$ мкФ соединены последовательно и подключены к источнику с ЭДС $\mathcal{E} = 60$ В. Какую работу A совершит источник, если пространство между пластинами конденсатора C_1 заполнить диэлектриком с диэлектрической проницаемостью $\epsilon = 4$?

Р е ш е н и е. Начальный заряд на конденсаторах равен $q_0 = \mathcal{E} \frac{C_1 C_2}{C_1 + C_2}$. После внесения диэлектрика заряд на конденсаторах станет $q = \mathcal{E} \frac{\epsilon C_1 C_2}{\epsilon C_1 + C_2}$. Работа источника по переносу заряда $\Delta q = q - q_0$ равна $A = \mathcal{E} \cdot \Delta q$.

О т в е т. $A = \mathcal{E}^2 \frac{C_1 C_2^2 (\epsilon - 1)}{(C_1 + C_2)(\epsilon C_1 + C_2)} = 0,24$ Дж.

3.1.83. Плоский воздушный конденсатор емкостью C_0 с квадратными обкладками, сторона каждой из которых равна l , подключен к источнику с ЭДС \mathcal{E} . В конденсатор вставляют пластинку с диэлектрической проницаемостью ϵ , занимающую все пространство между обкладками, а затем выдвигают ее



из конденсатора на небольшое расстояние, как показано на рисунке. Какую силу F нужно приложить к пластинке, чтобы удерживать ее в таком положении?

Р е ш е н и е. Обозначим через x расстояние, на которое диэлектрическая пластинка выдвинута из конденсатора. Емкость конденсатора с частично выдвинутой пластинкой равна $C(x) = \frac{\epsilon_0 \epsilon l(l-x)}{d} + \frac{\epsilon_0 l x}{d} = C_0 \epsilon - C_0 (\epsilon - 1) \frac{x}{l}$. При выдвигании пластинки заряд на конденсаторе изменится на величину:

$\Delta q = (C(x) - C_0) \mathcal{E} = -C_0 (\epsilon - 1) \frac{x}{l} \mathcal{E}$. Поскольку заряд на конденсаторе уменьшается, работа источника отрицательна: $A_{\text{ист}} = \Delta q \mathcal{E} = -C_0 (\epsilon - 1) \frac{x}{l} \mathcal{E}^2$. Энергия конденсатора при выдвигании пластинки также уменьшится:

$\Delta W = \frac{(C(x) - C_0) \mathcal{E}^2}{2} = -C_0 (\epsilon - 1) \frac{x}{l} \cdot \frac{\mathcal{E}^2}{2}$. Изменение энергии конденсатора рав-

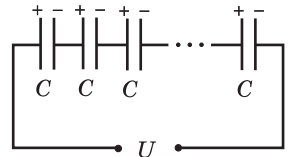
но сумме работы A силы F и работы источника $A_{\text{ист}}$, т. е. $\Delta W = A + A_{\text{ист}}$,

откуда $A = \Delta W - A_{\text{ист}} = C_0(\epsilon - 1)\frac{x}{l} \cdot \frac{\xi^2}{2}$. Поскольку $A = Fx$, получим:

$$F = C_0(\epsilon - 1)\frac{\xi^2}{2l}.$$

О т в е т. $F = C_0(\epsilon - 1)\frac{\xi^2}{2l}$.

3.1.84. Конденсатор емкостью $C_0 = 0,2$ мкФ заряжают до напряжения $U_0 = 360$ В и отсоединяют от источника. Затем к этому конденсатору подключают незаряженный конденсатор емкостью $C = 1,8$ мкФ, в результате чего последний заряжается. Отсоединив зарядившийся конденсатор C , к конденсатору C_0 подключают второй незаряженный конденсатор емкостью C , который отсоединяют после зарядки, и так далее. Всего таким образом от конденсатора C_0 заряжают $n = 20$ одинаковых конденсаторов емкостью C , которые затем соединяют последовательно. Чему равно напряжение U на концах полученной цепи конденсаторов?



Р е ш е н и е. Начальный заряд на конденсаторе C_0 равен $q_0 = C_0U_0$. После подключения к конденсатору C_0 незаряженного конденсатора C этот заряд распределится между обоими конденсаторами и напряжение на них будет

$$U_1 = \frac{q_0}{C_0 + C} = \frac{C_0U_0}{C_0 + C}. \text{ На конденсаторе } C_0 \text{ останется заряд } q_1 = C_0U_1 = \frac{C_0^2U_0}{C_0 + C}.$$

Аналогично находим, что после подключения к C_0 второго конденсатора C напряжение на конденсаторах будет $U_2 = \frac{q_1}{C_0 + C} = \frac{C_0^2U_0}{(C_0 + C)^2}$. Повторяя эту операцию n раз, получаем набор из n конденсаторов, напряжения на которых

$$U_1, U_2, \dots, U_n \text{ выражаются общей формулой } U_m = U_0 \left(\frac{C_0}{C_0 + C} \right)^m, \text{ где } m = \overline{1, n}.$$

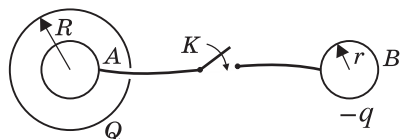
В результате последовательного соединения этих конденсаторов напряжение на концах цепи будет $U = U_1 + U_2 + \dots + U_n$. Применяя формулу для суммы

геометрической прогрессии, получаем ответ: $U = \frac{C_0U_0}{C} \left[1 - \left(\frac{C_0}{C_0 + C} \right)^n \right]$. При

$$n = 20 \text{ и } \frac{C_0}{C_0 + C} = 0,1 \text{ получаем: } U \approx \frac{C_0U_0}{C} = 40 \text{ В.}$$

О т в е т. $U = 40$ В.

3.1.85. Внутри металлической сферы радиусом R в ее центре находится незаряженный металлический шарик A радиусом r . На большом расстоянии от сферы расположен второй такой же шарик B . К шарикам подсоединены отрезки тонкого прово-



да, причем провод, идущий от шарика A , выведен наружу через небольшое отверстие в сфере, не касаясь ее. Свободные концы проводов присоединены к ключу K , который первоначально разомкнут. Сферу заряжают положительным зарядом Q , а шарик B — отрицательным зарядом $-q$. Затем замыкают ключ. Какое количество теплоты выделится в процессе перезарядки шариков? Потерями на излучение пренебречь.

Решение. До соединения проводом потенциалы шариков A и B равны, соответственно, $\varphi_A = \varphi_B = \frac{Q}{4\pi\epsilon_0 R}$, $\varphi_B = -\frac{q}{4\pi\epsilon_0 r}$. Здесь φ_R — потенциал сферы.

Начальная энергия системы $W_0 = \frac{Q\varphi_A}{2} - \frac{(-q)\varphi_B}{2} = \frac{Q^2}{8\pi\epsilon_0 R} + \frac{q^2}{8\pi\epsilon_0 r}$. После соединения шариков проводом их потенциалы выравниваются за счет перетекания зарядов. Пусть q_A и q_B — заряды, образовавшиеся на шариках после соединения.

Тогда $\varphi'_A = \frac{1}{4\pi\epsilon_0} \left(\frac{Q}{R} + \frac{q_A}{r} \right) = \varphi'_B = \frac{q_B}{4\pi\epsilon_0 r}$. Согласно закону сохранения заряда, $q_A + q_B = -q$. Из полученной системы уравнений находим $q_A = -\frac{1}{2} \left(\frac{r}{R} Q + q \right)$,

$q_B = \frac{1}{2} \left(\frac{r}{R} Q - q \right)$. Потенциал сферы после перетекания зарядов станет равным:

$\varphi'_R = \frac{(Q + q_A)}{4\pi\epsilon_0 R}$, а разность потенциалов между шариком A и сферой будет

$\Delta\varphi_{AR} = \varphi'_A - \varphi'_R = \frac{q_A}{4\pi\epsilon_0} \left(\frac{1}{r} - \frac{1}{R} \right)$. Энергия системы после перезарядки шариков

станет $W = \frac{(Q + q_A)\varphi'_R}{2} + \frac{q_A\Delta\varphi_{AR}}{2} + \frac{q_B\varphi'_B}{2} = \frac{1}{8\pi\epsilon_0} \left(\frac{Q^2}{R} + 2\frac{q_A Q}{R} + \frac{q_A^2}{r} + \frac{q_B^2}{r} \right)$.

После перетекания зарядов энергия системы уменьшится на величину

$-\Delta W = W_0 - W = \frac{1}{8\pi\epsilon_0} \left(\frac{q^2}{r} - 2\frac{q_A Q}{R} - \frac{q_A^2}{r} - \frac{q_B^2}{r} \right) = \frac{1}{16\pi\epsilon_0 r} \left(q + \frac{r}{R} Q \right)^2$. По закону

сохранения энергии, $-\Delta W + \Delta Q = 0$, где ΔQ — количество теплоты, выделившееся в проводе.

Ответ. $\Delta Q = \frac{1}{16\pi\epsilon_0 r} \left(q + \frac{r}{R} Q \right)^2$.

3.2. Постоянный ток

3.2.1. Источник с ЭДС $\mathcal{E} = 50$ В и с внутренним сопротивлением $r = 1,2$ Ом должен питать дуговую лампу с сопротивлением $R = 6$ Ом, требующую для нормального горения напряжения $U = 30$ В. Определить сопротивление R_1 резистора, введенного последовательно в цепь лампы для ее нормального горения.

Решение. Согласно закону Ома для полной цепи, ток во всех элементах последовательной цепи равен $I = \frac{\mathcal{E}}{R + R_1 + r}$. Напряжение на лам-

пе определяется как $U = IR = \frac{\mathcal{E}R}{R + R_1 + r}$. Выражая отсюда R_1 , получаем:

$$R_1 = \frac{\mathcal{E} - U}{U}R - r = 2,8 \text{ Ом.}$$

О т в е т. $R_1 = 2,8 \text{ Ом.}$

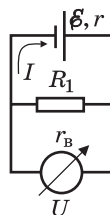
3.2.2. Электрическая цепь состоит из резистора с сопротивлением $R_1 = 10 \text{ Ом}$ и источника с внутренним сопротивлением $r = 2 \text{ Ом}$. Напряжение на резисторе измеряют вольтметром, внутреннее сопротивление которого $r_B = 20 \text{ Ом}$. Определить показание U вольтметра, если ЭДС источника $\mathcal{E} = 26 \text{ В}$.

Р е ш е н и е. Сопротивление участка цепи, содержащего резистор R_1 и параллельно подключенный к нему вольтметр, равно $R_x = \frac{R_1 r_B}{R_1 + r_B}$. Полный

ток в цепи рассчитывается по формуле $I = \frac{\mathcal{E}}{R_x + r}$. Напряжения на вольтметре и на резисторе R_1 равны друг другу и определяются произведением полного тока на сопротивление этого участка цепи, т. е. $U = IR_x$. Объединяя записанные выражения, получаем:

$$U = \frac{\mathcal{E}}{r/r_B + r/R_1 + 1} = 20 \text{ В.}$$

О т в е т. $U = 20 \text{ В.}$



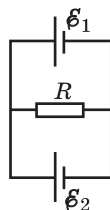
3.2.3. Какое количество m серебра выделится на катоде электрохимической ванны, соединенной последовательно с конденсатором емкостью $C = 1000 \text{ мкФ}$, если в процессе протекания тока напряжение на конденсаторе изменяется на величину $\Delta U = 100 \text{ В}$? Электрохимический эквивалент серебра $k = 1,12 \text{ мг/Кл}$.

Р е ш е н и е. По закону Фарадея, масса выделившегося на катоде серебра $m = kq$, где $q = C\Delta U$ — заряд, протекший через электролит.

О т в е т. $m = kC\Delta U = 0,112 \text{ мг.}$

3.2.4. Два гальванических элемента, электродвижущие силы которых $\mathcal{E}_1 = 2 \text{ В}$ и $\mathcal{E}_2 = 1 \text{ В}$, соединены по схеме, указанной на рисунке. При каком значении сопротивления R ток через гальванический элемент с ЭДС \mathcal{E}_2 не пойдет? Внутреннее сопротивление элемента с ЭДС \mathcal{E}_1 равно $r_1 = 1 \text{ Ом}$.

Р е ш е н и е. По условию, ток I течет лишь в контуре, содержащем элемент с ЭДС \mathcal{E}_1 и резистор с сопротивлением R . Выберем за положительное направление обхода в этом контуре направление против часовой стрелки и обозначим через U падение напряжения на резисторе R . Тогда $I = \frac{\mathcal{E}_1}{R + r_1}$, $U = \frac{\mathcal{E}_1 R}{R + r_1}$. От-



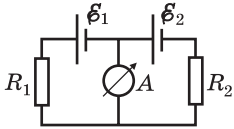
сутствие тока в нижней ветви цепи означает, что электрические заряды здесь находятся в равновесии. Следовательно, внутри элемента \mathcal{E}_2 куло-

новские силы равны по модулю и противоположны по направлению сторонним силам. Поэтому $|U| = |\mathcal{E}_2|$. Объединяя записанные выражения, получаем:

$$R = \frac{\mathcal{E}_2 R_1}{\mathcal{E}_1 - \mathcal{E}_2} = 1 \text{ Ом.}$$

О т в е т. $R = 1 \text{ Ом.}$

3.2.5. В цепи, схема которой показана на рисунке, $\mathcal{E}_1 = 10 \text{ В}$, $R_1 = 20 \text{ Ом}$, $R_2 = 40 \text{ Ом}$. Чему равна ЭДС второго источника \mathcal{E}_2 , если известно, что ток через амперметр не течет? Внутренними сопротивлениями источников пренебречь.

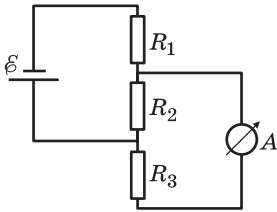


Р е ш е н и е. Поскольку ток через амперметр не идет, разность потенциалов между точками подключения амперметра к цепи равна нулю. Записывая закон Ома для левого и правого участков цепи, содержащих ЭДС, имеем: $\mathcal{E}_1 - IR_1 = 0$, $\mathcal{E}_2 - IR_2 = 0$, где I — ток в цепи. Исключая из этих равенств I , получаем:

$$\mathcal{E}_2 = \frac{\mathcal{E}_1 R_2}{R_1} = 20 \text{ В.}$$

О т в е т. $\mathcal{E}_2 = 20 \text{ В.}$

3.2.6. Какой ток I_1 покажет амперметр в схеме, показанной на рисунке? Какой ток I_2 покажет амперметр, если источник тока и амперметр поменять местами? $R_1 = 20 \text{ Ом}$, $R_2 = 40 \text{ Ом}$, $R_3 = 60 \text{ Ом}$, $\mathcal{E} = 10 \text{ В}$. Внутренними сопротивлениями источника тока и амперметра пренебречь.



Р е ш е н и е. Поскольку сопротивление амперметра равно нулю, напряжения на резисторах R_2 и R_3 совпадают друг с другом и равны произведению общего тока I , текущего в цепи источника, на сопротивление данного участка, т. е. $U = I \frac{R_2 R_3}{R_2 + R_3}$.

Ток I найдем, используя закон Ома для замкнутой цепи, а именно

$$I = \frac{\mathcal{E}}{R_1 + R_2 R_3 / (R_2 + R_3)} = \frac{\mathcal{E}(R_2 + R_3)}{R_1 R_2 + R_1 R_3 + R_2 R_3}.$$

Через амперметр и через резистор R_3 течет один и тот же ток $I_1 = \frac{U}{R_3}$. Объединяя записанные выражения, находим ток через амперметр в первом случае:

$$I_1 = \frac{\mathcal{E} R_2}{R_1 R_2 + R_1 R_3 + R_2 R_3}.$$

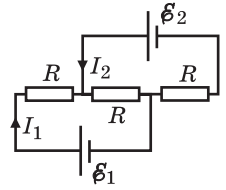
Анализ этого выражения показывает, что, сопротивления резисторов R_1 и R_3 входят в него одинаково. Это означает, что, если амперметр и источник поменять местами, ток через амперметр будет таким же. В этом можно убедиться, проделав расчет, аналогичный вышеизложенному.

$$\text{О т в е т. } I_1 = I_2 = \frac{\mathcal{E} R_2}{R_1 R_2 + R_1 R_3 + R_2 R_3} = \frac{1}{11} \text{ А.}$$

3.2.7. В цепь включены два источника с ЭДС \mathcal{E}_1 , \mathcal{E}_2 и внутренними сопротивлениями r_1 , r_2 соответственно, и три одинаковых резистора сопротивле-

ниями R . При какой величине R значения токов I_1 и I_2 будут равны друг другу?

Решение. Рассматриваемая цепь состоит из двух контуров, содержащих источники и имеющих общий элемент — резистор R . Запишем для этих контуров второе правило Кирхгофа, учитывая, что ток, текущий через общий резистор, равен сумме токов I_1 и I_2 . Имеем $I_1 r_1 + I_1 R + (I_1 + I_2)R = \mathcal{E}_1$, $I_2 r_2 + I_2 R + (I_1 + I_2)R = \mathcal{E}_2$. По условию задачи, $I_1 = I_2 = I$. Следовательно, эти уравнения принимают вид: $I r_1 + 3IR = \mathcal{E}_1$, $I r_2 + 3IR = \mathcal{E}_2$. Отсюда $I = \frac{\mathcal{E}_1 - \mathcal{E}_2}{r_1 - r_2}$, $R = \frac{\mathcal{E}_1}{3I} - \frac{r_1}{3}$. Из последних двух соотноше-

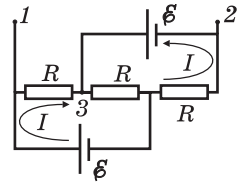
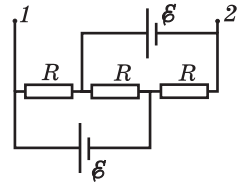


ний получаем: $R = \frac{\mathcal{E}_1 r_2 - \mathcal{E}_2 r_1}{3(\mathcal{E}_2 - \mathcal{E}_1)}$.

О т в е т. $R = \frac{\mathcal{E}_1 r_2 - \mathcal{E}_2 r_1}{3(\mathcal{E}_2 - \mathcal{E}_1)}$.

3.2.8. Цепь образована двумя одинаковыми батареями E и тремя равными сопротивлениями $R = 0,5$ Ом. При каком значении r внутреннего сопротивления каждой из батарей напряжение между точками 1 и 2 будет равно ЭДС батареи?

Решение. Из соображений симметрии ясно, что через обе батареи текут одинаковые по величине токи. Обозначим каждый из них через I . По закону Ома для однородного участка цепи, падение напряжения между точками 1 и 3 равно $U_{13} = IR$, причем потенциал точки 1 выше потенциала точки 3. По закону Ома для участка цепи, содержащего ЭДС, напряжение между точками 3 и 2 равно $U_{32} = \mathcal{E} - Ir$, причем потенциал точки 3 выше потенциала точки 2. Следовательно, напряжение между точками 1 и 2 определится как $U_{12} = U_{13} + U_{31} = IR + \mathcal{E} - Ir$. Приравнявая это напряжение ЭДС батареи, получаем: $r = R = 0,5$ Ом.



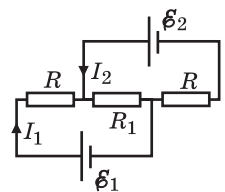
О т в е т. $r = 0,5$ Ом.

3.2.9. В схеме, показанной на рисунке, подбором величины сопротивления R_1 добились того, что ток I_2 стал равен нулю. Чему равно внутреннее сопротивление r_1 первой батареи, если $\mathcal{E}_1 = 2$ В, $\mathcal{E}_2 = 1,5$ В, $R = 2,5$ Ом, $R_1 = 9$ Ом?

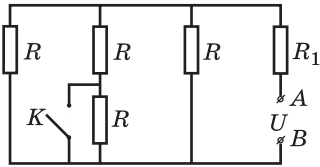
Решение. Отсутствие тока в верхней ветви цепи означает, что электрические заряды здесь находятся в равновесии. Следовательно, внутри элемента \mathcal{E}_2 кулоновские силы равны по модулю и противоположны по направлению сторонним силам. Поэтому $\mathcal{E}_2 = U$, где $U = I_1 R_1$ — падение напряжения на резисторе R_1 ; I_1 — ток в нижней ветви цепи. По закону Ома для нижней ветви имеем: $I_1 = \frac{\mathcal{E}_1}{R + R_1 + r_1}$.

Объединяя записанные выражения, получаем: $r_1 = \left(\frac{\mathcal{E}_1}{\mathcal{E}_2} - 1 \right) R_1 - R = 0,5$ Ом.

О т в е т. $r_1 = 0,5$ Ом.



3.2.10. Цепь, изображенная на рисунке, составлена из четырех одинаковых резисторов сопротивлением $R = 7,5$ Ом и резистора $R_1 = 1$ Ом. На клеммах AB поддерживается постоянное напряжение $U = 14$ В. На какую величину ΔI изменится сила тока, текущего через резистор R_1 , после замыкания ключа K ? Сопротивлением проводов и ключа пренебречь.



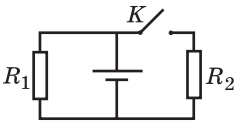
Решение. Когда ключ разомкнут, полное сопротивление цепи равно $R' = R_1 + \frac{2R}{5}$. При замкнутом ключе ток течет в обход резистора, к которому подсоединен ключ, и полное сопротивление цепи становится равным

$R'' = R_1 + \frac{R}{3}$. Изменение силы тока, текущего через резистор R_1 , определяется как $\Delta I = \frac{U}{R''} - \frac{U}{R'}$.

$$\Delta I = \frac{U}{R''} - \frac{U}{R'}$$

$$\text{Ответ. } \Delta I = \frac{UR}{(3R_1 + R)(5R_1 + 2R)} = 0,5 \text{ А.}$$

3.2.11. В схеме, показанной на рисунке, резисторы имеют сопротивления $R_1 = 1$ Ом, $R_2 = 2$ Ом. Определить внутреннее сопротивление батареи r , если известно, что при разомкнутом ключе K через резистор R_1 течет ток $I_1 = 2,8$ А, а при замкнутом ключе K через резистор R_2 течет ток $I_2 = 1$ А.



Решение. При разомкнутом ключе ток течет только в левом контуре цепи, для которого справедливо уравнение: $\mathcal{E} = I_1 R_1 + I_1 r$, где \mathcal{E} — ЭДС батареи.

При замкнутом ключе ток течет в обоих контурах, которые представляют собой два параллельно соединенных резистора. Обозначив через I

полный ток через источник, имеем: $\mathcal{E} = I \frac{R_1 R_2}{R_1 + R_2} + I r$. Ток I разветвляется на два тока: $I = I'_1 + I_2$, причем $I'_1 R_1 = I_2 R_2$. Выразим из этой системы ток I через I_2 , т. е. $I = I_2 \frac{R_1 + R_2}{R_1}$. Объединяя записанные выражения,

имеем: $I_1 R_1 + I_1 r = I_2 R_2 + I_2 \frac{R_1 + R_2}{R_1} r$. Из последнего равенства легко получить: $r = \frac{I_1 R_1 - I_2 R_2}{I_2(1 + R_2 / R_1) - I_1} = 4$ Ом.

Ответ. $r = 4$ Ом.

3.2.12. Электрическая схема состоит из последовательно соединенных резистора с сопротивлением $R = 10$ Ом, конденсатора и батареи с внутренним сопротивлением $r = 5$ Ом. Параллельно конденсатору подключили резистор с сопротивлением $R_1 = 5$ Ом. Во сколько раз n изменится энергия конденсатора после того, как напряжение на нем станет постоянным?

Решение. Пусть U_0 — напряжение на конденсаторе до замыкания резистора R_1 . Тогда энергия конденсатора до замыкания резистора R_1 равна $W_0 = \frac{1}{2} C U_0^2$. После замыкания резистора R_1 напряжение на конденсаторе становится постоянным и равно U_1 . Тогда энергия конденсатора после замыкания резистора R_1 равна $W_1 = \frac{1}{2} C U_1^2$. Изменение энергии конденсатора $\Delta W = W_1 - W_0 = \frac{1}{2} C (U_1^2 - U_0^2)$. Чтобы найти n , нужно найти отношение U_1^2 к U_0^2 . Для этого рассмотрим цепь до замыкания резистора R_1 . В цепи последовательно соединены резистор R , конденсатор и батарея с внутренним сопротивлением r . Пусть I_0 — ток в цепи до замыкания резистора R_1 . Тогда напряжение на конденсаторе $U_0 = I_0 R$. После замыкания резистора R_1 в цепи последовательно соединены резистор R , конденсатор, батарея с внутренним сопротивлением r и резистор R_1 . Пусть I_1 — ток в цепи после замыкания резистора R_1 . Тогда напряжение на конденсаторе $U_1 = I_1 R$. Из закона сохранения энергии имеем: $I_0 R = I_1 R + I_1 r + I_1 R_1$. Отсюда $I_0 = I_1 (1 + r/R + R_1/R)$. Тогда $U_0 = I_1 R (1 + r/R + R_1/R)$. Тогда $U_1^2 / U_0^2 = 1 / (1 + r/R + R_1/R)^2$. Тогда $n = W_0 / W_1 = (1 + r/R + R_1/R)^2$. Подставляя $R = 10$ Ом, $r = 5$ Ом, $R_1 = 5$ Ом, получаем $n = (1 + 5/10 + 5/10)^2 = (1 + 1)^2 = 4$.

Решение. В начальном состоянии, когда резистор к конденсатору не подключен, цепь является незамкнутой, и установившееся напряжение на конденсаторе совпадает с ЭДС батареи \mathcal{E} . Следовательно, начальная энергия конденсатора $W_1 = \frac{C\mathcal{E}^2}{2}$. Когда параллельно конденсатору подключают резистор, цепь становится замкнутой, и на конденсаторе устанавливается напряжение U , равное напряжению на резисторе R_1 . Используя закон Ома для замкнутой цепи, находим, что $U = \frac{\mathcal{E}R_1}{R + R_1 + r}$. Поэтому конечная энергия конденсатора $W_2 = \frac{CU^2}{2}$.

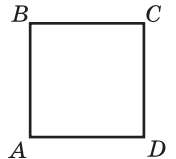
$$\text{О т в е т. } n = \frac{R_1^2}{(R + R_1 + r)^2} = \frac{1}{16}.$$

3.2.13. Батарея из двух одинаковых гальванических элементов, соединенных последовательно, нагружена на внешний резистор $R = 2$ Ом, через который за некоторое время протекает заряд $Q_1 = 20$ Кл. Какой величины заряд Q_2 протечет за то же время через каждый элемент, если их соединить параллельно и нагрузить на тот же резистор? Внутреннее сопротивление каждого элемента $r = 0,1$ Ом.

Решение. По закону Ома для замкнутой цепи ток, текущий через источники, соединенные последовательно, $I_1 = \frac{2\mathcal{E}}{R + 2r}$. Когда источники соединяют параллельно, ток через резистор становится равным $I' = \frac{\mathcal{E}}{R + r/2}$, а через каждый источник течет ток $I_2 = \frac{I'}{2}$. Поскольку время протекания заряда в обоих случаях одинаково, отношение протекших зарядов $\frac{Q_2}{Q_1} = \frac{I_2}{I_1}$.

$$\text{О т в е т. } Q_2 = Q_1 \frac{R/2 + r}{2R + r} \approx 5,4 \text{ Кл.}$$

3.2.14. Из куска однородной проволоки изготовлен замкнутый контур, имеющий форму квадрата $ABCD$. Батарею подключают сначала к вершинам квадрата A и B , а затем к вершинам A и C . В первом случае сила тока, протекающего через батарею, оказывается в $m = 1,2$ раза больше, чем во втором. Определить внутреннее сопротивление батареи r , если известно, что сопротивление проволоки, из которой изготовлен квадрат, $R = 4$ Ом.



Решение. Используя стандартные формулы для расчета сопротивлений параллельно и последовательно соединенных резисторов, находим сопротивление контура между точками A и B , а именно

$$R_{AB} = \frac{3}{16}R, \text{ а также между точками } A \text{ и } C, \text{ т. е. } R_{AC} = \frac{1}{4}R. \text{ По закону Ома}$$

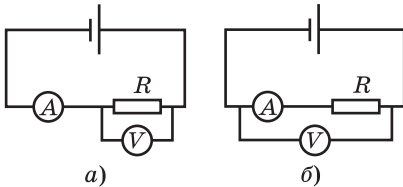
для замкнутой цепи имеем: $I_1 = \frac{\mathcal{E}}{R_{AB} + r}$, $I_2 = \frac{\mathcal{E}}{R_{AC} + r}$, где \mathcal{E} — ЭДС батареи,

I_1 и I_2 — токи через батарею при ее подключении соответственно к точкам

А, В и к точкам А, С. По условию, $I_1 = mI_2$. Исключая из записанных равенств \mathcal{E} , получаем: $r = \frac{R}{16} \cdot \frac{(4 - 3m)}{m - 1} = 0,5 \text{ Ом}$.

О т в е т. $r = 0,5 \text{ Ом}$.

3.2.15. При включении приборов по схеме, изображенной на рисунке (а), амперметр показывает ток $I_1 = 1,06 \text{ А}$, а вольтметр — напряжение $V_1 = 59,6 \text{ В}$.

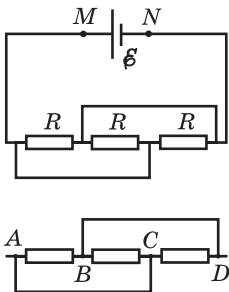


При включении тех же приборов по схеме на рисунке (б) амперметр показывает ток $I_2 = 0,94 \text{ А}$, а вольтметр — напряжение $V_2 = 60 \text{ В}$. Определить сопротивление резистора R , считая напряжение на зажимах батареи неизменным.

Решение. Обозначим через R_A сопротивление амперметра, а через \mathcal{E} — ЭДС батареи. Тогда для цепей, изображенных на рисунках, справедливы следующие уравнения: $I_1 R_A + V_1 = \mathcal{E}$ (для цепи на рисунке (а)), $I_2(R_A + R) = V_2$ (для цепи на рисунке (б)). Кроме того, по условию задачи $V_2 = \mathcal{E}$. Из этой системы легко найти: $R = \frac{V_2}{I_2} - \frac{V_2 - V_1}{I_1} \approx 63,4 \text{ Ом}$.

О т в е т. $R \approx 63,4 \text{ Ом}$.

3.2.16. Батарея с ЭДС $\mathcal{E} = 2 \text{ В}$ и внутренним сопротивлением $r = 0,1 \text{ Ом}$ присоединена к цепи, изображенной на рисунке. Сопротивление каждого из резисторов $R = 1 \text{ Ом}$. Найти напряжение U_{MN} на клеммах батареи. Сопротивлением всех соединительных проводов пренебречь.

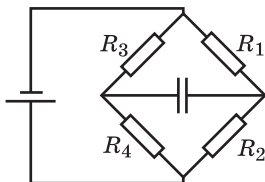


Решение. Для того чтобы определить напряжение на клеммах батареи, необходимо вычислить сопротивление нагрузки. Рассматривая схему подключения резисторов нагрузки (см. рисунок), нетрудно заметить, что потенциалы точек А и С, а также точек В и D попарно равны. Следовательно, все три резистора нагрузки фактически соединены параллельно. Поэтому сопротивление внешней цепи $R_{\text{вн}} = R/3$; сила тока в цепи

$$I = \frac{\mathcal{E}}{r + R/3}. \text{ Отсюда получаем: } U_{MN} = IR_{\text{вн}} = \frac{\mathcal{E}R}{3r + R} \approx 1,54 \text{ В}.$$

О т в е т. $U_{MN} \approx 1,54 \text{ В}$.

3.2.17. В схеме, показанной на рисунке, где $R_1 = 60 \text{ Ом}$, $R_2 = 20 \text{ Ом}$, $R_3 = 40 \text{ Ом}$, $R_4 = 20 \text{ Ом}$, батарею и конденсатор поменяли местами. Во сколько раз α изменился при этом заряд конденсатора? Внутренним сопротивлением батареи пренебречь.



Решение. После зарядки конденсатора ток через него прекратится и, начиная с этого момента, конденсатор будет представлять собой разрыв цепи.

Поскольку заряд конденсатора q связан с напряжением на нем U соотношением $q = CU$, для решения задачи достаточно найти отношение напряжений между соответствующими точками цепи в отсутствие конденсатора. Найдем вначале напряжение между точками A и B при подключении источника с ЭДС \mathcal{E} к точкам C и D (см. рисунок). Для токов I' и I'' справедливы выражения:

$$I = \frac{\mathcal{E}}{R_1 + R_2}, \quad I' = \frac{\mathcal{E}}{R_3 + R_4}.$$
 В соответствии с этим падения напряжения на резисторах будут: $U_1 = I'R_1$, $U_2 = I'R_2$, $U_3 = I''R_3$, $U_4 = I''R_4$. Величина искомого

напряжения $|U_{AB}| = |U_2 - U_4| = |U_1 - U_3| = \mathcal{E} \frac{|R_1R_4 - R_2R_3|}{(R_1 + R_2)(R_3 + R_4)}$. Аналогично

можно найти величину напряжения между точками C и D при подключении источника к точкам A и B . Имеем $|U_{CD}| = \mathcal{E} \frac{|R_1R_4 - R_2R_3|}{(R_1 + R_3)(R_2 + R_4)}$. Из последних

двух выражений получаем: $\alpha = \frac{(R_1 + R_2)(R_3 + R_4)}{(R_1 + R_3)(R_2 + R_4)} = 1,2$.

О т в е т. $\alpha = 1,2$.

3.2.18. Если вольтметр, имеющий конечное сопротивление, подключен параллельно резистору R_1 , то он показывает напряжение $U_1 = 6$ В, если параллельно резистору R_2 , то — напряжение $U_2 = 4$ В. Каковы будут падения напряжения V_1 и V_2 на резисторах, если вольтметр не подключать? ЭДС батареи $\mathcal{E} = 12$ В, ее внутреннее сопротивление пренебрежимо мало.

Решение. Обозначим через R_x сопротивление вольтметра. Если подключить вольтметр к резистору R_1 , сопротивление всей цепи будет равно $R' = \frac{R_x R_1}{R_x + R_1} + R_1 = \frac{R_x R_1 + R_x R_2 + R_1 R_2}{R_x + R_1}$. В цепи будет течь ток $I' = \mathcal{E}/R'$ и напряжение на вольтметре, равное напряжению

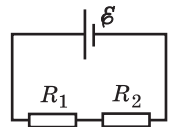
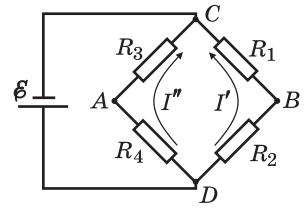
на резисторе R_1 , определится как $U_1 = I' \frac{R_x R_1}{R_x + R_1} = \frac{\mathcal{E} R_x R_1}{R_x R_1 + R_x R_2 + R_1 R_2}$. Рас-

суждая аналогично, можно найти, что при подключении вольтметра к резистору R_2 напряжение на нем будет $U_2 = \frac{\mathcal{E} R_x R_2}{R_x R_1 + R_x R_2 + R_1 R_2}$. Из этих выраже-

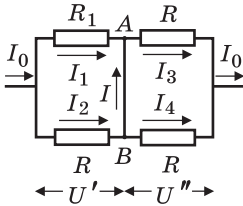
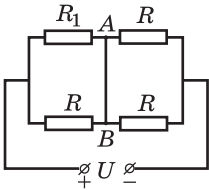
ний находим, что $U_1/U_2 = R_1/R_2$. С другой стороны, если вольтметр не подключен, то напряжения на резисторах равны $V_1 = IR_1$, $V_2 = IR_2$, где I — ток в цепи из двух последовательно соединенных резисторов. Отсюда следует, что $V_1/V_2 = R_1/R_2$. Сравнивая это отношение с найденным выше отношением напряжений на резисторах при подключенном вольтметре, находим, что $V_1/V_2 = U_1/U_2$. Кроме того, справедливо равенство $V_1 + V_2 = \mathcal{E}$. Вы-

ражая отсюда V_1 и V_2 , получаем: $V_1 = \frac{\mathcal{E}}{1 + U_2/U_1} = 7,2$ В, $V_2 = \mathcal{E} - V_1 = 4,8$ В.

О т в е т. $V_1 = 7,2$ В, $V_2 = 4,8$ В.



3.2.19. В схеме, показанной на рисунке, напряжение на клеммах источника $U = 100$ В, сопротивления в цепи $R_1 = 101$ Ом, $R = 100$ Ом. Определить силу тока I , протекающего по проводнику AB . Сопротивлением подводящих проводов, проводника AB и внутренним сопротивлением источника пренебречь.



Решение. Полное сопротивление цепи R_0 можно найти, применяя формулы для сопротивлений последовательно и параллельно соединенных резисторов:

$$R_0 = \frac{R_1 R}{R_1 + R} + \frac{R}{2} = R \cdot \frac{3R_1 + R}{2(R_1 + R)}.$$

В соответствии с этим ток I_0 в неразветвленной цепи равен

$$I_0 = \frac{U}{R_0} = \frac{U}{R} \cdot \frac{2(R_1 + R)}{3R_1 + R}.$$

Этот ток разветвляется на токи, показанные на рисунке, причем $I_1 + I = I_3$, $I_2 = I + I_4$. Учтем далее, что $I_3 R = I_4 R = U''$. Следовательно, $I_3 = I_4$. Исключая эти токи из полученной системы уравнений, выразим I через I_1 и I_2 , а именно $I = (I_2 - I_1) / 2$. В то же

время, $I_1 + I_2 = I_0$, $I_1 R_1 = I_2 R = U'$. Отсюда $I_1 = I_0 \frac{R}{R_1 + R}$, $I_2 = I_0 \frac{R_1}{R_1 + R}$. Следовательно,

$I = \frac{I_0}{2} \cdot \frac{R_1 - R}{R_1 + R}$. Подставляя сюда найденный ранее ток I_0 , получаем:

$$I = \frac{(R_1 - R)}{(R + 3R_1)} \cdot \frac{U}{R} = 2,5 \text{ мА}.$$

Ответ. $I = 2,5$ мА.

3.2.20. Электрическая лампа с вольфрамовой нитью рассчитана на напряжение $U = 220$ В и потребляет в рабочем режиме мощность $N = 100$ Вт. Сопротивление отключенной от сети лампы при температуре 0 °С равно $R_0 = 40$ Ом. Найти температуру t нити лампы в рабочем режиме, если температурный коэффициент сопротивления вольфрама $\alpha = 4,1 \cdot 10^{-3} \text{ К}^{-1}$. Изменением длины нити при нагреве пренебречь.

Решение. Сопротивление R лампы в рабочем режиме связано с сопротивлением R_0 холодной лампы соотношением $R = R_0(1 + \alpha t)$. Отсюда

$$t = \frac{1}{\alpha} \left(\frac{R}{R_0} - 1 \right).$$

Учитывая, что $R = \frac{U^2}{N}$, получаем: $t = \frac{1}{\alpha} \left(\frac{U^2}{NR_0} - 1 \right) \approx 2707$ °С.

Ответ. $t \approx 2707$ °С.

3.2.21. Спираль, свернутая из стальной проволоки, подключена к источнику с постоянной ЭДС и пренебрежимо малым внутренним сопротивлением. Во сколько раз α изменится время нагрева определенного количества воды от комнатной температуры до температуры кипения, если заменить эту спираль на стальную спираль той же массы, свернутую из проволоки, имеющей в $\beta = 2$ раза меньшую длину? Потерями теплоты пренебречь.

Решение. Время нагрева воды t обратно пропорционально мощности, выделяющейся в спирали. Мощность, в свою очередь, обратно пропорциональна сопротивлению спирали R . Следовательно, $\alpha = \frac{t_2}{t_1} = \frac{R_2}{R_1}$. Сопротивление спирали равно $R = \frac{\rho l}{S} = \frac{\rho l^2}{V}$, где ρ — удельное сопротивление стали, l — длина проволоки, V — объем проволоки. Следовательно, $\frac{R_2}{R_1} = \frac{l_2^2}{l_1^2} = \frac{1}{\beta^2}$.

О т в е т. $\alpha = \frac{1}{\beta^2} = \frac{1}{4}$.

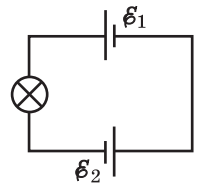
3.2.22. При подключении к батарее поочередно двух сопротивлений нагрузки $R_1 = 4$ Ом и $R_2 = 1$ Ом выделяющаяся в них мощность оказалась одинаковой и равной $N = 9$ Вт. Чему равна ЭДС \mathcal{E} батареи?

Решение. Обозначив через r внутреннее сопротивление батареи, запишем токи в цепи и мощности, выделяющиеся в резисторах в первом и во втором случаях: $I_1 = \frac{\mathcal{E}}{R_1 + r}$, $N_1 = \frac{\mathcal{E}^2}{(R_1 + r)^2} R_1$, $I_2 = \frac{\mathcal{E}}{R_2 + r}$, $N_2 = \frac{\mathcal{E}^2}{(R_2 + r)^2} R_2$. По условию, $N_1 = N_2$, откуда следует, что $R_1(R_2 + r)^2 = R_2(R_1 + r)^2$, или $\sqrt{R_1}(R_2 + r) = \sqrt{R_2}(R_1 + r)$. Из последнего уравнения легко найти внутреннее сопротивление батареи: $r = \sqrt{R_1 R_2}$. Следовательно, $N = \frac{\mathcal{E}^2 R_1}{(R_1 + \sqrt{R_1 R_2})^2} = \frac{\mathcal{E}^2 R_2}{(R_2 + \sqrt{R_1 R_2})^2}$. Выражая из одного из этих равенств ЭДС батареи \mathcal{E} , получаем ответ: $\mathcal{E} = \sqrt{N}(\sqrt{R_1} + \sqrt{R_2}) = 9$ В.

3.2.23. Лампочка накаливания включена в цепь, показанную на рисунке. ЭДС источников в схеме равны $\mathcal{E}_1 = 3$ В и $\mathcal{E}_2 = 4$ В, а их внутренние сопротивления соответственно $r_1 = 2$ Ом и $r_2 = 1$ Ом. Найти мощность $N_{\text{л}}$, выделяющуюся в лампочке, если известно, что при напряжении на лампочке $U = 6$ В в ней выделяется мощность $N = 9$ Вт. Изменением сопротивления нити лампочки в зависимости от температуры пренебречь.

Решение. По закону Ома для замкнутой цепи ток в цепи $I = \frac{\mathcal{E}_1 + \mathcal{E}_2}{R + r_1 + r_2}$, где $R = U^2 / N$ — сопротивление лампочки. Мощность, выделяющаяся в лампочке, $N_{\text{л}} = I^2 R$.

О т в е т. $N_{\text{л}} = \left(\frac{\mathcal{E}_1 + \mathcal{E}_2}{r_1 + r_2 + U^2 / N} \right)^2 \cdot \frac{U^2}{N} = 4$ Вт.



3.2.24. Две лампы имеют мощности $N_1 = 20$ Вт и $N_2 = 40$ Вт при стандартном напряжении сети. При их последовательном включении в сеть с другим напряжением оказалось, что в двадцативаттной лампе выделяется та же мощность, что и при стандартном напряжении. Какая мощность N'_2 выделяется при этом в другой лампе? Изменением сопротивления нитей ламп с температурой пренебречь.

Решение. Пусть U_0 — стандартное напряжение сети, R_1 и R_2 — сопротивления ламп. Поскольку $N_1 = \frac{U_0^2}{R_1}$, $N_2 = \frac{U_0^2}{R_2}$, справедливо соотношение: $\frac{N_1}{N_2} = \frac{R_2}{R_1}$. При последовательном подключении ламп в них выделяются мощности $N'_1 = I^2 R_1$, $N'_2 = I^2 R_2$, где I — ток в цепи. Отсюда следует, что $\frac{N'_1}{N'_2} = \frac{R_1}{R_2}$. Учитывая, что по условию $N'_1 = N_1$, получаем:

$$N'_2 = \frac{N_1}{N_2} = 10 \text{ Вт.}$$

Ответ. $N'_2 = 10 \text{ Вт.}$

3.2.25. Электрическая лампочка подключена к источнику тока через сопротивление, подсоединенное последовательно. Известно, что при ЭДС источника $\mathcal{E}_1 = 20 \text{ В}$ и подсоединенном сопротивлении $r_1 = 4 \text{ Ом}$ через лампочку течет такой же ток, что и при ЭДС $\mathcal{E}_2 = 14 \text{ В}$ и сопротивлении $r_2 = 1 \text{ Ом}$. Найти мощность N , выделяющуюся в лампочке. Внутренним сопротивлением источника тока пренебречь.

Решение. Обозначим через $r_{\text{л}}$ сопротивление лампочки. По закону Ома для замкнутой цепи: $I_1 = \frac{\mathcal{E}_1}{r_1 + r_{\text{л}}}$, $I_2 = \frac{\mathcal{E}_2}{r_2 + r_{\text{л}}}$. По условию $I_1 = I_2$, откуда сопротивление лампочки $r_{\text{л}} = \frac{\mathcal{E}_2 r_1 - \mathcal{E}_1 r_2}{\mathcal{E}_1 - \mathcal{E}_2}$. Мощность, выделяющаяся в лампочке, $N = I_1^2 r_{\text{л}} = I_2^2 r_{\text{л}}$.

Ответ. $N = \frac{(\mathcal{E}_2 r_1 - \mathcal{E}_1 r_2)(\mathcal{E}_1 - \mathcal{E}_2)}{(r_1 - r_2)^2} = 24 \text{ Вт.}$

3.2.26. К батарее подключены параллельно две одинаковые лампочки. Когда одна из лампочек перегорает, мощность, выделяемая во внешней цепи, остается неизменной. Во сколько раз k изменяется после перегорания лампочки ток, текущий через батарею? Изменением сопротивления нити лампочки с температурой пренебречь.

Решение. Мощности, выделяющиеся во внешней цепи, когда горят две и одна лампочки, соответственно равны: $N_2 = \frac{\mathcal{E}^2 R}{2(r + R/2)^2}$, $N_1 = \frac{\mathcal{E}^2 R}{(r + R)^2}$.

Здесь \mathcal{E} — ЭДС батареи, r — ее внутреннее сопротивление, R — сопротивление лампочки. По закону Ома для полной цепи, токи через батарею в этих двух случаях равны, соответственно: $I_2 = \frac{\mathcal{E}}{r + R/2}$, $I_1 = \frac{\mathcal{E}}{r + R}$. Искомое отношение токов $k = \frac{I_1}{I_2} = \frac{r + R/2}{r + R}$. Из равенства мощностей, выделяющихся

во внешней цепи, следует, что $\frac{r + R/2}{r + R} = \frac{\sqrt{2}}{2}$.

Ответ. $k = \frac{\sqrt{2}}{2}$.

3.2.27. Елочная гирлянда, состоящая из $n = 20$ последовательно соединенных одинаковых лампочек типа A , подключена к сети. Во сколько раз k изменится мощность, потребляемая гирляндой, если $m = 5$ лампочек из нее заменить на лампочки типа B ? Известно, что при подключении к батарееке одной лампочки типа B потребляется в $\alpha = 3$ раза большая мощность, чем при подключении к той же батарееке одной лампочки типа A . Напряжение на зажимах сети считать неизменным, внутренним сопротивлением батарееки пренебречь.

Решение. Пусть R_A и R_B — сопротивления лампочек типа A и типа B соответственно. По условию $R_B = R_A / \alpha$. Мощность, потребляемая гирляндой в первом случае, $N_1 = \frac{U^2}{nR_A}$, где U — напряжение сети. После замены m лам-

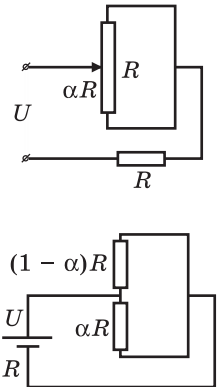
почек мощность, потребляемая гирляндой, станет $N_2 = \frac{U^2}{(n-m)R_A + mR_A / \alpha}$.

Находя отношение $k = \frac{N_2}{N_1}$, получаем: $k = \frac{\alpha n}{\alpha(n-m) + m} = 1,2$.

О т в е т. $k = 1,2$.

3.2.28. Реостат включен в цепь как показано на рисунке. Положение его движка характеризуется коэффициентом α ($0 \leq \alpha \leq 1$). При каком значении α в реостате будет выделяться максимальная мощность? Напряжение на клеммах цепи постоянно.

Решение. Участок цепи, содержащий реостат, представляет собой два параллельно соединенных резистора с сопротивлениями αR и $(1 - \alpha)R$. Сопротивление этого участка равно $R_{\text{н}} = R\alpha(1 - \alpha)$. Всю электрическую цепь можно рассматривать как нагрузку с сопротивлением $R_{\text{н}}$, подключенную к источнику с ЭДС U и внутренним сопротивлением R (эквивалентная схема представлена на рисунке). Мощность, выделяющаяся



в нагрузке, $N = I^2 R_{\text{н}} = \frac{U^2 R_{\text{н}}}{(R + R_{\text{н}})^2}$. Анализ этого выраже-

ния как функции $R_{\text{н}}$ при фиксированном R показывает, что максимальная мощность в нагрузке выделяется в том случае, когда $R_{\text{н}} = R$, причем в диапазоне $0 \leq R_{\text{н}} \leq R$ мощность в нагрузке монотонно растет с увеличением $R_{\text{н}}$. В рассматриваемой схеме $R_{\text{н}} \leq R/4$, поэтому максимальная мощность в реостате будет выделяться при максимальном значении сопротивления этого участка, т. е. при $\alpha = \frac{1}{2}$.

О т в е т. $\alpha = \frac{1}{2}$.

3.2.29. Чему равно внутреннее сопротивление r аккумуляторной батареи, если при ее разряде через внешнюю цепь с сопротивлением $R = 3$ Ом во внешней цепи выделяется $\eta = 90\%$ запасенной энергии?

Решение. В процессе разряда батареи ее ЭДС плавно уменьшается от начального значения до нуля. Пусть в некоторый момент времени ЭДС батареи равна \mathcal{E} , а ток в цепи равен I . Мощность, выделяющаяся во внешней цепи в этот момент, $N_{\text{н}} = I^2 R = \frac{\mathcal{E}^2 R}{(R+r)^2}$, полная мощность, развиваемая батареей, $N = \mathcal{E}I = \frac{\mathcal{E}^2}{R+r}$. Видно, что отношение этих мощностей $\frac{N_{\text{н}}}{N} = \frac{R}{R+r}$ не зависит от времени. Следовательно, такое же отношение справедливо и для энергии, выделяющейся во внешней цепи, и запасенной в аккумуляторе. Поэтому $\eta = \frac{R}{R+r} \cdot 100\%$.

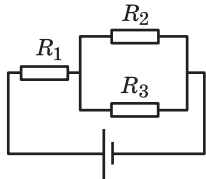
О т в е т. $r = \left(\frac{100\%}{\eta} - 1 \right) R = \frac{1}{3} \text{ Ом.}$

3.2.30. При параллельном подключении двух одинаковых нагревателей к источнику с внутренним сопротивлением r они развивают ту же мощность, что и при последовательном подключении. Чему равно сопротивление нагревателя R ?

Решение. Мощности, выделяющиеся в нагревателях при параллельном и последовательном подключении к источнику с ЭДС \mathcal{E} , равны соответственно: $N_1 = \frac{R\mathcal{E}^2}{2(r+R/2)^2}$, $N_2 = \frac{2R\mathcal{E}^2}{(r+2R)^2}$. Из равенства $N_1 = N_2$ следует, что $(r+2R) = 2\left(r + \frac{R}{2}\right)$. Выражая отсюда R , получаем: $R = r$.

О т в е т. $R = r$.

3.2.31. В схеме, показанной на рисунке, $R_1 = 1 \text{ Ом}$, $R_2 = 2 \text{ Ом}$, $R_3 = 3 \text{ Ом}$. Известно, что на сопротивлении R_1 выделяется мощность $N_1 = 25 \text{ Вт}$. Какая мощность N_2 выделяется на сопротивлении R_2 ?

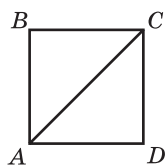


Решение. Обозначим через I_1 , I_2 и I_3 токи, текущие через резисторы R_1 , R_2 и R_3 , соответственно. Для этих токов справедливы равенства: $I_1 = I_2 + I_3$, $I_2 R_2 = I_3 R_3$, откуда $I_2 = \frac{I_1 R_3}{R_2 + R_3}$. С другой стороны, $N_1 = I_1^2 R_1$, $N_2 = I_2^2 R_2$.

Объединяя записанные выражения, находим:

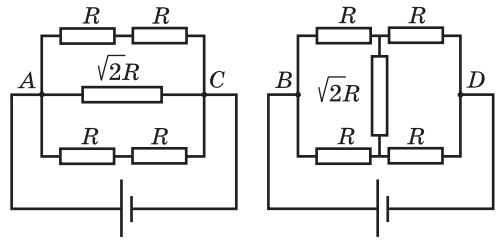
$$N_2 = N_1 \frac{R_2 R_3^2}{R_1 (R_2 + R_3)^2} = 18 \text{ Вт.}$$

О т в е т. $N_2 = 18 \text{ Вт.}$



3.2.32. Из однородной проволоки спаян контур в виде квадрата $ABCD$ с диагональю AC (см. рисунок). Источник напряжения, внутренним сопротивлением которого можно пренебречь, подсоединяют к точкам A и C схемы (случай 1), а затем к точкам B и D (случай 2). Во сколько раз различаются мощности N_1 и N_2 , выделяемые в контуре в этих случаях?

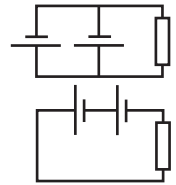
Решение. Эквивалентные схемы электрических цепей, образуемых при подключении источника к двум разным парам вершин квадрата, изображены на рисунке, где через R обозначено сопротивление одной стороны квадрата. Применяя стандартные формулы для расчета сопротивлений последовательно и параллельно соединенных резисторов, находим сопротивление контура между



точками A и C : $R_{AC} \equiv R_1 = \frac{\sqrt{2}}{\sqrt{2} + 1}R$. При расчете сопротивления контура между точками B и D учтем, что, в силу симметрии схемы, ток через резистор $\sqrt{2}R$ в данном случае не течет. Следовательно, $R_{BD} \equiv R_2 = R$. Поскольку напряжение на клеммах источника в обоих случаях одно и то же, отношение мощностей, выделяющихся в контуре, равно обратному отношению его сопротивлений: $\frac{N_2}{N_1} = \frac{R_1}{R_2}$.

О т в е т. $\frac{N_2}{N_1} = 2 - \sqrt{2} \approx 0,586$.

3.2.33. Батарея из двух одинаковых параллельно соединенных гальванических элементов с внутренним сопротивлением $r = 1$ Ом каждый нагружена на внешнее сопротивление $R = 1$ Ом. Во сколько раз β изменится отношение мощности, выделяемой во внешнем сопротивлении, к полной мощности, если элементы соединить последовательно?



Решение. Рассмотрим вначале цепь, содержащую один гальванический элемент с ЭДС \mathcal{E} и внутренним сопротивлением r , нагруженный на внешнее сопротивление R . Мощность, выделяющаяся во внешнем сопротивлении,

$$N_{\text{н}} = I^2 R = \frac{\mathcal{E}^2 R}{(R + r)^2}, \quad \text{полная мощность, развиваемая элементом,}$$

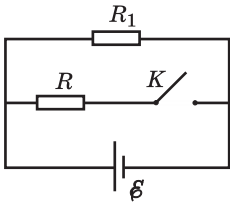
$$N = \mathcal{E}I = \frac{\mathcal{E}^2}{R + r}, \quad \text{где } I \text{ — ток в цепи. Отношение этих мощностей } \eta = \frac{N_{\text{н}}}{N} = \frac{R}{R + r}$$

представляет собой КПД электрической цепи. Используя этот результат, находим, что КПД цепи при параллельном соединении элементов $\eta_1 = \frac{R}{R + r/2}$,

$$\text{а при их последовательном соединении } \eta_2 = \frac{R}{R + 2r}.$$

О т в е т. $\beta = \frac{R + r/2}{R + 2r} = 0,5$.

3.2.34. В схеме, показанной на рисунке, сопротивление $R_1 = 1$ Ом. Определить внутреннее сопротивление источника тока r , если известно, что при замыкании ключа K сила тока через источник возрастает в $n = 3$ раза,



а мощность, выделяющаяся во внешней цепи, увеличивается в $m = 2$ раза.

Решение. При разомкнутом ключе ток в цепи и мощность, выделяющаяся в резисторе R_1 , равны, соответственно, $I_1 = \frac{\mathcal{E}}{R_1 + r}$, $N_1 = \frac{\mathcal{E}^2 R_1}{(R_1 + r)^2}$, где \mathcal{E} — ЭДС

источника. При замыкании ключа полный ток в цепи будет $I_2 = \frac{\mathcal{E}}{\frac{R_1 R}{R_1 + R} + r} = \frac{\mathcal{E}(R_1 + R)}{R_1 R + R_1 r + R r}$. Поскольку $I_2 = n I_1$, справедливо ра-

венство $\frac{R_1 + R}{R_1 R + R_1 r + R r} = \frac{n}{R_1 + R}$. Используя это равенство, выражение для

мощности, выделяющейся во внешней цепи при замкнутом ключе, можно преобразовать к виду: $N_2 = \frac{\mathcal{E}^2 (R_1 + R)^2}{(R_1 R + R_1 r + R r)^2} \cdot \frac{R_1 R}{R_1 + R} = \frac{\mathcal{E}^2 n^2}{(R_1 + r)^2} \cdot \frac{R_1 R}{R_1 + R}$.

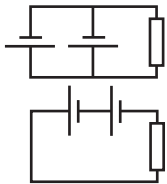
Из условия $N_2 = m N_1$ следует, что $\frac{R_1 R}{R_1 + R} \cdot \frac{\mathcal{E}^2 n^2}{(R_1 + r)^2} = m \frac{\mathcal{E}^2 R_1}{(R_1 + r)^2}$, или

$\frac{R n^2}{R_1 + R} = m$. Отсюда $R = \frac{m}{n^2 - m} R_1$. Объединяя записанные выражения, по-

лучаем: $r = \frac{n - m}{n(n - 1)} R_1 = \frac{1}{6}$ Ом.

Ответ. $r = \frac{1}{6}$ Ом.

3.2.35. Батарея из двух одинаковых параллельно соединенных гальванических элементов нагружена на внешнее сопротивление $R = 1$ Ом. После того как элементы соединили последовательно, мощность, выделяемая во внешнем сопротивлении, увеличилась в $n = 2$ раза. Чему равно внутреннее сопротивление r каждого из элементов?



Решение. Пусть \mathcal{E} — ЭДС одного элемента. Мощности, выделяющиеся во внешнем сопротивлении при параллельном и последовательном соединении элементов, равны соот-

ветственно: $N_1 = \frac{\mathcal{E}^2 R}{(R + r/2)^2}$, $N_2 = \frac{4\mathcal{E}^2 R}{(R + 2r)^2}$, причем, по ус-

ловию, $N_2 = n N_1$.

Ответ. $r = R \frac{(2 - \sqrt{n})}{(2\sqrt{n} - 1)} \approx 0,316$ Ом.

3.2.36. Конденсатор емкостью $C = 10$ мкФ разряжается через цепь из двух параллельно включенных сопротивлений $R_1 = 10$ Ом и $R_2 = 40$ Ом. Какое количество теплоты Q_1 выделится на меньшем из сопротивлений, если конденсатор был заряжен до напряжения $U_0 = 100$ В?

Решение. В процессе разрядки конденсатора напряжение на нем плавно изменяется от U_0 до нуля. При этом отношение мгновенных мощностей,

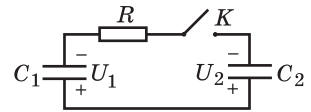
выделяющихся в параллельно соединенных резисторах, равно $\frac{N_1}{N_2} = \frac{R_2}{R_1}$,

т. е. не зависит от времени. Следовательно, такое же отношение справедливо и для количеств теплоты, выделившихся в резисторах за время полной разрядки конденсатора. Имеем: $\frac{Q_1}{Q_2} = \frac{R_2}{R_1}$, $Q_1 + Q_2 = W_0$, где $W_0 = \frac{CU_0^2}{2}$ — энергия, запасенная в конденсаторе. Из этих равенств получаем:

$$Q_1 = \frac{CU_0^2}{2(1 + R_1/R_2)} \approx 4 \cdot 10^{-2} \text{ Дж.}$$

О т в е т. $Q_1 \approx 4 \cdot 10^{-2}$ Дж.

3.2.37. До замыкания ключа K конденсаторы $C_1 = 1$ мкФ и $C_2 = 2$ мкФ были заряжены до напряжений $U_1 = 400$ В и $U_2 = 100$ В, как показано на рисунке. Какое количество теплоты Q выделится на сопротивлении R после замыкания ключа?



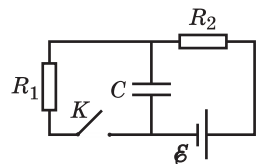
Решение. Заряды на конденсаторах до замыкания ключа были равны соответственно: $q_1 = C_1U_1$, $q_2 = C_2U_2$. В силу закона сохранения заряда, при замыкании ключа алгебраическая сумма зарядов на каждой паре обкладок остается без изменения. После соединения обкладок на конденсаторах устанавливается одинаковое напряжение U . Поскольку емкость двух параллельно соединенных конденсаторов $C = C_1 + C_2$, а общий заряд на них $q = q_1 + q_2$,

установившееся напряжение $U = \frac{C_1U_1 + C_2U_2}{C_1 + C_2}$. До замыкания ключа конденсаторы обладали энергией, $W_{\text{нач}} = \frac{C_1U_1^2}{2} + \frac{C_2U_2^2}{2}$. Спустя достаточно большое

время после замыкания ключа их энергия стала $W_{\text{кон}} = \frac{(C_1 + C_2)U^2}{2}$. По закону сохранения энергии, $W_{\text{нач}} = W_{\text{кон}} + Q$.

О т в е т. $Q = \frac{C_1C_2(U_1 - U_2)^2}{2(C_1 + C_2)} = 0,03$ Дж.

3.2.38. Цепь, показанная на рисунке, находилась достаточно долго в состоянии с замкнутым ключом K . В некоторый момент времени ключ разомкнули. Какое количество теплоты Q выделится на резисторе R_2 после размыкания ключа? При расчетах положить: $\mathcal{E} = 300$ В, $R_1 = 100$ Ом, $R_2 = 200$ Ом, $C = 10$ мкФ. Внутренним сопротивлением источника пренебречь.



Решение. При замкнутом ключе напряжение на конденсаторе совпадает с напряжением на резисторе R_1 , которое, в свою очередь, равно $U = \frac{\mathcal{E}R_1}{R_1 + R_2}$. Следовательно, в начальном состоянии заряд конденсатора и запасенная в нем энергия равны,

поскольку $q = CU$ и $W = \frac{q^2}{2C} = \frac{C^2U^2}{2}$. После размыкания ключа конденсатор разрядится, и вся его энергия выделится на резисторе R_2 . Поэтому $Q = \frac{C^2U^2}{2} = \frac{C^2\mathcal{E}^2R_1^2}{2(R_1 + R_2)^2}$. Подставляя значения, получаем $Q = 0,01$ Дж.

О т в е т. $Q = 0,01$ Дж.

соответственно, $q_1 = CU = C\xi \frac{R_1}{R_1 + R_2}$, $W_1 = \frac{CU^2}{2} = \frac{C\xi^2}{2} \cdot \frac{R_1^2}{(R_1 + R_2)^2}$. После

размыкания ключа произойдет перезарядка конденсатора, в результате которой напряжение на конденсаторе станет равным ЭДС батареи. Следовательно, в конечном состоянии заряд конденсатора и запасенная в нем энергия будут:

$q_2 = C\xi$, $W_2 = \frac{C\xi^2}{2}$. При перезарядке конденсатора источник

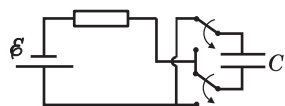
перенесет по цепи заряд $\Delta q = q_2 - q_1 = C\xi \frac{R_2}{R_1 + R_2}$, совершив при этом работу

$A = \Delta q \cdot \xi$. По закону сохранения энергии $W_1 + A = W_2 + Q$. Объединяя запи-

санные равенства, получаем: $Q = \frac{C\xi^2 R_2^2}{2(R_1 + R_2)^2} = 0,2$ Дж.

О т в е т. $Q = 0,2$ Дж.

3.2.39. Конденсатор емкостью $C = 20$ мкФ подключен к источнику с ЭДС $\xi = 300$ В через коммутатор, так что его выводы можно менять местами, од-



новременно перебрасывая оба ключа. После того как напряжение на конденсаторе установилось, коммутатор переключили. Какое количество теплоты Q выделилось при этом в резисторе? Внутренним сопротивлением источника пренебречь.

Р е ш е н и е. При начальном положении ключей коммутатора верхняя обкладка конденсатора подключена к положительной клемме источника, а нижняя — к отрицательной. При этом установившееся напряжение на конденсаторе совпадает с ЭДС источника ξ , на верхней обкладке конденсатора накапливается положительный заряд $q = C\xi$, а на нижней — такой же по величине отрицательный заряд. Начальная энергия конденсатора равна

$W_1 = \frac{C\xi^2}{2}$. После перебрасывания ключей коммутатора в новое положение

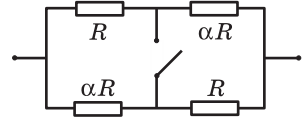
полярность подключения конденсатора к источнику меняется на противоположную, что приводит к перезарядке конденсатора. При этом установившееся напряжение на конденсаторе по величине вновь совпадает с ЭДС источника, поэтому конечная энергия конденсатора W_2 равна начальной. Однако знаки зарядов на обкладках меняются на противоположные: на верхней обкладке накапливается заряд $-q$, на нижней $+q$. При перезарядке конденсатора источник перемещает по цепи заряд $\Delta q = 2q = 2C\xi$, совершив работу $A = \xi \Delta q = 2C\xi^2$. По закону сохранения энергии, $W_1 + A = W_2 + Q$. Поскольку $W_2 = W_1$, вся работа источника расходуется на выделение теплоты в резисторе.

О т в е т. $Q = 2C\xi^2 = 3,6$ Дж.

3.2.40. Нагревательные элементы, сопротивления которых отличаются в α раз, соединены, как показано на рисунке, и подключены к источнику тока с пренебрежимо малым внутренним сопротивлением. Найти α , если известно, что при замыкании ключа общая мощность, выделяющаяся в цепи,

увеличивается в $k = 2$ раза. Изменением сопротивлений элементов при нагревании пренебречь.

Решение. Используя стандартные формулы для расчета сопротивлений последовательно и параллельно соединенных резисторов, находим со-



противления цепи: при разомкнутом ключе $R_1 = \frac{(1 + \alpha)R}{2}$, при замкнутом ключе $R_2 = \frac{2\alpha R}{1 + \alpha}$. Поскольку внутреннее сопротивление источника прене-

брежимо мало, напряжение на его клеммах можно считать постоянным. Следовательно, отношение мощностей, выделяющихся в цепи при разных положениях ключа, обратно пропорционально отношению сопротивлений цепи: $\frac{N_2}{N_1} = \frac{R_1}{R_2}$. Из условия $R_1 = kR_2$ получаем квадратное уравнение отно-

сительно α , а именно $\alpha^2 - 2(2k - 1)\alpha + 1 = 0$. Корни этого уравнения: $\alpha = 2k - 1 \pm 2\sqrt{k^2 - k} = 3 \pm 2\sqrt{2}$.

Ответ. $\alpha_1 \approx 0,17$, $\alpha_2 \approx 5,83$.

3.2.41. Напряжение на зажимах генератора постоянного тока $U_0 = 220$ В, а на зажимах нагрузки $U_1 = 210$ В. Определить мощность $N_{\text{л}}$, выделяющуюся в линии между генератором и нагрузкой, если номинальная мощность нагрузки при напряжении на ней, равном U_0 , составляет $N = 10$ кВт.

Решение. Обозначим через R сопротивление нагрузки. Поскольку номинальная мощность нагрузки N при напряжении на ней U_0 равна $N = \frac{U_0^2}{R}$,

то $R = \frac{U_0^2}{N}$. При напряжении U_1 мощность, выделяющаяся в нагрузке,

$N_1 = \frac{U_1^2}{R} = \frac{U_1^2}{U_0^2} N$. С другой стороны, эту мощность можно выразить через

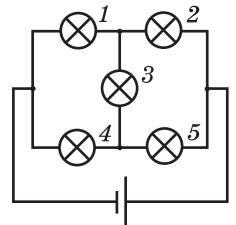
ток I через нагрузку: $N_1 = U_1 I$. Отсюда: $I = \frac{N_1}{U_1} = \frac{U_1}{U_0^2} N$. Такой же ток течет

и в линии между генератором и нагрузкой. Поскольку падение напряжения в линии равно $\Delta U = U_0 - U_1$, мощность, выделяющаяся в ней, $N_{\text{л}} = (U_0 - U_1)I$. Подставляя сюда найденное значение тока, получаем:

$$N_{\text{л}} = \frac{(U_0 - U_1)U_1}{U_0^2} W \approx 434 \text{ Вт.}$$

Ответ. $N_{\text{л}} \approx 434$ Вт.

3.2.42. Пять одинаковых лампочек соединены в цепь, как показано на рисунке, и подключены к батарее. Во сколько раз α изменится мощность, выделяющаяся в этой цепи, если лампочка номер 1 перегорит? Внутреннее сопротивление батареи пренебрежимо мало.



Решение. Из соображений симметрии ясно, что до перегорания лампочки 1 по верхнему и нижнему участкам цепи текут одинаковые токи. Следовательно, напряжение на лампочке 3 равно нулю и ток через нее не течет. Применяя правила для расчета сопротивления последовательно и параллельно соединенных резисторов, находим общее сопротивление цепи в этом случае: $R_1 = R$, где R — сопротивление одной лампочки. Поскольку внутреннее сопротивление батареи пренебрежимо мало, выделяющаяся в цепи мощность равна: $N_1 = \frac{\mathcal{E}^2}{R_1} = \frac{\mathcal{E}^2}{R}$, где \mathcal{E} — ЭДС батареи. После перегорания лампочки 1 на ее месте образуется разрыв цепи. Сопротивление цепи в этом случае оказывается равным $R_2 = R + R'$, где R' — сопротивление участка цепи, состоящего из лампочек 3, 2, 5, т. е. $R' = \frac{1}{1/R + 1/2R} = \frac{2}{3}R$. Следова-

тельно, $R_2 = \frac{5}{3}R$ и выделяющаяся в цепи мощность в этом случае равна:

$$N_2 = \frac{\mathcal{E}^2}{R_2} = \frac{3}{5} \cdot \frac{\mathcal{E}^2}{R}.$$

О т в е т. $\alpha = 0,6$.

3.2.43. Два нагревателя при параллельном подключении к сети развивают суммарную мощность N_1 , а при последовательном — N_2 . Каковы номинальные мощности N_{01} и N_{02} этих нагревателей?

Решение. Пусть U — напряжение сети, при котором нагреватели развивают номинальные мощности. Тогда $N_{01} = \frac{U^2}{R_1}$, $N_{02} = \frac{U^2}{R_2}$, где R_1 и R_2 — сопротивления нагревателей. Отсюда $R_1 = \frac{U^2}{N_{01}}$, $R_2 = \frac{U^2}{N_{02}}$. При параллельном подключении нагревателей полная мощность равна $N_1 = N_{01} + N_{02}$. При их последовательном подключении полная мощность $N_2 = \frac{U^2}{R_1 + R_2} = \frac{N_{01}N_{02}}{N_{01} + N_{02}}$. Таким образом, справедлива следующая система уравнений: $N_{01} + N_{02} = N_1$, $N_{01}N_{02} = N_1N_2$. Решая ее, находим N_{01} и N_{02} .

О т в е т. $N_{01} = \frac{N_1}{2} \pm \frac{1}{2}\sqrt{N_1^2 - 4N_1N_2}$, $N_{02} = \frac{N_1}{2} \mp \frac{1}{2}\sqrt{N_1^2 - 4N_1N_2}$.

3.2.44. При подключении к аккумулятору с внутренним сопротивлением $r = 0,16$ Ом нагревательный элемент развивает мощность $N_1 = 200$ Вт. При подключении нагревательного элемента к двум таким аккумуляторам, соединенным последовательно, выделяемая в нагревателе мощность составила $N_2 = 288$ Вт. Найти ЭДС \mathcal{E} аккумулятора.

Решение. Мощность, выделяемая в нагревательном элементе при подключении его к одному аккумулятору, равна $N_1 = \frac{\mathcal{E}^2 R}{(r + R)^2}$, где R — сопро-

тивление нагревателя, ξ — ЭДС аккумулятора, r — его внутреннее сопротивление. При подключении нагревателя к двум одинаковым аккумуляторам, соединенным последовательно, ЭДС и внутреннее сопротивление в цепи удваиваются, в результате чего мощность, выделяющаяся

в нагревателе, будет $N_2 = \frac{4\xi^2 R}{(2r + R)^2}$. Вводя величину $k = \sqrt{N_2 / N_1}$, имеем:

$k = 2 \frac{r + R}{2r + R}$. Отсюда $R = \frac{2r(k - 1)}{2 - k}$. Учитывая, что $\xi^2 = \frac{(r + R)^2}{R} N_1$, получа-

ем: $\xi = \sqrt{\frac{r N_2}{2(2 - \sqrt{N_2 / N_1})(\sqrt{N_2 / N_1} - 1)}} = 12 \text{ В}$.

О т в е т. $\xi = 12 \text{ В}$.

3.2.45. При подключении к аккумулятору с внутренним сопротивлением $r = 2 \text{ Ом}$ нагревательный элемент развивает мощность $N_1 = 50 \text{ Вт}$. При подключении нагревательного элемента к двум таким аккумуляторам, соединенным последовательно, выделяемая в нагревателе мощность составила $N_2 = 72 \text{ Вт}$. Найти сопротивление R нагревателя.

Р е ш е н и е. Мощность, развиваемая нагревательным элементом сопротивлением R , подключенным к аккумулятору с ЭДС ξ и внутренним сопротивлением r , равна $N_1 = \frac{\xi^2 R}{(r + R)^2}$. При подключении этого же элемента к двум

одинаковым аккумуляторам, соединенным последовательно, значения ЭДС и внутреннего сопротивления удваиваются и нагреватель развивает мощность

$N_2 = \frac{4\xi^2 R}{(2r + R)^2}$. Составим отношение: $\frac{N_2}{N_1} = \frac{4(r + R)^2}{(2r + R)^2}$, или $\sqrt{\frac{N_2}{N_1}} = \frac{2(r + R)}{2r + R}$.

Выражая из последнего соотношения R , получаем: $R = 2r \frac{\sqrt{N_2 / N_1} - 1}{2 - \sqrt{N_2 / N_1}} = 1 \text{ Ом}$.

О т в е т. $R = 1 \text{ Ом}$.

3.2.46. При подключении к аккумулятору с внутренним сопротивлением $r = 0,2 \text{ Ом}$ нагревательный элемент развивает мощность $N_1 = 10 \text{ Вт}$. При подключении нагревательного элемента к двум таким аккумуляторам, соединенным параллельно, выделяемая в нагревателе мощность составила $N_2 = 12,1 \text{ Вт}$. Найти сопротивление R нагревателя.

Р е ш е н и е. Мощность, развиваемая нагревательным элементом сопротивлением R , подключенным к аккумулятору с ЭДС ξ и внутренним сопротивлением r , равна $N_1 = \frac{\xi^2 R}{(r + R)^2}$. При подключении этого же элемента

к двум одинаковым аккумуляторам, соединенным параллельно, нагреватель развивает мощность $N_2 = \frac{\xi^2 R}{(R + r / 2)^2}$. Составим отношение: $\frac{N_2}{N_1} = \frac{(r + R)^2}{(R + r / 2)^2}$

или $\sqrt{\frac{N_2}{N_1}} = \frac{2(r+R)}{r+2R}$. Выражая из последнего соотношения R , получаем:

$$R = r \frac{2 - \sqrt{N_2 / N_1}}{2(\sqrt{N_2 / N_1} - 1)} = 0,9 \text{ Ом.}$$

О т в е т. $R = 0,9 \text{ Ом.}$

3.2.47. При подключении к аккумулятору с внутренним сопротивлением $r = 0,2 \text{ Ом}$ нагревательный элемент развивает мощность $N_1 = 10 \text{ Вт}$. При подключении нагревательного элемента к двум таким аккумуляторам, соединенным параллельно, выделяемая в нагревателе мощность составила $N_2 = 14,4 \text{ Вт}$. Найти ЭДС \mathcal{E} аккумулятора.

Р е ш е н и е. Мощность, выделяемая в нагревательном элементе при подключении его к одному аккумулятору, равна $N_1 = \frac{\mathcal{E}^2 R}{(r+R)^2}$, где R — сопротивление нагревателя, \mathcal{E} — ЭДС аккумулятора, r — его внутреннее сопротивление. При подключении нагревателя к двум одинаковым аккумуляторам, соединенным параллельно, мощность, выделяющаяся в нагревателе, будет $N_2 = \frac{\mathcal{E}^2 R}{(R+r/2)^2}$. Вводя величину $k = \sqrt{N_2 / N_1}$, имеем:

$$k = 2 \frac{r+R}{r+2R}. \text{ Отсюда } R = \frac{r(2-k)}{2(k-1)}. \text{ Учитывая, что } \mathcal{E}^2 = \frac{(r+R)^2}{R} N_1, \text{ получаем:}$$

$$\mathcal{E} = \sqrt{\frac{r N_2}{2(2 - \sqrt{N_2 / N_1})(\sqrt{N_2 / N_1} - 1)}} = 3 \text{ В.}$$

О т в е т. $\mathcal{E} = 3 \text{ В.}$

3.2.48. Во внешней нагрузке, подключенной к батарее, выделяется мощность $N_1 = 1 \text{ Вт}$. Чему равен коэффициент полезного действия η этой цепи (т. е. отношение мощности, выделяющейся в нагрузке, к полной мощности, развиваемой батареей), если при подключении той же нагрузки к двум таким батареям, соединенным последовательно, мощность в нагрузке стала равной $N_2 = 1,44 \text{ Вт}$?

Р е ш е н и е. В цепи, состоящей из батареи и внешней нагрузки сопротивлением R , мощность, выделяющаяся в нагрузке, равна $N_1 = I^2 R = \frac{\mathcal{E}^2 R}{(r+R)^2}$, где I — ток в цепи, \mathcal{E} — ЭДС батареи, r — ее внутреннее сопротивление. При этом полная мощность, развиваемая батареей, $N_{\text{п}} = I \mathcal{E} = \frac{\mathcal{E}^2}{(r+R)}$. Отсюда следует, что коэффициент полезного действия цепи $\eta = \frac{N_1}{N_{\text{п}}} = \frac{R}{r+R}$. Если подключить эту же нагрузку к двум одинаковым батареям, соединенным последовательно, ЭДС и внутреннее сопротивление в цепи станут равными, соответственно, $2\mathcal{E}$ и $2r$. Следовательно, мощность, выделяющаяся в нагрузке,

в этом случае будет $N_2 = \frac{4\xi^2 R}{(2r + R)^2}$. Составим отношение $\frac{N_1}{N_2} = \frac{(2r + R)^2}{4(r + R)^2}$,

или $\sqrt{\frac{N_1}{N_2}} = \frac{2r + R}{2(r + R)}$. Последнее соотношение можно преобразовать к виду:

$$\sqrt{\frac{N_1}{N_2}} = 1 - \frac{R}{2(r + R)} = 1 - \frac{\eta}{2}. \text{ Отсюда получаем: } \eta = 2 \left(1 - \sqrt{\frac{N_1}{N_2}} \right) \cdot 100\% \approx 33\%.$$

О т в е т. $\eta \approx 33\%$

3.2.49. При подключении нагрузки к батарее с внутренним сопротивлением $r_1 = 0,1$ Ом во внешней цепи выделяется мощность $N_1 = 1$ Вт. В той же нагрузке, питаемой от батареи с внутренним сопротивлением $r_2 = 0,2$ Ом и прежней ЭДС, выделяется мощность $N_2 = 0,64$ Вт. Чему равно сопротивление нагрузки R ?

Р е ш е н и е. Мощность, выделяющаяся в нагрузке, подключенной к батарее с ЭДС ξ и внутренним сопротивлением r_1 , равна $N_1 = \frac{\xi^2 R}{(r_1 + R)^2}$, где R — сопротивление нагрузки. При подключении этой нагрузки к батарее с той же ЭДС, но с внутренним сопротивлением r_2 , мощность, выделяющаяся в нагрузке, будет

$$N_2 = \frac{\xi^2 R}{(r_2 + R)^2}. \text{ Составим отношение } \frac{N_2}{N_1} = \frac{(r_1 + R)^2}{(r_2 + R)^2}, \text{ или } \sqrt{\frac{N_2}{N_1}} = \frac{r_1 + R}{r_2 + R}. \text{ Выра-}$$

жая из последнего соотношения R , получаем: $R = \frac{r_2 \sqrt{N_2} - r_1 \sqrt{N_1}}{\sqrt{N_1} - \sqrt{N_2}} = 0,3$ Ом.

О т в е т. $R = 0,3$ Ом.

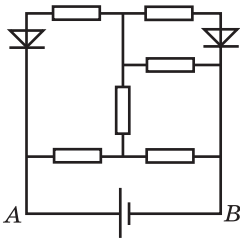
Дополнительные задачи

3.2.50. В электролитической ванне, подключенной к источнику с ЭДС $\xi = 3,35$ В, производят покрытие деталей никелем. Для получения на одной из деталей слоя никеля толщиной $h = 2$ мкм источником была совершена работа $A = 0,054$ кВт·ч. Какова площадь поверхности S этой детали? Плотность никеля $\rho = 8,8$ г/см³, молярная масса $M = 59$ г/моль, валентность $n = 2$, постоянная Фарадея $F = 9,65 \cdot 10^4$ Кл/моль.

Р е ш е н и е. По закону Фарадея, масса выделившегося на катоде никеля $m = \frac{1}{F} \frac{M}{n} q$, где q — заряд, протекший через электролит. С другой стороны, $m = \rho S h$. Совершенная источником работа по перемещению заряда q равна $A = q\xi$. Объединяя записанные выражения, получаем: $S = \frac{MA}{F\xi\rho hn} \approx 1$ м².

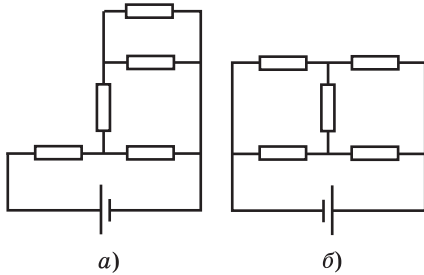
О т в е т. $S \approx 1$ м².

3.2.51. Электрическая цепь, изображенная на рисунке, состоит из двух диодов, шести одинаковых резисторов и источника тока, внутренним сопротивлением которого можно пренебречь. Во сколько раз k изменится ток



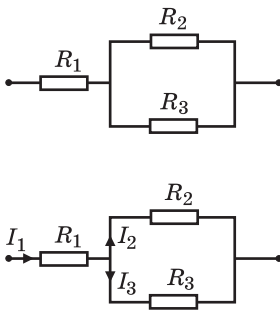
через источник, если подключить его к точкам *A* и *B* с другой полярностью? Диоды считать идеальными.

Решение. При исходном подключении источника ток через левый диод не течет, и эквивалентная схема имеет вид, изображенный на рисунке (а). Сопротивление цепи в этом случае равно $R' = \frac{8}{5}R$, где R — сопротивление отдельного резистора. При подключении источника с обратной полярностью ток не будет течь через правый диод и эквивалентная схема примет вид, изображенный на рисунке (б). В этом случае сопротивление цепи $R'' = R$, так как через центральный резистор ток не течет. Поскольку напряжение на клеммах источника постоянно, искомое отношение токов через источник равно $k = \frac{I''}{I'} = \frac{R'}{R''}$.



О т в е т. $k = 1,6$.

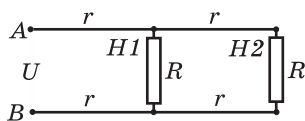
3.2.52. На рисунке изображен участок цепи постоянного тока, содержащий три резистора, сопротивления которых неизвестны. При этом через резистор R_1 протекает ток $I_1 = 1,6$ А, а напряжение на резисторе R_2 составляет $U_2 = 2$ В. Найти величину сопротивления R_3 , если известно, что она в $n = 3$ раза превышает величину сопротивления R_2 .



Решение. Обозначим токи, текущие в ветвях схемы, как показано на рисунке. Тогда справедлива следующая система уравнений: $I_1 = I_2 + I_3$, $U_2 = I_2 R_2$, $U_2 = I_3 R_3$, $R_3 = n R_2$. Разрешая ее относительно R_3 , получаем: $R_3 = (n + 1) \frac{U_2}{I_1} = 5$ Ом.

О т в е т. $R_3 = 5$ Ом.

3.2.53. Два одинаковых нагревателя $H1$ и $H2$ сопротивлениями R каждый подключены к источнику постоянного тока по схеме, изображенной на рисунке. Сопротивление каждого из отрезков подводящих проводов r . Каковы напряжения U_1 и U_2 на нагревателях, если напряжение между точками *A* и *B* равно U ?



Решение. Сопротивление участка цепи, состоящего из двух нагревателей и соединяющих их проводов, $R' = \frac{R(R + 2r)}{2(R + r)}$;

полное сопротивление всей цепи $R_{\text{общ}} = R' + 2r = \frac{R^2 + 6Rr + 4r^2}{2(R + r)}$. Ток в не-

разветвленной цепи $I = \frac{U}{R_{\text{общ}}}$; напряжение на нагревателе $H1$ равно

$$U_1 = IR' = \frac{R(R+2r)}{R^2+6Rr+4r^2}U. \text{ Ток в цепи нагревателя } H2 \text{ будет } I_2 = I - \frac{U_1}{R},$$

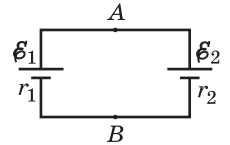
напряжение на нем $U_2 = I_2R = \frac{R^2}{R^2+6Rr+4r^2}U.$

$$\text{О т в е т. } U_1 = \frac{UR(R+2r)}{R^2+6Rr+4r^2}, \quad U_2 = \frac{UR^2}{R^2+6Rr+4r^2}.$$

3.2.54. Два источника тока с ЭДС $\mathcal{E}_1 = 10$ В и $\mathcal{E}_2 = 5$ В и внутренними сопротивлениями $r_1 = 1$ Ом и $r_2 = 2$ Ом соединены в цепь, изображенную на рисунке. Найти разность потенциалов U_{AB} между точками A и B и мощность N , выделяющуюся в этой цепи.

Решение. По закону Ома для полной цепи ток в цепи равен $I = \frac{\mathcal{E}_1 - \mathcal{E}_2}{r_1 + r_2}$, По закону Ома для участка AB ,

содержащего ЭДС \mathcal{E}_1 , разность потенциалов между точками A и B выражается как $U_{AB} = \mathcal{E}_1 - Ir_1$. Мощность, выделяющаяся в цепи, $N = I^2(r_1 + r_2)$.



$$\text{О т в е т. } U_{AB} = \frac{\mathcal{E}_1 r_2 + \mathcal{E}_2 r_1}{r_1 + r_2} \approx 8,3 \text{ В}, \quad N = \frac{(\mathcal{E}_1 - \mathcal{E}_2)^2}{r_1 + r_2} \approx 8,3 \text{ Вт}.$$

3.2.55. В цепи, изображенной на рисунке, сопротивления резисторов $R_1 = 100$ Ом, $R_2 = 50$ Ом, ЭДС источников одинаковы, их внутренние сопротивления пренебрежимо малы. Во сколько раз n изменится ток через резистор R , если полярность подключения источника I изменить на обратную?

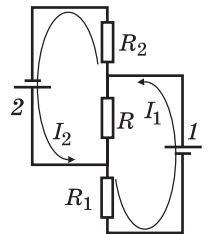
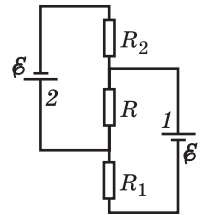
Решение. В исходном состоянии в схеме текут токи, изображенные на рисунке, причем ток через резистор R равен $I = I_1 - I_2$. Применяя правила Кирхгофа, имеем: $R_1 I_1 + R(I_1 - I_2) = \mathcal{E}$, $R_2 I_2 + R(I_2 - I_1) = \mathcal{E}$. Отсюда

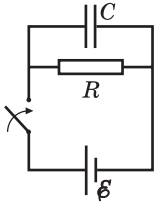
$$I = \frac{(R_1 - R_2)\mathcal{E}}{R_1 R_2 + RR_1 + RR_2}. \text{ Если полярность подключения источника } I \text{ поменять на обратную, то ток в контуре этого источника изменит направление на противоположное и ток через резистор } R \text{ будет } I' = I'_1 + I'_2. \text{ Правила Кирхгофа дают в этом случае уравнения: } R_1 I_1 + R(I_1 + I_2) = \mathcal{E},$$

$R_2 I_2 + R(I_1 + I_2) = \mathcal{E}$. Отсюда $I = \frac{(R_1 + R_2)\mathcal{E}}{R_1 R_2 + RR_1 + RR_2}$.

$$\text{О т в е т. } n = \frac{R_1 + R_2}{R_1 - R_2} = 3.$$

3.2.56. Электрическая цепь, схема которой изображена на рисунке, состоит из конденсатора, резистора, источника тока и ключа. Первоначально ключ был разомкнут, а конденсатор не заряжен. Найти ЭДС источника \mathcal{E} ,





если известно, что сила тока через источник сразу после замыкания ключа в $n = 2$ раза больше установившейся силы тока в цепи, а установившееся напряжение на конденсаторе $U = 1,75$ В.

Решение. Пусть R — сопротивление резистора, r — внутреннее сопротивление источника. Сразу после замыкания ключа напряжение на конденсаторе равно нулю и скачком измениться не может. Следовательно, в начальный момент ток

через резистор не течет. Поэтому начальный ток через источник $I_1 = \frac{\mathcal{E}}{r}$. По-

сле того, как конденсатор зарядится, ток в цепи станет равным $I_2 = \frac{\mathcal{E}}{R+r}$.

Учитывая, что по условию $\frac{I_1}{I_2} = n$, находим, что $r = \frac{R}{n-1}$. Следовательно,

$I_2 = \frac{\mathcal{E}(n-1)}{Rn}$, Установившееся напряжение на конденсаторе $U = I_2 R = \frac{\mathcal{E}(n-1)}{n}$.

Ответ. $\mathcal{E} = \frac{nU}{n-1} = 3,5$ В.

3.2.57. Цилиндрическую алюминиевую заготовку длиной $l_0 = 50$ см и площадью сечения $S_0 = 5$ см² вытягивают в проволоку круглого сечения длиной $l_1 = 220$ м. С помощью этой проволоки подключают к сети с номинальным напряжением $U_{\text{н}} = 220$ В электронагреватель номинальной мощностью $N_{\text{н}} = 2$ кВт. Какова будет фактическая мощность $N_{\text{ф}}$, развиваемая нагревателем, если удельное сопротивление алюминия $\rho = 2,5 \cdot 10^{-8}$ Ом·м?

Решение. Сопротивление проволоки, вытянутой из заготовки, равно

$R = \rho \frac{l_1}{S_1}$, где $S_1 = \frac{l_0 S_0}{l_1}$ — площадь сечения проволоки. Сопротивление на-

гревателя выражается через его номинальную мощность, развиваемую им

при номинальном напряжении, следующим образом: $R_{\text{н}} = \frac{U_{\text{н}}^2}{N_{\text{н}}}$. При подклю-

чении нагревателя к сети через проволоку, вытянутую из заготовки, ток

в цепи равен $I = \frac{U_{\text{н}}}{R + R_{\text{н}}}$. Поскольку фактическая мощность, развиваемая

нагревателем, $N_{\text{ф}} = I^2 R_{\text{н}}$, запишем: $N_{\text{ф}} = \frac{N_{\text{н}}}{(1 + N_{\text{н}} \rho l_1^2 / (U_{\text{н}}^2 l_0 S_0))^2} \approx 1,39$ кВт.

Ответ. $N_{\text{ф}} \approx 1,39$ кВт.

3.2.58. Аккумулятор отдает во внешнюю цепь мощность $N_1 = 10$ Вт при токе $I_1 = 4$ А. Какую мощность N_2 отдаст аккумулятор во внешнюю цепь при токе $I_2 = 8$ А? Внутреннее сопротивление аккумулятора $r = 0,1$ Ом.

Решение. Различие между мощностями, выделяемыми во внешней цепи в первом и во втором случаях, связано с тем, что к аккумулятору подключают нагрузки с разными сопротивлениями. Обозначив через \mathcal{E} ЭДС аккумулятора, имеем: $N_1 = I_1(\mathcal{E} - I_1 r)$, $N_2 = I_2(\mathcal{E} - I_2 r)$. Находя из первого урав-

нения ЭДС аккумулятора и подставляя ее во второе уравнение, получаем:

$$N_2 = \frac{I_2}{I_1}(N_1 - I_1 r(I_2 - I_1)) = 16,8 \text{ Вт.}$$

О т в е т. $N_2 = 16,8 \text{ Вт.}$

3.2.59. Генератор постоянного тока соединен с потребителем (полезной нагрузкой) линией электропередачи, имеющей сопротивление $R = 10 \text{ Ом}$. ЭДС генератора $\mathcal{E} = 100 \text{ В}$, его мощность $N = 10 \text{ кВт}$. Определить отношение η мощности, выделяемой в полезной нагрузке, к мощности генератора. Внутренним сопротивлением генератора пренебречь.

Решение. Пусть $R_{\text{н}}$ — сопротивление нагрузки. Ток в цепи равен $I = \frac{\mathcal{E}}{R + R_{\text{н}}}$, мощность генератора выражается как $N = \mathcal{E}I = \frac{\mathcal{E}^2}{R + R_{\text{н}}}$. Отсюда

$$R_{\text{н}} = \frac{\mathcal{E}^2}{N} - R. \text{ Мощность, выделяющаяся в нагрузке, } N_{\text{н}} = I^2 R_{\text{н}} = \frac{\mathcal{E}^2 R_{\text{н}}}{(R + R_{\text{н}})^2}.$$

Искомое отношение равно $\eta = \frac{N_{\text{н}}}{N} = \frac{R_{\text{н}}}{R + R_{\text{н}}}$. Подставляя найденное $R_{\text{н}}$, получаем: $\eta = 1 - \frac{NR}{\mathcal{E}^2} = 0,6$.

О т в е т. $\eta = 0,6$.

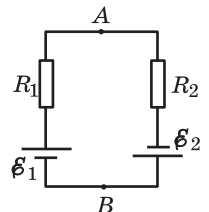
3.2.60. Заряженный конденсатор емкостью C замыкают на реостат, сопротивление которого плавно изменяется от R_0 до нуля. По какому закону нужно менять во времени сопротивление реостата, чтобы сила тока через него оставалась постоянной вплоть до полной разрядки конденсатора? Сопротивление реостата в начале разрядки равно R_0 .

Решение. По закону Ома, ток через резистор равен $I = \frac{U}{R}$, где $U = \frac{q_0 - It}{C}$ — напряжение на конденсаторе в момент времени t , R — сопротивление резистора в этот же момент, q_0 — начальный заряд на конденсаторе. Здесь учтено, что по условию ток через резистор постоянен. Используя для тока его значение $I = \frac{q_0}{R_0 C}$ в начальный момент времени, приходим

к равенству: $\frac{q_0 - It}{RC} = \frac{q_0}{R_0 C}$. Отсюда $R = R_0 \left(1 - \frac{It}{q_0}\right) = R_0 - \frac{t}{C}$.

О т в е т. $R(t) = R_0 \left(1 - \frac{t}{\tau}\right)$, где $\tau = R_0 C$.

3.2.61. В схеме, изображенной на рисунке, напряжение между точками A и B равно U , а сопротивления резисторов R_1 и R_2 неизвестны. Каким будет напряжение V между точками A и B , если поменять местами резисторы R_1 и R_2 ? ЭДС источников равны \mathcal{E}_1 и \mathcal{E}_2 , внутренними сопротивлениями источников пренебречь.



Решение. Согласно закону Ома для полной цепи, ток в цепи $I = \frac{\mathcal{E}_1 + \mathcal{E}_2}{R_1 + R_2}$.

Применяя закон Ома для участка цепи, содержащего ЭДС, имеем: $U = \mathcal{E}_1 - IR_1$ (при исходном подключении резисторов), $V = \mathcal{E}_1 - IR_2$ (когда резисторы поменяли местами). Подставив в эти равенства найденную выше силу тока, приведем их к виду: $U = \frac{\mathcal{E}_1 - k\mathcal{E}_2}{1+k}$, $V = \frac{k\mathcal{E}_1 - \mathcal{E}_2}{1+k}$, где $k = \frac{R_1}{R_2}$. Исключая отсюда k , получаем: $V = \mathcal{E}_1 - \mathcal{E}_2 - U$.

Ответ. $V = \mathcal{E}_1 - \mathcal{E}_2 - U$.

3.2.62. Лампочка накаливания при подключении к источнику напряжением $U_1 = 12$ В потребляет мощность $N_1 = 48$ Вт и имеет температуру нити $t_1 = 2000$ °С. При снижении напряжения до величины $U_2 = 6$ В температура нити уменьшилась до $t_2 = 1000$ °С, а потребляемая мощность стала равной $N_2 = 22$ Вт. Определить температурный коэффициент сопротивления нити лампочки α .

Решение. Мощность, потребляемая лампочкой в первом случае, $N_1 = \frac{U_1^2}{R_1} = \frac{U_1^2}{R_0(1+\alpha t_1)}$, где R_0 — сопротивление лампочки при температуре 0 °С. Аналогично, мощность, потребляемая во втором случае, $N_2 = \frac{U_2^2}{R_2} = \frac{U_2^2}{R_0(1+\alpha t_2)}$. Исключая из этих соотношений неизвестную величину R_0 , получаем: $\alpha = \frac{N_2 U_1^2 - N_1 U_2^2}{N_1 U_2^2 t_1 - N_2 U_1^2 t_2} = 5 \cdot 10^{-3} \text{ К}^{-1}$.

Ответ. $\alpha = 5 \cdot 10^{-3} \text{ К}^{-1}$.

3.2.63. Генератор постоянного тока соединен с потребителем (полезной нагрузкой) линией электропередачи, сопротивление которой равно $r = 1$ Ом. Какая максимальная мощность N_{\max} может быть выделена в нагрузке, если ЭДС генератора $\mathcal{E} = 220$ В? Внутренним сопротивлением генератора пренебречь.

Решение. Мощность, развиваемая генератором, равна $N = \mathcal{E}I$, где I — сила тока в цепи. Мощность, выделяющаяся в линии, $N_{\text{л}} = I^2 r$. Следовательно, мощность, выделяющаяся в нагрузке, $N_{\text{н}} = N - N_{\text{л}} = \mathcal{E}I - I^2 r$. Поскольку $N_{\text{н}}$ обращается в нуль при значениях силы тока $I_1 = 0$ и $I_2 = \frac{\mathcal{E}}{r}$, максимум квадратичной зависимости $N_{\text{н}}(I)$ достигается при силе тока в цепи, равной $I_0 = \frac{I_1 + I_2}{2} = \frac{\mathcal{E}}{2r}$. Подставляя это значение силы тока в выражение для мощности в нагрузке, получаем: $N_{\max} = \frac{\mathcal{E}^2}{4r} = 12,1$ кВт.

Ответ. $N_{\max} = 12,1$ кВт.

3.2.64. Электрическая схема, изображенная на рисунке, состоит из источника ЭДС, пяти одинаковых лампочек сопротивлением R каждая и пере-

менного резистора. Каким нужно сделать сопротивление r переменного резистора, чтобы лампочка 1 светилась в четыре раза ярче, чем лампочка 2? Считать, что яркость свечения лампочки пропорциональна тепловой мощности, выделяющейся в ней. Принять, что сопротивление лампочек не зависит от выделяющейся в них мощности.

Решение. Обозначим токи, текущие в ветвях цепи, как показано на рисунке. Применим первое правило Кирхгофа для узлов А и В, т. е. $I_1 = I_2 + I_6$, $I_4 = I_2 + I_3$. Запишем далее второе правило Кирхгофа для контура ABCA. Имеем $I_1R + I_2R - I_3R = 0$, откуда $I_3 = I_1 + I_2$. По условию задачи, мощность, выделяющаяся на лампочке 1, в четыре раза превышает мощность на лампочке 2. Следовательно, $I_1 = 2I_2$. Записанные уравнения позволяют выразить токи в цепи через ток I_2 , а именно $I_3 = 3I_2$, $I_4 = I_2 + 3I_2 = 4I_2$, $I_6 = I_1 - I_2 = I_2$. Применяя второе правило Кирхгофа для контура ABDA, получаем: $I_2R + I_4R - I_6r = 0$. Используя найденные выше значения токов, отсюда находим: $r = 5R$.

Ответ. $r = 5R$.

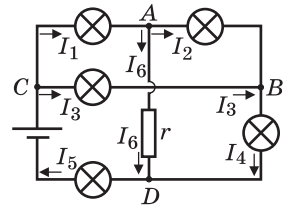
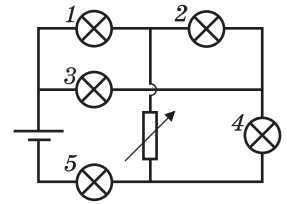
3.2.65. Какую максимальную полезную мощность можно получить, имея в своем распоряжении источник с ЭДС $\mathcal{E} = 45$ В и внутренним сопротивлением $r = 10$ Ом и два электронагревателя с сопротивлениями $R_1 = 5$ Ом и $R_2 = 20$ Ом соответственно?

Решение. Мощность, выделяющаяся в нагрузке сопротивлением R_n , подключенной к источнику, равна $N = \frac{\mathcal{E}^2 R_n}{(R_n + r)^2}$. В качестве нагрузки могут выступать нагреватели, подключенные по отдельности: $R_n = R_1$ и $R_n = R_2$; нагреватели, подключенные последовательно: $R_n = R_3 = R_1 + R_2$; нагреватели, подключенные параллельно: $R_n = R_4 = \frac{R_1 R_2}{R_1 + R_2}$. Подстановка чисел дает: $N_1 = 45$ Вт, $N_2 = 45$ Вт, $N_3 \approx 41,3$ Вт, $N_4 \approx 41,3$ Вт. Видно, что максимальная мощность выделяется во внешней цепи, если подключать нагреватели по отдельности. Эта мощность равна $N = 45$ Вт.

Ответ. $N = 45$ Вт.

3.2.66. Нагреватель с нихромовой спиралью развивает мощность $N_1 = 500$ Вт. При этом температура спирали нагревателя равна $t_1 = 800$ °С. Когда нагреватель стали охлаждать потоком воздуха, он развил мощность $N_2 = 520$ Вт. Какова при этом температура спирали t_2 ? Напряжение, приложенное к нагревателю, неизменно. Температурный коэффициент сопротивления нихрома $\alpha = 10^{-4}$ К⁻¹. Тепловым расширением спирали пренебречь.

Решение. При неизменном внешнем напряжении справедливо отношение $\frac{N_1}{N_2} = \frac{R_2}{R_1}$, где R_1 и R_2 — сопротивления нагревателя в первом и во вто-



ром случаях. Пусть R_0 — сопротивление нагревателя при температуре $t_0 = 0^\circ\text{C}$. Тогда $R_1 = R_0(1 + \alpha t_1)$, $R_2 = R_0(1 + \alpha t_2)$. Объединяя записанные выражения, получаем: $t_2 = t_1 \frac{N_1}{N_2} - \frac{1}{\alpha} \left(1 - \frac{N_1}{N_2} \right) \approx 384,6^\circ\text{C}$.

О т в е т. $t_2 \approx 384,6^\circ\text{C}$.

3.2.67. Электрический нагреватель для воды имеет две спирали. При подключении к сети одной из спиралей вода в нагревателе закипает через время $t_1 = 10$ мин, а при подключении другой — через время $t_2 = 15$ мин. Через какое время вода в нагревателе закипит, если обе эти спирали подключить к сети, соединив их а) параллельно, б) последовательно? Количество воды и ее начальная температура во всех случаях одинаковы. Потерями теплоты пренебречь.

Р е ш е н и е. Обозначим энергию, требующуюся для того, чтобы вскипятить воду в нагревателе, через W . При поочередном подключении спиралей

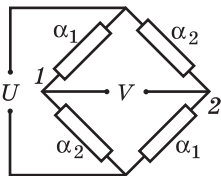
к сети имеем: $W = \frac{U^2}{R_1} t_1 = \frac{U^2}{R_2} t_2$, где U — напряжение сети, R_1 и R_2 — сопротивление спиралей. Отсюда $R_1 = \frac{U^2}{W} t_1$, $R_2 = \frac{U^2}{W} t_2$. При параллельном под-

ключении к сети двух спиралей $W = \left(\frac{U^2}{R_1} + \frac{U^2}{R_2} \right) t_{\text{пар}}$, при их последовательном

подключении к сети $W = \frac{U^2}{R_1 + R_2} t_{\text{посл}}$. Подставляя в эти формулы сопротивление спиралей, получаем: $t_{\text{пар}} = \frac{t_1 t_2}{t_1 + t_2} = 6$ мин, $t_{\text{посл}} = t_1 + t_2 = 25$ мин.

О т в е т. $t_{\text{пар}} = 6$ мин, $t_{\text{посл}} = 25$ мин.

3.2.68. Для измерения температуры t собрана схема, состоящая из четырех резисторов и подключенная к источнику с ЭДС U и малым внутренним сопротивлением (см. рисунок). Температурные коэффициенты сопротивления резисторов попарно равны и составляют соответственно α_1 и α_2 , а сопротивления всех резисторов при температуре 0°C одинаковы. Как зависит напряжение V между точками 1 и 2 от температуры? Считать, что в диапазоне измеряемых температур $\alpha_1 t \ll 1$, $\alpha_2 t \ll 1$.



Р е ш е н и е. Напряжение между точкой 1 и нижним узлом схемы равно $V_1 = \frac{R_0(1 + \alpha_2 t)}{R_0(1 + \alpha_1 t) + R_0(1 + \alpha_2 t)} U = \frac{1 + \alpha_2 t}{2 + (\alpha_1 + \alpha_2) t} U$. Ана-

логично, напряжение между точкой 2 и нижним узлом схемы $V_2 = \frac{1 + \alpha_1 t}{2 + (\alpha_1 + \alpha_2) t} U$. Следовательно, $V = V_2 - V_1 = \frac{(\alpha_1 - \alpha_2) t}{2 + (\alpha_1 + \alpha_2) t} U$. Учитывая,

что $\alpha_1 t \ll 1$, $\alpha_2 t \ll 1$, получаем: $V \approx \frac{1}{2} U (\alpha_1 - \alpha_2) t$.

О т в е т. $V \approx \frac{1}{2} U (\alpha_1 - \alpha_2) t$.

3.2.69. По спирали, сопротивление которой $R = 168$ Ом, течет ток $I = 1$ А. Спираль охлаждается потоком жидкости. Температура жидкости на входе системы охлаждения $t_1 = 20$ °С, а на выходе $t_2 = 60$ °С. Удельная теплоемкость жидкости $c = 4,2$ кДж/(кг·К). Какую массу жидкости μ нужно пропустить через систему охлаждения за секунду, чтобы температура спирали не изменялась. Считать, что вся выделяющаяся в спирали теплота передается жидкости.

Решение. По закону Джоуля — Ленца количество теплоты, выделяющееся в спирали за время τ , равно $Q = RI^2\tau$. Из уравнения теплового баланса следует, что $Q = c\mu\tau(t_2 - t_1)$.

$$\text{Ответ. } \mu = \frac{RI^2}{c(t_2 - t_1)} = 100 \text{ г/с.}$$

3.2.70. Через спираль кипятильника сопротивлением $R = 20$ Ом пропускают постоянный ток силой $I = 5$ А. Сколько времени τ потребуется, чтобы нагреть кипятильником до температуры кипения $m = 3$ кг воды? Начальная температура воды $t_0 = 20$ °С, температура кипения $t_k = 100$ °С, удельная теплоемкость воды $c = 4,2$ кДж/(кг·К). Считать, что на нагревание воды идет 75% теплоты, выделяемой кипятильником.

Решение. По закону Джоуля — Ленца, количество теплоты, выделяющееся в спирали за время τ , равно $Q_1 = I^2R\tau$. Количество теплоты, требующееся для нагревания воды до требуемой температуры, $Q_2 = cm(t_k - t_0)$. По условию, $Q_2 = 0,75Q_1$.

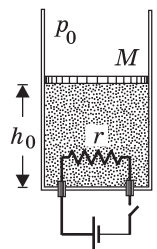
$$\text{Ответ. } \tau = \frac{mc(t_k - t_0)}{0,75I^2R} \approx 45 \text{ мин.}$$

3.2.71. Спираль, сопротивление которой $r = 9$ Ом, помещена в замкнутый сосуд. Сосуд содержит идеальный одноатомный газ, который занимает объем $V = 6$ л. В течение времени $\tau = 1$ мин по спирали пропускали постоянный ток, после чего давление возросло на величину $\Delta p = 6 \cdot 10^4$ Па. Найти силу тока I .

Решение. По закону Джоуля — Ленца, количество теплоты, выделяющееся в спирали за время τ , равно $Q = I^2r\tau$. Эта теплота идет на нагрев газа, происходящий при постоянном объеме: $Q = \frac{3}{2}\nu R\Delta T$, где ν — количество газа, R — универсальная газовая постоянная, ΔT — изменение температуры газа. Из уравнения изохорного процесса следует, что $\Delta p \cdot V = \nu R\Delta T$. Объединяя записанные выражения, получаем: $I = \sqrt{\frac{3V\Delta p}{2r\tau}} = 1$ А.

$$\text{Ответ. } I = 1 \text{ А.}$$

3.2.72. Вертикально расположенный теплоизолированный сосуд содержит под теплоизолирующим поршнем идеальный одноатомный газ. В сосуде расположена нагревательная спираль сопротивлением r , соединенная через ключ с источником постоянного тока. Подводящие провода имеют пренебрежимо малое сопротивление и выведены наружу без нарушения гер-



метичности сосуда. В некоторый момент ключ замыкают и по спирали начинает течь ток силой I_0 . Найти, как будет меняться с течением времени температура T газа в сосуде после этого, если начальная температура газа T_0 , начальная высота поршня над дном сосуда h_0 , масса поршня M , площадь поршня S , атмосферное давление p_0 , ускорение свободного падения g . Трением при перемещении поршня и теплоемкостью сосуда пренебречь.

Решение. По закону Джоуля — Ленца, за время t в спирали выделяется количество теплоты $Q = I_0^2 r t$. Поскольку нагрев газа происходит при постоянном давлении, $Q = \frac{5}{2} \nu R(T - T_0)$. Из уравнения начального состояния газа $p h_0 S = \nu R T_0$, где $p = p_0 + Mg/S$, находим количество газа $\nu = \frac{(p_0 S + Mg) h_0}{R T_0}$.

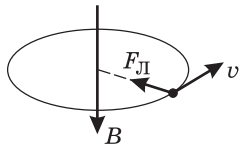
Объединяя записанные выражения, получаем: $T = T_0 \left(1 + \frac{2 I_0^2 r t}{5 (p_0 S + Mg) h_0} \right)$.

Ответ. $T = T_0 \left(1 + \frac{2 I_0^2 r t}{5 (p_0 S + Mg) h_0} \right)$.

3.3. Магнетизм

3.3.1. Свободная частица массой $m = 10^{-4}$ г, несущая заряд $q = 10^{-7}$ Кл, движется в плоскости, перпендикулярной однородному магнитному полю с индукцией $B = 1$ Тл. Найти период обращения частицы T . Силу тяжести не учитывать.

Решение. Со стороны магнитного поля на частицу действует сила Лоренца, перпендикулярная скорости частицы v и магнитной индукции B .



Под действием этой силы частица совершает движение по окружности радиусом R , описываемое уравнением

$m \frac{v^2}{R} = q v B$. Учитывая, что период обращения частицы

связан с ее скоростью и радиусом окружности соотношением $T = \frac{2\pi R}{v}$, получаем: $T = \frac{2\pi m}{qB} \approx 6,28$ с.

Ответ. $T \approx 6,28$ с.

3.3.2. Заряженная частица массой $m = 6,4 \cdot 10^{-27}$ кг влетает со скоростью $v_0 = 100$ км/с в область с постоянным и однородным магнитным полем, вектор индукции которого \vec{B} перпендикулярен \vec{v}_0 . На какой угол α отклонится вектор скорости частицы, если область, занимаемая магнитным полем, в котором движется частица, ограничена плоскостями, перпендикулярными \vec{v}_0 , расстояние между которыми $L = 10$ см? Заряд частицы $q = 3,2 \cdot 10^{-19}$ Кл, индукция магнитного поля $B = 0,01$ Тл. Силу тяжести не учитывать.

Решение. Когда частица окажется в области, занимаемой магнитным полем, на нее будет действовать сила Лоренца, направленная перпендикулярно скорости частицы. Под действием этой силы частица будет двигаться по дуге окружности, подчиняясь уравнению движения: $m \frac{v_0^2}{R} = q v_0 B$. Отсю-

да радиус дуги $R = \frac{mv_0}{qB}$. Из рисунка видно, что

угол α , на который отклонится скорость частицы, определяется соотношением между радиусом дуги R и длиной области L , занимаемой магнитным полем.

В частности, при $R > L$ $\sin \alpha = \frac{L}{R} = \frac{LqB}{mv_0}$. Если

$R \leq L$, то частица опишет в области, занимаемой полем, полуокружность, и угол $\alpha = 180^\circ$. Таким образом, ответ к задаче формулируется следующим

образом: $\alpha = 180^\circ$ при $v_0 \leq \frac{q}{m}BL$; $\alpha = \arcsin\left(\frac{q}{m} \cdot \frac{BL}{v_0}\right)$ при $v_0 > \frac{q}{m}BL$.

О т в е т. При числовых данных из условия задачи $\alpha = 30^\circ$.

3.3.3. Горизонтальные рельсы, находящиеся в вертикальном магнитном поле с индукцией $B = 0,1$ Тл, расположены на расстоянии $l = 0,5$ м друг от друга. На них лежит металлический стержень массой $m = 0,5$ кг, перпендикулярный рельсам. Какой величины ток I нужно пропустить по стержню, чтобы он начал двигаться? Коэффициент трения стержня о рельсы $\mu = 0,2$.

Р е ш е н и е. На стержень действуют силы, изображенные на рисунке, где показан вид на рассматриваемую систему сбоку. Здесь mg — модуль силы тяжести, N — модуль суммы нормальных составляющих силы реакции рельсов, F_A — модуль силы Ампера, $F_{тр}$ — модуль суммарной силы трения. Стержень придет в движение, если $F_A > F_{тр}$. Учитывая, что $F_A = IBl$, а максимальное значение силы трения покоя $F_{тр} = \mu N$,

получаем: $I > \frac{\mu mg}{Bl} = 20$ А.

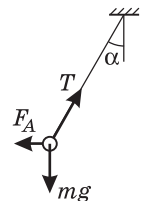
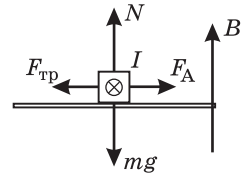
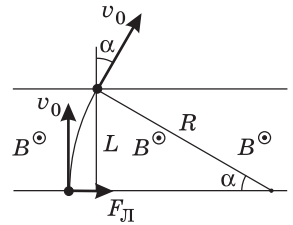
О т в е т. $I = 20$ А.

3.3.4. Подвешенный горизонтально на двух невесомых нитях прямолинейный проводник находится в однородном магнитном поле, вектор индукции которого направлен вертикально. Если по проводнику течет ток $I_1 = 1$ А, то нити отклоняются от вертикали на угол $\alpha_1 = 30^\circ$. При какой силе тока I_2 в проводнике нити отклонятся на угол $\alpha_2 = 60^\circ$?

Р е ш е н и е. Пусть масса проводника m , его длина l , модуль магнитной индукции B , ток, текущий по проводнику I . Проводник находится в равновесии под действием сил, модули и направления которых изображены на рисунке, где mg — модуль силы тяжести, T — модуль суммарной силы натяжения нитей, $F_A = IBl$ — модуль силы Ампера. В проекциях на горизонтальное и вертикальное направления условия равновесия имеют вид: $IBl = T \sin \alpha$, $mg = T \cos \alpha$. Исключая T , находим связь между током, текущим по проводнику, и углом отклонения нитей от вертикали:

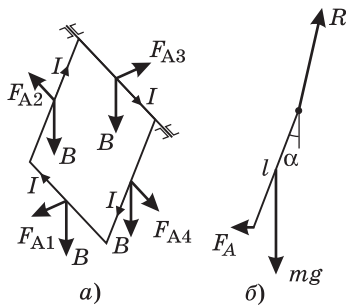
$I = \frac{mg}{Bl} \operatorname{tg} \alpha$.

О т в е т. $I_2 = I_1 \frac{\operatorname{tg} \alpha_2}{\operatorname{tg} \alpha_1} = 3$ А.



3.3.5. Квадратная проволочная рамка может свободно вращаться вокруг горизонтальной оси, совпадающей с одной из ее сторон. Рамка помещена в однородное магнитное поле с индукцией, направленной вертикально. Когда по рамке течет ток $I = 5$ А, она отклоняется от вертикальной плоскости на угол $\alpha = 30^\circ$. Определить индукцию магнитного поля B , если площадь сечения проволоки, из которой изготовлена рамка, $S = 4$ мм², а плотность материала проволоки $\rho = 8,6 \cdot 10^3$ кг/м³. Ускорение свободного падения принять $g = 10$ м/с².

Решение. Модули и направления сил, действующих на отдельные стороны рамки со стороны магнитного поля (сил Ампера $F_{A1}, F_{A2}, F_{A3}, F_{A4}$), изображены на рисунке (а). Видно, что отклонение рамки от вертикали вызывает сила F_{A1} , приложенная к нижней горизонтальной стороне рамки. Сила F_{A3} приложена к оси, на которой вращается рамка, а силы F_{A2} и F_{A4} действуют в плоскости рамки и могут вызвать только ее деформацию. Таким образом, рамка находится в равновесии под действием сил, модули и направления которых изображены на рисунке (б), где mg — модуль силы



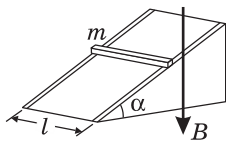
тяжести, $F_A \equiv F_{A1} = Il$ — модуль силы Ампера, R — модуль силы реакции оси. Здесь $m = 4lS\rho$ — масса рамки, l — длина одной из ее сторон. Уравнение моментов относительно оси вращения рамки имеет вид: $F_A l \cos \alpha = mg \frac{l}{2} \sin \alpha$.

Объединяя записанные выражения, получаем:

$$B = \frac{2\rho Sg}{I} \operatorname{tg} \alpha \approx 0,078 \text{ Тл.}$$

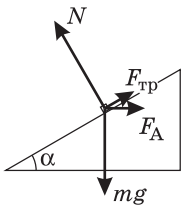
Отв е т. $B \approx 0,078$ Тл.

3.3.6. Вдоль наклонной плоскости, образующей с горизонталью угол $\alpha = 30^\circ$, проложены рельсы, по которым может скользить проводящий стержень массой $m = 1$ кг. Какой минимальной величины ток I_{\min} нужно пропустить по стержню, чтобы он оставался в покое, если вся система находится в однородном магнитном поле с индукцией $B = 0,2$ Тл, направленной вертикально? Коэффициент трения стержня о рельсы $\mu = 0,2$, расстояние между ними $l = 0,5$ м. Ускорение свободного падения принять $g = 10$ м/с².



Какой минимальной величины ток I_{\min} нужно пропустить по стержню, чтобы он оставался в покое, если вся система находится в однородном магнитном поле с индукцией $B = 0,2$ Тл, направленной вертикально? Коэффициент трения стержня о рельсы $\mu = 0,2$, расстояние между ними $l = 0,5$ м. Ускорение свободного падения принять $g = 10$ м/с².

Решение. На стержень действуют силы, изображенные на рисунке, на котором показан вид на рассматриваемую систему сбоку. Здесь mg — модуль силы тяжести, N — модуль суммы нормальных составляющих силы реакции рельсов, F_A — модуль силы Ампера, $F_{\text{тр}}$ — модуль суммарной силы трения. Заметим, что минимальное значение силы тока, при котором стержень находится в равновесии, соответствует случаю, когда сила трения покоя направлена вдоль наклонной плоскости вверх и ее величина достигла максимального значения, т. е. $F_{\text{тр}} = \mu N$. В проекциях на направление наклонной плоскости и на перпендикулярное ей направление условия равновесия имеют вид: $mg \sin \alpha =$



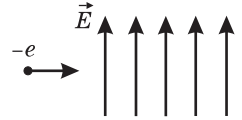
$= F_A \cos \alpha + \mu N$, $mg \cos \alpha + F_A \sin \alpha = N$. Учитывая, что $F_A = IBl$, получаем:

$$I_{\min} = \frac{mg(\sin \alpha - \mu \cos \alpha)}{Bl(\mu \sin \alpha + \cos \alpha)} \approx 33,2 \text{ А.}$$

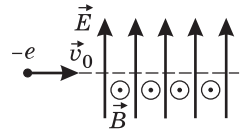
О т в е т. $I_{\min} \approx 33,2 \text{ А.}$

Дополнительные задачи

3.3.7. Электрон влетает в область пространства с однородным электрическим полем напряженностью \vec{E} перпендикулярно силовым линиям ($E = 6 \cdot 10^4 \text{ В/м}$). Определить величину и направление вектора индукции магнитного поля \vec{B} , которое надо создать в этой области пространства для того, чтобы электрон пролетел ее, не отклоняясь от первоначального направления. Кинетическая энергия электрона $E_k = 1,6 \cdot 10^{-16} \text{ Дж}$, масса электрона $m = 9 \cdot 10^{-31} \text{ кг}$. Силой тяжести пренебречь.



Р е ш е н и е. В однородном электрическом поле напряженностью \vec{E} электрон будет двигаться под действием кулоновской силы $\vec{F}_k = -|e|\vec{E}$ по параболической траектории (здесь $|e|$ — абсолютная величина заряда электрона). Для того чтобы электрон двигался прямолинейно, нужно создать такое однородное магнитное поле, в котором действующая на электрон сила Лоренца \vec{F}_L в каждой точке его траектории была бы равна кулоновской силе по величине и противоположна ей по направлению, т. е. $\vec{F}_L = -\vec{F}_k$. Модуль силы Лоренца $F_L = |e|v_0 B_{\perp}$, ее направление определяется правилом левой руки. Здесь v_0 — скорость электрона, B_{\perp} — модуль составляющей вектора магнитной индукции, перпендикулярной скорости. Очевидно, что сила Лоренца будет направлена против кулоновской силы в том случае, если магнитная индукция направлена перпендикулярно начальной скорости электрона и напряженности электрического поля. Применяя правило левой руки с учетом того, что заряд электрона отрицателен, находим, что вектор магнитной индукции \vec{B} должен быть перпендикулярным плоскости рисунка, и направлен на нас.



Составляя равенство $|e|E = |e|v_0 B$ и учитывая, что $v_0 = \sqrt{2E_k / m}$, получа-

$$\text{ем: } B = E \sqrt{\frac{m}{2E_k}} \approx 3,2 \cdot 10^{-5} \text{ Тл.}$$

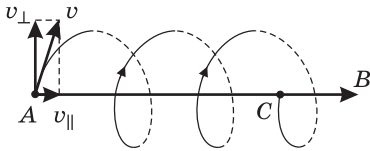
О т в е т. $B \approx 3,2 \cdot 10^{-5} \text{ Тл.}$

3.3.8. Электрон движется в однородном магнитном поле с индукцией B . В точке A он имеет скорость v , вектор которой составляет с вектором магнитной индукции угол α . При какой величине магнитной индукции B электрон попадет при своем движении в точку C , находящуюся на одной силовой линии с точкой A ? Расстояние $AC = L$, модуль заряда электрона e , его масса m .



Решение. Траектория электрона представляет собой винтовую линию (см. рисунок). Компонента скорости $v_{\parallel} = v \cos \alpha$, параллельная магнитному полю, постоянна. В плоскости, перпендикулярной магнитному полю, электрон движется по окружности радиуса R в соответствии с уравнением

$$\frac{mv_{\perp}^2}{R} = ev_{\perp}B, \text{ где } v_{\perp} = v \sin \alpha \text{ — перпендикулярная магнитному полю составляющая скорости.}$$



Период обращения электрона $T = \frac{2\pi R}{v_{\perp}} = \frac{2\pi m}{eB}$. Для того чтобы электрон попал в точку C , он должен за время $\tau = \frac{L}{v_{\parallel}}$ совершить целое число k полных оборотов, т. е. $\tau = kT$, $k = 1, 2, \dots$. Из равенства $\frac{L}{v \cos \alpha} = k \frac{2\pi m}{eB}$ получаем:

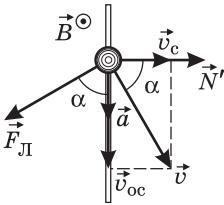
$$B = 2\pi k \frac{mv \cos \alpha}{eL}, \quad k = 1, 2, \dots$$

Ответ. $B = 2\pi k \frac{mv \cos \alpha}{eL}, \quad k = 1, 2, \dots$

3.3.9. Заряженная бусинка массой $m = 1$ г надета на гладкий горизонтальный стержень, который движется с горизонтальной скоростью $v_c = 1$ м/с, направленной перпендикулярно стержню. Вся система находится в однородном постоянном магнитном поле, индукция которого направлена вертикально. В некоторый момент времени скорость бусинки относительно стержня составляет $v_{oc} = 2$ м/с, а ее ускорение равно $a = 3$ м/с². С какой силой N действует бусинка на стержень в этот момент времени? Силу тяжести не учитывать, трением бусинки о стержень пренебречь.

Решение. Вид сверху на стержень и бусинку изображен на рисунке.

Согласно закону сложения скоростей, скорость бусинки \vec{v} в неподвижной системе отсчета равна $\vec{v} = \vec{v}_c + \vec{v}_{oc}$. На бусинку действуют



сила Лоренца \vec{F}_L и сила реакции стержня \vec{N}' . Сила Лоренца направлена горизонтально и перпендикулярно вектору \vec{v} ; величина этой силы $F_L = qvB$. Сила реакции перпендикулярна стержню, так как трением между бусинкой и стержнем по условию можно пренебречь. Проекции уравнения движения бусинки на касательное и нормальное стержню направления имеют

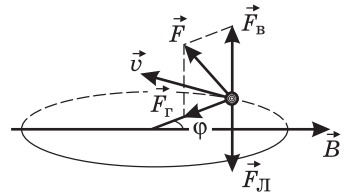
вид: $F_L \sin \alpha - N' = 0, \quad ma = F_L \cos \alpha$. Отсюда $N' = ma \operatorname{tg} \alpha$, где $\operatorname{tg} \alpha = \frac{v_{oc}}{v_c}$.

По третьему закону Ньютона, сила, с которой бусинка действует на стержень (на рисунке не показана), равна по величине силе реакции стержня: $N = N'$.

Ответ. $N = ma \frac{v_{oc}}{v_c} = 6 \cdot 10^{-3}$ Н.

3.3.10. Горизонтально расположенный стержень равномерно вращается вокруг вертикальной оси, проходящей через один из его концов, с угловой скоростью ω . На другом конце стержня закреплен маленький шарик массой m , несущий заряд q . Вся система находится в однородном постоянном магнитном поле, индукция которого \vec{B} направлена горизонтально. Найти максимальное значение F_{\max} силы F , с которой стержень действует на шарик в процессе движения, если известно, что минимальное значение силы F равно F_{\min} . Силу тяжести не учитывать, размером шарика по сравнению с длиной стержня пренебречь.

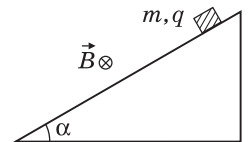
Решение. Силы, действующие на шарик в некоторой точке его траектории, изображены на рисунке. Здесь через \vec{F} обозначена сила реакции стержня, а через $\vec{F}_{\text{Л}}$ — сила Лоренца, направленная перпендикулярно скорости стержня и вектору магнитной индукции, т. е. вертикально. Силу \vec{F} удобно разложить на горизонтальную и вертикальную составляющие: $\vec{F} = \vec{F}_r + \vec{F}_b$, тогда $F = \sqrt{F_r^2 + F_b^2}$. Проекция уравнения движения шарика на горизонтальное и вертикальное направления имеют вид: $m\omega^2 l = F_r$, $F_b = F_{\text{Л}} = qvB \cos \varphi$, где $v = \omega l$ — скорость шарика, l — длина стержня, φ — угол между стержнем и вектором \vec{B} . Отсюда $F = \sqrt{(m\omega^2 l)^2 + (q\omega l B \cos \varphi)^2}$. Минимальное значение этой силы достигается при $\varphi = 90^\circ$, $\varphi = 270^\circ$, максимальное — при $\varphi = 0$, $\varphi = 180^\circ$. Следовательно, $F_{\min} = m\omega^2 l$, $F_{\max} = \sqrt{(m\omega^2 l)^2 + (q\omega l B)^2}$. Из этих равенств



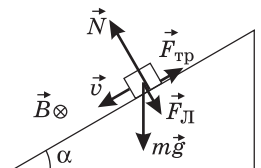
находим: $F_{\max} = F_{\min} \sqrt{1 + \left(\frac{qB}{m\omega}\right)^2}$.

Ответ. $F_{\max} = F_{\min} \sqrt{1 + \left(\frac{qB}{m\omega}\right)^2}$.

3.3.11. Небольшой брусок массой m , несущий положительный заряд q , удерживают на наклонной плоскости, образующей угол α с горизонталью. Система находится в однородном магнитном поле с индукцией \vec{B} , направленной перпендикулярно плоскости рисунка от нас. Брусок отпускают без начальной скорости. Чему равна максимальная скорость бруска v_{\max} , если коэффициент трения между бруском и наклонной плоскостью μ ? Ускорение свободного падения g .



Решение. Брусок движется под действием сил, изображенных на рисунке, где $m\vec{g}$ — сила тяжести, \vec{N} — нормальная составляющая силы реакции поверхности, $\vec{F}_{\text{тр}}$ — сила трения ($F_{\text{тр}} = \mu N$), $\vec{F}_{\text{Л}}$ — сила Лоренца ($F_{\text{Л}} = qvB$, v — скорость бруска). Записывая уравнение движения бруска в проекциях на направле-



ние наклонной плоскости и на перпендикулярное ей направление, имеем: $ma = mg \sin \alpha - \mu N$, $N = mg \cos \alpha + qvB$. С увеличением скорости бруска сила трения возрастает, что приводит к уменьшению ускорения. При достижении максимальной скорости ускорение бруска обращается в нуль. Полагая $a = 0$, находим v_{\max} .

$$\text{О т в е т. } v_{\max} = \frac{mg}{\mu q B} (\sin \alpha - \mu \cos \alpha).$$

3.3.12. Свободная заряженная частица движется в однородном магнитном поле с индукцией B по окружности радиусом R . В некоторый момент времени включают однородное электрическое поле, напряженность E которого направлена параллельно магнитной индукции. Через какое время Δt после включения электрического поля кинетическая энергия частицы увеличится в $n = 2$ раза? Силу тяжести не учитывать.

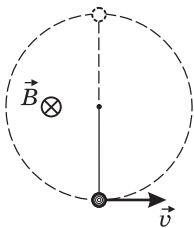
Р е ш е н и е. Уравнение движения частицы по окружности в однородном магнитном поле имеет вид: $\frac{mv_0^2}{R} = qv_0B$, где m — масса, q — заряд, v_0 — скорость частицы. Отсюда $v_0 = \frac{qBR}{m}$. Таким образом, кинетическая энергия частицы до включения электрического поля $E_0 = \frac{mv_0^2}{2} = \frac{(qBR)^2}{2m}$. После

включения электрического поля частица за время Δt приобретет в направлении поля скорость $v_1 = \frac{qE}{m}\Delta t$ и кинетическая энергия частицы станет равной $E_1 = \frac{m(v_0^2 + v_1^2)}{2} = \frac{(qBR)^2}{2m} + \frac{(qE\Delta t)^2}{2m}$. По условию $E_1 = nE_0$. Объединяя за-

писанные выражения, получаем: $\Delta t = \sqrt{n-1} \cdot \frac{BR}{E}$.

$$\text{О т в е т. } \Delta t = \sqrt{n-1} \cdot \frac{BR}{E}.$$

3.3.13. Маленький шарик массой m , несущий положительный заряд q , подвешен на нити длиной l и помещен в однородное магнитное поле с ин-



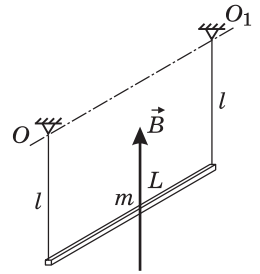
дукцией \vec{B} , направленной горизонтально от нас. Сообщив шарикую некоторую скорость, направление которой показано на рисунке, его приводят в движение по окружности в вертикальной плоскости, перпендикулярной магнитному полю и совпадающей с плоскостью рисунка. При какой минимальной скорости v_{\min} шарика в нижней точке он сможет совершить полный оборот?

Р е ш е н и е. Учитывая направления магнитной индукции и начальной скорости частицы, с помощью правила левой руки находим, что сила Лоренца, действующая на шарик, во всех точках его траектории направлена к центру окружности. По второму закону Ньютона, записанному для верхней точки траектории шарика, имеем

$\frac{mv_B^2}{l} = mg + T + qv_B B$, где T — натяжение нити, v_B — модуль скорости шарика в верхней точке траектории. Уравнение движения шарика можно рассматривать как квадратное уравнение относительно v_B . Положительный корень этого уравнения равен: $v_B = \frac{qBl}{2m} + \sqrt{\left(\frac{qBl}{2m}\right)^2 + gl + \frac{Tl}{m}}$. (Отрицательный корень не имеет физического смысла.) Отметим, что скорость шарика v в нижней точке траектории минимальна, если в верхней точке натяжение нити обращается в нуль. Магнитное поле работы не совершает, так как сила Лоренца перпендикулярна скорости шарика. Работа силы натяжения нити также равна нулю. Поэтому механическая энергия шарика сохраняется. Закон сохранения энергии дает соотношение: $\frac{mv^2}{2} = \frac{mv_B^2}{2} + 2mgl$. Подставляя сюда найденное выше v_B и полагая $T = 0$, находим v_{\min} .

$$\text{О т в е т. } v_{\min} = \left[5gl + \frac{q^2 B^2 l^2}{2m^2} \left(1 + \sqrt{1 + \frac{4m^2 g}{q^2 B^2 l}} \right) \right]^{1/2}.$$

3.3.14. Металлический стержень массой m и длиной L подвешен горизонтально на двух невесомых гибких проводниках длиной l каждый. Стержень находится в однородном магнитном поле, индукция \vec{B} которого направлена вертикально. По стержню пропускают кратковременный импульс постоянного тока силой I_0 и длительностью τ . При каком минимальном значении I_0 стержень совершит полный оборот, двигаясь по окружности вокруг оси OO_1 , проходящей через точки подвеса? Считать, что смещение стержня за время τ ничтожно мало.



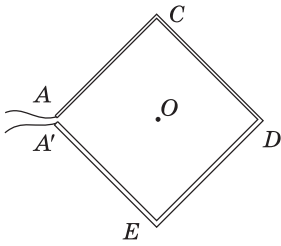
Р е ш е н и е. Импульс силы Ампера за время τ равен $I_0 BL\tau$. По второму закону Ньютона $mv_0 = I_0 BL\tau$, откуда скорость, которую приобретает стержень по окончании

импульса тока, $v_0 = \frac{I_0 BL\tau}{m}$. Уравнение движения стержня по окружности в верхней точке траектории имеет вид: $\frac{mv^2}{l} = mg + T$, где T — суммарное

натяжение нитей. Скорость стержня v в верхней точке минимальна, если $T = 0$. Следовательно, $v^2 = gl$. Из закона сохранения энергии вытекает равенство: $\frac{mv_0^2}{2} = 2mgl + \frac{mv^2}{2} = \frac{5}{2}mgl$. Отсюда $v_0 = \sqrt{5gl}$. Объединяя записанные выражения, находим I_0 .

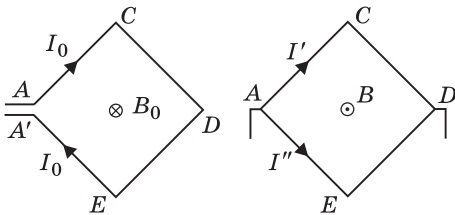
$$\text{О т в е т. } I_0 = \frac{m\sqrt{5gl}}{BL\tau}.$$

3.3.15. Из двух кусков медной проволоки одинаковой длины и разного поперечного сечения изготовлен квадрат $ACDEA'$, разомкнутый в одной



из вершин (концы проволок обозначены точками A и A' на рисунке). Площадь сечения проволоки на участке ACD вдвое меньше, чем на участке DEA' . Когда к точкам A и A' подключили источник постоянного тока, оказалось, что магнитная индукция в центре квадрата равна B_0 . Какова будет магнитная индукция B в центре квадрата, если соединить между собой точки A и A' и тот же источник подключить к вершинам A и D ? Внутренним сопротивлением источника пренебречь. Расстояние между точками A и A' считать малым.

Решение. Пусть ρ — удельное сопротивление меди, S — площадь сечения тонкой проволоки, l — сторона квадрата. Сопротивление контура при его подключении к точкам A и A' равно $R_0 = \rho \frac{2l}{S} + \rho \frac{2l}{2S} = \rho \frac{3l}{S}$. Магнитная индукция B_0 в центре квадрата создается током $I_0 = \frac{U}{R_0}$, текущим по четырем



проводникам одинаковой длины. Обозначив через B_1 величину индукции, создаваемой в точке O током I_0 , текущим в одном отрезке, имеем $B_0 = 4B_1$. При подключении источника к точкам A и D образуется цепь параллельно соединенных ветвей с сопротивлениями

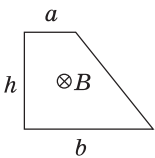
$$R' = \rho \frac{2l}{S} = \frac{2}{3}R_0 \quad \text{и} \quad R'' = \rho \frac{2l}{2S} = \frac{1}{3}R_0.$$

По верхнему участку цепи течет ток $I' = \frac{U}{R'} = \frac{3}{2}I_0$. Магнитная индукция, создаваемая этим током в центре квадрата, равна $B' = 2 \cdot \frac{3}{2}B_1 = 3B_1$. Ток в нижней ветви $I'' = \frac{U}{R''} = 3I_0$ создает в центре квадрата индукцию $B'' = 2 \cdot 3B_1 = 6B_1$, направленную противоположно B' . Таким образом, $B = |B' - B''| = 3B_1 = \frac{3}{4}B_0$.

О т в е т. $B = \frac{3}{4}B_0$.

3.4. Электромагнитная индукция

3.4.1. Замкнутый проводник в виде прямоугольной трапеции находится в магнитном поле с индукцией $B = 6 \cdot 10^{-2}$ Тл, направленной перпендикулярно плоскости трапеции от нас. Сопротивление единицы длины проводника $\rho = 0,023$ Ом/м. Найти величину и направление тока I , текущего в проводнике при равномерном уменьшении поля до нуля в течение $\tau = 3$ с. Размеры отрезков проводника $a = 0,2$ м, $b = 0,5$ м, $h = 0,4$ м.



Решение. Для определения направления ЭДС индукции выберем нормаль к плоскости контура, совпадающую по направлению с магнитным полем (от нас). Тогда магнитный поток через контур будет положительным. Выбранной нормали соответствует направление обхода контура по часовой стрелке. Поскольку поле убывает со временем, изменение магнитного потока отрицательно: $\Delta\Phi < 0$. Из закона электромагнитной индукции $\mathcal{E} = -\frac{\Delta\Phi}{\Delta t}$ вытекает, что ЭДС индукции положительна, т. е. направлена по часовой стрелке. Так же будет направлен и индукционный ток. Величина тока определяется

отношением ЭДС индукции $\mathcal{E} = \frac{BS}{\tau}$ к сопротивлению проводника $R = \rho P$. Здесь $S = \frac{(a+b)h}{2}$ — площадь трапеции, а $P = a + b + h + \sqrt{h^2 + (b-a)^2}$ — ее периметр. Окончательно получаем: $I = \frac{B(a+b)h}{2\rho\tau(a+b+h+\sqrt{h^2+(a-b)^2})} = 76 \text{ мА}$.

Ответ. $I = 76 \text{ мА}$. Ток течет по часовой стрелке.

3.4.2. Кольцо радиуса $r = 1 \text{ м}$, сделанное из тонкой проволоки, находится в однородном магнитном поле, индукция которого увеличивается пропорционально времени t по закону $B = kt$. Определить мощность N , выделяющуюся в кольце, если известно, что сопротивление кольца равно $R = 1 \text{ Ом}$, вектор индукции \vec{B} составляет с нормалью к плоскости кольца угол $\alpha = 60^\circ$, $k = 1 \text{ Тл/с}$.

Решение. Магнитный поток через площадь, ограниченную контуром, $\Phi = BS \cos \alpha = kt \cdot \pi r^2 \cos \alpha$. Величина ЭДС индукции, возникающей в кольце,

$$\mathcal{E} = \frac{\Delta\Phi}{\Delta t} = \pi r^2 k \cos \alpha. \text{ Выделяющаяся в кольце мощность } N = \frac{\mathcal{E}^2}{R}.$$

$$\text{Ответ. } N = \frac{\pi^2 r^4}{R} k^2 \cos^2 \alpha \approx 2,5 \text{ Вт}.$$

3.4.3. Катушка из n одинаковых витков площадью S каждый присоединена к баллистическому гальванометру. Вначале катушка находилась между полюсами магнита в однородном магнитном поле с индукцией B , параллельной оси катушки. Затем катушку переместили в пространство, где магнитное поле отсутствует. Какое количество электричества q протекло через гальванометр? Сопротивление всей цепи R .

Решение. Магнитный поток, пронизывающий катушку в начальный момент, равен $\Phi = nSB$. Пусть катушка удаляется из магнитного поля за время Δt . Поскольку изменение магнитного потока за это время $\Delta\Phi = \Phi$, величина ЭДС индукции $\mathcal{E} = \frac{\Delta\Phi}{\Delta t} = \frac{nSB}{\Delta t}$. Ток в цепи $I = \frac{\mathcal{E}}{R}$, протекший за время Δt

заряд $q = I\Delta t = \frac{BSn}{R}$. Это количество электричества и будет зарегистрировано баллистическим гальванометром, который измеряет прошедший через него заряд.

$$\text{Ответ. } q = \frac{BSn}{R}.$$

3.4.4. При равномерном изменении силы тока через проволочную катушку в ней возникает ЭДС самоиндукции $\mathcal{E} = 10$ В. Катушка содержит $N = 1000$ витков. Какой заряд q протечет за время $\Delta t = 0,05$ с через замкнутый проволочный виток, надетый на катушку так, что его плоскость перпендикулярна оси катушки? Сопротивление витка $R = 0,2$ Ом.

Решение. Величина ЭДС самоиндукции равна $\mathcal{E} = L \frac{\Delta I}{\Delta t}$, где L — индуктивность катушки. Поскольку L пропорциональна числу витков катушки, индуктивность одного витка $L_1 = L/N$. Поэтому индукционный ток в витке $I_1 = \frac{\mathcal{E}}{NR}$. Заряд, протекший через виток за время Δt , равен $q = I_1 \Delta t = \frac{\mathcal{E} \Delta t}{NR} = 2,5 \cdot 10^{-3}$ Кл.

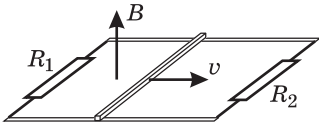
Ответ. $q = 2,5 \cdot 10^{-3}$ Кл.

3.4.5. Катушку индуктивностью $L = 0,3$ Гн подключают к источнику с ЭДС $\mathcal{E} = 1,5$ В. Через какой промежуток времени Δt сила тока в цепи будет равна $I = 5$ А? Омическим сопротивлением катушки и внутренним сопротивлением источника пренебречь.

Решение. Поскольку омическое сопротивление катушки и внутреннее сопротивление источника по условию пренебрежимо малы, падения напряжения на них можно принять равными нулю. Следовательно, ЭДС индукции в катушке в каждый момент времени совпадает по величине с ЭДС источника: $L \frac{\Delta I}{\Delta t} = \mathcal{E}$. По условию, $\Delta I = I$.

Ответ. $\Delta t = \frac{IL}{\mathcal{E}} = 1$ с.

3.4.6. По двум параллельным проводам движется проводящий стержень со скоростью $v = 20$ см/с, направленной вдоль проводов. Между концами проводов включены резисторы $R_1 = 2$ Ом и $R_2 = 4$ Ом. Расстояние между проводами $d = 10$ см. Провода помещены в однородное магнитное поле, индукция которого $B = 10$ Тл перпендикулярна плоскости, проходящей через провода. Найти силу тока I , текущего по стержню. Сопротивлением проводов, стержня и контактов между ними пренебречь.

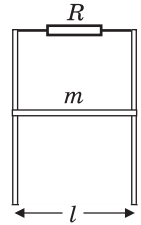


Решение. При движении в магнитном поле проводящего стержня в нем возникает ЭДС индукции $\mathcal{E} = Bvd$. В левом и правом контурах, образованных стержнем и неподвижными проводниками, текут токи $I_1 = \frac{\mathcal{E}}{R_1}$

и $I_2 = \frac{\mathcal{E}}{R_2}$. Ток, текущий по стержню, $I = I_1 + I_2$.

Ответ. $I = Bvd \left(\frac{1}{R_1} + \frac{1}{R_2} \right) = 0,15$ А.

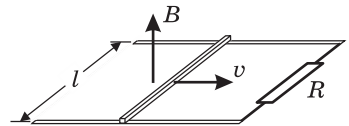
3.4.7. По двум вертикальным проводящим рейкам (см. рисунок), находящимся на расстоянии l и соединенным резистором с сопротивлением R , под действием силы тяжести начинает скользить проводник, длина которого l и масса m . Система находится в однородном магнитном поле, индукция которого B перпендикулярна плоскости рисунка. Какова установившаяся скорость v движения проводника, если сопротивлением самого проводника и реек, а также трением можно пренебречь? Ускорение свободного падения g .



Решение. Предоставленный самому себе проводник начнет под действием силы тяжести двигаться вниз. В результате этого будет изменяться магнитный поток через контур, образованный рейками, резистором и проводником, и, как следствие, возникнут ЭДС индукции и индукционный ток I в контуре. Этот ток, протекая по подвижному проводнику, вызовет появление силы Ампера F_A , которая, как нетрудно убедиться, будет направлена против скорости проводника. Таким образом, уравнение движения проводника запишется следующим образом: $ma = mg - F_A$. Учитывая, что $F_A = IBl$, а $I = \frac{\mathcal{E}}{R}$, где $\mathcal{E} = Bvl$ — ЭДС индукции, находим, что величина силы Ампера пропорциональна скорости проводника v , т. е. $F_A = \frac{B^2 l^2}{R} v$. Движение проводника установится, т. е. ускорение проводника a обратится в нуль, когда сила Ампера сравняется по величине с силой тяжести. Отсюда находим скорость установившегося движения.

$$\text{Ответ. } v = \frac{mgR}{B^2 l^2}.$$

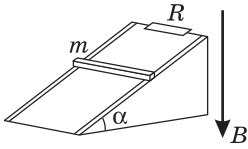
3.4.8. Параллельные проводящие шины, расположенные в горизонтальной плоскости на расстоянии l друг от друга, замкнуты на резистор сопротивлением R и помещены в однородное постоянное магнитное поле, вектор индукции которого направлен вертикально вверх. По шинам без трения может перемещаться проводящий стержень, сохраняя постоянно контакт с шинами. Найти величину и направление силы \vec{F} , которую нужно приложить к стержню, чтобы он двигался вдоль шин поступательно с постоянной скоростью \vec{v} . Сопротивлением шин и стержня, а также трением пренебречь. При расчетах положить: $R = 100$ Ом, $B = 2$ Тл, $v = 0,1$ м/с, $l = 20$ см.



Решение. При движении проводящего стержня в магнитном поле в стержне возникает ЭДС индукции $\mathcal{E} = Bvl$, которая вызывает в контуре индукционный ток $I = \frac{\mathcal{E}}{R}$. Этот ток, протекая по подвижному стержню, приводит к появлению силы Ампера $F_A = IBl$, которая, как нетрудно убедиться, направлена против скорости стержня. Поскольку стержень движется равномерно, $\vec{F} + \vec{F}_A = 0$.

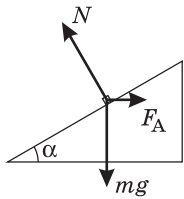
$$\text{Ответ. } \vec{F} = \frac{\vec{v}}{v} F, \quad F = \frac{B^2 l^2 v}{R} = 1,6 \cdot 10^{-4} \text{ Н.}$$

3.4.9. По параллельным рельсам, наклоненным под углом $\alpha = 30^\circ$ к горизонту, соскальзывает без трения проводящий брусок массой $m = 100$ г. В верхней части рельсы замкнуты резистором с сопротивлением $R = 20$ Ом.



Вся система находится в однородном магнитном поле, направленном вертикально. Чему равна сила тока I , текущего по бруску, если известно, что он движется с постоянной скоростью $v = 1$ м/с? Сопротивлением бруска и рельсов пренебречь, ускорение свободного падения принять $g = 10$ м/с².

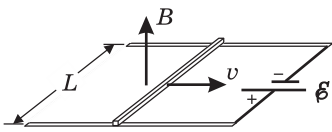
Решение. Предоставленный самому себе брусок будет соскальзывать по наклонным рельсам вниз. При движении бруска в нем возникнет ЭДС индукции $\mathcal{E} = Bvl \cos \alpha$, которая вызовет в контуре индукционный ток $I = \frac{\mathcal{E}}{R}$.



Этот ток, протекая по бруску, приведет к появлению силы Ампера $F_A = IBl$, которая направлена горизонтально в сторону, противоположную скорости бруска. При равномерном движении бруска сумма сил, действующих на него (см. рисунок), равна нулю. В проекции на направление рельсов имеем: $mg \sin \alpha = IBl \cos \alpha$. Исключая из записанных равенств B , находим: $I = \sqrt{\frac{mgv \sin \alpha}{R}} \approx 0,16$ А.

Ответ. $I \approx 0,16$ А.

3.4.10. В магнитном поле с индукцией $B = 1$ Тл, направленной вертикально вверх, по горизонтальным рельсам равномерно движется проводящий стержень длиной $L = 0,4$ м со скоростью $v = 5$ м/с. Концы рельсов присоединены к батарее с ЭДС $\mathcal{E} = 10,1$ В и внутренним сопротивлением $r = 0,1$ Ом. Какое количество теплоты Q выделится в стержне за время $\tau = 10$ с, если его сопротивление $R = 10$ Ом? Сопротивлением рельсов и соединительных проводов пренебречь.



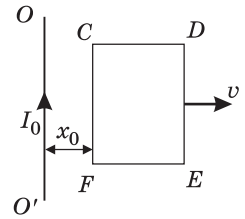
Решение. При движении стержня возникает ЭДС индукции $\mathcal{E}_{\text{инд}} = Bvl$, направление которой, как нетрудно убедиться, при конкретных условиях задачи противоположно направлению ЭДС источника. По закону Ома для полной цепи, индукционный ток $I = \frac{\mathcal{E} - Bvl}{R + r}$. Количество теплоты, выделяющееся в стержне за время τ , равно $Q = I^2 R \tau$. Объединяя записанные выражения, получаем: $Q = \left(\frac{\mathcal{E} - Bvl}{R + r} \right)^2 R \tau \approx 64$ Дж.

Ответ. $Q \approx 64$ Дж.

3.4.11. Прямоугольный контур $CDEF$ перемещается поступательно с постоянной скоростью v в магнитном поле тока I_0 , текущего по длинному прямому проводу OO' . Стороны CF и DE параллельны проводу. Определить величину и направление тока, индуцированного в контуре в тот момент, когда

сторона CF находится на расстоянии x_0 от провода. Длины отрезков $CF = DE = a$, $CD = EF = b$. Сопротивление контура равно R .

Решение. Линии магнитной индукции, создаваемой током I_0 , текущим в проводе OO' , представляют собой концентрические окружности, охватывающие этот провод. Следовательно, магнитная индукция перпендикулярна плоскости контура и в занимаемой им области направлена от нас.



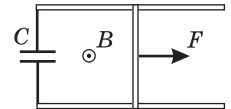
Величина магнитной индукции в окрестности отрезков контура CF и DE равна, соответственно: $B_{CF} = \frac{\mu_0 I_0}{2\pi x_0}$, $B_{DE} = \frac{\mu_0 I_0}{2\pi(x_0 + b)}$. При

движении контура со скоростью v на концах отрезков CF и DE возникает ЭДС индукции, обусловленная действием силы Лоренца на свободные заряды в движущихся проводниках. Направления сил Лоренца в обоих отрезках одинаковы: от F к C и от E к D , а величины создаваемых ими ЭДС индукции различны: $\mathcal{E}_{CF} = B_{CF}vl = \frac{\mu_0 I_0 vl}{2\pi x_0}$, $\mathcal{E}_{DE} = B_{DE}vl = \frac{\mu_0 I_0 vl}{2\pi(x_0 + b)}$. Очевидно, что

$\mathcal{E}_{CF} > \mathcal{E}_{DE}$, поэтому суммарная работа сил Лоренца положительна при обходе контура по часовой стрелке. В этом же направлении будет течь индукционный ток, величина которого $I = \frac{\mathcal{E}_{CF} - \mathcal{E}_{DE}}{R}$. Отсюда находим искомый ток.

$$\text{О т в е т. } I = \frac{\mu_0 ab I_0 v}{2\pi x_0(x_0 + b)R}.$$

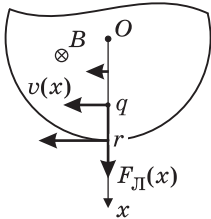
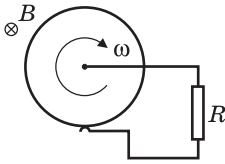
3.4.12. По двум металлическим параллельным рейкам, расположенным в горизонтальной плоскости и замкнутым на конденсатор емкостью C , может без трения двигаться металлический стержень массой m и длиной l . Вся система находится в однородном магнитном поле с индукцией B , направленной вертикально вверх. К середине стержня перпендикулярно ему и параллельно рейкам приложена сила F . Определить ускорение a стержня. Сопротивлением реек, стержня и подводящих проводов пренебречь. В начальный момент скорость стержня равна нулю.



Решение. При движении стержня в контуре возникает ЭДС индукции \mathcal{E} , которая в каждый момент времени равна напряжению на конденсаторе q/C , где q — заряд конденсатора. Индукционный ток I в контуре, с одной стороны, заряжает конденсатор, с другой — приводит к появлению силы Ампера, действующей на стержень в направлении, противоположном силе F . Следовательно, уравнение движения стержня (второй закон Ньютона) имеет вид: $ma = F - F_A = F - IBl$. Поскольку $\mathcal{E} = Bvl = q/C$, ток в контуре $I = \dot{q} = B\dot{v}lC = BalC$. Здесь точкой обозначена производная по времени и учтено, что ускорение проводника $a = \dot{v}$. Объединяя записанные выражения, получаем a .

$$\text{О т в е т. } a = \frac{F}{m + B^2 l^2 C}.$$

3.4.13. Металлический диск радиуса $r = 10$ см, расположенный перпендикулярно силовым линиям однородного магнитного поля с индукцией $B = 1$ Тл, вращается вокруг оси, проходящей через его центр, с угловой скоростью $\omega = 628$ рад/с. Два скользящих контакта, один на оси диска, другой — на краю, соединяют диск с резистором сопротивлением $R = 5$ Ом. Какая мощность N выделяется на резисторе? Сопротивлением диска и соединительных проводов пренебречь.



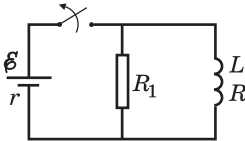
Решение. Свободные заряды, находящиеся во вращающемся металлическом диске, движутся по окружностям. Линейная скорость заряда q , располагающегося на расстоянии x от центра диска (точки O), $v(x) = \omega x$; сила Лоренца, действующая на него, $F_L(x) = q\omega x B$. Поскольку эта сила линейно зависит от координаты, ее работа по перемещению заряда от центра диска до его края

$$A = \frac{1}{2}(F_L(0) + F_L(r)) = \frac{q\omega B r^2}{2}. \text{ Следовательно, ЭДС индукции, возникающая между центром и краем диска,}$$

$$\mathcal{E} = \frac{A}{q} = \frac{\omega B r^2}{2}. \text{ Мощность, выделяющаяся на резисторе, } N = \frac{\mathcal{E}^2}{R}.$$

Ответ. $N = \frac{\omega^2 B^2 r^4}{4R} \approx 1,96$ Вт.

3.4.14. Катушка индуктивностью $L = 0,4$ Гн с сопротивлением обмотки $R = 2$ Ом подключена параллельно с резистором сопротивлением $R_1 = 8$ Ом к источнику с ЭДС $\mathcal{E} = 6$ В и внутренним сопротивлением $r = 0,2$ Ом. Какое количество теплоты Q выделится в резисторе R_1 после отключения источника?



Решение. При замкнутом ключе через источник течет ток $I = \frac{\mathcal{E}}{r + RR_1 / (R + R_1)} = \frac{\mathcal{E}(R + R_1)}{rR + rR_1 + RR_1}$. Этот ток

разветвляется на два тока: I_L и I_R , протекающих соответственно через катушку и резистор R_1 и удовлетворяющих системе уравнений: $I_L + I_R = I$,

$$I_L R = I_R R_1. \text{ Отсюда } I_L = I \frac{R_1}{R + R_1} = \frac{\mathcal{E} R_1}{rR + rR_1 + RR_1}. \text{ После отключения источ-$$

ника (размыкания ключа) возникающая в катушке ЭДС самоиндукции $\mathcal{E}_{\text{инд}}$ будет какое-то время поддерживать в цепи, образованной катушкой и резистором R_1 , ток $I_1 = \frac{\mathcal{E}_{\text{инд}}}{R + R_1}$. При этом полная мощность $N = I_1^2 (R + R_1)$, выделяющаяся в этой цепи, распределится между катушкой и резистором пропорционально их сопротивлениям: $N_L = I_1^2 R$, $N_R = I_1^2 R_1$. Следовательно, мощность, выделяющаяся на резисторе, составляет от полной мощности, выделяющейся в этой цепи, следующую долю: $N_R = N \frac{R_1}{R + R_1}$. Поскольку

выделяющейся в этой цепи, следующую долю: $N_R = N \frac{R_1}{R + R_1}$. Поскольку

данное отношение мощностей не зависит от времени, очевидно, что такую же долю составит и энергия, выделившаяся на резисторе за время существования ЭДС самоиндукции, от полной энергии, выделившейся в цепи.

В свою очередь, полная выделившаяся энергия равна энергии $LI_L^2 / 2$ магнитного поля в катушке в момент отключения источника. Таким образом, количество теплоты, выделившейся на резисторе R_1 после отключения источника, равно: $Q = \frac{LI_L^2}{2} \cdot \frac{R_1}{R + R_1}$. Подставляя в это равенство найденный ранее ток через катушку, получаем: $Q = \frac{L\mathcal{E}^2 R_1^3}{2(R + R_1)(rR + rR_1 + RR_1)^2} = 1,14$ Дж.

О т в е т. $Q = 1,14$ Дж.

Дополнительные задачи

3.4.15. Из куска однородной проволоки длиной l , сопротивление которого R , спаяна фигура в виде кольца с хордой AC , равной диаметру кольца (см. рисунок). Кольцо помещают в однородное магнитное поле, вектор индукции которого \vec{B} перпендикулярен плоскости кольца. Модуль этого вектора меняется со временем по закону $B = kt$. Найти выделяемую в проволоке мощность N .

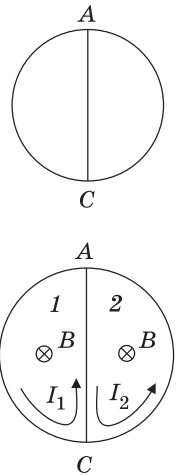
Р е ш е н и е. Пусть вектор \vec{B} направлен от нас, как показано на рисунке. При нарастании магнитного потока через каждый из контуров, образованных перемычкой (хордой AC) и соответствующей половиной кольца (контур 1, 2), индукционные токи I_1 и I_2 , возникающие в этих контурах, направлены против часовой стрелки. Из соображений симметрии ясно, что эти токи равны по величине: $I_1 = I_2 = I$. Следовательно, суммарный ток в перемычке равен нулю и тепловая мощность в ней не выделяется. Сила индукционного тока I , текущего по кольцу, согласно закону электромагнитной индукции равна $I = \frac{1}{R_k} \cdot \frac{\Delta\Phi}{\Delta t} = \frac{S_k}{R_k} \cdot \frac{\Delta B}{\Delta t} = \frac{S_k}{R_k} \cdot k$,

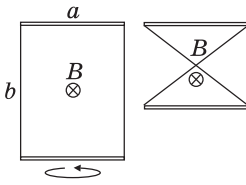
где $R_k = 2\pi r \frac{R}{l}$ — сопротивление кольца; $S_k = \pi r^2$ — площадь кольца; r — его радиус. По условию задачи, $l = 2\pi r + 2r$. Следовательно, $r = \frac{l}{2(\pi + 1)}$.

Мощность, выделяющаяся в кольце, $N = I^2 R_k$. Объединяя записанные выражения, получаем: $N = \frac{k^2 \pi l^4}{16R(\pi + 1)^3}$.

О т в е т. $N = \frac{k^2 \pi l^4}{16R(\pi + 1)^3}$.

3.4.16. Два прямых проводящих стержня соединены гибкими проводниками и образуют прямоугольный контур со сторонами $a = 30$ см и $b = 50$ см. Контур помещен в однородное магнитное поле с индукцией $B = 5 \cdot 10^{-3}$ Тл,





направленной перпендикулярно его плоскости. Какой заряд Δq протечет по контуру, если перевернуть на 180° один из стержней, оставляя гибкие проводники натянутыми и не допуская замыкания между ними? Сопротивление контура $R = 1$ Ом.

Решение. Величина заряда, протекшего по контуру, $\Delta q = \frac{\Delta\Phi}{R}$, где $\Delta\Phi$ — модуль изменения магнитного

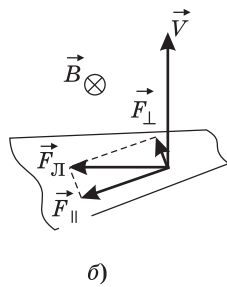
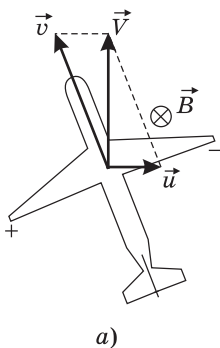
потока через контур. В начальном положении контура поток $\Phi_1 = Bab$. В конечном положении потоки через каждую половину контура одинаковы по величине и противоположны по знаку, поэтому полный поток через контур $\Phi_2 = 0$.

Ответ. $\Delta q = \frac{Bab}{R} = 7,5 \cdot 10^{-4}$ Кл.

3.4.17. Самолет летит горизонтально, держа курс строго на север при сильном западном ветре, имеющем скорость $u = 40$ м/с. Скорость самолета относительно воздуха $v = 720$ км/ч. Чему равна разность потенциалов ΔU между концами крыльев самолета, если размах крыльев составляет $L = 50$ м, а вертикальная составляющая индукции магнитного поля Земли равна $B = 5 \cdot 10^{-5}$ Тл? Ширина концов крыльев пренебрежимо мала.

Решение. По закону сложения скоростей, скорость самолета в неподвижной системе отсчета равна $\vec{V} = \vec{v} + \vec{u}$ (см. рисунок *a*). Модуль этой скорости $V = \sqrt{v^2 - u^2}$. На свободные заряды, движущиеся вместе с самолетом со скоростью \vec{V} , действует сила Лоренца, направленная перпендикулярно скорости и магнитной индукции (см. рисунок *b*) и равная по величине $F_{\perp} = qVB$. Составляющая этой силы \vec{F}_{\parallel} , параллельная крылу, перемещает положительные заряды на конец одного из крыльев, а отрицательные — на конец другого. Из рисунков *a* и *b* видно, что $\frac{F_{\parallel}}{F_{\perp}} = \frac{V}{v}$.

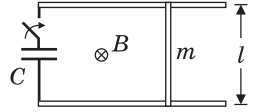
Следовательно, $F_{\parallel} = F_{\perp} \frac{V}{v} = \frac{qV^2 B}{v}$. Движение зарядов прекращается, когда F_{\parallel} уравновешивается силой $F_{\text{эл.ст.}}$, действующей со стороны электростатического поля, возникшего в крыльях:



Отсюда напряженность электростатического поля внутри крыльев $E_{\text{эл.ст.}} = \frac{qV^2 B}{v}$. Разность потенциалов между концами крыльев $\Delta U = E_{\text{эл.ст.}} L$.

Ответ. $\Delta U = BL \left(v - \frac{u^2}{v} \right) = 0,48$ В.

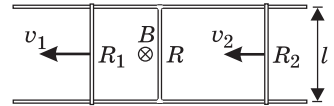
3.4.18. Металлический стержень массой m лежит на двух проводящих рейках, расположенных в горизонтальной плоскости как показано на рисунке. Рейки через ключ подсоединены к пластинам конденсатора, а вся система находится в однородном магнитном поле с индукцией B , направленной вертикально вниз. В начальный момент заряд на конденсаторе равен q_0 , ключ разомкнут, а стержень покоится. Затем ключ замыкают. Определить заряд на конденсаторе q в момент, когда скорость стержня достигнет величины v . Расстояние между рейками l . Индуктивностью цепи, а также силами трения пренебречь.



Решение. При замыкании ключа по контуру потечет ток I и на стержень начнет действовать сила Ампера $F_A = IBl$, в результате чего стержень придет в движение. Поскольку $I = \frac{\Delta q}{\Delta t}$, импульс силы Ампера за малое время Δt равен $F_A \Delta t = Bl \Delta q$. По второму закону Ньютона, $m \Delta v = F_A \Delta t$. Следовательно, $m \Delta v = Bl \Delta q$. Такое же равенство справедливо и для конечных приращений скорости и заряда. Полагая $\Delta v = v$, $\Delta q = q_0 - q$, находим, что $mv = Bl(q_0 - q)$. Выражая из последнего равенства заряд q , получаем: $q = q_0 - \frac{mv}{Bl}$.

Ответ. $q = q_0 - \frac{mv}{Bl}$.

3.4.19. Два параллельных металлических стержня расположены на расстоянии l друг от друга в плоскости, перпендикулярной однородному магнитному полю с индукцией B . Стержни соединены неподвижным проводником сопротивлением R . Два других проводника сопротивлениями R_1 и R_2 находятся слева и справа от неподвижного проводника и скользят по стержням в одну и ту же сторону со скоростями v_1 и v_2 . Какой ток I течет по неподвижному проводнику? Сопротивление стержней пренебрежимо мало.



Решение. При движении проводников в магнитном поле в них возникают ЭДС индукции $\mathcal{E}_1 = Bv_1l$, $\mathcal{E}_2 = Bv_2l$ с одинаковой полярностью. Данная цепь эквивалентна двум параллельно соединенным источникам с ЭДС \mathcal{E}_1 , \mathcal{E}_2 и внутренними сопротивлениями R_1 , R_2 , подключенным к нагрузке сопротивлением R . Обозначив токи, текущие через левый и правый проводники, через I_1 и I_2 , имеем: $I_1 R_1 + (I_1 + I_2)R = \mathcal{E}_1$, $I_2 R_2 + (I_1 + I_2)R = \mathcal{E}_2$. Домножив первое из этих уравнений на R_2 , а второе на R_1 и складывая, получаем: $(I_1 + I_1)R_1 R_2 + (I_1 + I_1)(R_1 + R_2)R = \mathcal{E}_1 R_2 + \mathcal{E}_2 R_1$. Учитывая, что искомый ток

$$I = I_1 + I_2, \text{ находим: } I = \frac{Bl(v_1 R_2 + v_2 R_1)}{R_1 R_2 + R(R_1 + R_2)}.$$

Ответ. $I = \frac{Bl(v_1 R_2 + v_2 R_1)}{R_1 R_2 + R(R_1 + R_2)}$.

3.5. Электромагнитные колебания и волны

3.5.1. В колебательном контуре с индуктивностью L и емкостью C конденсатор заряжен до максимального напряжения U_m . Каким будет ток I в контуре в тот момент, когда напряжение на конденсаторе уменьшится в два раза? Колебания считать незатухающими.

Решение. В отсутствие затухания суммарная энергия электрического и магнитного полей в контуре сохраняется. Следовательно, в каждый момент времени справедливо равенство $\frac{LI^2}{2} + \frac{CU^2}{2} = \frac{CU_m^2}{2}$, откуда $I = \sqrt{\frac{C}{L}} \cdot \sqrt{U_m^2 - U^2}$.

По условию задачи $U = U_m/2$. Ток в контуре в этот момент времени равен:

$$I = U_m \sqrt{\frac{3C}{4L}}.$$

О т в е т. $I = U_m \sqrt{\frac{3C}{4L}}$.

3.5.2. В колебательном контуре конденсатору с емкостью $C = 10$ мкФ сообщили заряд $q = 1$ мкКл, после чего возникли затухающие электромагнитные колебания. Какое количество теплоты Q выделится к моменту, когда максимальное напряжение на конденсаторе станет меньше начального максимального напряжения в $n = 4$ раза?

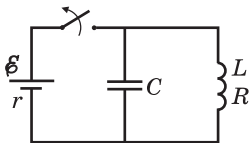
Решение. Количество выделившейся теплоты равно разности между начальным и конечным значениями энергии в контуре. В моменты, когда напряжение на конденсаторе максимально, ток через катушку равен нулю. Следовательно, энергия в эти моменты сосредоточена в конденсаторе. Имеем:

$$Q = W_0 - W_1 = \frac{q^2}{2C} - \frac{q_1^2}{2C} = \frac{q^2}{2C} \left(1 - \frac{q_1^2}{q^2} \right).$$

Учитывая, что $U = q/C$ и в интересующий нас момент времени $q_1 = q/n$, получаем: $Q = \frac{q^2}{2C} \cdot \left(1 - \frac{1}{n^2} \right) \approx 0,047$ Дж.

О т в е т. $Q \approx 0,047$ Дж.

3.5.3. Катушка индуктивностью $L = 2$ мГн с сопротивлением обмотки $R = 10$ Ом и конденсатор емкостью $C = 10^{-5}$ Ф подключены параллельно к источнику с ЭДС $\mathcal{E} = 100$ В и внутренним сопротивлением $r = 10$ Ом. Какое количество теплоты Q выделится в контуре после отключения источника?



Решение. При замкнутом достаточно долгое время ключе в цепи устанавливается ток через источник

и катушку, величина которого равна: $I = \frac{\mathcal{E}}{R+r}$. На-

пряжение на конденсаторе, равное напряжению на катушке, будет:

$$U = \frac{\mathcal{E}R}{R+r}.$$

Суммарная энергия заряженного конденсатора и катушки с током: $W = \frac{LI^2}{2} + \frac{CU^2}{2}$. После отключения источника в контуре, состоящем

из катушки и конденсатора, возникнут затухающие электромагнитные колебания, в результате которых вся начальная энергия перейдет в теплоту.

$$\text{О т в е т. } Q = W = \frac{\xi^2}{2(r + R)^2} (L + CR^2) = 37,5 \cdot 10^{-3} \text{ Дж.}$$

3.5.4. На какую длину волны λ настроен колебательный контур с индуктивностью L , если максимальный ток в контуре I_m , а максимальное напряжение на конденсаторе U_m ? Скорость распространения электромагнитных волн c . Активным сопротивлением в контуре пренебречь.

Р е ш е н и е. Длина электромагнитной волны, на которую настроен контур, $\lambda = cT$, где $T = 2\pi\sqrt{LC}$ — период собственных колебаний в контуре. Из закона сохранения энергии в колебательном контуре без потерь следует равенство: $\frac{LI_m^2}{2} = \frac{CU_m^2}{2}$. Отсюда емкость конденсатора $C = L \frac{I_m^2}{U_m^2}$.

$$\text{О т в е т. } \lambda = 2\pi c \frac{LI_m}{U_m}.$$

3.5.5. В колебательном контуре конденсатор емкостью C заряжен до максимального напряжения U_m . Определить резонансную частоту ν_0 колебаний в контуре, если максимальный ток в нем I_m . Активным сопротивлением в контуре пренебречь.

Р е ш е н и е. Резонанс в колебательном контуре возникает при совпадении частоты внешнего переменного напряжения с собственной частотой колебательного контура. Следовательно, $\nu_0 = \frac{1}{2\pi\sqrt{LC}}$. Из закона сохранения энергии в колебательном контуре без потерь следует равенство $\frac{LI_m^2}{2} = \frac{CU_m^2}{2}$. От-

сюда индуктивность катушки $L = C \frac{U_m^2}{I_m^2}$.

$$\text{О т в е т. } \nu_0 = \frac{I_m}{2\pi CU_m}.$$

3.5.6. Колебательный контур состоит из катушки индуктивности и двух одинаковых конденсаторов, включенных параллельно. Период собственных колебаний в контуре T_1 . Каков будет период T_2 колебаний в контуре, если конденсаторы включить последовательно?

Р е ш е н и е. Пусть емкость одного конденсатора равна C . Емкость двух таких конденсаторов, соединенных параллельно, $C_1 = 2C$, а соединенных последовательно, $C_2 = C/2$. Согласно формуле Томсона, периоды собственных колебаний в контуре: $T_1 = 2\pi\sqrt{LC_1}$, $T_2 = 2\pi\sqrt{LC_2}$, где L — индуктивность ка-

тушки. Следовательно, $\frac{T_1}{T_2} = \sqrt{\frac{C_1}{C_2}}$.

$$\text{О т в е т. } T_2 = \frac{T_1}{2}.$$

3.5.7. Конденсатор емкостью $C = 0,1$ мкФ, заряженный до напряжения $U = 100$ В, подсоединяют к катушке индуктивностью $L = 1$ мГн. Чему равна величина тока I через катушку спустя время $t_0 = 0,785 \cdot 10^{-5}$ с после подключения конденсатора? Сопротивлением катушки и соединительных проводов пренебречь.

Решение. При подключении заряженного конденсатора к катушке в образовавшемся контуре возникают электромагнитные колебания с частотой $\omega_0 = 1/\sqrt{LC}$. При этом заряд на конденсаторе меняется во времени по закону

$$q = q_0 \cos \frac{t}{\sqrt{LC}}, \text{ где } q_0 = CU \text{ — начальный заряд на конденсаторе. Поскольку}$$

сопротивление катушки и соединительных проводов пренебрежимо мало, суммарная энергия электрического и магнитного поля в контуре сохраняется. Из закона сохранения энергии следует, что $\frac{q_0^2}{2C} = \frac{q^2}{2C} + \frac{LI^2}{2}$. Выражая

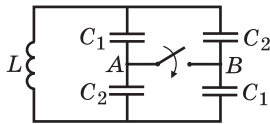
отсюда ток через катушку, имеем
$$I(t) = \frac{1}{\sqrt{LC}} \sqrt{q_0^2 - q^2} = \sqrt{\frac{C}{L}} U \sqrt{1 - \cos^2 \frac{t}{\sqrt{LC}}}.$$

Величина тока в момент времени t_0 равна $I = \sqrt{\frac{C}{L}} U \sin \frac{t_0}{\sqrt{LC}} \approx 0,71$ А.

О т в е т. $I \approx 0,71$ А.

3.5.8. Колебательный контур состоит из катушки индуктивности и четырех конденсаторов, соединенных как показано на рисунке. Во сколько раз α

изменится период собственных колебаний в контуре, если замкнуть ключ, соединяющий точки A и B ? Емкости конденсаторов: $C_1 = 10^{-8}$ Ф, $C_2 = 4 \cdot 10^{-8}$ Ф.

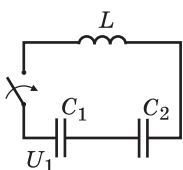


Решение. Поскольку период электромагнитных колебаний в контуре определяется формулой Томсона $T = 2\pi\sqrt{LC}$, отношение периода T'' колебаний после замыкания ключа к периоду T' колебаний до замыкания ключа выражается как $\alpha = \frac{T''}{T'} = \sqrt{\frac{C''}{C'}}$, где C'' и C' — емкости батареи конденсаторов в этих двух случаях соответственно. Расчет по стандартным формулам дает:

$$C' = 2 \frac{C_1 C_2}{C_1 + C_2} \text{ при разомкнутом ключе, } C'' = \frac{C_1 + C_2}{2} \text{ при замкнутом ключе.}$$

Отсюда получаем: $\alpha = \frac{C_1 + C_2}{2\sqrt{C_1 C_2}} = 1,25.$

О т в е т. $\alpha = 1,25.$



3.5.9. В цепи, показанной на рисунке, конденсатор емкостью $C_1 = 10^{-5}$ Ф вначале заряжен до напряжения $U_1 = 200$ В, а конденсатор емкостью $C_2 = 10^{-6}$ Ф разряжен. До какого максимального напряжения $U_{2\max}$ может зарядиться конденсатор C_2 в процессе колебаний, возникаю-

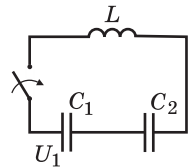
щих в цепи после замыкания ключа? Потерями в соединительных проводах и в катушке индуктивности пренебречь.

Решение. После замыкания ключа в цепи возникают гармонические колебания, в процессе которых происходит периодическая перезарядка конденсаторов. В каждый момент времени суммарное напряжение на конденсаторах равно напряжению на катушке, которое, в свою очередь, опережает по фазе ток в цепи на $\pi/2$. В момент достижения максимального напряжения на конденсаторах ток в цепи обратится в нуль, следовательно, вся энергия будет сосредоточена в конденсаторах. При этом на конденсатор C_2 перетечет из конденсатора C_1 некоторый заряд q , а на конденсаторе C_1 останется заряд $C_1 U_1 - q$. Величину заряда q на конденсаторе C_2 можно найти из закона сохранения энергии в контуре. Поскольку в рассматриваемый момент времени магнитная энергия обращается в нуль, справедливо равенство: $\frac{1}{2} C_1 U_1^2 = \frac{(C_1 U_1 - q)^2}{2 C_1} + \frac{q^2}{2 C_2}$. Отсюда $q = 2 U_1 \frac{C_1 C_2}{C_1 + C_2}$. Учитывая, что

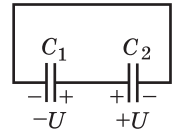
$$U_2 = \frac{q}{C_2}, \text{ получаем: } U_{2\max} = \frac{2 U_1 C_1}{C_1 + C_2} \approx 364 \text{ В.}$$

О т в е т. $U_{2\max} \approx 364 \text{ В.}$

3.5.10. Катушка индуктивностью $L = 3 \text{ мГн}$ подключена к двум последовательно соединенным конденсаторам (см. рисунок), один из которых, емкостью $C_1 = 10^{-7} \text{ Ф}$, заряжен вначале до напряжения $U_1 = 150 \text{ В}$, а второй, емкостью $C_2 = 3 \cdot 10^{-7} \text{ Ф}$, разряжен. Чему будет равна максимальная сила тока I_{\max} в цепи после замыкания ключа? Потерями в соединительных проводах и в катушке индуктивности пренебречь.



Решение. После замыкания ключа в цепи возникают гармонические колебания. При этом ток в цепи и напряжение на катушке сдвинуты по фазе на $\pi/2$. Следовательно, когда в цепи достигается максимальный ток, напряжение на катушке обращается в нуль, и в этот момент напряжения на конденсаторах становятся равными по величине и противоположными по знаку (эквивалентная цепь изображена на рисунке). Обозначим через U величину напряжения на каждом из конденсаторов. Из закона сохранения заряда следует, что суммарный заряд на конденсаторах в рассматриваемый момент времени равен начальному заряду на конденсаторе C_1 , т. е.



$(C_1 + C_2)U = C_1 U_1$, откуда $U = U_1 \frac{C_1}{C_1 + C_2}$. Согласно закону сохранения энергии в контуре, $\frac{C_1 U_1^2}{2} = \frac{(C_1 + C_2)U^2}{2} + \frac{L I_{\max}^2}{2}$. Объединяя полученные выраже-

ния, находим: $I_{\max} = U_1 \sqrt{\frac{C_1 C_2}{L(C_1 + C_2)}} = 0,75 \text{ А.}$

О т в е т. $I_{\max} = 0,75 \text{ А.}$

Дополнительные задачи

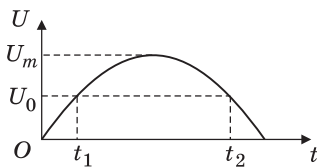
3.5.11. Какую емкость C нужно подключить к катушке индуктивностью $L = 0,001$ Гн, чтобы полученный колебательный контур был настроен в резонанс с электромагнитной волной, длина которой $\lambda = 300$ м? Скорость света $c = 3 \cdot 10^8$ м/с.

Решение. Длина электромагнитной волны, на которую настроен контур, $\lambda = cT$, где $T = 2\pi\sqrt{LC}$ — период собственных колебаний в контуре. Выражая из этих равенств C , получаем: $C = \frac{1}{L} \left(\frac{\lambda}{2\pi c} \right)^2 \approx 25$ пФ.

Ответ. $C \approx 25$ пФ.

3.5.12. Газоразрядная лампа зажигается, когда напряжение между ее электродами становится равным $U_0 = 155$ В и гаснет, если напряжение на ней падает ниже этой величины. Какое время Δt в течение одного полупериода светит такая лампа, подключенная к сети переменного тока с частотой $f = 50$ Гц и амплитудой напряжения $U_m = 310$ В?

Решение. График зависимости напряжения на лампе от времени в течение одного полупериода изображен на рисунке, где отсчет времени производится от момента, когда $U = 0$, t_1 — момент зажигания лампы, t_2 — момент ее гашения. Искомое время $\Delta t = t_2 - t_1$, причем $0 < \Delta t < \frac{T}{2}$, где $T = \frac{1}{f}$ — период колебаний переменного тока. В моменты t_1

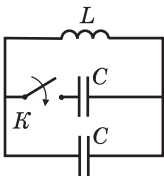


и t_2 имеем: $\sin(2\pi f t_1) = \frac{U_0}{U_m}$, $\sin(2\pi f t_2) = \frac{U_0}{U_m}$. От-

сюда $t_1 = \frac{1}{2\pi f} \arcsin \frac{U_0}{U_m}$, $t_2 = \frac{1}{2\pi f} \left(\pi - \arcsin \frac{U_0}{U_m} \right)$.

Ответ. $\Delta t = \frac{1}{2\pi f} \left(\pi - 2 \arcsin \frac{U_0}{U_m} \right) \approx 6,7 \cdot 10^{-3}$ с.

3.5.13. Заряженный конденсатор подключили к катушке, в результате чего в цепи возникли гармонические колебания. В момент, когда напряжение на конденсаторе обратилось в нуль, к нему с помощью ключа K подсоединили еще один такой же конденсатор. Во сколько раз изменились амплитуды колебаний тока и напряжения на катушке после этого?



Решение. В момент, когда напряжение на конденсаторе равно нулю, ток через катушку максимален и запасенная в ней энергия равна $W = \frac{LI_0^2}{2}$, где I_0 — амплитуда тока.

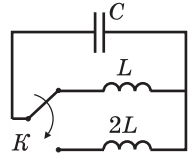
По закону сохранения энергии, $\frac{LI_0^2}{2} = \frac{CU_0^2}{2}$, где U_0 — амплитуда напряжения на конденсаторе C до подключения второго конденсатора. При подключении второго конденсатора параллельно первому емкость контура уд-

ваивается, и закон сохранения энергии принимает вид: $\frac{LI_0^2}{2} = \frac{2CU_1^2}{2}$.

Следовательно, $U_1 = \frac{U_0}{\sqrt{2}}$.

Отв е т. После подключения второго конденсатора амплитуда тока не изменяется, амплитуда напряжения уменьшается в $\sqrt{2}$ раз.

3.5.14. Заряженный конденсатор подключили к катушке, в результате чего в цепи возникли гармонические колебания. В момент, когда ток через катушку обратился в нуль, с помощью ключа K отсоединили эту катушку и вместо нее подсоединили катушку с вдвое большей индуктивностью. Во сколько раз изменились амплитуды колебаний тока и напряжения на катушке после этого?



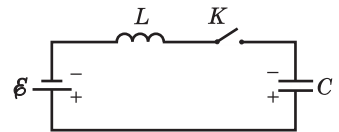
Решение. В момент, когда ток через катушку равен нулю, напряжение на конденсаторе максимально и запасенная в нем энергия равна $W = \frac{CU_0^2}{2}$, где U_0 — амплитуда напряжения. По за-

кону сохранения энергии $\frac{CU_0^2}{2} = \frac{LI_0^2}{2}$, где I_0 — амплитуда тока через катушку L . При перебрасывании ключа индуктивность в контуре удваивается и закон сохранения энергии принимает вид: $\frac{CU_0^2}{2} = \frac{2LI_1^2}{2}$. Следовательно,

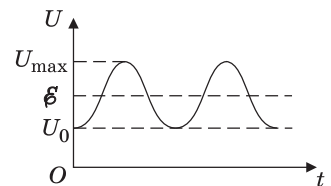
$$I_1 = \frac{I_0}{\sqrt{2}}.$$

Отв е т. После подключения катушки с удвоенной индуктивностью амплитуда напряжения не изменяется, амплитуда тока уменьшается в $\sqrt{2}$ раз.

3.5.15. Цепь, изображенная на рисунке, состоит из конденсатора, катушки, источника с ЭДС \mathcal{E} и пренебрежимо малым внутренним сопротивлением, а также ключа K . В начальный момент времени ключ разомкнут, а конденсатор заряжен до напряжения U_0 с полярностью, указанной на рисунке. Какого максимального значения U_{\max} может достичь напряжение на конденсаторе после замыкания ключа? Сопротивлением катушки и соединительных проводов пренебречь.



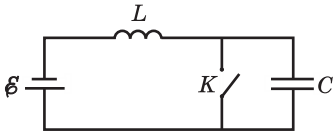
Решение. После замыкания ключа в контуре возникнут гармонические колебания со смещенным положением равновесия. Пусть $\mathcal{E} > U_0$. Зависимость напряжения на конденсаторе от времени изображена на рисунке. Начальная энергия конденсатора $W_0 = \frac{CU_0^2}{2}$, работа источника по зарядке конденсатора до максимального напряжения $A = C(U_{\max} - U_0)$, энергия контура в момент



достижения максимального напряжения $W_{\max} = \frac{CU_{\max}^2}{2}$ (ток через катушку в этот момент равен нулю). По закону сохранения энергии $W_0 + A = W_{\max}$. Отсюда получаем квадратное уравнение относительно U_{\max} , а именно $U_{\max}^2 - 2\mathcal{E}U_{\max} + 2\mathcal{E}U_0 - U_0^2 = 0$. Корни этого уравнения: $U_{\max} = 2\mathcal{E} - U_0$, $U_{\max} = U_0$.

О т в е т. $U_{\max} = 2\mathcal{E} - U_0$ при $U_0 < \mathcal{E}$, $U_{\max} = U_0$ при $U_0 \geq \mathcal{E}$.

3.5.16. Цепь, изображенная на рисунке, состоит из конденсатора емкостью C , катушки индуктивностью L , источника с ЭДС \mathcal{E} и пренебрежимо малым внутренним сопротивлением, а также ключа K , первоначально находящегося в разомкнутом состоянии. В некоторый момент времени ключ замкнули и держали в замкнутом состоянии в течение времени τ , а затем разомкнули. До какого максимального напряжения



U_{\max} может зарядиться конденсатор после этого? Считать, что в момент замыкания ключа ток в цепи был равен нулю. Сопротивлением катушки и соединительных проводов пренебречь.

Р е ш е н и е. При замыкании ключа конденсатор практически мгновенно полностью разряжается, а ток через катушку начинает нарастать. По закону Ома для замкнутой цепи имеем: $L \frac{\Delta I}{\Delta t} = \mathcal{E}$. Следовательно, через время τ

ток в цепи достигнет величины $I_0 = \frac{\mathcal{E}}{L} \tau$. После размыкания ключа в контуре возникают гармонические колебания. Конденсатор начинает заряжаться и в момент достижения максимального напряжения U_{\max} на нем ток через катушку обращается в нуль. За время, прошедшее после размыкания ключа до момента достижения максимального напряжения на конденсаторе, источник перемещает по цепи заряд $q = CU_{\max}$, совершив работу $A = q\mathcal{E} = C\mathcal{E}U_{\max}$.

По закону сохранения энергии имеем: $\frac{LI_0^2}{2} + A = \frac{CU_{\max}^2}{2}$. Отсюда получаем

квадратное уравнение относительно U_{\max} , а именно $U_{\max}^2 - 2\mathcal{E}U_{\max} - \frac{\mathcal{E}^2 \tau^2}{LC} = 0$.

Условию задачи удовлетворяет положительный корень.

$$\text{О т в е т. } U_{\max} = \mathcal{E} \left(1 + \sqrt{1 + \frac{\tau^2}{LC}} \right).$$

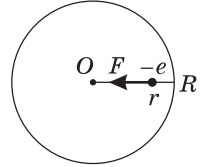
3.5.17. Согласно модели Дж.Дж. Томсона (1903 г.), атом водорода представляет собой положительно заряженный шар, внутри которого находится отрицательный точечный заряд — электрон, причем в невозбужденном атоме электрон покоится в центре шара. Предположим, что электрон сместили от центра шара на некоторое расстояние, не превышающее радиус шара, и предоставили самому себе. Определить период T возникших при этом свободных колебаний электрона, пренебрегая потерями на излучение. Радиус

шара принять равным $R = 3 \cdot 10^{-10}$ м, а его заряд $e = 1,6 \cdot 10^{-19}$ Кл считать равномерно распределенным по объему. Масса электрона $m = 9,1 \cdot 10^{-31}$ кг, электрическая постоянная $\epsilon_0 = 8,85 \cdot 10^{-12}$ Ф/м.

Решение. Пусть r — расстояние от центра заряженного шара (точки O) до электрона. На электрон действует сила $F = eE$, направленная к центру шара. Здесь E — напряженность электрического поля в точке, где расположен электрон. По теореме Гаусса, $4\pi r^2 \cdot E = \frac{1}{\epsilon_0} \cdot \frac{e}{R^3} r^3$, откуда $E = \frac{e}{4\pi\epsilon_0 R^3} r$.

Следовательно, $F(r) = \frac{e^2}{4\pi\epsilon_0 R^3} r$. Уравнение движения электрона под действием этой силы имеет вид: $m\ddot{r} = -\frac{e^2}{4\pi\epsilon_0 R^3} r$

или $\ddot{r} + \frac{e^2}{4\pi\epsilon_0 m R^3} r = 0$. Отсюда находим круговую частоту колебаний электрона $\omega = \sqrt{\frac{e^2}{4\pi\epsilon_0 m R^3}}$. Поскольку период колебаний $T = \frac{2\pi}{\omega}$, имеем: $T = \frac{4\pi R}{e} \sqrt{\pi\epsilon_0 m R} \approx 2 \cdot 10^{-15}$ с.



О т в е т. $T \approx 2 \cdot 10^{-15}$ с.

3.5.18. Колебательный контур состоит из катушки индуктивностью L и плоского воздушного конденсатора емкостью C . Найти среднюю за период колебаний силу притяжения обкладок конденсатора друг к другу, если амплитуда тока в катушке равна I_0 . Площадь обкладки конденсатора S . Электрическая постоянная ϵ_0 .

Решение. Пусть в некоторый момент времени заряд на конденсаторе равен $q(t)$. Напряженность электрического поля, создаваемого одной из обкладок, $E_1(t) = \frac{q(t)}{2S\epsilon_0}$. Поэтому сила электростатического притяжения между обкладками равна $F(t) = qE_1 = \frac{q^2(t)}{2S\epsilon_0}$. При гармонических колебаниях в контуре с круговой частотой $\omega_0 = 1/\sqrt{LC}$ заряд на конденсаторе меняется со временем по закону $q(t) = q_0 \cos \omega_0 t$, где q_0 — амплитудное значение заряда. Следовательно, $F(t) = \frac{q_0^2}{2S\epsilon_0} \cos^2 \omega_0 t$. Используя формулу $\cos^2 \omega_0 t = \frac{1 + \cos 2\omega_0 t}{2}$ и учитывая, что среднее за период значение $\cos 2\omega_0 t$ равно нулю, находим среднее значение силы: $\bar{F} = \frac{q_0^2}{4S\epsilon_0}$. По закону сохранения энергии при гармонических колебаниях, $\frac{LI_0^2}{2} = \frac{q_0^2}{2C}$, откуда $q_0 = \sqrt{LC} I_0$.

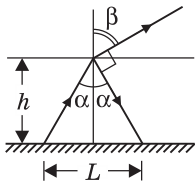
О т в е т. $\bar{F} = \frac{LC I_0^2}{4S\epsilon_0}$.

4. Оптика

4.1. Геометрическая оптика

4.1.1. Отражение и преломление света

4.1.1. Точечный источник света расположен на дне водоема глубиной $h = 0,6$ м. Преломленный луч, вышедший в воздух в некоторой точке поверхности воды, оказался перпендикулярным лучу, отраженному от поверхности воды обратно в воду. На каком расстоянии L от источника на дне водоема достигнет дна отраженный луч? Показатель преломления воды принять равным $n = 4/3$.

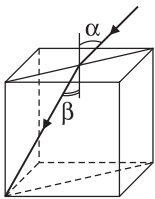


Решение. Ход лучей изображен на рисунке, откуда видно, что искомое расстояние $L = 2h \operatorname{tg} \alpha$. По закону преломления, $\frac{\sin \alpha}{\sin \beta} = \frac{1}{n}$. С другой стороны, по условию задачи, $\alpha + \beta = \pi/2$. Следовательно, $\sin \beta = \cos \alpha$ и $\operatorname{tg} \alpha = 1/n$.

$$\text{Ответ. } L = \frac{2h}{n} = 0,9 \text{ м.}$$

4.1.2. Луч света падает в центр верхней грани стеклянного кубика. Чему равен максимальный угол падения α , при котором преломленный луч еще попадает на нижнюю грань кубика? Показатель преломления стекла $n = 1,5$.

Решение. Угол падения на верхнюю грань кубика, удовлетворяющий условию задачи, достигает максимального значения, если совместить плоскость падения с диагоналями верхней и нижней граней кубика (см. рисунок). В этом

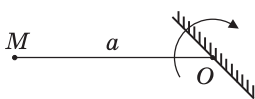


случае преломленный в центре верхней грани кубика луч проходит через вершину нижней грани, и угол преломления удовлетворяет условию $\operatorname{tg} \beta = \frac{\sqrt{2}}{2}$. Отсюда $\sin \beta = \frac{\operatorname{tg} \beta}{\sqrt{1 + \operatorname{tg}^2 \beta}} = \frac{\sqrt{3}}{3}$.

По закону преломления, $\sin \alpha = n \sin \beta$.

$$\text{Ответ. } \alpha = \arcsin\left(n \frac{\sqrt{3}}{3}\right) = 60^\circ.$$

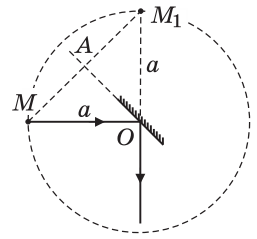
4.1.3. Плоское зеркало вращается вокруг оси, перпендикулярной плоскости рисунка и проходящей по поверхности зеркала. Найти траекторию изображения точки M , расположенной на расстоянии a от оси вращения зеркала.



ображения точки M , расположенной на расстоянии a от оси вращения зеркала.

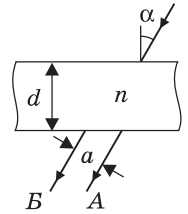
Решение. Построение изображения M_1 точки M в зеркале проиллюстрировано на рисунке. Видно, что длины отрезков MO и OM_1 совпадают. Следовательно,

при любом положении зеркала, при котором его отражающая поверхность обращена к точке M , изображение этой точки располагается на одном и том же расстоянии a от оси вращения зеркала. Поскольку $\angle MOM_1$ равен удвоенному углу поворота зеркала ($\angle MOA$), при повороте зеркала вокруг оси на половину оборота изображение совершает вокруг точки O полный оборот. Когда зеркало обращено к точке M тыльной стороной, изображение отсутствует.



О т в е т. Окружность радиуса a с центром в точке O .

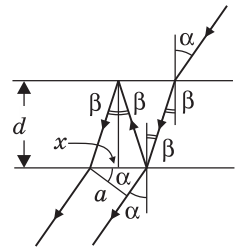
4.1.4. Луч света падает на плоскопараллельную стеклянную пластину толщиной $d = 2$ см под углом $\alpha = 30^\circ$. Каково расстояние a между лучом A , прошедшим пластину без отражения, и лучом B , претерпевшим двукратное отражение от ее граней? Показатель преломления стекла $n = 1,5$.



Решение. Ход лучей изображен на рисунке. Учитывая, что $\sin \beta = \frac{1}{n} \sin \alpha$, длину отрезка x можно выразить следующим образом:

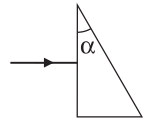
$$x = 2d \operatorname{tg} \beta = 2d \frac{\sin \beta}{\sqrt{1 - \sin^2 \beta}} = 2d \frac{\sin \alpha}{\sqrt{n^2 - \sin^2 \alpha}}.$$

Поскольку искомое расстояние $a = x \cos \alpha$, имеем: $a = d \frac{\sin 2\alpha}{\sqrt{n^2 - \sin^2 \alpha}} \approx 1,22$ см.

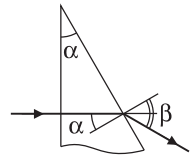


О т в е т. $a \approx 1,22$ см.

4.1.5. Луч света падает нормально на переднюю грань призмы, как показано на рисунке. Преломляющий угол призмы составляет $\alpha = 30^\circ$. Каким должен быть показатель преломления материала призмы n , для того чтобы угол отклонения луча призмой был равен α ?

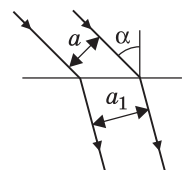


Решение. Как видно из рисунка, для того чтобы угол отклонения луча призмой был равен α , угол преломления должен быть равным $\beta = 2\alpha$. Таким образом, $\sin 2\alpha = n \sin \alpha$. Отсюда получаем: $n = 2 \cos \alpha = \sqrt{3} \approx 1,73$.

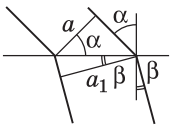


О т в е т. $n \approx 1,73$.

4.1.6. Пучок параллельных лучей шириной $a = 3$ см падает под углом $\alpha = 45^\circ$ из воздуха на плоскую границу среды с показателем преломления $n = 1,5$. Какова ширина a_1 пучка в среде?



Решение. Ход крайних лучей, образующих пучок, изображен на рисунке, где β — угол преломления. Из рисунка



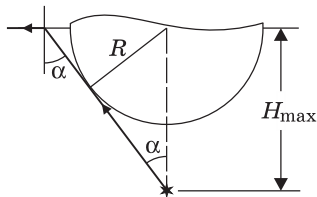
видно, что $\frac{a}{\cos \alpha} = \frac{a_1}{\cos \beta}$, откуда $a_1 = a \frac{\cos \beta}{\cos \alpha} = a \frac{\sqrt{1 - \sin^2 \beta}}{\sqrt{1 - \sin^2 \alpha}}$.

По закону преломления, $\sin \beta = \frac{1}{n} \sin \alpha$.

О т в е т. $a_1 = \frac{a \sqrt{n^2 - \sin^2 \alpha}}{n \cos \alpha} \approx 3,74$ см.

4.1.7. На поверхности воды плавает непрозрачный шар радиусом $R = 1$ м, наполовину погруженный в воду. На какой максимальной глубине H_{\max} нужно поместить под центром шара точечный источник света, чтобы ни один световой луч не прошел в воздух? Показатель преломления воды $n = 1,33$.

Решение. Искомое положение источника изображено на рисунке. Оно определяется из условия, что касательные к шару лучи света, испущенные источником, падают на границу раздела «вода — воздух» под предельным



углом полного отражения. В этом случае действительно ни один луч от источника не выйдет в воздух, так как часть лучей будет перекрыта шаром, а все остальные лучи заведомо испытают полное отражение на границе раздела сред. Если переместить источник на меньшую глубину, свет по-прежнему не выйдет из воды, если же, наоборот, погрузить источник глубже, чем H_{\max} , то найдет-

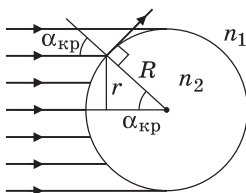
ся часть лучей, которые будут падать на границу под углами, меньшими предельного угла полного отражения, и пройдут в воздух. Минимальный угол α падения луча на границу «вода — воздух» определяется равенством

$\sin \alpha = \frac{R}{H_{\max}}$. Поскольку при полном отражении $\sin \alpha = \frac{1}{n}$, то $H_{\max} = Rn = 1,33$ м.

О т в е т. $H_{\max} = 1,33$ м.

4.1.8. В стекле с показателем преломления $n_1 = 1,5$ имеется сферическая полость радиуса $R = 4,5$ см, заполненная водой. На полость падает распространяющийся в стекле широкий пучок параллельных световых лучей. Определить радиус r пучка световых лучей, которые проникают в полость. Радиус падающего пучка намного превышает радиус полости. Показатель преломления воды $n_2 = 4/3$.

Решение. Поскольку свет переходит из оптически более плотной среды в оптически менее плотную ($n_2 < n_1$), для части лучей на границе стекла и воды возникнет полное отражение. Те лучи, угол падения которых



на границу раздела превышает критическое значение $\alpha_{\text{кр}} = \arcsin(n_2/n_1)$, отразятся от границы и в полость не попадут. Следовательно, радиус пучка лучей, которые проникают внутрь полости, равен $r = R \sin \alpha_{\text{кр}}$.

О т в е т. $r = R \frac{n_2}{n_1} = 4$ см.

4.1.9. Два параллельных луча, расстояние между которыми равно радиусу R круглого прямого прозрачного цилиндра, падают на его боковую поверхность. Лучи параллельны основанию цилиндра. Найти величину показателя преломления n материала цилиндра, при которой преломленные лучи пересекаются на его поверхности.

Решение. Ход лучей, преломленных на передней поверхности цилиндра и пересекающихся на его задней поверхности, изображен на рисунке. По условию задачи, угол падения каждого из лучей на переднюю поверхность цилиндра $\alpha = \arcsin(1/2) = 30^\circ$.

Из рисунка видно, что угол преломления этих лучей на границе «воздух — стекло» равен $\beta = \alpha/2 = 15^\circ$. Учитывая, что $n = \sin \alpha / \sin \beta$, получаем:

$$n = \frac{1}{2 \sin 15^\circ} = \frac{1}{\sqrt{2 - \sqrt{3}}} \approx 1,93.$$

О т в е т. $n \approx 1,93$.

4.1.10. Два параллельных луча, расстояние между которыми равно радиусу R круглого прямого прозрачного цилиндра, падают на его боковую поверхность, как показано на рисунке. Лучи параллельны основанию цилиндра и пересекаются на поверхности цилиндра. Найти угол φ между вышедшими из цилиндра лучами.

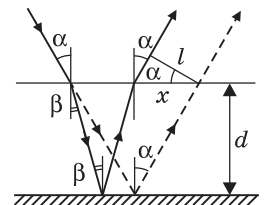
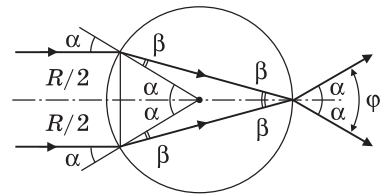
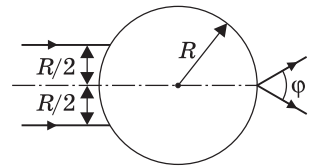
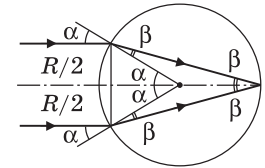
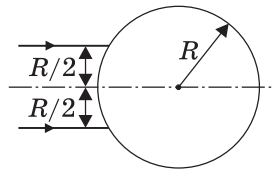
Решение. Ход лучей, преломленных на передней поверхности цилиндра и пересекающихся на его задней поверхности, изображен на рисунке. По условию задачи, угол падения каждого из лучей на переднюю поверхность цилиндра $\alpha = \arcsin(1/2) = 30^\circ$.

Из рисунка видно, что угол преломления этих лучей на выходе из цилиндра также равен α . Учитывая, что искомый угол $\varphi = 2\alpha$, получаем: $\varphi = 60^\circ$.

О т в е т. $\varphi = 60^\circ$

4.1.11. Луч света отражается от плоского зеркала, падая на него под углом $\alpha = 30^\circ$. На какое расстояние l сместится отраженный от зеркала луч, если поверхность зеркала закрыть стеклянной пластинкой толщиной $d = 3$ см? Показатель преломления стекла $n = 1,5$.

Решение. Рассмотрим рисунок, на котором штриховой линией изображен ход луча в отсутствие стеклянной пластинки, а сплошной линией — ход луча, когда зеркало закрыли стеклянной пластинкой. Из рисунка видно, что искомое расстояние $l = x \cos \alpha$, где $x = 2d \tan \alpha - 2d \tan \beta$. По закону преломления $\sin \beta = \frac{1}{n} \sin \alpha$.

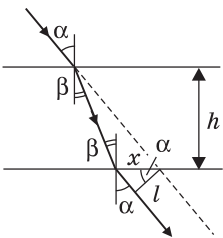


Используя тригонометрические формулы, находим, что $\operatorname{tg} \alpha = \frac{\sin \alpha}{\sqrt{1 - \sin^2 \alpha}}$,
 $\operatorname{tg} \beta = \frac{\sin \alpha}{\sqrt{n^2 - \sin^2 \alpha}}$.

О т в е т. $l = d \sin 2\alpha \left(\frac{1}{\sqrt{1 - \sin^2 \alpha}} - \frac{1}{\sqrt{n^2 - \sin^2 \alpha}} \right) \approx 1,17 \text{ см.}$

4.1.12. Луч света падает на плоскопараллельную стеклянную пластинку под углом $\alpha = \arcsin 0,8$. Вышедший из пластинки луч оказался смещенным относительно продолжения падающего луча на расстояние $l = 2 \text{ см.}$ Какова толщина h пластинки, если показатель преломления стекла $n = 1,7?$

Р е ш е н и е. Ход луча изображен на рисунке, где β — угол преломления. Из рисунка видно, что длина отрезка x может быть выражена из равенств:



$$x = h \operatorname{tg} \alpha - h \operatorname{tg} \beta, \quad x = \frac{l}{\cos \alpha}. \quad \text{Отсюда } h = \frac{l}{\cos \alpha (\operatorname{tg} \alpha - \operatorname{tg} \beta)}.$$

По закону преломления $\sin \beta = \frac{1}{n} \sin \alpha$. Используя тригонометрические формулы, находим, что $\operatorname{tg} \alpha = \frac{\sin \alpha}{\sqrt{1 - \sin^2 \alpha}}$,

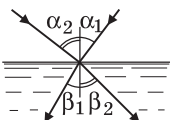
$$\operatorname{tg} \beta = \frac{\sin \alpha}{\sqrt{n^2 - \sin^2 \alpha}}.$$

О т в е т. $h = \frac{l \sqrt{n^2 - \sin^2 \alpha}}{\sin \alpha (\sqrt{n^2 - \sin^2 \alpha} - \sqrt{1 - \sin^2 \alpha})} \approx 4,2 \text{ см.}$

4.1.13. Два луча света падают из воздуха в жидкость. Углы преломления лучей равны $\beta_1 = 30^\circ$ и $\beta_2 = 45^\circ$. Найти показатель преломления жидкости n , если известно, что падающие лучи перпендикулярны друг другу и лежат в одной плоскости, перпендикулярной поверхности жидкости.

Р е ш е н и е. Ход лучей изображен на рисунке. По закону преломления $\sin \alpha_1 = n \sin \beta_1$, $\sin \alpha_2 = n \sin \beta_2$. Учитывая, что, по условию, $\alpha_2 = \frac{\pi}{2} - \alpha_1$, пе-

решим второе равенство в виде: $\cos \alpha_1 = n \sin \beta_2$. Возведя записанные равенства в квадрат и сложив их, получаем: $\sin^2 \alpha_1 + \cos^2 \alpha_1 = n^2 (\sin^2 \beta_1 + \sin^2 \beta_2)$. С использованием известного тригонометрического тождества $\sin^2 \alpha_1 + \cos^2 \alpha_1 = 1$



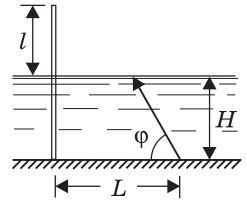
находим: $n = \frac{1}{\sqrt{\sin^2 \beta_1 + \sin^2 \beta_2}} \approx 1,15.$

О т в е т. $n \approx 1,15.$

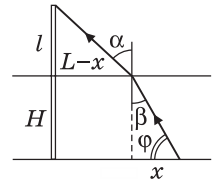
4.1.14. Водолаз направляет из-под воды луч света так, чтобы он попал на конец вертикальной сваи, выступающей из воды. Определить длину l части сваи, выступающей из воды, если известно, что луч составляет с поверхностью горизонтального дна угол φ , а водолаз находится на глубине H и на расстоянии L от нижнего конца сваи. Показатель преломления воды

равен n . Ростом водолаза по сравнению с глубиной H пренебречь.

Решение. Ход луча, направляемого водолазом, изображен на рисунке, где β — угол падения луча на границу «вода — воздух», α — угол преломления на этой границе. Из рисунка видно, что искомая длина $l = (L - x)\text{ctg}\alpha$, где $x = H\text{ctg}\varphi$. По закону преломления $\sin\alpha = n\sin\beta$, а поскольку $\beta = \frac{\pi}{2} - \varphi$, то $\sin\beta = \cos\varphi$.

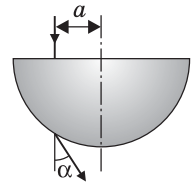


Используя формулу $\text{ctg}\alpha = \frac{\sqrt{1 - \sin^2\alpha}}{\sin\alpha}$, находим l .

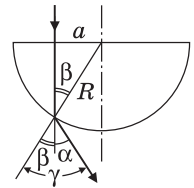


$$\text{О т в е т. } l = (L - H\text{ctg}\varphi) \frac{\sqrt{1 - n^2 \cos^2\varphi}}{n \cos\varphi}.$$

4.1.15. Луч света падает на стеклянный полушар радиусом R на расстоянии a от его оси симметрии и параллельно ей. На какой угол α отклонится вышедший после преломления в полушаре луч, если $a = 0,5R$, $n = 1,414$?



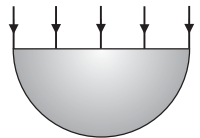
Решение. Ход луча изображен на рисунке. Видно, что угол преломления луча на границе «стекло — воздух» равен $\gamma = \alpha + \beta$, где β — угол падения луча на эту границу, причем $\sin\beta = a/R$. По закону преломления, $\frac{\sin(\alpha + \beta)}{\sin\alpha} = n$.



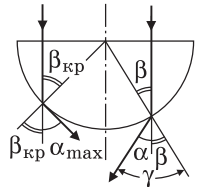
Следовательно, $\sin(\alpha + \beta) = na/R$. Отсюда получаем: $\alpha = \arcsin\left(\frac{na}{R}\right) - \arcsin\left(\frac{a}{R}\right) = 15^\circ$.

$$\text{О т в е т. } \alpha = 15^\circ.$$

4.1.16. Широкий световой пучок падает на основание стеклянного полушара с показателем преломления $n = 1,41$ перпендикулярно плоскости основания. Каков максимальный угол α_{max} отклонения прошедших через полушар лучей от их первоначального направления?



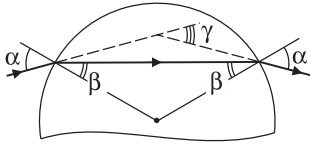
Решение. Ход двух лучей, падающих на основание полушара на разных расстояниях от его оси симметрии, изображен на рисунке. Видно, что с увеличением расстояния от точки падения луча до оси симметрии полушара угол падения β на границу «стекло — воздух» монотонно возрастает. Одновременно монотонно растет угол преломления γ и угол отклонения луча от первоначального направления $\alpha = \gamma - \beta$. Максимального значения этот угол достигает при падении луча на границу «стекло — воздух» под углом $\beta_{\text{кр}} = \arcsin\left(\frac{1}{n}\right)$.



$$\text{О т в е т. } \alpha_{\text{max}} = \frac{\pi}{2} - \arcsin\left(\frac{1}{n}\right) = 45^\circ.$$

4.1.17. Световой луч падает на поверхность стеклянного шара. Угол падения луча $\alpha = 45^\circ$, показатель преломления стекла $n = 1,41$. Найти угол γ между падающим лучом и лучом, вышедшим из шара.

Решение. Световой луч испытывает преломление дважды: при входе в стеклянный шар и при выходе из него (см. ход лучей, изображенный на рисунке). При этом нормаль к преломляющей поверхности в точках паде-



ния луча совпадает с радиусом шара, проведенным в эти точки. Из рисунка видно, что искомый угол $\gamma = 2(\alpha - \beta)$, где α — угол падения луча на поверхность шара, совпадающий с углом преломления на выходе луча из шара; β — угол преломления на границе «воздух — стекло», совпадающий с углом падения на границу «стекло — воздух».

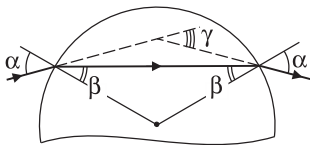
По закону преломления, $\sin \alpha = n \sin \beta$, откуда $\beta = \arcsin\left(\frac{1}{n} \sin \alpha\right)$. Следова-

тельно, $\gamma = 2\alpha - 2\arcsin\left(\frac{1}{n} \sin \alpha\right) = 30^\circ$.

О т в е т. $\gamma = 30^\circ$.

4.1.18. Световой луч падает на поверхность стеклянного шара под углом $\alpha = 45^\circ$. Найти показатель преломления стекла n , если угол между падающим лучом и лучом, вышедшим из шара, $\gamma = 30^\circ$.

Решение. Световой луч испытывает преломление дважды: при входе в стеклянный шар и при выходе из него (см. ход лучей, изображенный на рисунке). При этом нормаль к преломляющей поверхности в точках паде-

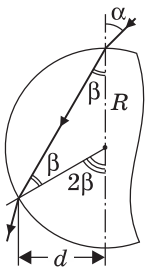


ния луча совпадает с радиусом шара, проведенным в эти точки. Из рисунка видно, что угол $\gamma = 2(\alpha - \beta)$, где α — угол падения луча на поверхность шара, совпадающий с углом преломления на выходе луча из шара; β — угол преломления на границе «воздух — стекло», совпадающий с углом падения на границу «стекло — воздух». Отсюда

$$\beta = \alpha - \gamma/2. \text{ По закону преломления } n = \frac{\sin \alpha}{\sin \beta}.$$

О т в е т. $n = \frac{\sin \alpha}{\sin(\alpha - \gamma/2)} = \sqrt{2}$.

4.1.19. На стеклянный шар радиуса R с показателем преломления n падает узкий пучок света, образуя угол α с осью, проведенной через точку падения и центр шара. На каком расстоянии d от этой оси пучок выйдет из шара?



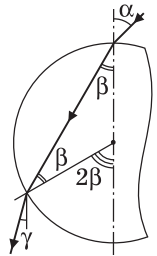
Решение. Пучок света испытывает преломление дважды: при входе в стеклянный шар и при выходе из него. При этом нормали к преломляющей поверхности в точках падения пучка совпадают с радиусами шара, проведенными в эти точки. Из рисунка видно, что искомое расстояние $d = R \sin 2\beta = 2R \sin \beta \cos \beta$, где β — угол преломления. По закону прелом-

ления, $\sin\beta = \frac{1}{n}\sin\alpha$. Следовательно, $\cos\beta = \frac{1}{n}\sqrt{n^2 - \sin^2\alpha}$. Объединяя записанные выражения, получаем: $d = \frac{2R}{n^2}\sin\alpha\sqrt{n^2 - \sin^2\alpha}$.

О т в е т. $d = \frac{2R}{n^2}\sin\alpha\sqrt{n^2 - \sin^2\alpha}$.

4.1.20. На поверхность стеклянного шара с показателем преломления $n < 2$ падает узкий пучок света, образуя малый угол α с осью шара, проведенной через точку падения и центр шара. Под каким углом γ к этой оси пучок выйдет из шара? При расчетах положить $\sin\alpha \approx \alpha$.

Р е ш е н и е. Ход одного из лучей, образующих пучок света, изображен на рисунке. Видно, что искомый угол равен $\gamma = 2\beta - \alpha$, где β — угол преломления. Из закона преломления $\sin\beta = \frac{\sin\alpha}{n}$ при малых α и β следует, что $\beta \approx \frac{\alpha}{n}$.

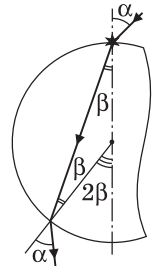


О т в е т. $\gamma = \alpha \frac{2-n}{n}$.

4.1.21. Снаружи от прозрачного шара вплотную к его поверхности помещен точечный источник света. При каких значениях n показателя преломления шара все выходящие из него лучи (за исключением луча, прошедшего через центр шара) будут наклонены по направлению к оси, проведенной через источник и центр шара?

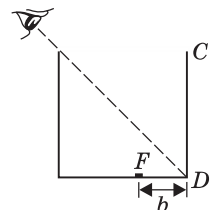
Р е ш е н и е. Точечный источник испускает лучи света во всех направлениях. Часть этих лучей попадает внутрь шара. Из рисунка видно, что условие задачи выполнено, если для луча с произвольным углом падения α справедливо неравенство $\alpha > 2\beta$. Учитывая, что $\alpha \leq 90^\circ$, $2\beta \leq 90^\circ$, это неравенство можно заменить равносильным: $\sin\alpha > \sin 2\beta$. Используя закон преломления $\sin\alpha = n \sin\beta$ и тригонометрическое тождество $\sin 2\beta = 2 \sin\beta \cos\beta$, преобразуем последнее неравенство к виду: $\frac{2}{n^2}\sqrt{n^2 - \sin^2\alpha} < 1$

(для всех α). Очевидно, что это неравенство должно быть выполнено прежде всего при $\alpha \rightarrow 0$, тогда оно будет справедливо и для всех других α . Полагая $\alpha = 0$, получаем: $n > 2$.

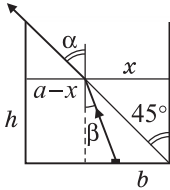


О т в е т. $n > 2$.

4.1.22. Цилиндрический сосуд с непрозрачными стенками расположен так, что глаз наблюдателя не видит дна сосуда, но видит полностью образующую цилиндра CD . Высота цилиндра $a = 40$ см равна его диаметру. Какой объем V воды нужно налить в сосуд, чтобы наблюдатель смог увидеть маленький предмет F , находящийся на расстоянии $b = 10$ см от точки D ? Показатель преломления воды $n = 1,33$.



Решение. Ход одного из лучей, дающих изображение предмета в глазу наблюдателя, изображен на рисунке, где β — угол падения луча на границу «вода — воздух», α — угол преломления на этой границе, h — высота уровня воды в сосуде. Из рисунка видно, что $x = h \operatorname{tg} \beta + b$. Кроме того, по условию,



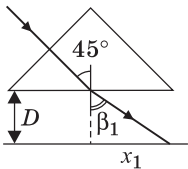
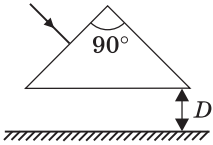
$x = h$. Из этих равенств определяем $h = \frac{b}{1 - \operatorname{tg} \beta}$. По закону преломления, $\sin \beta = \frac{1}{n} \sin \alpha$, причем $\alpha = 45^\circ$. Используя формулу $\operatorname{tg} \beta = \frac{\sin \beta}{\sqrt{1 - \sin^2 \beta}}$, находим, что требуемая

высота уровня воды в сосуде $h = b \frac{\sqrt{2n^2 - 1}}{\sqrt{2n^2 - 1} - 1}$. Поскольку

искомый объем воды $V = \frac{\pi a^2 h}{4}$, запишем: $V = \frac{\pi a^2 b}{4} \cdot \frac{\sqrt{2n^2 - 1}}{\sqrt{2n^2 - 1} - 1} \approx 35,7$ л.

Ответ. $V \approx 35,7$ л.

4.1.23. На боковую грань равнобедренной призмы с углом при вершине 90° падает перпендикулярно этой грани луч света с длиной волны, для которой показатель преломления призмы $n_1 = 1,1$. После выхода из призмы луч падает на экран, находящийся на расстоянии $D = 10$ см от основания призмы и параллельно основанию. На какое расстояние l сместится луч на экране, если он будет иметь другую длину волны, для которой показатель преломления призмы $n_2 = 1,2$?



Решение. Ход луча света с длиной волны, для которой показатель преломления призмы равен n_1 , изображен на рисунке, где β_1 — угол преломления луча. Видно, что расстояние $x_1 = D \operatorname{tg} \beta_1$. По закону преломления $\sin \beta_1 = \frac{1}{n_1} \sin 45^\circ = \frac{\sqrt{2}}{2n_1}$. Используя формулу

$\operatorname{tg} \beta_1 = \frac{\sin \beta_1}{\sqrt{1 - \sin^2 \beta_1}}$, находим, что $x_1 = D \frac{n_1}{\sqrt{2 - n_1^2}}$.

Аналогичное расстояние для луча света с длиной волны, для которой показатель преломления призмы n_2 , равно $x_2 = D \frac{n_2}{\sqrt{2 - n_2^2}}$. Учитывая, что иско-

мое смещение луча $l = x_2 - x_1$, получаем: $l = D \left(\frac{n_2}{\sqrt{2 - n_2^2}} - \frac{n_1}{\sqrt{2 - n_1^2}} \right) \approx 8,67$ см.

Ответ. $l \approx 8,67$ см.

4.1.24. Луч света, лежащий в плоскости рисунка, падает на боковую грань AB призмы, имеющей при вершине угол 90° . В каких пределах лежат возможные значения угла падения α , если известно, что луч выходит

из боковой грани AC ? Показатель преломления призмы $n = 1,25$.

Решение. Для того чтобы луч мог выйти из задней грани призмы (грани AC), нужно, чтобы угол β_2 его падения на эту грань был меньше критического угла полного внутреннего отражения. Поскольку $\beta_1 + \beta_2 = 90^\circ$, то $\sin \beta_2 = \cos \beta_1$. Если β_2 — критический угол ($\alpha_2 = 90^\circ$), то $\cos \beta_1 = 1/n$. Соответствующий угол падения на переднюю грань определяется равенством:

$\sin \alpha_1 = n \sin \beta_1 = n \sqrt{1 - \cos^2 \beta_1} = \sqrt{n^2 - 1}$. Легко видеть,

что если луч падает на переднюю грань призмы под меньшим углом, то на задней грани призмы произойдет его полное отражение (угол β_1 уменьшится, а угол β_2 возрастет). Наоборот, если угол падения луча на переднюю грань призмы увеличить, то угол β_1 также увеличится, а угол β_2 уменьшится и луч выйдет из задней грани призмы. Таким образом, для того чтобы луч вышел из задней грани, угол падения его на переднюю грань должен удовлетворять условию: $\sqrt{n^2 - 1} < \sin \alpha < 1$, или $0,75 < \sin \alpha < 1$, т. е. $48^\circ 40' < \alpha < 90^\circ$.

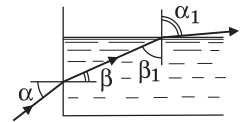
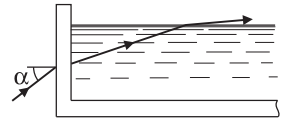
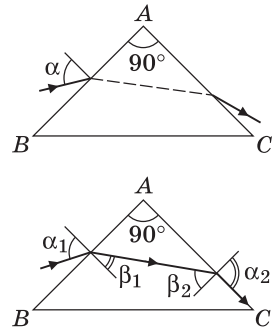
Ответ. $48^\circ 40' < \alpha < 90^\circ$.

4.1.25. Луч света, идущий в плоскости рисунка, падает наклонно на вертикальную стенку прозрачной кюветы, заполненной жидкостью с показателем преломления $n = 1,25$. В каких пределах должен лежать угол падения α , чтобы луч мог выйти из жидкости, как показано на рисунке?

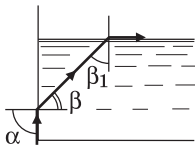
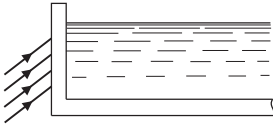
Решение. Пусть показатель преломления материала кюветы n' . Записывая закон преломления произвольного луча дважды: на границе «воздух — стенка» и на границе «стенка — жидкость», имеем: $\sin \alpha = n' \sin \beta'$, $n' \sin \beta' = n \sin \beta$. Отсюда следует, что угол падения α луча на стенку кюветы связан с углом преломления β этого луча на границе стенки и жидкости соотношением: $\sin \alpha = n \sin \beta$. Таким образом, преломление луча в стенке кюветы можно не учитывать, сразу записав закон преломления луча на границе «воздух — жидкость». Для того чтобы луч, попав в жидкость, смог затем выйти из нее через свободную поверхность, нужно, чтобы угол β_1 его падения на эту поверхность был меньше критического угла полного внутреннего отражения. Поскольку $\beta + \beta_1 = 90^\circ$, то $\sin \beta_1 = \cos \beta$. Если β_1 — критический угол ($\alpha_1 = 90^\circ$), то $\cos \beta = 1/n$. Соответствующий угол падения на стенку кюветы определяется равенством:

$\sin \alpha = n \sin \beta = n \sqrt{1 - \cos^2 \beta} = \sqrt{n^2 - 1}$. Легко видеть, что если луч падает на стенку кюветы под меньшим углом, то на свободной поверхности жидкости произойдет его полное отражение (угол β уменьшится, а угол β_1 возрастет). Наоборот, если угол падения луча на стенку кюветы увеличить, то угол β также увеличится, а угол β_1 уменьшится и луч выйдет из жидкости.

Ответ. $\sin \alpha \geq \sqrt{n^2 - 1} = 0,75$.



4.1.26. Пучок параллельных световых лучей падает наклонно на вертикальную стенку прозрачной кюветы, заполненной жидкостью с показателем преломления n . При каких значениях n пучок не выйдет через свободную поверхность жидкости независимо от угла падения?



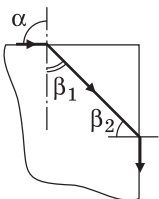
Решение. Преломление луча в стенке кюветы можно не учитывать, сразу записав закон преломления луча на границе «воздух — жидкость», а именно $\sin \alpha = n \sin \beta$ (см. решение к задаче 4.1.25). Рассмотрим луч, падающий на стенку кюветы под углом $\alpha = 90^\circ$. Для этого луча $\sin \beta = 1/n$. Преломленный под таким углом луч не выйдет из жидкости через ее свободную поверхность, если $\sin \beta_1 > 1/n$. Поскольку $\sin \beta_1 = \cos \beta = \frac{1}{n} \sqrt{n^2 - 1}$,

это неравенство эквивалентно следующему: $\sqrt{n^2 - 1} > 1$, или $n > \sqrt{2}$. Лучи, падающие на стенку кюветы под меньшими углами, заведомо не выйдут из жидкости.

Ответ. $n > \sqrt{2}$.

4.1.27. Снаружи круглого прозрачного стержня вблизи от центра его торца помещен точечный источник света. При каких значениях показателя преломления материала стержня n свет не будет выходить через его боковую поверхность?

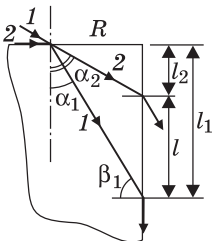
Решение. Рассмотрим луч, падающий на торец стержня под углом $\alpha = 90^\circ$. Для этого луча $\sin \beta_1 = 1/n$. Преломленный под таким углом луч не выйдет из боковой поверхности стержня, если



$\sin \beta_2 > 1/n$. Поскольку $\sin \beta_2 = \cos \beta_1 = \frac{1}{n} \sqrt{n^2 - 1}$, это неравенство эквивалентно следующему: $\sqrt{n^2 - 1} > 1$, или $n > \sqrt{2}$. Лучи, падающие на торец стержня под меньшими углами, заведомо не выйдут из его боковой поверхности.

Ответ. $n > \sqrt{2}$.

4.1.28. Снаружи круглого прозрачного стержня вблизи от центра его торца помещен точечный источник света. Найти ширину l области на боковой поверхности стержня, через которую будут выходить наружу световые лучи. Радиус стержня R , показатель преломления стержня n .



Решение. На рисунке изображены два луча, определяющие границы области на боковой поверхности стержня, из которой свет будет выходить наружу. Верхняя граница образуется лучом 2, наиболее отклоненным от оси стержня (т. е. преломленным при касательном падении света на торец стержня). Таким образом, угол α_2 находится из условия $\sin \alpha_2 = 1/n$, и $l_2 = R \operatorname{ctg} \alpha_2 = R \sqrt{n^2 - 1}$. Нижняя граница определяется условием

полного отражения на боковой поверхности стержня луча l : $\sin \beta_1 = 1/n$. Следовательно, $l_1 = R \operatorname{tg} \beta_1 = R/\sqrt{n^2 - 1}$. Учитывая, что $l = l_1 - l_2$, получаем:

$$l = R \left(\frac{1}{\sqrt{n^2 - 1}} - \sqrt{n^2 - 1} \right).$$

О т в е т. $l = R \left(\frac{1}{\sqrt{n^2 - 1}} - \sqrt{n^2 - 1} \right).$

4.1.29. Торце круглого прозрачного стержня с показателем преломления n освещается рассеянным светом. Под каким максимальным углом γ к оси стержня выходят световые лучи через его боковую поверхность?

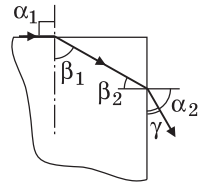
Р е ш е н и е. Максимальный угол к оси стержня образуют лучи, угол преломления α_2 которых на боковой поверхности стержня минимален. Это лучи, падающие на торце стержня под углом $\alpha_1 = 90^\circ$ и преломляющиеся

под углом β_1 , удовлетворяющим условию: $\sin \beta_1 = \frac{1}{n}$.

Угол падения этих лучей на боковую поверхность стержня $\beta_2 = \frac{\pi}{2} - \beta_1$, поэтому $\sin \beta_2 = \cos \beta_1 = \frac{1}{n} \sqrt{n^2 - 1}$. Учиты-

вая, что $\sin \alpha_2 = n \sin \beta_2$, находим, что $\alpha_2 = \arcsin \sqrt{n^2 - 1}$.

О т в е т. $\gamma = \frac{\pi}{2} - \arcsin \sqrt{n^2 - 1}$.



4.1.30. Луч света, идущий в плоскости чертежа, падает на переднюю грань стеклянного клина с углом $\varphi = 45^\circ$ между гранями. При каких значениях угла падения α луч выйдет через заднюю грань клина? Показатель преломления стекла $n = \sqrt{2}$.

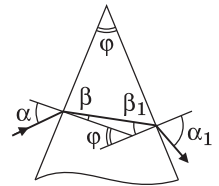
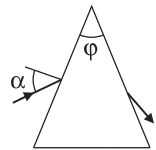
Р е ш е н и е. Ход луча при некотором угле α падения на переднюю грань клина изображен на рисунке. Этот луч выйдет через заднюю грань клина, если угол β_1 падения на нее удовлетворяет условию $\sin \beta_1 < \frac{1}{n}$, или

$\cos \beta_1 > \sqrt{1 - \frac{1}{n^2}}$. Из рисунка видно, что $\beta + \beta_1 = \varphi$. Следова-

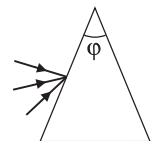
тельно, $\sin \beta = \sin \varphi \cos \beta_1 - \sin \beta_1 \cos \varphi > \frac{1}{n} (\sin \varphi \sqrt{n^2 - 1} - \cos \varphi)$.

По закону преломления, $\sin \alpha = n \sin \beta$.

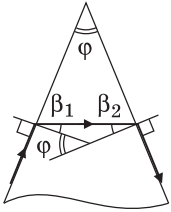
О т в е т. $\sin \alpha > \sin \varphi \sqrt{n^2 - 1} - \cos \varphi$, т. е. $\sin \alpha > 0$.



4.1.31. Каков должен быть преломляющий угол призмы φ , чтобы ни один из лучей, падающих на одну из ее боковых граней и лежащих в плоскости рисунка, не вышел из другой боковой грани? Призма изготовлена из стекла с показателем преломления $n = 2$.



Решение. Рассмотрим луч, падающий на боковую грань призмы под углом $\alpha = 90^\circ$ (см. рисунок). Угол преломления β_1 этого луча определяется равенством: $\sin \beta_1 = 1/n$. Пусть преломляющий угол призмы φ таков, что угол падения рассматриваемого луча на другую боковую грань призмы $\beta_2 = \beta_1$. Поскольку $\varphi = \beta_1 + \beta_2$, изображенный на рисунке ход

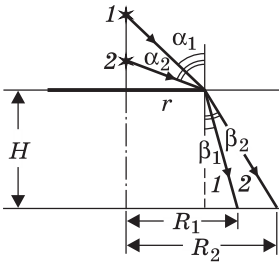


луча имеет место, если $\varphi = 2\arcsin\left(\frac{1}{n}\right)$. Таким образом, для луча, падающего на боковую грань призмы под углом $\alpha = 90^\circ$, условие задачи выполнено при $\varphi > 2\arcsin\left(\frac{1}{n}\right)$. При этом лучи, падающие на боковую грань призмы под меньшими углами, также не выйдут из другой ее боковой грани.

Ответ. $\varphi > 2\arcsin\left(\frac{1}{n}\right) = 60^\circ$.

4.1.32. На поверхности водоема, имеющего глубину $H = 3,3$ м, плавает фанерный круг радиусом $r = 3$ м. На оси круга расположен точечный источник света, высота которого над поверхностью круга может изменяться. Чему равен максимальный радиус тени круга на дне R , если показатель преломления воды $n = 1,33$?

Решение. Ход лучей, ограничивающих тень от круга на дне водоема при двух положениях источника света изображен на рисунке. Радиус тени определяется в этих случаях равенством:



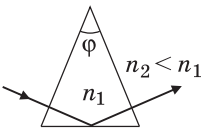
$$R_{1,2} = r + H \operatorname{tg} \beta_{1,2} = r + H \frac{\sin \beta_{1,2}}{\sqrt{1 - \sin^2 \beta_{1,2}}}$$

видно, что радиус тени увеличивается с уменьшением высоты источника. Поэтому радиус тени максимален, когда источник расположен непосредственно на поверхности круга. В этом случае лучи света касательны к границе раздела воздуха и воды, т. е. угол падения $\alpha = 90^\circ$ и $\sin \beta = 1/n$. Подставляя это

значение в выражение для радиуса тени, получаем: $R = r + \frac{H}{\sqrt{n^2 - 1}} \approx 6,8$ м.

Ответ. $R \approx 6,8$ м.

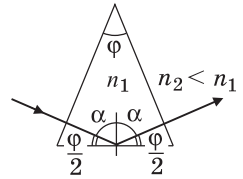
4.1.33. Равнобедренная призма с углом при вершине φ и показателем преломления n_1 помещена в жидкость, показатель преломления которой $n_2 < n_1$. Перпендикулярно боковой грани призмы падает луч света, который, отражаясь от основания, выходит через другую боковую грань. При каких значениях угла φ луч будет претерпевать полное внутреннее отражение от основания призмы?



Решение. Ход луча изображен на рисунке, из которого видно, что угол падения луча на основание призмы $\alpha = \frac{\pi}{2} - \frac{\varphi}{2}$. Луч испытает полное отраже-

ние от основания призмы, если $\sin \alpha \geq \frac{n_2}{n_1}$. Поскольку

$$\sin \alpha = \cos \frac{\varphi}{2}, \text{ запишем: } \varphi \leq 2 \arccos \left(\frac{n_2}{n_1} \right).$$



О т в е т. $\varphi \leq 2 \arccos \left(\frac{n_2}{n_1} \right)$.

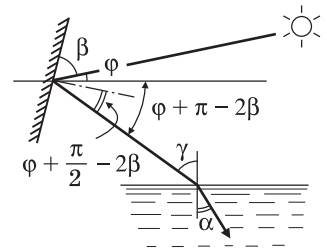
4.1.34. Высота солнца над горизонтом составляет угол $\varphi = 10^\circ$. Пользуясь зеркалом, пускают «зайчик» в водоем. Под каким углом β к горизонтали нужно расположить зеркало, чтобы луч света шел в воде под углом $\alpha = 41^\circ$ к вертикали ($\sin \alpha \approx 0,655$). Показатель преломления воды $n = 1,32$. Считать, что нормаль к зеркалу лежит в вертикальной плоскости.

Р е ш е н и е. Ход луча и расположение зеркала представлены на рисунке, где штрихпунктирной линией изображена нормаль к поверхности зеркала. Из рисунка видно, что отраженный от зеркала луч образует с горизонтом угол $\varphi + \pi - 2\beta$. Следовательно, угол падения этого луча на поверхность

воды равен $\gamma = \frac{\pi}{2} - (\varphi + \pi - 2\beta) = 2\beta - \varphi - \frac{\pi}{2}$, откуда

$$\beta = \frac{1}{2} \left(\frac{\pi}{2} + \varphi + \gamma \right).$$

С другой стороны, по закону преломления $\sin \gamma = n \sin \alpha = 0,8646 \approx \frac{\sqrt{3}}{2}$. Отсюда $\gamma = \arcsin(n \sin \alpha) = 60^\circ$.



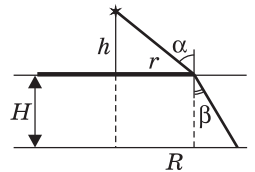
О т в е т. $\beta = \frac{1}{2} \cdot \left[\frac{\pi}{2} + \varphi + \arcsin(n \sin \alpha) \right] \approx 80^\circ$.

4.1.35. На водной поверхности бассейна глубиной $H = 2$ м плавает круглый плот радиуса $r = 1,5$ м. В центре пловта укреплена вертикальная мачта, на вершине которой висит фонарь. Определить высоту мачты h , если известно, что радиус тени от пловта на дне бассейна $R = 2,1$ м. Показатель преломления воды $n = 1,33$. Фонарь считать точечным источником света.

Р е ш е н и е. Ход луча, ограничивающего размер тени на дне бассейна, изображен на рисунке. Видно, что искомая высота мачты $h = r \operatorname{ctg} \alpha$, где α — угол падения луча на поверхность воды. По закону преломления $\sin \alpha = n \sin \beta$. Как видно из рисунка,

$$\sin \beta = \frac{R - r}{\sqrt{(R - r)^2 + H^2}}.$$

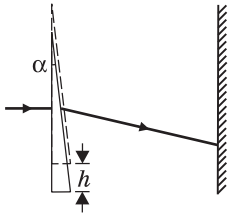
Используя известную из тригонометрии формулу: $\operatorname{ctg} \alpha = \frac{\sqrt{1 - \sin^2 \alpha}}{\sin \alpha}$, полу-



чаем: $h = \frac{r}{(R - r)n} \sqrt{H^2 - (n^2 - 1)(R - r)^2} \approx 3,63$ м.

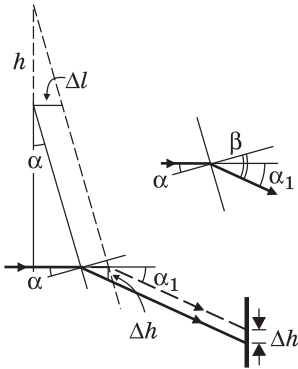
О т в е т. $h \approx 3,63$ м.

4.1.36. Узкий пучок световых лучей падает на стеклянный клин перпендикулярно его передней грани, расположенной вертикально. Пройдя клин,



пучок попадает на вертикальный экран. На какое расстояние Δh сместится световое пятно на экране, если сдвинуть клин вверх на расстояние $h = 5$ см? Показатель преломления клина $n = 1,5$, угол при его вершине $\alpha = 5,7^\circ$. При расчетах положить $\text{tg } \alpha \approx \sin \alpha \approx \alpha$.

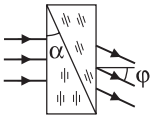
Решение. Ход луча, преломленного клином при двух его положениях, изображен на рисунке сплошной и штриховой линиями. Видно, что при сдвигании клина вверх на расстояние h точка, в которой преломленный луч выходит в воздух, смещается по горизонтали вправо на расстояние $\Delta l = h \text{tg } \alpha \approx h\alpha$. В результате возникает смещение луча вверх на расстояние, равное по величине катету Δh , лежащему против угла α_1 в прямоугольном треугольнике, другой катет которого Δl (см. рисунок).



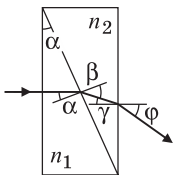
Таким образом, $\Delta h = \Delta l \text{tg } \alpha_1 \approx h\alpha\alpha_1$. Для определения угла α_1 рассмотрим преломление луча на границе «стекло — воздух», изображенное на рисунке крупным планом. В силу малости угла падения закон преломления можно приближенно записать в виде: $\beta \approx n\alpha$. Поэтому $\alpha_1 = \beta - \alpha = (n - 1)\alpha$. Объединяя записанные выражения, получаем: $\Delta h \approx h\alpha^2(n - 1) \approx 2,5 \cdot 10^{-2}$ см.

Ответ. $\Delta h \approx 2,5 \cdot 10^{-2}$ см.

4.1.37. Две призмы с равными углами при вершине $\alpha = 5^\circ$, имеющие разные показатели преломления, плотно прижаты друг к другу и расположены, как показано на рисунке. При освещении этой системы призмы параллельным пучком света, падающим нормально на переднюю грань системы, оказалось, что вышедший из нее пучок отклонился от первоначального направления на угол $\varphi = 3^\circ$. Найти разность Δn показателей преломления материалов призм. При расчетах положить $\sin \alpha \approx \alpha$, $\sin \varphi \approx \varphi$.



Решение. Ход одного из лучей, преломленных призмами, изображен на рисунке, где рассмотрен случай $n_2 < n_1$, при котором вышедший из системы луч отклоняется вниз. По закону преломления,



$\frac{\sin \alpha}{\sin \beta} \approx \frac{\alpha}{\beta} = \frac{n_2}{n_1}$, аналогично, $\frac{\gamma}{\varphi} = \frac{1}{n_2}$. Из рисунка видно, что

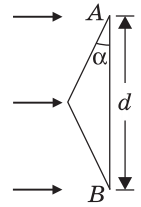
$\gamma = \beta - \alpha$. Следовательно, $n_2 = \frac{\varphi}{\beta - \alpha}$. Подставляя найденное

n_2 в первое уравнение, получаем, что $n_1 = \frac{\beta\varphi}{\alpha(\beta - \alpha)}$. Таким

образом, $\Delta n = n_1 - n_2 = \frac{\varphi}{\beta - \alpha} \cdot \left(\frac{\beta}{\alpha} - 1 \right)$.

Ответ. $\Delta n = \frac{\varphi}{\alpha} = 0,6$.

4.1.38. На равнобедренную стеклянную призму падает широкий параллельный пучок света, перпендикулярный грани AB , ширина которой $d = 5$ см. На каком расстоянии L от грани AB преломленный призмой свет разделится на два не перекрывающихся пучка? Показатель преломления стекла $n = 1,5$, угол при основании призмы $\alpha = 5,7^\circ$. При расчетах учесть, что для малых углов $\text{tg } \alpha \approx \sin \alpha \approx \alpha$.



Решение. Каждый из лучей света, падающих на призму, преломляется дважды: на передней и задней ее гранях (см. рисунок). Закон преломления на этих гранях, записанный с учетом малости углов падения и преломления, дает следующие соотношения:

$$\beta = \frac{\alpha}{n}, \quad \delta = n\gamma. \quad \text{Поскольку } \gamma = \alpha - \beta,$$

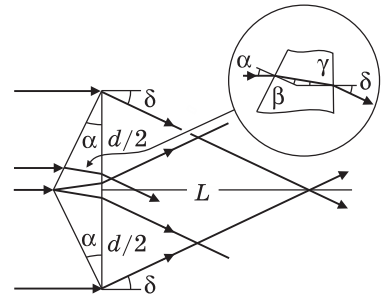
получаем для угла преломления δ значение $\delta = \alpha(n - 1)$. Из рисунка видно, что пучки света, преломленные призмой, перестанут перекрываться на расстоянии L , удовлетворяющем условию:

$$L = \frac{d}{2 \text{tg } \delta} \approx \frac{d}{2\delta}.$$

Объединяя записанные выражения, находим:

$$L = \frac{d}{2\alpha(n - 1)} \approx 50 \text{ см.}$$

Ответ. $L \approx 50$ см.

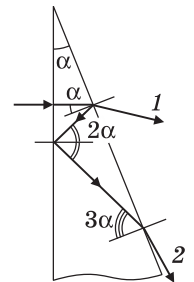
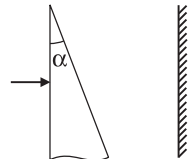


4.1.39. На стеклянный клин перпендикулярно его передней грани падает тонкий пучок света. Показатель преломления стекла $n = 1,41$, угол при вершине клина $\alpha = 10^\circ$. Построив ход преломленных и отраженных от граней клина лучей, определить число m светлых пятен, которые будут видны на экране, поставленном за клином.

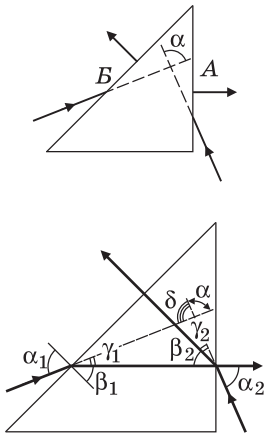
Решение. Ход лучей изображен на рисунке. Видно, что угол падения исходного луча на заднюю (наклонную) грань равен α , угол падения на эту грань луча, испытавшего первое отражение от передней грани, равен $\alpha_1 = 3\alpha$. Вообще, после m -го отражения от передней грани угол падения луча на заднюю грань $\alpha_m = (2m + 1)\alpha$. Лучи будут выходить из задней грани при условии $\alpha_m < \alpha_0$, где α_0 — угол полного отражения, определяемый условием

$\sin \alpha_0 = \frac{1}{n} = \frac{\sqrt{2}}{2}$, т. е. $\alpha_0 = 45^\circ$. По условию $\alpha = 10^\circ$. Следовательно, $\alpha_1 = 30^\circ$, $\alpha_2 = 50^\circ$, причем $\alpha_2 > \alpha_0$. Поэтому из задней грани клина выйдут только два луча, которые и попадут на экран.

Ответ. $m = 2$.



4.1.40. На грани A и B прямоугольной равнобедренной призмы падают два луча, лежащие в одной плоскости. Луч, падающий на грань A , выходит



из грани *Б* перпендикулярно к ней. Луч, падающий на грань *Б*, выходит из грани *А* перпендикулярно к этой грани. Найти угол α между входящими в призму лучами. Показатель преломления стекла равен n .

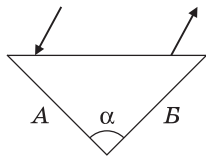
Решение. Ход лучей изображен на рисунке. Видно, что искомый угол $\alpha = \pi - \delta$. В свою очередь, угол $\delta = \gamma_1 + \gamma_2 + \beta_2$, а углы $\gamma_1 = \alpha_1 - \beta_1$ и $\gamma_2 = \alpha_2 - \beta_2$. По закону преломления, $\sin \alpha_1 = n \sin \beta_1$, $\sin \alpha_2 = n \sin \beta_2$, а по условию задачи $\beta_1 = \beta_2 = \frac{\pi}{4}$. Следова-

тельно, $\alpha_1 = \alpha_2 = \arcsin \frac{n}{\sqrt{2}}$. Объединяя записанные

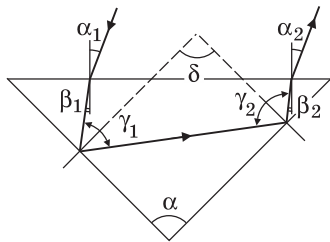
выражения, получаем: $\alpha = \frac{5}{4}\pi - 2\arcsin\left(\frac{n}{\sqrt{2}}\right)$.

Отв е т. $\alpha = \frac{5}{4}\pi - 2\arcsin\left(\frac{n}{\sqrt{2}}\right)$.

4.1.41. Стекла́нная призма имеет равные углы при основании. Чему равен угол α при вершине призмы, если известно, что произвольный луч, падающий на ее основание в плоскости чертежа, после двукратного отражения от граней *А* и *Б* призмы выходит параллельно первоначальному направлению?



Решение. Ход луча изображен на рисунке. Видно, что искомый угол $\alpha = \pi - \delta$, где δ — угол между нормальями к боковым граням призмы, равный $\delta = \pi - \frac{\gamma_1}{2} - \frac{\gamma_2}{2}$.

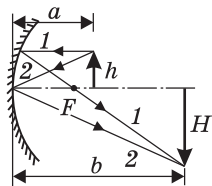


Здесь $\gamma_1/2$ и $\gamma_2/2$ — углы падения луча на эти грани. Поскольку падающий на основание призмы и вышедший из него лучи по условию параллельны, то $\alpha_1 = \alpha_2$ и $\beta_1 = \beta_2$. Следовательно, по свойству углов, образованных параллельными прямыми и секущей, $\gamma_1 + \gamma_2 = \pi$. Объединяя записанные выражения, получаем: $\alpha = 90^\circ$.

Отв е т. $\alpha = 90^\circ$.

4.1.42. Предмет высотой $h = 5$ см находится на расстоянии $a = 12$ см от вогнутого зеркала с фокусным расстоянием $F = 10$ см. На каком расстоянии b от зеркала образуется изображение? Какова его высота?

Решение. Построение изображения предмета изображено на рисунке, где использованы два луча: луч *1*, идущий параллельно главной оптической оси и после отражения проходящий через фокус зеркала, и луч *2*, падающий на зеркало в его полюсе и после отражения идущий симметрично падающему относительно главной оптической оси зеркала. Ис-



пользуя формулу сферического зеркала: $\frac{1}{a} + \frac{1}{b} = \frac{1}{F}$, нахо-

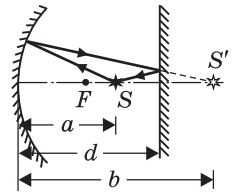
дим, что $b = \frac{aF}{a - F} = 60$ см. Из рисунка видно, что $\frac{h}{a} = \frac{H}{b}$. Следовательно,

$$H = \frac{hF}{a - F} = 25 \text{ см.}$$

О т в е т. $b = 60$ см; $H = 25$ см.

4.1.43. Радиус кривизны вогнутого сферического зеркала $R = 40$ см. На главной оптической оси этого зеркала помещен точечный источник света S на расстоянии $a = 30$ см от зеркала. На каком расстоянии d от вогнутого зеркала нужно поставить плоское зеркало, чтобы лучи, отраженные вогнутым, а затем плоским зеркалом, вернулись в точку S ?

Р е ш е н и е. На рисунке изображено построение изображения S' источника S в вогнутом зеркале. Для этого использован один из лучей, испущенный источником и отраженный от зеркала под углом, равным углу падения. Из рисунка видно, что этот луч, будучи отраженным от плоского зеркала, попадет в точку S , если это зеркало расположить посередине между точками S и S' . Следовательно, $d = \frac{a + b}{2}$. Используя



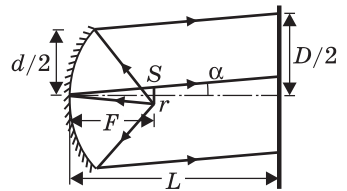
формулу сферического зеркала: $\frac{1}{a} + \frac{1}{b} = \frac{2}{R}$, находим,

$$\text{что } b = \frac{aR}{2a - R}.$$

$$\text{О т в е т. } d = \frac{a^2}{2a - R} = 45 \text{ см.}$$

4.1.44. В фокусе сферического зеркала прожектора помещен источник света в виде светящегося диска радиусом $r = 1$ см. Найти диаметр D освещенного пятна на стене, расположенной на расстоянии $L = 50$ м от прожектора перпендикулярно главной оптической оси, если фокусное расстояние сферического зеркала $F = 40$ см, а диаметр зеркала $d = 10$ см.

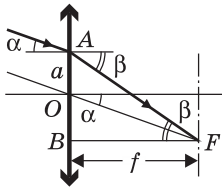
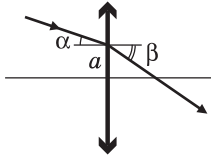
Р е ш е н и е. Из условия задачи следует, что все световые лучи, испущенные источником и падающие на зеркало прожектора, являются парааксиальными. Следовательно, после отражения от зеркала лучи от каждой точки источника распространяются параллельным пучком, наклоненным к оптической оси зеркала. При этом наибольший наклон к оси имеют лучи, испущенные крайними точками источника. Рассмотрим одну из таких точек, например точку S . Ход нескольких лучей, испущенных этой точкой, изображен на рисунке. Видно, что $\frac{D}{2} = L \operatorname{tg} \alpha + \frac{d}{2}$, причем $\operatorname{tg} \alpha = \frac{r}{F}$.



О т в е т. $D = \frac{2Lr}{F} + d = 2,6$ м.

4.1.2. Тонкие линзы

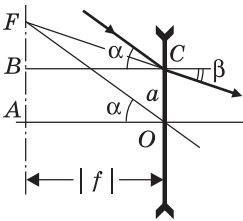
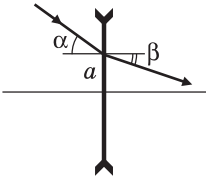
4.1.45. На поверхность тонкой собирающей линзы с фокусным расстоянием f падает луч света на расстоянии a от центра линзы под углом α к ее главной оптической оси. Под каким углом β к главной оптической оси луч выйдет из линзы?



Решение. Ход падающего и преломленного в линзе лучей изображен на рисунке. При построении преломленного луча использован вспомогательный луч OF , параллельный падающему на линзу лучу и проходящий через оптический центр линзы O без преломления. Согласно известному свойству тонкой собирающей линзы, все параллельные лучи, падающие на нее, пересекаются в точке F фокальной плоскости. Из треугольников ABF и OBF имеем: $f \operatorname{tg} \beta = a + f \operatorname{tg} \alpha$, откуда $\operatorname{tg} \beta = \frac{a + f \operatorname{tg} \alpha}{f}$.

$$\text{Ответ. } \beta = \operatorname{arctg} \left(\frac{a}{f} + \operatorname{tg} \alpha \right).$$

4.1.46. На поверхность тонкой рассеивающей линзы с фокусным расстоянием f падает луч света на расстоянии a от центра линзы под углом α к ее главной оптической оси. Под каким углом β к главной оптической оси луч выйдет из линзы?

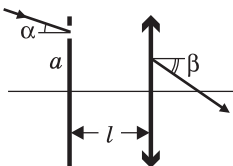


Решение. Ход лучей изображен на рисунке. При построении преломленного в линзе луча использован вспомогательный луч FO , параллельный падающему и проходящий через оптический центр линзы O без преломления. Согласно известному свойству тонкой рассеивающей линзы, продолжения всех параллельных лучей, падающих на нее, пересекаются в точке F фокальной плоскости. С учетом того что фокусное расстояние рассеивающей линзы отрицательно, из треугольников AOF и BCF находим: $|f| \operatorname{tg} \alpha = a + |f| \operatorname{tg} \beta$, откуда $\operatorname{tg} \beta = \operatorname{tg} \alpha - \frac{a}{|f|}$. Следова-

тельно, $\beta = \operatorname{arctg} \left(\operatorname{tg} \alpha - \frac{a}{|f|} \right) = \operatorname{arctg} \left(\operatorname{tg} \alpha + \frac{a}{f} \right)$.

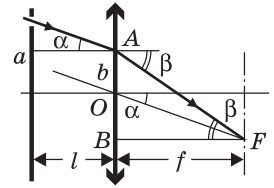
$$\text{Ответ. } \beta = \operatorname{arctg} \left(\operatorname{tg} \alpha + \frac{a}{f} \right).$$

4.1.47. На расстоянии l перед тонкой собирающей линзой расположен экран с маленьким отверстием, находящимся на расстоянии a от главной оптической оси. На экран под углом α к оси линзы падает пучок параллельных лучей света. Под каким углом β к главной оптической оси пучок выйдет из линзы, если ее фокусное расстояние f ?



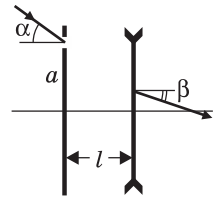
Решение. Ход падающего и преломленного в линзе лучей изображен на рисунке. При построении преломленного луча использован вспомогательный луч OF , параллельный падающему на линзу лучу и проходя-

щий через оптический центр линзы O без преломления. Согласно известному свойству тонкой собирающей линзы, все параллельные лучи, падающие на нее, пересекаются в точке F фокальной плоскости. Из треугольников ABF и OBF имеем: $f \operatorname{tg} \beta = b + f \operatorname{tg} \alpha$, откуда $\operatorname{tg} \beta = \frac{b + f \operatorname{tg} \alpha}{f}$. С учетом того что $b = a - l \operatorname{tg} \alpha$, находим искомый угол β .

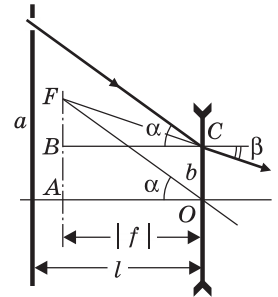


$$\text{Ответ. } \beta = \operatorname{arctg} \left(\left(1 - \frac{l}{f} \right) \operatorname{tg} \alpha + \frac{a}{f} \right).$$

4.1.48. На расстоянии l перед тонкой рассеивающей линзой расположен экран с маленьким отверстием, находящимся на расстоянии a от главной оптической оси. На экран под углом α к оси линзы падает пучок параллельных лучей света. Под каким углом β к главной оптической оси пучок выйдет из линзы, если ее фокусное расстояние f ?



Решение. Ход лучей изображен на рисунке. При построении преломленного в линзе луча использован вспомогательный луч FO , параллельный падающему и проходящий через оптический центр линзы O без преломления. Согласно известному свойству тонкой рассеивающей линзы, продолжения всех параллельных лучей, падающих на нее, пересекаются в точке F фокальной плоскости. С учетом того что фокусное расстояние рассеивающей линзы отрицательно, из треугольников AOF и BCF находим: $|f| \operatorname{tg} \alpha = b + |f| \operatorname{tg} \beta$, откуда $\operatorname{tg} \beta = \operatorname{tg} \alpha - \frac{b}{|f|}$. С учетом того что $b = a - l \operatorname{tg} \alpha$, получа-



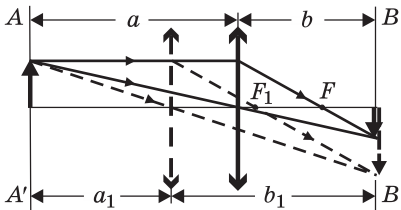
$$\text{ем: } \beta = \operatorname{arctg} \left(\left(1 + \frac{l}{|f|} \right) \operatorname{tg} \alpha - \frac{a}{|f|} \right) = \operatorname{arctg} \left(\left(1 - \frac{l}{f} \right) \operatorname{tg} \alpha + \frac{a}{f} \right).$$

$$\text{Ответ. } \beta = \operatorname{arctg} \left(\left(1 - \frac{l}{f} \right) \operatorname{tg} \alpha + \frac{a}{f} \right).$$

4.1.49. Тонкая линза с фокусным расстоянием $F = 0,4$ м создает на экране увеличенное изображение предмета, который помещен на расстоянии $L = 2,5$ м от экрана. Каково расстояние d от предмета до линзы?

Решение. При фиксированном расстоянии между предметом и экраном, превышающем $4F$, существуют два положения линзы, при которых она дает на экране изображение предмета. Это следует из того, что формула тон-

кой линзы $\frac{1}{a} + \frac{1}{b} = \frac{1}{F}$, связывающая расстояние от предмета до линзы a , расстояние от линзы до изображения b и фокусное расстояние линзы F , симметрична относительно a и b : при замене $a_1 = b$, $b_1 = a$ эта формула остается справедливой. Построение изображения предмета проиллюстрировано на ри-



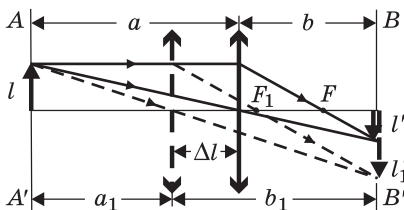
сунке, где упомянутые положения линзы изображены сплошной и штриховой линиями, а через AA' и BB' обозначены плоскости объекта и изображения, соответственно. Видно, что когда линза занимает ближнее к предмету положение, она дает увеличенное изображение (штриховые линии), а если дальнейшее, то уменьшенное изображение (сплошные линии).

По условию задачи $a = d$, $b = L - d$. Подставляя эти значения в формулу линзы, имеем: $\frac{1}{d} + \frac{1}{L-d} = \frac{1}{F}$. Отсюда получаем квадратное уравнение относительно d , а именно: $d^2 - Ld + FL = 0$. Корни этого уравнения имеют вид: $d_{1,2} = \frac{L}{2} \left(1 \pm \sqrt{1 - \frac{4F}{L}} \right)$. Условию задачи удовлетворяет меньший корень, поскольку линза дает увеличенное изображение.

$$\text{О т в е т. } d = \frac{L}{2} \left(1 - \sqrt{1 - \frac{4F}{L}} \right) = 0,5 \text{ м.}$$

4.1.50. С помощью тонкой собирающей линзы на экране, установленном перпендикулярно оптической оси, получают изображение светящегося диска. Диаметр изображения в $n = 8$ раз меньше, чем сам диск. Когда линзу отодвинули от экрана на $\Delta l = 28$ см, то на экране снова получилось резкое изображение диска. Определить фокусное расстояние F линзы.

Р е ш е н и е. Построение изображения диска проиллюстрировано на рисунке, где начальное и конечное положения линзы изображены сплошной и штриховой линиями, а через AA' и BB' обозначены плоскости объекта и изображения, соответственно. Из рисунка видно, что отношение размера изображения l' (или l'_1) к размеру объекта l (увеличение M , даваемое линзой), может принимать два значения: $M = b/a$ и $M_1 = b_1/a_1$. В нашем случае при первоначальном положении линзы $M = 1/n$, т. е. $M < 1$ (изображение уменьшенное). При отодвигании линзы от экрана на нем формируется увеличенное изображение предмета. По условию задачи $a = nb$, $a_1 = a - \Delta l = b$.



Отсюда $b = \frac{\Delta l}{n-1}$, $a = \frac{n\Delta l}{n-1}$. Из формулы

тонкой линзы следует, что $F = \frac{ab}{a+b}$. Под-

ставляя сюда найденные a и b , получаем:

$$F = \frac{n\Delta l}{n^2 - 1} \approx 3,56 \text{ см.}$$

О т в е т. $F \approx 3,56$ см.

4.1.51. Собирающая линза создает на экране изображение предмета, расположенного на расстоянии $l_1 = 0,12$ м от переднего фокуса линзы, причем экран находится на расстоянии $l_2 = 3$ м от заднего фокуса линзы. Определить фокусное расстояние F линзы.

Решение. Обозначим через a и b расстояния от предмета до линзы и от линзы до изображения, соответственно. Используя формулу тонкой линзы: $\frac{1}{a} + \frac{1}{b} = \frac{1}{F}$, находим $F = \frac{ab}{a+b}$. Подставляя сюда $a = F + l_1$, $b = F + l_2$,

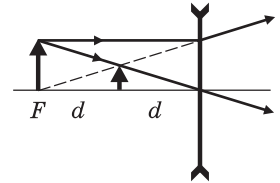
после несложных преобразований получаем: $F = \sqrt{l_1 l_2} = 0,6$ м.

О т в е т. $F = 0,6$ м.

4.1.52. Мнимое изображение предмета в рассеивающей линзе находится от нее на расстоянии, в два раза меньшем, чем предмет. Найти расстояние d от линзы до изображения, если фокусное расстояние линзы F известно.

Решение. Построение изображения предмета представлено на рисунке. Видно, что роль расстояния a между предметом и линзой и расстояния b между линзой и изображением играют величины $2d$ и d соответственно. Учитывая, что формула линзы в данном случае имеет

вид $\frac{1}{2d} - \frac{1}{d} = -\frac{1}{|F|}$, получаем: $d = \frac{|F|}{2}$.



О т в е т. $d = \frac{|F|}{2}$.

4.1.53. С помощью линзы с фокусным расстоянием $f = 20$ см на экране получено изображение предмета с увеличением $m = 2$. Чему равно расстояние l между предметом и экраном?

Решение. Поскольку увеличение изображения связано с расстоянием a от предмета до линзы и расстоянием b от линзы до изображения соотношением $m = b/a$, формулу линзы можно записать в виде: $\frac{1}{a} + \frac{1}{ma} = \frac{1}{f}$. Отсюда $a = f(1 + 1/m)$, $b = f(m + 1)$. Учитывая, что искомое расстояние $l = a + b$, получаем: $l = f \frac{(m+1)^2}{m} = 90$ см.

О т в е т. $l = 90$ см.

4.1.54. Тонкая линза дает на экране изображение предмета с линейным увеличением $m_1 = 2$. Во сколько раз α нужно изменить расстояние между предметом и экраном, чтобы получить на экране изображение предмета с увеличением $m_2 = 3$?

Решение. Обозначим через a_1 и b_1 расстояния от предмета до линзы и от линзы до изображения в первом случае, а через a_2 и b_2 — те же расстояния во втором случае. Увеличение, даваемое линзой в первом случае, $m_1 = \frac{b_1}{a_1}$.

По формуле тонкой линзы имеем $\frac{1}{a_1} + \frac{1}{b_1} = \frac{1}{f}$, где f — фокусное расстояние линзы. Из этих соотношений находим $a_1 = f \left(1 + \frac{1}{m_1}\right)$, $b_1 = f(1 + m_1)$. Расстоя-

ние между предметом и изображением в первом случае $l_1 = a_1 + b_1 = f \frac{(m_1 + 1)^2}{m_1}$.

Аналогично, во втором случае $l_2 = a_2 + b_2 = f \frac{(m_2 + 1)^2}{m_2}$.

$$\text{О т в е т. } \alpha = \frac{l_2}{l_1} = \frac{(m_2 + 1)^2 m_1}{(m_1 + 1)^2 m_2} \approx 1,19.$$

4.1.55. С помощью линзы на экране получено изображение предмета с увеличением $m = 3$. Чему равно фокусное расстояние линзы f , если расстояние между экраном и предметом $l = 80$ см?

Р е ш е н и е. Поскольку увеличение изображения связано с расстоянием a от предмета до линзы и расстоянием b от линзы до изображения соотношением $m = b/a$, формулу линзы можно записать в виде: $\frac{1}{a} + \frac{1}{ma} = \frac{1}{f}$. Отсюда

$a = f(1 + 1/m)$, $b = f(m + 1)$. Учитывая, что расстояние между предметом и экраном $l = a + b$, получаем: $f = \frac{lm}{(m + 1)^2} = 15$ см.

О т в е т. $f = 15$ см.

4.1.56. С помощью линзы с фокусным расстоянием $F = 7,5$ см на экране получено изображение предмета, причем расстояние между предметом и экраном составило $L = 40$ см. Чему равно увеличение изображения?

Р е ш е н и е. Поскольку увеличение изображения связано с расстоянием a от предмета до линзы и расстоянием b от линзы до изображения соотношением $m = b/a$, формулу линзы можно записать в виде: $\frac{1}{a} + \frac{1}{ma} = \frac{1}{F}$. Отсюда

$a = F(1 + 1/m)$, $b = F(m + 1)$. Учитывая, что расстояние между предметом и экраном $L = a + b$, выразим его как $L = F \frac{(m + 1)^2}{m}$. Отсюда получаем ква-

дратное уравнение относительно m , а именно: $m^2 + \left(2 - \frac{L}{F}\right)m + 1 = 0$. Его

корни дают: $m_{1,2} = \frac{L}{2F} - 1 \pm \sqrt{\left(\frac{L}{2F}\right)^2 - \frac{L}{F}}$.

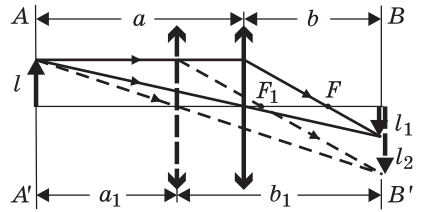
$$\text{О т в е т. } m_1 = 3, m_2 = \frac{1}{3}.$$

4.1.57. Перемещая линзу между экраном и предметом, удается получить два его четких изображения, одно размером $l_1 = 2$ см, а другое размером $l_2 = 8$ см. Каков размер l предмета?

Р е ш е н и е. При фиксированном расстоянии между предметом и экраном, превышающем $4F$, существуют два положения линзы, при которых она дает на экране изображение предмета. Это следует из того, что формула тон-

кой линзы $\frac{1}{a} + \frac{1}{b} = \frac{1}{F}$, связывающая расстояние от предмета до линзы a ,

расстояние от линзы до изображения b и фокусное расстояние линзы F , симметрична относительно a и b : при замене $a_1 = b$, эта формула остается справедливой. Построение изображения предмета проиллюстрировано на рисунке, где упомянутые положения линзы изображены сплошной и штриховой линиями, а через AA' и BB' обозначены плоскости объекта и изображения соответственно. Видно, что, когда линза занимает дальнее от предмета положение, она дает уменьшенное изображение (сплошные линии), а если ближе к предмету, то увеличенное изображение (штриховые линии). Имеем: $\frac{l_1}{l} = \frac{b}{a}$, $\frac{l_2}{l} = \frac{b_1}{a_1} = \frac{a}{b}$.



Из этих соотношений следует: $l = \sqrt{l_1 l_2} = 4$ см.

О т в е т. $l = 4$ см.

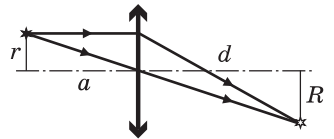
4.1.58. Точечный источник света описывает окружность в плоскости, перпендикулярной оптической оси тонкой собирающей линзы, с центром на этой оси. Изображение источника на экране расположено на расстоянии $d = 35$ см от линзы. Каково отношение n ускорений изображения и источника, если фокусное расстояние линзы $F = 7$ см?

Р е ш е н и е. Ускорение источника, движущегося по окружности радиусом r с угловой скоростью ω , равно $a = \omega^2 r$. Поскольку угловая скорость движения источника и его изображения одна и та же, искомое отношение

ускорений $n = \frac{R}{r}$, где R — расстояние от главной оптической оси линзы до изображения источника. Из рисунка видно,

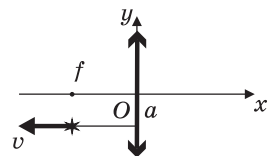
что $\frac{R}{r} = \frac{d}{a}$. Используя формулу тонкой линзы

$$\frac{1}{a} + \frac{1}{d} = \frac{1}{F}, \text{ находим: } a = \frac{dF}{d - F}.$$

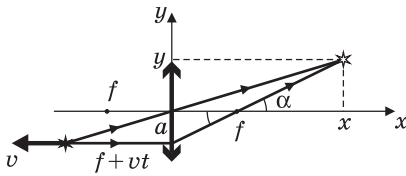


О т в е т. $n = \frac{d - F}{F} = 4$.

4.1.59. Начало системы координат помещено в центр тонкой собирающей линзы с фокусным расстоянием f , причем ось Ox совпадает с главной оптической осью линзы. Точечный источник света удаляется от линзы равномерно со скоростью v по прямой, параллельной оси Ox и проходящей на расстоянии a от нее. Найти координаты $x(t)$, $y(t)$ изображения источника в зависимости от времени. При $t = 0$ источник находился в фокальной плоскости линзы.



Р е ш е н и е. Ход лучей при построении изображения источника показан на рисунке. Видно, что изображение источника располагается на прямой, проходящей через правый фокус линзы и через точку пересечения линии, по которой движется источник, с преломляющей пло-



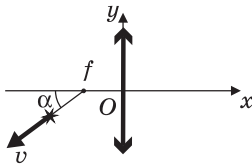
скостью линзы. В начальный момент времени источник находится в фокальной плоскости линзы и его изображение бесконечно удалено. По мере перемещения источника в направлении от линзы его изображение приближается к линзе. Из подобных треугольников (см. рисунок)

находим отношения: $\frac{x}{y} = \frac{f + vt}{a}$, $\frac{x - f}{y} = \frac{f}{a}$. Выражая отсюда x и y , получа-

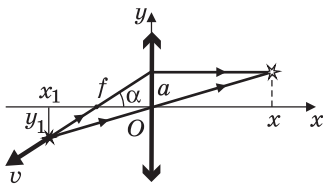
ем: $x(t) = f + \frac{f^2}{vt}$, $y(t) = \frac{af}{vt}$.

Ответ. $x(t) = f + \frac{f^2}{vt}$, $y(t) = \frac{af}{vt}$.

4.1.60. Начало системы координат помещено в центр тонкой собирающей линзы с фокусным расстоянием f , причем ось Ox совпадает с главной оптической осью линзы. Точечный источник света удаляется от линзы с постоянной скоростью v по прямой, проходящей через фокус линзы под углом α к оптической оси. Найти координаты $x(t)$, $y(t)$ изображения источника в зависимости от времени. При $t = 0$ источник находился в фокусе линзы.



Решение. Ход лучей при построении изображения источника показан на рисунке. Видно, что изображение источника располагается на прямой, параллельной главной оптической оси линзы и проходящей через точку пересечения линии, по которой движется источник, с преломляющей плоскостью линзы. В начальный момент времени источник находится в фокальной плоскости линзы и его изображение бесконечно удалено. По мере перемещения источника в направлении от линзы его изображение приближается к линзе. Из рисунка видно, что $y = f \operatorname{tg} \alpha$,

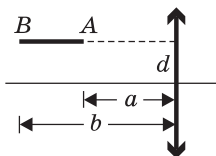


соотношения, получаем: $x(t) = f + \frac{f^2}{vt \cos \alpha}$, $y(t) = f \operatorname{tg} \alpha$.

соотношения, получаем: $x(t) = f + \frac{f^2}{vt \cos \alpha}$, $y(t) = f \operatorname{tg} \alpha$.

Ответ. $x(t) = f + \frac{f^2}{vt \cos \alpha}$, $y(t) = f \operatorname{tg} \alpha$.

4.1.61. Отрезок AB , параллельный главной оси собирающей линзы, расположен на расстоянии d от оси так, что его концы удалены от плоскости линзы на расстояния a и b соответственно. Найти длину l изображения отрезка, если фокусное расстояние линзы F и $b > a > F$.



Решение. Изображение $A'B'$ отрезка AB располагается на прямой, проходящей через правый фокус

линзы и через точку пересечения линии, по которой находится отрезок, с преломляющей плоскостью линзы (см. рисунок). Из подобия $\triangle FA_1A'$ и $\triangle OCF$ следует, что

$$\frac{A_1F}{A'F} = \frac{OF}{CF} = \frac{F}{\sqrt{F^2 + d^2}}, \text{ откуда длина отрезка}$$

$$A'F = \frac{\sqrt{F^2 + d^2}}{F} A_1F. \text{ По формуле тонкой линзы имеем: } \frac{1}{A'O} + \frac{1}{A_1'O} = \frac{1}{F}. \text{ Учти-}$$

тывая, что $A'O = a$, $A_1'O = F + A_1F$, находим длину отрезка $A'F = \frac{F\sqrt{F^2 + d^2}}{a - F}$.

Аналогично получаем, что длина отрезка $B'F = \frac{F\sqrt{F^2 + d^2}}{b - F}$. Поскольку ис-

комая длина $l = A'F - B'F$, запишем: $l = F\sqrt{F^2 + d^2} \left(\frac{1}{a - F} - \frac{1}{b - F} \right)$.

О т в е т. $l = F\sqrt{F^2 + d^2} \left(\frac{1}{a - F} - \frac{1}{b - F} \right)$.

4.1.62. Отрезок AB расположен вдоль прямой, проходящей через фокус собирающей линзы под углом $\alpha = 45^\circ$ к главной оптической оси. Найти длину l изображения этого отрезка, если фокусное расстояние линзы F , а расстояния от точек A и B до фокуса равны, соответственно, a и b .

Р е ш е н и е. Изображение $A'B'$ отрезка AB располагается на прямой, параллельной главной оптической оси линзы и проходящей через точку пересечения линии, по которой находится отрезок, с преломляющей плоскостью линзы (см. рисунок). Из рисунка

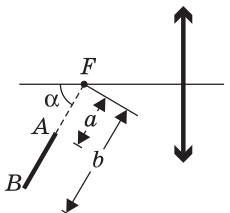
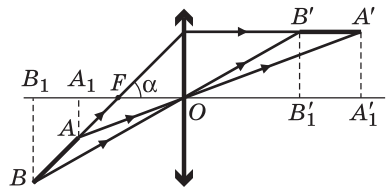
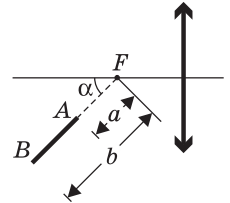
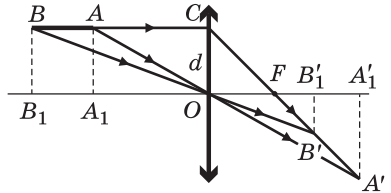
видно, что расстояния от точек A и B до линзы (длины отрезков A_1O и B_1O) равны: $A_1O = a \cos \alpha + F$, $B_1O = b \cos \alpha + F$. Используя формулу тонкой линзы, находим, что расстояния от линзы до изображений A' и B' точек A и B (длины отрезков OA_1'

и OB_1') равны $OA' = F \left(1 + \frac{F}{a \cos \alpha} \right)$, $OB' = F \left(1 + \frac{F}{b \cos \alpha} \right)$. Учитывая, что $l =$

$$= OA' - OB', \text{ находим: } l = \frac{F^2}{\cos \alpha} \left(\frac{1}{a} - \frac{1}{b} \right) = F^2 \sqrt{2} \left(\frac{1}{a} - \frac{1}{b} \right).$$

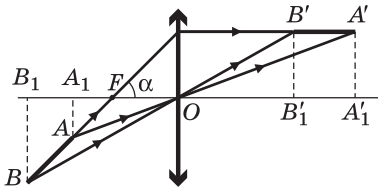
О т в е т. $l = F^2 \sqrt{2} \left(\frac{1}{a} - \frac{1}{b} \right)$.

4.1.63. Отрезок AB расположен вдоль прямой, проходящей через фокус собирающей линзы под углом $\alpha = 60^\circ$ к ее главной оптической оси. Расстояния от точек A и B до фокуса F равны, соответственно, $a = 5$ см



и $b = 10$ см. Чему равно фокусное расстояние линзы F , если известно, что длина отрезка AB равна длине его изображения?

Решение. Изображение $A'B'$ отрезка AB располагается на прямой, параллельной главной оптической оси линзы и проходящей через точку пересечения линии, по которой находится отрезок, с преломляющей плоскостью линзы (см. рисунок).

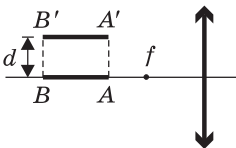


Из рисунка видно, что расстояния от точек A и B до линзы (длины отрезков A_1O и B_1O) равны: $A'O = a \cos \alpha + F$, $B_1O = b \cos \alpha + F$. Используя формулу линзы, находим расстояния от линзы до изображений A' и B' точек A и B (длины отрезков OA'_1 и OB'_1), а именно $OA'_1 = F \left(1 + \frac{F}{a \cos \alpha}\right)$, $OB'_1 = F \left(1 + \frac{F}{b \cos \alpha}\right)$. Следовательно,

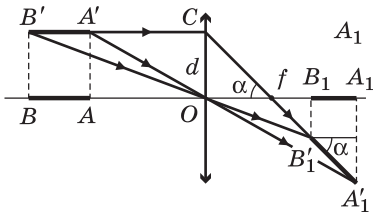
длина изображения $l = OA'_1 - OB'_1 = \frac{F^2}{\cos \alpha} \left(\frac{1}{a} - \frac{1}{b}\right)$. Учитывая, что по условию $l = b - a$, находим ответ: $F = \sqrt{abc \cos \alpha} = 5$ см.

Ответ. $F = 5$ см.

4.1.64. Отрезок AB , лежащий на главной оптической оси линзы за ее фокусом f , сместили параллельно самому себе и перпендикулярно оптической оси в положение $A'B'$, как показано на рисунке. Чему равно смещение d , если длина изображения отрезка $A'B'$ больше длины изображения отрезка AB в $k = 2$ раза? Фокусное расстояние линзы $f = 3$ см.



Решение. Изображение A_1B_1 отрезка AB располагается на главной оптической оси линзы. Изображение $A'_1B'_1$ этого отрезка, смещенного в положение $A'B'$, находится на прямой, проходящей через правый фокус линзы и через точку пересечения линии, по которой находится отрезок $A'B'$, с преломляющей плоскостью линзы (см. рисунок).



Из рисунка видно, что $\operatorname{tg} \alpha = \frac{d}{f}$, а $\cos \alpha = \frac{A_1B_1}{A'_1B'_1} = \frac{1}{k}$.

Используя известную тригонометрическую формулу $\operatorname{tg} \alpha = \frac{\sqrt{1 - \cos^2 \alpha}}{\cos \alpha}$, по-

лучаем: $d = f \sqrt{k^2 - 1} = f \sqrt{3} \approx 5,2$ см.

Ответ. $d \approx 5,2$ см.

4.1.65. На каком расстоянии a от собирающей линзы с фокусным расстоянием f нужно поместить предмет, чтобы расстояние от предмета до его действительного изображения было минимальным?

Решение. Пусть b — расстояние от линзы до изображения. Используя формулу тонкой линзы: $\frac{1}{a} + \frac{1}{b} = \frac{1}{f}$, находим расстояние между предметом

и его изображением $d = a + b = \frac{a^2}{a - f}$. Преобразуем это выражение следующим образом:

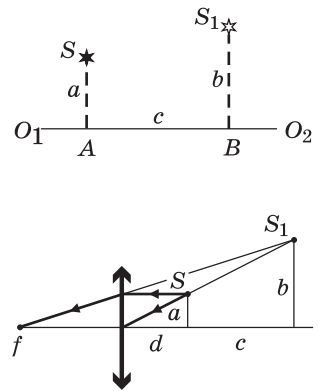
$$d = \frac{a^2}{a - f} = \frac{(a - 2f + 2f)^2}{a - f} = \frac{(a - 2f)^2 + 4(a - f)f}{a - f} = \frac{(a - 2f)^2}{a - f} + 4f.$$

Отсюда видно, что d достигает минимального значения, равного $d_{\min} = 4f$, при $a = 2f$.

Ответ. $d_{\min} = 4f$ при $a = 2f$.

4.1.66. На рисунке представлены светящаяся точка S и ее изображение S_1 , даваемое линзой, главная оптическая ось которой — прямая O_1O_2 . Расстояния от точек S и S_1 до оптической оси равны, соответственно, $a = 20$ см и $b = 30$ см, расстояние между точками A и B равно $c = 15$ см. Найти фокусное расстояние линзы.

Решение. Поскольку S_1 находится по ту же сторону от главной оптической оси линзы, что и S , причем $b > a$, изображение объекта увеличенное и прямое. Такое изображение может дать только собирающая линза, причем это изображение является мнимым. Соответствующий ход лучей и найденное построением положение линзы и ее фокуса показаны на рисунке. Из подобия треугольников



следует, что $\frac{d}{c + d} = \frac{a}{b}$. Отсюда $d = \frac{ac}{b - a}$,

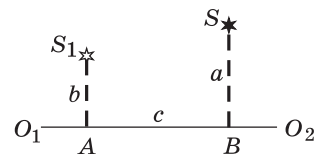
$c + d = \frac{bc}{b - a}$. С другой стороны, из формулы линзы, записанной с учетом

того, что изображение мнимое: $\frac{1}{d} - \frac{1}{c + d} = \frac{1}{f}$, вытекает, что $f = \frac{d(c + d)}{c}$.

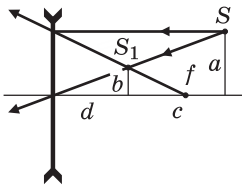
Объединяя записанные выражения, получаем: $f = \frac{abc}{(b - a)^2} = 90$ см.

Ответ. $f = 90$ см.

4.1.67. На рисунке представлены светящаяся точка S и ее изображение S_1 , даваемое линзой, главная оптическая ось которой — прямая O_1O_2 . Расстояния от точек S и S_1 до оптической оси равны, соответственно, $a = 30$ см и $b = 20$ см, расстояние между точками A и B равно $c = 10$ см. Найти фокусное расстояние линзы f .



Решение. Поскольку S_1 находится по ту же сторону от главной оптической оси линзы, что и S , причем $b < a$, изображение объекта уменьшенное и прямое. Такое изображение может дать только рассеивающая линза, при-



чем это изображение является мнимым. Соответствующий ход лучей и найденное построением положение линзы и ее фокуса показаны на рисунке. Из подобия

треугольников следует, что $\frac{d}{c+d} = \frac{b}{a}$. Отсюда

$$d = \frac{bc}{a-b}, \quad c+d = \frac{ac}{a-b}.$$

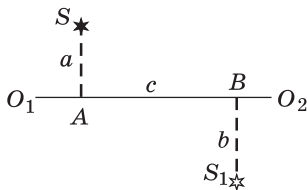
С другой стороны, из формулы линзы, записанной с учетом того, что изображение мнимое: $\frac{1}{c+d} - \frac{1}{d} = -\frac{1}{|f|}$,

вытекает, что $|f| = \frac{d(c+d)}{c}$. Объединяя записанные выражения, получаем:

$$|f| = \frac{abc}{(a-b)^2} = 60 \text{ см.}$$

О т в е т. $|f| = 60$ см; линза рассеивающая.

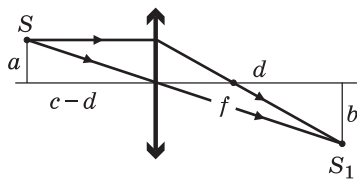
4.1.68. На рисунке представлены светящаяся точка S и ее изображение S_1 , даваемое линзой, главная оптическая ось которой — прямая O_1O_2 . Рас-



стояния от точек S и S_1 до оптической оси равны, соответственно, $a = 10$ см и $b = 20$ см, расстояние между точками A и B равно $c = 40$ см. Найти фокусное расстояние линзы f .

Р е ш е н и е. Поскольку S_1 находится по другую сторону от главной оптической оси линзы, чем S , причем $b > a$, изображение объекта увеличенное и перевернутое. Такое изображение может дать

только собирающая линза, причем это изображение является действительным. Соответствующий ход лучей и найденное построением положение линзы и ее фокуса показаны на рисунке. Из подобия треугольников



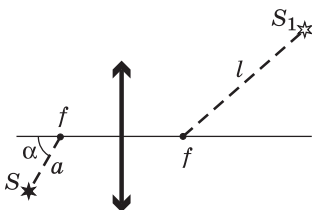
следует, что $\frac{d}{c-d} = \frac{b}{a}$. Отсюда $d = \frac{bc}{a+b}$,

$c-d = \frac{ac}{a+b}$. С другой стороны, из формулы линзы: $\frac{1}{c-d} + \frac{1}{d} = \frac{1}{f}$, вытека-

ет, что $f = \frac{d(c-d)}{c}$. Объединяя записанные выражения, получаем ответ:

$$f = \frac{abc}{(a+b)^2} \approx 8,9 \text{ см.}$$

О т в е т. $f \approx 8,9$ см.



4.1.69. Точечный источник света S расположен на расстоянии $a = 2$ см от фокуса собирающей линзы на прямой, образующей угол $\alpha = 60^\circ$ с главной оптической осью. На каком расстоянии l от второго фокуса находится изображение S_1 источника? Фокусное расстояние линзы $f = 5$ см.

Решение. Построение изображения источника приведено на рисунке.

Используя формулу тонкой линзы: $\frac{1}{f + a \cos \alpha} + \frac{1}{b} = \frac{1}{f}$, находим расстояние

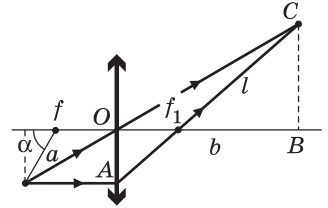
от фокуса линзы до изображения $b = f \left(1 + \frac{f}{a \cos \alpha} \right)$. Из подобия $\triangle O A f_1$

и $\triangle B C f_1$ следует, что $\frac{\sqrt{a^2 \sin^2 \alpha + f^2}}{f} = \frac{l}{b - f}$. Объ-

единяя записанные выражения, получаем:

$$l = \frac{f}{a \cos \alpha} \sqrt{f^2 + a^2 \sin^2 \alpha} = 10\sqrt{7} \text{ см} \approx 24,6 \text{ см.}$$

Отв е т. $l \approx 24,6 \text{ см.}$



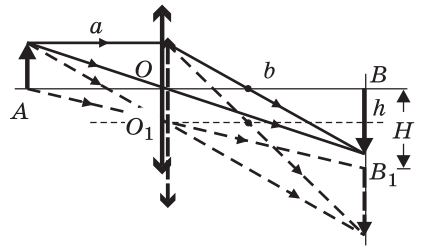
4.1.70. Собирающая линза дает на экране, перпендикулярном ее главной оптической оси, резкое изображение предмета с увеличением $M = 4$. Линзу сдвигают вниз перпендикулярно оптической оси на расстояние $h = 1 \text{ мм}$. Какова величина H смещения изображения на экране?

Решение. На рисунке показано построение изображения предмета при исходном положении линзы (сплошные линии) и при ее смещенном положении (штриховые линии). Поскольку увеличение изображения $M = b/a$ за-

висит только от отношения расстояний b и a (см. рисунок), при смещении линзы перпендикулярно ее оптической оси размер изображения не изменяется. Поэтому смещение изображения как целого равно смещению любой его точки, например точки B . Из подобия $\triangle A O O_1$ и $\triangle A B B_1$ сле-

дует, что $\frac{h}{a} = \frac{H}{a + b}$. Отсюда $H = h \left(\frac{b}{a} + 1 \right)$.

Отв е т. $H = h(M + 1) = 5 \text{ мм.}$

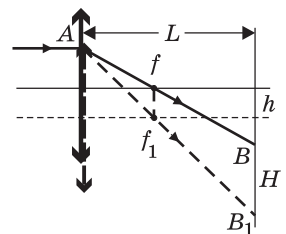


4.1.71. Узкий световой пучок падает на собирающую линзу с фокусным расстоянием $f = 20 \text{ см}$ параллельно ее главной оптической оси. Пройдя линзу, пучок попадает на экран, находящийся на расстоянии $L = 50 \text{ см}$ от линзы и перпендикулярный ее главной оптической оси. На какое расстояние H сместится световое пятно на экране, если сдвинуть линзу перпендикулярно ее оптической оси на расстояние $h = 2 \text{ мм}$?

Решение. Ход одного из лучей, образующих пучок, изображен на рисунке для случая, когда $L > f$. Сплошные линии соответствуют исходному положению линзы, штриховые — смещенному. Из подобия $\triangle A f f_1$ и $\triangle A B B_1$

следует, что $\frac{h}{f} = \frac{H}{L}$. Отсюда $H = \frac{hL}{f}$. Аналогично

рассматривается случай, когда $L < f$. Наконец, если перемещение линзы выходит из плоскости рисунка, то лучи, преломленные линзой в исходном и сме-



ценном ее положении, по-прежнему будут лежать в одной плоскости, в которой можно рассмотреть такие же подобные треугольники. Следовательно, связь между смещениями линзы и светового пятна на экране во всех случаях имеет один и тот же вид.

О т в е т. $H = \frac{hL}{f} = 5 \text{ мм.}$

4.1.72. Изображение предмета наблюдают на экране, расположенном на расстоянии $a = 5 \text{ см}$ от тонкой линзы, фокусное расстояние которой $f = 3,5 \text{ см}$. Линзу смещают в направлении, перпендикулярном ее главной оптической оси, на расстояние $\Delta = 7 \text{ мм}$. На какое расстояние x сместится при этом изображение предмета?

Р е ш е н и е. Ход лучей, дающих изображение маленького предмета при исходном и смещенном положении линзы, изображен на рисунке сплошными и штриховыми линиями соответственно. Из подобия треугольников (см.

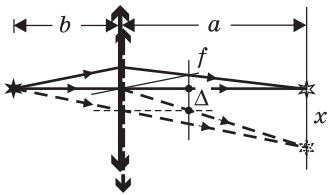
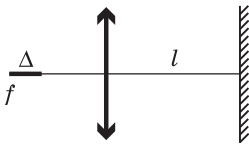


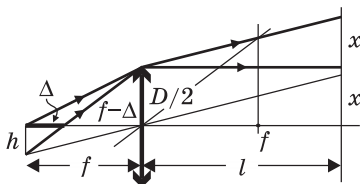
рисунок) следует, что $\frac{x}{\Delta} = \frac{a+b}{b} = 1 + \frac{a}{b}$. По формуле линзы $b = \frac{af}{a-f}$. Подставляя b в записанное выше равенство и выражая из него x , получаем: $x = \frac{a\Delta}{f} = 10 \text{ мм.}$

О т в е т. $x = 10 \text{ мм.}$

4.1.73. Светящаяся нить лампы в осветителе имеет форму отрезка длиной $\Delta = 1 \text{ см}$ и расположена вдоль главной оптической оси линзы диаметром $D = 5 \text{ см}$ с фокусным расстоянием $f = 9 \text{ см}$ таким образом, что дальний от линзы конец нити находится в фокусе линзы. Построив ход лучей, определить диаметр d светлого пятна на экране, расположенном на расстоянии $l = 72 \text{ см}$ от линзы перпендикулярно ее главной оптической оси.



Р е ш е н и е. Ход лучей, испущенных двумя точками, находящимися на противоположных концах нити, изображен на рисунке. Видно, что диаметр светового пятна на экране определяется лучами, выходящими из ближнего к линзе конца нити и проходящими через край линзы. Из подобия треугольников (см. рисунок)

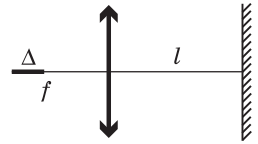


имеем: $\frac{x}{h} = \frac{l}{f}$, $\frac{h}{\Delta} = \frac{D/2}{f-\Delta}$. Исключая из этих выражений h , находим длину отрезка $x = \frac{Dl\Delta}{2f(f-\Delta)}$. Учитывая, что $d = D + 2x$, полу-

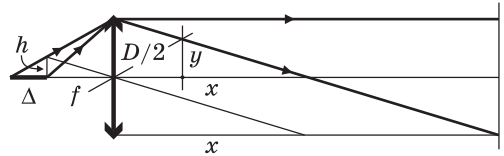
чаем: $d = D \left(1 + \frac{l\Delta}{f(f-\Delta)} \right) = 10 \text{ см.}$

О т в е т. $d = 10 \text{ см.}$

4.1.74. Светящаяся нить лампы имеет форму отрезка длиной $\Delta = 1$ см и расположена вдоль главной оптической оси линзы с фокусным расстоянием $f = 5$ см так, что ближний к линзе конец нити находится в ее фокусе. На расстоянии l от линзы перпендикулярно ее главной оптической оси расположен экран. Построив ход лучей, определить, при каком значении l размер пятна на экране превысит диаметр линзы?



Решение. Ход лучей, испущенных двумя точками, находящимися на противоположных концах нити, изображен на рисунке. Видно, лучи, вышедшие из дальнего от линзы конца нити и преломившиеся в линзе, на некотором расстоянии $2x$ от нее пересекут лучи, вышедшие из конца нити, расположенного в фокусе. Диаметр светового пятна на экране будет превышать диаметр линзы



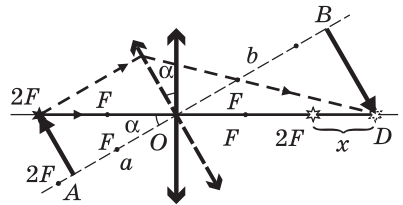
в том случае, когда экран расположен от линзы на расстоянии $l > 2x$. Из подобия треугольников (см. рисунок) имеем: $\frac{h}{\Delta} = \frac{D/2}{f + \Delta}$, $\frac{h}{f} = \frac{D/2}{x}$. Исключая

из этих выражений h , находим длину отрезка $x = f \left(1 + \frac{f}{\Delta} \right)$.

О т в е т. $l > 2f \left(1 + \frac{f}{\Delta} \right) = 60$ см.

4.1.75. Точечный источник света лежит на главной оптической оси собирающей линзы с фокусным расстоянием $F = 70$ см. Расстояние от источника до центра линзы равно $2F$. На какое расстояние x сместится изображение источника, если линзу повернуть так, чтобы прямая, проведенная от источника к центру линзы, составляла угол $\alpha = 30^\circ$ с главной оптической осью линзы? Центр линзы остается неподвижным.

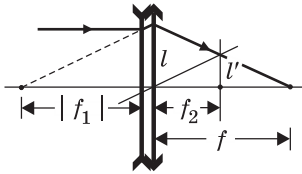
Решение. Когда линза не повернута, изображение находится от нее на расстоянии, равном $2F$. Ход лучей при построении изображения, даваемого повернутой линзой, приведен на рисунке штриховыми линиями. Так как один из лучей совпадает с главной оптической осью неповернутой линзы, изображение источника при повороте линзы останется на той же прямой. Введем следующие обозначения (см. рисунок): $OA = a$, $OB = b$, $OD = y$. Тогда $x = y - 2F$. Из подобия треугольников имеем: $\frac{2F}{a} = \frac{y}{b}$, откуда $y = \frac{2bF}{a}$, причем $a = 2F \cos \alpha$. Из формулы тонкой линзы следует, что $b = \frac{aF}{a - F}$. Объединяя записанные выражения, находим, что $y = \frac{2F}{2 \cos \alpha - 1}$.



О т в е т. $x = \frac{4F(1 - \cos \alpha)}{2 \cos \alpha - 1} = \frac{2(2 - \sqrt{3})}{\sqrt{3} - 1} F \approx 51,3$ см.

4.1.76. Тонкая рассеивающая линза с фокусным расстоянием $f_1 = -1$ м прижата вплотную к тонкой собирающей линзе с фокусным расстоянием $f_2 = 0,6$ м так, что их главные оптические оси совпадают. На рассеивающую линзу вдоль общей оптической оси падает пучок параллельных лучей света. На каком расстоянии f от собирающей линзы этот пучок будет сфокусирован?

Решение. Ход одного из лучей, преломляющегося в первой и второй линзах, показан на рисунке. Пренебрегая смещением луча в зазоре между линзами, изображенным на рисунке для наглядности, из подобия треугольников имеем: $\frac{l}{|f_1|} = \frac{l'}{f_2}$,



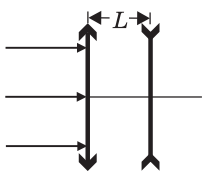
$$\frac{l}{f} = \frac{l'}{f - f_2}.$$

Исключая из этих выражений отношение l/l' , получаем: $f = \frac{|f_1|f_2}{|f_1| - f_2} = \frac{f_1 f_2}{f_1 + f_2} = 1,5$ м.

Ответ. $f = 1,5$ м.

Замечание. Полученному в этой задаче ответу можно придать другую форму, а именно: $\frac{1}{f} = \frac{1}{f_1} + \frac{1}{f_2}$, или $D = D_1 + D_2$, где $D = \frac{1}{f}$, $D_1 = \frac{1}{f_1}$, $D_2 = \frac{1}{f_2}$ — оптические силы линз. Фактически мы получили известный результат: оптическая сила системы вплотную прижатых друг к другу линз равна алгебраической сумме их оптических сил.

4.1.77. Тонкая собирающая линза с фокусным расстоянием $f_1 = 0,6$ м и тонкая рассеивающая линза с фокусным расстоянием $f_2 = -1$ м имеют общую оптическую ось и расположены на расстоянии $L = 0,2$ м друг от друга. На собирающую линзу вдоль оптической оси падает пучок параллельных лучей света. На каком расстоянии x от рассеивающей линзы он будет сфокусирован?



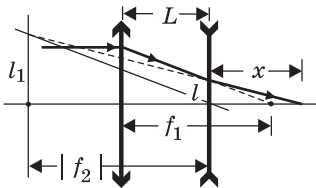
Решение. Ход одного из лучей, преломляющегося в первой и второй линзах, показан на рисунке. Из подобия треугольников имеем: $\frac{x}{l} = \frac{x + |f_2|}{l_1}$, $\frac{f_1 - L}{l} = \frac{|f_2|}{l_1}$.

Исключая из этих выражений отношение l_1/l и выражая искомое расстояние x , получаем:

$$x = \frac{(f_1 - L)|f_2|}{|f_2| - f_1 + L} = \frac{(f_1 - L)f_2}{f_1 + f_2 - L}.$$

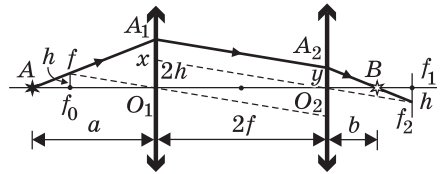
Ответ. $x = \frac{(f_1 - L)f_2}{f_1 + f_2 - L}$.

4.1.78. Две одинаковые собирающие линзы с фокусными расстояниями f каждая расположены на расстоянии $2f$ друг от друга так, что их главные оптические оси совпадают. На главной оптической оси перед первой линзой помещена некоторая точка A такая, что луч света, вышедший из нее и про-



шедший обе линзы, пересекает эту ось в точке B , находящейся за второй линзой. Определить расстояние L между точками A и B .

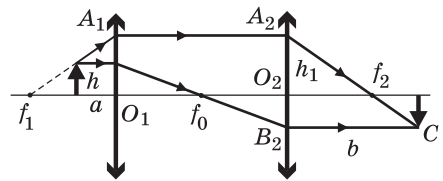
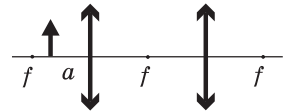
Решение. Ход луча изображен на рисунке. При построении учтено, что, поскольку по условию луч пересекает главную оптическую ось за второй линзой, расстояние от точки A до первой линзы меньше, чем $2f$. Из подобия ΔAf_0f и ΔAO_1A_1 следует, что длина отрезка $x = \frac{ah}{a-f}$. В свою очередь, длина отрезка $y = x - 2h = \frac{2f-a}{a-f}h$. Из равенства Δf_0fO_1 и $\Delta O_2f_1f_2$, а также из подобия ΔO_2A_2B и ΔBf_1f_2 вытекает соотношение $\frac{y}{b} = \frac{h}{f-f}$. Отсюда $b = \frac{yf}{y+h}$. Подставляя в это равенство найденное ранее значение y , получаем, что $b = 2f - a$. Поскольку искомое расстояние $L = a + b + 2f$, запишем: $L = 4f$.



Ответ. $L = 4f$.

4.1.79. Оптическая система состоит из двух одинаковых собирающих линз с фокусным расстоянием f , расположенных так, что их фокусы совпадают. Предмет находится на расстоянии $a < f$ перед первой линзой. На каком расстоянии b от второй линзы будет располагаться изображение предмета?

Решение. Для построения изображения предмета воспользуемся двумя лучами, ход которых изображен на рисунке. Один из этих лучей идет параллельно главной оптической оси системы, и после преломления в первой линзе пересекает оптическую ось в правом фокусе этой линзы (точка f_0 на рисунке). Второй луч направлен так, что его продолжение пересекает оптическую ось в левом фокусе первой линзы (точка f_1 на рисунке), в результате чего после преломления в первой линзе он идет параллельно главной оптической оси. Преломляясь во второй линзе, эти лучи пересекаются в точке C . Из треугольника $f_1A_1O_1$ находим, что $h_1 = h \frac{f}{f-a}$. Из подобия треугольников A_2B_2C и $A_2O_2f_2$ следует, что $b = f \frac{A_2B_2}{A_2O_2} = f \frac{h_1 + h}{h_1}$. Подставляя сюда найденное h_1 , получаем: $b = 2f - a$.



Ответ. $b = 2f - a$.

4.1.80. Человек, страдающий дальнозоркостью, рассматривает предмет, находящийся на расстоянии $d = 20$ см перед его глазами. При этом изображение предмета оказывается смещенным за поверхность сетчатки глаза

на расстояние $\delta = 2,2$ мм. Определить оптическую силу D контактной линзы, устраняющей это смещение. Считать, что оптическая система глаза — это тонкая линза с фокусным расстоянием $f = 2$ см, а контактная линза вплотную примыкает к ней.

Решение. Обозначим через b расстояние от хрусталика до сетчатки глаза. Учитывая, что оптическая сила системы «глаз + контактная линза» равна $\frac{1}{f} + D$, по формуле тонкой линзы имеем: $\frac{1}{d} + \frac{1}{b} = \frac{1}{f} + D$. Поскольку расстояние от хрусталика до изображения предмета в отсутствие контактной линзы равно $b + \delta$, формула тонкой линзы для этого случая имеет вид: $\frac{1}{d} + \frac{1}{b + \delta} = \frac{1}{f}$. Исключая из этих соотношений b , получаем:

$$D = \frac{\delta(d - f)^2}{df(df + f\delta - d\delta)} \approx 5 \text{ дптр.}$$

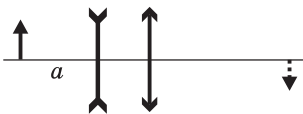
О т в е т. $D \approx 5$ дптр.

4.1.81. Человек, страдающий близорукостью, рассматривает предмет, находящийся на расстоянии $d = 202$ см перед его глазами с использованием контактной линзы оптической силой $D = -5$ дптр. При этом изображение предмета оказывается точно в плоскости сетчатки глаза. Определить, на какое расстояние δ сместится плоскость изображения, если человек снимет контактные линзы. Считать, что оптическая система глаза — это тонкая линза с фокусным расстоянием $f = 2$ см, а контактная линза вплотную примыкает к ней.

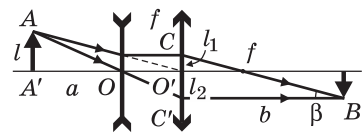
Решение. Обозначим через b расстояние от хрусталика до сетчатки глаза. Учитывая, что оптическая сила системы «глаз + контактная линза» равна $\frac{1}{f} + D = \frac{1}{f} - |D|$, по формуле тонкой линзы имеем: $\frac{1}{d} + \frac{1}{b} = \frac{1}{f} - |D|$. Поскольку расстояние от хрусталика до изображения предмета в отсутствие контактной линзы равно $b - \delta$ (у близорукого человека изображение смещено в сторону хрусталика), формула тонкой линзы для этого случая имеет вид: $\frac{1}{d} + \frac{1}{b - \delta} = \frac{1}{f}$. Исключая из этих соотношений b , получаем δ .

О т в е т. $\delta = \frac{fd}{d - |D|fd - f} - \frac{fd}{d - f} \approx 2,2$ мм. Изображение смещено в сторону хрусталика.

4.1.82. Рассеивающая и собирающая линзы с одинаковыми по величине фокусными расстояниями $f = 10$ см расположены на расстоянии f друг от друга так, что их главные оптические оси совпадают. Предмет находится на расстоянии $a = 20$ см от рассеивающей линзы. На каком расстоянии b от собирающей линзы находится изображение предмета, показанное на рисунке штриховой линией?

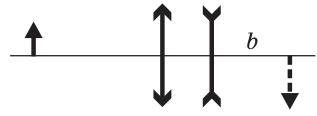


Решение. Ход лучей при построении изображения предмета показан на рисунке. Из подобия треугольников $AA'O'$ и $CO'f$ имеем: $\frac{l_1}{f} = \frac{l}{a+f}$. Из подобия треугольников $OO'C'$ и $AA'O$ следует, что $\frac{l_2}{f} = \frac{l}{a}$. Отсюда $l_1 = \frac{lf}{a+f}$, $l_2 = \frac{lf}{a}$. Искомое расстояние, как видно из рисунка, равно $b = (l_1 + l_2)\text{ctg } \beta$, причем $\text{ctg } \beta = \frac{a+f}{l}$.



Отв е т. $b = 2f + \frac{f^2}{a} = 25 \text{ см.}$

4.1.83. Собирающая и рассеивающая линзы с одинаковыми по величине фокусными расстояниями $f = 20$ см расположены на расстоянии f друг от друга так, что их главные оптические оси совпадают. Предмет находится на некотором расстоянии от собирающей линзы. Чему равно увеличение системы M , т. е. отношение размера изображения к размеру предмета, если известно, что действительное изображение предмета, показанное на рисунке штриховой линией, находится на расстоянии $b = 30$ см от рассеивающей линзы?

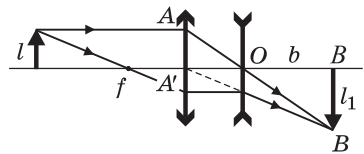


Решение. Ход лучей при построении изображения предмета показан на рисунке. Из подобия треугольников $AA'O$ и $OB'B$ следует, что

$\frac{l_1}{b} = \frac{l}{f}$. С другой стороны, увеличение системы

$M = \frac{l_1}{l}$. Объединяя эти выражения, получаем:

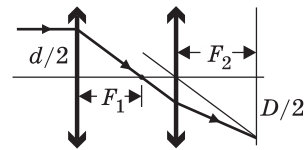
$M = \frac{b}{f} = 1,5$.



Отв е т. $M = 1,5$.

4.1.84. Параллельный пучок световых лучей диаметром $d = 2$ см падает на собирающую линзу с фокусным расстоянием $F_1 = 10$ см. За этой линзой на некотором расстоянии от нее расположена вторая собирающая линза с фокусным расстоянием $F_2 = 15$ см, а в ее фокальной плоскости стоит экран. Найти диаметр D светового пятна на экране, если главные оптические оси линз и ось симметрии пучка совпадают, а экран перпендикулярен этим осям.

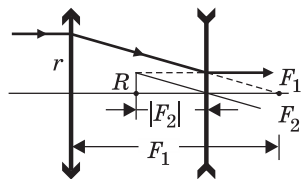
Решение. Ход одного из крайних лучей, ограничивающих пучок, изображен на рисунке. При построении для определенности рассмотрен случай, когда вторая линза располагается за правым фокусом первой линзы. Из подобия треугольников следует равенство: $\frac{d}{F_1} = \frac{D}{F_2}$. Отсюда $D = \frac{F_2 d}{F_1}$. Аналогичным построением легко убедиться в том, что



этот результат будет иметь место при любом расстоянии между линзами. Важно лишь, чтобы экран располагался в фокальной плоскости второй линзы.

Ответ. $D = \frac{F_2 d}{F_1} = 3$ см.

4.1.85. На собирающую линзу с фокусным расстоянием $F_1 = 40$ см падает пучок параллельных лучей света радиуса $r = 2$ см. За этой линзой расположена рассеивающая линза с фокусным расстоянием $F_2 = -15$ см, причем главные оптические оси линз и ось симметрии пучка совпадают. Чему равен радиус пучка R , вышедшего из второй линзы, если известно, что лучи в нем параллельны?

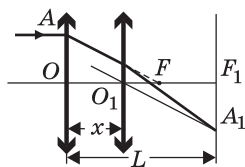


Решение. Ход одного из крайних лучей, ограничивающих пучок, изображен на рисунке. Ясно, что лучи, вышедшие из рассеивающей линзы, будут параллельными, если эту линзу расположить так, чтобы ее правый фокус совпадал с правым фокусом собирающей линзы. Из подобия треугольников следует, что $\frac{R}{|F_2|} = \frac{r}{F_1}$.

Ответ. $R = \frac{|F_2| r}{F_1} = 0,75$ см.

4.1.86. На собирающую линзу с фокусным расстоянием F вдоль ее главной оптической оси падает параллельный пучок света. На расстоянии L от линзы ($L > F$) перпендикулярно ее оптической оси расположен экран. На каком расстоянии x от линзы между ней и экраном нужно поместить вторую такую же линзу, чтобы диаметр пятна на экране стал равен первоначальному диаметру падающего пучка? Найти численное значение x для $F = 10$ см и $L = 15$ см.

Решение. Ход одного из крайних лучей, ограничивающих пучок, изображен на рисунке. Видно, что диаметр пятна на экране будет равен первоначальному диаметру падающего пучка, если



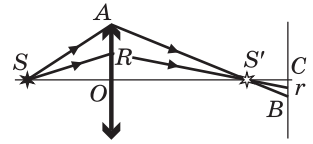
$AO = F_1 A_1$. Отсюда следует, что треугольник AOF равен треугольнику $O_1 F_1 A_1$ и длина отрезка $O_1 F_1$ совпадает с фокусным расстоянием линзы. Таким образом, вторую линзу нужно поместить так, чтобы экран находился в ее фокальной плоскости.

Ответ. $x = L - F = 5$ см.

4.1.87. Точечный источник света расположен на главной оптической оси тонкой собирающей линзы. По другую сторону линзы находится экран, перпендикулярный ее главной оптической оси. Найти радиус r светового пятна на экране, если известно, что расстояние от источника до линзы $a = 30$ см, расстояние от линзы до экрана $b = 80$ см, фокусное расстояние линзы $f = 20$ см, а ее радиус $R = 3$ см.

Решение. Все световые лучи, испущенные источником S и попавшие в линзу, пересекаются на ее главной оптической оси в точке S' , являющейся

изображением источника (см. рисунок). Пройдя далее до экрана, они образуют на нем освещенное круглое пятно. Из подобных треугольников



AOS' и BCS' имеем: $\frac{r}{R} = \frac{b-c}{c}$. В то же время,

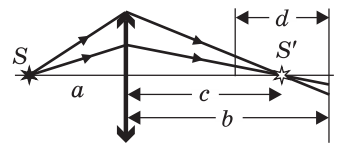
по формуле тонкой линзы, $\frac{1}{a} + \frac{1}{c} = \frac{1}{f}$. Используя эти соотношения, получа-

ем: $r = R \left(\frac{b}{f} - \frac{b}{a} - 1 \right) = 1 \text{ см.}$

Ответ. $r = 1 \text{ см.}$

4.1.88. Точечный источник света расположен на главной оптической оси тонкой собирающей линзы с фокусным расстоянием $f = 20 \text{ см}$. По другую сторону линзы на расстоянии $b = 80 \text{ см}$ от нее находится экран, перпендикулярный ее главной оптической оси. Известно, что если переместить экран на расстояние $d = 40 \text{ см}$ в сторону линзы, то размер пятна света, создаваемого источником на экране, не изменится. Определить расстояние a от источника света до линзы.

Решение. Все световые лучи, испущенные источником S и попавшие в линзу, пересекаются на ее главной оптической оси в точке S' , являющейся изображением источника (см. рисунок). Пройдя далее до экрана, они образуют на нем освещенное круглое пятно. Из рисунка видно, что размер пятна не изменится, если расстояние d , на которое перемещают экран, удовлетворяет со-



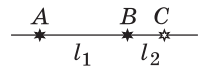
отношению $b - c = \frac{d}{2}$. С другой стороны, по фор-

муле тонкой линзы $\frac{1}{a} + \frac{1}{c} = \frac{1}{f}$. Используя эти

соотношения, получаем: $a = \frac{(2b-d)f}{2b-d-2f} = 30 \text{ см.}$

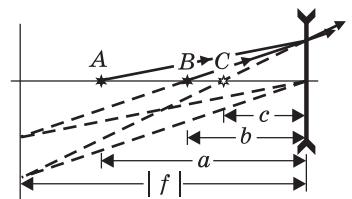
Ответ. $a = 30 \text{ см.}$

4.1.89. Точечный источник света находится на главной оптической оси рассеивающей линзы. Если поместить источник в точку A , то его изображение расположится в точке B . Если поместить источник в точку B , то его изображение расположится в точке C . Зная расстояния между точками A и B ($l_1 = 20 \text{ см}$) и между точками B и C ($l_2 = 10 \text{ см}$), найти фокусное расстояние линзы f .



Решение. Расположение линзы, ее фокальной плоскости, источника и его изображений показано на рисунке. Записывая формулу тонкой линзы с использованием для соответствующих расстояний обозначений,

приведенных на рисунке, имеем: $\frac{1}{a} - \frac{1}{b} = -\frac{1}{|f|}$,



$\frac{1}{b} - \frac{1}{c} = -\frac{1}{|f|}$. В этих выражениях учтено, что расстояние от линзы до мнимого изображения, а также модуль фокусного расстояния рассеивающей линзы должны войти в формулу линзы со знаком «минус». Кроме того, справедливы также следующие соотношения: $a - b = l_1$, $b - c = l_2$, $a - c = l_1 + l_2$.

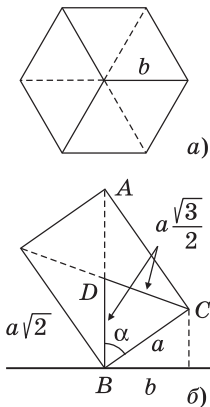
Объединяя записанные выражения, получаем: $|f| = \frac{2(l_1 + l_2)l_1l_2}{(l_1 - l_2)^2} = 120$ см.

О т в е т. $|f| = 120$ см.

Дополнительные задачи

4.1.90. Деревянный куб с длиной ребра $a = 10$ см закреплен так, что одна из его вершин находится на горизонтальной плоскости, а центр куба лежит на одной вертикали с этой вершиной. Сверху на куб вертикально падает широкий параллельный пучок света. Определить площадь тени S , которую куб отбрасывает на горизонтальную плоскость. Дифракцией света пренебречь.

Р е ш е н и е. Вид на куб сверху показан на рисунке (а). Тень от куба представляет собой правильный шестиугольник со стороной b , равной расстоянию от боковой вершины куба до вертикали.



Площадь тени равна $S = 6 \cdot \frac{1}{2} b \cdot b \frac{\sqrt{3}}{2} = \frac{3\sqrt{3}}{2} b^2$. Для вычисления b рассмотрим сечение куба вертикальной плоскостью, проходящей по диагоналям двух его противоположных граней (см. рисунок (б), на котором AB — вертикаль, BC — ребро куба, D — центр куба).

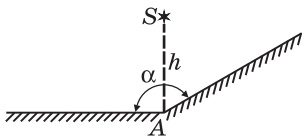
Из рисунка (б) видно, что $b = a \sin \alpha$. По теореме косинусов, записанной для $\triangle BCD$, имеем:

$$\left(\frac{a\sqrt{3}}{2}\right)^2 = \left(\frac{a\sqrt{3}}{2}\right)^2 + a^2 - 2a^2 \frac{\sqrt{3}}{2} \cos \alpha. \quad \text{Отсюда} \quad \cos \alpha = \frac{1}{\sqrt{3}}.$$

Следовательно, $\sin \alpha = \sqrt{\frac{2}{3}}$ и $b = a\sqrt{\frac{2}{3}}$.

О т в е т. $S = a^2\sqrt{3} \approx 1,7$ дм².

4.1.91. Два плоских зеркала образуют двугранный угол $\alpha = 150^\circ$. Точечный источник света S расположен на перпендикуляре к одному из зеркал, восстановленном в точке A на расстоянии $h = 10$ см от зеркала (см. рисунок). Каково расстояние l между изображениями источника в зеркалах?



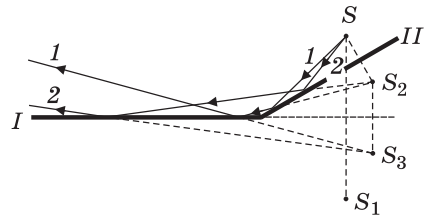
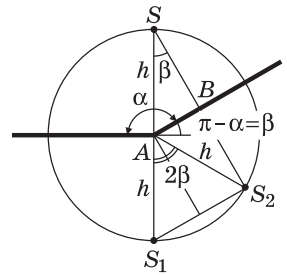
Р е ш е н и е. Как известно, изображение светящейся точки в плоском зеркале является мнимым и расположено симметрично относительно его отражающей поверхности. Для нахождения изображения точки достаточно опустить из нее на зеркало (или на его продолжение) перпендикуляр и продлить его на такое же расстояние за зеркало. Если зеркал несколько, изображения светящейся точки в каждом из них строятся аналогично. На рисун-

ке представлены изображения S_1 и S_2 источника S в зеркалах, расположение которых задано в условии задачи. Из равенства треугольников ASB и AS_2B следует, что точки S , S_1 и S_2 лежат на одной окружности с центром в точке A . Поэтому $\angle S_1AS_2 = 2\beta$, где $\beta = \pi - \alpha$. Искомое расстояние между изображениями S_1 и S_2 равно $l = 2h \sin \beta$.

О т в е т. $l = 2h \sin(\pi - \alpha) = 10$ см.

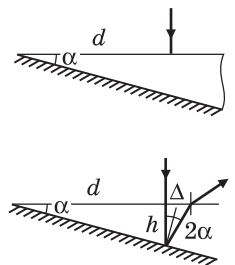
Замечание. Изменяя угол между зеркалами и расположение источника, можно наблюдать возникновение не двух, как ранее, а большего числа изображений источника. Рассмотрим в качестве примера случай, когда в системе из двух зеркал, расположенных по-прежнему под углом $\alpha = 150^\circ$, возникают три изображения светящейся точки S . Для этого сместим источник параллельно плоскости зеркала I на некоторое расстояние вправо (см. рисунок). Теперь часть из тех лучей, что дают изображение S_2 точки S в зеркале II (например, лучи 1 и 2 на рисунке), попадут на зеркало I и, отразившись от него, дадут в этом зеркале изображение S_3 . Из рисунка видно, что S_3 можно формально рассматривать как изображение в зеркале I изображения S_2 .

На основе приведенных рассуждений нетрудно вывести следующее простое правило, позволяющее построить все изображения точечного источника в какой-либо системе плоских зеркал. Вначале нужно построить изображения источника в каждом зеркале, а затем построить изображения тех изображений, которые лежат *перед* соответствующими зеркалами. Так, на рисунке точка S_2 , являющаяся изображением источника S в зеркале II , расположена перед плоскостью зеркала I , поэтому необходимо построить в этом зеркале ее изображение S_3 . Оно располагается позади обоих зеркал и больше никаких изображений не имеет. Аналогично S_1 , являющееся изображением S в зеркале I , не имеет изображения в зеркале II , поскольку находится за ним. Следовательно, в рассматриваемой системе действительно наблюдаются три изображения источника. Уменьшив угол между зеркалами, можно найти такое положение источника, при котором будут наблюдаться одновременно четыре его изображения.



4.1.92. На верхнюю грань стеклянного клина с углом $\alpha = 15^\circ$ падает узкий пучок света перпендикулярно этой грани на расстоянии $d = 2$ см от ребра клина. Нижняя грань клина посеребрена. На каком расстоянии d_1 от ребра отраженный пучок выходит из клина?

Решение. Ход одного из лучей, образующих световой пучок, изображен на рисунке. Видно, что угол падения луча на посеребренную грань клина равен α , а отраженный от нее луч составляет с падающим лучом угол 2α . Поэтому искомое расстояние $d_1 = d + \Delta$, где $\Delta = h \operatorname{tg} 2\alpha = h \frac{2 \operatorname{tg} \alpha}{1 - \operatorname{tg}^2 \alpha}$,



$h = d \operatorname{tg} \alpha$. Отсюда $d_1 = d \left(1 + \frac{2 \operatorname{tg}^2 \alpha}{1 - \operatorname{tg}^2 \alpha} \right)$. С использованием

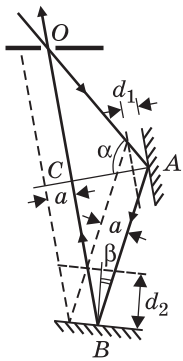
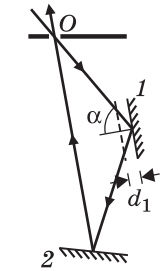
тригонометрических тождеств ответ преобразуется к более компактному

$$\text{виду: } d_1 = \frac{d}{\cos 2\alpha} = \frac{2d}{\sqrt{3}} \approx 2,31 \text{ см.}$$

О т в е т. $d_1 \approx 2,31$ см.

4.1.93. Оптическая схема, изображенная на рисунке, состоит из непрозрачного экрана с маленьким отверстием O и двух плоских зеркал 1 и 2 .

Луч света проходит через отверстие O , отражается от зеркал 1 и 2 и выходит обратно через это отверстие, причем угол падения луча на зеркало 1 равен α , а после отражения от зеркала 2 луч распространяется параллельно зеркалу 1 . Когда зеркало 1 сместили влево параллельно самому себе на расстояние d_1 , луч перестал попадать в отверстие O . На какое расстояние d_2 нужно сместить параллельно самому себе зеркало 2 , чтобы луч снова попал в это отверстие? Размер отверстия пренебрежимо мал.

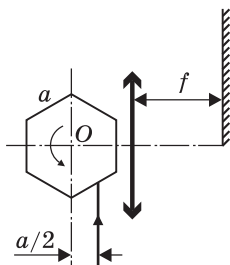


Р е ш е н и е. Ход луча при исходном и смещенном положениях зеркала 1 изображен на рисунке сплошной и штриховой линиями соответственно. Видно, что при перемещении зеркала параллельно самому себе на расстояние d_1 отраженный от него луч смещается на расстояние $a = 2d_1 \sin \alpha$, где α — угол падения. По условию, треугольник ABC прямоугольный. Следовательно, $\alpha + 2\beta = \frac{\pi}{2}$ и угол падения β на зер-

кало 2 равен $\beta = \frac{\pi}{4} - \frac{\alpha}{2}$. Из рисунка видно, что отраженный от зеркала 2 луч попадет в отверстие O , если его сместить вправо на расстояние a . Имеем: $d_1 \sin \alpha = d_2 \sin \left(\frac{\pi}{4} - \frac{\alpha}{2} \right)$.

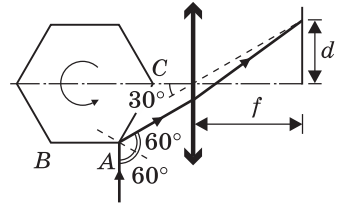
$$\text{О т в е т. } d_2 = d_1 \frac{\sin \alpha}{\sin \left(\frac{\pi}{4} - \frac{\alpha}{2} \right)}$$

4.1.94. Оптический сканер представляет собой правильную шестигранную призму с зеркальной поверхностью, вращающуюся вокруг своей оси O . Ширина каждой грани равна a . Снизу на сканер падает вертикальный световой луч, продолжение которого проходит на расстоянии $a/2$ от оси вращения сканера (см. рисунок). Рядом со сканером вертикально расположена тонкая собирающая линза большого диаметра. Фокусное расстояние линзы равно f , а ее главная оптическая ось проходит через ось вращения сканера. В правой фокальной плоскости линзы расположен широкий экран, нижний край которого расположен на оптической оси линзы. Определите длину d отрезка, который «замечает» на экране световой луч, отраженный от сканера.



Рядом со сканером вертикально расположена тонкая собирающая линза большого диаметра. Фокусное расстояние линзы равно f , а ее главная оптическая ось проходит через ось вращения сканера. В правой фокальной плоскости линзы расположен широкий экран, нижний край которого расположен на оптической оси линзы. Определите длину d отрезка, который «замечает» на экране световой луч, отраженный от сканера.

Решение. Максимально смещенное от нижнего края экрана световое пятно даст луч, испытывший при отражении от призмы наименьшее отклонение от первоначального распространения. Ход такого луча изображен на рисунке. Этот луч падает на грань AC рядом с ребром призмы. При повороте призмы из данного положения на малый угол грань AC уйдет из-под луча и на ее месте окажется грань BA , на которую луч будет падать нормально и отразится назад, т. е. не попадет на экран. Луч, отраженный от призмы, вновь начнет попадать на экран, когда грань BA повернется на угол 45° . Таким образом, как видно из рисунка, максимальное отклонение преломленного линзой луча достигается в момент, когда падающий луч составляет с главной оптической осью линзы угол 30° . Это соответствует смещению светового пятна от нижнего края экрана на расстояние $d = f \operatorname{tg} 30^\circ = \frac{f}{\sqrt{3}}$.

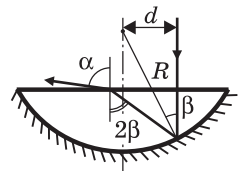


Ответ. $d = \frac{f}{\sqrt{3}}$.

4.1.95. На плоскую поверхность плоско-выпуклой линзы, сферическая поверхность которой имеет радиус R и посеребрена, падает узкий пучок света параллельно главной оптической оси на расстоянии d от нее. Пучок выходит из линзы после однократного отражения от ее сферической поверхности. Найти, под каким углом α к оси пучок выходит из линзы. Показатель преломления стекла, из которого изготовлена линза, равен n .

Решение. Ход одного из лучей, образующих световой пучок, изображен на рисунке, где через β обозначен угол падения луча на посеребренную

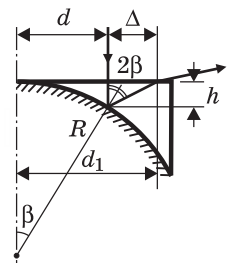
поверхность линзы. Видно, что $\sin \beta = \frac{d}{R}$. Угол падения отраженного от посеребренной поверхности луча на плоскую поверхность линзы составляет 2β . По закону преломления $\sin \alpha = n \sin 2\beta$. Используя формулу $\sin 2\beta = 2 \sin \beta \cos \beta$, определяем α .



Ответ. $\alpha = \arcsin \left[\frac{2dn}{R} \sqrt{1 - \frac{d^2}{R^2}} \right]$.

4.1.96. На плоскую поверхность плоско-вогнутой линзы, вогнутая поверхность которой имеет радиус R и посеребрена, параллельно главной оптической оси на расстоянии d от нее падает узкий пучок света. Пучок выходит через плоскую поверхность линзы после отражения от сферической поверхности. Найти, на каком расстоянии d_1 от оси выходит пучок из линзы, если толщина линзы на оси пренебрежимо мала.

Решение. Ход одного из лучей изображен на рисунке, из которого видно, что $d_1 = d + \Delta$, где $\Delta = h \operatorname{tg} 2\beta$,

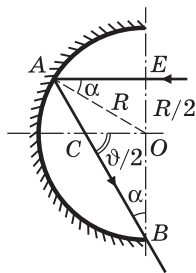
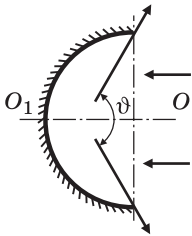


$h = R - \sqrt{R^2 - d^2}$. Учитывая, что $\sin\beta = \frac{d}{R}$, находим $\operatorname{tg}\beta = \frac{d}{\sqrt{R^2 - d^2}}$. Ис-

пользуя формулу $\operatorname{tg}2\beta = \frac{2\operatorname{tg}\beta}{1 - \operatorname{tg}^2\beta}$, получаем d_1 .

О т в е т. $d_1 = \frac{dR(2\sqrt{R^2 - d^2} - R)}{R^2 - 2d^2}$.

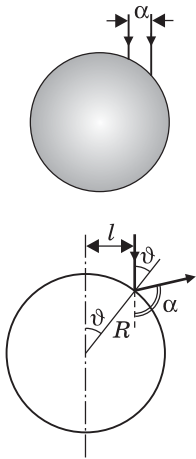
4.1.97. На цилиндрическое зеркало, поперечное сечение которого представляет собой полуокружность, направили параллельно оси OO_1 и симметрично относительно нее параллельный пучок света, ширина которого равна радиусу зеркала (см. рисунок). Найти наибольший угол ϑ между лучами света, отраженного от зеркала.



Решение. Ход одного из лучей, ограничивающих пучок, изображен на рисунке. Угол падения этого луча на зеркало ($\angle EAO$, где O — центр зеркала, A — точка падения луча) по условию задачи равен $\alpha = \arcsin 0,5 = 30^\circ$. По закону отражения $\angle OAB = \angle EAO = 30^\circ$. Кроме того, $\angle OBA = \angle OAB = 30^\circ$, так как $\triangle AOB$ равнобедренный. В итоге находим, что $\angle BOE = 180^\circ$, т. е. точки B, O , и E лежат на одной прямой. Следовательно, при падении на зеркало крайних лучей из пучка отраженные лучи проходят через край зеркала. Эти лучи расходятся под наибольшим углом. Искомый угол расхождения лучей равен удвоенному углу $\angle OCB$, т. е. $\vartheta = 2(90^\circ - \alpha) = 120^\circ$.

О т в е т. $\vartheta = 120^\circ$.

4.1.98. На поверхность зеркального шара падают два параллельных луча света, лежащие в плоскости, проходящей через его центр. Расстояние между лучами $a = 1$ см. Известно, что при отражении от поверхности шара один из лучей отклоняется от первоначального направления на угол $\alpha = 90^\circ$, а другой — на угол $\beta = 60^\circ$. Найти радиус шара R .



Решение. Ход луча, падающего на шар на некотором расстоянии l от оси, параллельной лучу и проходящей через центр шара, изображен на рисунке, где ϑ — угол падения, α — угол отклонения луча от первоначального направления. Видно, что $\alpha + 2\vartheta = \pi$, $l = R \sin \vartheta$. Отсюда получаем формулу, связывающую расстояние l от луча до оси и угол α отклонения луча: $l = R \sin \frac{\pi - \alpha}{2} = R \cos \frac{\alpha}{2}$.

Из этой формулы следует, что заданное в условии расстояние между двумя параллельными лучами, падающими на шар,

выражается как $a = R \left[\cos \frac{\beta}{2} - \cos \frac{\alpha}{2} \right]$. Отсюда $R = \frac{a}{\cos(\beta/2) - \cos(\alpha/2)} = \frac{2a}{\sqrt{3} - \sqrt{2}} \approx 6,3$ см.

Отв е т. $R \approx 6,3$ см.

4.1.99. На зеркальный шар падает узкий параллельный пучок света, ось которого проходит через центр шара. Диаметр отраженного от шара пучка, измеренный на расстоянии $l = 12$ см от центра шара, оказался в $m = 2$ раза больше диаметра падающего пучка. Найти радиус шара R . Углы падения и отражения световых лучей считать малыми.

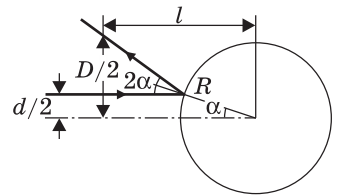
Решение. Ход одного из крайних лучей, образующих падающий пучок, изображен на рисунке, где через α обозначен угол падения. Из рисунка

видно, что $\frac{D}{2} = \frac{d}{2} + (l - R \cos \alpha) \operatorname{tg} 2\alpha$, $\sin \alpha = \frac{d}{2R}$.

Здесь d и D — диаметры падающего и отраженного пучков соответственно. Из условия малости углов падения следует, что $\sin \alpha \approx \alpha$, $\operatorname{tg} 2\alpha \approx 2\alpha$, $\cos \alpha \approx 1$. Объединяя записанные выраже-

ния, получаем: $R = \frac{2l}{m + 1} = 8$ см.

Отв е т. $R = 8$ см.



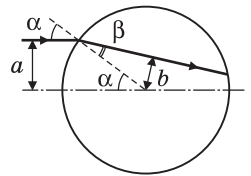
4.1.100. Луч света падает на стеклянный шар вдоль прямой, идущей на расстоянии a от центра шара. На каком расстоянии b от центра шара пройдет преломленный луч, если показатель преломления стекла, из которого изготовлен шар, равен n ?

Решение. Ход луча изображен на рисунке. Видно,

что $\sin \alpha = \frac{a}{R}$, $\sin \beta = \frac{b}{R}$, где R — радиус шара. По за-

кону преломления $\sin \alpha = n \sin \beta$.

Отв е т. $b = \frac{a}{n}$.

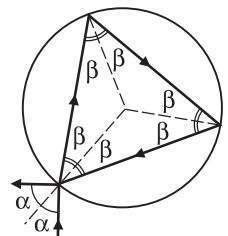


4.1.101. Луч света, распространяющийся в воздухе, падает в некоторой точке на поверхность стеклянного шара. После преломления и двух внутренних отражений от поверхности шара луч возвращается в точку падения и выходит из шара. При этом луч, падающий на шар, и луч, выходящий из него, оказываются перпендикулярными друг другу. Найти показатель преломления стекла n .

Решение. Ход луча изображен на рисунке. По закону преломления $\sin \alpha = n \sin \beta$, где α — угол падения луча на поверхность шара, β — угол преломления. Как

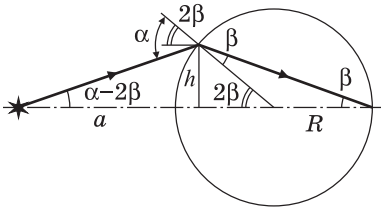
видно из рисунка, $6\beta = \pi$. По условию $2\alpha = \frac{\pi}{2}$. Объединяя записанные выражения, получаем: $n = \sqrt{2}$.

Отв е т. $n = \sqrt{2}$.



4.1.102. На некотором расстоянии от стеклянного шара находится точечный источник света, дающий узкий световой пучок, ось которого проходит через центр шара. При каких значениях показателя преломления стекла n изображение источника будет находиться вне шара независимо от расстояния, на котором находится источник?

Решение. Пусть источник находится на расстоянии a от поверхности шара. Ход одного из лучей, испущенных источником, изображен на рисунке в предположении, что этот луч пересекает заднюю часть поверхности шара на оптической оси. С учетом малости углов падения и преломления имеем:



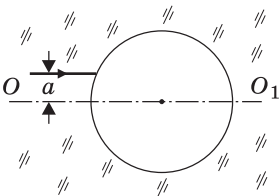
$\beta = \frac{1}{n}\alpha$, $h = (\alpha - 2\beta)a$, $h = 2\beta R$, где h — расстояние от точки падения луча на поверхность шара до его оси, R — радиус шара. Объединяя эти равенства, находим показатель преломления, при котором изображение источника располагается на задней поверхности шара:

$n_0 = 2\left(\frac{R}{a} + 1\right)$. Очевидно, что при $n < n_0$ точка пересечения

преломленных шаром лучей с оптической осью (изображение источника) выйдет за пределы шара. Устремляя a к бесконечности, находим, что $n_0 \rightarrow 2$. Таким образом, для источника, удаленного на большое расстояние, достигается наименьшее значение показателя преломления, удовлетворяющее условию задачи. Следовательно, изображение источника всегда будет находиться вне шара при $n < 2$.

Ответ. $n < 2$.

4.1.103. В толще стекла с показателем преломления $n = 1,5$ имеется сферическая полость, заполненная воздухом. Луч света, распространяющийся в стекле, падает на полость на малом расстоянии a от оси OO_1 , проходящей через центр полости параллельно лучу. На каком расстоянии b от этой оси находится точка выхода луча из полости? Углы падения и преломления считать малыми.

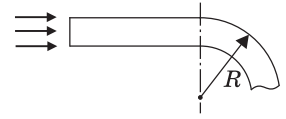


Решение. Ход луча изображен на рисунке, где через α и β обозначены соответственно углы падения и преломления на границе «стекло — воздух». По закону преломления $\sin \beta = n \sin \alpha$. Из рисунка видно, что $a = R \sin \alpha$, $b = R \sin \gamma$, $\gamma = \pi - \alpha - (\pi - 2\beta) = 2\beta - \alpha$. По условию задачи углы α и β малы, следовательно, мал также и угол γ . Поэтому справедливы приближенные равенства: $a \approx R\alpha$, $b \approx R\gamma$, $\beta \approx n\alpha$,

$$\gamma \approx (2n - 1)\alpha. \text{ Отсюда } b \approx a \frac{\gamma}{\alpha}.$$

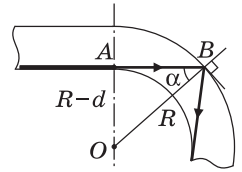
Ответ. $b \approx a(2n - 1) = 2a$.

4.1.104. Плоскопараллельная пластинка толщиной $d = 1$ мм изготовлена из прозрачной пластмассы с показателем преломления $n = 1,5$. Изгибая пластинку, ей придают форму, изображенную на рисунке, где показано поперечное сечение пластинки. Перпендикулярно торцу пластинки на него падает в плоскости рисунка параллельный пучок света. Определить минимально допустимый радиус кривизны R_{\min} изгиба пластинки, при котором свет не будет выходить из пластинки через ее боковую поверхность. Радиус кривизны определять по внешней (по отношению к направлению изгиба) поверхности пластинки.



Решение. Рассмотрим ход светового луча, распространяющегося вплотную к внутренней поверхности плоской части пластинки (см. рисунок). Легко видеть, что из всех лучей, попавших внутрь пластинки через ее торец, этот луч имеет наименьший угол падения α на искривленную поверхность пластинки. Рассматриваемый луч не выйдет наружу, если он испытает на искривленной поверхности полное отражение, условие которого имеет вид: $\sin \alpha \geq \frac{1}{n}$. Ясно, при выполнении этого условия все остальные лучи, образующие пучок, также не выйдут из пластинки через ее искривленную поверхность.

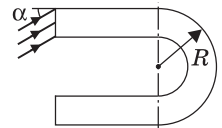
Из рисунка видно, что $\sin \alpha = \frac{R-d}{R}$. Объединяя запи-



санные соотношения, получаем: $R_{\min} = \frac{nd}{n-1} = 3$ мм.

Ответ. $R_{\min} = 3$ мм.

4.1.105. Плоскопараллельная пластинка толщиной $d = 2$ мм изготовлена из прозрачной пластмассы с показателем преломления $n = \sqrt{29} / 4 \approx 1,35$. Изгибая пластинку, ей придают форму, изображенную на рисунке, где показано поперечное сечение пластинки. Радиус кривизны изогнутого участка пластинки равен $R = 1$ см. Под каким максимальным углом α_{\max} может падать световой пучок на торец пластинки в плоскости рисунка, чтобы свет не выходил из пластинки через ее боковую поверхность?



Решение. Ход луча, падающего на искривленную поверхность пластинки под наименьшим углом δ , изображен на рисунке.

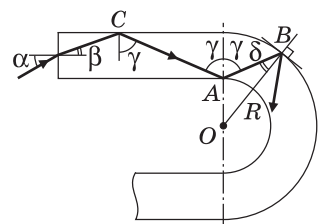
Этот луч не выйдет наружу в точке B, если $\sin \delta \geq \frac{1}{n}$. Из треугольника

AOB по теореме синусов имеем: $\frac{\sin \delta}{|AO|} = \frac{\sin(\pi - \gamma)}{|OB|}$.

Учитывая, что $|AO| = R - d$, $|OB| = R$, находим

$\sin \gamma = \frac{R}{R-d} \sin \delta = \frac{R}{n(R-d)}$. Видно, что $\sin \gamma > \frac{1}{n}$,

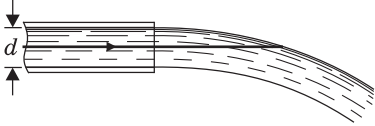
поэтому в точках A и C этот луч также наружу не выйдет. Из закона преломления следует, что



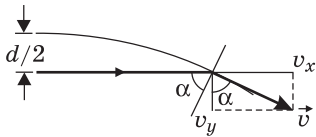
$\sin \alpha = n \sin \beta$. С другой стороны, $\sin \beta = \cos \gamma$. Объединяя записанные равенства, получаем: $\sin \alpha_{\max} = \sqrt{n^2 - \frac{R^2}{(R-d)^2}} = 0,5$, $\alpha_{\max} = 30^\circ$.

О т в е т. $\alpha_{\max} = 30^\circ$.

4.1.106. По оси горизонтально расположенной трубы внутренним диаметром d распространяется узкий световой пучок. Труба заполнена жидкостью с показателем преломления n , движущейся с некоторой скоростью и вытекающей из открытого конца трубы свободной струей. Какова должна быть скорость течения жидкости v_0 , чтобы пучок вышел в воздух при первом падении на границу струи? Изменением поперечного сечения струи при движении жидкости в воздухе пренебречь. Ускорение свободного падения g .



Р е ш е н и е. Обозначим через α угол падения светового пучка на границу раздела жидкости и воздуха. Из рисунка видно, что такой же угол образует с вертикалью скорость \vec{v} , с которой движутся частицы жидкости в струе в точке падения пучка.



Имеем: $\sin \alpha = \frac{v_x}{\sqrt{v_x^2 + v_y^2}}$ где $v_x = v_0$, $v_y = \sqrt{gd}$.

Отсюда $\sin \alpha = \frac{v_0}{\sqrt{v_0^2 + gd}}$. С другой стороны, пучок выйдет из жидкости в воздух, если он не испытает полного внутреннего отражения, т. е. если $\sin \alpha \leq \frac{1}{n}$.

Объединяя записанные выражения, найдем:

$$\text{дим: } v_0 \leq \sqrt{\frac{gd}{n^2 - 1}}.$$

$$\text{О т в е т. } v_0 \leq \sqrt{\frac{gd}{n^2 - 1}}.$$

4.1.107. Тонкая собирающая линза дает на экране изображение предмета, увеличенное в $m = 3$ раза. Когда линзу переместили в сторону экрана на расстояние $l = 32$ см, на экране возникло изображение предмета, уменьшенное во столько же раз. Найти фокусное расстояние линзы f .

Р е ш е н и е. Обозначим через a , b и a' , b' расстояния от предмета до линзы и от линзы до экрана в первом и во втором случаях соответственно. По условию задачи $a' = a + l$, $b' = b - l$. Увеличение изображения в первом

случае $m = \frac{b}{a}$, а во втором $\frac{1}{m} = \frac{b'}{a'}$. Дважды используя формулу тонкой лин-

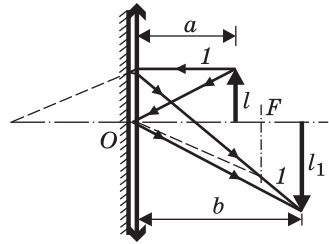
зы $\frac{1}{a} + \frac{1}{b} = \frac{1}{f}$, $\frac{1}{a'} + \frac{1}{b'} = \frac{1}{f}$, получаем: $f = \frac{lm}{m^2 - 1} = 12$ см.

О т в е т. $f = 12$ см.

4.1.108. К плоской поверхности тонкой плосковыпуклой линзы с фокусным расстоянием $F = 12$ см прижато плоское зеркало. Со стороны выпуклой поверхности линзы на расстоянии $a = 9$ см от нее расположен предмет. Построить изображение предмета и найти увеличение изображения m .

Решение. Построение изображения приведено на рисунке. При построении учтено, что лучи, идущие от предмета, после преломления в линзе и отражения от зеркала, вторично преломляются в линзе. В частности луч I , идущий к линзе параллельно главной оптической оси, после выхода из линзы пересекает оптическую ось в середине отрезка OF . Отсюда следует, что фокусное расстояние оптической системы, состоящей из тонкой линзы и прижатого к ней плоского зеркала, равно $F/2$. Применяя для системы формулу тонкой линзы $\frac{1}{a} + \frac{1}{b} = \frac{2}{F}$, находим,

что $b = \frac{aF}{2a - F}$. Из рисунка видно, что увеличение, даваемое системой, $m = \frac{l_1}{l} = \frac{b}{a}$.



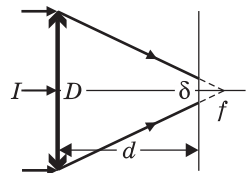
Ответ. $m = \frac{F}{2a - F} = 2$.

4.1.109. В солнечный день собирающую линзу с фокусным расстоянием $f = 10$ см помещают на расстоянии $d = 9$ см от плоской деревянной доски так, что солнечный свет падает на линзу нормально и ее главная оптическая ось перпендикулярна поверхности доски. Через какое время τ дерево загорится, если мощность солнечного излучения, проходящего через площадку единичной площади, расположенную перпендикулярно световым лучам, составляет $I = 1$ кВт/м²? Начальная температура дерева $t_0 = 20$ °С, температура воспламенения дерева $t_1 = 270$ °С, плотность дерева $\rho = 800$ кг/м³, его теплоемкость $c = 2,5$ кДж/(кг·К). Считать, что солнечное излучение, падающее на дерево, полностью поглощается в поверхностном слое толщиной $h = 0,1$ мм. Угловым размером Солнца и потерями световой энергии в линзе пренебречь.

Решение. Учитывая, что Солнце удалено от Земли на весьма значительное расстояние, падающие на линзу лучи света можно считать практически параллельными. После преломления линзой эти лучи пересекаются в ее фокусе. На поверхности доски, расположенной перед фокусом, лучи образуют световое пятно конечного диаметра δ (см. рисунок). Обозначив через D диаметр линзы, из подобия треугольников находим, что

$$\frac{D}{\delta} = \frac{f}{f - d}.$$

Поскольку по условию потерями световой энергии в линзе можно пренебречь, полная световая мощность $N = I\pi D^2/4$, падающая на поверхность линзы, равна световой мощности $N_1 = I_1^2\pi\delta^2/4$ в пятне. Следовательно, мощность излучения, проходящая че-



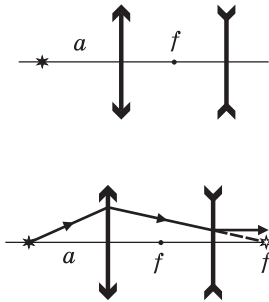
рез единичную площадку на поверхности доски, $I_1 = I \left(\frac{D}{\delta} \right)^2 = I \left(\frac{f}{f-d} \right)^2$.

За время τ в световом пятне на поверхности доски выделится энергия $Q = I_1 S \tau$, которая пойдет на нагревание дерева (здесь S — площадь пятна). Из уравнения теплового баланса следует, что $Q = \rho h S c (t_1 - t_0)$. Объединяя

записанные выражения, получаем: $\tau = \frac{\rho h c (t_1 - t_0)}{I} \left(1 - \frac{d}{f} \right)^2 = 0,5$ с.

О т в е т. $\tau = 0,5$ с.

4.1.110. Собирающая и рассеивающая линзы имеют одинаковые по величине фокусные расстояния f и расположены так, что задний фокус собирающей линзы совмещен с передним фокусом рассеивающей. На каком расстоянии a от собирающей линзы следует поместить точечный источник света, чтобы после рассеивающей линзы получить пучок параллельных лучей?



Решение. Пучок света после рассеивающей линзы будет параллельным, если продолжения падающих на нее лучей пересекаются в ее заднем фокусе (см. рисунок). Для этого изображение источника, даваемое собирающей линзой, должно располагаться на расстоянии f позади рассеивающей линзы или на расстоянии $3f$ от собирающей линзы. Расстояние a , на котором надо поместить источник света перед собирающей линзой, можно найти по формуле

тонкой линзы: $\frac{1}{a} + \frac{1}{3f} = \frac{1}{f}$.

О т в е т. $a = \frac{3}{2}f$.

4.1.111. Две одинаковые тонкие собирающие линзы, прижатые вплотную друг к другу, дают на экране изображение предмета с увеличением $M = 3$. Расстояние между предметом и экраном $L = 80$ см. Какова оптическая сила D_0 каждой из линз?

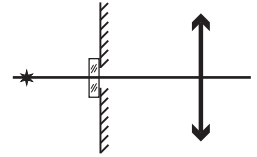
Решение. Оптическая сила системы из тонких линз, прижатых вплотную друг к другу, равна сумме оптических сил линз, входящих в систему:

$D = 2D_0$. По формуле тонкой линзы $D = \frac{1}{a} + \frac{1}{b}$, где a и b — расстояния от предмета до линзы и от линзы до изображения. По условию задачи $\frac{b}{a} = M$, $a + b = L$. Отсюда $a = \frac{L}{M+1}$, $b = \frac{ML}{M+1}$. Объединяя записанные вы-

ражения, получаем: $D_0 = \frac{(M+1)^2}{2ML} \approx 3,3$ дптр.

О т в е т. $D_0 \approx 3,3$ дптр.

4.1.112. Точечный источник света находится на главной оптической оси собирающей линзы на удвоенном фокусном расстоянии от нее. Между источником и линзой перпендикулярно главной оптической оси расположен непрозрачный экран с маленьким отверстием, центр которого лежит на главной оптической оси. На какое расстояние b сместится изображение источника, если отверстие в экране перекрыть плоскопараллельной стеклянной пластинкой толщиной $d = 1$ см? Фокусное расстояние линзы $F = 20$ см, показатель преломления стекла $n = 1,5$. Углы падения и преломления считать малыми.

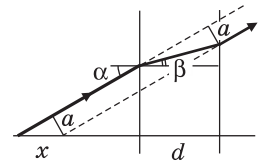


Решение. В отсутствие пластинки изображение источника находится на расстоянии $2F$ от линзы. Рассмотрим один из лучей, образующих изображение источника, который падает на пластинку под углом α (см. рисунок). После прохождения пластинки луч оказывается смещенным параллельно самому себе на расстояние $a = d \frac{\sin(\alpha - \beta)}{\cos\beta}$, где β — угол преломления. По-

скольку углы падения и преломления малы, $\beta \approx \frac{\alpha}{n}$, $\cos\beta \approx 1$ и $a \approx \alpha d \frac{n-1}{n}$.

Смещение луча на расстояние a эквивалентно смещению источника вдоль оптической оси в сторону линзы

на расстояние $x = \frac{a}{\sin\alpha} \approx \frac{a}{\alpha} = d \cdot \frac{n-1}{n}$ (см. рисунок).

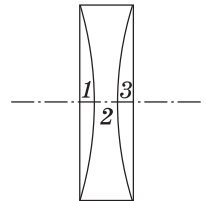


Применяя формулу тонкой линзы $\frac{1}{2F-x} + \frac{1}{2F+b} = \frac{1}{F}$,

после несложных преобразований получаем: $b = \frac{Fd(n-1)}{nF-d(n-1)} \approx 0,34$ см.

О т в е т. $b \approx 0,34$ см.

4.1.113. Из тонкой плоскопараллельной стеклянной пластинки изготовлены три линзы (см. рисунок). Взяв вначале линзы 1 и 2, прижали их вплотную друг к другу и направили на них вдоль их главной оптической оси параллельный пучок света диаметром $d = 3$ см. При этом на экране, расположенном за линзами на расстоянии $L = 20$ см от них, образовалось светлое пятно диаметром $D_1 = 15$ см. Когда проделали то же самое с линзами 2 и 3, прижатыми вплотную друг к другу, диаметр светового пятна на экране оказался равным $D_2 = 13$ см. Полагая, что линзы тонкие и диаметр падающего пучка меньше диаметра линз, найти их фокусные расстояния F_1 , F_2 и F_3 .

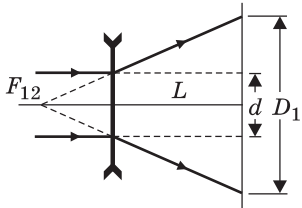


Решение. Оптическая сила системы из тонких линз, прижатых вплотную друг к другу, равна алгебраической сумме оптических сил линз, входящих в систему. Имеем:

$\frac{1}{F_1} + \frac{1}{F_2} = \frac{1}{F_{12}}$, $\frac{1}{F_2} + \frac{1}{F_3} = \frac{1}{F_{23}}$. Кроме того, поскольку

все три линзы, сложенные вместе, образуют плоскопараллельную пластинку,

$\frac{1}{F_1} + \frac{1}{F_2} + \frac{1}{F_3} = 0$. Решая полученную систему уравнений, находим, что



$F_1 = -F_{23}, F_3 = -F_{12}, F_2 = \frac{F_{12}F_{23}}{F_{12} + F_{23}}$. Из рисунка вид-

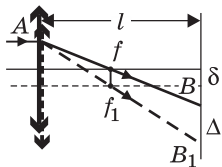
но, что $\frac{D_1 - d}{2L} = \frac{d}{2|F_{12}|}$, откуда $|F_{12}| = \frac{Ld}{D_1 - d}$. Ана-

логично $|F_{23}| = \frac{Ld}{D_2 - d}$.

Ответ. $F_1 = \frac{Ld}{D_2 - d} = 6$ см, $F_2 = \frac{Ld}{2d - D_1 - D_2} \approx -2,73$ см, $F_3 = \frac{Ld}{D_1 - d} = 5$ см.

4.1.114. Узкий световой пучок падает на тонкую собирающую линзу параллельно ее главной оптической оси и образует светлое пятно на экране, параллельном плоскости линзы и расположенном за ней на расстоянии l . Когда линзу передвинули на расстояние δ в направлении, перпендикулярном ее главной оптической оси, центр пятна сместился на величину Δ . Найдите фокусное расстояние линзы f .

Решение. Ход одного из лучей, образующих пучок, изображен на рисунке для случая, когда $l > f$. Сплошные линии соответствуют исходному положению линзы, штриховые — смещенному. Из подо-

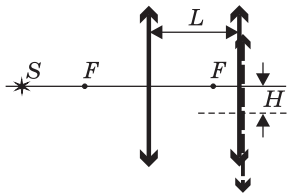


бия $\Delta A f f_1$ и $\Delta A B B_1$ следует, что $\frac{\delta}{f} = \frac{\Delta}{l}$. Отсюда $f = \frac{l\delta}{\Delta}$.

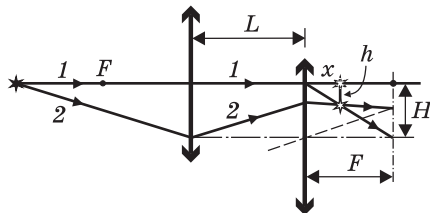
Аналогично рассматривается случай, когда $l < f$. Наконец, если перемещение линзы выходит из плоскости рисунка, то лучи, преломленные линзой в исходном и смещенном ее положениях, по-прежнему будут лежать в одной плоскости, в которой можно рассмотреть такие же подобные треугольники. Следовательно, связь между смещениями линзы и светового пятна на экране во всех случаях имеет один и тот же вид.

Ответ. $f = l\delta / \Delta$.

4.1.115. Оптическая система состоит из двух одинаковых тонких собирающих линз с фокусным расстоянием F каждая. Линзы расположены на расстоянии L друг от друга ($F < L < 2F$) так, что их главные оптические оси совпадают. Слева от системы на расстоянии $2F$ от левой линзы находится точечный источник света S . На какое расстояние h сместится изображение источника, даваемое этой системой, если правую линзу сдвинуть перпендикулярно ее главной оптической оси на расстояние H ?



Решение. Построение изображения для случая, когда правая линза смещена, приведено на рисунке. Для построения использованы два луча, идущие от источника: луч 1, совпадающий с главной оптической осью левой линзы, и луч 2, проведенный в точку пересечения преломляющей плоскости левой

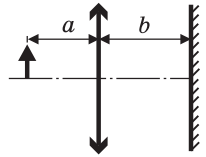


линзы с главной оптической осью правой линзы. Из рисунка видно, что на основании подобия треугольников $h = Hx / F$. При вычислении величины x учтем, что изображение источника, даваемое левой линзой, находится на ее главной оптической оси на расстоянии $2F - L$ от правой линзы справа

от нее. Используя для правой линзы формулу: $-\frac{1}{2F - L} + \frac{1}{x} = \frac{1}{F}$, находим, что $x = F \frac{2F - L}{3F - L}$.

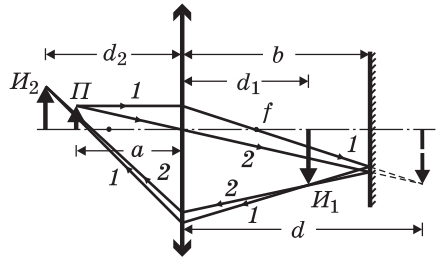
О т в е т. $h = H \frac{2F - L}{3F - L}$.

4.1.116. Оптическая система состоит из тонкой собирающей линзы с фокусным расстоянием $f = 10$ см и плоского зеркала, расположенного позади линзы на расстоянии $b = 25$ см от нее перпендикулярно ее главной оптической оси. Светящийся предмет находится на расстоянии $a = 15$ см перед линзой. Определить расстояние D между двумя действительными изображениями предмета, даваемыми этой системой.



Р е ш е н и е. Первое изображение предмета Π формируется системой при прохождении лучей через линзу слева направо (см. рисунок).

По формуле линзы имеем: $\frac{1}{a} + \frac{1}{d} = \frac{1}{f}$, откуда $d = \frac{af}{a - f} = 30$ см. Поскольку $d > b$,



изображение, даваемое линзой, оказывается позади зеркала. Отраженные от зеркала лучи (например, лучи 1 и 2) образуют действительное изображение I_1 ,

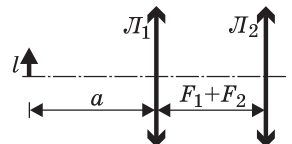
находящееся на расстоянии $d_1 = 2b - d$ справа от линзы. Проходя через линзу справа налево, отраженные от зеркала лучи формируют слева от линзы второе действительное изображение I_2 предмета Π . Применяя формулу линзы

$\frac{1}{d_1} + \frac{1}{d_2} = \frac{1}{f}$, находим $d_2 = \frac{d_1 f}{d_1 - f}$. Искомое расстояние $D = d_1 + d_2$. Объединяя

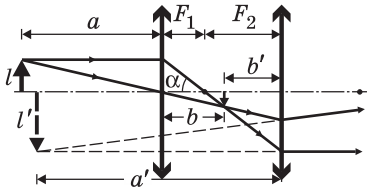
записанные выражения, получаем: $D = \frac{[2b(a - f) - af]^2}{(a - f)[2b(a - f) - 2af + f^2]} = 40$ см.

О т в е т. $D = 40$ см.

4.1.117. Оптическая система состоит из двух тонких собирающих линз L_1 и L_2 с фокусными расстояниями $F_1 = 10$ см и $F_2 = 20$ см соответственно, расположенных так, что их главные оптические оси совпадают, а расстояние между линзами равно сумме их фокусных расстояний. Система формирует изображение предмета высотой $l = 1$ см, находящегося слева от линзы L_1 на расстоянии $a = 40$ см от нее. Найти величину $\theta = l' / a'$, где l' — высота изображения, a' — расстояние от изображения до линзы L_2 .



Решение. Построение изображения предмета в системе линз показано на рисунке. Первая линза дает действительное изображение, расположенное на расстоянии b позади нее. Применяя формулу линзы $\frac{1}{a} + \frac{1}{b} = \frac{1}{F_1}$, получаем,

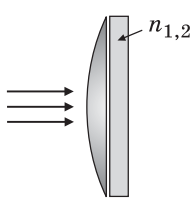


что $b = \frac{aF_1}{a - F_1}$. Это изображение находится перед второй линзой на расстоянии $b' = F_1 + F_2 - b$ от нее. Поскольку $b' < F_2$, изображение, даваемое второй линзой, является мнимым. Применяя для этой линзы формулу $\frac{1}{b'} - \frac{1}{a'} = \frac{1}{F_2}$, находим $a' = \frac{F_2 b'}{F_2 - b'}$. Из рисунка видно, что $\text{tg } \alpha = \frac{l'}{l} = \frac{F_2}{F_1}$. Следовательно, $\theta = \frac{l'}{a'} = \frac{l(F_2 - b')}{F_1 b'}$. Объединяя за-

писанные выражения, получаем: $\theta = \frac{lF_1}{(a - F_1)F_2 - F_1^2} = 0,02$.

О т в е т. $\theta = 0,02$.

4.1.118. На выпуклую поверхность тонкой плосковыпуклой линзы падает узкий пучок световых лучей, параллельный ее главной оптической оси. Если на небольшом расстоянии от плоской поверхности линзы поместить



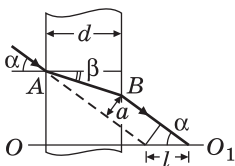
параллельно ей плоскопараллельную стеклянную пластинку с показателем преломления $n_1 = 1,4$, то точка, в которой фокусируется пучок, сместится вдоль главной оптической оси линзы на расстояние $l_1 = 2,8$ мм. На какое расстояние l_2 сместится от фокуса линзы эта точка, если показатель преломления пластинки сделать равным $n_2 = 1,7$? Углы падения и преломления света считать малыми.

Решение. На рисунке изображено прохождение луча через плоскопараллельную пластинку, где α — угол падения, β — угол преломления, d — толщина пластинки. Видно, при прохождении пластинки луч смещается параллельно самому себе расстояние a , которое может быть найдено из равенств: $AB = \frac{d}{\cos \beta}$ и $AB = \frac{a}{\sin(\alpha - \beta)}$. Отсюда $a = d \frac{\sin(\alpha - \beta)}{\cos \beta}$.

В результате такого смещения точка пересечения луча с главной оптической осью линзы OO_1 сдвигается от линзы на расстояние $l = \frac{a}{\sin \alpha}$. По закону преломления $\sin \beta = \frac{1}{n} \sin \alpha$. С учетом малости углов α и β приближенно имеем: $\sin \alpha \approx \alpha$, $\sin \beta \approx \frac{\alpha}{n}$, $\sin(\alpha - \beta) \approx \alpha \left(1 - \frac{1}{n}\right)$, $\cos \beta \approx 1$.

Объединяя записанные выражения, находим, что $l \approx d \frac{n-1}{n}$. По условию, имеем: $l_1 = d \frac{n_1-1}{n_1}$, $l_2 = d \frac{n_2-1}{n_2}$.

О т в е т. $l_2 = l_1 \frac{n_1(n_2-1)}{n_2(n_1-1)} \approx 4$ мм.



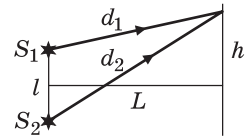
4.2. Элементы физической оптики

4.2.1. Два когерентных источника S_1 и S_2 испускают в одной фазе монохроматический свет с длиной волны $\lambda = 0,6$ мкм. Определить, на каком расстоянии h от точки, расположенной на экране на равном расстоянии от источников, будет находиться первый максимум освещенности. Экран удален от источников на расстояние $L = 3$ м, расстояние между источниками $l = 0,5$ мм.



Решение. Максимумы освещенности образуются в тех точках на экране, в которых световые волны, пришедшие от источников, оказываются в фазе. Условия максимумов интерференционной картины имеют вид: $d_2 - d_1 = m\lambda$, где d_1 и d_2 — расстояния от источников до данной точки на экране (см. рисунок), m — целое число (порядок интерференционного максимума).

Для волн, дающих первый максимум, $m = 1$. Из рисунка видно, что $d_1^2 = L^2 + \left(h - \frac{l}{2}\right)^2$, $d_2^2 = L^2 + \left(h + \frac{l}{2}\right)^2$.

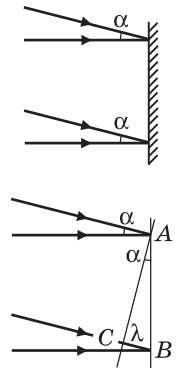


Отсюда $d_2^2 - d_1^2 = 2hl$. Преобразуем это равенство к виду: $(d_2 - d_1)(d_2 + d_1) = 2hl$. Учитывая, что $l \ll L$, $h \ll L$, можно приближенно положить $d_1 + d_2 \approx 2L$. Тогда $d_2 - d_1 \approx hl/L$. Объединяя это равенство с записанным выше условием максимума первого порядка, получаем: $h \approx \lambda \frac{L}{l} = 3,6$ мм.

Ответ. $h = 3,6$ мм.

4.2.2. Два когерентных световых пучка падают на экран: один пучок по нормали, а другой — под углом $\alpha = 0,01$ рад. Найти период d интерференционной картины, т. е. расстояние между соседними светлыми полосами на экране, если длина световой волны в обоих пучках равна $\lambda = 0,5$ мкм.

Решение. На рисунке изображены волновые фронты двух пучков: падающего на экран нормально (AB) и падающего на экран наклонно (AC). Пусть в некоторой точке A наблюдается один из максимумов интерференционной картины. Это означает, что фазы обеих световых волн в этой точке совпадают. Соседний максимум интенсивности находится в точке B , для которой также выполняется условие равенства фаз обеих волн. Это имеет место, если расстояние между точками B и C равно длине световой волны λ . Из треугольника ABC имеем: $d \sin \alpha = \lambda$. Учитывая, что $\alpha \ll 1$



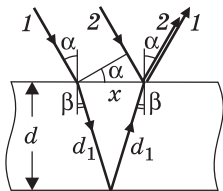
($\sin \alpha \approx \alpha$), получаем: $d = \frac{\lambda}{\sin \alpha} \approx \frac{\lambda}{\alpha} = 50$ мкм.

Ответ. $d = 50$ мкм.

4.2.3. На стеклянную пластинку нанесен тонкий слой прозрачного покрытия, показатель преломления которого $n = 1,41$ меньше показателя

преломления стекла. На пластинку под углом $\alpha = 30^\circ$ падает пучок белого света. Какова минимальная толщина покрытия d_{\min} , при которой в отраженном свете оно кажется зеленым? Длина волны зеленого света $\lambda = 0,53$ мкм.

Решение. Покрытие в отраженном свете будет казаться зеленым, если в направлении, в котором проводится наблюдение, в результате интерференции будут усиливаться волны с длиной λ , соответствующей зеленому цвету. Ход двух интерферирующих лучей изображен на рисунке. Один из этих лучей (луч 1) преломляется на верхней грани покрытия, отражается от его нижней грани и, преломившись второй раз на верхней грани, выходит в воздух. Другой луч (луч 2) падает на верхнюю грань покрытия в точке выхода первого луча и отражается от этой грани. Оптическая длина пути первого луча в диэлектрике равна $\delta_1 = 2d_1 n = \frac{2dn}{\cos\beta} = \frac{2dn}{\sqrt{1 - \sin^2\beta}} = \frac{2dn^2}{\sqrt{n^2 - \sin^2\alpha}}$.



Разность хода первого и второго лучей до падения на покрытие (см. рисунок) составляет величину $\delta_2 = x \sin\alpha = 2d \operatorname{tg}\beta \sin\alpha = \frac{2d \sin^2\alpha}{\sqrt{n^2 - \sin^2\alpha}}$. Разность хода между интерферирующими лучами $\delta = \frac{2dn^2}{\sqrt{n^2 - \sin^2\alpha}} - \frac{2d \sin^2\alpha}{\sqrt{n^2 - \sin^2\alpha}} = 2d\sqrt{n^2 - \sin^2\alpha}$. Амплитуды волн будут складываться, если $\delta = \lambda$. Отсюда получаем минимальную толщину покрытия: $d_{\min} = \frac{\lambda}{2\sqrt{n^2 - \sin^2\alpha}} \approx 0,2$ мкм.

Ответ. $d_{\min} \approx 0,2$ мкм.

4.2.4. Катод фотоэлемента облучается светом с длиной волны $\lambda = 0,35$ мкм. Какая энергия E передана выбитым из катода электронам, если в цепи фотоэлемента протек заряд $q = 2 \cdot 10^{-12}$ Кл? Постоянная Планка $h = 6,62 \cdot 10^{-34}$ Дж·с, модуль заряда электрона $e = 1,6 \cdot 10^{-19}$ Кл, скорость света $c = 3 \cdot 10^8$ м/с.

Решение. Величина протекшего в цепи заряда равна $q = en$, где n — число выбитых из катода электронов. Отсюда $n = q/e$. Энергия одного светового кванта с длиной волны λ равна hc/λ . Следовательно, электронам передана энергия nhc/λ .

Ответ. $E = \frac{qhc}{\lambda e} \approx 7 \cdot 10^{-12}$ Дж.

4.2.5. Катод фотоэлемента облучается светом с длиной волны $\lambda = 0,35$ мкм. Какова может быть максимальная величина тока фотоэлемента I , если поглощаемая световая мощность составляет $N = 2$ мВт? Постоянная Планка $h = 6,62 \cdot 10^{-34}$ Дж·с, модуль заряда электрона $e = 1,6 \cdot 10^{-19}$ Кл, скорость света $c = 3 \cdot 10^8$ м/с.

Решение. Максимально возможная величина фототока оценивается в предположении, что все поглощенные катодом световые кванты выбивают из него электроны. Обозначив через n число электронов, выбиваемых в еди-

ницу времени, имеем: $I = ne$. С другой стороны, $N = hcn/\lambda$. Объединяя записанные выражения, получаем: $I = \frac{N\lambda e}{hc} = 0,5 \text{ мА}$.

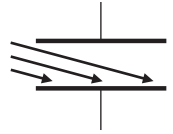
О т в е т. $I = 0,5 \text{ мА}$.

4.2.6. Кристалл рубина облучается вспышкой света длительностью $\tau = 10^{-3} \text{ с}$ и мощностью $N = 200 \text{ кВт}$. Длина волны света $\lambda = 0,7 \text{ мкм}$, кристалл поглощает $\eta = 10\%$ энергии излучения. Вычислить количество квантов света n , поглощенных кристаллом. Скорость света $c = 3 \cdot 10^8 \text{ м/с}$, постоянная Планка $h = 6,62 \cdot 10^{-34} \text{ Дж} \cdot \text{с}$.

Р е ш е н и е. Энергия, поглощенная кристаллом за время вспышки, равна $\eta N\tau/100\%$. Разделив эту величину на энергию одного светового кванта hc/λ , получаем: $n = \frac{\eta}{100\%} \cdot \frac{N\tau\lambda}{hc} \approx 7,1 \cdot 10^{19}$.

О т в е т. $n \approx 7,1 \cdot 10^{19}$.

4.2.7. Какой максимальный заряд q может быть накоплен на конденсаторе емкостью $C = 2 \cdot 10^{-11} \text{ Ф}$, одна из обкладок которого облучается светом с длиной волны $\lambda = 0,5 \text{ мкм}$? Работа выхода электрона $A = 3 \cdot 10^{-19} \text{ Дж}$, постоянная Планка $h = 6,62 \cdot 10^{-34} \text{ Дж} \cdot \text{с}$, модуль заряда электрона $e = 1,6 \cdot 10^{-19} \text{ Кл}$, скорость света $c = 3 \cdot 10^8 \text{ м/с}$.



Р е ш е н и е. Покидающие облучаемую обкладку конденсатора электроны уносят с нее отрицательный заряд, в результате чего эта обкладка заряжается положительно, а противоположная — отрицательно. Между обкладками возникает разность потенциалов $U = q/C$, где q — величина заряда на каждой из обкладок. Электрическое поле конденсатора стремится вернуть электроны на положительно заряженную обкладку. Если потенциальная энергия электронов eU в окрестности отрицательно заряженной обкладки станет равной их начальной кинетической энергии, то все электроны, покидающие облучаемую обкладку, будут возвращаться на нее, и зарядка конденсатора прекратится. Таким образом, условие достижения максимального напряже-

ния между обкладками имеет вид: $\frac{mv^2}{2} = eU$. Согласно уравнению Эйнштей-

на для фотоэффекта, энергия светового кванта расходуется на преодоление работы выхода и на сообщение выбитому из обкладки электрону кинетической энергии:

$$\frac{hc}{\lambda} = A + \frac{mv^2}{2}, \text{ откуда } \frac{hc}{\lambda} - A = \frac{mv^2}{2}, \text{ или } \frac{hc}{\lambda} - A = e \frac{q}{C}.$$

$$\text{О т в е т. } q = \frac{C}{e} \left(\frac{hc}{\lambda} - A \right) \approx 1,2 \cdot 10^{-11} \text{ Кл}.$$

4.2.8. Уединенный изолированный металлический шарик радиусом $r = 0,5 \text{ см}$, находящийся в вакууме, освещают ультрафиолетовым излучением с длиной волны $\lambda_1 = 250 \text{ нм}$, которая меньше, чем длина волны, соответствующая красной границе фотоэффекта для данного металла. Каково максимальное количество электронов n_{max} , которые могут покинуть ша-

рик после того, как его дополнительно осветят излучением с длиной волны $\lambda_2 = 200$ нм? Постоянная Планка $h = 6,62 \cdot 10^{-34}$ Дж·с, электрическая постоянная $\epsilon_0 = 8,85 \cdot 10^{-12}$ Ф/м, скорость света $c = 3 \cdot 10^8$ м/с, модуль заряда электрона $e = 1,6 \cdot 10^{-19}$ Кл.

Решение. Пусть при облучении шарика светом с длиной волны λ_1 его покинуло n_1 электронов и шарик приобрел заряд $q_1 = en_1$. Изменение потенциальной энергии электрона при перемещении его с поверхности шарика в бесконечно удаленную точку равно $\Delta E_{\text{п}} = \frac{e^2 n_1}{4\pi\epsilon_0 r}$. Все электроны, покинувшие шарик, возвращаются на него, если их кинетическая энергия

$\frac{mv^2}{2} \leq \Delta E_{\text{п}}$. Из уравнения Эйнштейна следует, что $\frac{mv^2}{2} = \frac{hc}{\lambda} - A$. Объединяя

записанные выражения, получим максимальное число электронов, которые могут покинуть шарик при облучении его светом с длиной волны λ_1 , т. е.

$n_{1\text{max}} = \left(\frac{hc}{\lambda_1} - A \right) \frac{4\pi\epsilon_0 r}{e^2}$. Рассуждая так же, найдем максимальное число электронов, которые могут покинуть шарик при облучении его светом с длиной

волны λ_2 , а именно $n_{2\text{max}} = \left(\frac{hc}{\lambda_2} - A \right) \frac{4\pi\epsilon_0 r}{e^2}$. Учитывая, что $n_{\text{max}} = n_{2\text{max}} - n_{1\text{max}}$,

получаем: $n_{\text{max}} = \frac{4\pi\epsilon_0 hrc}{e^2 \lambda_1 \lambda_2} (\lambda_1 - \lambda_2) \approx 4,3 \cdot 10^6$.

Ответ. $n_{\text{max}} \approx 4,3 \cdot 10^6$.

4.2.9. На металлическую пластинку сквозь сетку, параллельную пластинке, падает свет с длиной волны $\lambda = 0,4$ мкм. Фототок прекращается при задерживающей разности потенциалов между пластинкой и сеткой $U = 0,95$ В. Определить длину волны λ_{max} , соответствующую красной границе фотоэффекта. Постоянная Планка $h = 6,62 \cdot 10^{-34}$ Дж·с, модуль заряда электрона $e = 1,6 \cdot 10^{-19}$ Кл, скорость света $c = 3 \cdot 10^8$ м/с.

Решение. Фототок прекращается, когда выбитые из пластинки электроны перестают достигать сетки. Это происходит в том случае, когда вблизи сетки потенциальная энергия электронов в задерживающем электрическом поле становится равной кинетической энергии электронов, покидающих

пластинку: $eU = \frac{mv^2}{2}$. Используя уравнение Эйнштейна, находим работу

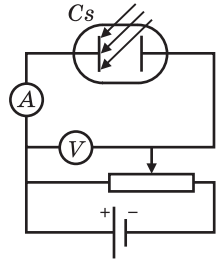
выхода для материала пластинки: $A = \frac{hc}{\lambda} - eU$. Длина волны λ_{max} , соответствующая красной границе фотоэффекта, определяется из условия, что энергия

кванта равна работе выхода: $\frac{hc}{\lambda_{\text{max}}} = A$. Объединяя записанные соотношения, получаем:

$\lambda_{\text{max}} = \frac{hc}{hc/\lambda - eU} \approx 5,7$ мкм.

Ответ. $\lambda_{\text{max}} \approx 5,7$ мкм.

4.2.10. Измерения зависимости напряжения отсечки фототока (т. е. напряжения, при котором фототок прекращается) от длины волны света, падающего на цезиевую пластину Cs , производятся по схеме, изображенной на рисунке. При освещении светом с длиной волны $\lambda_1 = 0,4$ мкм напряжение отсечки составило $U_1 = 1,19$ В, при $\lambda_2 = 0,5$ мкм — $U_2 = 0,57$ В. Определить по результатам этого опыта длину волны λ_{\max} , соответствующую красной границе фотоэффекта для цезия.



Решение. Фототок прекращается, когда электроны, выбитые из положительно заряженного электрода, перестают достигать отрицательно заряженный электрод. Это происходит в том случае, когда вблизи отрицательно заряженного электрода потенциальная энергия электронов в задерживающем электрическом поле становится равной кинетической энергии электронов, покидающих положительно заряженный электрод:

$$eU = \frac{mv^2}{2}. \text{ Используя уравнение Эйнштейна, находим, что напряжения отсечки фототока удовлетворяют следующим соотношениям: } eU_1 = \frac{hc}{\lambda_1} - A,$$

$$eU_2 = \frac{hc}{\lambda_2} - A, \text{ где } e \text{ — модуль заряда электрона; } h \text{ — постоянная Планка;}$$

c — скорость света; A — работа выхода. Вычитая из первого уравнения второе, получаем: $e(U_1 - U_2) = hc \left(\frac{1}{\lambda_1} - \frac{1}{\lambda_2} \right)$, откуда $\frac{hc}{e} = \frac{(U_1 - U_2)\lambda_1\lambda_2}{\lambda_2 - \lambda_1}$. Умно-

жая первое из исходных уравнений на λ_1 , а второе на λ_2 и вычитая из первого второе, находим: $e(\lambda_1 U_1 - \lambda_2 U_2) = A(\lambda_2 - \lambda_1)$, откуда $\frac{e}{A} = \frac{\lambda_2 - \lambda_1}{\lambda_1 U_1 - \lambda_2 U_2}$.

Почленное перемножение полученных равенств дает соотношение: $\frac{hc}{A} = \frac{\lambda_1\lambda_1}{\lambda_1 U_1 - \lambda_2 U_2} (U_1 - U_2)$. Учитывая, что $\frac{hc}{\lambda_{\max}} = A$, получаем формулу, по-

зволяющую найти длину волны, соответствующую красной границе фотоэффекта, лишь по двум измерениям напряжения отсечки фототока:

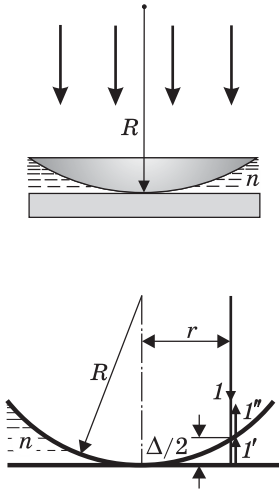
$$\lambda_{\max} = \frac{\lambda_1\lambda_1}{\lambda_1 U_1 - \lambda_2 U_2} (U_1 - U_2) \approx 0,65 \text{ мкм. Видно, что в эту формулу не входят}$$

такие величины, как постоянная Планка, заряд электрона, скорость света, работа выхода.

О т в е т. $\lambda_{\max} \approx 0,65$.

Дополнительные задачи

4.2.11. Интерференционная картина «кольца Ньютона» наблюдается в отраженном монохроматическом свете с длиной волны $\lambda = 0,63$ мкм. Интерференция возникает в заполненном бензолом тонком зазоре между выпуклой поверхностью плосковыпуклой линзы и плоской стеклянной пластинкой. Найти радиус первого (внутреннего) темного кольца, если радиус кривизны



поверхности линзы $R = 10$ м, а показатели преломления линзы и пластинки одинаковы и превышают показатель преломления бензола, равный $n = 1,5$. Свет падает по нормали к пластинке.

Решение. Обозначим через Δ геометрическую разность хода двух лучей, идущих на расстоянии r от главной оптической оси линзы: луча $1'$, отраженного от верхней поверхности стеклянной пластинки, и луча $1''$, отраженного от нижней поверхности линзы. По теореме Пифагора имеем: $R^2 = r^2 + (R - \Delta/2)^2$. Отсюда $R\Delta = r^2 + \Delta^2/4$. Учитывая, что $\Delta^2/4 \ll r^2$,

приближенно получаем $\Delta \approx \frac{r^2}{R}$. Поскольку волны 1 и $1'$ распространяются в бензоле, заполняющем зазор между линзой и пластинкой, оптическая разность хода между волнами $1'$ и $1''$ равна

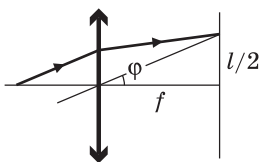
$\Delta_{\text{опт}} = n\Delta = \frac{nr^2}{R}$ Дополнительный фазовый набег, равный π , волна $1'$ приобретает при отражении волны 1 от оптически более плотной среды. Таким образом, условие первого интерференционного минимума имеет вид: $\Delta_{\text{опт}} + \frac{\lambda}{2} = \frac{3}{2}\lambda$.

Объединяя записанные выражения, получаем: $r = \sqrt{\frac{\lambda R}{n}} \approx 2$ мм.

Ответ. $r \approx 2$ мм.

4.2.12. С помощью установки, схема которой показана на рисунке, наблюдают дифракцию параллельного пучка белого света на дифракционной решетке D , расположенной перпендикулярно оси пучка. При этом на экране \mathcal{E} , установленном в фокальной плоскости тонкой собирающей линзы L , видны две светлые полосы, вызванные наложением спектральных компонент с длинами волн $\lambda_1 = 460$ нм и $\lambda_2 = 575$ нм. Эти полосы расположены симметрично относительно главной оптической оси линзы на расстоянии $l = 30$ см друг от друга. Найдите минимальный период решетки d_{min} , при котором наблюдается эта картина, если фокусное расстояние линзы $f = 20$ см.

Решение. Углы, определяющие направления на дифракционные максимумы, задаются условием $d \sin \varphi = m\lambda$, где m — порядок интерференционного максимума ($m = 0, 1, 2, \dots$). Наложение спектральных компонент с длинами волн λ_1 и λ_2 происходит, если $m_1\lambda_1 = m_2\lambda_2$. Анализ числовых данных показывает, что минимальные значения m_1 и m_2 , при которых выполняется это условие, равны: $m_1 = 5$, $m_2 = 4$. Следовательно, $d = \frac{m_1\lambda_1}{\sin \varphi} = \frac{m_2\lambda_2}{\sin \varphi}$. Из рисунка видно, что



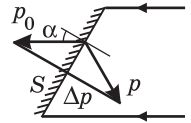
$\frac{l}{2} = f \operatorname{tg} \varphi$, откуда $\operatorname{tg} \varphi = \frac{l}{2f}$. Используя формулу $\sin \varphi = \frac{\operatorname{tg} \varphi}{\sqrt{1 + \operatorname{tg}^2 \varphi}}$, полу-

чаем: $d = 5\lambda_1 \sqrt{1 + \left(\frac{2f}{l}\right)^2} \approx 3,8 \text{ мкм.}$

О т в е т. $d \approx 3,8 \text{ мкм.}$

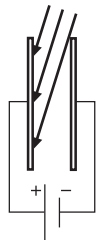
4.2.13. Параллельный пучок света, падающий под углом $\alpha_1 = 60^\circ$ на плоское зеркало, оказывает на него давление $p_1 = 4 \cdot 10^{-6} \text{ Па}$. Какое давление p_2 будет оказывать на зеркало этот пучок, если угол падения пучка станет $\alpha_2 = 45^\circ$?

Р е ш е н и е. Давление, оказываемое светом на зеркало, обусловлено изменением импульса отражающихся от него фотонов. При отражении от зеркала модуль импульса каждого фотона меняется на величину $\Delta p = 2p_0 \cos \alpha$, где p_0 — модуль импульса падающего фотона, α — угол падения (см. рисунок). На зеркало площадью S за время Δt падает $n = Scn_0 \Delta t \cos \alpha$ фотонов, где n_0 — число фотонов в единице объема, c — скорость света. Импульс силы, действующей на зеркало со стороны падающих фотонов за время Δt , равен $F \Delta t = n \Delta p = 2p_0 Scn_0 \Delta t \cos^2 \alpha$. Следовательно, давление света, падающего на зеркало под углом α_1 , равно $p_1 = 2p_0 n_0 c \cos^2 \alpha_1$. Аналогично, давление света, падающего на зеркало под углом α_2 , $p_2 = 2p_0 n_0 c \cos^2 \alpha_2$.



О т в е т. $p_2 = p_1 \frac{\cos^2 \alpha_2}{\cos^2 \alpha_1} = 2p_1 = 8 \cdot 10^{-6} \text{ Па.}$

4.2.14. Две параллельные друг другу металлические пластины, расстояние между которыми $d = 1 \text{ см}$ много меньше их размеров, подключены к источнику с напряжением $U = 12,5 \text{ В}$. Сначала положительно заряженную пластину облучают светом частотой $\nu_1 = 7 \cdot 10^{14} \text{ Гц}$, а затем — светом частотой $\nu_2 = 4 \cdot 10^{14} \text{ Гц}$. На какую величину Δl изменяется минимальное расстояние, на которое электроны могут приблизиться к поверхности отрицательно заряженной пластины, при изменении частоты света от ν_1 до ν_2 ? Частота света, соответствующая красной границе фотоэффекта, меньше ν_2 . Модуль заряда электрона $e = 1,6 \cdot 10^{-19} \text{ Кл}$, постоянная Планка $h = 6,62 \cdot 10^{-34} \text{ Дж} \cdot \text{с}$.



Р е ш е н и е. Максимальное расстояние l , на которое электроны удаляются от положительно заряженной пластины, определяется из закона сохранения энергии, в соответствии с которым $\frac{mv^2}{2} = eEl = eU \frac{l}{d}$, где $E = U/d$ — напряженность электрического поля между пластинами, которое можно считать однородным. Согласно уравнению Эйнштейна кинетическая энергия электрона равна $\frac{mv^2}{2} = h\nu - A$, где A — работа выхода. Объединяя записанные выражения, находим $l = \frac{d(h\nu - A)}{eU}$. Применяя эту формулу, находим l_1 и l_2 — максимальные расстояния, на которые удаляют-

ся электроны от положительно заряженной пластины при облучении ее светом частотой ν_1 и ν_2 соответственно. Поскольку искомая величина равна $\Delta l = l_1 - l_2$, запишем: $\Delta l = \frac{dh(\nu_1 - \nu_2)}{eU} \approx 1$ мм.

О т в е т. $\Delta l \approx 1$ мм.

4.2.15. Проводя облучение катода фотоэлемента пучком света мощностью N_1 с длиной волны λ_1 , измерили величину тока насыщения. Затем катод фотоэлемента начали облучать светом с длиной волны λ_2 . Какой должна быть мощность N_2 падающего на катод света, чтобы ток насыщения достиг той же величины, что и в первом случае? Квантовый выход фотоэффекта, т. е. отношение числа вырванных из катода электронов к числу падающих на его поверхность фотонов в первом случае равен η_1 , а во втором случае равен η_2 .

Р е ш е н и е. Для мощности светового излучения справедливо выражение $N = \frac{hc}{\lambda} n$, где h — постоянная Планка, c — скорость света, n — число фотонов, падающих на катод в единицу времени. Ток насыщения равен $I_{\text{нас}} = e\eta n$, где e — модуль заряда электрона. Следовательно $N = \frac{hc}{\lambda e\eta} I_{\text{нас}}$. Из равенства

тока насыщения в первом и во втором случаях вытекает, что $N_2 = N_1 \frac{\lambda_1 \eta_1}{\lambda_2 \eta_2}$.

О т в е т. $N_2 = N_1 \frac{\lambda_1 \eta_1}{\lambda_2 \eta_2}$.

4.2.16. Космический корабль, находящийся в состоянии покоя, обстреливает неприятеля из лазерной пушки, которая в течение одного залпа испускает $n = 10$ коротких световых импульсов с энергией $E = 3$ кДж каждый. Какую скорость v приобретет корабль после залпа пушки, если масса корабля $M = 10$ тонн? Скорость света $c = 3 \cdot 10^8$ м/с. Влиянием всех небесных тел пренебречь.

Р е ш е н и е. Импульс одного фотона равен $p_1 = \frac{E_1}{c}$, где $E_1 = h\nu$ — энергия фотона. Импульс фотонов, испущенных за время залпа в одном направлении, выражается как $p = \frac{nE}{c}$. По закону сохранения импульса такой же по величине импульс приобретает корабль. Следовательно, скорость корабля после залпа $v = \frac{NE}{Mc} = 10^{-8}$ м/с.

О т в е т. $v = 10^{-8}$ м/с.

4.2.17. Космический корабль, находящийся в состоянии покоя, проводит сеанс связи с Землей, направляя в ее сторону лазерный луч. На какое расстояние S от первоначального положения сместится корабль к окончанию сеанса связи, если мощность лазерного луча $N = 60$ Вт, масса корабля $M = 10$ т, продолжительность сеанса $\tau = 1$ ч? Скорость света $c = 3 \cdot 10^8$ м/с. Влиянием всех небесных тел пренебречь.

Решение. Импульс одного фотона равен $p_1 = \frac{E_1}{c}$, где $E_1 = h\nu$ — энергия фотона. Импульс фотонов, испущенных за время Δt в одном направлении, выражается как $p = \frac{N\Delta t}{c}$. По второму закону Ньютона $p = F\Delta t$, где F — сила, действующая со стороны фотонов на корабль. Отсюда $F = \frac{N}{c}$. Под действием этой силы корабль приобретает ускорение $a = \frac{N}{Mc}$. Смещение корабля за время сеанса связи $S = \frac{a\tau^2}{2} = \frac{N\tau^2}{2Mc} \approx 0,13$ мм.

О т в е т. $S \approx 0,13$ мм.

Оглавление

Предисловие	3
Памяти товарища	5
1. Механика	7
1.1. Кинематика	7
1.2. Динамика	32
1.3. Законы сохранения в механике	53
1.4. Статика твердого тела	85
1.5. Механика жидкостей и газов	100
1.6. Механические колебания и волны	120
2. Молекулярная физика и термодинамика	135
2.1. Основы молекулярно-кинетической теории	135
2.2. Элементы термодинамики	157
2.3. Изменение агрегатного состояния вещества. Уравнение теплового баланса	179
2.4. Поверхностное натяжение в жидкостях	193
2.5. Тепловое расширение твердых тел и жидкостей	198
3. Электродинамика	202
3.1. Электростатика	202
3.2. Постоянный ток	244
3.3. Магнетизм	274
3.4. Электромагнитная индукция	282
3.5. Электромагнитные колебания и волны	292
4. Оптика	300
4.1. Геометрическая оптика	300
4.2. Элементы физической оптики	353

Об авторах

Владимир Анатольевич Макаров — доктор физико-математических наук, профессор, заведующий кафедрой общей физики и волновых процессов физического факультета МГУ имени М. В. Ломоносова, директор Международного лазерного центра МГУ. Им получены принципиально новые результаты в физике взаимодействия плоских волн, пучков и импульсов в нелинейных средах с пространственной и временной дисперсией. Они позволяют предсказывать, описывать и учитывать эффекты изменения интенсивности и поляризации электромагнитных волн в кристаллах, метаматериалах, жидкостях и жидких кристаллах, способствуют решению задач формирования световых пучков и импульсов с необходимым распределением интенсивности и поляризации.

В. А. Макаров — автор более 200 научных статей в ведущих отечественных и зарубежных журналах и монографии, а также большого числа учебно-методических пособий, предназначенных для школьников, готовящихся к поступлению в МГУ. В составе коллектива он был удостоен премии Президента РФ в области образования (2003 г.) и Ломоносовской премии МГУ за научную работу (2006 г.). В. А. Макарову присвоено Почетное звание «Заслуженный профессор Московского университета».

Сергей Сергеевич Чесноков — кандидат физико-математических наук, доцент физического факультета МГУ имени М. В. Ломоносова. Его научные интересы лежат в области разработки алгоритмов адаптивного управления световыми пучками в нелинейных турбулентных средах и в лазерных резонаторах, теоретического анализа переноса изображений в турбулентной атмосфере, многократного рассеяния света в мутных средах. Им опубликовано более 200 научных статей и монография. Кроме того, он является автором и соавтором большого числа учебно-методических пособий, предназначенных для школьников, готовящихся к поступлению в МГУ, участвует в разработке программно-аппаратного комплекса для проведения демонстрационных экспериментов по физике в средней школе. С. С. Чеснокову присвоено почетное звание «Заслуженный преподаватель Московского университета».

Минимальные системные требования определяются соответствующими требованиями программы Adobe Reader версии не ниже 11-й для платформ Windows, Mac OS, Android, iOS, Windows Phone и BlackBerry; экран 10"

Учебное электронное издание

Серия: «ВМК МГУ – школе»

Макаров Владимир Анатольевич

Чесноков Сергей Сергеевич

ФИЗИКА.

ЗАДАЧНИК-ПРАКТИКУМ ДЛЯ ПОСТУПАЮЩИХ В ВУЗЫ

Учебно-методическое пособие

Ведущий редактор *Т. Г. Хохлова*

Художник *В. Е. Шкерин*

Корректор *Д. И. Мурадян*

Компьютерная верстка: *В. И. Савельев*

Подписано к использованию 10.11.15.

Формат 155×225 мм

Подготовлено при участии

ООО «Лаборатория Базовых Знаний»

129110, Москва, ул. Гиляровского, д. 54, стр. 1

Издательство «Лаборатория знаний»

125167, Москва, проезд Аэропорта, д. 3

Телефон: (499) 157-5272

e-mail: info@pilotLZ.ru, <http://www.pilotLZ.ru>



Факультет вычислительной математики и кибернетики
МГУ имени М. В. Ломоносова

ПОДГОТОВИТЕЛЬНЫЕ КУРСЫ

проводят обучение

по

МАТЕМАТИКЕ

ФИЗИКЕ

ИНФОРМАТИКЕ

РУССКОМУ ЯЗЫКУ

учащихся 9-х (*трехгодичная программа*), 10-х (*двухгодичная программа*)
и 11-х классов (*девятимесячная, шестимесячная и трехмесячная программы*)
в целях подготовки к сдаче школьных выпускных экзаменов (ЕГЭ)
и вступительных испытаний в вузы.

Для жителей Подмосковья и ближайших областей организуются
группы выходного дня (*только для 11-х классов*) с занятиями по субботам.

Занятия на подготовительных курсах
проходят в вечернее время
с 18.00 до 21.10

в учебных аудиториях факультета вычислительной математики и кибернетики
в группах по 15–16 человек (*метро «Университет»*).

Набор на трехгодичную, двухгодичную и на девятимесячную программы
проходит с 10 по 20 мая и с 1 сентября по 20 сентября,
на шестимесячную программу – в конце декабря,
на трехмесячную – в конце марта.



<http://www.vmk-edu.ru>

Справки по телефону
(495) 932-98-08

с 16 часов до 19 часов в рабочие дни.

*Учащимся, не имеющим возможности приезжать на занятия,
предлагаются дистанционные подготовительные курсы:*

<http://ecmc.cs.msu.ru>



Факультет вычислительной математики и кибернетики
МГУ имени М.В. Ломоносова

КОМПЬЮТЕРНЫЕ КУРСЫ

Курсы для школьников:

работа на компьютере для школьников 3–5 кл., занимательная логика на компьютере, программирование для школьников младшего возраста, базовая подготовка для начинающих (6–11 кл.), игровые алгоритмы, основы программирования для 6–7 кл., занимательное моделирование в программе Автокад, моделирование в программе 3D-MAX, создание сайтов, компьютерная анимация Flash (основы и программирование), графика (Photoshop), программирование (Паскаль, DELPHI, C, C++, C#, Java), создание домашней компьютерной сети, машинопись.

Организованным группам школьников предоставляется скидка.

Компьютер для начинающих и углубленно:

Windows, офисные программы, Интернет. Компьютер для работы в офисе. Машинопись.

Построение сайтов:

HTML и CSS, JavaScript, управление сайтами, PHP.

Компьютерная графика и верстка:

Photoshop, CorelDraw, Flash, AutoCAD, 3D-MAX, основы цифровой фотографии.

Профессиональные курсы:

C, C++, C#, Java, 1C, SQL, Создание малой компьютерной сети для офиса и дома, Управление ИТ-процессами.



Будни и выходные

www.vmk-edu.ru

(495) 939-54-29, 939-36-04

м. «Университет»

*Занятия в течение учебного года 1–2 раза в неделю
Интенсивные курсы в июне*